

ВСЕРОССИЙСКАЯ ПРОВЕРОЧНАЯ РАБОТА**ФИЗИКА****11 КЛАСС****Инструкция по выполнению работы**

Проверочная работа включает в себя 18 заданий. На выполнение работы по физике отводится 1 час 30 минут (90 минут).

Оформляйте ответы в тексте работы в отведённых для этого местах согласно инструкциям к заданиям. В случае записи неверного ответа зачеркните его и запишите рядом новый.

При выполнении работы разрешается использовать калькулятор.

При выполнении заданий Вы можете использовать черновик. Записи в черновике проверяться и оцениваться не будут.

Советуем выполнять задания в том порядке, в котором они даны. Для экономии времени пропускайте задание, которое не удаётся выполнить сразу, и переходите к следующему. Если после выполнения всей работы у Вас останется время, Вы сможете вернуться к пропущенным заданиям.

Баллы, полученные Вами за выполненные задания, суммируются. Постарайтесь выполнить как можно больше заданий и набрать наибольшее количество баллов.

Желаем успеха!

Ниже приведены справочные данные, которые могут понадобиться Вам при выполнении работы.

Десятичные приставки

Наименование	Обозначение	Множитель	Наименование	Обозначение	Множитель
гига	Г	10^9	санти	с	10^{-2}
мега	М	10^6	милли	м	10^{-3}
кило	к	10^3	микро	мк	10^{-6}
гекто	г	10^2	нано	н	10^{-9}
деци	д	10^{-1}	пико	п	10^{-12}

Константы

ускорение свободного падения на Земле

$$g = 10 \text{ м/с}^2$$

гравитационная постоянная

$$G = 6,7 \cdot 10^{-11} \text{ Н} \cdot \text{м}^2/\text{кг}^2$$

универсальная газовая постоянная

$$R = 8,31 \text{ Дж}/(\text{моль} \cdot \text{К})$$

скорость света в вакууме

$$c = 3 \cdot 10^8 \text{ м/с}$$

коэффициент пропорциональности в законе Кулона

$$k = 9 \cdot 10^9 \text{ Н} \cdot \text{м}^2/\text{Кл}^2$$

модуль заряда электрона

$$e = 1,6 \cdot 10^{-19} \text{ Кл}$$

(элементарный электрический заряд)

$$h = 6,6 \cdot 10^{-34} \text{ Дж} \cdot \text{с}$$

постоянная Планка

1 Прочитайте перечень понятий, с которыми Вы встречались в курсе физики:

*скорость света, преломление света, резонанс, индуктивность,
электромагнитная индукция, температура*

Разделите эти понятия на две группы по выбранному Вами признаку. Запишите в таблицу название каждой группы и понятия, входящие в эту группу.

Название группы понятий	Перечень понятий

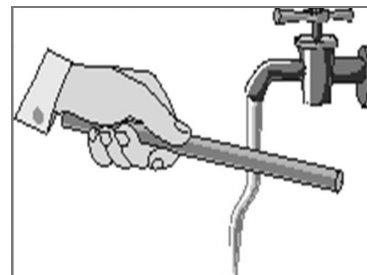
2 Выберите **два** верных утверждения о физических явлениях, величинах и закономерностях. Запишите в ответ их номера.

- 1) В инерциальной системе отсчёта импульс системы тел сохраняется, если сумма внешних сил равна нулю.
- 2) Процесс конденсации жидкостей происходит с поглощением большого количества теплоты.
- 3) В процессе электризации трением два первоначально незаряженных тела приобретают разноимённые и различные по модулю заряды.
- 4) В цепи постоянного тока во всех параллельно соединённых резисторах протекает одинаковый электрический ток.
- 5) В процессе альфа-распада происходит испускание радиоактивным веществом ядер атомов гелия.

Ответ:

--	--

3 Отрицательно заряженную эбонитовую палочку подносят к струе воды из-под крана (см. рисунок). Струя воды начинает притягиваться к палочке. Какое явление является причиной притяжения струи воды к эбонитовой палочке?

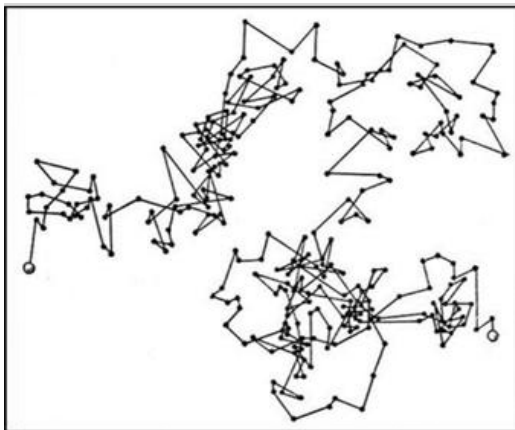


Ответ: _____.

4

Прочитайте текст и вставьте на место пропусков слова (словосочетания) из приведённого списка.

В 1827 году Роберт Броун, исследуя цветочную пыльцу под микроскопом, установил, что в растительном соке плавающие пыльцевые зёрна совершают _____. Броуновское движение происходит из-за того, что все жидкости и газы состоят из молекул, которые находятся в тепловом движении и непрерывно _____. С повышением температуры интенсивность броуновского движения _____.

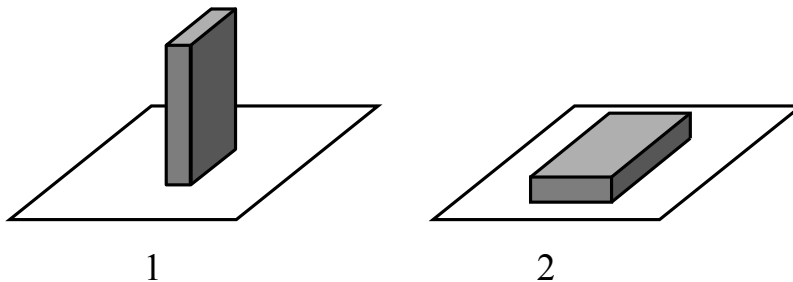


Список слов, словосочетаний

гармонические колебания
беспорядочное движение
взаимодействуют друг с другом
толкают броуновскую частицу
притягиваются к броуновской частице
увеличивается
уменьшается
не изменяется

5

Сплошной кубик ставят на стол сначала гранью, имеющей наименьшую площадь поверхности, затем – гранью с наибольшей площадью поверхности (см. рисунок).



Как при этом меняются давление и сила давления кубика на стол, а также потенциальная энергия кубика относительно поверхности стола?

Для каждой величины определите характер изменения и поставьте в таблице знак «V» в нужной клетке таблицы.

Величина	Характер изменения величины		
	увеличивается	уменьшается	не изменяется
Давление			
Сила давления			
Потенциальная энергия			

6

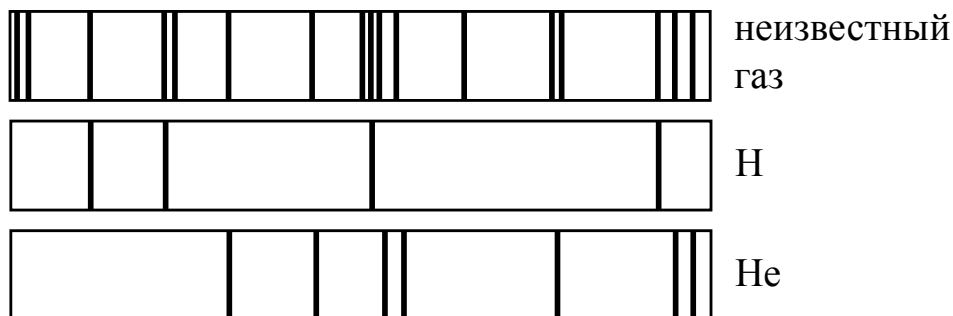
Связанная система элементарных частиц содержит 17 электронов, 20 нейтронов и 17 протонов. Используя фрагмент Периодической системы элементов Д.И. Менделеева, определите ионом или нейтральным атомом какого элемента является эта система.

7 N 14,0067 Азот	8 O 15,9994 Кислород	9 F 18,9984 Фтор	10 Ne 20,183 Неон
15 P 30,9738 Фосфор	16 S 32,064 Сера	17 Cl 35,453 Хлор	18 Ar 39,948 Аргон
23 V 50,942 Ванадий	24 Cr 51,996 Хром	25 Mn 54,938 Марганец	26 Fe 55,847 Железо

Ответ: _____.

7

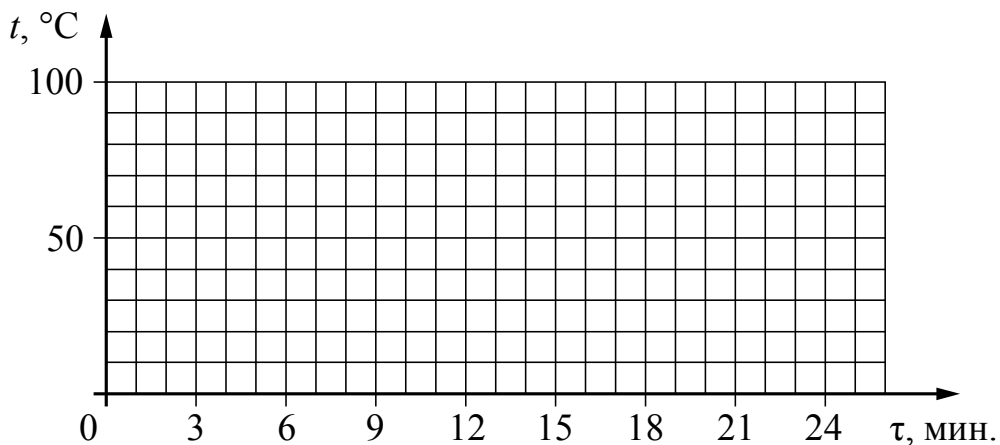
На рисунке приведены спектр поглощения разреженных атомарных паров неизвестного газа и спектры поглощения паров атомарного водорода и гелия. Содержится ли в образце водород и гелий? Ответ поясните.



Ответ: _____

8

Воду, первоначальная температура которой равна 30 °С, нагревают на 70 °С на плитке неизменной мощности в течение 3 мин. Далее в течение 20 мин. при равномерном отводе тепла воду охлаждают до 20 °С. Постройте график зависимости температуры воды от времени.



9

В дачном домике линия электропередачи для розеток оснащена автоматическим выключателем, который размыкает линию, если сила тока в ней превышает 16 А. Напряжение электрической сети 220 В.

В таблице представлены электрические приборы, используемые в доме, и потребляемая ими мощность.

<i>Электрические приборы</i>	<i>Потребляемая мощность, Вт</i>
Телевизор	400
Электрический обогреватель	2000
Пылесос	650
Холодильник	180
СВЧ-печь	800
Электрический чайник	2000
Электрический утюг	1500

Можно ли при включенном обогревателе и холодильнике дополнительно включить СВЧ-печь? Запишите решение и ответ.

Решение: _____

Ответ: _____

10

С помощью амперметра проводились измерения силы тока в электрической цепи. Погрешность измерений силы тока равна цене деления шкалы амперметра.

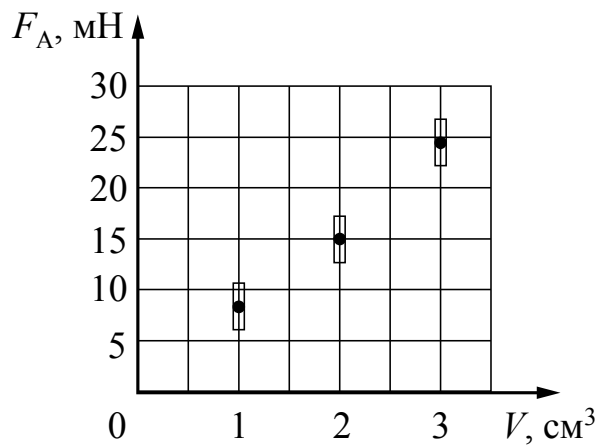


Запишите в ответ показания амперметра с учётом погрешности измерений.

Ответ: _____ А.

11

Ученик исследовал зависимость силы Архимеда от объёма погруженной в жидкость части тела. Погрешность измерения силы Архимеда равна 2,5 мН, а объёма тела – 0,05 см³. Результаты измерений с учётом их погрешности представлены на графике.



Какова приблизительно плотность жидкости, в которую опускали тело?

Ответ: _____ кг/м³.

12

A diagram showing a spring scale being used to measure the weight of a block. A hand is pulling the ring of the spring scale, which is attached to a block. The scale has a vertical ruler with markings. The block is hanging from the scale, and the spring is extended.

- В ответе:

1. Опишите экспериментальную установку.
2. Опишите порядок действий при проведении исследования.

Ответ:

13

К каждой позиции первого столбца подберите соответствующую позицию из второго столбца.

ФИЗИЧЕСКИЕ ЯВЛЕНИЯ

- 1) взаимодействие постоянных магнитов
- 2) действие магнитного поля на проводник с током
- 3) тепловое действие тока
- 4) химическое действие тока

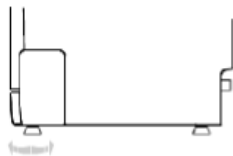
Запишите в таблицу выбранные цифры под соответствующими буквами.

Ответ:

А	Б

Прочитайте фрагмент инструкции к посудомоечной машине и выполните задания 14 и 15.

Регулировка горизонтального уровня машины.



После установки машины отрегулируйте ее горизонтальный уровень с помощью регулировки высоты ножек (ножки могут вворачиваться или выворачиваться). Машина не должна иметь наклон более 2°.



ИНСТРУКЦИИ ОТНОСИТЕЛЬНО ВЫПОЛНЕНИЯ ЗАЗЕМЛЕНИЯ

Данный электроприбор отвечает требованиям международных стандартов по технике безопасности. Он снабжен электрической вилкой с контактом заземления, который обеспечивает полное заземление изделия.



ПРЕДУПРЕЖДЕНИЕ относительно безопасности:

НЕ ПОЛЬЗУЙТЕСЬ ДЛЯ ПОДКЛЮЧЕНИЯ ДАННОГО ЭЛЕКТРОПРИБОРА К ЭЛЕКТРОСЕТИ УДЛИНИТЕЛЬНЫМ ШНУРОМ И ПЕРЕХОДНИКОМ.
НИ В КОЕМ СЛУЧАЕ НЕ ОТРЕЗАЙТЕ И НЕ СНИМАЙТЕ С ВИЛКИ ТРЕТИЙ ШТЫРЕК (ШТЫРЕК ЗАЩИТНОГО ЗАЗЕМЛЕНИЯ).

14

В инструкции указано, что посудомоечную машину нужно устанавливать горизонтально. Что может произойти, если нарушить это правило?

Ответ: _____

15

Почему в инструкции запрещается срезать с вилки третий штырек? Ответ поясните.

Ответ: _____

Прочитайте текст и выполните задания 16–18.**Погрешности оптических систем**

Рассмотрим некоторые погрешности (абберации), которые дают оптические приборы, основанные на использовании линз: сферические и хроматические абберации.

На практике часто приходится применять собирающие линзы большого диаметра, позволяющие собрать широкие световые потоки. Однако в этом случае не удаётся получить резкое изображение источника (рис. 1). Как бы мы ни перемещали экран (Э), на нём получается довольно расплывчатое изображение. И только ограничив пучки, падающие на линзу, с помощью диафрагмы Д (непрозрачного экрана с отверстием), можно получить достаточно резкое изображение источника (рис. 2). Погрешность, связанная с тем, что линза большого диаметра даёт изображение точечного источника S не в виде точки, а в виде расплывчатого светлого пятна, называется сферической абберацией.

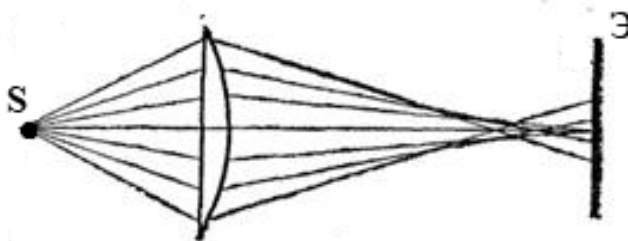


Рис. 1

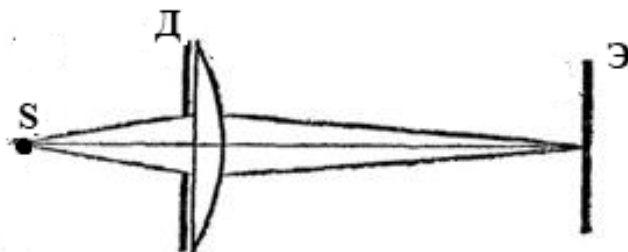


Рис. 2

Хроматическая абберация связана с тем, что показатель преломления световых лучей в стекле зависит от длины волны: красные лучи преломляются слабее, чем зелёные, зелёные – слабее, чем фиолетовые. Из-за этого изображение в линзе получается окрашенным.

Рассмотрим, как можно убрать хроматическую абберацию в оптических телескопах. Телескоп состоит из двух основных частей – объектива и окуляра. В первых телескопах (т.н. рефракторных) в качестве объектива использовалась собирающая линза. В фокусе объектива формируется действительное изображение весьма удалённого источника света (например, звезды). Чтобы разглядеть полученное с помощью объектива изображение, используется окуляр. В качестве окуляра может использоваться собирающая линза, действующая как лупа. На рис. 3 представлен ход лучей в телескопе И. Кеплера (1611 г.).

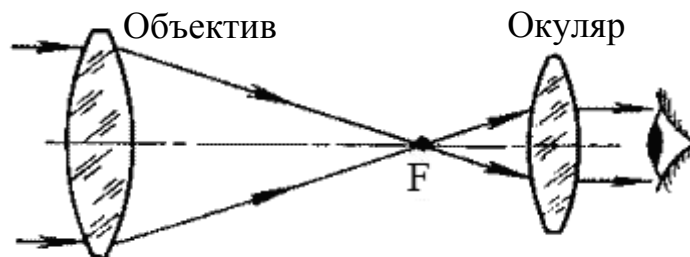


Рис. 3. Зрительная труба И. Кеплера. В её оптической схеме две собирающие линзы.

С помощью телескопа Кеплера яркие звёзды наблюдатель увидит как сине-зелёные точки (к сине-зелёной части спектра человеческий глаз наиболее чувствителен ночью), окружённые красной и синей каймой.

Чтобы устранить искажения изображения, связанные с хроматической аберрацией, И. Ньютон в 1668 году предложил новую модель телескопа – рефлекторный телескоп, в котором вместо собирающей линзы использовалось вогнутое зеркало (рис. 4).

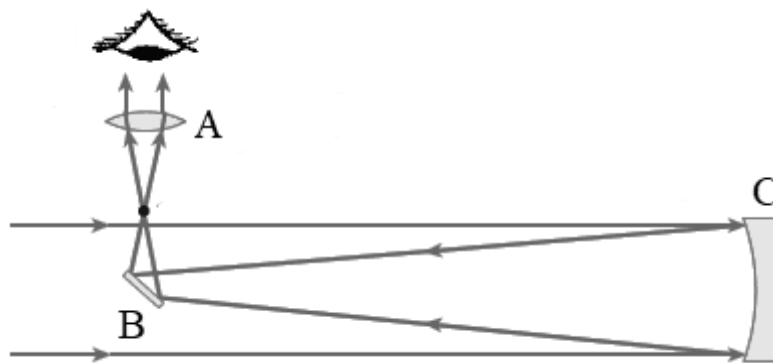


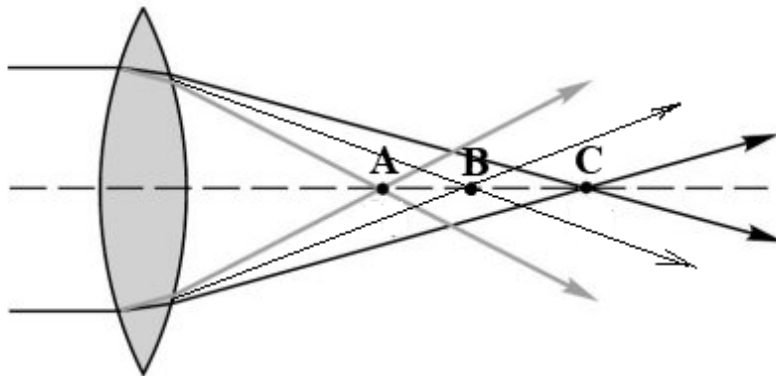
Рис. 4. Оптическая схема телескопа И. Ньютона (А – собирающая линза, В – плоское зеркало, С – вогнутое зеркало)

16 Что использовалось в качестве окуляра в оптической схеме телескопа Ньютона (рис. 4)?

Ответ: _____

17

Из-за хроматической аберрации для световых волн различной длины образуются разные фокусы. На рисунке показано прохождение световых волн фиолетового, зелёного и красного участков спектра через собирающую линзу. Какая из точек (А, В, С) является фокусом для волн красного цвета?



Ответ: _____.

18

Можно ли получить изображение звезды на экране, если его поместить на место глаза возле окуляра рефлекторного телескопа И. Ньютона? Ответ поясните.

Ответ: _____

ВСЕРОССИЙСКАЯ ПРОВЕРОЧНАЯ РАБОТА

ФИЗИКА

11 КЛАСС

Инструкция по выполнению работы

Проверочная работа включает в себя 18 заданий. На выполнение работы по физике отводится 1 час 30 минут (90 минут).

Оформляйте ответы в тексте работы в отведённых для этого местах согласно инструкциям к заданиям. В случае записи неверного ответа зачеркните его и запишите рядом новый.

При выполнении работы разрешается использовать калькулятор.

При выполнении заданий Вы можете использовать черновик. Записи в черновике проверяться и оцениваться не будут.

Советуем выполнять задания в том порядке, в котором они даны. Для экономии времени пропускайте задание, которое не удаётся выполнить сразу, и переходите к следующему. Если после выполнения всей работы у Вас останется время, Вы сможете вернуться к пропущенным заданиям.

Баллы, полученные Вами за выполненные задания, суммируются. Постарайтесь выполнить как можно больше заданий и набрать наибольшее количество баллов.

Желаем успеха!

Ниже приведены справочные данные, которые могут понадобиться Вам при выполнении работы.

Десятичные приставки

Наименование	Обозначение	Множитель	Наименование	Обозначение	Множитель
гига	Г	10^9	санти	с	10^{-2}
мега	М	10^6	милли	м	10^{-3}
кило	к	10^3	микро	мк	10^{-6}
гекто	г	10^2	нано	н	10^{-9}
деци	д	10^{-1}	пико	п	10^{-12}

Константы

ускорение свободного падения на Земле

$$g = 10 \text{ м/с}^2$$

гравитационная постоянная

$$G = 6,7 \cdot 10^{-11} \text{ Н} \cdot \text{м}^2/\text{кг}^2$$

универсальная газовая постоянная

$$R = 8,31 \text{ Дж}/(\text{моль} \cdot \text{К})$$

скорость света в вакууме

$$c = 3 \cdot 10^8 \text{ м/с}$$

коэффициент пропорциональности в законе Кулона

$$k = 9 \cdot 10^9 \text{ Н} \cdot \text{м}^2/\text{Кл}^2$$

модуль заряда электрона

$$e = 1,6 \cdot 10^{-19} \text{ Кл}$$

(элементарный электрический заряд)

$$h = 6,6 \cdot 10^{-34} \text{ Дж} \cdot \text{с}$$

постоянная Планка

1 Прочитайте перечень понятий, с которыми Вы встречались в курсе физики:

генри, кипение, интерференция, кулон, литр, инерция

Разделите эти понятия на две группы по выбранному Вами признаку. Запишите в таблицу название каждой группы и понятия, входящие в эту группу.

Название группы понятий	Перечень понятий

2 Выберите **два** верных утверждения о физических явлениях, величинах и закономерностях. Запишите в ответ их номера.

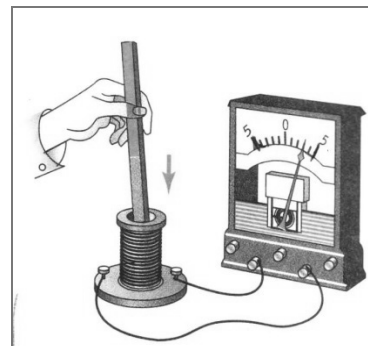
- 1) Потенциальная энергия тела зависит от его массы и скорости движения тела.
- 2) Хаотическое тепловое движение частиц тела прекращается при достижении термодинамического равновесия.
- 3) Общее сопротивление системы параллельно соединённых резисторов равно сумме сопротивлений всех резисторов.
- 4) В однородной среде свет распространяется прямолинейно.
- 5) В процессе электронного бета-распада из ядра атома вылетает электрон, возникший из-за самопроизвольного превращения нейтрона в электрон и протон.

Ответ:

--	--

3 К катушке индуктивности присоединили амперметр. При внесении в катушку постоянного магнита амперметр показал возникновение электрического тока в цепи катушки (см. рисунок).

Какое физическое явление наблюдалось в этом опыте?



Ответ: _____.

4

Прочитайте текст и вставьте на место пропусков слова (словосочетания) из приведённого списка.

В конце XVIII века английский инженер и физик Бенджамин Румфорд заметил, что при высверливании канала в пушечном стволе выделяется большое количество теплоты. Чтобы исследовать это явление, Румфорд проделал следующий опыт: в высверленный канал поместил сверло, плотно прижатое к стенкам канала и приводившееся во вращение конской тягой. Термометр, вставленный в пушечный ствол, показал, что за 30 минут операции _____.

Далее Румфорд повторил опыт, погрузив пушечный ствол со сверлом в сосуд с водой (см. рисунок). В процессе сверления _____ и спустя 2,5 часа закипала. Таким образом, опыт Румфорда доказал, что внутренняя энергия тела может быть изменена _____.



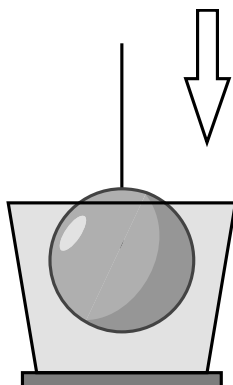
Рисунок. Опыт Румфорда

Список словосочетаний

вода нагревалась
вода испарялась
сверло затупилось
температура ствола значительно повысилась
температура ствола значительно понизилась
путём совершения механической работы
при теплопередаче
за счёт сгорания топлива

5

Алюминиевый шар на нити опускают в сосуд, полностью заполненный водой, до полного погружения, но не опускают на дно.



Как по мере погружения шара в воду меняются сила натяжения нити, а также давление и сила давления воды на дно сосуда?

Для каждой величины определите характер изменения и поставьте в таблице знак «V» в нужной клетке таблицы.

Величина	Характер изменения величины		
	увеличивается	уменьшается	не изменяется
Сила натяжения нити			
Давление			
Сила давления			

6

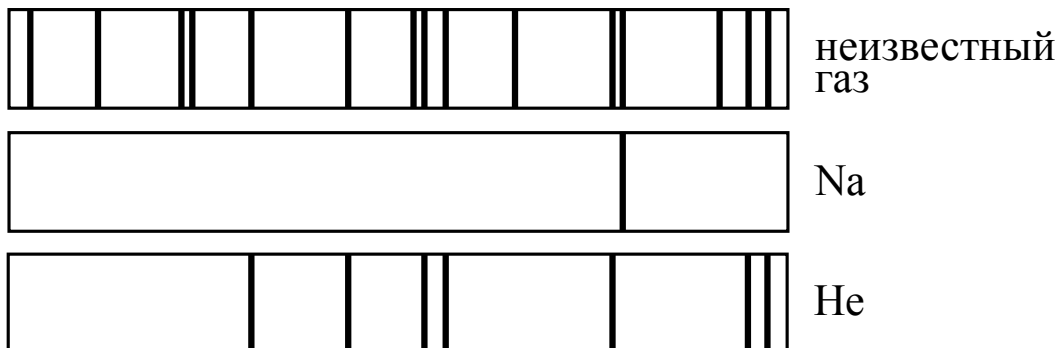
Связанная система элементарных частиц содержит 24 электрона, 30 нейтронов и 26 протонов. Используя фрагмент Периодической системы элементов Д.И. Менделеева, определите ионом или нейтральным атомом какого элемента является эта система.

7 N 14,0067 Азот	8 O 15,9994 Кислород	9 F 18,9984 Фтор	10 Ne 20,183 Неон
15 P 30,9738 Фосфор	16 S 32,064 Сера	17 Cl 35,453 Хлор	18 Ar 39,948 Аргон
23 V 50,942 Ванадий	24 Cr 51,996 Хром	25 Mn 54,938 Марганец	26 Fe 55,847 Железо

Ответ: _____.

7

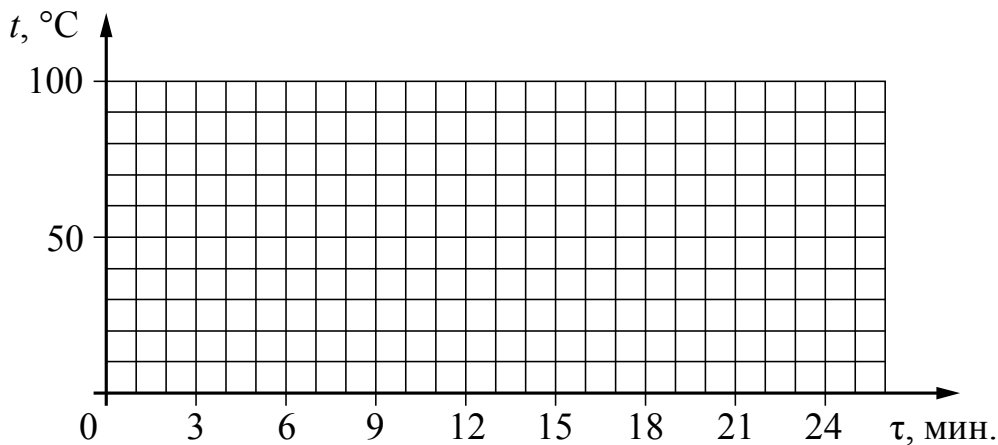
На рисунке приведены спектр поглощения разреженных атомарных паров неизвестного газа и спектры поглощения паров натрия и гелия. Содержится ли в образце натрий и гелий? Ответ поясните.



Ответ: _____

8

Воду, первоначальная температура которой равна $20\text{ }^{\circ}\text{C}$, нагревают на $60\text{ }^{\circ}\text{C}$ на плитке неизменной мощности в течение 3 мин. Далее в течение 15 мин. при равномерном отводе тепла воду охлаждают до первоначальной температуры. Постройте график зависимости температуры воды от времени.



9

В дачном домике электрическая линия для розеток оснащена автоматическим выключателем, который размыкает линию, если потребляемая включенными приборами суммарная электрическая мощность превышает 3,5 кВт. Напряжение электрической сети 220 В.

В таблице представлены электрические приборы, используемые в доме, и потребляемый ими электрический ток при напряжении 220 В.

<i>Электрические приборы</i>	<i>Потребляемый электрический ток, А (при напряжении сети 220 В)</i>
Телевизор	1,8
Электрический обогреватель	9,0
Пылесос	2,9
Холодильник	0,8
СВЧ-печь	3,6
Электрический чайник	9,0
Электрический утюг	6,8

Можно ли при включенном обогревателе и холодильнике дополнительно включить СВЧ-печь? Запишите решение и ответ.

Решение:

Ответ:

10

С помощью амперметра проводились измерения силы тока в электрической цепи. Погрешность измерений силы тока равна цене деления шкалы амперметра.

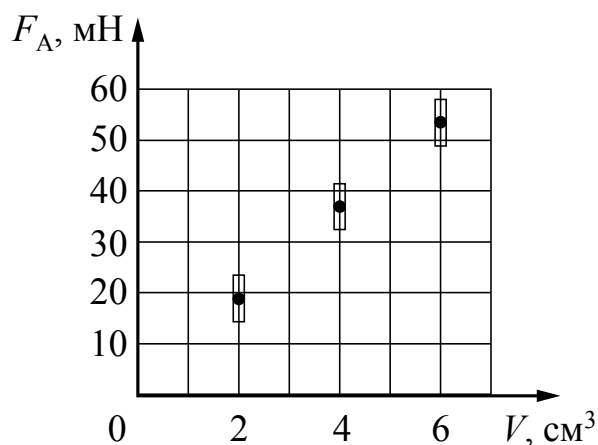


Запишите в ответ показания амперметра с учётом погрешности измерений.

Ответ: _____ А.

11

Ученик исследовал зависимость силы Архимеда от объёма погруженной в жидкость части тела. Погрешность измерения силы Архимеда равна 4 мН, а объёма тела – 0,1 см³. Результаты измерений с учётом их погрешности представлены на графике.



Какова приблизительно плотность жидкости, в которую опускали тело?

Ответ: _____ кг/м³.

13

Установите соответствие между техническими устройствами и физическими явлениями, лежащими в основе принципа их действия.

К каждой позиции первого столбца подберите соответствующую позицию из второго столбца.

ТЕХНИЧЕСКИЕ УСТРОЙСТВА

- А) ванна для получения чистых металлов путем электролиза
Б) электрический кипятильник

ФИЗИЧЕСКИЕ ЯВЛЕНИЯ

- 1) взаимодействие постоянных магнитов
2) действие магнитного поля на проводник с током
3) тепловое действие тока
4) химическое действие тока

Запишите в таблицу выбранные цифры под соответствующими буквами.

Ответ:

А	Б

Прочитайте фрагмент инструкции к микроволновой печи и выполните задания 14 и 15.

СВЧ-излучение фактически проникает в пищу, поглощаясь содержащимся в пище водой, жиром и сахаром. Электромагнитные волны заставляют молекулы пищи быстро колебаться. Быстрые колебания этих молекул и есть, по сути, то «тепло», которое готовит пищу.

Разогрев жидкостей

При разогреве жидкостей может наблюдаться явление задержки кипения, что часто приводит к «убеганию» жидкости из сосуда, когда он уже извлечён из печи. Действительно, температура кипения может быть достигнута, а пузырьки отрываются ото дна и стенок только тогда, когда вы сдвинули сосуд с места. При этом возникает риск ожога. Чтобы избежать таких последствий, помещайте в разогреваемую жидкость пластмассовую ложку.

Предупреждение**Опасность, связанная с магнитным полем!**

В панели управления или в элементах управления встроены постоянные магниты, которые могут воздействовать на электронные имплантаты, например, на кардиостимулятор или инжектор инсулина. Если вы используете электронные имплантаты, соблюдайте минимальное расстояние до панели управления 10 см.

14

Почему в инструкции рекомендуется помещать в нагреваемую жидкость пластмассовую ложку?

Ответ: _____

15

Почему в инструкции людям с кардиостимуляторами запрещается слишком близко приближаться к микроволновой печи?

Ответ: _____

Прочитайте текст и выполните задания 16–18.

Космические обсерватории

С поверхности Земли человек издавна наблюдает космические объекты в видимой части спектра электромагнитного излучения (диапазон видимого света включает волны с длиной примерно от 380 нм до 760 нм)

При этом большой объём информации о небесных телах не доходит до поверхности Земли, т.к. большая часть инфракрасного и ультрафиолетового диапазона, а также рентгеновские и гамма-лучи космического происхождения недоступны для наблюдений с поверхности нашей планеты. Для изучения космических объектов в этих лучах необходимо вывести телескопы за пределы атмосферы. Результаты, полученные в космических обсерваториях, перевернули представление человека о Вселенной. Общее количество космических обсерваторий превышает уже несколько десятков.

Так, с помощью наблюдений в инфракрасном (ИК) диапазоне были открыты тысячи галактик с мощным инфракрасным излучением, в том числе такие, которые излучают в ИК-диапазоне больше энергии, чем во всех остальных частях спектра. Активно изучаются инфракрасные источники в газопылевых облаках. Интерес к газопылевым облакам связан с тем, что, согласно современным представлениям, в них рождаются и вспыхивают звёзды.

Ультрафиолетовый спектр разделяют на ультрафиолет-А (УФ-А) с длиной волны 315–400 нм, ультрафиолет-В (УФ-В) – 280–315 нм и ультрафиолет-С (УФ-С) – 100–280 нм. Практически весь УФ-С и приблизительно 90% УФ-В поглощаются озоновым слоем при прохождении лучей через земную атмосферу. УФ-А не задерживается озоновым слоем.

С помощью ультрафиолетовых обсерваторий изучались самые разные объекты: от комет и планет до удалённых галактик. В УФ-диапазоне исследуются звёзды, в том числе, с необычным химическим составом.

Гамма-лучи доносят до нас информацию о мощных космических процессах, связанных с экстремальными физическими условиями, в том числе и ядерных реакциях внутри звёзд. Детекторы рентгеновского излучения относительно легки в изготовлении и имеют небольшую массу. Рентгеновские телескопы устанавливались на многих орбитальных станциях и межпланетных космических кораблях. Оказалось, что рентгеновское излучение во Вселенной явление такое же обычное, как и излучение оптического диапазона. Большое внимание уделяется изучению рентгеновского излучения нейтронных звёзд и чёрных дыр, активных ядер галактик, горячего газа в скоплениях галактик.

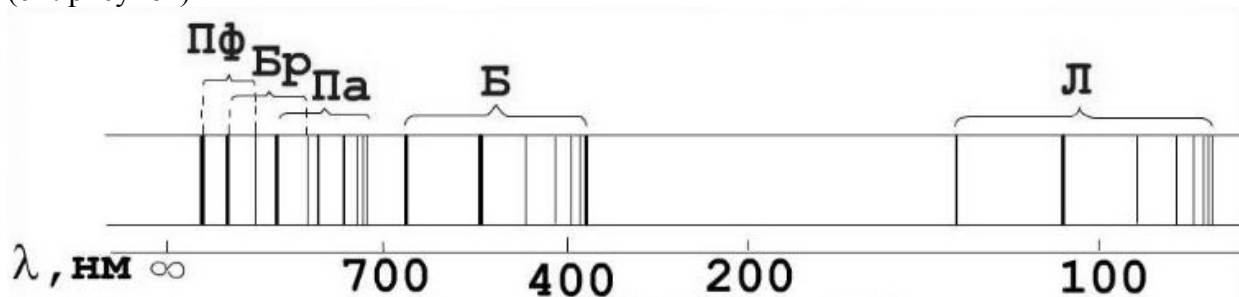
16

Электромагнитные волны какого из диапазонов (радиоволны, ультрафиолетовое излучение или гамма-излучение), идущие от космических объектов, доступны для изучения с поверхности Земли?

Ответ: _____

17

В спектре излучения (поглощения) атомарного водорода выделяют несколько серий спектральных линий: серия Лаймана, Бальмера, Пашена, Брэкетта, Пфунда и др. (см. рисунок)



К какой части спектра электромагнитного излучения принадлежит серия Бальмера (Б)?

Ответ: _____.

18

Учёные считают, что внутри газопылевых туманностей находятся вновь образовавшиеся звезды. Почему на Земле эти объекты наблюдают в ИК-диапазоне, а не в видимом свете? Ответ обоснуйте.

Ответ: _____

ВСЕРОССИЙСКАЯ ПРОВЕРОЧНАЯ РАБОТА

ФИЗИКА

11 КЛАСС

Инструкция по выполнению работы

Проверочная работа включает в себя 18 заданий. На выполнение работы по физике отводится 1 час 30 минут (90 минут).

Оформляйте ответы в тексте работы в отведённых для этого местах согласно инструкциям к заданиям. В случае записи неверного ответа зачеркните его и запишите рядом новый.

При выполнении работы разрешается использовать калькулятор.

При выполнении заданий Вы можете использовать черновик. Записи в черновике проверяться и оцениваться не будут.

Советуем выполнять задания в том порядке, в котором они даны. Для экономии времени пропускайте задание, которое не удаётся выполнить сразу, и переходите к следующему. Если после выполнения всей работы у Вас останется время, Вы сможете вернуться к пропущенным заданиям.

Баллы, полученные Вами за выполненные задания, суммируются. Постарайтесь выполнить как можно больше заданий и набрать наибольшее количество баллов.

Желаем успеха!

Ниже приведены справочные данные, которые могут понадобиться Вам при выполнении работы.

Десятичные приставки

Наименование	Обозначение	Множитель	Наименование	Обозначение	Множитель
гига	Г	10^9	санти	с	10^{-2}
мега	М	10^6	милли	м	10^{-3}
кило	к	10^3	микро	мк	10^{-6}
гекто	г	10^2	нано	н	10^{-9}
деци	д	10^{-1}	пико	п	10^{-12}

Константы

ускорение свободного падения на Земле

$$g = 10 \text{ м/с}^2$$

гравитационная постоянная

$$G = 6,7 \cdot 10^{-11} \text{ Н} \cdot \text{м}^2/\text{кг}^2$$

универсальная газовая постоянная

$$R = 8,31 \text{ Дж}/(\text{моль} \cdot \text{К})$$

скорость света в вакууме

$$c = 3 \cdot 10^8 \text{ м/с}$$

коэффициент пропорциональности в законе Кулона

$$k = 9 \cdot 10^9 \text{ Н} \cdot \text{м}^2/\text{Кл}^2$$

модуль заряда электрона

$$e = 1,6 \cdot 10^{-19} \text{ Кл}$$

(элементарный электрический заряд)

$$h = 6,6 \cdot 10^{-34} \text{ Дж} \cdot \text{с}$$

постоянная Планка

1 Прочитайте перечень понятий, с которыми Вы встречались в курсе физики:

длина волны, магнитный поток, рулетка, давление, омметр, ареометр

Разделите эти понятия на две группы по выбранному Вами признаку. Запишите в таблицу название каждой группы и понятия, входящие в эту группу.

Название группы понятий	Перечень понятий

2 Выберите **два** верных утверждения о физических явлениях, величинах и закономерностях. Запишите в ответ их номера.


- 1) Пар над поверхностью жидкости является насыщенным, если за одно и то же время с поверхности жидкости в среднем вылетает меньшее число молекул, чем число молекул, возвращающихся обратно в жидкость.
- 2) Тело в инерциальной системе отсчёта находится в равновесии, если геометрическая сумма внешних сил, действующих на тело, равна нулю.
- 3) При взаимодействии заряженных тел в электрически изолированной системе алгебраическая сумма электрических зарядов тел всегда уменьшается.
- 4) Одноимённые полюса постоянных магнитов притягиваются друг к другу.
- 5) Под радиоактивностью понимают самопроизвольное изменение состава или внутреннего строения нестабильных атомных ядер с испусканием частиц.

Ответ:

--	--

3 Сосуд с водой, соединённый с одинаково изогнутыми трубками (см. рисунок), образует устройство, называемое сегнеровым колесом.

При вытекании воды из трубок колесо приводится во вращение в противоположном направлении. Как называется такой вид движение в физике?



Ответ: _____.

4

Прочитайте текст и вставьте на место пропусков слова (словосочетания) из приведённого списка.

Для исследования электризации тел возьмём мелко нарезанную бумагу, стеклянную палочку и кусок шёлка. Если натереть стеклянную палочку о шёлк, а затем поднести её к мелко нарезанным бумажкам, то наблюдается



Это взаимодействие объясняется электризацией кусочков бумаги посредством _____. Объясняется электризация перераспределением _____ между телами или внутри тела.

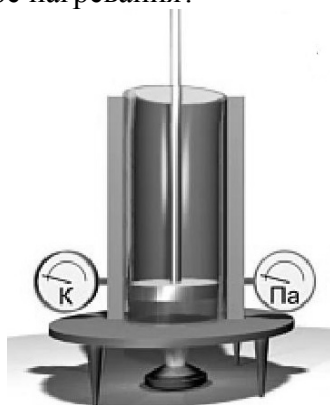


Список слов и словосочетаний

взаимодействие между стеклянной палочкой и куском шёлка
притяжение листочков бумаги к стеклянной палочке
магнитное притяжение листочков бумаги друг к другу
трения
влияния
соприкосновения
электрического заряда
нейтральных молекул

5

Цилиндр, в котором под подвижным поршнем находится воздух, начинают нагревать (см. рисунок). Как будет изменяться концентрация молекул воздуха, а также давление и объём воздуха в цилиндре по мере нагревания?



Для каждой величины определите характер изменения и поставьте в таблице знак «V» в нужной клетке таблицы.

Величина	Характер изменения величины		
	увеличивается	уменьшается	не изменяется
Концентрация молекул			
Давление воздуха			
Объём воздуха			

6

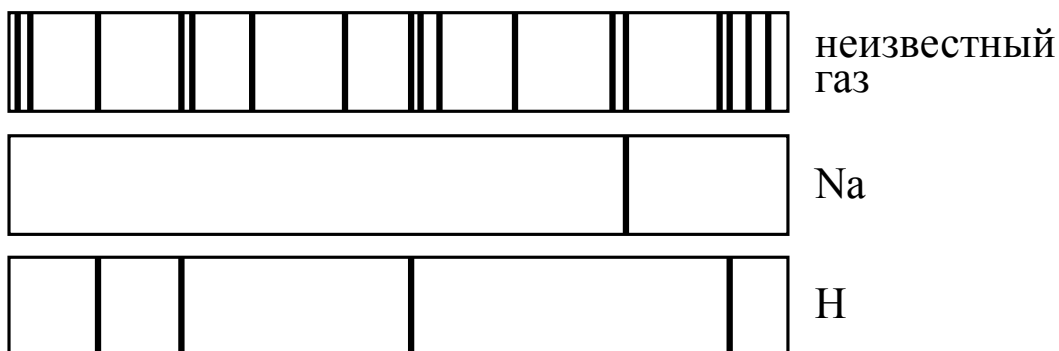
Связанная система элементарных частиц содержит 22 электрона, 28 нейтронов и 24 протона. Используя фрагмент Периодической системы элементов Д.И. Менделеева, определите ионом или нейтральным атомом какого элемента является эта система.

7 N 14,0067 Азот	8 O 15,9994 Кислород	9 F 18,9984 Фтор	10 Ne 20,183 Неон
15 P 30,9738 Фосфор	16 S 32,064 Сера	17 Cl 35,453 Хлор	18 Ar 39,948 Аргон
23 V 50,942 Ванадий	24 Cr 51,996 Хром	25 Mn 54,938 Марганец	26 Fe 55,847 Железо

Ответ: _____.

7

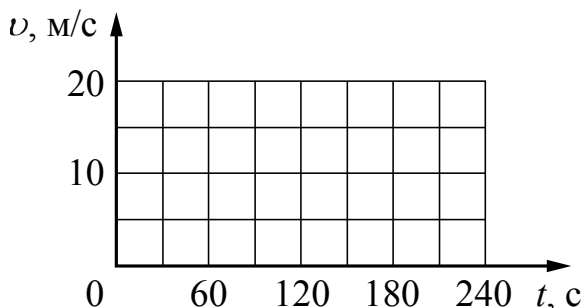
На рисунке приведены спектр поглощения разреженных атомарных паров неизвестного газа и спектры поглощения паров натрия и атомарного водорода. Содержится ли в образце натрий и водород? Ответ поясните.



Ответ: _____

8

На прямолинейном участке пути автомобиль движется со скоростью 36 км/ч в течение 3 мин., а затем тормозит с постоянным ускорением до полной остановки в течение минуты. Постройте график зависимости скорости автомобиля от времени в течение указанного времени движения.



9

В дачном домике линия электропередачи для розеток оснащена автоматическим выключателем, который размыкает линию электропередачи, если сила тока в ней превышает 16 А. Напряжение электрической сети 220 В.

В таблице представлены электрические приборы, используемые в доме, и потребляемая ими мощность.

<i>Электрические приборы</i>	<i>Потребляемая мощность, Вт</i>
Телевизор	400
Электрический обогреватель	2000
Пылесос	650
Холодильник	180
СВЧ-печь	800
Электрический чайник	2000
Электрический утюг	1500

Можно ли при включенном обогревателе и холодильнике дополнительно включить электрический чайник? Запишите решение и ответ.

Решение: _____

Ответ: _____

10

С помощью вольтметра проводились измерения напряжения на участке электрической цепи переменного тока (см. рисунок). Погрешность измерений напряжения равна цене деления шкалы вольтметра.



Запишите в ответ показания вольтметра с учётом погрешности измерений.

Ответ: _____ В.

11

Космонавты исследовали зависимость силы тяжести от массы тела на посещенной ими планете. В таблице представлены результаты измерений массы тела и силы тяжести с учётом погрешностей измерений.

№ опыта	Масса тела, кг	Сила тяжести, Н
1	$1,05 \pm 0,05$	$10,5 \pm 0,5$
2	$2,00 \pm 0,05$	$20,0 \pm 0,5$
3	$2,95 \pm 0,05$	$31,0 \pm 0,5$

Каково приблизительно ускорение свободного падения на планете?

Ответ: _____ м/с^2 .

12

- В ответе:

1. Опишите экспериментальную установку.
2. Опишите порядок действий при проведении исследования.

Ответ:

13

К каждой позиции первого столбца подберите соответствующую позицию из второго столбца.

ФИЗИЧЕСКИЕ ЯВЛЕНИЯ

- 1) электромагнитная индукция
- 2) действие магнитного поля на проводник с током
- 3) тепловое действие тока
- 4) взаимодействие постоянных магнитов

Запишите в таблицу выбранные цифры под соответствующими буквами.

Ответ:

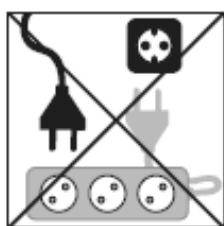
А	Б

Прочитайте фрагмент инструкции к мобильному кондиционеру и выполните задания 14 и 15.

Установка

·Прибор можно легко установить в любом помещении. Требования к месту установки:
·кондиционер следует устанавливать вертикально на ровной поверхности;
·не следует устанавливать кондиционер рядом с ванной или умывальником, а также в других местах с повышенной влажностью;
·для обеспечения нормальной циркуляции воздуха кондиционер следует устанавливать на расстоянии не менее 47 см (18") от стен, штор и источников тепла.

Запрещено использовать кондиционер при таких условиях:




Не подключайте прибор
через удлинитель



Опасность повреждения
шнура питания



Опасность попадания
химических веществ



Опасность попадания посторонних
предметов

14

В инструкции не рекомендуется устанавливать кондиционер в местах повышенной влажности. Почему это может представлять опасность?

Ответ: _____

15

Почему в инструкции запрещается подключать кондиционер к электрической сети через удлинитель?

Ответ: _____

Прочитайте текст и выполните задания 16–18.**Погрешности оптических систем**

Рассмотрим некоторые погрешности (абберации), которые дают оптические приборы, основанные на использовании линз: сферические и хроматические aberrации.

На практике часто приходится применять собирающие линзы большого диаметра, позволяющие собрать широкие световые потоки. Однако в этом случае не удаётся получить резкое изображение источника (рис. 1). Как бы мы ни перемещали экран (Э), на нём получается довольно расплывчатое изображение. И только ограничив пучки, падающие на линзу, с помощью диафрагмы Д (непрозрачного экрана с отверстием), можно получить достаточно резкое изображение источника (рис. 2). Погрешность, связанная с тем, что линза большого диаметра даёт изображение точечного источника S не в виде точки, а в виде расплывчатого светлого пятна, называется сферической aberrацией.

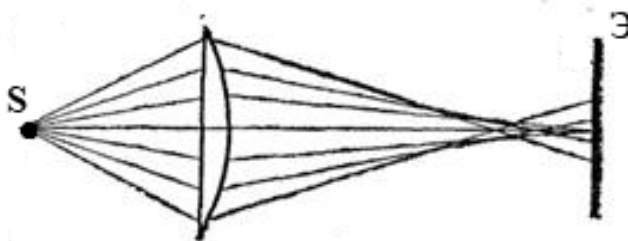


Рис. 1

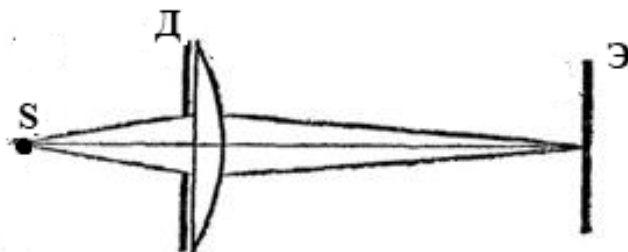


Рис. 2

Хроматическая aberrация связана с тем, что показатель преломления световых лучей в стекле зависит от длины волны: красные лучи преломляются слабее, чем зелёные, зелёные – слабее, чем фиолетовые. Из-за этого изображение в линзе получается окрашенным.

Рассмотрим, как можно убрать хроматическую aberrацию в оптических телескопах. Телескоп состоит из двух основных частей – объектива и окуляра. В первых телескопах (т.н. рефракторных) в качестве объектива использовалась собирающая линза. В фокусе объектива формируется действительное изображение весьма удалённого источника света (например, звезды). Чтобы разглядеть полученное с помощью объектива изображение, используется окуляр. В качестве окуляра может использоваться собирающая линза, действующая как лупа. На рис. 3 представлен ход лучей в телескопе И. Кеплера (1611 г.).

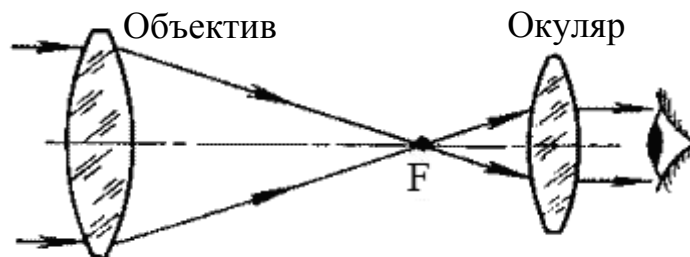


Рис. 3. Зрительная труба И. Кеплера. В её оптической схеме две собирающие линзы.

С помощью телескопа Кеплера яркие звёзды наблюдатель увидит как сине-зелёные точки (к сине-зелёной части спектра человеческий глаз наиболее чувствителен ночью), окружённые красной и синей каймой.

Чтобы устранить искажения изображения, связанные с хроматической аберрацией, И. Ньютон в 1668 году предложил новую модель телескопа – рефлекторный телескоп, в котором вместо собирающей линзы использовалось вогнутое зеркало (рис. 4).

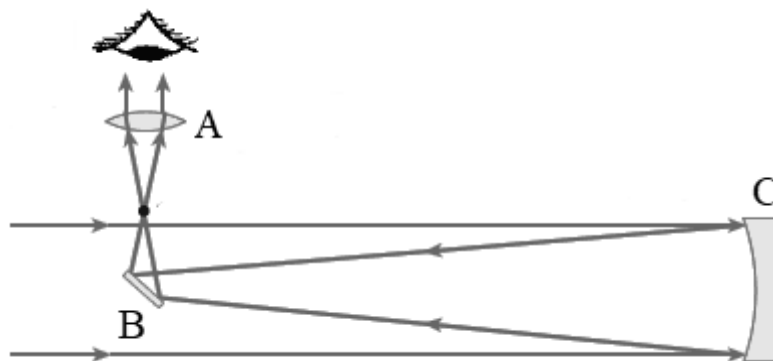


Рис. 4. Оптическая схема телескопа И. Ньютона (А – собирающая линза, В – плоское зеркало, С – вогнутое зеркало)

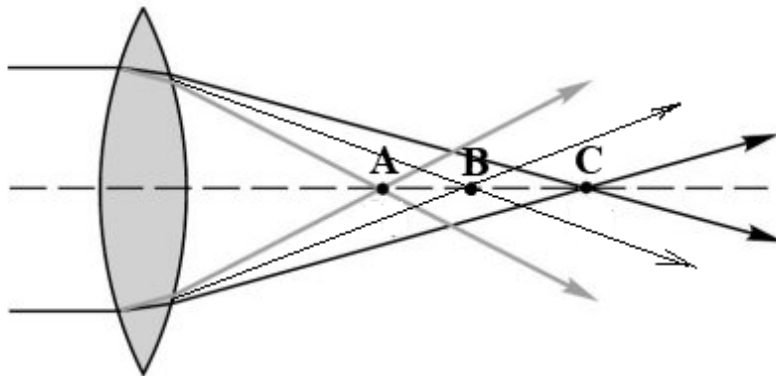
16

Что использовалось в качестве объектива в оптической схеме телескопа Ньютона (рис. 4)?

Ответ: _____

17

Из-за хроматической аберрации для световых волн различной длины образуются разные фокусы. На рисунке показано прохождение световых волн фиолетового, зелёного и красного участков спектра через собирающую линзу. Какая из точек (А, В или С) является фокусом для волн фиолетового цвета?



Ответ: _____.

18

Изменится ли, и если изменится, то как, яркость изображения предмета в собирающей линзе, если перед линзой разместить диафрагму (рис. 2)? Ответ поясните.

Ответ: _____

ВСЕРОССИЙСКАЯ ПРОВЕРОЧНАЯ РАБОТА

ФИЗИКА

11 КЛАСС

Инструкция по выполнению работы

Проверочная работа включает в себя 18 заданий. На выполнение работы по физике отводится 1 час 30 минут (90 минут).

Оформляйте ответы в тексте работы в отведённых для этого местах согласно инструкциям к заданиям. В случае записи неверного ответа зачеркните его и запишите рядом новый.

При выполнении работы разрешается использовать калькулятор.

При выполнении заданий Вы можете использовать черновик. Записи в черновике проверяться и оцениваться не будут.

Советуем выполнять задания в том порядке, в котором они даны. Для экономии времени пропускайте задание, которое не удаётся выполнить сразу, и переходите к следующему. Если после выполнения всей работы у Вас останется время, Вы сможете вернуться к пропущенным заданиям.

Баллы, полученные Вами за выполненные задания, суммируются. Постарайтесь выполнить как можно больше заданий и набрать наибольшее количество баллов.

Желаем успеха!

Ниже приведены справочные данные, которые могут понадобиться Вам при выполнении работы.

Десятичные приставки

Наименование	Обозначение	Множитель	Наименование	Обозначение	Множитель
гига	Г	10^9	санти	с	10^{-2}
мега	М	10^6	милли	м	10^{-3}
кило	к	10^3	микро	мк	10^{-6}
гекто	г	10^2	нано	н	10^{-9}
деци	д	10^{-1}	пико	п	10^{-12}

Константы

ускорение свободного падения на Земле

$$g = 10 \text{ м/с}^2$$

гравитационная постоянная

$$G = 6,7 \cdot 10^{-11} \text{ Н} \cdot \text{м}^2/\text{кг}^2$$

универсальная газовая постоянная

$$R = 8,31 \text{ Дж}/(\text{моль} \cdot \text{К})$$

скорость света в вакууме

$$c = 3 \cdot 10^8 \text{ м/с}$$

коэффициент пропорциональности в законе Кулона

$$k = 9 \cdot 10^9 \text{ Н} \cdot \text{м}^2/\text{Кл}^2$$

модуль заряда электрона

$$e = 1,6 \cdot 10^{-19} \text{ Кл}$$

(элементарный электрический заряд)

$$h = 6,6 \cdot 10^{-34} \text{ Дж} \cdot \text{с}$$

постоянная Планка

1 Прочитайте перечень понятий, с которыми Вы встречались в курсе физики:

метр, омметр, амперметр, секундомер, секунда, фарад

Разделите эти понятия на две группы по выбранному Вами признаку. Запишите в таблицу название каждой группы и понятия, входящие в эту группу.

Название группы понятий	Перечень понятий


2 Выберите **два** верных утверждения о физических явлениях, величинах и закономерностях. Запишите в ответ их номера.

- 1) Энергия характеризует способность тела совершать работу.
- 2) Заряд ядра в единицах элементарного электрического заряда (зарядовое число ядра) равняется числу протонов в ядре.
- 3) Силой Лоренца называют силу, с которой однородное электрическое поле действует на постоянные магниты.
- 4) Разноимённые полюса постоянных магнитов отталкиваются друг от друга.
- 5) Конденсацией называют процесс преобразования пара в твёрдое вещество, минуя жидкую фазу.

Ответ:

--	--

3 На стакан положили картонку, а на картонку – тяжелую монету. При резком щелчке по картонке она вылетает, а монета не улетает вместе с картонкой, а падает в стакан (см. рисунок). Какое явление наблюдается в этом опыте?



Ответ: _____.

4

Прочитайте текст и вставьте на место пропусков слова (словосочетания) из приведённого списка.

Для проведения опыта понадобится стеклянная палочка, лист бумаги и бумажный султан, закреплённый на железном стержне. Если потереть палочку листом бумаги, то палочка и лист бумаги приобретают _____. Султан заряжают тем же зарядом, что и заряд палочки. При поднесении палочки к султану будет наблюдаться отталкивание полосок бумаги султана от палочки. Это происходит из-за _____. Если подносить к султану не палочку, а лист бумаги, то полоски бумаги султана будут _____.

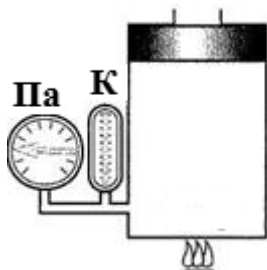


Список слов и словосочетаний

положительные электрические заряды
разноимённые электрические заряды
одноименные электрические заряды
взаимодействия зарядов
трения
отталкиваться друг от друга
притягиваться к бумаге

5

Цилиндр, в котором под неподвижным поршнем находится воздух, начинают нагревать (см. рисунок). Как будет изменяться концентрация молекул воздуха, а также внутренняя энергия и давление воздуха в цилиндре по мере нагревания?



Для каждой величины определите характер изменения и поставьте в таблице знак «V» в нужной клетке таблицы.

Величина	Характер изменения величины		
	увеличивается	уменьшается	не изменяется
Концентрация молекул			
Внутренняя энергия воздуха			
Давление воздуха			

6

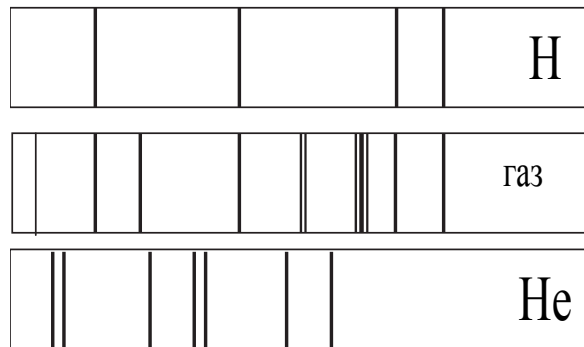
Связанная система элементарных частиц содержит 14 электронов, 15 нейтронов и 16 протонов. Используя фрагмент Периодической системы элементов Д.И. Менделеева, определите ионом или нейтральным атомом какого элемента является эта система.

7 N 14,0067 Азот	8 O 15,9994 Кислород	9 F 18,9984 Фтор	10 Ne 20,183 Неон
15 P 30,9738 Фосфор	16 S 32,064 Сера	17 Cl 35,453 Хлор	18 Ar 39,948 Аргон
23 V 50,942 Ванадий	24 Cr 51,996 Хром	25 Mn 54,938 Марганец	26 Fe 55,847 Железо

Ответ: _____.

7

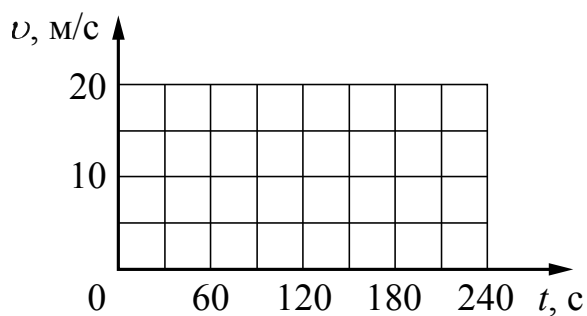
На рисунке приведены спектр поглощения разреженных атомарных паров неизвестного газа (в середине) и спектры поглощения паров водорода и гелия. Содержит ли неизвестный газ эти вещества? Ответ поясните.



Ответ: _____

8

На прямолинейном участке пути автомобиль начинает движение и в течение 30 с равноускоренно набирает скорость 36 км/ч. Далее в течение минуты он едет равномерно. Постройте график зависимости скорости автомобиля от времени в течение указанного времени движения.



9

В дачном домике электрическая линия для розеток оснащена автоматическим выключателем, который размыкает линию, если потребляемая включенными приборами суммарная электрическая мощность превышает 3,5 кВт. Напряжение электрической сети 220 В.

В таблице представлены электрические приборы, используемые в доме, и потребляемый ими электрический ток при напряжении 220 В.

<i>Электрические приборы</i>	<i>Потребляемый электрический ток, А (при напряжении сети 220 В)</i>
Телевизор	1,8
Электрический обогреватель	9,0
Пылесос	2,9
Холодильник	0,8
СВЧ-печь	3,6
Электрический чайник	9,0
Электрический утюг	6,8

Можно ли при включенном обогревателе и холодильнике дополнительно включить электрический чайник? Запишите решение и ответ.

Решение: _____

Ответ: _____

10

С помощью вольтметра проводились измерения напряжения на участке электрической цепи переменного тока (см. рисунок). Погрешность измерений напряжения равна цене деления шкалы вольтметра.



Запишите в ответ показания вольтметра с учётом погрешности измерений.

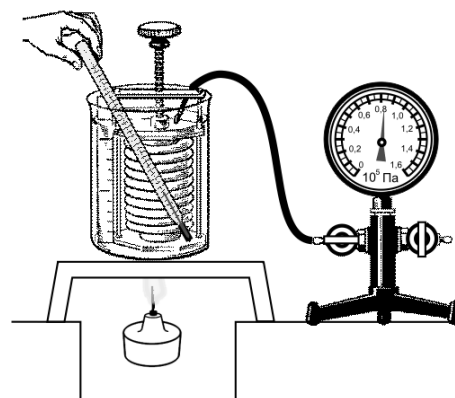
Ответ: _____ В.

Космонавты исследовали зависимость силы тяжести от массы тела на посещённой ими планете. В таблице представлены результаты измерений массы тела и силы тяжести с учётом погрешностей измерений.

№ опыта	Масса тела, кг	Сила тяжести, Н
1	$1,00 \pm 0,05$	$15,00 \pm 0,25$
2	$2,05 \pm 0,05$	$32,50 \pm 0,25$
3	$2,95 \pm 0,05$	$47,50 \pm 0,25$

Ответ: м/с^2 .

- сиффон (прибор, при помощи которого можно изменять объём воздуха; сиффон подключается к манометру);
- манометр;
- термометр;
- сосуд с водой;
- горелка.



1. Опишите экспериментальную установку.
2. Опишите порядок действий при проведении исследования.

Ответ:

13

Установите соответствие между техническими устройствами и физическими явлениями, лежащими в основе принципа их действия.

К каждой позиции первого столбца подберите соответствующую позицию из второго столбца.

ТЕХНИЧЕСКИЕ УСТРОЙСТВА

- А) трансформатор
Б) лампа накаливания

ФИЗИЧЕСКИЕ ЯВЛЕНИЯ

- 1) взаимодействие постоянных магнитов
2) действие магнитного поля на проводник с током
3) электромагнитная индукция
4) тепловое действие тока

Запишите в таблицу выбранные цифры под соответствующими буквами.

Ответ:

А	Б

Прочитайте фрагмент инструкции к электрическому фену для волос и выполните задания 14 и 15.



ВНИМАНИЕ! Держите это устройство подальше от воды. Не используйте его возле воды и ванн, душевых кабин, бассейнов и подобных, содержащих воду, конструкций.

- 1) Перед эксплуатацией внимательно прочитайте инструкцию.
- 2) Всегда отключайте устройство от сети после работы.
- 3) Не используйте устройство во время любых ванн, процедур.
- 4) **Не помещайте фен в воду или другую жидкость. Если уж это произошло, немедленно отсоедините шнур питания от розетки и ни в коем случае не пытайтесь достать фен из воды!**

ВНИМАНИЕ! Во избежание возгораний, ударов электричеством, пожара или нанесения вреда окружающим:

Не пользуйтесь устройством, если обнаружите повреждения шнура, штепсельной вилки или других частей устройства. Отнесите устройство в сервисный центр для ремонта.

Запрещено самостоятельно ремонтировать устройство.

Не закрывайте вентиляционные отверстия фена, иначе он может перегреться.

Не кладите устройство на мягкие поверхности.

14

Почему в инструкции запрещается закрывать вентиляционные отверстия фена?

Ответ:

15

Почему в инструкции запрещается вынимать упавший в воду фен, не отключив его предварительно от электрической сети?

Ответ: _____

Прочитайте текст и выполните задания 16–18.

Запись звука

Возможность записывать звуки и затем воспроизводить их была открыта в 1877 году американским изобретателем Т.А. Эдисоном. Благодаря этому появилось звуковое кино, началось массовое производство граммофонных пластинок.

На рисунке 1 дана упрощенная схема механического звукозаписывающего устройства. Звуковые волны от источника звука (певца, оркестра и т.д.) попадали в рупор 1, в котором была закреплена тонкая упругая пластинка 2 (мембрана). Под действием звуковой волны мембрана начинала колебаться. Колебания мембраны передавались связанному с ней резцу 3, острие которого оставляло при этом на вращающемся диске 4 звуковую бороздку. Звуковая бороздка закручивалась по спирали от края диска к его центру.

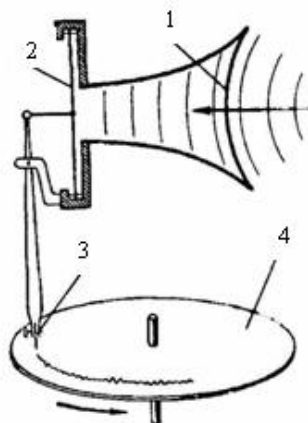


Рис. 1




Рис. 2

Профиль звуковой дорожки на фонографе при большом увеличении

Диск или валик, на котором производилась звукозапись, изготавливалась из специального мягкого воскового материала. С этого воскового диска гальванопластическим способом снимали медную копию (клише): использовалось осаждение на электроде чистой меди при прохождении электрического тока через раствор её солей. Затем с медной копии делали оттиски на дисках из пластмассы. Так получали граммофонные пластинки.

При воспроизведении звука граммофонную пластинку ставят под иглу, связанную с мембраной граммофона, и приводят пластинку во вращение. Двигаясь по волнистой бороздке пластинки, конец иглы колеблется, вместе с ним колеблется и мембрана, причём эти колебания довольно точно воспроизводят записанный звук.

В 1898 году датский инженер Вольдемар Паульсен изобрёл аппарат для магнитной записи звука на стальной проволоке. Магнитные ленты появились значительно позже, их использование началось в 40-х годах XX века. На рисунке 3 представлен принцип работы записывающей магнитной головки магнитофона.

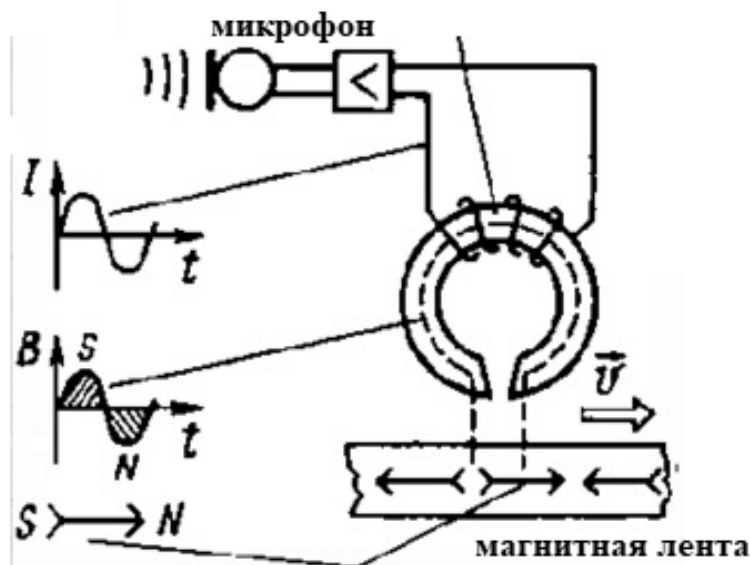


Рис. 3. Намагниченность ленты остаётся и после действия магнитного поля.

В микрофоне звуковой сигнал переводится в электрический. Переменный электрический ток создаёт переменное магнитное поле, под действием которого намагничивается ферромагнитный материал, покрывающий движущуюся ленту.

В 1979 году вернулась механическая запись звука, но уже на новом уровне – при записи лазерных дисков. Вместо иглы фонографа звуки на диске записывает луч лазера. Звуковая информация заключена в мельчайших углублениях (рис. 4), выгравированных при записи лазерным лучом на металлизированной поверхности диска. Этот диск во время вращения «читается» другим лазерным лучом, и различия в отражённом лазерном свете преобразуются в электрические сигналы, которые затем преобразуются в звук.




Рис. 4

Поверхность лазерного диска под микроскопом.

16

Какое действие электрического тока используется при получении клише с воскового диска?

Ответ: _____

17

Конструкция диска DVD имеет структуру, аналогичную структуре диска CD. Однако при записи информации шаг дорожек у DVD-диска гораздо короче, чем у CD (рис. 5). Какой параметр дисков это определяет?




Рис. 5. Рабочий слой DVD (а) и CD (б) при большом увеличении.

Ответ: _____.

18

При многократном проигрывании пластинки появляются шипение и щелчки. С чем это может быть связано? Ответ поясните.

Ответ: _____

ВСЕРОССИЙСКАЯ ПРОВЕРОЧНАЯ РАБОТА

ФИЗИКА

11 КЛАСС

Инструкция по выполнению работы

Проверочная работа включает в себя 18 заданий. На выполнение работы по физике отводится 1 час 30 минут (90 минут).

Оформляйте ответы в тексте работы в отведённых для этого местах согласно инструкциям к заданиям. В случае записи неверного ответа зачеркните его и запишите рядом новый.

При выполнении работы разрешается использовать калькулятор.

При выполнении заданий Вы можете использовать черновик. Записи в черновике проверяться и оцениваться не будут.

Советуем выполнять задания в том порядке, в котором они даны. Для экономии времени пропускайте задание, которое не удаётся выполнить сразу, и переходите к следующему. Если после выполнения всей работы у Вас останется время, Вы сможете вернуться к пропущенным заданиям.

Баллы, полученные Вами за выполненные задания, суммируются. Постарайтесь выполнить как можно больше заданий и набрать наибольшее количество баллов.

Желаем успеха!

Ниже приведены справочные данные, которые могут понадобиться Вам при выполнении работы.

Десятичные приставки

Наименование	Обозначение	Множитель	Наименование	Обозначение	Множитель
гига	Г	10^9	санти	с	10^{-2}
мега	М	10^6	милли	м	10^{-3}
кило	к	10^3	микро	мк	10^{-6}
гекто	г	10^2	нано	н	10^{-9}
деци	д	10^{-1}	пико	п	10^{-12}

Константы

ускорение свободного падения на Земле

$$g = 10 \text{ м/с}^2$$

гравитационная постоянная

$$G = 6,7 \cdot 10^{-11} \text{ Н} \cdot \text{м}^2/\text{кг}^2$$

универсальная газовая постоянная

$$R = 8,31 \text{ Дж}/(\text{моль} \cdot \text{К})$$

скорость света в вакууме

$$c = 3 \cdot 10^8 \text{ м/с}$$

коэффициент пропорциональности в законе Кулона

$$k = 9 \cdot 10^9 \text{ Н} \cdot \text{м}^2/\text{Кл}^2$$

модуль заряда электрона

$$e = 1,6 \cdot 10^{-19} \text{ Кл}$$

(элементарный электрический заряд)

$$h = 6,6 \cdot 10^{-34} \text{ Дж} \cdot \text{с}$$

постоянная Планка

1 Прочитайте перечень понятий, с которыми Вы встречались в курсе физики:

испарение, кинетическая энергия, момент силы, дифракция, бета-распад, ускорение

Разделите эти понятия на две группы по выбранному Вами признаку. Запишите в таблицу название каждой группы и понятия, входящие в эту группу.

Название группы понятий	Перечень понятий

2 Выберите **два** верных утверждения о физических явлениях, величинах и закономерностях. Запишите в ответ их номера.

- 1) Температура плавления кристаллических тел зависит от их массы.
- 2) Одноимённые точечные электрические заряды притягиваются друг к другу.
- 3) Силой Ампера называют силу, с которой электрическое поле действует на заряженные частицы.
- 4) В инерциальной системе отсчёта изменение импульса тела равно импульсу равнодействующей силы, действующей на тело.
- 5) Массовое число ядра равно общему числу нуклонов (протонов и нейтронов) в ядре.

Ответ:

--	--

3 В мензурку налили медный купорос, а сверху – чистую воду (см. рисунок). Через несколько дней граница разделения жидкостей стала размытой, а ещё через несколько дней вся жидкость оказалась одинаково окрашенной. Какое явление наблюдалось в этом опыте?



Ответ: _____.

4

Прочитайте текст и вставьте на место пропусков слова (словосочетания) из приведённого списка.

Возьмём простой железный гвоздь, обмотаем его проволокой и подключим её к батарее (рис. 1). Мы получим _____, магнитные свойства которого можно наблюдать по притяжению к нему _____. Для определения полюсов магнита можно воспользоваться магнитной стрелкой. Так, в точке А изображённого на рис. 2 соленоида находится _____.

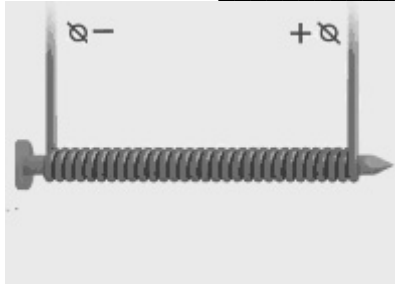


Рис. 1

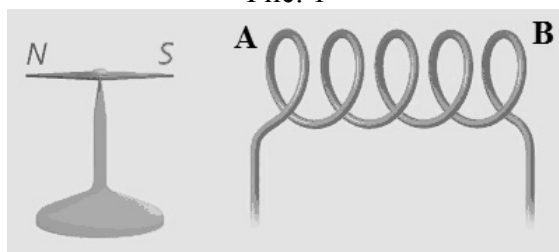


Рис. 2

Список слов и словосочетаний

постоянный полосовой магнит
электромагнит
стальные гвоздики
алюминиевые опилки
пластмассовые скрепки
южный магнитный полюс
северный магнитный полюс

5

Пуля, летящая в горизонтальном направлении, прошла сквозь вертикально расположенную фанерную мишень и продолжила движение в горизонтальном направлении. Как при этом изменилась кинетическая, потенциальная и внутренняя энергия пули?

Для каждой величины определите характер изменения и поставьте в таблице знак «У» в нужной клетке таблицы.

Величина	Характер изменения величины		
	увеличилась	уменьшилась	не изменилась
Кинетическая энергия			
Потенциальная энергия			
Внутренняя энергия			

6

Связанная система элементарных частиц содержит 13 электронов, 14 нейтронов и 13 протонов. Используя фрагмент Периодической системы элементов Д.И. Менделеева, определите ионом или нейтральным атомом какого элемента является эта система.

Li 3 6,939 Литий	Be 4 9,0122 Бериллий	B 5 10,811 Бор	C 6 12,01115 Углерод	N 7 14,0067 Азот
Na 11 22,9898 Натрий	Mg 12 24,312 Магний	Al 13 26,9815 Алюминий	Si 14 28,086 Кремний	P 15 30,9738 Фосфор
K 19 39,102 Калий	Ca 20 40,08 Кальций	Sc 21 44,956 Скандий	Ti 22 47,90 Титан	V 23 50,942 Ванадий

Ответ: _____.

7

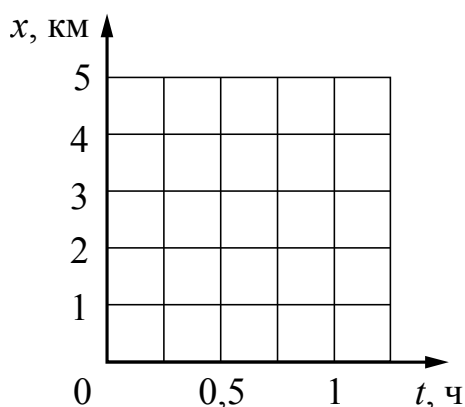
На рисунке приведены фотографии фрагментов спектров поглощения неизвестного газа и паров водорода и гелия. Содержит ли неизвестный газ эти вещества? Ответ поясните.



Ответ: _____

8

Высадившись на остановке, Андрей начал движение со скоростью 5 км/ч по прямолинейному участку пути в направлении деревни, находящейся на расстоянии 5 км от остановки. В это же время навстречу ему из деревни начал движение Олег со скоростью 4 км/ч. Постройте графики зависимости координаты от времени для обоих мальчиков до момента их встречи. Начало координат связано с остановкой, направление оси x соответствует движению по направлению к деревне.



9

Электрическая линия для розеток в кухне оснащена автоматическим выключателем, который размыкает линию, если сила тока в ней превышает 25 А. Напряжение электрической сети 220 В.

В таблице представлены электрические приборы, используемые на кухне, и потребляемая ими мощность.

<i>Электрические приборы</i>	<i>Потребляемая мощность, Вт</i>
Духовка электрическая	2300
Посудомоечная машина	1800
Кофеварка	1500
Микроволновая печь	1800
Тостер-печь	1100
Кондиционер	1000
Холодильник	180
Электрический чайник	1800
Блендер	300

На кухне работают посудомоечная машина, холодильник и кондиционер. Можно ли при этом дополнительно включить электрический чайник? Запишите решение и ответ.

Решение: _____

Ответ: _____

10

С помощью барометра проводились измерения атмосферного давления. Нижняя шкала барометра проградуирована в мм рт. ст., а верхняя шкала – в кПа (см. рисунок). Погрешность измерений давления равна цене деления шкалы барометра.



Запишите в ответ показания барометра в кПа с учётом погрешности измерений.

Ответ: _____ кПа.

11

Ученик исследовал зависимость силы Архимеда от объёма погруженной в жидкость части тела. В таблице представлены результаты измерений объёма погруженной части тела и силы Архимеда с учётом погрешностей измерений.

№ опыта	Объём погруженной части тела, см ³	Сила Архимеда, мН
1	$1,00 \pm 0,05$	$10,30 \pm 0,25$
2	$2,10 \pm 0,05$	$20,20 \pm 0,25$
3	$2,95 \pm 0,05$	$30,90 \pm 0,25$

Какова приблизительно плотность жидкости, в которую опускали тело?

Ответ: _____ кг/м³.

12

- В ответе:

1. Опишите экспериментальную установку.
2. Опишите порядок действий при проведении исследования.

Ответ:

13

К каждой позиции первого столбца подберите соответствующую позицию из второго столбца.

ФИЗИЧЕСКИЕ ЯВЛЕНИЯ

- 1) взаимодействие постоянных магнитов
- 2) действие магнитного поля на проводник с током
- 3) электромагнитная индукция
- 4) электризация

Запишите в таблицу выбранные цифры под соответствующими буквами.

Ответ:

А	Б

Прочитайте фрагмент инструкции к посудомоечной машине и выполните задания 14 и 15.



ИНСТРУКЦИИ ОТНОСИТЕЛЬНО ВЫПОЛНЕНИЯ ЗАЗЕМЛЕНИЯ

Данный электроприбор отвечает требованиям международных стандартов по технике безопасности. Он снабжен электрической вилкой с контактом заземления, который обеспечивает полное заземление изделия.



Перед включением машины проверьте, что она правильно заземлена.

Проверьте, что напряжение и частота электросети соответствуют указанным в паспортной табличке, и что электрическая линия имеет достаточную нагрузочную способность. Вставьте вилку сетевого шнура машины в правильно заземленную розетку. Если вилка не подходит к электрической розетке, то электрическую розетку следует заменить (выполняется квалифицированным электриком), а не использовать для подключения машины к электросети переходник.

14

В инструкции указано, что вилка стиральной машины обеспечивает заземление устройства. Для чего делают заземление?

Ответ: _____

15

Почему в инструкции запрещается подключать посудомоечную машину к электросети через переходник?

Ответ: _____

Прочитайте текст и выполните задания 16–18.**Запись звука**

Возможность записывать звуки и затем воспроизводить их была открыта в 1877 году американским изобретателем Т.А. Эдисоном. Благодаря этому появилось звуковое кино, началось массовое производство граммофонных пластинок.

На рисунке 1 дана упрощенная схема механического звукозаписывающего устройства. Звуковые волны от источника звука (певца, оркестра и т.д.) попадали в рупор 1, в котором была закреплена тонкая упругая пластинка 2 (мембрана). Под действием звуковой волны мембрана начинала колебаться. Колебания мембраны передавались связанному с ней резцу 3, острие которого оставляло при этом на вращающемся диске 4 звуковую бороздку. Звуковая бороздка закручивалась по спирали от края диска к его центру.

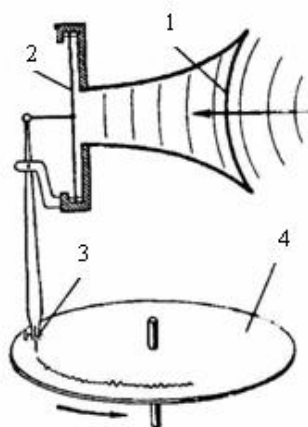


Рис. 1




Рис. 2

Профиль звуковой дорожки на фонографе при большом увеличении

Диск или валик, на котором производилась звукозапись, изготавливалась из специального мягкого воскового материала. С этого воскового диска гальванопластическим способом снимали медную копию (клише): использовалось осаждение на электроде чистой меди при прохождении электрического тока через раствор её солей. Затем с медной копии делали оттиски на дисках из пластмассы. Так получали граммофонные пластинки.

При воспроизведении звука граммофонную пластинку ставят под иглу, связанную с мембраной граммофона, и приводят пластинку во вращение. Двигаясь по волнистой бороздке пластинки, конец иглы колеблется, вместе с ним колеблется и мембрана, причём эти колебания довольно точно воспроизводят записанный звук.

В 1898 году датский инженер Вольдемар Паульсен изобрёл аппарат для магнитной записи звука на стальной проволоке. Магнитные ленты появились значительно позже, их использование началось в 40-х годах XX века. На рисунке 3 представлен принцип работы записывающей магнитной головки магнитофона.

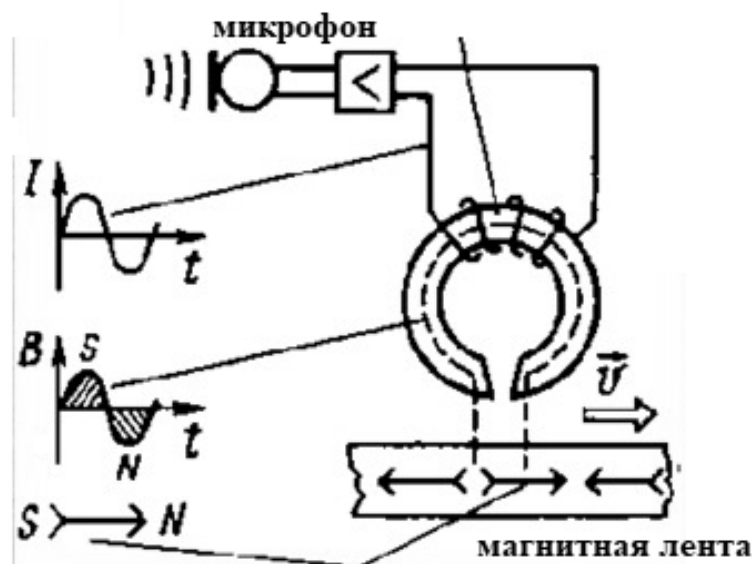


Рис. 3. В микрофоне звуковой сигнал переводится в электрический. Переменный электрический ток создаёт переменное магнитное поле, под действием которого намагничивается ферромагнитный материал, покрывающий движущуюся ленту.

Намагниченность ленты остаётся и после действия магнитного поля.

В 1979 году вернулась механическая запись звука, но уже на новом уровне – при записи лазерных дисков. Вместо иглы фонографа звуки на диске записывает луч лазера. Звуковая информация заключена в мельчайших углублениях (рис. 4), выгравированных при записи лазерным лучом на металлизированной поверхности диска. Этот диск во время вращения «читается» другим лазерным лучом, и различия в отражённом лазерном свете преобразуются в электрические сигналы, которые затем преобразуются в звук.




Рис. 4

Поверхность лазерного диска под микроскопом.

16 Какое свойство железа и стали лежит в основе магнитной записи звука (рис. 2)?

Ответ: _____

17 Какие колебания совершает мембрана рупора под действием звуковой волны?

Ответ: _____.

18 В исторически первом приборе Эдисона для записи и воспроизведения звука (см. рисунок) звуковая дорожка размещалась по цилиндрической спирали на сменном вращающемся барабане (полном цилиндре). Звук записывалась в форме дорожки, глубина которой была пропорциональна громкости звука.



Фонограф Эдисона

Как меняется вид звуковой дорожки при увеличении громкости звука при использовании дискового фонографа, рассмотренного в тексте? Ответ поясните.

Ответ: _____

ВСЕРОССИЙСКАЯ ПРОВЕРОЧНАЯ РАБОТА

ФИЗИКА

11 КЛАСС

Инструкция по выполнению работы

Проверочная работа включает в себя 18 заданий. На выполнение работы по физике отводится 1 час 30 минут (90 минут).

Оформляйте ответы в тексте работы в отведённых для этого местах согласно инструкциям к заданиям. В случае записи неверного ответа зачеркните его и запишите рядом новый.

При выполнении работы разрешается использовать калькулятор.

При выполнении заданий Вы можете использовать черновик. Записи в черновике проверяться и оцениваться не будут.

Советуем выполнять задания в том порядке, в котором они даны. Для экономии времени пропускайте задание, которое не удаётся выполнить сразу, и переходите к следующему. Если после выполнения всей работы у Вас останется время, Вы сможете вернуться к пропущенным заданиям.

Баллы, полученные Вами за выполненные задания, суммируются. Постарайтесь выполнить как можно больше заданий и набрать наибольшее количество баллов.

Желаем успеха!

Ниже приведены справочные данные, которые могут понадобиться Вам при выполнении работы.

Десятичные приставки

Наименование	Обозначение	Множитель	Наименование	Обозначение	Множитель
гига	Г	10^9	санти	с	10^{-2}
мега	М	10^6	милли	м	10^{-3}
кило	к	10^3	микро	мк	10^{-6}
гекто	г	10^2	нано	н	10^{-9}
деци	д	10^{-1}	пико	п	10^{-12}

Константы

ускорение свободного падения на Земле

$$g = 10 \text{ м/с}^2$$

гравитационная постоянная

$$G = 6,7 \cdot 10^{-11} \text{ Н} \cdot \text{м}^2/\text{кг}^2$$

универсальная газовая постоянная

$$R = 8,31 \text{ Дж}/(\text{моль} \cdot \text{К})$$

скорость света в вакууме

$$c = 3 \cdot 10^8 \text{ м/с}$$

коэффициент пропорциональности в законе Кулона

$$k = 9 \cdot 10^9 \text{ Н} \cdot \text{м}^2/\text{Кл}^2$$

модуль заряда электрона

$$e = 1,6 \cdot 10^{-19} \text{ Кл}$$

(элементарный электрический заряд)

$$h = 6,6 \cdot 10^{-34} \text{ Дж} \cdot \text{с}$$

постоянная Планка

1 Прочитайте перечень понятий, с которыми Вы встречались в курсе физики:

самоиндукция, ом, джоуль, электризация, фотоэффект, вебер

Разделите эти понятия на две группы по выбранному Вами признаку. Запишите в таблицу название каждой группы и понятия, входящие в эту группу.

Название группы понятий	Перечень понятий

2 Выберите **два** верных утверждения о физических явлениях, величинах и закономерностях. Запишите в ответ их номера.

- 1) Импульс тела – векторная величина, равная произведению массы тела на его скорость.
- 2) Внутренняя энергия постоянной массы идеального газа в изотермическом процессе всегда увеличивается.
- 3) Сила взаимодействия двух неподвижных точечных зарядов в вакууме прямо пропорциональна квадрату расстояния между ними.
- 4) В замкнутом проводящем контуре при изменении магнитного потока через ограниченную им площадку возникает индукционный ток.
- 5) Изотопами называются ядра разных элементов с одинаковым массовым числом.

Ответ:

--	--

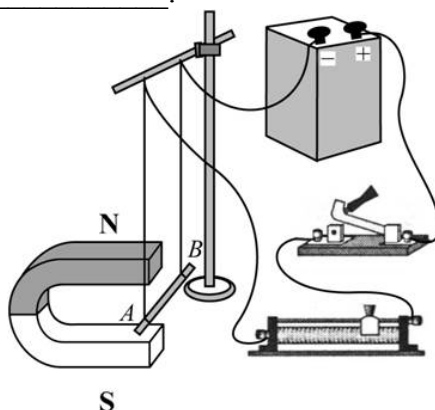
3 Для упрочнения поверхности металлических деталей проводят их цементацию: детали помещают в камеру с карбидом кальция (CaC_2) и выдерживают несколько часов при температуре около 900°C . При этом углерод проникает в поверхностный слой деталей. Какое явление используется при цементации стали?

Ответ: _____.

4

Прочитайте текст и вставьте на место пропусков слова (словосочетания) из приведённого списка.

Для того чтобы исследовать влияние магнитного поля на проводник с током, соберём следующую установку: прямой проводник с током поместим между полюсами дугообразного магнита (см. рисунок). В этом случае ток в проводнике протекает _____ магнитным линиям магнита. При замыкании цепи на проводник действует _____, и проводник будет втягиваться в область магнита. Для того чтобы действующая на проводник сила выталкивала проводник с током из области магнита, можно перевернуть дугообразный магнит или _____.



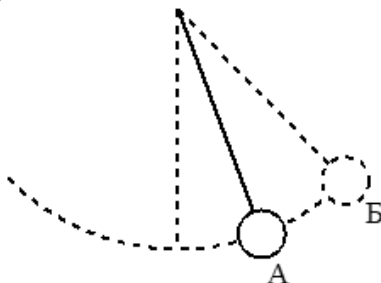
Рисунок

Список слов и словосочетаний

параллельно
перпендикулярно
выталкивающая сила
сила Кулона
сила Ампера
сместить ползунок реостата влево
поменять полярность подключения источника тока

5

Математический маятник совершает незатухающие гармонические колебания. Как меняется кинетическая, потенциальная и полная механическая энергия маятника при переходе из точки А в точку Б?



Для каждой величины определите характер изменения и поставьте в таблице знак «V» в нужной клетке таблицы.

Величина	Характер изменения величины		
	увеличилась	уменьшилась	не изменилась
Кинетическая энергия			
Потенциальная энергия			
Полная механическая энергия			

6

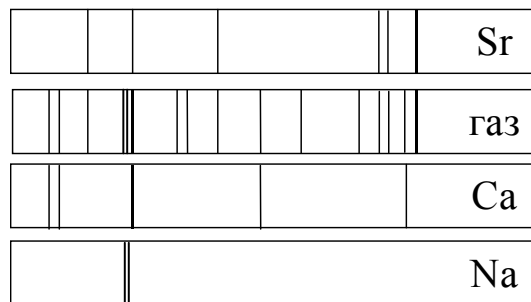
Связанная система элементарных частиц содержит 20 электронов, 26 нейтронов и 22 протона. Используя фрагмент Периодической системы элементов Д.И. Менделеева, определите ионом или нейтральным атомом какого элемента является эта система.

Li 3 6,939 Литий	Be 4 9,0122 Бериллий	5 10,811 B Бор	6 12,01115 C Углерод	7 14,0067 N Азот
Na 11 22,9898 Натрий	Mg 12 24,312 Магний	13 26,9815 Al Алюминий	14 28,086 Si Кремний	15 30,9738 P Фосфор
K 19 39,102 Калий	Ca 20 40,08 Кальций	21 44,956 Sc Скандий	22 47,90 Ti Титан	23 50,942 V Ванадий

Ответ: _____.

7

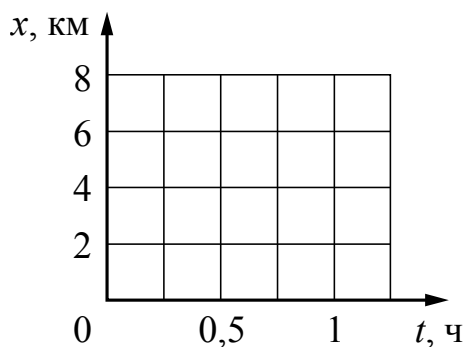
На рисунке приведён спектр поглощения неизвестного газа и спектры поглощения паров стронция, кальция и натрия. Содержит ли неизвестный газ эти вещества? Ответ поясните.



Ответ: _____

8

Пляж на озере и посёлок соединены прямолинейным участком дороги длиной 6 км. В тот момент, когда Аня на велосипеде отправилась из посёлка на озеро со скоростью 12 км/ч, ей навстречу пешком с пляжа в посёлок отправилась Света со скоростью 4 км/ч. Постройте графики зависимости координаты от времени для обеих девочек до момента их встречи. Начало координат связано с посёлком, направление оси x соответствует движению по направлению к озеру.



9

Электрическая линия для розеток в кухне оснащена автоматическим выключателем, который размыкает линию, если потребляемая включёнными приборами суммарная электрическая мощность превышает 5,5 кВт. Напряжение электрической сети 220 В.

В таблице представлены электрические приборы, используемые на кухне, и потребляемый ими электрический ток при напряжении 220 В.

<i>Электрические приборы</i>	<i>Потребляемый электрический ток, А (при напряжении сети 220 В)</i>
Духовка электрическая	10,5
Посудомоечная машина	8,2
Кофеварка	6,8
Микроволновая печь	8,2
Тостер-печь	5,0
Кондиционер	4,5
Холодильник	0,8
Электрический чайник	8,2
Блендер	1,4

На кухне работают посудомоечная машина, холодильник и кондиционер. Можно ли при этом дополнительно включить электрический чайник? Запишите решение и ответ.

Решение: _____

Ответ: _____

10

С помощью барометра проводились измерения атмосферного давления. Нижняя шкала барометра проградуирована в мм рт. ст., а верхняя шкала – в кПа (см. рисунок). Погрешность измерений давления равна цене деления шкалы барометра.



Запишите в ответ показания барометра в мм рт. ст. с учётом погрешности измерений.

Ответ: _____ мм рт. ст.

11

Ученик исследовал зависимость силы Архимеда от объёма погруженной в жидкость части тела. В таблице представлены результаты измерений объёма погруженной части тела и силы Архимеда с учётом погрешностей измерений.

№ опыта	Объём погруженной части тела, см ³	Сила Архимеда, мН
1	$1,05 \pm 0,05$	$12,50 \pm 0,25$
2	$2,10 \pm 0,05$	$25,50 \pm 0,25$
3	$3,00 \pm 0,05$	$38,00 \pm 0,25$

Какова приблизительно плотность жидкости, в которую опускали тело?

Ответ: _____ кг/м³.

12

- В ответе:

1. Опишите экспериментальную установку.
2. Опишите порядок действий при проведении исследования.

Ответ:

13

К каждой позиции первого столбца подберите соответствующую позицию из второго столбца.

ФИЗИЧЕСКИЕ ЯВЛЕНИЯ

- 1) взаимодействие постоянных магнитов
- 2) действие магнитного поля на проводник с током
- 3) действие магнитного поля на движущуюся заряженную частицу
- 4) взаимодействие электромагнита и железных или стальных предметов

Запишите в таблицу выбранные цифры под соответствующими буквами.

Ответ:

А	Б

Прочитайте фрагмент инструкции к микроволновой печи и выполните задания 14 и 15.


СВЧ-излучение фактически проникает в пищу, поглощаясь содержащимся в пище водой, жиром и сахаром. Электромагнитные волны заставляют молекулы пищи быстро колебаться. Быстрые колебания этих молекул и есть, по сути, то «тепло», которое готовит пищу.

Рекомендуемая посуда

Используйте жаропрочную посуду из стекла, стеклокерамики, фарфора, керамики или термостойкой пластмассы. Эти материалы пропускают микроволны.

**⚠ Предупреждение
Опасность ошпаривания!**

При нагревании жидкости возможна задержка закипания. В этом случае температура закипания достигается без образования в жидкости характерных пузырьков.



14

Можно ли разогревать в микроволновой печи картофель в керамической кастрюле, закрытой стеклянной крышкой? Ответ поясните.



Ответ: _____

15

Почему в инструкции рекомендуется помещать в нагреваемую жидкость пластмассовую ложку?



Ответ: _____

Прочитайте текст и выполните задания 16–18.**Космические обсерватории**

С поверхности Земли человек издавна наблюдает космические объекты в видимой части спектра электромагнитного излучения (диапазон видимого света включает волны с длиной примерно от 380 нм до 760 нм).

При этом большой объём информации о небесных телах не доходит до поверхности Земли, т.к. большая часть инфракрасного и ультрафиолетового диапазона, а также рентгеновские и гамма-лучи космического происхождения недоступны для наблюдений с поверхности нашей планеты. Для изучения космических объектов в этих лучах необходимо вывести телескопы за пределы атмосферы. Результаты, полученные в космических обсерваториях, перевернули представление человека о Вселенной. Общее количество космических обсерваторий превышает уже несколько десятков.

Так, с помощью наблюдений в инфракрасном (ИК) диапазоне были открыты тысячи галактик с мощным инфракрасным излучением, в том числе такие, которые излучают в ИК-диапазоне больше энергии, чем во всех остальных частях спектра. Активно изучаются инфракрасные источники в газопылевых облаках. Интерес к газопылевым облакам связан с тем, что, согласно современным представлениям, в них рождаются и вспыхивают звёзды.

Ультрафиолетовый спектр разделяют на ультрафиолет-А (УФ-А) с длиной волны 315–400 нм, ультрафиолет-В (УФ-В) – 280–315 нм и ультрафиолет-С (УФ-С) – 100–280 нм. Практически весь УФ-С и приблизительно 90% УФ-В поглощаются озоновым слоем при прохождении лучей через земную атмосферу. УФ-А не задерживается озоновым слоем.

С помощью ультрафиолетовых обсерваторий изучались самые разные объекты: от комет и планет до удалённых галактик. В УФ-диапазоне исследуются звёзды, в том числе, с необычным химическим составом.

Гамма-лучи доносят до нас информацию о мощных космических процессах, связанных с экстремальными физическими условиями, в том числе и ядерных реакциях внутри звёзд. Детекторы рентгеновского излучения относительно легки в изготовлении и имеют небольшую массу. Рентгеновские телескопы устанавливались на многих орбитальных станциях и межпланетных космических кораблях. Оказалось, что рентгеновское излучение во Вселенной явление такое же обычное, как и излучение оптического диапазона. Большое внимание уделяется изучению рентгеновского излучения нейтронных звёзд и чёрных дыр, активных ядер галактик, горячего газа в скоплении галактик.

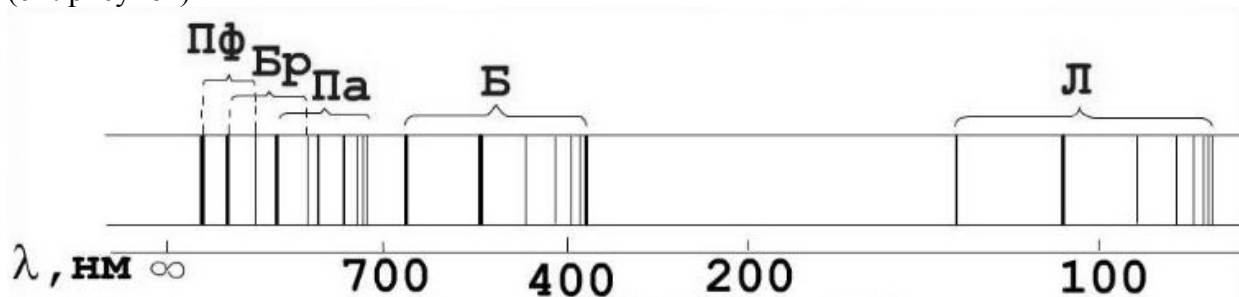
16

Какую часть ультрафиолетового спектра можно использовать для наземных обсерваторий?

Ответ: _____.

17

В спектре излучения (поглощения) атомарного водорода выделяют несколько серий спектральных линий: серия Лаймана, Бальмера, Пашена, Брэкетта, Пфунда и др. (см. рисунок)



К какой части спектра электромагнитного излучения принадлежит серия Лаймана (Л)?

Ответ: _____.

18

При работе космической обсерватории возможно нагревание работающих приборов. При работе какой из рассмотренных в тексте обсерваторий этот факт может исказить результаты исследований? Ответ поясните.

Ответ: _____

ВСЕРОССИЙСКАЯ ПРОВЕРОЧНАЯ РАБОТА

ФИЗИКА

11 КЛАСС

Инструкция по выполнению работы

Проверочная работа включает в себя 18 заданий. На выполнение работы по физике отводится 1 час 30 минут (90 минут).

Оформляйте ответы в тексте работы в отведённых для этого местах согласно инструкциям к заданиям. В случае записи неверного ответа зачеркните его и запишите рядом новый.

При выполнении работы разрешается использовать калькулятор.

При выполнении заданий Вы можете использовать черновик. Записи в черновике проверяться и оцениваться не будут.

Советуем выполнять задания в том порядке, в котором они даны. Для экономии времени пропускайте задание, которое не удаётся выполнить сразу, и переходите к следующему. Если после выполнения всей работы у Вас останется время, Вы сможете вернуться к пропущенным заданиям.

Баллы, полученные Вами за выполненные задания, суммируются. Постарайтесь выполнить как можно больше заданий и набрать наибольшее количество баллов.

Желаем успеха!

Ниже приведены справочные данные, которые могут понадобиться Вам при выполнении работы.

Десятичные приставки

Наименование	Обозначение	Множитель	Наименование	Обозначение	Множитель
гига	Г	10^9	санتي	с	10^{-2}
мега	М	10^6	милли	м	10^{-3}
кило	к	10^3	микро	мк	10^{-6}
гекто	г	10^2	нано	н	10^{-9}
деци	д	10^{-1}	пико	п	10^{-12}

Константы

ускорение свободного падения на Земле

$$g = 10 \text{ м/с}^2$$

гравитационная постоянная

$$G = 6,7 \cdot 10^{-11} \text{ Н} \cdot \text{м}^2/\text{кг}^2$$

универсальная газовая постоянная

$$R = 8,31 \text{ Дж}/(\text{моль} \cdot \text{К})$$

скорость света в вакууме

$$c = 3 \cdot 10^8 \text{ м/с}$$

коэффициент пропорциональности в законе Кулона

$$k = 9 \cdot 10^9 \text{ Н} \cdot \text{м}^2/\text{Кл}^2$$

модуль заряда электрона

$$e = 1,6 \cdot 10^{-19} \text{ Кл}$$

(элементарный электрический заряд)

$$h = 6,6 \cdot 10^{-34} \text{ Дж} \cdot \text{с}$$

постоянная Планка

1 Прочитайте перечень понятий, с которыми Вы встречались в курсе физики:

относительная влажность воздуха, барометр-анероид, гигрометр, внутренняя энергия, фаза колебаний, мензурка

Разделите эти понятия на две группы по выбранному Вами признаку. Запишите в таблицу название каждой группы и понятия, входящие в эту группу.

Название группы понятий	Перечень понятий

2 Выберите **два** верных утверждения о физических явлениях, величинах и закономерностях. Запишите в ответ их номера.

- 1) Сила трения скольжения увеличивается с увеличением площади соприкосновения тела с поверхностью.
- 2) Процесс кристаллизации веществ проходит с поглощением большого количества теплоты.
- 3) Силой Лоренца называют силу, с которой магнитное поле действует на неподвижные заряженные частицы.
- 4) В электрически изолированной системе тел алгебраическая сумма электрических зарядов тел сохраняется.
- 5) Изотопы одного и того же элемента содержат одинаковое число протонов, но разное число нейтронов.

Ответ:

--	--


3 Отрицательно заряженную эбонитовую палочку подносят к лежащим на деревянном столе мелким листочкам бумаги (см. рисунок). Листочки начинают притягиваться к палочке. Какое явление является причиной притяжения листочков бумаги к палочке?



Ответ: _____.

4

Прочитайте текст и вставьте на место пропусков слова из приведённого списка.
 Для проведения опытов по изучению плавания тел Кирилл использовал стакан с пресной водой, поваренную соль и сырое яйцо. На рисунке представлено поведение яйца в зависимости от _____ соляного раствора в стакане. В стакане 3 плотность раствора была _____. При увеличении плотности раствора сила тяжести, действующая на яйцо, _____, а выталкивающая сила _____.



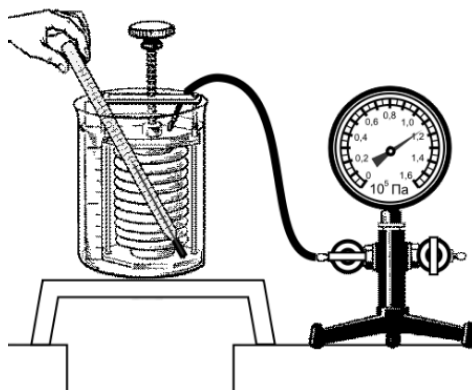
Рисунок

Список слов

максимальной
 минимальной
 концентрации
 массы
 увеличивается
 уменьшается
 не изменяется

5

Гофрированный цилиндр, в котором под закреплённым поршнем находится воздух, начинают охлаждать, поместив в сосуд с холодной водой (см. рисунок). Как будет изменяться концентрация молекул воздуха, а также внутренняя энергия и давление воздуха в цилиндре по мере охлаждения?



Для каждой величины определите характер изменения и поставьте в таблице знак «V» в нужной клетке таблицы.

Величина	Характер изменения величины		
	увеличивается	уменьшается	не изменяется
Концентрация молекул			
Внутренняя энергия			
Давление воздуха			

6

Связанная система элементарных частиц содержит 4 электрона, 4 нейтрона и 3 протона. Используя фрагмент Периодической системы элементов Д.И. Менделеева, определите ионом или нейтральным атомом какого элемента является эта система.

Li 3 6,939 Литий	Be 4 9,0122 Бериллий	5 10,811 B Бор	6 12,01115 C Углерод	7 14,0067 N Азот
Na 11 22,9898 Натрий	Mg 12 24,312 Магний	13 26,9815 Al Алюминий	14 28,086 Si Кремний	15 30,9738 P Фосфор
K 19 39,102 Калий	Ca 20 40,08 Кальций	21 44,956 Sc Скандий	22 47,90 Ti Титан	23 50,942 V Ванадий

Ответ: _____.

7

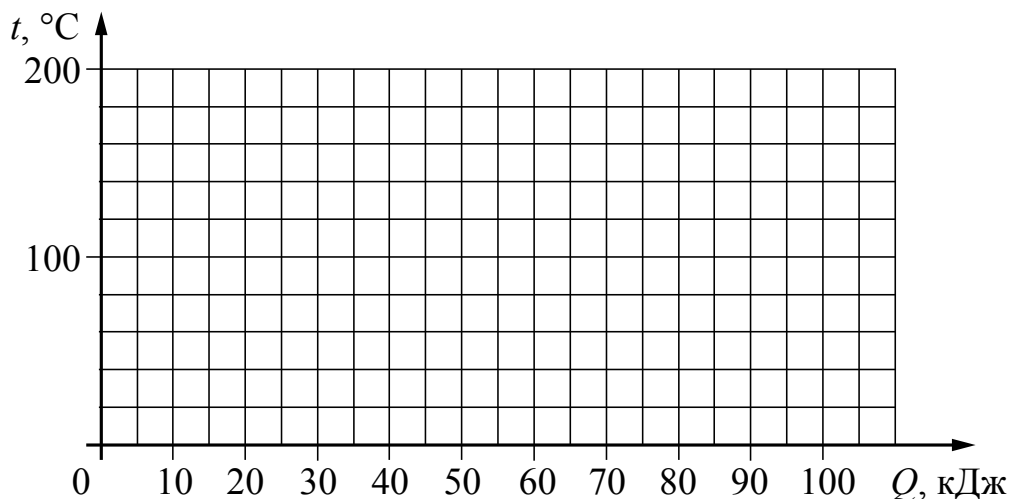
На рисунке приведены спектр поглощения неизвестного газа и спектры поглощения паров стронция, кальция и натрия. Содержит ли неизвестный газ эти вещества? Ответ поясните.

									Sr
									газ
									Ca
									Na

Ответ: _____

8

Куски стали и меди, каждый из которых имеет массу в 1 кг, равномерно нагревают в печи от $20\text{ }^{\circ}\text{C}$ до $200\text{ }^{\circ}\text{C}$. Постройте графики зависимости температуры куска стали и температуры куска меди от полученного количества теплоты. Известно, что для нагревания 1 кг стали на $1\text{ }^{\circ}\text{C}$ необходима энергия в 0,5 кДж, а для нагревания 1 кг меди на $1\text{ }^{\circ}\text{C}$ необходима энергия в 0,4 кДж.



9

Электрическая линия для розеток в кухне оснащена автоматическим выключателем, который размыкает линию, если сила тока в ней превышает 25 А. Напряжение электрической сети 220 В.

В таблице представлены электрические приборы, используемые на кухне, и потребляемая ими мощность.

<i>Электрические приборы</i>	<i>Потребляемая мощность, Вт</i>
Духовка электрическая	2300
Посудомоечная машина	1800
Кофеварка	1500
Микроволновая печь	1800
Тостер-печь	1100
Кондиционер	1000
Холодильник	180
Электрический чайник	1800
Блендер	300

На кухне работают посудомоечная машина, холодильник и электрическая духовка. Можно ли при этом дополнительно включить электрический чайник? Запишите решение и ответ.

Решение: _____

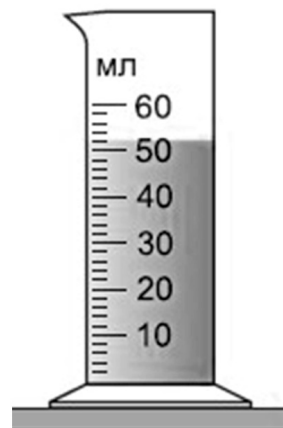
Ответ: _____

10

С помощью мензурки измеряли объём жидкости. Погрешность измерений объёма равна цене деления шкалы мензурки (см. рисунок).

Запишите в ответ объём жидкости в мензурке с учётом погрешности измерений.

Ответ: _____ мл.



11

Ученик исследовал зависимость силы трения от веса тела, перемещая его равномерно и прямолинейно по горизонтальной поверхности. В таблице представлены результаты измерений веса тела и силы трения с учётом погрешностей измерений.

№ опыта	Вес тела, Н	Сила трения, Н
1	$1,05 \pm 0,05$	$0,30 \pm 0,05$
2	$1,95 \pm 0,05$	$0,65 \pm 0,05$
3	$3,00 \pm 0,05$	$0,95 \pm 0,05$

Каков приблизительно коэффициент трения скольжения тела по поверхности, на которой проводился эксперимент?

Ответ: _____.

13

Установите соответствие между техническими устройствами и физическими явлениями, лежащими в основе принципа их действия.

К каждой позиции первого столбца подберите соответствующую позицию из второго столбца.

ТЕХНИЧЕСКИЕ УСТРОЙСТВА

- А) циклический ускоритель
заряженных частиц
(циклотрон)
Б) электромагнитное реле

ФИЗИЧЕСКИЕ ЯВЛЕНИЯ

- 1) взаимодействие постоянных магнитов
2) действие электрического поля на
неподвижную заряженную частицу
3) действие магнитного поля на движущуюся
заряженную частицу
4) взаимодействие электромагнита и железных
или стальных предметов

Запишите в таблицу выбранные цифры под соответствующими буквами.

Ответ:

А	Б

Прочитайте фрагмент инструкции к электрическому обогревателю и выполните задания 14 и 15.

- Во избежание ожогов не касайтесь нагреваемых частей обогревателя. При перемещении обогревателя беритесь только за специально предназначенную для этого ручку. Предметы из легко воспламеняющихся материалов (мебель, постельные принадлежности, бумага, одежда, занавески и т.п.) должны находиться на расстоянии не менее 0,3 м от включенного устройства, и не менее 0,9 м от его лицевой части.
- Не устанавливайте обогреватель в ванной, в душе или в плавательном бассейне.

ВНИМАНИЕ!

ВО ИЗБЕЖАНИЕ ПЕРЕГРЕВА НЕ НАКРЫВАЙТЕ УСТРОЙСТВО НИКАКИМИ ПРЕДМЕТАМИ.

14

В инструкции не рекомендуется устанавливать обогреватель в ванной. Объясните, почему?

Ответ: _____

15

Почему в инструкции запрещается накрывать обогреватель какими-либо (даже негорючими) предметами?

Ответ: _____

Прочитайте текст и выполните задания 16–18.

Цветовое зрение

Любой объект излучает электромагнитные волны в очень широком диапазоне частот. При этом интенсивность излучения напрямую зависит от температуры объекта (рис. 1).

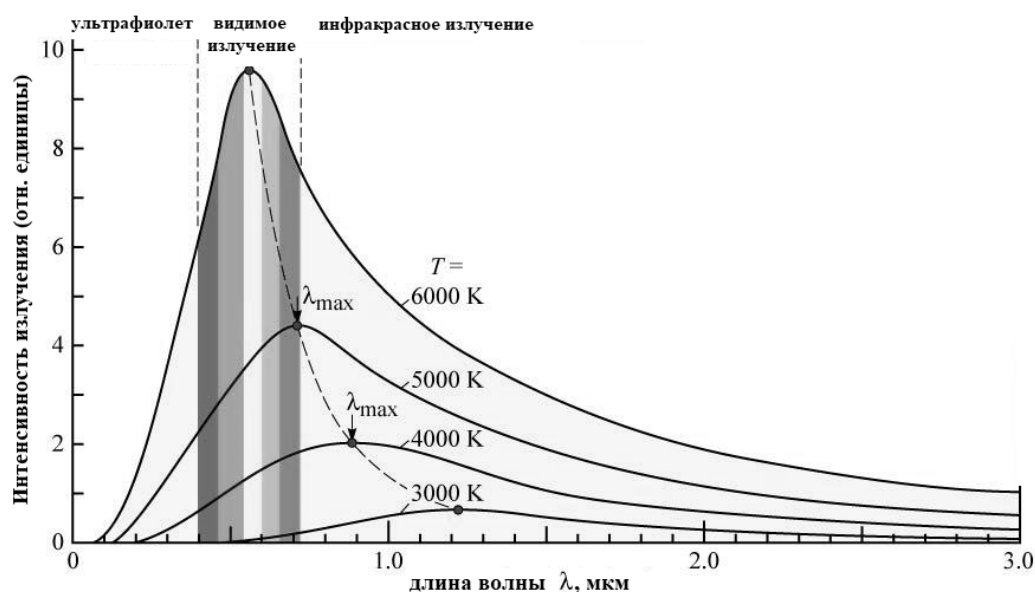


Рис. 1. Интенсивность излучения абсолютно чёрного тела. (Абсолютно чёрное тело обладает свойством поглощать всю падающую на его поверхность лучистую энергию любого спектрального состава.)

Максимум излучения Солнца, поверхность которого имеет температуру около 6000 К, приходится на диапазон длин волн, которые в процессе эволюции определили цветовое зрение человека.

Среди органов чувств глаз занимает особое место. На долю зрения приходится до 80% информации, воспринимаемой организмом извне. Человек с помощью зрения воспринимает размеры предметов, их форму, расположение в пространстве, движение, а, главное, цвет.

Приемниками светового излучения человека служат колбочки (фоторецепторы трёх типов) и палочки (фоторецепторы одного типа).

Колбочки, в зависимости от их спектральной чувствительности, подразделяются на три типа и обозначаются греческими буквами ρ , γ и β . Максимумы спектральной чувствительности этих типов колбочек находятся в трёх разных спектральных участках: красном, зелёном и синем (рис. 2).

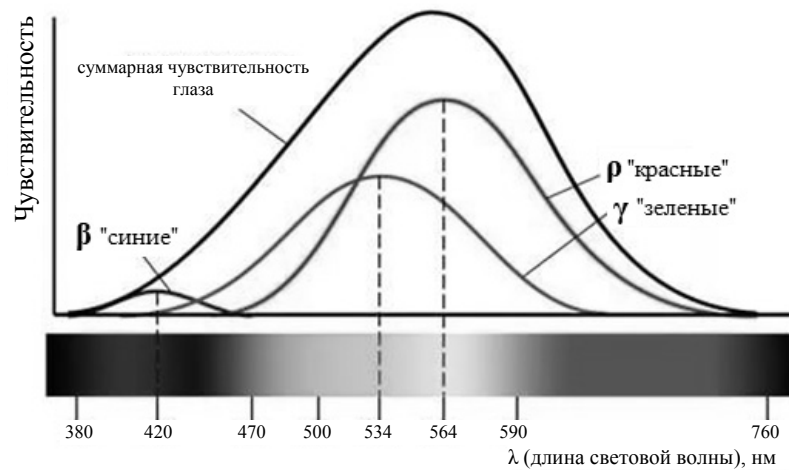


Рис. 2.

Спектры поглощения показывают вероятность поглощения фотона для данной длины волны. Спектры поглощения перекрываются, а это означает, что зрительная система в состоянии различить частоту волны, сравнивая количества поглощения энергии разных видов колбочек.

Палочки, расположенные по периферии сетчатки, играют основную роль в создании ахроматических зрительных образов. Палочки обладают высокой чувствительностью к свету, воспринимают волны с малой амплитудой, но не умеют различать их длину, то есть результат восприятия волн разной длины у всех палочек одинаков.

16

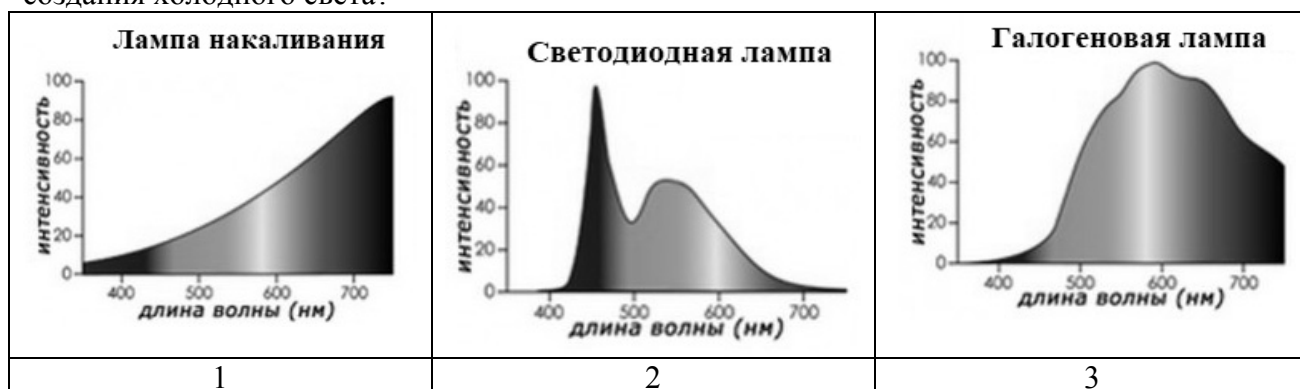
Какой вид колбочек воспринимает видимый свет с длиной волны 400 нм?

Ответ: _____.

17

Искусственные источники света характеризуются так называемой цветовой температурой, которая указывает, в каком диапазоне длин волн источник испускает свет. Холодный свет ощущается при взгляде на предметы на фоне чистого голубого неба. Он подходит лучше всего там, где необходима высокая, но недолгая концентрация внимания, то есть в операционных, смотровых кабинетах, на рабочих местах для сборки точной механики или электроники, рекламных стендах, в ванных комнатах.

Какую(-ие) из ламп, спектры которых представлены на рисунке, можно использовать для создания холодного света?



Ответ: _____.

18

Почему ночью все окружающие объекты выглядят серыми, только светлее или темнее?

Ответ: _____

ВСЕРОССИЙСКАЯ ПРОВЕРОЧНАЯ РАБОТА**ФИЗИКА****11 КЛАСС****Инструкция по выполнению работы**

Проверочная работа включает в себя 18 заданий. На выполнение работы по физике отводится 1 час 30 минут (90 минут).

Оформляйте ответы в тексте работы в отведённых для этого местах согласно инструкциям к заданиям. В случае записи неверного ответа зачеркните его и запишите рядом новый.

При выполнении работы разрешается использовать калькулятор.

При выполнении заданий Вы можете использовать черновик. Записи в черновике проверяться и оцениваться не будут.

Советуем выполнять задания в том порядке, в котором они даны. Для экономии времени пропускайте задание, которое не удаётся выполнить сразу, и переходите к следующему. Если после выполнения всей работы у Вас останется время, Вы сможете вернуться к пропущенным заданиям.

Баллы, полученные Вами за выполненные задания, суммируются. Постарайтесь выполнить как можно больше заданий и набрать наибольшее количество баллов.

Желаем успеха!

Ниже приведены справочные данные, которые могут понадобиться Вам при выполнении работы.

Десятичные приставки

Наименование	Обозначение	Множитель	Наименование	Обозначение	Множитель
гига	Г	10^9	санتي	с	10^{-2}
мега	М	10^6	милли	м	10^{-3}
кило	к	10^3	микро	мк	10^{-6}
гекто	г	10^2	нано	н	10^{-9}
деци	д	10^{-1}	пико	п	10^{-12}

Константы

ускорение свободного падения на Земле

$$g = 10 \text{ м/с}^2$$

гравитационная постоянная

$$G = 6,7 \cdot 10^{-11} \text{ Н} \cdot \text{м}^2/\text{кг}^2$$

универсальная газовая постоянная

$$R = 8,31 \text{ Дж}/(\text{моль} \cdot \text{К})$$

скорость света в вакууме

$$c = 3 \cdot 10^8 \text{ м/с}$$

коэффициент пропорциональности в законе Кулона

$$k = 9 \cdot 10^9 \text{ Н} \cdot \text{м}^2/\text{Кл}^2$$

модуль заряда электрона

$$e = 1,6 \cdot 10^{-19} \text{ Кл}$$

(элементарный электрический заряд)

$$h = 6,6 \cdot 10^{-34} \text{ Дж} \cdot \text{с}$$

постоянная Планка

1 Прочитайте перечень понятий, с которыми Вы встречались в курсе физики:

электризация, интерференция, психрометр, вольтметр, диффузия, линейка

Разделите эти понятия на две группы по выбранному Вами признаку. Запишите в таблицу название каждой группы и понятия, входящие в эту группу.

Название группы понятий	Перечень понятий

2 Выберите **два** верных утверждения о физических явлениях, величинах и закономерностях. Запишите в ответ их номера.


- 1) Для того чтобы тело стало спутником Земли вблизи её поверхности, ему необходимо сообщить первую космическую скорость.
- 2) Если газ находится в замкнутом сосуде постоянного объёма, то при его нагревании давление газа уменьшается.
- 3) Электромагнитные волны ультрафиолетового диапазона имеют бóльшую длину волны, чем инфракрасное излучение.
- 4) Во всех проводящих средах электрический ток представляет собой упорядоченное движение свободных носителей заряда, происходящее на фоне их хаотического теплового движения.
- 5) В процессе бета-распада происходит вылет из ядра тяжёлой частицы, состоящей из двух протонов и двух нейтронов.

Ответ:

--	--

3 При проведении опыта, изображённого на рисунке, верхнюю катушку подсоединили к источнику постоянного тока. К нижней катушке присоединили амперметр. При размыкании ключа амперметр фиксирует возникновение электрического тока в нижней катушке.

Какое физическое явление наблюдалось в этом опыте?



Ответ: _____.

4

Прочитайте текст и вставьте на место пропусков слова (словосочетания) из приведённого списка.

Возьмём растительное масло, сок, подкрашенный спирт и высокий стакан. Сначала нальём в стакан сок, затем аккуратно по лезвию ножа добавим растительное масло. И в последнюю очередь, опять же по лезвию ножа, добавим сверху спирт. В результате получим три слоя разных жидкостей в одном стакане. Этот опыт оказался возможным, потому что масло _____ с соком и спиртом. Жидкости _____, и слои жидкостей распределены в соответствии с _____.



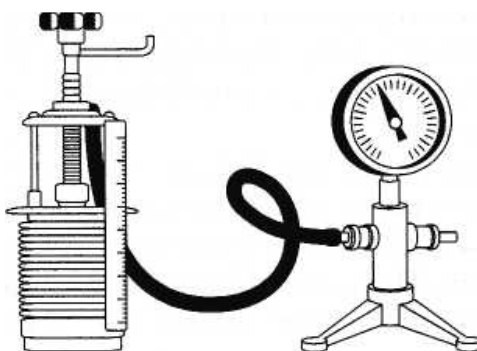
Рисунок

Список слов и словосочетаний

не взаимодействует
не смешивается
имеют одинаковый объём
имеют одинаковую массу
имеют разную плотность
условием плавания тел
законом Гука

5

Гофрированный цилиндр, в котором под подвижным поршнем находится воздух, начинают очень медленно сжимать (см. рисунок). Как будет изменяться концентрация молекул воздуха, а также внутренняя энергия и давление воздуха в цилиндре по мере сжатия?



Для каждой величины определите характер изменения и поставьте в таблице знак «У» в нужной клетке таблицы.

Величина	Характер изменения величины		
	увеличивается	уменьшается	не изменяется
Концентрация молекул			
Внутренняя энергия			
Давление			

6

Связанная система элементарных частиц содержит 19 электронов, 20 нейтронов и 19 протонов. Используя фрагмент Периодической системы элементов Д.И. Менделеева, определите ионом или нейтральным атомом какого элемента является эта система.

Li 3 6,939 Литий	Be 4 9,0122 Бериллий	5 10,811 B Бор	6 12,01115 C Углерод	7 14,0067 N Азот
Na 11 22,9898 Натрий	Mg 12 24,312 Магний	13 26,9815 Al Алюминий	14 28,086 Si Кремний	15 30,9738 P Фосфор
K 19 39,102 Калий	Ca 20 40,08 Кальций	21 44,956 Sc Скандий	22 47,90 Ti Титан	23 50,942 V Ванадий

Ответ: _____.

7

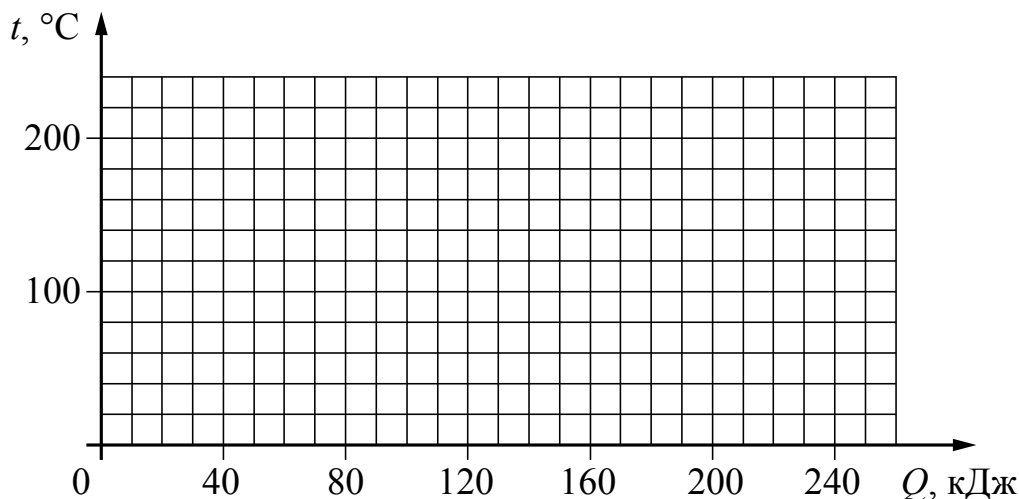
На рисунке приведены спектр поглощения неизвестного газа и спектры поглощения атомарных паров магний и азота. Содержит ли неизвестный газ магний и азот? Ответ поясните.

									Mg
									N
									газ

Ответ: _____

8

Куски стали и меди, каждый из которых имеет массу в 2 кг, равномерно нагревают в печи от 20°C до 220°C . Постройте графики зависимости температуры куса стали и температуры куса меди от полученного количества теплоты. Известно, что для нагревания 2 кг стали на 1°C необходима энергия в 1 кДж, а для нагревания 2 кг меди на 1°C необходима энергия в 0,8 кДж.



9

Электрическая линия для розеток в кухне оснащена автоматическим выключателем, который размыкает линию, если потребляемая включёнными приборами суммарная электрическая мощность превышает 5,5 кВт. Напряжение электрической сети 220 В.

В таблице представлены электрические приборы, используемые на кухне, и потребляемый ими электрический ток при напряжении 220 В.

<i>Электрические приборы</i>	<i>Потребляемый электрический ток, А (при напряжении сети 220 В)</i>
Духовка электрическая	10,5
Посудомоечная машина	8,2
Кофеварка	6,8
Микроволновая печь	8,2
Тостер-печь	5,0
Кондиционер	4,5
Холодильник	0,8
Электрический чайник	8,2
Блендер	1,4


На кухне работают посудомоечная машина, холодильник и электрическая духовка. Можно ли при этом дополнительно включить электрический чайник? Запишите решение и ответ.

Решение: _____

Ответ: _____

10

С помощью мензурки измеряли объём жидкости. Погрешность измерений объёма равна половине цены деления шкалы мензурки (см. рисунок).



Запишите в ответ объём жидкости в мензурке с учётом погрешности измерений.

Ответ: _____ мл.

11

Ученик исследовал зависимость силы трения от массы тела, перемещая его равномерно и прямолинейно по горизонтальной поверхности. В таблице представлены результаты измерений массы тела и силы трения с учётом погрешностей измерений.

№ опыта	Масса тела, г	Сила трения, Н
1	100 ± 5	$0,20 \pm 0,05$
2	195 ± 5	$0,35 \pm 0,05$
3	305 ± 5	$0,55 \pm 0,05$

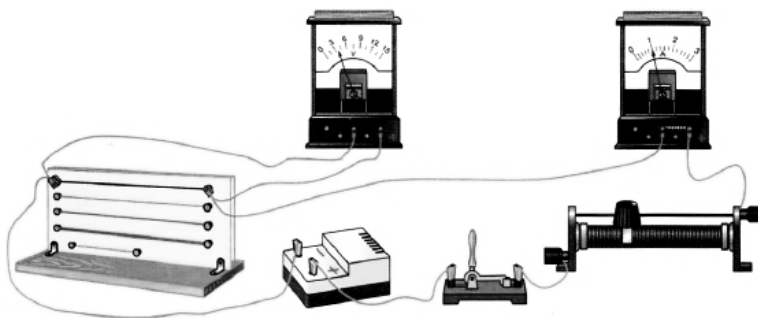
Каков приблизительно коэффициент трения скольжения тела по поверхности, на которой проводился эксперимент?

Ответ: _____.

12

Вам необходимо исследовать, зависит ли электрическое сопротивление проводника от площади его поперечного сечения. Имеется следующее оборудование (см. рисунок):

- источник тока;
- вольтметр;
- амперметр;
- реостат;
- ключ;
- соединительные провода;
- набор из шести проводников, изготовленных из разных проволок, характеристики которых приведены в таблице.



Таблица

Номер проводника	Длина проводника	Площадь поперечного сечения проводника	Материал, из которого изготовлен проводник
1	120 см	0,5 мм ²	нихром
2	100 см	1,0 мм ²	медь
3	100 см	0,5 мм ²	медь
4	50 см	0,5 мм ²	алюминий
5	100 см	1,5 мм ²	медь
6	50 см	0,5 мм ²	нихром

В ответе:

1. Зарисуйте схему электрической цепи. Укажите номера используемых проводников (см. таблицу).
2. Опишите порядок действий при проведении исследования.



Ответ: _____

13

Установите соответствие между техническими устройствами и физическими явлениями, лежащими в основе принципа их действия.

К каждой позиции первого столбца подберите соответствующую позицию из второго столбца.

ТЕХНИЧЕСКИЕ УСТРОЙСТВА

- А) электрический звонок
Б) электрический фильтр для очистки газов от примеси частиц (пыли)

ФИЗИЧЕСКИЕ ЯВЛЕНИЯ

- 1) поляризация диэлектрика в электростатическом поле
2) действие магнитного поля на проводник с током
3) действие магнитного поля на движущуюся заряженную частицу
4) взаимодействие электромагнита и железных или стальных предметов

Запишите в таблицу выбранные цифры под соответствующими буквами.

Ответ:

А	Б

Прочитайте фрагмент инструкции к электрической дрели и выполните задания 14 и 15.

Личная безопасность

- Используйте защитные очки. При высокой запыленности пользуйтесь специальной маской-фильтром.
- Носите подходящую спецодежду. Не рекомендуется носить свободную одежду и украшения, которые могут зацепиться за вращающиеся части инструмента. При работе на открытом воздухе рекомендуется надевать защитные перчатки и нескользящую обувь. Если у вас длинные волосы, их следует прикрыть.
- Будьте внимательны. Следите за тем, что вы делаете. Руководствуйтесь здравым смыслом. Не работайте с инструментом, если вы устали.
- Учитывайте влияние окружающей среды. Не подвергайте инструмент воздействию влаги. Не пользуйтесь инструментом при высокой влажности окружающей среды. Позаботьтесь о хорошей освещенности рабочего места.
- Следите, чтобы питающий кабель находился вне зоны действия инструмента
- Не пользуйтесь электроинструментами вблизи легковоспламеняющихся жидкостей, а также в газообразной, взрывоопасной среде.

14

В инструкции рекомендуется не пользоваться инструментом при высокой влажности. Объясните, почему.

Ответ:

15

Почему в инструкции запрещается пользоваться электродрелью вблизи легковоспламеняющихся жидкостей?

Ответ: _____

Прочитайте текст и выполните задания 16–18.

Космические обсерватории

С поверхности Земли человек издавна наблюдает космические объекты в видимой части спектра электромагнитного излучения (диапазон видимого света включает волны с длиной примерно от 380 нм до 760 нм).

При этом большой объём информации о небесных телах не доходит до поверхности Земли, т.к. большая часть инфракрасного и ультрафиолетового диапазона, а также рентгеновские и гамма-лучи космического происхождения недоступны для наблюдений с поверхности нашей планеты. Для изучения космических объектов в этих лучах необходимо вывести телескопы за пределы атмосферы. Результаты, полученные в космических обсерваториях, перевернули представление человека о Вселенной. Общее количество космических обсерваторий превышает уже несколько десятков.

Так, с помощью наблюдений в инфракрасном (ИК) диапазоне были открыты тысячи галактик с мощным инфракрасным излучением, в том числе такие, которые излучают в ИК-диапазоне больше энергии, чем во всех остальных частях спектра. Активно изучаются инфракрасные источники в газопылевых облаках. Интерес к газопылевым облакам связан с тем, что, согласно современным представлениям, в них рождаются и вспыхивают звёзды.

Ультрафиолетовый спектр разделяют на ультрафиолет-А (УФ-А) с длиной волны 315–400 нм, ультрафиолет-В (УФ-В) – 280–315 нм и ультрафиолет-С (УФ-С) – 100–280 нм. Практически весь УФ-С и приблизительно 90% УФ-В поглощаются озоновым слоем при прохождении лучей через земную атмосферу. УФ-А не задерживается озоновым слоем.

С помощью ультрафиолетовых обсерваторий изучались самые разные объекты: от комет и планет до удалённых галактик. В УФ-диапазоне исследуются звёзды, в том числе, с необычным химическим составом.

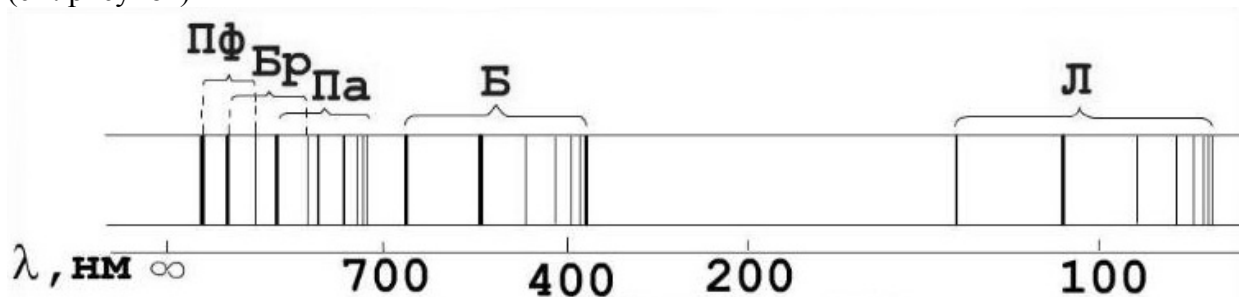
Гамма-лучи доносят до нас информацию о мощных космических процессах, связанных с экстремальными физическими условиями, в том числе и ядерных реакциях внутри звёзд. Детекторы рентгеновского излучения относительно легки в изготовлении и имеют небольшую массу. Рентгеновские телескопы устанавливались на многих орбитальных станциях и межпланетных космических кораблях. Оказалось, что рентгеновское излучение во Вселенной явление такое же обычное, как и излучение оптического диапазона. Большое внимание уделяется изучению рентгеновского излучения нейтронных звёзд и чёрных дыр, активных ядер галактик, горячего газа в скоплениях галактик.

16

С помощью какой части спектра электромагнитного излучения можно получить информацию о превращениях ядер элементов, происходящих внутри звёзд?

Ответ: _____

- 17 В спектре излучения (поглощения) атомарного водорода выделяют несколько серий спектральных линий: серия Лаймана, Бальмера, Пашена, Брэкетта, Пфунда и др. (см. рисунок)



К какой части спектра электромагнитного излучения принадлежит серия Брэкетта (Бр)?

Ответ: _____.

- 18 Интерес астрономов к УФ-излучению обусловлен в большой степени тем, что именно в этом диапазоне излучает самая распространённая молекула во Вселенной – молекула водорода – и находится самая яркая линия атомарного водорода, соответствующая длине волны 1216 ангстрем (1 ангстрем = 10^{-10} м). Можно ли наблюдать эту спектральную линию с помощью телескопа, установленного на поверхности Земли? Ответ обоснуйте.

Ответ: _____

ВСЕРОССИЙСКАЯ ПРОВЕРОЧНАЯ РАБОТА**ФИЗИКА****11 КЛАСС****Инструкция по выполнению работы**

Проверочная работа включает в себя 18 заданий. На выполнение работы по физике отводится 1 час 30 минут (90 минут).

Оформляйте ответы в тексте работы в отведённых для этого местах согласно инструкциям к заданиям. В случае записи неверного ответа зачеркните его и запишите рядом новый.

При выполнении работы разрешается использовать калькулятор.

При выполнении заданий Вы можете использовать черновик. Записи в черновике проверяться и оцениваться не будут.

Советуем выполнять задания в том порядке, в котором они даны. Для экономии времени пропускайте задание, которое не удаётся выполнить сразу, и переходите к следующему. Если после выполнения всей работы у Вас останется время, Вы сможете вернуться к пропущенным заданиям.

Баллы, полученные Вами за выполненные задания, суммируются. Постарайтесь выполнить как можно больше заданий и набрать наибольшее количество баллов.

Желаем успеха!

Ниже приведены справочные данные, которые могут понадобиться Вам при выполнении работы.

Десятичные приставки

Наименование	Обозначение	Множитель	Наименование	Обозначение	Множитель
гига	Г	10^9	санти	с	10^{-2}
мега	М	10^6	милли	м	10^{-3}
кило	к	10^3	микро	мк	10^{-6}
гекто	г	10^2	нано	н	10^{-9}
деци	д	10^{-1}	пико	п	10^{-12}

Константы

ускорение свободного падения на Земле

$$g = 10 \text{ м/с}^2$$

гравитационная постоянная

$$G = 6,7 \cdot 10^{-11} \text{ Н} \cdot \text{м}^2/\text{кг}^2$$

универсальная газовая постоянная

$$R = 8,31 \text{ Дж}/(\text{моль} \cdot \text{К})$$

скорость света в вакууме

$$c = 3 \cdot 10^8 \text{ м/с}$$

коэффициент пропорциональности в законе Кулона

$$k = 9 \cdot 10^9 \text{ Н} \cdot \text{м}^2/\text{Кл}^2$$

модуль заряда электрона

$$e = 1,6 \cdot 10^{-19} \text{ Кл}$$

(элементарный электрический заряд)

$$h = 6,6 \cdot 10^{-34} \text{ Дж} \cdot \text{с}$$

постоянная Планка

1 Прочитайте перечень понятий, с которыми Вы встречались в курсе физики:

сила тока, ньютон, сантиметр, частота колебаний, паскаль, объём

Разделите эти понятия на две группы по выбранному Вами признаку. Запишите в таблицу название каждой группы и понятия, входящие в эту группу.

Название группы понятий	Перечень понятий

2 Выберите **два** верных утверждения о физических явлениях, величинах и закономерностях. Запишите в ответ их номера.

- 1) Силы взаимного гравитационного притяжения двух тел прямо пропорциональны произведению их масс и обратно пропорциональны расстоянию между ними.
- 2) Теплопередача путём теплопроводности происходит за счёт переноса вещества в струях и потоках.
- 3) Одноимённые точечные электрические заряды отталкиваются друг от друга, разноимённые точечные заряды притягиваются друг к другу.
- 4) При преломлении электромагнитных волн на границе двух сред частота колебаний в волне остаётся неизменной.
- 5) В процессе альфа-распада происходит испускание радиоактивным элементом медленных нейтронов.

Ответ:

--	--

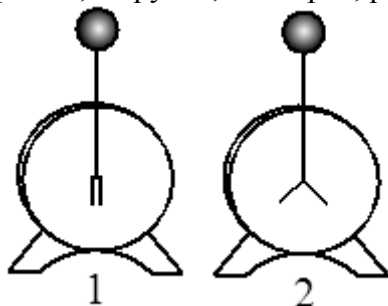
3 Под микроскопом рассматривают каплю воды со взвешенными в ней частицами цветочной пыльцы. Видно, что частицы пыльцы находятся в непрерывном хаотическом движении. Какое явление наблюдается в этом опыте?

Ответ: _____.

4

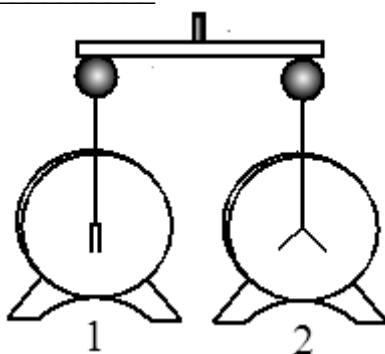
Прочитайте текст и вставьте на место пропусков слова (словосочетания) из приведённого списка.

Для изучения электрических свойств стержня проведём следующий опыт. Возьмём два электрометра. Один из них зарядим, а другой, наоборот, разрядим (см. рисунок).



Надев прорезиненную перчатку, возьмём стержень и соединим с помощью него шары электрометров. Резина является диэлектриком и выполняет роль изолятора между стержнем и кожей человека, являющейся _____.

Если материал стержня относится к _____, то после соединения стержнем шаров электрометров совершенно ничего не происходит. То есть второй электрометр остаётся незаряженным. Это объясняется тем, что _____.



Список слов и словосочетаний

проводник

диэлектрик

материал

вещество

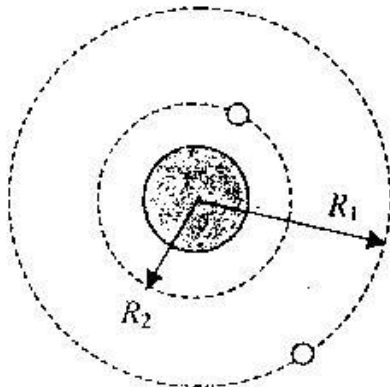
проводники проводят электрический заряд

диэлектрики не проводят электрический заряд

стержень электризуется при соприкосновении

5

Космический корабль, движущийся по круговой орбите вокруг Земли, сместился на другую круговую орбиту, меньшего радиуса. Как при этом изменились сила тяготения, действующая на корабль со стороны Земли, кинетическая энергия корабля и его потенциальная энергия взаимодействия с Землёй?



Для каждой величины определите характер изменения и поставьте в таблице знак «У» в нужной клетке таблицы.

Величина	Характер изменения величины		
	увеличилась	уменьшилась	не изменилась
Сила тяготения			
Кинетическая энергия			
Потенциальная энергия			

6

Связанная система элементарных частиц содержит 36 электронов, 45 нейтронов и 35 протонов. Используя фрагмент Периодической системы элементов Д.И. Менделеева, определите ионом или нейтральным атомом какого элемента является эта система.

25 Mn 54,938 Марганец	26 Fe 55,847 Железо	27 Co 58,9332 Кобальт	28 Ni 58,71 Никель
35 Br 79,904 Бром	36 Kr 83,80 Криптон		
43 Tc [99] Технеций	44 Ru 101,07 Рутений	45 Rh 102,905 Родий	46 Pd 106,4 Палладий

Ответ: _____.

7

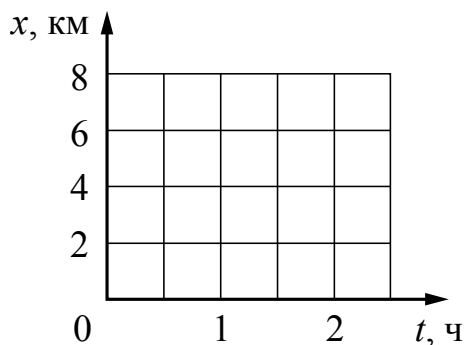
На рисунках приведены спектры излучения атомарных паров гелия, аргона и неизвестного газа (см. рис.). Содержит ли этот газ аргон и гелий? Ответ поясните.



Ответ: _____

8

В течение первого часа пути по прямолинейному участку дороги Сергей двигался со скоростью 6 км/ч, а затем в течение 30 мин. со скоростью 4 км/ч. Постройте график зависимости координаты Сергея от времени на всем пути. Начало координат соответствует началу движения, ось x направлена по направлению движения мальчика.



9

Электрическая линия для розеток в квартире оснащена автоматическим выключателем, который размыкает линию, если сила тока в ней превышает 25 А. Напряжение электрической сети 220 В.

В таблице представлены электрические приборы, используемые в квартире, и потребляемая ими мощность.

<i>Электрические приборы</i>	<i>Потребляемая мощность, Вт</i>
Духовка электрическая	2300
Посудомоечная машина	1800
Кофеварка	1500
Холодильник	180
Электрический чайник	1800
Пылесос	650
Стиральная машина	450
Плазменный телевизор	350
Утюг	1100

Можно ли одновременно включить электрическую духовку, посудомоечную и стиральную машины? Запишите решение и ответ.

Решение: _____

Ответ: _____

10

С помощью весов измеряли массу тела в килограммах. Погрешность измерений массы равна цене деления шкалы весов (см. рисунок).

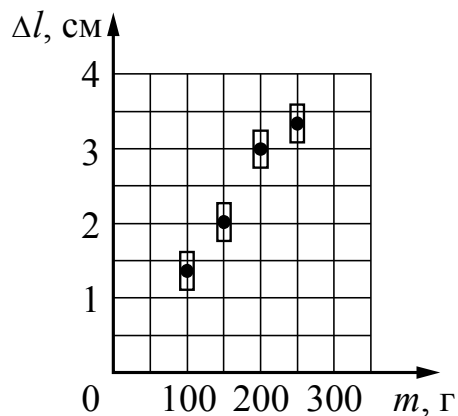


Запишите в ответ массу тела с учётом погрешности измерений.

Ответ: _____ кг.

11

Ученик исследовал зависимость удлинения пружины от массы груза, подвешенного к пружине. Груз неподвижен. Погрешность измерения длины пружины равна 0,25 см, а массы тела – 5 г. Результаты измерений с учётом их погрешности представлены на графике.



Каков приблизительно коэффициент упругости пружины?

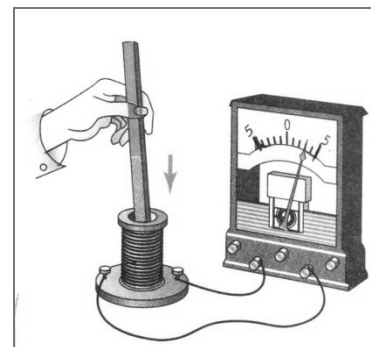
Ответ: _____ Н/м.

12

В катушку индуктивности вносят магнит. При этом в её обмотке возникает индукционный ток. Вам необходимо исследовать, зависит ли направление индукционного тока, возникающего в катушке, от величины модуля вектора магнитной индукции, пронизывающего катушку.

Имеется следующее оборудование (см. рисунок):

- катушка индуктивности;
- амперметр (на шкале которого «0» посередине);
- три одинаковых полосовых магнита;
- соединительные провода.



В ответе:

1. Опишите экспериментальную установку.
2. Опишите порядок действий при проведении исследования.

Ответ: _____

13

Установите соответствие между техническими устройствами и физическими явлениями, лежащими в основе принципа их действия.

К каждой позиции первого столбца подберите соответствующую позицию из второго столбца.

ТЕХНИЧЕСКИЕ УСТРОЙСТВА

- А) электродвигатель постоянного тока
Б) электродинамический микрофон

ФИЗИЧЕСКИЕ ЯВЛЕНИЯ

- 1) поляризация молекул диэлектрика в электростатическом поле
2) действие магнитного поля на проводник с током
3) действие магнитного поля на движущуюся заряженную частицу
4) электромагнитная индукция

Запишите в таблицу выбранные цифры под соответствующими буквами.

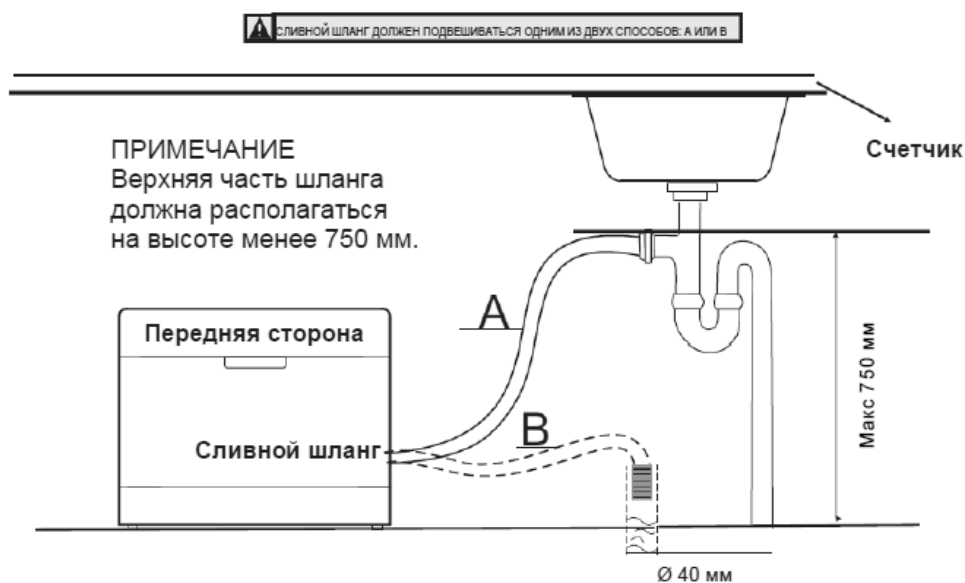
Ответ:

А	Б

Прочитайте фрагмент инструкции к посудомоечной машине и выполните задания 14 и 15.

Подключение сливного шланга

Вставьте сливной шланг в сливную магистраль с минимальным диаметром 4 см или опустите его в раковину, следя за тем, чтобы шланг не перегибался и не перекручивался. Свободный конец шланга должен располагаться на высоте ниже 60 см и не должен быть погружен в воду во избежание возникновения противотока (обратного всасывания).



⚠ Перед началом использования убедитесь в наличии правильного заземления.

Подключение к электрической сети

Убедитесь в том, что частота и напряжение электрической сети соответствуют данным, указанным на заводской табличке установки. Включайте вилку в сетевую розетку, только если розетка корректно заземлена. Если розетка, к которой вы собираетесь подключить машину, не соответствует вилке, не используйте переходники (адаптеры) или другие приспособления.

14

В инструкции указана максимальная высота, на которой может быть закреплен сливной шланг. Почему сливной шланг нельзя размещать на высоте, большей 750 мм?

Ответ: _____

15

Почему в инструкции запрещается использовать переходники и адаптеры для подключения машины к электрической сети?

Ответ: _____

Прочитайте текст и выполните задания 16–18.

Цветовое зрение

Любой объект излучает электромагнитные волны в очень широком диапазоне частот. При этом интенсивность излучения напрямую зависит от температуры объекта (рис. 1).

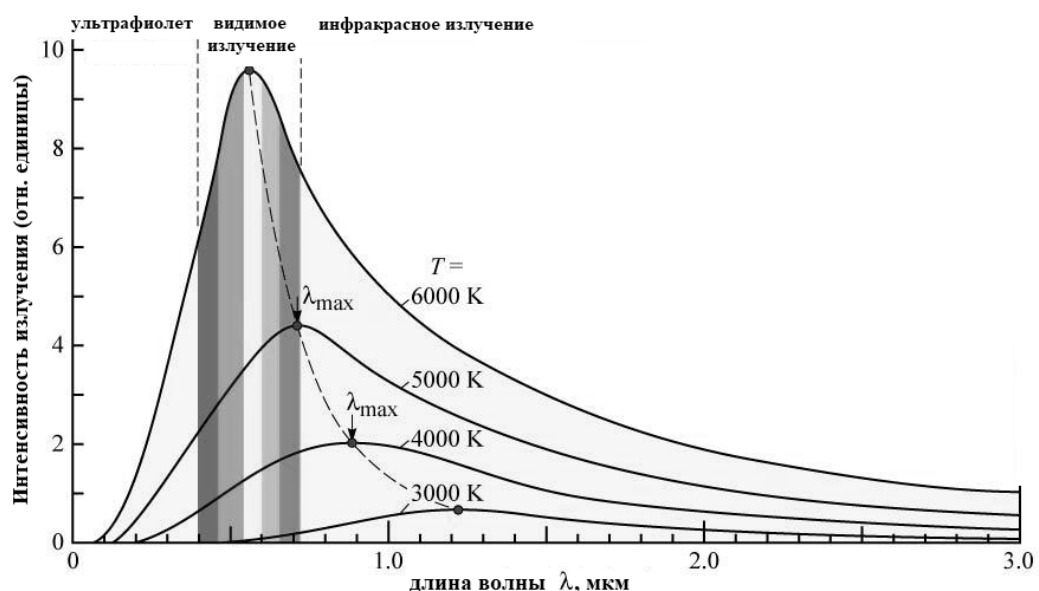


Рис. 1. Интенсивность излучения абсолютно чёрного тела. (Абсолютно чёрное тело обладает свойством поглощать всю падающую на его поверхность лучистую энергию любого спектрального состава.)

Максимум излучения Солнца, поверхность которого имеет температуру около 6000 К, приходится на диапазон длин волн, которые в процессе эволюции определили цветовое зрение человека.

Среди органов чувств глаз занимает особое место. На долю зрения приходится до 80% информации, воспринимаемой организмом извне. Человек с помощью зрения воспринимает размеры предметов, их форму, расположение в пространстве, движение, а, главное, цвет.

Приемниками светового излучения человека служат колбочки (фоторецепторы трёх типов) и палочки (фоторецепторы одного типа).

Колбочки, в зависимости от их спектральной чувствительности, подразделяются на три типа и обозначаются греческими буквами ρ , γ и β . Максимумы спектральной чувствительности этих типов колбочек находятся в трёх разных спектральных участках: красном, зелёном и синем (рис. 2).

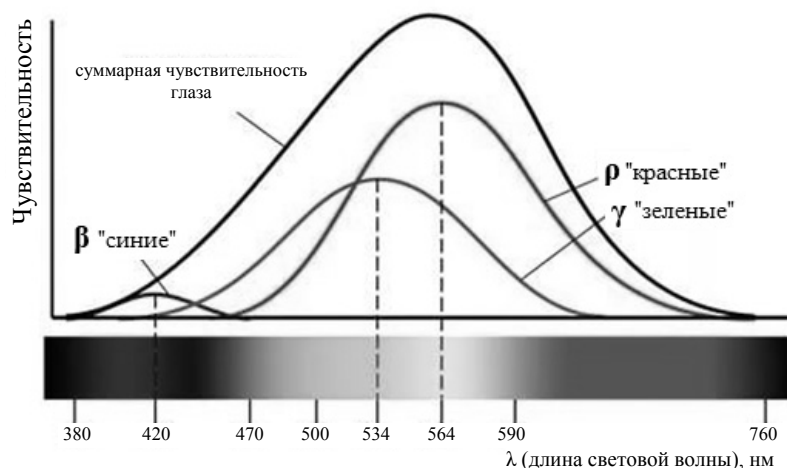


Рис. 2.

Спектры поглощения показывают вероятность поглощения фотона для данной длины волны. Спектры поглощения перекрываются, а это означает, что зрительная система в состоянии различить частоту волны, сравнивая количества поглощения энергии разных видов колбочек.

Палочки, расположенные по периферии сетчатки, играют основную роль в создании ахроматических зрительных образов. Палочки обладают высокой чувствительностью к свету, воспринимают волны с малой амплитудой, но не умеют различать их длину, то есть результат восприятия волн разной длины у всех палочек одинаков.

- 16 На какой диапазон электромагнитного излучения (рентгеновское, ультрафиолетовое, видимое или инфракрасное излучение) приходится максимум излучения тела, нагретого до температуры 4500 К?

Ответ: _____.

- 17 Какой вид колбочек воспринимает видимый свет с длиной волны 650 нм?

Ответ: _____.

18

Для изучения интенсивности излучения на отдельных участках спектра от нагретых тел используют термоэлементы. Чувствительная часть фотоэлемента покрыта налётом сажи, которая поглощает все падающее на неё излучение. Измеряя нагревание фотоэлемента на отдельных участках спектра, можно судить о распределении энергии по спектру.

Можно ли судить о распределении энергии, например, в линейчатом спектре нагретого атомарного газа, **визуально** наблюдая и сравнивая яркость отдельных линий в видимой части спектра? Ответ поясните.

Ответ: _____

ВСЕРОССИЙСКАЯ ПРОВЕРОЧНАЯ РАБОТА

ФИЗИКА

11 КЛАСС

Инструкция по выполнению работы

Проверочная работа включает в себя 18 заданий. На выполнение работы по физике отводится 1 час 30 минут (90 минут).

Оформляйте ответы в тексте работы в отведённых для этого местах согласно инструкциям к заданиям. В случае записи неверного ответа зачеркните его и запишите рядом новый.

При выполнении работы разрешается использовать калькулятор.

При выполнении заданий Вы можете использовать черновик. Записи в черновике проверяться и оцениваться не будут.

Советуем выполнять задания в том порядке, в котором они даны. Для экономии времени пропускайте задание, которое не удаётся выполнить сразу, и переходите к следующему. Если после выполнения всей работы у Вас останется время, Вы сможете вернуться к пропущенным заданиям.

Баллы, полученные Вами за выполненные задания, суммируются. Постарайтесь выполнить как можно больше заданий и набрать наибольшее количество баллов.

Желаем успеха!

Ниже приведены справочные данные, которые могут понадобиться Вам при выполнении работы.

Десятичные приставки

Наименование	Обозначение	Множитель	Наименование	Обозначение	Множитель
гига	Г	10^9	санти	с	10^{-2}
мега	М	10^6	милли	м	10^{-3}
кило	к	10^3	микро	мк	10^{-6}
гекто	г	10^2	нано	н	10^{-9}
деци	д	10^{-1}	пико	п	10^{-12}

Константы

ускорение свободного падения на Земле

$$g = 10 \text{ м/с}^2$$

гравитационная постоянная

$$G = 6,7 \cdot 10^{-11} \text{ Н} \cdot \text{м}^2/\text{кг}^2$$

универсальная газовая постоянная

$$R = 8,31 \text{ Дж}/(\text{моль} \cdot \text{К})$$

скорость света в вакууме

$$c = 3 \cdot 10^8 \text{ м/с}$$

коэффициент пропорциональности в законе Кулона

$$k = 9 \cdot 10^9 \text{ Н} \cdot \text{м}^2/\text{Кл}^2$$

модуль заряда электрона

$$e = 1,6 \cdot 10^{-19} \text{ Кл}$$

(элементарный электрический заряд)

$$h = 6,6 \cdot 10^{-34} \text{ Дж} \cdot \text{с}$$

постоянная Планка

1 Прочитайте перечень понятий, с которыми Вы встречались в курсе физики:

сила тока, потенциальная энергия, весы, магнитный поток, дозиметр, динамометр

Разделите эти понятия на две группы по выбранному Вами признаку. Запишите в таблицу название каждой группы и понятия, входящие в эту группу.

Название группы понятий	Перечень понятий

2 Выберите **два** верных утверждения о физических явлениях, величинах и закономерностях. Запишите в ответ их номера.

- 1) Силы упругости и силы трения имеют электромагнитную природу.
- 2) Удельная теплоёмкость вещества показывает, какое количество теплоты необходимо сообщить 1 кг вещества для его плавления.
- 3) При последовательном соединении через резисторы течёт одинаковый ток.
- 4) Электромагнитные волны ультрафиолетового диапазона имеют бóльшую длину волны, чем радиоволны.
- 5) Массовое число ядра равно сумме масс протонов и электронов в ядре.

Ответ:

--	--

3 В струю водяного пара из кипящего чайника вносят холодную металлическую ложку. На ложке появляются капли воды. Какое явление наблюдается в этом опыте?

Ответ: _____.

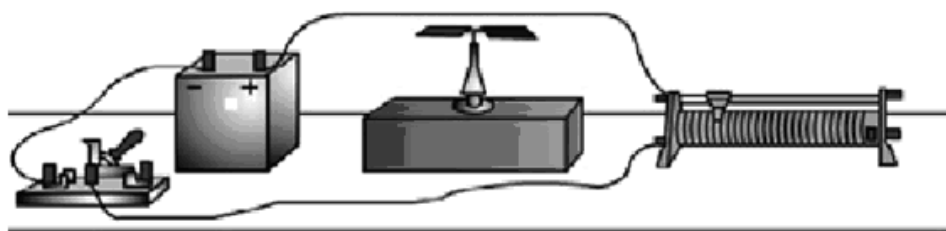
4

Прочитайте текст и вставьте на место пропусков слова (словосочетания) из приведённого списка.

Для того чтобы воспроизвести опыт Эрстеда, к источнику тока через реостат подключим прямой проводник, возле которого расположена магнитная стрелка (см. рисунок). При замыкании электрической цепи _____.

При этом магнитная стрелка всегда _____.

Отклонение стрелки доказывает, что вокруг проводника с электрическим током существует _____.



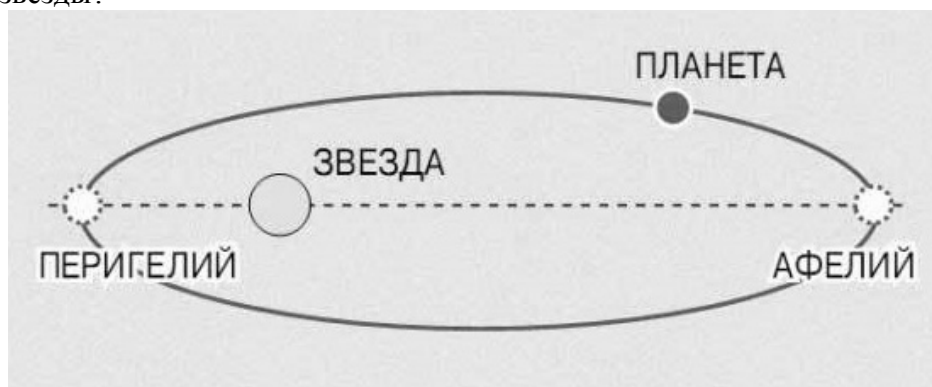
Рисунок

Список словосочетаний

по проводнику протекает электрический ток
в проводнике накапливается электрический заряд
ориентируется параллельно проводнику
ориентируется перпендикулярно проводнику
поворачивается на 180°
электростатическое поле
магнитное поле

5

Планета движется по эллиптической орбите вокруг звезды. Как меняются при переходе планеты из перигелия в афелий сила тяготения, действующая на планету со стороны звезды, а также кинетическая энергия планеты и потенциальная энергия взаимодействия планеты и звёзды?



Для каждой величины определите характер изменения и поставьте в таблице знак «У» в нужной клетке таблицы.

Величина	Характер изменения величины		
	увеличивается	уменьшается	не изменяется
Сила тяготения			
Кинетическая энергия			
Потенциальная энергия			

6

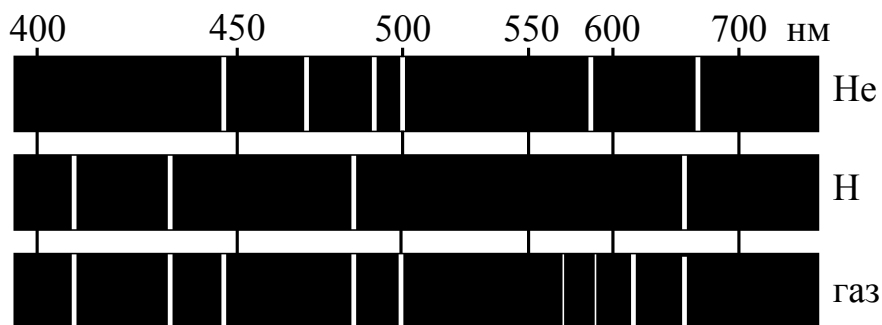
Связанная система элементарных частиц содержит 25 электронов, 30 нейтронов и 25 протонов. Используя фрагмент Периодической системы элементов Д.И. Менделеева, определите ионом или нейтральным атомом какого элемента является эта система.

Mn 25 54,938 Марганец	Fe 26 55,847 Железо	Co 27 58,9332 Кобальт	Ni 28 58,71 Никель
35 Br 79,904 Бром	36 Kr 83,80 Криптон		
Tc 43 [99] Технеций	Ru 44 101,07 Рутений	Rh 45 102,905 Родий	Pd 46 106,4 Палладий

Ответ: _____.

7

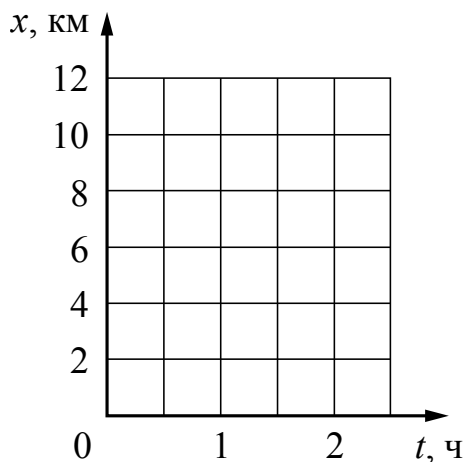
На рисунках приведены спектры излучения атомарных паров гелия, водорода и неизвестного газа (см. рис.). Содержит ли этот газ гелий и водород? Ответ поясните.



Ответ: _____

8

Первые 30 мин. Катя двигалась по прямолинейному участку дороги на велосипеде со скоростью 16 км/ч, а затем в течение получаса пешком со скоростью 6 км/ч. Постройте график зависимости координаты Кати от времени на всем пути. Начало координат соответствует началу движения, ось x совпадает с направлением движения девочки.



9

Электрическая линия для розеток в квартире оснащена автоматическим выключателем, который размыкает линию, если потребляемая включенными приборами суммарная электрическая мощность превышает 5,5 кВт. Напряжение электрической сети 220 В.

В таблице представлены электрические приборы, используемые в квартире, и потребляемый ими электрический ток при напряжении 220 В.

<i>Электрические приборы</i>	<i>Потребляемый электрический ток, А (при напряжении сети 220 В)</i>
Духовка электрическая	10,5
Посудомоечная машина	8,2
Кофеварка	6,8
Холодильник	0,8
Электрический чайник	8,2
Пылесос	3,0
Стиральная машина	2,0
Плазменный телевизор	1,6
Утюг	5,0

Можно ли одновременно включить электрическую духовку, посудомоечную и стиральную машины? Запишите решение и ответ.

Решение: _____

Ответ: _____

10

С помощью весов измеряли массу тела в граммах. Погрешность измерений массы равна цене деления шкалы весов (см. рисунок).



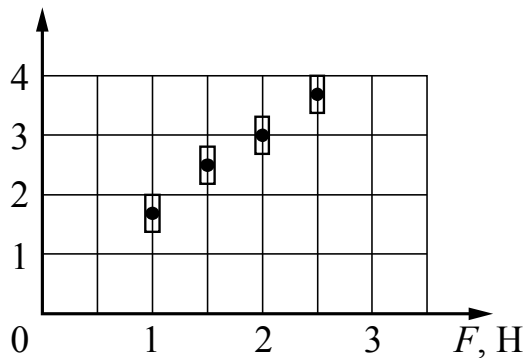
Запишите в ответ массу тела с учётом погрешности измерений.

Ответ: _____ г.

11

Ученик исследовал зависимость изменения длины пружины от силы, приложенной к пружине. Погрешность измерения длины пружины равна 0,2 см, а силы – 0,1 Н. Результаты измерений с учётом их погрешности представлены на графике.

Δl , см



Каков приблизительно коэффициент упругости пружины?

Ответ: _____ Н/м.

This image shows a blank sheet of white paper with horizontal ruling lines. The lines are evenly spaced and extend across the width of the page. There are no margins, text, or other markings on the paper.

А	Б

Прочитайте фрагмент инструкции к микроволновой печи и выполните задания 14 и 15.

СВЧ-излучение фактически проникает в пищу, поглощаясь содержащимся в пище водой, жиром и сахаром. Электромагнитные волны заставляют молекулы пищи быстро колебаться. Быстрые колебания этих молекул и есть, по сути, то «тепло», которое готовит пищу.

Нельзя пользоваться печью, если повреждены дверца или уплотнители дверцы:

- сломаны петли;
- износился уплотнитель;
- деформировался или погнулся кожух.

Ремонт печи должен производить только квалифицированный специалист по микроволновой технике.

НИКОГДА не снимайте наружный кожух с печи.

Разогревание жидкости

Всегда дайте жидкости постоять по крайней мере 20 секунд после выключения печи, чтобы дать температуре выровняться по всей толще жидкости. Перемешивайте жидкость во время разогрева. Вы должны опускать в напитки пластмассовую ложку или стеклянную палочку и перемешивать их перед нагревом, во время нагрева и по его окончании.

14

Почему в инструкции запрещается пользоваться микроволновой печью, если износился уплотнитель, деформировался или погнулся кожух?

Ответ: _____

15

Почему в инструкции рекомендуется помещать в нагреваемую жидкость пластмассовую ложку или стеклянную палочку?

Ответ: _____

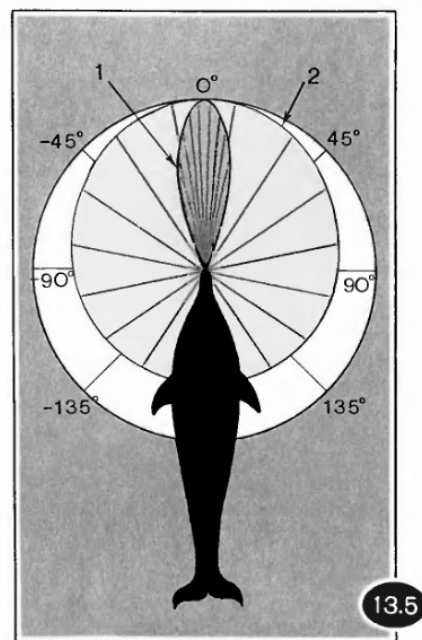
Прочитайте текст и выполните задания 16–18.**Два типа слуха дельфинов**

Звуковые волны принято подразделять на диапазон слышимых человеком волн, а также инфразвук, ультразвук и звук сверхвысокой частоты (или гиперзвук) (см. диаграмму)



Диапазон издаваемых и слышимых звуков у разных животных может сильно отличаться от диапазона звуковых волн, воспринимаемых человеком. Например, дельфин способен создавать и улавливать звуки в более широком диапазоне, чем человек.

В слуховом аппарате дельфина есть два типа «входных ворот». «Ворота» первого типа – вытянутая нижняя челюсть. Через эти «ворота» к внутреннему уху дельфина поступают волны с частотами $8 \cdot 10^4$ – 10^5 Гц, направление которых совпадает с направлением челюсти. Именно по этому направлению и осуществляется эхолокация. «Ворота» второго типа – те места по бокам головы дельфина, где когда-то у далёких предков дельфинов, живших на суше, были обыкновенные уши. Ушей, как таковых, у дельфинов нет; наружные слуховые отверстия почти заросли, однако звуки они пропускают прекрасно. Через эти «входные ворота» к внутреннему уху дельфина поступают со всевозможных сторон звуковые волны относительно низких частот (10^2 – 10^4 Гц). Таким образом, можно говорить о двух типах слуха дельфинов.



Первый тип – остронаправленный эхолокационный слух на высоких частотах. Известно, что для успешной эхолокации линейные размеры объекта должны быть больше или по крайней мере порядка длины волны звука. Чем меньше длина волны излучения, тем более мелкими могут быть объекты, которые необходимо опознать при помощи эхо-сигналов.

Второй тип слуха – слух кругового обзора; он предназначен для восприятия дельфином «обычных» звуков, заполняющих окружающее пространство. На рисунке отрезки, ограниченные кривой 1, относятся к эхолокационному слуху, а кривой 2 – к слуху кругового обзора. Рисунок хорошо иллюстрирует острую направленность слуха первого типа и слабо выраженную направленность слуха второго типа.

16

К какому диапазону звуковых волн относятся волны, используемые дельфинами для эхолокации?

Ответ: _____.

17

Вставьте пропущенные слова (словосочетания) в предложение.

«Входными воротами» для эхолокационного слуха дельфина служит _____.

Ответ: _____.

18

Каков минимальный линейный размер рыбки, которую дельфин может обнаружить, используя максимальную из указанных в тексте частот звуковой локации? Скорость звука в воде принять равной 1500 м/с.

Ответ: _____

ВСЕРОССИЙСКАЯ ПРОВЕРОЧНАЯ РАБОТА

ФИЗИКА

11 КЛАСС

Инструкция по выполнению работы

Проверочная работа включает в себя 18 заданий. На выполнение работы по физике отводится 1 час 30 минут (90 минут).

Оформляйте ответы в тексте работы в отведённых для этого местах согласно инструкциям к заданиям. В случае записи неверного ответа зачеркните его и запишите рядом новый.

При выполнении работы разрешается использовать калькулятор.

При выполнении заданий Вы можете использовать черновик. Записи в черновике проверяться и оцениваться не будут.

Советуем выполнять задания в том порядке, в котором они даны. Для экономии времени пропускайте задание, которое не удаётся выполнить сразу, и переходите к следующему. Если после выполнения всей работы у Вас останется время, Вы сможете вернуться к пропущенным заданиям.

Баллы, полученные Вами за выполненные задания, суммируются. Постарайтесь выполнить как можно больше заданий и набрать наибольшее количество баллов.

Желаем успеха!

Ниже приведены справочные данные, которые могут понадобиться Вам при выполнении работы.

Десятичные приставки

Наименование	Обозначение	Множитель	Наименование	Обозначение	Множитель
гига	Г	10^9	санти	с	10^{-2}
мега	М	10^6	милли	м	10^{-3}
кило	к	10^3	микро	мк	10^{-6}
гекто	г	10^2	нано	н	10^{-9}
деци	д	10^{-1}	пико	п	10^{-12}

Константы

ускорение свободного падения на Земле

$$g = 10 \text{ м/с}^2$$

гравитационная постоянная

$$G = 6,7 \cdot 10^{-11} \text{ Н} \cdot \text{м}^2/\text{кг}^2$$

универсальная газовая постоянная

$$R = 8,31 \text{ Дж}/(\text{моль} \cdot \text{К})$$

скорость света в вакууме

$$c = 3 \cdot 10^8 \text{ м/с}$$

коэффициент пропорциональности в законе Кулона

$$k = 9 \cdot 10^9 \text{ Н} \cdot \text{м}^2/\text{Кл}^2$$

модуль заряда электрона

$$e = 1,6 \cdot 10^{-19} \text{ Кл}$$

(элементарный электрический заряд)

$$h = 6,6 \cdot 10^{-34} \text{ Дж} \cdot \text{с}$$

постоянная Планка

1 Прочитайте перечень понятий, с которыми Вы встречались в курсе физики:

масса, плавление, альфа-распад, индуктивность, самоиндукция, относительная влажность воздуха

Разделите эти понятия на две группы по выбранному Вами признаку. Запишите в таблицу название каждой группы и понятия, входящие в эту группу.

Название группы понятий	Перечень понятий

2 Выберите **два** верных утверждения о физических явлениях, величинах и закономерностях. Запишите в ответ их номера.

- 1) Теплопередача путём электромагнитного излучения возможна только в атмосфере Земли и не наблюдается в вакууме.
- 2) Все механические процессы в одинаковых условиях протекают одинаково во всех инерциальных системах отсчёта.
- 3) Два неподвижных точечных заряда в вакууме действуют друг на друга с силами, обратно пропорциональными квадрату расстояния между ними.
- 4) Электромагнитные волны видимого света имеют меньшую длину волны, чем рентгеновское излучение.
- 5) Фотоны обладают ненулевой массой и могут двигаться в вакууме с скоростями, меньшими или равными 300 000 км/с.

Ответ:

--	--

3 Под микроскопом рассматривают каплю молока. Видно, что частицы жира находятся в непрерывном хаотическом движении. Какое явление наблюдается в этом опыте?

Ответ: _____.

4

Прочитайте текст и вставьте на место пропусков слова (словосочетания) из приведённого списка.

В 1831 году английский учёный М. Фарадей в своей лаборатории собрал установку, упрощённая модель которой изображена на рисунке. Проведённые на этой установке опыты позволили наблюдать явление _____.

Верхняя катушка подключена к источнику электрического тока, а нижняя катушка замкнута на _____. Электрический ток во второй катушке возникает в момент, когда происходит _____ в верхней катушке.



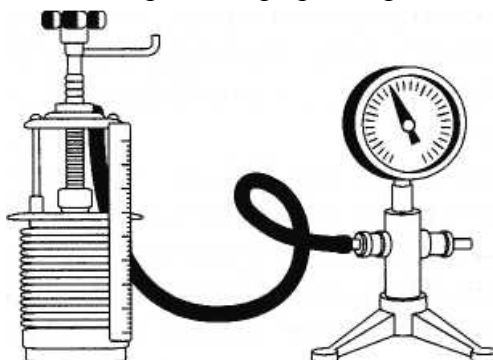
Рисунок

Список слов и словосочетаний

магнитное взаимодействие двух соленоидов
электромагнитная индукция
включение или выключение источника тока
протекание постоянного электрического тока
вольтметр
гальванометр

5

Замкнутый гофрированный цилиндр подключён к манометру. Объём цилиндра, в котором под подвижным поршнем находится воздух, начинают очень медленно увеличивать (см. рисунок). Как будет изменяться концентрация молекул воздуха, а также внутренняя энергия и давление воздуха в цилиндре по мере расширения?



Для каждой величины определите характер изменения и поставьте в таблице знак «V» в нужной клетке таблицы.

Величина	Характер изменения величины		
	увеличивается	уменьшается	не изменяется
Концентрация молекул			
Внутренняя энергия			
Давление			

6

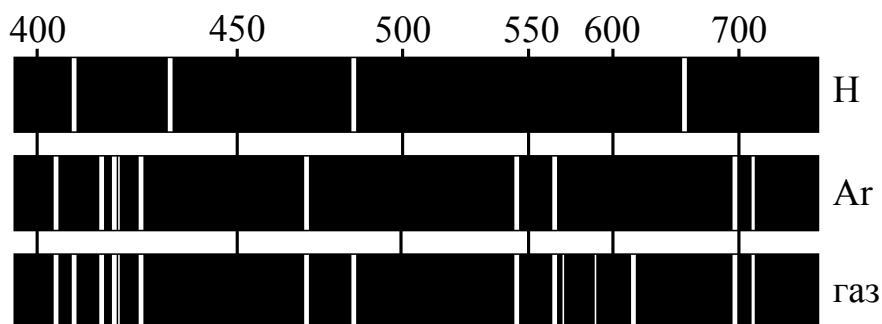
Связанная система элементарных частиц содержит 45 электронов, 60 нейтронов и 46 протонов. Используя фрагмент Периодической системы элементов Д.И. Менделеева, определите ионом или нейтральным атомом какого элемента является эта система.

25 Mn 54,938 Марганец	26 Fe 55,847 Железо	27 Co 58,9332 Кобальт	28 Ni 58,71 Никель
35 Br 79,904 Бром	36 Kr 83,80 Криптон		
43 Tc [99] Технеций	44 Ru 101,07 Рутений	45 Rh 102,905 Родий	46 Pd 106,4 Палладий

Ответ: _____.

7

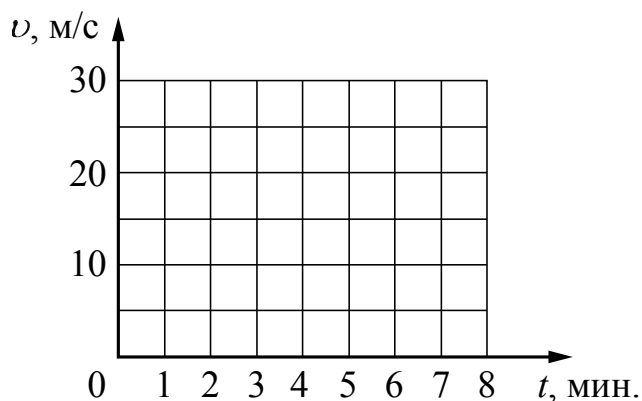
На рисунках приведены спектры излучения атомарных паров водорода, аргона и неизвестного газа (см. рис.). Содержится ли в газе аргон и водород? Ответ поясните.



Ответ: _____

8

Постройте графики зависимости скорости от времени для двух автомобилей, движущихся по прямолинейному участку дороги. Известно, что первый автомобиль в течение 5 мин. едет равномерно со скоростью 72 км/ч. Второй автомобиль, имея в начальный момент времени скорость 10 м/с, движется равноускоренно и через 5 мин. имеет скорость 90 км/ч.



9

Электрическая линия для розеток в квартире оснащена автоматическим выключателем, который размыкает линию, если сила тока в ней превышает 25 А. Напряжение электрической сети 220 В.

В таблице представлены электрические приборы, используемые в квартире, и потребляемая ими мощность.

<i>Электрические приборы</i>	<i>Потребляемая мощность, Вт</i>
Духовка электрическая	2300
Посудомоечная машина	1800
Кофеварка	1500
Микроволновая печь	1800
Электрический чайник	1800
Пылесос	650
Плазменный телевизор	350
Утюг	1100


В квартире одновременно включили посудомоечную машину, микроволновую печь и утюг. Какой(-ие) из перечисленных выше приборов можно включить в сеть дополнительно к указанным приборам? Запишите решение и ответ.

Решение: _____

Ответ: _____

10

С помощью амперметра проводились измерения силы тока в электрической цепи. Использовалась шкала с пределом измерения 8 А. Погрешность измерений силы тока равна цене деления шкалы амперметра.



Запишите в ответ показания амперметра с учётом погрешности измерений.

Ответ: _____ А.

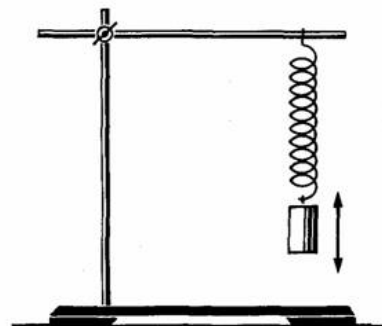
11

№ опыта	Масса тела, кг	Сила тяжести, Н
1	$0,95 \pm 0,05$	$5,5 \pm 0,5$
2	$2,05 \pm 0,05$	$10,0 \pm 0,5$
3	$3,00 \pm 0,05$	$15,5 \pm 0,5$

ОТВЕТ: _____ м/с².

12

- секундомер электронный;
- набор из трёх пружин жёсткостью 40 Н/м, 60 Н/м и 100 Н/м;
- набор из трёх грузов по 100 г каждый;
- штатив с муфтой и лапкой.



1. Опишите экспериментальную установку.
2. Опишите порядок действий при проведении исследования.

Ответ:

13

Установите соответствие между техническими устройствами и физическими явлениями, лежащими в основе принципа их действия.

К каждой позиции первого столбца подберите соответствующую позицию из второго столбца.

ТЕХНИЧЕСКИЕ УСТРОЙСТВА

- А) прибор для хромирования металлических изделий
Б) электросварочный аппарат для сварки металлов

ФИЗИЧЕСКИЕ ЯВЛЕНИЯ

- 1) тлеющий разряд
2) дуговой разряд
3) магнитное действие тока
4) химическое действие тока

Запишите в таблицу выбранные цифры под соответствующими буквами.

Ответ:

А	Б

Прочитайте фрагмент инструкции к мобильному кондиционеру и выполните задания 14 и 15.

Подключайте кондиционер непосредственно к розетке электрической сети.

Ни в коем случае не используйте удлинители.

Убедитесь, что электрическая сеть обеспечивает достаточную мощность для работы кондиционера.

При возникновении неполадок выключите прибор, отключите его от электрической сети и обратитесь к квалифицированному электрику.

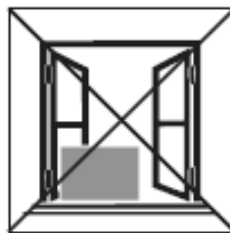
Запрещено использовать кондиционер при таких условиях:



Прибор неисправен.
Не ремонтируйте прибор самостоятельно!



На прибор может попасть вода



Внутренний блок подвергается атмосферным воздействиям



Высокий уровень влажности в помещении

14

Мобильный кондиционер потребляет большую мощность (несколько киловатт). Почему в инструкции не рекомендуется использовать удлинители для подключения мобильного кондиционера?

Ответ:

15

Почему в инструкции запрещается использовать кондиционер в условиях повышенной влажности?

Ответ: _____

Прочитайте текст и выполните задания 16–18.

Цветовое зрение

Любой объект излучает электромагнитные волны в очень широком диапазоне частот, в том числе и волны в инфракрасном спектре, так называемое «тепловое излучение». При этом интенсивность теплового излучения напрямую зависит от температуры объекта (рис. 1).

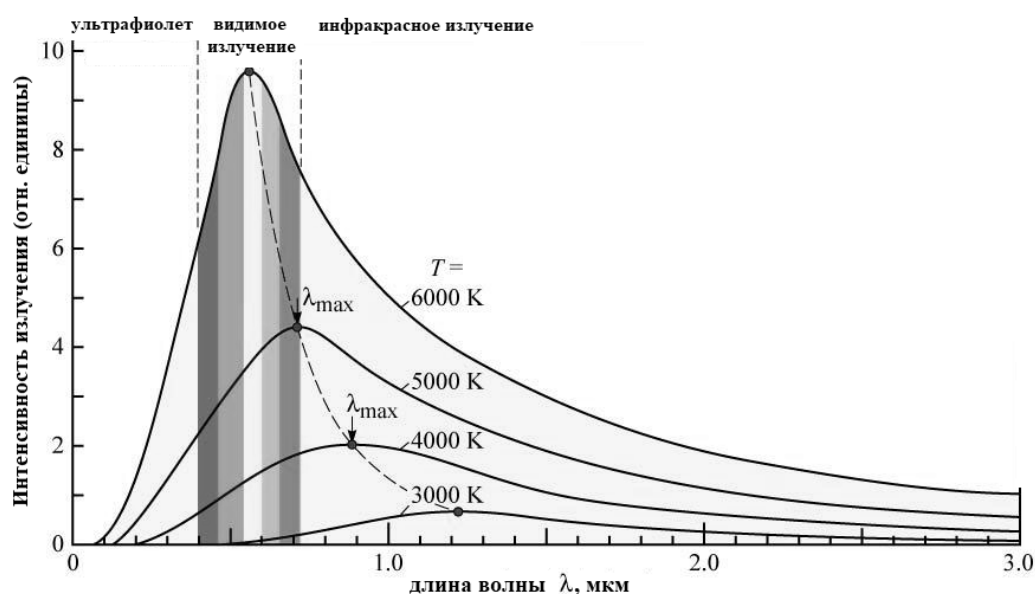


Рис. 1. Интенсивность излучения абсолютно чёрного тела. (Абсолютно чёрное тело обладает свойством поглощать всю падающую на его поверхность лучистую энергию любого спектрального состава.)

Максимум излучения Солнца, поверхность которого имеет температуру около 6000 К, приходится на диапазон длин волн, которые в процессе эволюции определили цветовое зрение человека.

Среди органов чувств глаз занимает особое место. На долю зрения приходится до 80% информации, воспринимаемой организмом извне. Человек с помощью зрения воспринимает размеры предметов, их форму, расположение в пространстве, движение, а, главное, цвет.

Приёмниками светового излучения человека служат колбочки (фоторецепторы трёх типов) и палочки (фоторецепторы одного типа).

Колбочки, в зависимости от их спектральной чувствительности, подразделяются на три типа. Максимумы спектральной чувствительности этих типов колбочек находятся в трёх разных спектральных участках: красном, зелёном и синем.

При помощи колбочек зрительная система в состоянии различить длину волны, сравнивая количества поглощения энергии разных видов колбочек.

Палочки, расположенные по периферии сетчатки, играют основную роль в создании ахроматических зрительных образов. Палочки обладают высокой

чувствительностью к свету, воспринимают волны с малой амплитудой, но не умеют различать их длину, то есть результат восприятия волн разной длины у всех палочек одинаков.

Чувствительность человеческого глаза к разным длинам волн видимого света различна в дневное время и в сумерки. На рисунке 2 представлены кривые спектральной чувствительности глаза (зависимость коэффициента поглощения от длины волны) в сумеречное и дневное время.

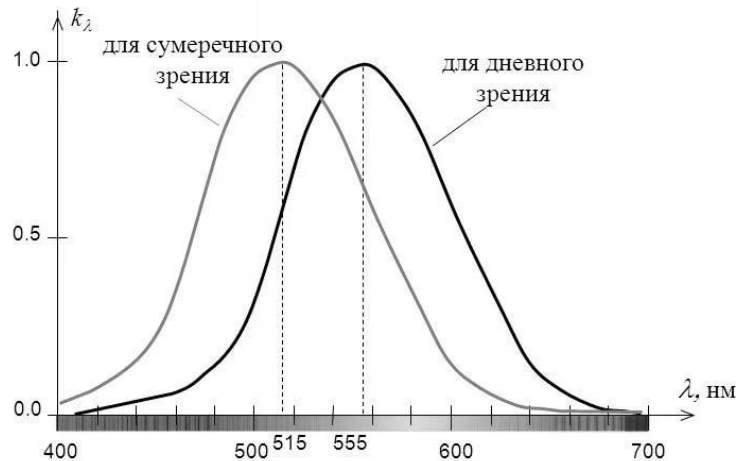


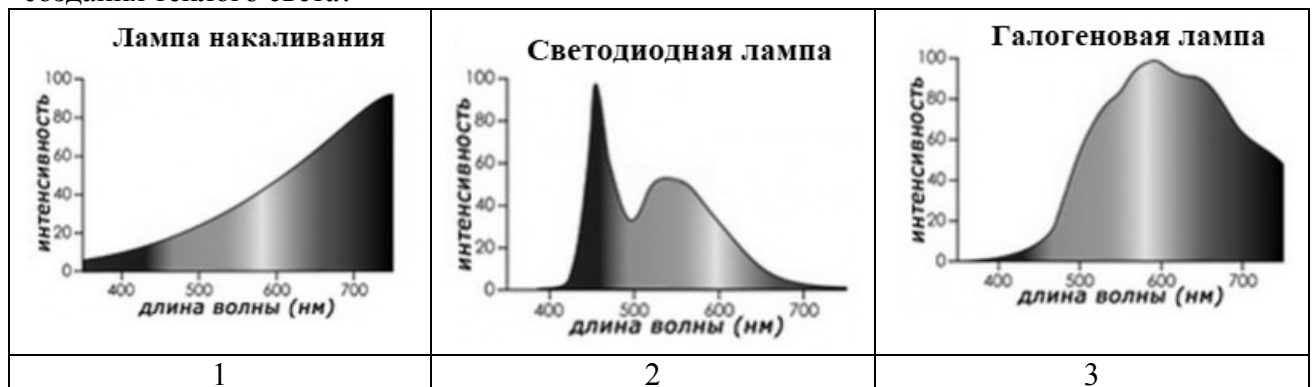
Рис. 2

Если днём максимум чувствительности глаза падает на жёлто-зелёную часть спектра, то в сумерках она сменяется в область более коротких длин волн.

- 16 На какой диапазон электромагнитных волн (ультрафиолетовое, инфракрасное излучение, видимый свет, рентгеновское излучение) приходится максимум излучения тела, нагретого до температуры 3000 К?

Ответ: _____.

- 17 Искусственные источники света характеризуются так называемой цветовой температурой, которая указывает, в каком диапазоне длин волн источник испускает свет. Тёплый свет ощущается как свет желтовато-красного солнца на закате и лучше всего подходит для зон отдыха, таких как рестораны, театры, гостиные, спальни. Какую(-ие) из ламп, спектры которых представлены на рисунке, можно использовать для создания тёплого света?



Ответ: _____.

18

В сумерках цвет красных маков кажется почти чёрным, а цвет голубых петуний кажется более насыщенным. Объясните, почему так происходит.

Ответ:

ВСЕРОССИЙСКАЯ ПРОВЕРОЧНАЯ РАБОТА

ФИЗИКА

11 КЛАСС

Инструкция по выполнению работы

Проверочная работа включает в себя 18 заданий. На выполнение работы по физике отводится 1 час 30 минут (90 минут).

Оформляйте ответы в тексте работы в отведённых для этого местах согласно инструкциям к заданиям. В случае записи неверного ответа зачеркните его и запишите рядом новый.

При выполнении работы разрешается использовать калькулятор.

При выполнении заданий Вы можете использовать черновик. Записи в черновике проверяться и оцениваться не будут.

Советуем выполнять задания в том порядке, в котором они даны. Для экономии времени пропускайте задание, которое не удаётся выполнить сразу, и переходите к следующему. Если после выполнения всей работы у Вас останется время, Вы сможете вернуться к пропущенным заданиям.

Баллы, полученные Вами за выполненные задания, суммируются. Постарайтесь выполнить как можно больше заданий и набрать наибольшее количество баллов.

Желаем успеха!

Ниже приведены справочные данные, которые могут понадобиться Вам при выполнении работы.

Десятичные приставки

Наименование	Обозначение	Множитель	Наименование	Обозначение	Множитель
гига	Г	10^9	санти	с	10^{-2}
мега	М	10^6	милли	м	10^{-3}
кило	к	10^3	микро	мк	10^{-6}
гекто	г	10^2	нано	н	10^{-9}
деци	д	10^{-1}	пико	п	10^{-12}

Константы

ускорение свободного падения на Земле

$$g = 10 \text{ м/с}^2$$

гравитационная постоянная

$$G = 6,7 \cdot 10^{-11} \text{ Н} \cdot \text{м}^2/\text{кг}^2$$

универсальная газовая постоянная

$$R = 8,31 \text{ Дж}/(\text{моль} \cdot \text{К})$$

скорость света в вакууме

$$c = 3 \cdot 10^8 \text{ м/с}$$

коэффициент пропорциональности в законе Кулона

$$k = 9 \cdot 10^9 \text{ Н} \cdot \text{м}^2/\text{Кл}^2$$

модуль заряда электрона

$$e = 1,6 \cdot 10^{-19} \text{ Кл}$$

(элементарный электрический заряд)

$$h = 6,6 \cdot 10^{-34} \text{ Дж} \cdot \text{с}$$

постоянная Планка

1 Прочитайте перечень понятий, с которыми Вы встречались в курсе физики:

килограмм, дисперсия, герц, генри, нагревание, броуновское движение

Разделите эти понятия на две группы по выбранному Вами признаку. Запишите в таблицу название каждой группы и понятия, входящие в эту группу.

Название группы понятий	Перечень понятий

2 Выберите **два** верных утверждения о физических явлениях, величинах и закономерностях. Запишите в ответ их номера.

- 1) Силы, с которыми тела действуют друг на друга, равны по модулю и направлены по одной прямой в противоположные стороны.
- 2) Температура кипения жидкостей увеличивается с увеличением их объёма.
- 3) Заряженное тело, движущееся в инерциальной системе отсчёта равномерно и прямолинейно, создаёт в пространстве переменное магнитное поле.
- 4) Силой Ампера называют силу, с которой магнитное поле действует на проводник с током.
- 5) Явление фотоэффекта наблюдается только при облучении полупроводниковых материалов электромагнитными волнами радиодиапазона.

Ответ:

--	--

3 В пересыщенный раствор поваренной соли опустили шерстяную нить. Через некоторое время на нити образовались твердые частицы соли. Какое явление наблюдалось в этом опыте?

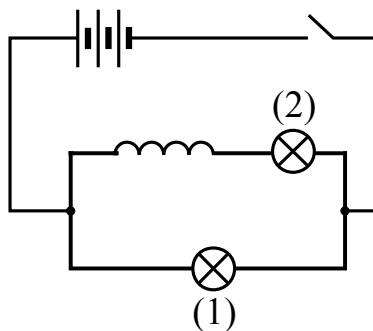
Ответ: _____.

4

Прочитайте текст и вставьте на место пропусков слова из приведённого списка.

В 1832 году американский физик Дж. Генри открыл явление, которое можно увидеть в эксперименте. Схема эксперимента представлена на рисунке.

Генри использовал плоские катушки из полосовой меди, индуктивность которых значительно превышала индуктивность обычных проволочных соленоидов. Опыт показывает, что при наличии в цепи мощной катушки электрический ток при замыкании источника тока достигает своего максимального значения _____, чем без катушки. Экспериментально это проявлялось в том, что при замыкании цепи _____ загоралась раньше по сравнению с _____. Это явление в физике называется _____.



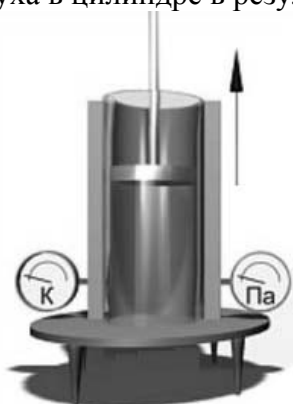
Рисунок

Список слов

быстрее
медленнее
лампа (1)
лампа (2)
индуктивность
самоиндукция
ёмкость

5

В цилиндре под подвижным поршнем находится воздух. Поршень начинают очень быстро двигать, так что объём под поршнем резко возрастает (см. рисунок). Как изменятся концентрация и средняя кинетическая энергия поступательного движения молекул воздуха, а также температура воздуха в цилиндре в результате расширения?



Для каждой величины определите характер изменения и поставьте в таблице знак «V» в нужной клетке таблицы.

Величина	Характер изменения величины		
	увеличится	уменьшится	не изменится
Концентрация молекул			
Средняя кинетическая энергия			
Температура воздуха			

6

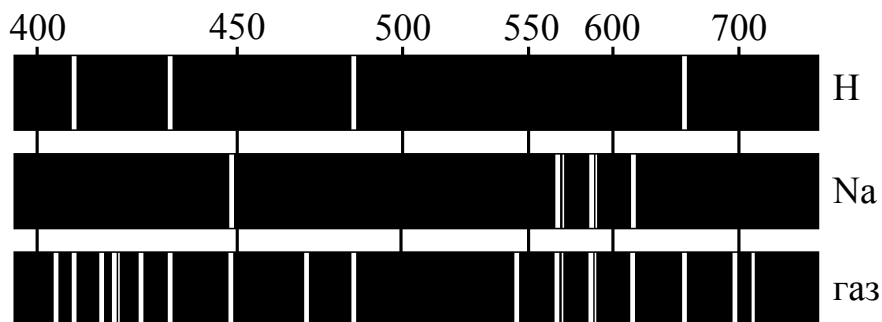
Связанная система элементарных частиц содержит 25 электронов, 32 нейтрона и 27 протонов. Используя фрагмент Периодической системы элементов Д.И. Менделеева, определите ионом или нейтральным атомом какого элемента является эта система.

Mn 25 54,938 Марганец	Fe 26 55,847 Железо	Co 27 58,9332 Кобальт	Ni 28 58,71 Никель
35 Br 79,904 Бром	36 Kr 83,80 Криптон		
Tc 43 [99] Технеций	Ru 44 101,07 Рутений	Rh 45 102,905 Родий	Pd 46 106,4 Палладий

Ответ: _____.

7

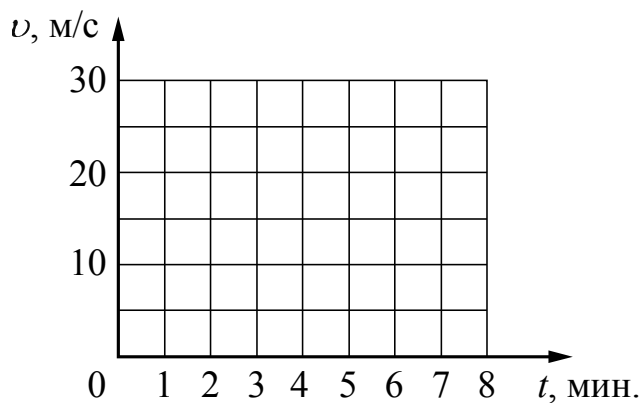
На рисунках приведены спектры излучения атомарных паров водорода, натрия и неизвестного газа (см. рис.). Содержится ли в газе водород и натрий? Ответ поясните.



Ответ: _____

8

Постройте графики зависимости скорости от времени для двух автомобилей, движущихся по прямолинейному участку дороги. Известно, что первый автомобиль в течение 5 мин. едет равномерно со скоростью 36 км/ч. Второй автомобиль, имея в начальный момент времени скорость 90 км/ч, тормозит с постоянным ускорением и через 5 мин. от начала отсчёта останавливается.



9

Электрическая линия для розеток в квартире оснащена автоматическим выключателем, который размыкает линию, если потребляемая включенными приборами суммарная электрическая мощность превышает 5,5 кВт. Напряжение электрической сети 220 В.

В таблице представлены электрические приборы, используемые в квартире, и потребляемый ими электрический ток при напряжении 220 В.

<i>Электрические приборы</i>	<i>Потребляемый электрический ток, А (при напряжении сети 220 В)</i>
Духовка электрическая	10,5
Посудомоечная машина	8,2
Кофеварка	6,8
Микроволновая печь	8,2
Электрический чайник	8,2
Пылесос	3,0
Плазменный телевизор	1,6
Утюг	5,0


В квартире одновременно включили посудомоечную машину, микроволновую печь и утюг? Какой(-ие) из перечисленных выше приборов можно включить в сеть дополнительно к указанным приборам? Запишите решение и ответ.

Решение: _____

Ответ: _____

10

С помощью амперметра проводились измерения силы тока в электрической цепи. Использовалась шкала с пределом измерения 8 А. Погрешность измерений силы тока равна цене деления шкалы амперметра.



Запишите в ответ показания амперметра с учётом погрешности измерений.

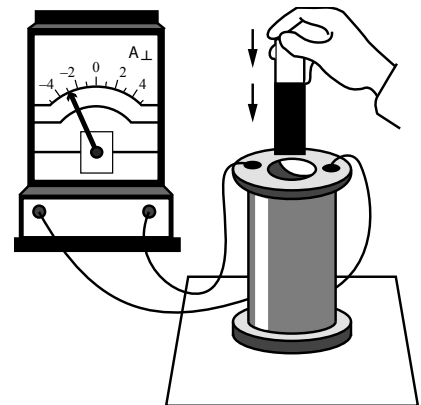
Ответ: _____ А.

Ученик исследовал зависимость силы трения бруска по поверхности стола от массы бруска с грузами. В эксперименте брусок перемещали равномерно и прямолинейно по горизонтальной поверхности с помощью динамометра. В таблице представлены результаты измерений массы бруска с грузами и силы трения с учётом погрешностей измерений.

№ опыта	Масса бруска, г	Сила трения, Н
1	95 ± 5	$0,20 \pm 0,05$
2	200 ± 5	$0,45 \pm 0,05$
3	305 ± 5	$0,60 \pm 0,05$

ОТВЕТ: .

В катушку индуктивности вносят магнит. При этом в её обмотке возникает индукционный ток. Вам необходимо исследовать, зависит ли направление индукционного тока, возникающего в катушке, от направления вектора магнитной индукции поля, создаваемого магнитом. Имеется следующее оборудование (см. рисунок):



Ответ:

13

Установите соответствие между техническими устройствами и физическими явлениями, лежащими в основе принципа их действия.

К каждой позиции первого столбца подберите соответствующую позицию из второго столбца.

ТЕХНИЧЕСКИЕ УСТРОЙСТВА

- А) светящиеся краски, покрывающие, например, ёлочные игрушки
Б) неоновые рекламные трубки

ФИЗИЧЕСКИЕ ЯВЛЕНИЯ

- 1) тлеющий разряд
2) дуговой разряд
3) фотолюминесценция
4) отражение света

Запишите в таблицу выбранные цифры под соответствующими буквами.

Ответ:

А	Б

Прочитайте фрагмент инструкции к электрическому фену для волос и выполните задания 14 и 15.



ВНИМАНИЕ! Держите это устройство подальше от воды. Не используйте его возле воды и ванных труб, душа, бассейнов и подобных, содержащих воду, конструкций.

ВНИМАНИЕ! Во избежание возгораний, ударов электричеством, пожара или нанесения вреда окружающим:

1. Не оставляйте устройство без присмотра, пока оно работает или включено в сеть.
2. Не пользуйтесь устройством, если обнаружите повреждения шнура, штепсельной вилки или других частей устройства. Отнесите устройство в сервисный центр для ремонта.
3. Запрещено самостоятельно ремонтировать устройство.
4. Шнур питания не должен находиться возле горячих предметов. Не скручивайте, не перегибайте, не растягивайте и не обматывайте вокруг корпуса фена шнур питания. Если шнур каким-то образом скручен, выпрямите его перед работой фена.
5. Не закрывайте вентиляционные отверстия фена, иначе он может перегреться.
6. Не кладите устройство на мягкие поверхности.
7. Не допускайте попадания в отверстия устройства каких-либо посторонних предметов.
8. Не используйте фен вне помещения или в местах, где разбрызганы какие-либо аэрозоли (спреи).
9. Не подключайте устройство к розетке или удлинителю одновременно с другими устройствами.

14

Почему в инструкции запрещается использовать фен возле воды и любых конструкций, содержащих воду?

Ответ:

15

Почему в инструкции не рекомендуется подключать фен, потребляющий большую мощность, к удлинителю одновременно с другими устройствами?

Ответ: _____

Прочитайте текст и выполните задания 16–18.

Теплообмен

Теплообмен тела человека с окружающей средой может осуществляться, путём всех трёх видов теплопередачи (теплопроводности, конвекции и излучения), а также за счёт испарения воды с поверхности тела.

Перенос тепла в случае теплопроводности прямо пропорционален разности температуры тела и температуры окружающей среды. Чем больше разность температур, тем интенсивнее происходит теплоотдача энергии живым организмом в окружающую среду. Кроме того, большое значение имеет коэффициент теплопроводности окружающей среды. Известно, что коэффициент теплопроводности для воды (при 20 °С) равен 2,1 кДж/(ч·м·°С), а для сухого воздуха – примерно 0,08 кДж/(ч·м·°С). Поэтому для человека теплопроводность через воздух составляет очень незначительную величину.

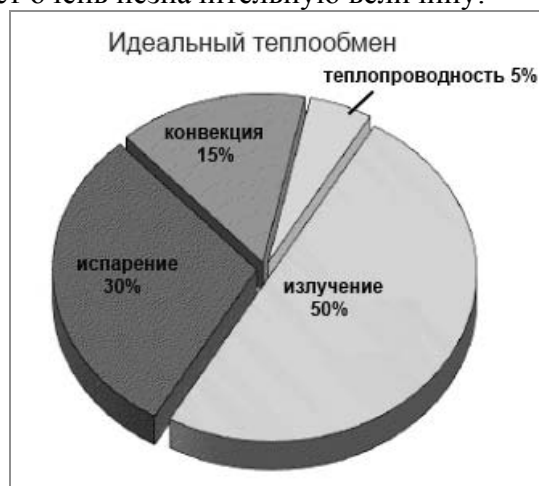
Теплоотдача излучением для человека в состоянии покоя составляет 43–50% всей потери тепла. Излучение человеческого тела характеризуется длиной волны от 5 до 40 мкм с максимальной длиной волны в 9 мкм.

Испарение позволяет охлаждать тело даже в том случае, когда температура окружающей среды выше, чем температура тела. При низкой температуре воздуха конвекция и излучение с поверхности тела человека составляют около 90% общей суточной теплоотдачи, а испарение при дыхании – 9–10%. При температуре 18–20 °С теплоотдача за счёт конвекции и излучения уменьшается, а за счёт испарения увеличивается до 25–27%.

При температуре воздуха 34–35 °С испарение пота становится единственным путём, с помощью которого организм освобождается от избыточного тепла. На каждый литр испарившегося пота кожа теряет количество теплоты, равное 2400 кДж, она становится холоднее, охлаждается и протекающая через неё кровь.

Если при температуре окружающей среды 37–39 °С потеря воды с потом составляет около 300 г/ч, то при температуре 42 °С и более она повышается до 1–2 кг/ч. Испарение эффективно только тогда, когда воздух сухой и подвижный. Если воздух влажный и неподвижный, испарение происходит очень медленно. Вот почему особенно тяжело переносится жара во влажных субтропиках.

Самый простой и наиболее эффективный способ охлаждения организма путём испарения (при невысокой физической активности) – усиление дыхания. Ведь лёгкие работают ещё и в качестве холодильника. Выдыхаемый воздух всегда имеет стопроцентную влажность, а на испарение воды с громадной поверхности лёгких уходит большое количество избыточного тепла. Именно так охлаждают свой организм многие животные.



16

Какой из способов теплообмена вносит наибольший вклад в теплопотери телом человека при температуре воздуха около 35°C ?

Ответ: _____.

17

К какому диапазону электромагнитных волн (радиоволны, инфракрасное излучение, видимый свет, рентгеновское излучение) относится излучение тела человека?

Ответ: _____.

18

В воде тело человека охлаждается гораздо быстрее, чем в воздухе такой же температуры. За счёт каких основных видов теплопередачи это происходит? Ответ поясните.

Ответ: _____

ВСЕРОССИЙСКАЯ ПРОВЕРОЧНАЯ РАБОТА**ФИЗИКА****11 КЛАСС****Инструкция по выполнению работы**

Проверочная работа включает в себя 18 заданий. На выполнение работы по физике отводится 1 час 30 минут (90 минут).

Оформляйте ответы в тексте работы в отведённых для этого местах согласно инструкциям к заданиям. В случае записи неверного ответа зачеркните его и запишите рядом новый.

При выполнении работы разрешается использовать калькулятор.

При выполнении заданий Вы можете использовать черновик. Записи в черновике проверяться и оцениваться не будут.

Советуем выполнять задания в том порядке, в котором они даны. Для экономии времени пропускайте задание, которое не удаётся выполнить сразу, и переходите к следующему. Если после выполнения всей работы у Вас останется время, Вы сможете вернуться к пропущенным заданиям.

Баллы, полученные Вами за выполненные задания, суммируются. Постарайтесь выполнить как можно больше заданий и набрать наибольшее количество баллов.

Желаем успеха!

Ниже приведены справочные данные, которые могут понадобиться Вам при выполнении работы.

Десятичные приставки

Наименование	Обозначение	Множитель	Наименование	Обозначение	Множитель
гига	Г	10^9	санти	с	10^{-2}
мега	М	10^6	милли	м	10^{-3}
кило	к	10^3	микро	мк	10^{-6}
гекто	г	10^2	нано	н	10^{-9}
деци	д	10^{-1}	пико	п	10^{-12}

Константы

ускорение свободного падения на Земле

$$g = 10 \text{ м/с}^2$$

гравитационная постоянная

$$G = 6,7 \cdot 10^{-11} \text{ Н} \cdot \text{м}^2/\text{кг}^2$$

универсальная газовая постоянная

$$R = 8,31 \text{ Дж}/(\text{моль} \cdot \text{К})$$

скорость света в вакууме

$$c = 3 \cdot 10^8 \text{ м/с}$$

коэффициент пропорциональности в законе Кулона

$$k = 9 \cdot 10^9 \text{ Н} \cdot \text{м}^2/\text{Кл}^2$$

модуль заряда электрона

$$e = 1,6 \cdot 10^{-19} \text{ Кл}$$

(элементарный электрический заряд)

$$h = 6,6 \cdot 10^{-34} \text{ Дж} \cdot \text{с}$$

постоянная Планка

1 Прочитайте перечень понятий, с которыми Вы встречались в курсе физики:

ареометр, плотность, электрическая ёмкость, манометр, электрометр, магнитный поток

Разделите эти понятия на две группы по выбранному Вами признаку. Запишите в таблицу название каждой группы и понятия, входящие в эту группу.

Название группы понятий	Перечень понятий

2 Выберите **два** верных утверждения о физических явлениях, величинах и закономерностях. Запишите в ответ их номера.

- 1) При неравномерном движении по окружности ускорение тела всегда направлено по радиусу к центру окружности.
- 2) Давление смеси газов равно сумме их парциальных давлений.
- 3) Напряжение на концах цепочки из последовательно соединённых резисторов равно сумме напряжений на каждом резисторе.
- 4) Если замкнутый проводящий контур покоится в однородном магнитном поле, то в нём возникает индукционный ток.
- 5) Спектры излучения атомов двух разных химических элементов могут полностью совпадать.

Ответ:

--	--

3 Для проведения опыта собрали электрическую цепь, изображённую на рисунке. При замыкании цепи сначала загорелась лампочка 2, а затем лампочка 1.



Какое явление привело к тому, что лампочка 1 загорелась позже, чем лампочка 2?

Ответ: _____.

4

Прочитайте текст и вставьте на место пропусков слова (словосочетания) из приведённого списка.

В закрытом подвижном поршнем цилиндре находится воздух и небольшое количество топлива. При быстром нажатии на поршень воздух в цилиндре _____, температура воздуха _____ и топливо воспламеняется (см. рисунок). При быстром нажатии на поршень количество теплоты от газа в цилиндре не успеет передаться наружу, и происходящий с воздухом процесс можно считать _____.



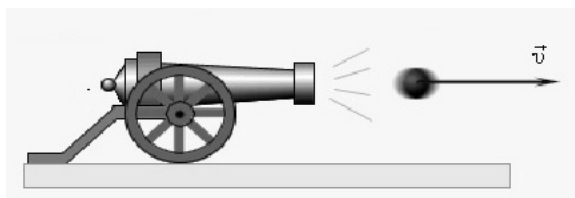
Рисунок

Список слов и словосочетаний

сжимается
расширяется
резко повышается
резко понижается
изохорным
адиабатным
изотермическим

5

Как меняются в момент выстрела модуль импульса ядра, модуль импульса орудия и полный импульс системы орудие-ядро (см. рисунок)?



Для каждой величины определите характер изменения и поставьте в таблице знак «V» в нужной клетке таблицы.

Величина	Характер изменения величины		
	увеличилась	уменьшилась	не изменилась
Модуль импульса ядра			
Модуль импульса орудия			
Полный импульс системы			

6

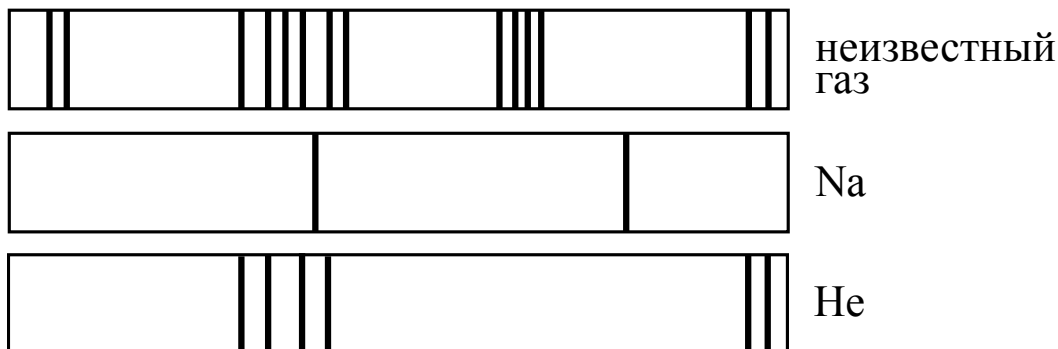
Связанная система элементарных частиц содержит 78 электронов, 118 нейтронов и 79 протонов. Используя фрагмент Периодической системы элементов Д.И. Менделеева, определите ионом или нейтральным атомом какого элемента является эта система.

47 Ag 107,868 Серебро	48 Cd 112,40 Кадмий	49 In 114,82 Индий	50 Sn 118,69 Олово
55 Cs 132,905 Цезий	56 Ba 137,34 Барий	57 La * 138,81 Лантан	72 Hf 178,49 Гафний
79 Au 196,967 Золото	80 Hg 200,59 Ртуть	81 Tl 204,37 Таллий	82 Pb 207,19 Свинец
87 Fr [223] Франций	88 Ra [226] Радий	89 Ac ** [227] Актиний	104 Rf [261] Резерфордий

Ответ: _____.

7

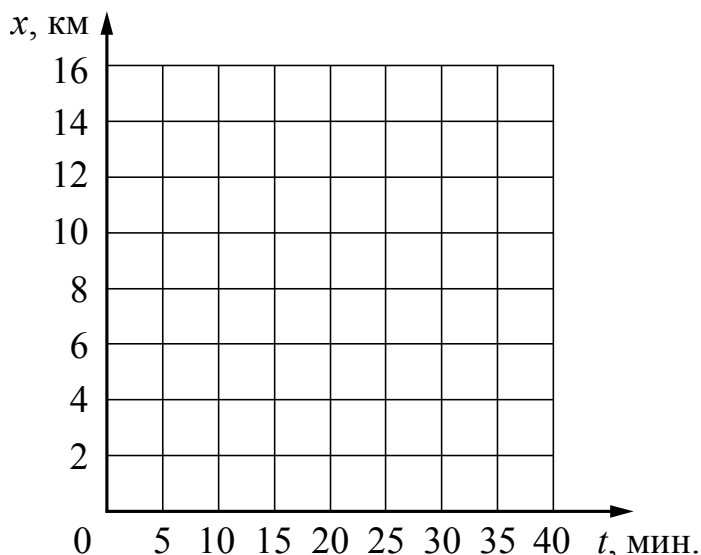
На рисунках приведены спектры излучения атомарных паров натрия, неизвестного газа и гелия (см. рис.). Содержатся ли в газе гелий и натрий? Ответ поясните.



Ответ: _____

8

На прямолинейном участке шоссе находятся населённые пункты A , B и C . Координаты пунктов на оси Ox составляют, соответственно, 2 км, 8 км и 13 км. В начальный момент времени из пункта A начинает движение автобус и через 15 мин. доезжает до пункта B . Не останавливаясь в пункте B , ещё через 10 мин. он достигает пункта C . Постройте график зависимости координаты автобуса от времени на всём пути. Движение между пунктами A и B , а также между пунктами B и C считать равномерным.



9

В мастерской Ивана Петровича электрическая линия для розеток оснащена автоматическим выключателем, который размыкает линию, если сила тока в ней превышает 16 А. Напряжение электрической сети 220 В.

В таблице представлены электрические приборы, используемые в мастерской, и потребляемая ими мощность.

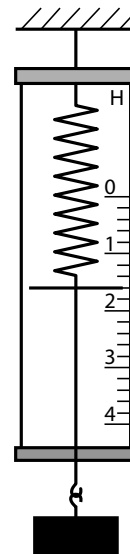
<i>Электрические приборы</i>	<i>Потребляемая мощность, Вт</i>
Электрический рубанок	800
Электрическая ударная дрель	1400
Электрический лобзик	600
Шлифовальная машина	1900
Циркулярная пила	1600
Торцовочная пила	2200

В мастерской работает торцовочная пила. Какой(-ие) из указанных выше приборов можно включить в сеть дополнительно к торцовочной пиле? Запишите решение и ответ.

Решение: _____

Ответ: _____

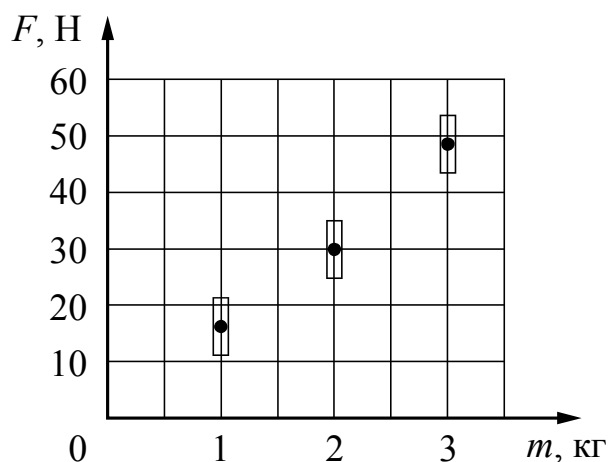
- 10 С помощью динамометра измеряли вес груза. Погрешность измерений равна половине цены деления шкалы динамометра.



Запишите в ответ показания динамометра с учётом погрешности измерений.

Ответ: _____ Н.

- 11 Космонавты исследовали зависимость силы тяжести от массы тела на посещённой ими планете. Погрешность измерения силы тяжести равна 5 Н, а массы тела – 50 г. Результаты измерений с учётом их погрешности представлены на графике.



Каково приблизительно ускорение свободного падения на планете?

Ответ: _____ м/с^2 .

Прочитайте фрагмент инструкции к посудомоечной машине и выполните задания 14 и 15.

Забывтая посуда?

Забывтую посуду можно добавить в любой момент времени до того, как откроется емкость с моющим средством.

1 Слегка приоткрыть дверцу, чтобы остановить цикл мойки.

4 Закрыть дверцу.

2 После того, как форсунки перестают работать, можно открыть дверцу полностью.

5 Посудомоечная машина начнет работать спустя 10 секунд.

3 Добавить забывтую посуду.

ПРЕДОСТЕРЕЖЕНИЕ!

Опасно открывать дверцу машины во время мойки.

ИНСТРУКЦИИ ПО ЗАЗЕМЛЕНИЮ

Данный прибор должен иметь заземление. В случае неисправности или поломки заземление уменьшит опасность удара электрическим током, обеспечив путь наименьшего сопротивления для электрического тока. Данный прибор оборудован шнуром, включающим проводник заземления оборудования и заземляющий штекер. Штекер должен быть подключен к соответствующей розетке, которая устанавливается и заземляется в соответствии со всеми местными стандартами и требованиями.

ПРЕДОСТЕРЕЖЕНИЕ!

Неправильное подключение проводника заземления оборудования может привести к опасности удара электрическим током. Необходимо обратиться к квалифицированному электрику или сервисному представителю, если существуют сомнения относительно правильного заземления прибора. Запрещается заменять штекер, входящий в комплект поставки прибора; если он не подходит к розетке. Необходимо наличие соответствующей розетки, установленной квалифицированным электриком.

14

В инструкции не рекомендуется резко открывать дверцу посудомоечной машины во время работы. Почему это может представлять опасность?

Ответ: _____


15

Почему в инструкции запрещается менять штекер (вилку), если он не подходит к розетке?

Ответ: _____

Прочитайте текст и выполните задания 16–18.**Бенджамин Франклин**

Бенджамин Франклин, американский учёный, дипломат и политический деятель, внёс огромный вклад в изучение электрических явлений. Именно Франклин ввёл в науку новые термины, которые используются и в современной электротехнике. Речь идёт о «положительном» и «отрицательном» электричестве, или, как он пишет, «предпочтительнее – «плюсе» и «минусе». Среди многих замечательных исследований Франклина наибольшую славу принесли ему знаменитые опыты по изучению атмосферного электричества, позволившие экспериментально доказать тождественность явлений «обыкновенного» электричества и молнии.



Для этого Франклин решил воспользоваться результатами своих наблюдений о свойствах остроконечных предметов притягивать «электрическую субстанцию». Тогда и молния должна притягиваться к остриям. Он предположил, что для отвода удара молнии в землю можно использовать «заостренные железные пруть».

Франклин изготовил воздушного змея, но вместо бумаги натянул на деревянные планки шёлковый платок, поскольку шёлк не намокает от дождя так быстро, как бумага.



Он писал: «К верхнему концу деревянной крестовины змея нужно прикрепить кусок проволоки с острым концом, чтобы он выступал за край не меньше, чем на фут. Конец бечёвки следует подвязать шёлковой лентой, за которую берутся рукой, а в месте соединения бечёвки с лентой нужно привязать ключ. Во время грозы необходимо следить за

тем, чтобы шёлковая лента не намочила, а бечёвка не касалась дверного косяка или оконной рамы. Как только грозовая туча окажется над змеем, заостренная проволока станет извлекать из неё электрический огонь, и змей вместе с бечёвкой наэлектризуется. А когда дождь смочит бечёвку, сделав её способной проводить электрический огонь, Вы увидите, как он обильно стекает с ключа при приближении вашего пальца. При этом от ключа можно зарядить банку..., воспламенить спирт и проводить прочие электрические опыты, которые обычно ставятся при помощи натертого стеклянного шара или трубки».

Франклин пытался проникнуть в сущность природы электричества. С современной точки зрения, важное значение имело его утверждение о том, что «электрическую субстанцию» нельзя создать или уничтожить, а можно только перераспределить.

16

Какую гипотезу предложил проверить Франклин в опыте с воздушным змеем?

Ответ: _____

- 17 Какой физический закон, по сути, сформулировал Франклин, говоря о том, что «электрическую субстанцию» нельзя создать или уничтожить, а можно только перераспределить?

☐ Ответ: _____.

- 18 В описании опыта Франклин делает предупреждение о том, что бечёвка не должна касаться дверного косяка или оконной рамы. Что произойдёт, если бечевка коснется оконной рамы? Ответ поясните.

☐ Ответ: _____

ВСЕРОССИЙСКАЯ ПРОВЕРОЧНАЯ РАБОТА

ФИЗИКА

11 КЛАСС

Инструкция по выполнению работы

Проверочная работа включает в себя 18 заданий. На выполнение работы по физике отводится 1 час 30 минут (90 минут).

Оформляйте ответы в тексте работы в отведённых для этого местах согласно инструкциям к заданиям. В случае записи неверного ответа зачеркните его и запишите рядом новый.

При выполнении работы разрешается использовать калькулятор.

При выполнении заданий Вы можете использовать черновик. Записи в черновике проверяться и оцениваться не будут.

Советуем выполнять задания в том порядке, в котором они даны. Для экономии времени пропускайте задание, которое не удаётся выполнить сразу, и переходите к следующему. Если после выполнения всей работы у Вас останется время, Вы сможете вернуться к пропущенным заданиям.

Баллы, полученные Вами за выполненные задания, суммируются. Постарайтесь выполнить как можно больше заданий и набрать наибольшее количество баллов.

Желаем успеха!

Ниже приведены справочные данные, которые могут понадобиться Вам при выполнении работы.

Десятичные приставки

Наименование	Обозначение	Множитель	Наименование	Обозначение	Множитель
гига	Г	10^9	санти	с	10^{-2}
мега	М	10^6	милли	м	10^{-3}
кило	к	10^3	микро	мк	10^{-6}
гекто	г	10^2	нано	н	10^{-9}
деци	д	10^{-1}	пико	п	10^{-12}

Константы

ускорение свободного падения на Земле

$$g = 10 \text{ м/с}^2$$

гравитационная постоянная

$$G = 6,7 \cdot 10^{-11} \text{ Н} \cdot \text{м}^2/\text{кг}^2$$

универсальная газовая постоянная

$$R = 8,31 \text{ Дж}/(\text{моль} \cdot \text{К})$$

скорость света в вакууме

$$c = 3 \cdot 10^8 \text{ м/с}$$

коэффициент пропорциональности в законе Кулона

$$k = 9 \cdot 10^9 \text{ Н} \cdot \text{м}^2/\text{Кл}^2$$

модуль заряда электрона

$$e = 1,6 \cdot 10^{-19} \text{ Кл}$$

(элементарный электрический заряд)

$$h = 6,6 \cdot 10^{-34} \text{ Дж} \cdot \text{с}$$

постоянная Планка

1 Прочитайте перечень понятий, с которыми Вы встречались в курсе физики:

электромагнитная индукция, вектор магнитной индукции, индуктивность, самоиндукция, объём, диффузия

Разделите эти понятия на две группы по выбранному Вами признаку. Запишите в таблицу название каждой группы и понятия, входящие в эту группу.

Название группы понятий	Перечень понятий

2 Выберите **два** верных утверждения о физических явлениях, величинах и закономерностях. Запишите в ответ их номера.

- 1) Траекторией называется линия, которую описывает материальная точка при своём движении.
- 2) Броуновским движением называют самопроизвольное перемешивание газов или жидкостей.
- 3) В цепи постоянного тока на всех параллельно соединённых резисторах напряжение одинаково.
- 4) Электромагнитные волны ультрафиолетового диапазона имеют бóльшую длину волны, чем радиоволны.
- 5) Атом излучает фотоны при ускоренном движении электронов вокруг ядра.

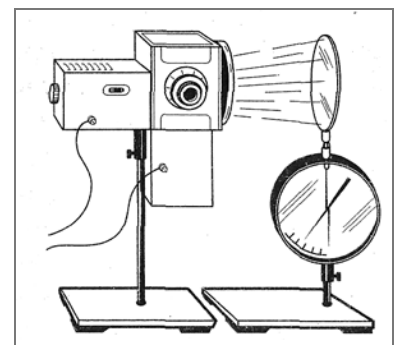
Ответ:

--	--

3 Цинковую пластину закрепили на стержне электроскопа и прикоснулись к ней отрицательно заряженной эбонитовой палочкой. Затем на заряженную цинковую пластину направили свет ультрафиолетовой лампы (см. рис.). Через небольшой промежуток времени пластина потеряла свой заряд, и стрелка электроскопа вернулась в вертикальное состояние.

Какое явление вызывало потерю заряда пластины?

Ответ: _____.



4

Прочитайте текст и вставьте на место пропусков слова из приведённого списка.

В сосуде, закрытом пробкой, через которую пропущен шланг насоса, находится небольшое количество воды. При нагнетании в сосуд воздуха давление в сосуде _____, и пробка вылетает из сосуда. При этом в сосуде наблюдается туман (см. рисунок), так как при быстром расширении температура воздуха в сосуде _____.

При быстром процессе вылетания пробки теплообмен не успевает произойти, и происходящий с воздухом процесс можно считать _____.



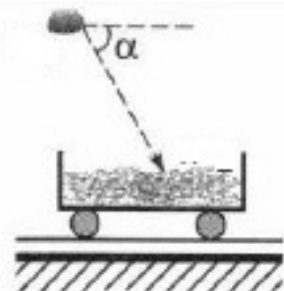
Рисунок

Список слов

повышается
понижается
не изменяется
изохорным
адиабатным
изотермическим

5

Летающий под углом α к горизонту камень попадает в нагруженную песком неподвижную тележку. Как в момент падения меняется модуль проекции импульса на горизонтальную ось для камня, тележки и системы тел «камень-тележка»?



Для каждой величины определите характер изменения и поставьте в таблице знак «V» в нужной клетке таблицы.

Величина	Характер изменения величины		
	увеличивается	уменьшается	не изменяется
Модуль проекции импульса камня			
Модуль проекции импульса тележки			
Модуль проекции полного импульса системы тел			

6


Связанная система элементарных частиц содержит 54 электрона, 82 нейтрона и 57 протонов. Используя фрагмент Периодической системы элементов Д.И. Менделеева, определите ионом или нейтральным атомом какого элемента является эта система.

47 Ag 107,868 Серебро	48 Cd 112,40 Кадмий	49 In 114,82 Индий	50 Sn 118,69 Олово
55 Cs 132,905 Цезий	56 Ba 137,34 Барий	57 La* 138,81 Лантан	72 Hf 178,49 Гафний
79 Au 196,967 Золото	80 Hg 200,59 Ртуть	81 Tl 204,37 Таллий	82 Pb 207,19 Свинец
87 Fr [223] Франций	88 Ra [226] Радий	89 Ac** [227] Актиний	104 Rf [261] Резерфордий

Ответ: _____.

7

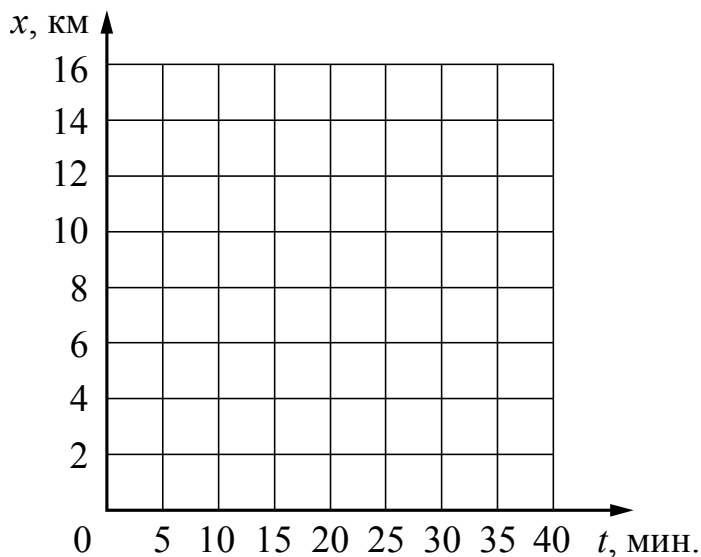
На рисунках приведены спектры излучения атомарных паров гелия, неизвестного газа и натрия (см. рис.). Содержится ли в газе гелий и натрий? Ответ поясните.



Ответ: _____

8

На прямолинейном участке шоссе находятся населённые пункты A , B и C . Координаты пунктов на оси Ox составляют, соответственно, 5 км, 8 км и 15 км. В начальный момент времени из пункта A начинается движение автомобиля, который через 5 мин. доезжает до пункта B . Не останавливаясь в пункте B , ещё через 20 мин. он достигает пункта C . Постройте график зависимости координаты автомобиля от времени на всём пути. Движение между пунктами A и B , а также между пунктами B и C считать равномерным.



9

В мастерской Ивана Петровича электрическая линия для розеток оснащена автоматическим выключателем, который размыкает линию, если потребляемая включенными приборами суммарная электрическая мощность превышает 3,5 кВт. Напряжение электрической сети 220 В.

В таблице представлены электрические приборы, используемые в мастерской, и потребляемый ими электрический ток при напряжении 220 В.

<i>Электрические приборы</i>	<i>Потребляемый электрический ток, А (при напряжении сети 220 В)</i>
Электрический рубанок	3,6
Электрическая ударная дрель	6,4
Электрический лобзик	2,7
Шлифовальная машина	8,6
Циркулярная пила	7,3
Торцовочная пила	10,0

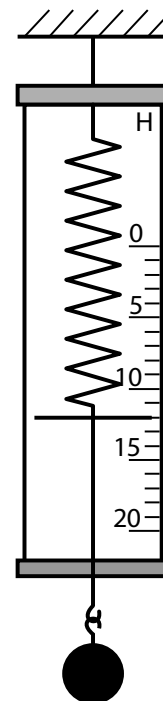
В мастерской работает торцовочная пила. Какой(-ие) из указанных выше приборов можно включить в сеть дополнительно к торцовочной пиле? Запишите решение и ответ.

Решение: _____

Ответ: _____

10

С помощью динамометра измеряли вес груза. Погрешность измерений равна цене деления шкалы динамометра.

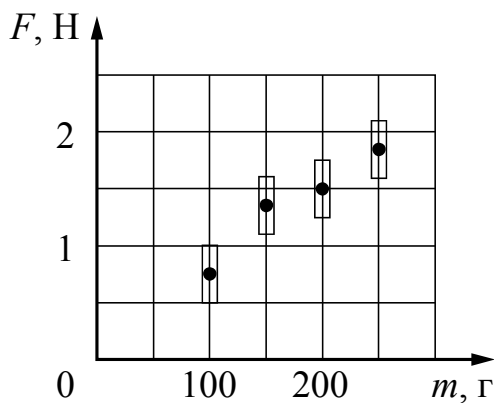


Запишите в ответ показания динамометра с учётом погрешности измерений.

Ответ: _____ Н.

11

Космонавты исследовали зависимость силы тяжести от массы тела на посещённой ими планете. Погрешность измерения силы тяжести равна $0,25 \text{ Н}$, а массы тела – 5 г . Результаты измерений с учётом их погрешности представлены на графике.



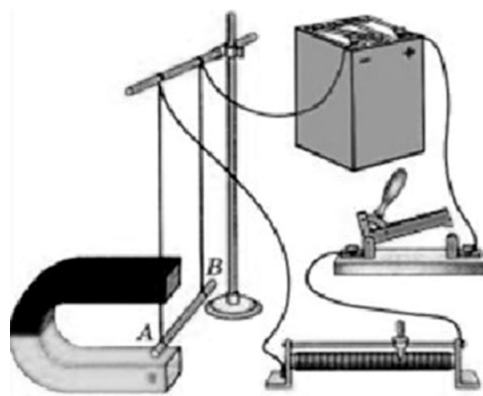
Каково приблизительно ускорение свободного падения на планете?

Ответ: м/с^2 .

12

Вам необходимо исследовать, зависит ли направление силы Ампера, действующей на проводник с током в магнитном поле, от направления вектора индукции магнитного поля. Имеется следующее оборудование (см. рисунок):

- источник постоянного тока, ключ, реостат;
- проводник (на рис. проводник AB);
- три одинаковых постоянных подковообразных магнита;
- штатив, соединительные провода.



В ответе:

1. Опишите экспериментальную установку.
2. Опишите порядок действий при проведении исследования.

Ответ:

13

Установите соответствие между техническими устройствами и физическими явлениями, лежащими в основе принципа их действия.

К каждой позиции первого столбца подберите соответствующую позицию из второго столбца.

ТЕХНИЧЕСКИЕ УСТРОЙСТВА

- А) световоды
Б) просветленная оптика в фотоаппаратах и видеокамерах

ФИЗИЧЕСКИЕ ЯВЛЕНИЯ

- 1) интерференция света
2) преломление света
3) дифракция света
4) полное внутреннее отражение света

Запишите в таблицу выбранные цифры под соответствующими буквами.

Ответ:

А	Б

Прочитайте фрагмент инструкции к микроволновой печи и выполните задания 14 и 15.

СВЧ-излучение фактически проникает в пищу, поглощаясь содержащимся в пище водой, жиром и сахаром. Электромагнитные волны заставляют молекулы пищи быстро колебаться. Быстрые колебания этих молекул и есть, по сути, то «тепло», которое готовит пищу.

Кухонная посуда должна позволять микроволнам проходить через неё для обеспечения максимальной эффективности приготовления. Микроволны отражаются металлами, такими как нержавеющая сталь, алюминий и медь, но они могут проходить сквозь керамику, стекло, фарфор и пластмассу, а также через бумагу и дерево. Поэтому пища никогда не должна готовиться в металлической посуде.

⚠ Предупреждение
Опасность, связанная с магнитным полем!
В панели управления или в элементах управления встроены постоянные магниты, которые могут воздействовать на электронные имплантаты, например, на кардиостимулятор или инжектор инсулина. Если вы используете электронные имплантаты, соблюдайте минимальное расстояние до панели управления 10 см.

14 Почему нельзя разогревать в микроволновой печи суп в закрытой стальной кастрюле?

Ответ: _____

15 Почему в инструкции людям с кардиостимуляторами запрещается слишком близко приближаться к микроволновой печи?

Ответ: _____

Прочитайте текст и выполните задания 16–18.

Теплообмен

Теплообмен тела человека с окружающей средой может осуществляться, путём всех трёх видов теплопередачи (теплопроводности, конвекции и излучения), а также за счёт испарения воды с поверхности тела.

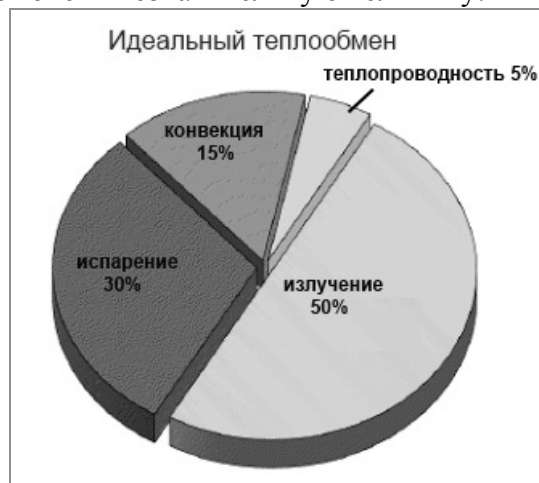
Перенос тепла в случае теплопроводности прямо пропорционален разности температуры тела и температуры окружающей среды. Чем больше разность температур, тем интенсивнее происходит теплоотдача энергии живым организмом в окружающую среду. Кроме того, большое значение имеет коэффициент теплопроводности окружающей среды. Известно, что коэффициент теплопроводности для воды (при 20 °С) равен 2,1 кДж/(ч·м·°С), а для сухого воздуха – примерно 0,08 кДж/(ч·м·°С). Поэтому для человека теплопроводность через воздух составляет очень незначительную величину.

Теплоотдача излучением для человека в состоянии покоя составляет 43–50% всей потери тепла. Излучение человеческого тела характеризуется длиной волны от 5 до 40 мкм с максимальной длиной волны в 9 мкм.

Испарение позволяет охлаждать тело даже в том случае, когда температура окружающей среды выше, чем температура тела. При низкой температуре воздуха конвекция и излучение с поверхности тела человека составляют около 90% общей суточной теплоотдачи, а испарение при дыхании – 9–10%. При температуре 18–20 °С теплоотдача за счёт конвекции и излучения уменьшается, а за счёт испарения увеличивается до 25–27%.

При температуре воздуха 34–35 °С испарение пота становится единственным путём, с помощью которого организм освобождается от избыточного тепла. На каждый литр испарившегося пота кожа теряет количество теплоты, равное 2400 кДж, она становится холоднее, охлаждается и протекающая через неё кровь.

Если при температуре окружающей среды 37–39 °С потеря воды с потом составляет около 300 г/ч, то при температуре 42 °С и более она повышается до 1–2 кг/ч. Испарение эффективно только тогда, когда воздух сухой и подвижный. Если воздух влажный



и неподвижный, испарение происходит очень медленно. Вот почему особенно тяжело переносится жара во влажных субтропиках.

Самый простой и наиболее эффективный способ охлаждения организма путём испарения (при невысокой физической активности) – усиление дыхания. Ведь лёгкие работают ещё и в качестве холодильника. Выдыхаемый воздух всегда имеет стопроцентную влажность, а на испарение воды с громадной поверхности лёгких уходит большое количество избыточного тепла. Именно так охлаждают свой организм многие животные.

16 Вставьте в предложение пропущенные слова, используя информацию из текста.

Лёгкие работают в качестве холодильника, так как выдыхаемый воздух имеет _____, а на _____ затрачивается большое количество теплоты.

17 Какое примерно количество теплоты отдаёт тело человека каждый час в процессе испарения пота при температуре окружающей среды 37–39 °С?

Ответ: _____.

18 В таблице приведены данные о теплоотдаче тела человека посредством различных способов.

<i>Способ теплоотдачи</i>	<i>Процент теплоотдачи организма за сутки, %</i>
Излучение	43,0
Конвекция	22,0
Испарение через кожу	17,5
Испарение через лёгкие	9,0
Нагревание вдыхаемого воздуха	3,5
Прочее	5,0
Всего	100,0

Какому диапазону температур воздуха соответствует такое распределение тепловых потерь (в отсутствии физических нагрузок)? Ответ поясните.

Ответ: _____

ВСЕРОССИЙСКАЯ ПРОВЕРОЧНАЯ РАБОТА

ФИЗИКА

11 КЛАСС

Инструкция по выполнению работы

Проверочная работа включает в себя 18 заданий. На выполнение работы по физике отводится 1 час 30 минут (90 минут).

Оформляйте ответы в тексте работы в отведённых для этого местах согласно инструкциям к заданиям. В случае записи неверного ответа зачеркните его и запишите рядом новый.

При выполнении работы разрешается использовать калькулятор.

При выполнении заданий Вы можете использовать черновик. Записи в черновике проверяться и оцениваться не будут.

Советуем выполнять задания в том порядке, в котором они даны. Для экономии времени пропускайте задание, которое не удаётся выполнить сразу, и переходите к следующему. Если после выполнения всей работы у Вас останется время, Вы сможете вернуться к пропущенным заданиям.

Баллы, полученные Вами за выполненные задания, суммируются. Постарайтесь выполнить как можно больше заданий и набрать наибольшее количество баллов.

Желаем успеха!

Ниже приведены справочные данные, которые могут понадобиться Вам при выполнении работы.

Десятичные приставки

Наименование	Обозначение	Множитель	Наименование	Обозначение	Множитель
гига	Г	10^9	санти	с	10^{-2}
мега	М	10^6	милли	м	10^{-3}
кило	к	10^3	микро	мк	10^{-6}
гекто	г	10^2	нано	н	10^{-9}
деци	д	10^{-1}	пико	п	10^{-12}

Константы

ускорение свободного падения на Земле

$$g = 10 \text{ м/с}^2$$

гравитационная постоянная

$$G = 6,7 \cdot 10^{-11} \text{ Н} \cdot \text{м}^2/\text{кг}^2$$

универсальная газовая постоянная

$$R = 8,31 \text{ Дж}/(\text{моль} \cdot \text{К})$$

скорость света в вакууме

$$c = 3 \cdot 10^8 \text{ м/с}$$

коэффициент пропорциональности в законе Кулона

$$k = 9 \cdot 10^9 \text{ Н} \cdot \text{м}^2/\text{Кл}^2$$

модуль заряда электрона

$$e = 1,6 \cdot 10^{-19} \text{ Кл}$$

(элементарный электрический заряд)

$$h = 6,6 \cdot 10^{-34} \text{ Дж} \cdot \text{с}$$

постоянная Планка

1 Прочитайте перечень понятий, с которыми Вы встречались в курсе физики:

барометр-анероид, электрометр, километр, килоньютон, фарад, дозиметр

Разделите эти понятия на две группы по выбранному Вами признаку. Запишите в таблицу название каждой группы и понятия, входящие в эту группу.

Название группы понятий	Перечень понятий

2 Выберите **два** верных утверждения о физических явлениях, величинах и закономерностях. Запишите в ответ их номера.

- 1) Механическим движением называется изменение положения тела или частей тела в пространстве относительно других тел с течением времени.
- 2) Изобарным называются процесс, происходящий с газом при неизменной температуре.
- 3) В процессе электризации трением два тела приобретают разноимённые по знаку, но одинаковые по модулю заряды.
- 4) Явление дифракции не может наблюдаться для электромагнитных волн длинноволновой части радиодиапазона.
- 5) Изотопами называются ядра с одинаковым числом нейтронов, но разным числом протонов.

Ответ:

--	--

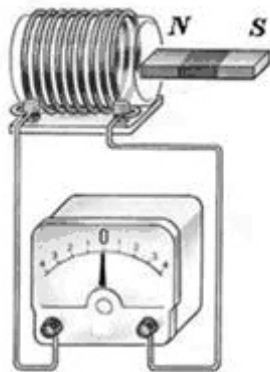
3 При резком торможении автобуса пассажиры непроизвольно наклоняются вперед. Проявление какого физического явления наблюдается в этом случае?

Ответ: _____.

4

Прочитайте текст и вставьте на место пропусков слова (словосочетания) из приведённого списка.

Рассмотрим опыт с полосовым магнитом и катушкой, замкнутой на _____ (см. рисунок). Пока магнит находится в покое, электрический ток через катушку не протекает. Если вносить магнит в катушку, то в катушке появится электрический ток, о чём свидетельствует отклонение стрелки прибора. При вынесении магнита из катушки _____. Следовательно, возникновение электрического тока в катушке объясняется _____ в катушке.



Рисунок

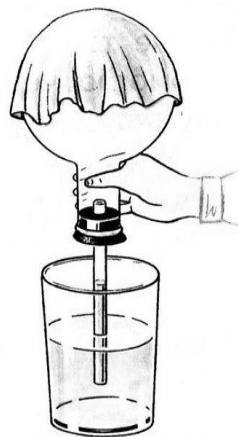
Список слов и словосочетаний

направление тока меняется на противоположное
сила тока в катушке резко уменьшается
электрический ток в катушке отсутствует
наличие магнитного поля
изменение магнитного поля
вольтметр
гальванометр

5

В колбу с воздухом через пробку вставлена стеклянная трубка. Колбу перевернули, опустив стеклянную трубку в стакан с водой, и начали охлаждать смоченной холодной водой тканью (см. рисунок). Как будут изменяться масса, объём и внутренняя энергия воздуха в колбе в результате охлаждения?

Для каждой величины определите характер изменения и поставьте в таблице знак «V» в нужной клетке таблицы.



Величина	Характер изменения величины		
	увеличивается	уменьшается	не изменяется
Масса			
Объём			
Внутренняя энергия			

6


Связанная система элементарных частиц содержит 56 электронов, 81 нейтрон и 56 протонов. Используя фрагмент Периодической системы элементов Д.И. Менделеева, определите ионом или нейтральным атомом какого элемента является эта система.

47 Ag 107,868 Серебро	48 Cd 112,40 Кадмий	49 In 114,82 Индий	50 Sn 118,69 Олово
55 Cs 132,905 Цезий	56 Ba 137,34 Барий	57 La* 138,81 Лантан	72 Hf 178,49 Гафний
79 Au 196,967 Золото	80 Hg 200,59 Ртуть	81 Tl 204,37 Таллий	82 Pb 207,19 Свинец
87 Fr [223] Франций	88 Ra [226] Радий	89 Ac** [227] Актиний	104 Rf [261] Резерфордий

Ответ: _____.

7

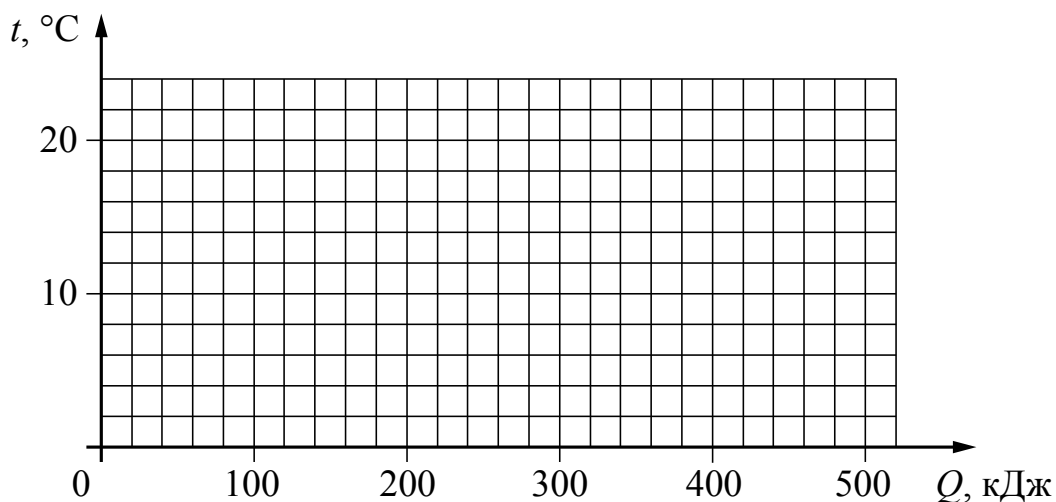
На рисунках приведены спектры излучения атомарных паров водорода, неизвестного газа и натрия (см. рис.). Содержится ли в газе водород и натрий? Ответ поясните.



Ответ: _____

8

Воду, первоначальная температура которой равна $20\text{ }^{\circ}\text{C}$, помещают в морозильную камеру. В процессе охлаждения до температуры кристаллизации вода выделила энергию в 100 кДж , а в процессе кристаллизации примерно 390 кДж . Постройте график зависимости температуры воды от выделившегося количества теплоты.



9

В мастерской Ивана Петровича электрическая линия для розеток оснащена автоматическим выключателем, который размыкает линию, если сила тока в ней превышает 16 А. Напряжение электрической сети 220 В.

В таблице представлены электрические приборы, используемые в мастерской, и потребляемая ими мощность.

<i>Электрические приборы</i>	<i>Потребляемая мощность, Вт</i>
Электрический рубанок	800
Электрическая ударная дрель	1400
Электрический лобзик	600
Шлифовальная машина	1900
Циркулярная пила	1600
Торцовочная пила	2200


В мастерской работает шлифовальная машина. Можно ли дополнительно к шлифовальной машине включить в сеть торцовочную пилу? Запишите решение и ответ.

Решение: _____

Ответ: _____

10

С помощью весов измеряли массу груза. Погрешность измерений равна цене деления шкалы весов.

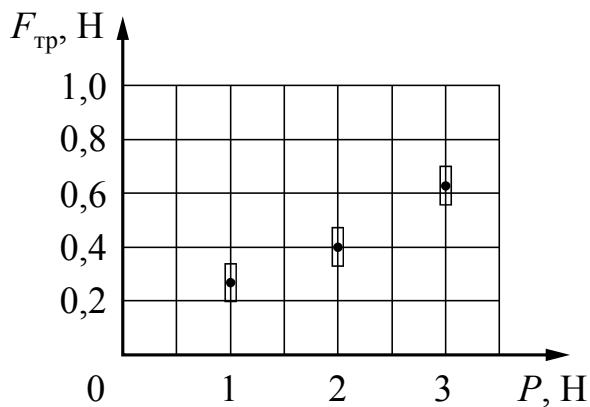


Запишите в ответ показания весов с учётом погрешности измерений.

Ответ: _____ кг.

11

Ученик исследовал зависимость силы трения бруска по поверхности стола от веса бруска с грузами. В эксперименте брусок перемещали равномерно и прямолинейно по горизонтальной поверхности с помощью динамометра. Погрешность измерения сил равна 0,05 Н. Результаты измерений с учётом их погрешности представлены на графике.

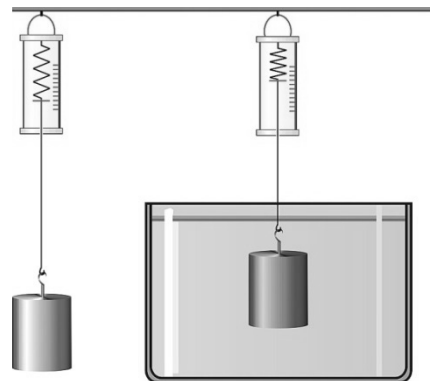


Каков приблизительно коэффициент трения скольжения бруска с грузом по поверхности, на которой проводился эксперимент?

Ответ: _____.

12

- динамометр;
- сосуды с тремя жидкостями: водой, подсолнечным маслом и спиртом;
- набор из трёх стальных грузов объёмом 30 см^3 , 40 см^3 и 80 см^3 .



1. Опишите экспериментальную установку.
2. Опишите порядок действий при проведении исследования.

This image shows a blank sheet of white paper with horizontal ruling lines. The lines are evenly spaced and extend across the width of the page. There are no margins, text, or other markings on the paper.

13

К каждой позиции первого столбца подберите соответствующую позицию из второго столбца.

ФИЗИЧЕСКИЕ ЯВЛЕНИЯ

- 1) интерференция света
- 2) преломление света
- 3) дифракция света
- 4) отражение света

Ответ:

А	Б

Прочитайте фрагмент инструкции к тепловентилятору и выполните задания 14 и 15.

- Убедитесь в том, что напряжение электросети соответствует электрическим требованиям устройства (напряжение 220–240 В, частота 50 Гц).
- Во избежание риска поражения электротоком убедитесь в том, что тип розетки соответствует типу вилки кабеля электропитания устройства. Если вилка не соответствует розетке, проконсультируйтесь с квалифицированным электриком.
- По возможности избегайте подключения устройства к электросети через удлинитель. Никогда не используйте один удлинитель для подключения нескольких обогревателей.

ВНИМАНИЕ!

ВО ИЗБЕЖАНИЕ ПЕРЕГРЕВА НЕ НАКРЫВАЙТЕ УСТРОЙСТВО НИКАКИМИ ПРЕДМЕТАМИ.

14 Почему в инструкции запрещается использовать один удлинитель для подключения нескольких обогревателей, которые относятся к приборам большой мощности?


Ответ: _____

15 Почему в инструкции запрещается накрывать тепловентилятор какими-либо (даже негорючими) предметами?

Ответ: _____

Прочитайте текст и выполните задания 16–18.**Бенджамин Франклин**

Бенджамин Франклин, американский учёный, дипломат и политический деятель, внёс огромный вклад в изучение электрических явлений. Именно Франклин ввёл в науку новые термины, которые используются и в современной электротехнике. Речь идёт о «положительном» и «отрицательном» электричестве, или, как он пишет, «предпочтительнее – «плюсе» и «минусе». Среди многих замечательных исследований Франклина наибольшую славу принесли ему знаменитые опыты по изучению атмосферного электричества, позволившие экспериментально доказать тождественность явлений «обыкновенного» электричества и молнии.



Для этого Франклин решил воспользоваться результатами своих наблюдений о свойствах остроконечных предметов притягивать «электрическую субстанцию». Тогда и молния должна притягиваться к остриям. Он предположил, что для отвода удара молнии в землю можно использовать «заостренные железные пруть».

Франклин изготовил воздушного змея, но вместо бумаги натянул на деревянные планки шёлковый платок, поскольку шёлк не намокает от дождя так быстро, как бумага.



Он писал: «К верхнему концу деревянной крестовины змея нужно прикрепить кусок проволоки с острым концом, чтобы он выступал за край не меньше, чем на фут. Конец бечёвки следует подвязать шёлковой лентой, за которую берутся рукой, а в месте соединения бечёвки с лентой нужно привязать ключ. Во время грозы необходимо следить за

тем, чтобы шёлковая лента не намочила, а бечёвка не касалась дверного косяка или оконной рамы. Как только грозовая туча окажется над змеем, заостренная проволока станет извлекать из неё электрический огонь, и змей вместе с бечёвкой наэлектризуется. А когда дождь смочит бечёвку, сделав её способной проводить электрический огонь, Вы увидите, как он обильно стекает с ключа при приближении вашего пальца. При этом от ключа можно зарядить банку..., воспламенить спирт и проводить прочие электрические опыты, которые обычно ставятся при помощи натертого стеклянного шара или трубки».

Франклин пытался проникнуть в сущность природы электричества. С современной точки зрения, важное значение имело его утверждение о том, что «электрическую субстанцию» нельзя создать или уничтожить, а можно только перераспределить.


16

Какой вывод можно сделать по результатам опыта Франклина с воздушным змеем?

Ответ: _____

17

Франклин на крыше своего дома поместил металлический остроконечный стержень высотой в 9 футов, который соединялся с колодцем железной проволокой. Для какой цели использовалось это устройство?



Ответ: _____.

18

Для каких целей в опыте Франклина использовалась шёлковая лента?
Ответ поясните.

Ответ: _____

ВСЕРОССИЙСКАЯ ПРОВЕРОЧНАЯ РАБОТА

ФИЗИКА

11 КЛАСС

Инструкция по выполнению работы

Проверочная работа включает в себя 18 заданий. На выполнение работы по физике отводится 1 час 30 минут (90 минут).

Оформляйте ответы в тексте работы в отведённых для этого местах согласно инструкциям к заданиям. В случае записи неверного ответа зачеркните его и запишите рядом новый.

При выполнении работы разрешается использовать калькулятор.

При выполнении заданий Вы можете использовать черновик. Записи в черновике проверяться и оцениваться не будут.

Советуем выполнять задания в том порядке, в котором они даны. Для экономии времени пропускайте задание, которое не удаётся выполнить сразу, и переходите к следующему. Если после выполнения всей работы у Вас останется время, Вы сможете вернуться к пропущенным заданиям.

Баллы, полученные Вами за выполненные задания, суммируются. Постарайтесь выполнить как можно больше заданий и набрать наибольшее количество баллов.

Желаем успеха!

Ниже приведены справочные данные, которые могут понадобиться Вам при выполнении работы.

Десятичные приставки

Наименование	Обозначение	Множитель	Наименование	Обозначение	Множитель
гига	Г	10^9	санти	с	10^{-2}
мега	М	10^6	милли	м	10^{-3}
кило	к	10^3	микро	мк	10^{-6}
гекто	г	10^2	нано	н	10^{-9}
деци	д	10^{-1}	пико	п	10^{-12}

Константы

ускорение свободного падения на Земле

$$g = 10 \text{ м/с}^2$$

гравитационная постоянная

$$G = 6,7 \cdot 10^{-11} \text{ Н} \cdot \text{м}^2/\text{кг}^2$$

универсальная газовая постоянная

$$R = 8,31 \text{ Дж}/(\text{моль} \cdot \text{К})$$

скорость света в вакууме

$$c = 3 \cdot 10^8 \text{ м/с}$$

коэффициент пропорциональности в законе Кулона

$$k = 9 \cdot 10^9 \text{ Н} \cdot \text{м}^2/\text{Кл}^2$$

модуль заряда электрона

$$e = 1,6 \cdot 10^{-19} \text{ Кл}$$

(элементарный электрический заряд)

$$h = 6,6 \cdot 10^{-34} \text{ Дж} \cdot \text{с}$$

постоянная Планка

1 Прочитайте перечень понятий, с которыми Вы встречались в курсе физики:

абсолютная температура, магнитный поток, литр, кулон, период колебаний, вольт

Разделите эти понятия на две группы по выбранному Вами признаку. Запишите в таблицу название каждой группы и понятия, входящие в эту группу.

Название группы понятий	Перечень понятий

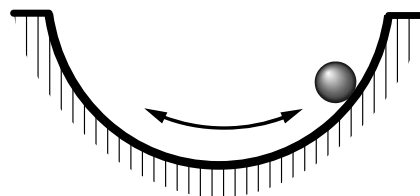
2 Выберите **два** верных утверждения о физических явлениях, величинах и закономерностях. Запишите в ответ их номера.

- 1) Материальной точкой можно считать тело, размерами которого в условиях данной задачи можно пренебречь.
- 2) В процессе плавления постоянной массы вещества его внутренняя энергия уменьшается.
- 3) При преломлении электромагнитных волн на границе двух сред длина волны остаётся неизменной.
- 4) Магнитное поле индукционного тока в контуре всегда препятствует изменению магнитного потока, из-за которого возник этот индукционный ток.
- 5) Изотопы одного и того же элемента содержат одинаковое число нейтронов, но разное число протонов.

Ответ:

--	--

3 Шарик опустили на край лунки ипустили. Шарик движется, периодически проходя положение равновесия, в котором он в конце концов останавливается. Какой вид движения наблюдается в этом случае?



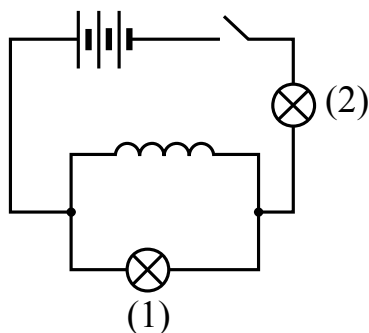
Ответ: _____.

4

Прочитайте текст и вставьте на место пропусков слова из приведённого списка.

В 1832 году американский физик Дж. Генри открыл явление, которое можно увидеть в эксперименте. Схема эксперимента представлена на рисунке.

Генри использовал плоские катушки из полосовой меди, индуктивность которых значительно превышала индуктивность обычных проволочных соленоидов. Опыт показывает, что при наличии в цепи мощной катушки электрический ток при отключении источника тока затухает _____, чем без катушки. Экспериментально это проявлялось в том, что при размыкании цепи _____ гасла раньше по сравнению с _____. Это явление в физике называется _____.



Рисунок

Список слов

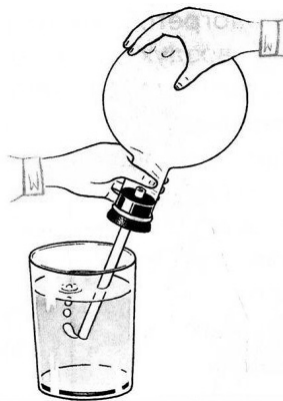
быстрее
медленнее
лампа (1)
лампа (2)
индуктивность
самоиндукция
ёмкость

5

В колбу с воздухом через пробку вставлена стеклянная трубка.

Предварительно охлажденную в холодильнике колбу перевернули, опустив стеклянную трубку в стакан с водой, и начали нагревать рукой. При этом из трубки выходят пузырьки воздуха (см. рисунок). Как будут изменяться масса, плотность и давление воздуха в колбе в результате нагревания?

Для каждой величины определите характер изменения и поставьте в таблице знак «У» в нужной клетке таблицы.



Величина	Характер изменения величины		
	увеличивается	уменьшается	не изменяется
Масса			
Плотность			
Давление			

6

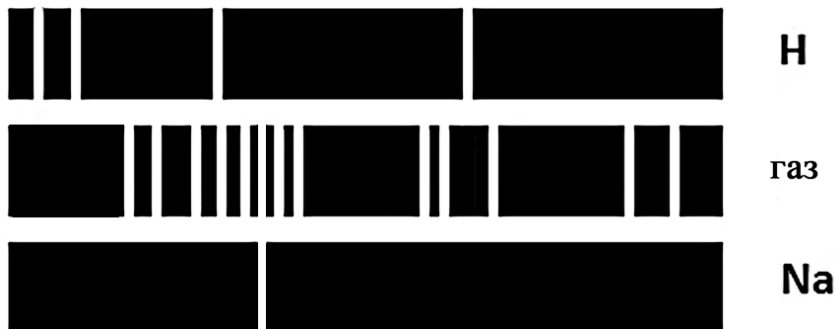
Связанная система элементарных частиц содержит 86 электронов, 138 нейтронов и 89 протонов. Используя фрагмент Периодической системы элементов Д.И. Менделеева, определите ионом или нейтральным атомом какого элемента является эта система.

47 Ag 107,868 Серебро	48 Cd 112,40 Кадмий	49 In 114,82 Индий	50 Sn 118,69 Олово
55 Cs 132,905 Цезий	56 Ba 137,34 Барий	57 La* 138,81 Лантан	72 Hf 178,49 Гафний
79 Au 196,967 Золото	80 Hg 200,59 Ртуть	81 Tl 204,37 Таллий	82 Pb 207,19 Свинец
87 Fr [223] Франций	88 Ra [226] Радий	89 Ac** [227] Актиний	104 Rf [261] Резерфордий

Ответ: _____.

7

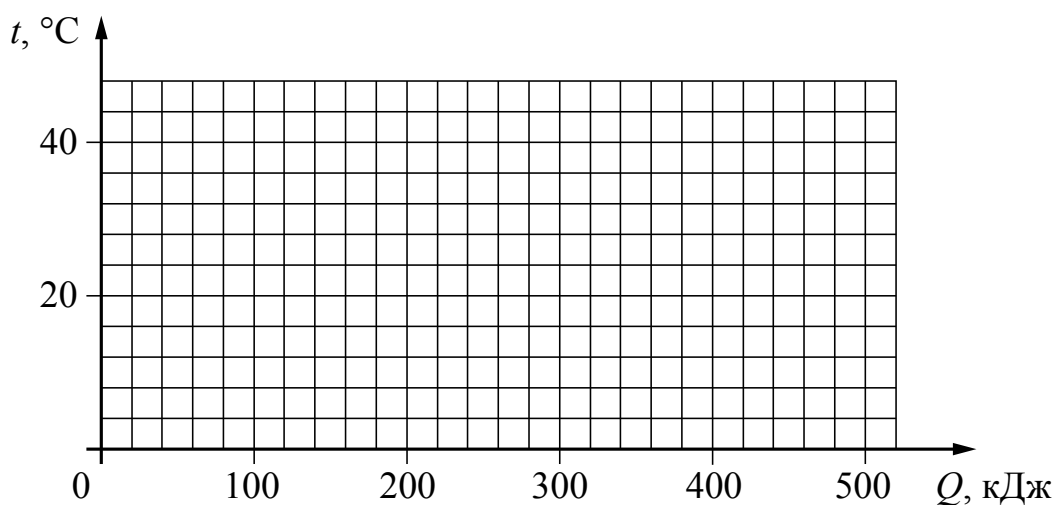
На рисунках приведены спектры излучения атомарных водорода, неизвестного газа и натрия (см. рис.). Содержится ли в газе водород и натрий? Ответ поясните.



Ответ: _____

8

Воду, первоначальная температура которой равна $40\text{ }^{\circ}\text{C}$, помещают в морозильную камеру. В процессе охлаждения до температуры кристаллизации вода выделила примерно 170 кДж энергии, а в процессе кристаллизации примерно 330 кДж . Постройте график зависимости температуры воды от выделившегося количества теплоты.



9

В мастерской Ивана Петровича электрическая линия для розеток оснащена автоматическим выключателем, который размыкает линию, если потребляемая включенными приборами суммарная электрическая мощность превышает 3,5 кВт. Напряжение электрической сети 220 В.

В таблице представлены электрические приборы, используемые в мастерской, и потребляемый ими электрический ток при напряжении 220 В.

<i>Электрические приборы</i>	<i>Потребляемый электрический ток, А (при напряжении сети 220 В)</i>
Электрический рубанок	3,6
Электрическая ударная дрель	6,4
Электрический лобзик	2,7
Шлифовальная машина	8,6
Циркулярная пила	7,3
Торцовочная пила	10,0

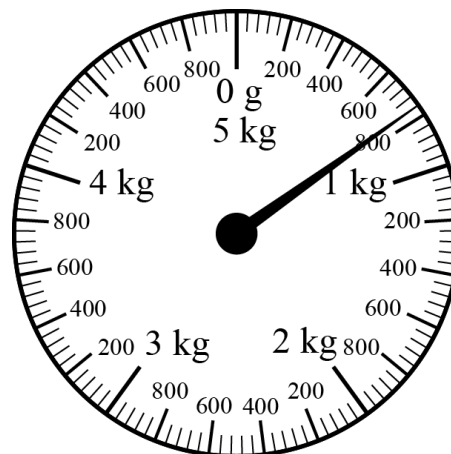
В мастерской работает шлифовальная машина. Можно ли дополнительно к шлифовальной машине включить в сеть торцовочную пилу? Запишите решение и ответ.

Решение: _____

Ответ: _____

10

С помощью весов измеряли массу груза. Погрешность измерений равна цене деления шкалы весов.

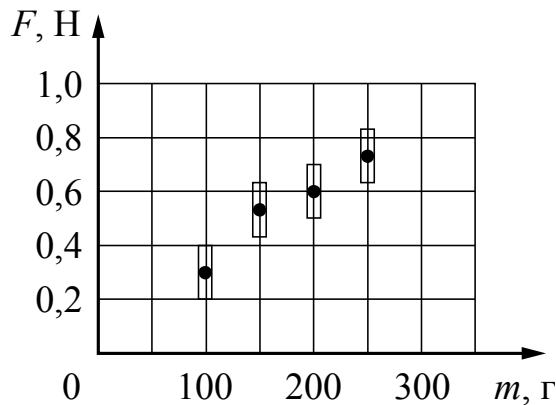


Запишите в ответ показания весов с учётом погрешности измерений.

Ответ: _____ г.

11

Ученик исследовал зависимость силы трения бруска по поверхности стола от массы бруска с грузами. В эксперименте брусок перемещали равномерно и прямолинейно по горизонтальной поверхности с помощью динамометра. Погрешность измерения силы трения равна 0,1 Н, а массы бруска – 10 г. Результаты измерений с учётом их погрешности представлены на графике.



Каков приблизительно коэффициент трения скольжения тела по поверхности, на которой проводился эксперимент?

Ответ: _____.

13

Установите соответствие между техническими устройствами и физическими явлениями, лежащими в основе принципа их действия.

К каждой позиции первого столбца подберите соответствующую позицию из второго столбца.

ТЕХНИЧЕСКИЕ УСТРОЙСТВА

- А) термометр для бесконтактного измерения температуры тела
Б) призмный спектроскоп

ФИЗИЧЕСКИЕ ЯВЛЕНИЯ

- 1) излучение нагретым телом инфракрасных лучей
2) рентгеновское излучение
3) отражение световых лучей
4) дисперсия света

Запишите в таблицу выбранные цифры под соответствующими буквами.

Ответ:

А	Б

Прочитайте фрагмент инструкции к электрической дрели и выполните задания 14 и 15.

Личная безопасность

- Используйте защитные очки. При высокой запыленности пользуйтесь специальной маской-фильтром.
- Носите подходящую спецодежду. Не рекомендуется носить свободную одежду и украшения, которые могут зацепиться за вращающиеся части инструмента. При работе на открытом воздухе рекомендуется надевать защитные перчатки и нескользящую обувь. Если у вас длинные волосы, их следует прикрыть.
- Будьте внимательны. Следите за тем, что вы делаете. Руководствуйтесь здравым смыслом. Не работайте с инструментом, если вы устали.
- Учитывайте влияние окружающей среды. Не подвергайте инструмент воздействию влаги. Не пользуйтесь инструментом при высокой влажности окружающей среды. Позаботьтесь о хорошей освещенности рабочего места.
- Следите, чтобы питающий кабель находился вне зоны действия инструмента.
- Не пользуйтесь электроинструментами вблизи легковоспламеняющихся жидкостей, а так же в газообразной, взрывоопасной среде.
- Соблюдайте величайшую осторожность. При сверлении стен, потолков или прочих мест, где может находиться электропроводка, следует иметь в виду, что металлические части инструмента не изолированы от корпуса дрели.

14

В инструкции есть требование использовать защитные очки при работе с дрелью. Объясните, почему.

Ответ: _____

15

В инструкции рекомендуется соблюдать осторожность при сверлении стен и потолков, в которых проходит электропроводка. Объясните, почему дана такая рекомендация.

Ответ: _____

Прочитайте текст и выполните задания 16–18.**Свойства льда**

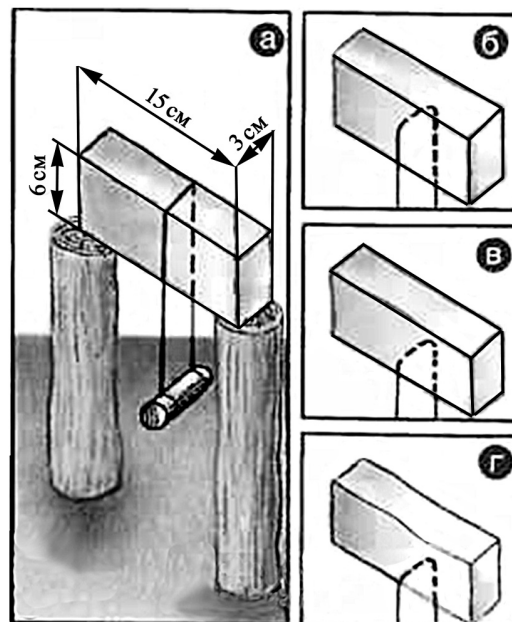
Между давлением и точкой замерзания (плавления) воды наблюдается интересная зависимость (см. таблицу).

Давление, атм	Температура плавления льда, °С	Изменение объёма при кристаллизации, см ³ /моль	Давление, атм	Температура плавления льда, °С	Изменение объёма при кристаллизации, см ³ /моль
1	0,0	–1,62	5280	–10,0	1,73
610	–5,0	–1,83	5810	–5,0	1,69
1970	–20,0	–2,37	7640	10,0	1,52
2115	–22,0	0,84	20000	73,8	0,68

С повышением давления до 2200 атмосфер температура плавления падает: с увеличением давления на каждую атмосферу она понижается примерно на 0,0075 °С. При дальнейшем увеличении давления точка замерзания воды начинает расти: при давлении 20 670 атмосфер вода замерзает при 76 °С. В этом случае будет наблюдаться горячий лёд.

При нормальном атмосферном давлении объём воды при замерзании внезапно возрастает примерно на 11%. В замкнутом пространстве такой процесс приводит к возникновению громадного избыточного давления до 2500 атм. Вода, замерзая, разрывает горные породы, дробит многотонные глыбы.

В XIX веке было обнаружено явление режеляции льда, которое можно продемонстрировать на опыте. Поставим на два столбика прямоугольный ледяной брусок. Перекинем через него тонкую стальную проволоку (диаметром 0,1 мм) и подвесим на ней груз массой 3 кг (см. рис. а). Все это оставим на лёгком морозе. Важно, чтобы температура на улице была лишь немногим ниже нуля. Примерно через сутки мы обнаружим, что проволока и гиря лежат на земле, а на столбиках стоит наш ледяной брусок, целый и невредимый. Если бы мы в течение опыта выходили на улицу, то увидели бы, как постепенно проволока опускается, как бы разрезая ледяной брусок (см. рис. б, в, г), никакого разреза не остаётся – выше проволоки брусок оказывается монолитным.



Долгое время думали, что лёд под лезвиями коньков тает потому, что испытывает сильное давление, температура плавления льда понижается и лёд плавится. Однако расчёты показывают, что под коньками температура плавления льда уменьшается примерно на 0,1 °С, что явно недостаточно для катания, например, при –10 °С.

16 При каком внешнем давлении наблюдается минимальная температура плавления льда?

☐ Ответ: _____.

17 Почему в описанном опыте груз подвешивают к тонкой проволоке, а не к широкой металлической ленте?

☐ Ответ: _____.

18 Получится ли описанный в тексте опыт по режеляции льда, если его проводить при температуре -20°C ? Ответ поясните.

☐ Ответ: _____

ВСЕРОССИЙСКАЯ ПРОВЕРОЧНАЯ РАБОТА

ФИЗИКА

11 КЛАСС

Инструкция по выполнению работы

Проверочная работа включает в себя 18 заданий. На выполнение работы по физике отводится 1 час 30 минут (90 минут).

Оформляйте ответы в тексте работы в отведённых для этого местах согласно инструкциям к заданиям. В случае записи неверного ответа зачеркните его и запишите рядом новый.

При выполнении работы разрешается использовать калькулятор.

При выполнении заданий Вы можете использовать черновик. Записи в черновике проверяться и оцениваться не будут.

Советуем выполнять задания в том порядке, в котором они даны. Для экономии времени пропускайте задание, которое не удаётся выполнить сразу, и переходите к следующему. Если после выполнения всей работы у Вас останется время, Вы сможете вернуться к пропущенным заданиям.

Баллы, полученные Вами за выполненные задания, суммируются. Постарайтесь выполнить как можно больше заданий и набрать наибольшее количество баллов.

Желаем успеха!

Ниже приведены справочные данные, которые могут понадобиться Вам при выполнении работы.

Десятичные приставки

Наименование	Обозначение	Множитель	Наименование	Обозначение	Множитель
гига	Г	10^9	санتي	с	10^{-2}
мега	М	10^6	милли	м	10^{-3}
кило	к	10^3	микро	мк	10^{-6}
гекто	г	10^2	нано	н	10^{-9}
деци	д	10^{-1}	пико	п	10^{-12}

Константы

ускорение свободного падения на Земле

$$g = 10 \text{ м/с}^2$$

гравитационная постоянная

$$G = 6,7 \cdot 10^{-11} \text{ Н} \cdot \text{м}^2/\text{кг}^2$$

универсальная газовая постоянная

$$R = 8,31 \text{ Дж}/(\text{моль} \cdot \text{К})$$

скорость света в вакууме

$$c = 3 \cdot 10^8 \text{ м/с}$$

коэффициент пропорциональности в законе Кулона

$$k = 9 \cdot 10^9 \text{ Н} \cdot \text{м}^2/\text{Кл}^2$$

модуль заряда электрона

$$e = 1,6 \cdot 10^{-19} \text{ Кл}$$

(элементарный электрический заряд)

$$h = 6,6 \cdot 10^{-34} \text{ Дж} \cdot \text{с}$$

постоянная Планка

1 Прочитайте перечень понятий, с которыми Вы встречались в курсе физики:

поляризация света, вольтметр, фотоэффект, диффузия, динамометр, термометр

Разделите эти понятия на две группы по выбранному Вами признаку. Запишите в таблицу название каждой группы и понятия, входящие в эту группу.

Название группы понятий	Перечень понятий

2 Выберите **два** верных утверждения о физических явлениях, величинах и закономерностях. Запишите в ответ их номера.

- 1) Если модуль скорости тела увеличивается, а направление скорости не меняется, то вектор ускорения тела сонаправлен вектору скорости.
- 2) Процесс диффузии может наблюдаться только в газах и в жидкостях.
- 3) В цепи постоянного тока отношение напряжений на концах параллельно соединённых резисторов равно отношению их сопротивлений.
- 4) Дифракция рентгеновского излучения принципиально невозможна.
- 5) Ядро любого атома состоит из нуклонов – положительно заряженных протонов и нейтронов.

Ответ:

--	--

3 В герметично закрытый сосуд поместили некоторое количество соли радия. Через некоторое время в сосуде обнаружили повышенное содержание радона. Какое явление вызвало появление радона в сосуде?

Ответ: _____.

4

Прочитайте текст и вставьте на место пропусков слова (словосочетания) из приведённого списка.

Стеклянная колба закрыта пробкой, через которую введена резиновая трубка. Охладим воздух, находящийся в колбе, поместив её в снег или в холодную воду. После этого опустим резиновую трубку в прозрачный сосуд, заполненный водой, и повысим температуру воздуха в колбе, нагревая её руками (см. рисунок).

В процессе нагревания колбы можно наблюдать, как _____.
_____. Если нагревание воздуха в колбе происходит достаточно медленно, то давление воздуха в колбе _____, и процесс можно считать _____.




Список слов и словосочетаний

вода частично заполняет колбу
пузырьки воздуха выходят из трубки в воду
остаётся равным атмосферному
медленно повышается
адиабатным
изобарным
изотермическим

5

Лыжник скользит вниз с горки. Угол наклона горки и коэффициент трения скольжения на участке спуска остаются постоянными. Как меняются в процессе спуска ускорение движения лыжника, его скорость и полная механическая энергия?



Для каждой величины определите характер изменения и поставьте в таблице знак «V» в нужной клетке таблицы.

Величина	Характер изменения величины		
	увеличивается	уменьшается	не изменяется
Ускорение			
Скорость			
Полная механическая энергия			

6

Связанная система элементарных частиц содержит 73 электрона, 114 нейтронов и 76 протонов. Используя фрагмент Периодической системы элементов Д.И. Менделеева, определите ионом или нейтральным атомом какого элемента является эта система.

51 Sb 121,75 Сурьма	52 Te 127,60 Теллур	53 I 126,9044 Иод	54 Xe 131,30 Ксенон
73 Ta 180,948 Тантал	74 W 183,85 Вольфрам	75 Re 186,2 Рений	76 Os 190,2 Осмий
83 Bi 208,980 Висмут	84 Po [210] Полоний	85 At 210 Астат	86 Rn [222] Радон

Ответ: _____.

7

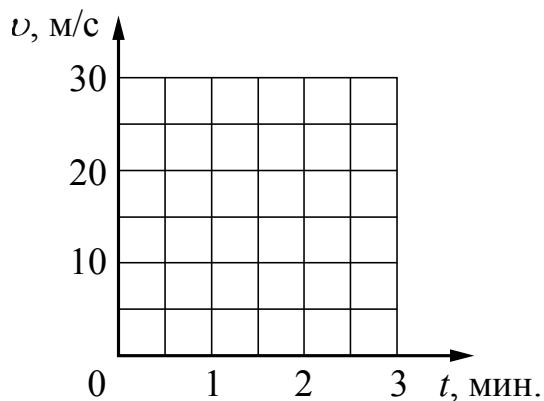
На рисунках приведены спектры излучения атомарных паров водорода, неизвестного газа и натрия (см. рис.). Содержатся ли в газе водород и натрий? Ответ поясните.



Ответ: _____

8

Постройте графики зависимости скорости от времени для двух автомобилей, движущихся по прямолинейному участку дороги. Известно, что первый автомобиль в течение первых 2 мин. равноускоренно набирает скорость от 5 м/с до 20 м/с. Второй автомобиль, имея в начальный момент времени скорость 72 км/ч, тормозит с постоянным ускорением и через 2 мин. от начала движения останавливается.



9

В мастерской Ивана Петровича электрическая линия для розеток оснащена автоматическим выключателем, который размыкает линию, если сила тока в ней превышает 25 А. Напряжение электрической сети 220 В.

В таблице представлены электрические приборы, используемые в мастерской, и потребляемая ими мощность.

<i>Электрические приборы</i>	<i>Потребляемая мощность, Вт</i>
Электрический рубанок	800
Электрическая ударная дрель	1300
Электрический лобзик	700
Шлифовальная машина	1900
Циркулярная пила	1600
Торцовочная пила	2200


В мастерской работает торцовочная пила и шлифовальная машина. Какой(-ие) из указанных выше приборов можно включить в сеть дополнительно к торцовочной пиле и шлифовальной машине? Запишите решение и ответ.

Решение: _____

Ответ: _____

10

С помощью барометра проводились измерения атмосферного давления. Верхняя шкала барометра проградуирована в мм рт. ст., а нижняя шкала – в гПа (см. рисунок). Погрешность измерений давления равна цене деления шкалы барометра.



Запишите в ответ показания барометра в мм рт. ст. с учётом погрешности измерений.



Ответ: _____ мм рт. ст.

11

Ученик исследовал зависимость изменения длины пружины от массы груза, подвешенного к пружине. Груз неподвижен. Погрешность измерения длины пружины равна 0,2 см, а массы тела – 1 г. Результаты измерений представлены в таблице.

№ опыта	Масса тела, г	Удлинение пружины, см
1	99 ± 1	$1,8 \pm 0,2$
2	201 ± 1	$3,4 \pm 0,2$
3	300 ± 1	$5,0 \pm 0,2$

Какова приблизительно жёсткость пружины?



Ответ: _____ Н/м.

Ответ:

Ответ:

А	Б

Прочитайте фрагмент инструкции к электрической газонокосилке и выполните задания 14 и 15.



Наденьте защиту для глаз.
Наденьте защиту для ушей.



Держитесь подальше от вращающихся частей, так как они могут привести к травме.

Во время процесса косыбы необходимо использовать крепкие сапоги и длинные брюки. Не косите без обуви или в лёгких сандалиях. Тщательно проверьте местность, на которой Вы собираетесь применять электрическую газонокосилку и удалите все камни, палки, лишние провода, бутылки, алюминиевые банки и другие посторонние предметы. Перед началом эксплуатации всегда проверяйте рабочее состояние режущего инструмента, зажима и режущих деталей в целом.

Никогда не прикасайтесь к оголенным проводам или отсоединенным разъемам.

- Не управляйте газонокосилкой с влажными руками или ногами.
- Исключайте попадания жидкостей на газонокосилку, не используйте ее на открытом воздухе в плохих погодных условиях и не устанавливайте ее на влажной земле.

14

Почему в инструкции рекомендуется использовать очки при работе с газонокосилкой?

Ответ: _____

15

Почему в инструкции запрещается управлять газонокосилкой влажными руками?

Ответ: _____

Прочитайте текст и выполните задания 16–18.

Свойства льда

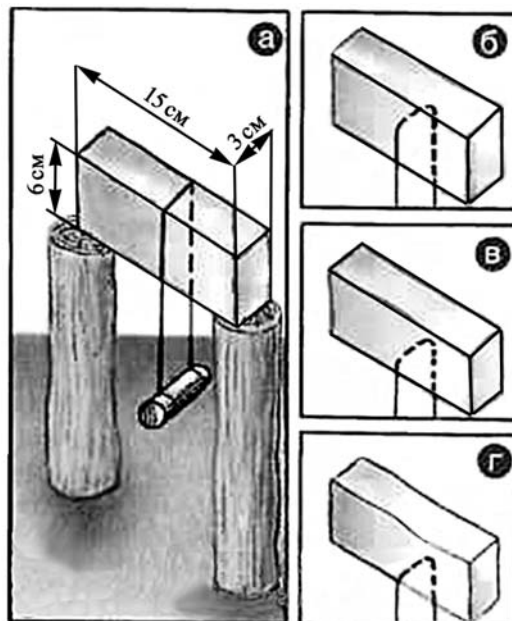
Между давлением и точкой замерзания (плавления) воды наблюдается интересная зависимость (см. таблицу).

Давление, атм	Температура плавления льда, °С	Изменение объёма при кристаллизации, см ³ /моль	Давление, атм	Температура плавления льда, °С	Изменение объёма при кристаллизации, см ³ /моль
1	0,0	–1,62	5280	–10,0	1,73
610	–5,0	–1,83	5810	–5,0	1,69
1970	–20,0	–2,37	7640	10,0	1,52
2115	–22,0	0,84	20000	73,8	0,68

С повышением давления до 2200 атмосфер температура плавления падает: с увеличением давления на каждую атмосферу она понижается примерно на 0,0075 °С. При дальнейшем увеличении давления точка замерзания воды начинает расти: при давлении 20 670 атмосфер вода замерзает при 76 °С. В этом случае будет наблюдаться горячий лёд.

При нормальном атмосферном давлении объём воды при замерзании внезапно возрастает примерно на 11%. В замкнутом пространстве такой процесс приводит к возникновению громадного избыточного давления до 2500 атм. Вода, замерзая, разрывает горные породы, дробит многотонные глыбы.

В XIX веке было обнаружено явление режеляции льда, которое можно продемонстрировать на опыте. Поставим на два столбика прямоугольный ледяной брусок. Перекинем через него тонкую стальную проволоку (диаметром 0,1 мм) и подвесим на ней груз массой 3 кг (см. рис. а). Все это оставим на лёгком морозе. Важно, чтобы температура на улице была лишь немногим ниже нуля. Примерно через сутки мы обнаружим, что проволока и гиря лежат на земле, а на столбиках стоит наш ледяной брусок, целый и невредимый. Если бы мы в течение опыта выходили на улицу, то увидели бы, как постепенно проволока опускается, как бы разрезая ледяной брусок (см. рис. б, в, г), никакого разреза не остаётся – выше проволоки брусок оказывается монолитным.



Долгое время думали, что лёд под лезвиями коньков тает потому, что испытывает сильное давление, температура плавления льда понижается и лёд плавится. Однако расчёты показывают, что для человека массой 60 кг под коньками температура плавления льда уменьшается примерно на 0,1 °С, что явно недостаточно для катания, например, при –10 °С.

16

Вода кристаллизуется при внешнем давлении 5500 атмосфер. Как при этом изменяется объём вещества?

Ответ: _____.

17

Что нужно изменить в опыте по «разрезанию» льда, чтобы провести его при более низкой температуре?

Ответ: _____.

18

Оцените на основании данных текста, какое давление на лёд оказывает человек, стоя на коньках. Ответ поясните.

Ответ: _____

ВСЕРОССИЙСКАЯ ПРОВЕРОЧНАЯ РАБОТА**ФИЗИКА****11 КЛАСС****Инструкция по выполнению работы**

Проверочная работа включает в себя 18 заданий. На выполнение работы по физике отводится 1 час 30 минут (90 минут).

Оформляйте ответы в тексте работы в отведённых для этого местах согласно инструкциям к заданиям. В случае записи неверного ответа зачеркните его и запишите рядом новый.

При выполнении работы разрешается использовать калькулятор.

При выполнении заданий Вы можете использовать черновик. Записи в черновике проверяться и оцениваться не будут.

Советуем выполнять задания в том порядке, в котором они даны. Для экономии времени пропускайте задание, которое не удаётся выполнить сразу, и переходите к следующему. Если после выполнения всей работы у Вас останется время, Вы сможете вернуться к пропущенным заданиям.

Баллы, полученные Вами за выполненные задания, суммируются. Постарайтесь выполнить как можно больше заданий и набрать наибольшее количество баллов.

Желаем успеха!

Ниже приведены справочные данные, которые могут понадобиться Вам при выполнении работы.

Десятичные приставки

Наименование	Обозначение	Множитель	Наименование	Обозначение	Множитель
гига	Г	10^9	санти	с	10^{-2}
мега	М	10^6	милли	м	10^{-3}
кило	к	10^3	микро	мк	10^{-6}
гекто	г	10^2	нано	н	10^{-9}
деци	д	10^{-1}	пико	п	10^{-12}

Константы

ускорение свободного падения на Земле

$$g = 10 \text{ м/с}^2$$

гравитационная постоянная

$$G = 6,7 \cdot 10^{-11} \text{ Н} \cdot \text{м}^2/\text{кг}^2$$

универсальная газовая постоянная

$$R = 8,31 \text{ Дж}/(\text{моль} \cdot \text{К})$$

скорость света в вакууме

$$c = 3 \cdot 10^8 \text{ м/с}$$

коэффициент пропорциональности в законе Кулона

$$k = 9 \cdot 10^9 \text{ Н} \cdot \text{м}^2/\text{Кл}^2$$

модуль заряда электрона

$$e = 1,6 \cdot 10^{-19} \text{ Кл}$$

(элементарный электрический заряд)

$$h = 6,6 \cdot 10^{-34} \text{ Дж} \cdot \text{с}$$

постоянная Планка

1 Прочитайте перечень понятий, с которыми Вы встречались в курсе физики:

резонанс, фотоэффект, потенциал, напряжённость электрического поля, излучение, работа выхода

Разделите эти понятия на две группы по выбранному Вами признаку. Запишите в таблицу название каждой группы и понятия, входящие в эту группу.

Название группы понятий	Перечень понятий

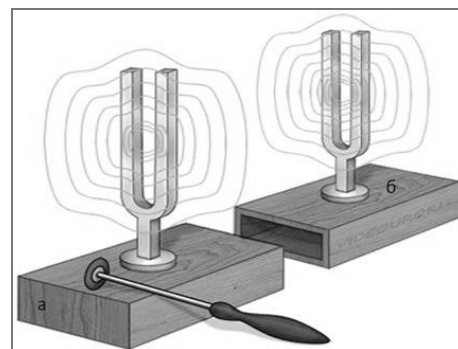
2 Выберите **два** верных утверждения о физических явлениях, величинах и закономерностях. Запишите в ответ их номера.

- 1) Если модуль скорости тела уменьшается, а направление скорости не меняется, то вектор ускорения тела направлен противоположно вектору скорости.
- 2) Средняя скорость движения броуновской частицы в газе зависит от температуры газа, но не зависит от массы самой частицы.
- 3) При преломлении электромагнитных волн на границе двух сред частота колебаний в волне увеличивается при переходе в среду с большим показателем преломления.
- 4) В замкнутом проводящем контуре при изменении магнитного потока через ограниченную им площадку возникает индукционный ток.
- 5) Частоты линий в спектре поглощения и спектре излучения атома данного химического элемента различаются.

Ответ:

--	--

3 Два одинаковых камертона устанавливают друг напротив друга (см. рисунок). Когда по одному из них ударяют резиновым молоточком, то начинает звучать и второй камертон. Какое явление наблюдается в этом опыте?



Ответ: _____.

4

Прочитайте текст и вставьте на место пропусков слова (словосочетания) из приведённого списка.

Для исследования зависимости давления газа от занимаемого им объёма, соберём установку, состоящую из соединённых тонким шлангом гофрированного сосуда и манометра. Когда давление газа в сосуде равно атмосферному, стрелка манометра стоит против нулевого деления.

Объём гофрированного сосуда может изменяться. Изменение объёма газа связано с изменением _____. Масса воздуха в сосуде не меняется. В процессе сжатия газа в сосуде показания манометра _____. Если сжатие происходит медленно, то процесс можно считать _____.



Список слов и словосочетаний

площади поперечного сечения сосуда
высоты сосуда
остаются неизменными
увеличиваются
уменьшаются
адиабатным
изотермическим

5

Мяч бросают в горизонтальном направлении на высоте h относительно поверхности земли. Как в процессе падения мяча изменяются проекция скорости мяча на горизонтальную ось, ускорение мяча и его кинетическая энергия? Сопротивлением воздуха пренебречь.

Для каждой величины определите характер изменения и поставьте в таблице знак «У» в нужной клетке таблицы.

Величина	Характер изменения величины		
	увеличивается	уменьшается	не изменяется
Проекция скорости мяча на горизонтальную ось			
Ускорение			
Кинетическая энергия			

6


Связанная система элементарных частиц содержит 74 электрона, 110 нейтронов и 74 протона. Используя фрагмент Периодической системы элементов Д.И. Менделеева, определите ионом или нейтральным атомом какого элемента является эта система.

51 Sb 121,75 Сурьма	52 Te 127,60 Теллур	53 I 126,9044 Иод	54 Xe 131,30 Ксенон
73 Ta 180,948 Тантал	74 W 183,85 Вольфрам	75 Re 186,2 Рений	76 Os 190,2 Осмий
83 Bi 208,980 Висмут	84 Po [210] Полоний	85 At 210 Астат	86 Rn [222] Радон

Ответ: _____.

7

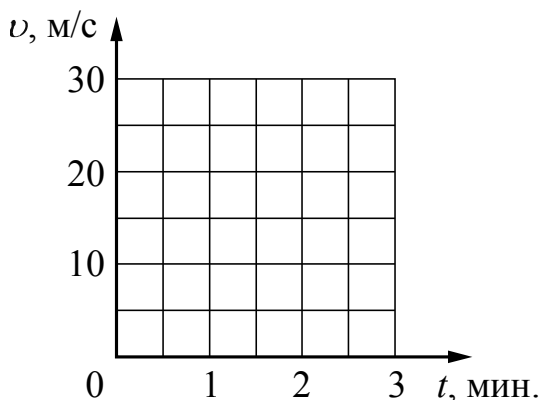
На рисунках приведены спектры излучения атомарных паров водорода, неизвестного газа и гелия (см. рис.). Содержатся ли в газе водород и гелий? Ответ поясните.



Ответ: _____

8

Постройте графики зависимости скорости от времени для двух автомобилей, движущихся по прямолинейному участку дороги. Известно, что первый автомобиль в течение первых 2 мин. равноускоренно набирает скорость от 10 м/с до 25 м/с. Второй автомобиль, имея в начальный момент времени скорость 36 км/ч, тормозит с постоянным ускорением и через 2 мин. останавливается.



9

В мастерской Ивана Петровича электрическая линия для розеток оснащена автоматическим выключателем, который размыкает линию, если потребляемая включенными приборами суммарная электрическая мощность превышает 5,5 кВт. Напряжение электрической сети 220 В.

В таблице представлены электрические приборы, используемые в мастерской, и потребляемый ими электрический ток при напряжении 220 В.

<i>Электрические приборы</i>	<i>Потребляемый электрический ток, А (при напряжении сети 220 В)</i>
Электрический рубанок	3,6
Электрическая ударная дрель	6,0
Электрический лобзик	2,8
Шлифовальная машина	8,8
Циркулярная пила	7,3
Торцовочная пила	10,0


В мастерской работает торцовочная пила и шлифовальная машина. Какой(-ие) из указанных выше приборов можно включить в сеть дополнительно к торцовочной пиле и шлифовальной машине? Запишите решение и ответ.

Решение:

Ответ:

10

С помощью барометра проводились измерения атмосферного давления. Верхняя шкала барометра проградуирована в мм рт. ст., а нижняя шкала – в гПа (см. рисунок). Погрешность измерений давления равна цене деления шкалы барометра.



Запишите в ответ показания барометра в гПа с учётом погрешности измерений.



Ответ: _____ гПа.

11

Ученик исследовал зависимость изменения длины пружины от массы груза, подвешенного к этой пружине. Груз неподвижен. Погрешность измерения длины пружины равна 0,2 см, а массы тела – 1 г. Результаты измерений представлены в таблице.

№ опыта	Масса тела, г	Удлинение пружины, см
1	101 ± 1	$2,6 \pm 0,2$
2	200 ± 1	$5,0 \pm 0,2$
3	299 ± 1	$7,4 \pm 0,2$

Какова приблизительно жёсткость данной пружины?



Ответ: _____ Н/м.

[illegible]

А	Б

Прочитайте фрагмент инструкции к микроволновой печи и выполните задания 14 и 15.

СВЧ-излучение фактически проникает в пищу, поглощаясь содержащимся в пище водой, жиром и сахаром. Электромагнитные волны заставляют молекулы пищи быстро колебаться. Быстрые колебания этих молекул и есть, по сути, то «тепло», которое готовит пищу.

Неподходящая посуда

Металлическая посуда не подходит для микроволнового режима, так как металл не пропускает микроволны. В закрытой металлической посуде блюда не разогреваются.

Чистка микроволновой печи

Следующие части вашей микроволновой печи подлежат регулярной чистке для предотвращения скопления жирной грязи и частиц пищи:

- внутренние и наружные поверхности;
- дверца и уплотнители дверцы;
- вращающийся поднос и роликовая подставка.

ВСЕГДА поддерживайте в чистоте уплотнители дверцы и обеспечьте, чтобы дверца надежно закрывалась.

14 Почему в микроволновой печи пища не будет разогреваться в алюминиевом контейнере?

Ответ: _____

15 Почему в инструкции требуется обеспечивать надежность закрывания дверцы микроволновой печи?

Ответ: _____

Прочитайте текст и выполните задания 16–18.**Сонары летучих мышей**

Звуковые волны принято подразделять на диапазон слышимых человеком волн, а также инфразвук, ультразвук и звук сверхвысокой частоты (или гиперзвук) (см. диаграмму)




Диапазон издаваемых и слышимых звуков у разных животных может сильно отличаться от диапазона звуковых волн, воспринимаемых человеком.

В 1938 г. американские исследователи Г. Пирс и Д. Гриффин, применив специальную аппаратуру, установили, что во время полёта мышь излучает короткие сигналы на частоте около $8 \cdot 10^4$ Гц, а затем воспринимает сигналы, которые приходят к ней от ближайших препятствий и от пролетающих вблизи насекомых. Гриффин назвал способ ориентировки летучих мышей эхолокацией.

Известно, что для успешной эхолокации линейные размеры объекта должны быть больше или, по крайней мере, порядка длины волны звука. Чем меньше длина волны излучения, тем более мелкими могут быть объекты, которые необходимо опознать при помощи эхо-сигналов.

Летучие мыши – обладатели весьма совершенных природных звуковых радаров, или, иначе говоря, природных сонаров. Устройство сонаров различно у разных видов летучих мышей. Например, остроухая ночница (как, впрочем, и многие другие виды мышей) излучает звуковые волны через рот, а большой подковонос через ноздри, которые у него окружены кожистыми выростами наподобие рупоров. Сигналы, посылаемые летучей мышью в полете, имеют характер очень коротких импульсов – своеобразных щелчков. Длительность каждого такого щелчка $(1-5) \cdot 10^{-3}$ с, ежесекундно мышь производит около десяти таких щелчков. Отражённые от объекта волны летучая мышь воспринимает ушами, имеющими сравнительно большие размеры.



16

К какому диапазону звуковых волн относятся волны, используемые в сонарах летучих мышей?

Ответ: _____.

17

Вставьте пропущенные слова в предложение.

«В течение одной секунды летучая мышь производит примерно _____ ультразвуковых щелчков. В промежутке между щелчками мышь воспринимает _____.»

Ответ: _____.

18

Каков минимальный линейный размер насекомого, которого летучая мышь может обнаружить, используя указанную в тексте частоту звуковой локации? Ответ поясните. Скорость звука принять равной 330 м/с.

Ответ: _____

ВСЕРОССИЙСКАЯ ПРОВЕРОЧНАЯ РАБОТА

ФИЗИКА

11 КЛАСС

Инструкция по выполнению работы

Проверочная работа включает в себя 18 заданий. На выполнение работы по физике отводится 1 час 30 минут (90 минут).

Оформляйте ответы в тексте работы в отведённых для этого местах согласно инструкциям к заданиям. В случае записи неверного ответа зачеркните его и запишите рядом новый.

При выполнении работы разрешается использовать калькулятор.

При выполнении заданий Вы можете использовать черновик. Записи в черновике проверяться и оцениваться не будут.

Советуем выполнять задания в том порядке, в котором они даны. Для экономии времени пропускайте задание, которое не удаётся выполнить сразу, и переходите к следующему. Если после выполнения всей работы у Вас останется время, Вы сможете вернуться к пропущенным заданиям.

Баллы, полученные Вами за выполненные задания, суммируются. Постарайтесь выполнить как можно больше заданий и набрать наибольшее количество баллов.

Желаем успеха!

Ниже приведены справочные данные, которые могут понадобиться Вам при выполнении работы.

Десятичные приставки

Наименование	Обозначение	Множитель	Наименование	Обозначение	Множитель
гига	Г	10^9	санти	с	10^{-2}
мега	М	10^6	милли	м	10^{-3}
кило	к	10^3	микро	мк	10^{-6}
гекто	г	10^2	нано	н	10^{-9}
деци	д	10^{-1}	пико	п	10^{-12}

Константы

ускорение свободного падения на Земле

$$g = 10 \text{ м/с}^2$$

гравитационная постоянная

$$G = 6,7 \cdot 10^{-11} \text{ Н} \cdot \text{м}^2/\text{кг}^2$$

универсальная газовая постоянная

$$R = 8,31 \text{ Дж}/(\text{моль} \cdot \text{К})$$

скорость света в вакууме

$$c = 3 \cdot 10^8 \text{ м/с}$$

коэффициент пропорциональности в законе Кулона

$$k = 9 \cdot 10^9 \text{ Н} \cdot \text{м}^2/\text{Кл}^2$$

модуль заряда электрона

$$e = 1,6 \cdot 10^{-19} \text{ Кл}$$

(элементарный электрический заряд)

$$h = 6,6 \cdot 10^{-34} \text{ Дж} \cdot \text{с}$$

постоянная Планка

1 Прочитайте перечень понятий, с которыми Вы встречались в курсе физики:

конвекция, генри, паскаль, испарение, ионизация, ом

Разделите эти понятия на две группы по выбранному Вами признаку. Запишите в таблицу название каждой группы и понятия, входящие в эту группу.

Название группы понятий	Перечень понятий

2 Выберите **два** верных утверждения о физических явлениях, величинах и закономерностях. Запишите в ответ их номера.

- 1) Вектор скорости материальной точки всегда направлен перпендикулярно к её траектории.
- 2) В процессе кристаллизации постоянной массы вещества его внутренняя энергия увеличивается.
- 3) Разноимённые точечные электрические заряды отталкиваются друг от друга.
- 4) Явления интерференции и дифракции могут наблюдаться в любом диапазоне электромагнитных волн.
- 5) При переходе атома из одного стационарного состояния в другое стационарное состояние атом испускает или поглощает фотон.

Ответ:

--	--

3 Для проведения опыта собрали электрическую цепь, изображённую на рисунке. При замкнутом ключе лампочка горела неполным накалом. При размыкании цепи лампочка ярко вспыхивает.



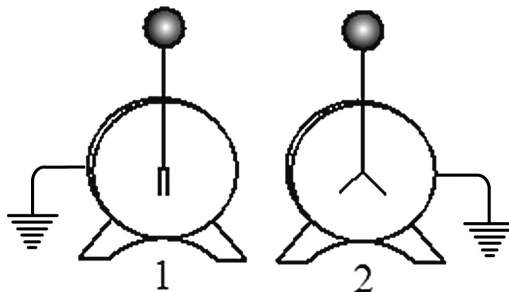
Какое явление вызывает эту вспышку?

Ответ: _____.

4

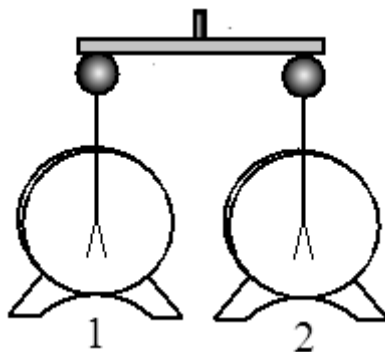
Прочитайте текст и вставьте на место пропусков слова (словосочетания) из приведённого списка.

Для изучения электрических свойств стержня проведём следующий опыт. Возьмём два электрометра. Один из них зарядим, а другой, наоборот, разрядим (см. рисунок).



Теперь возьмём стержень с помощью пластмассовой ручки и соединим стержнем шары электрометров. Пластмасса является _____ и выполняет роль изолятора между стержнем и кожей человека.

Если материал стержня относится к _____, то листочки незаряженного электрометра практически моментально отклонятся от вертикального положения. Это объясняется _____ между двумя электрометрами.



Список слов и словосочетаний

проводник
диэлектрик
материал
вещество
электризация металлического стержня через влияние
протекание свободного электрического заряда

5

Герметично закрытый сосуд, частично заполненный водой, длительное время хранился при комнатной температуре, а затем был переставлен в холодильник. Как изменятся в холодильнике плотность водяного пара, относительная влажность и абсолютная влажность воздуха в сосуде?

Для каждой величины определите характер изменения и поставьте в таблице знак «V» в нужной клетке таблицы.

Величина	Характер изменения величины		
	увеличится	уменьшится	не изменится
Плотность пара			
Относительная влажность			
Абсолютная влажность			

6


Связанная система элементарных частиц содержит 82 электрона, 125 нейтронов и 84 протона. Используя фрагмент Периодической системы элементов Д.И. Менделеева, определите ионом или нейтральным атомом какого элемента является эта система.

51 Sb 121,75 Сурьма	52 Te 127,60 Теллур	53 I 126,9044 Иод	54 Xe 131,30 Ксенон
73 Ta 180,948 Тантал	74 W 183,85 Вольфрам	75 Re 186,2 Рений	76 Os 190,2 Осмий
83 Bi 208,980 Висмут	84 Po [210] Полоний	85 At 210 Астат	86 Rn [222] Радон

Ответ: _____.

7

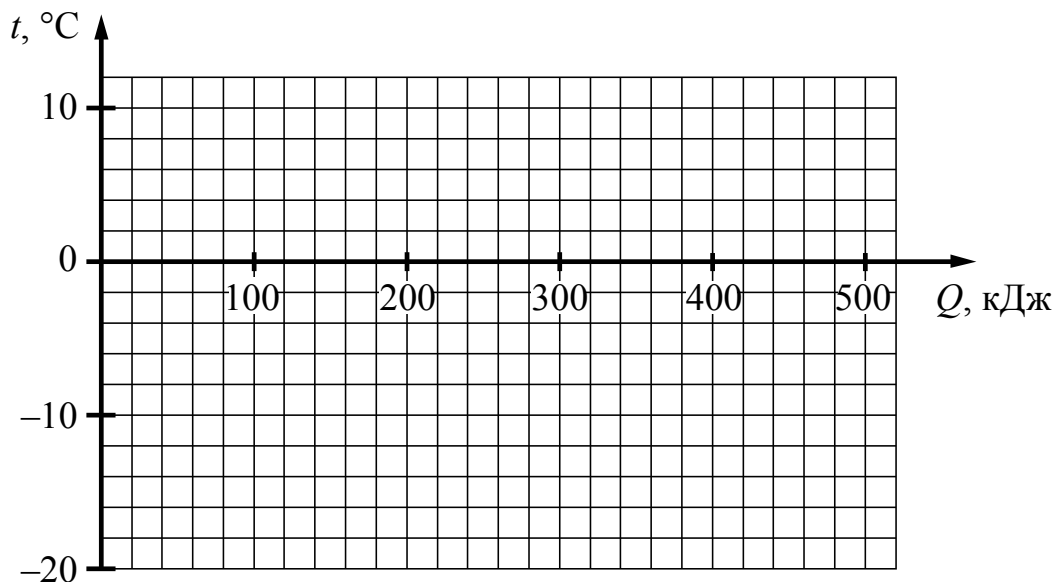
На рисунках приведены спектры излучения атомарных паров гелия, неизвестного газа и водорода (см. рис.). Содержатся ли в газе гелий и водород? Ответ поясните.



Ответ: _____

8

Лёд при температуре $-18\text{ }^{\circ}\text{C}$ достали из морозильника и стали равномерно нагревать. На нагревание льда было затрачено 40 кДж энергии, а на его плавление 330 кДж. Постройте график зависимости температуры льда от полученного количества теплоты.



9

В мастерской Ивана Петровича электрическая линия для розеток оснащена автоматическим выключателем, который размыкает линию, если сила тока в ней превышает 25 А. Напряжение электрической сети 220 В.

В таблице представлены электрические приборы, используемые в мастерской, и потребляемая ими мощность.

<i>Электрические приборы</i>	<i>Потребляемая мощность, Вт</i>
Электрический рубанок	800
Электрическая ударная дрель	1400
Электрический лобзик	600
Шлифовальная машина	1900
Циркулярная пила	1600
Торцовочная пила	2200

В мастерской работает шлифовальная машина. Можно ли дополнительно к шлифовальной машине включить в сеть торцовочную пилу? Запишите решение и ответ.

Решение: _____

Ответ: _____

10

С помощью вольтметра проводились измерения напряжения на участке электрической цепи (см. рисунок). Погрешность измерений напряжения равна цене деления шкалы вольтметра.

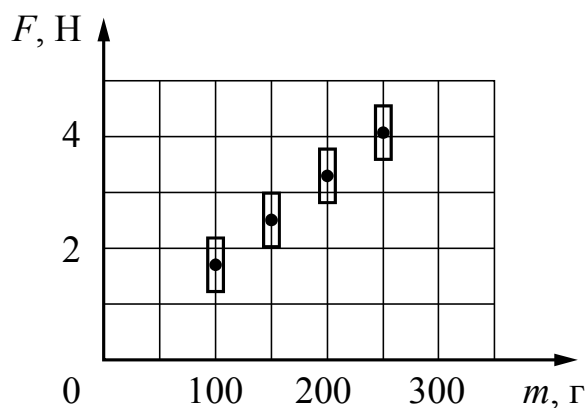


Запишите в ответ показания вольтметра с учётом погрешности измерений.

Ответ: _____ В.

11

Космонавты исследовали зависимость силы тяжести от массы тела на посещённой ими планете. Погрешность измерения силы тяжести равна 0,2 Н, а массы тела – 10 г. Результаты измерений с учётом их погрешности представлены на графике.



Каково приблизительно ускорение свободного падения на планете?

Ответ: _____ м/с².

A diagram showing a spring scale being used to measure the force exerted by two weights. Two identical weights, each labeled with a mass of 200 g, are suspended from a horizontal support. A hand is pulling on the right end of the spring scale, which is attached to the support, to measure the force.

1. Опишите экспериментальную установку.
2. Опишите порядок действий при проведении исследования.

[illegible]

А	Б

Прочитайте фрагмент инструкции к электрическому радиатору и выполните задания 14 и 15.

ПРАВИЛА БЕЗОПАСНОЙ ЭКСПЛУАТАЦИИ

1. **Запрещено накрывать работающий электрорадиатор!**
2. Для безопасной эксплуатации прибора используйте розетку с заземлением.
3. Прибор предназначен для использования в помещении с параметрами напряжения сети $230\text{ В} \pm 20\%$, при частоте тока 50 Гц.
4. Не используйте прибор в помещении с влажностью более 80%.
5. Не пытайтесь включить прибор мокрыми руками, это может привести к поражению электрическим током.
6. Оградите детей, людей с ограниченными возможностями от контакта с включенным электрорадиатором.
7. Электрорадиатор предназначен для стационарного использования. Постоянные отключения от сети могут снизить эффективность работы устройства и увеличить расход электроэнергии.
8. Запрещается самостоятельно ремонтировать прибор.
9. Не допускайте попадания жидкости на электрическую часть прибора.
10. Содержите прибор в чистоте. Используйте РН-нейтральное средство для очистки радиатора.
11. Не устанавливайте электрорадиатор под розеткой.
12. Не подключайте в одну розетку другие электроприборы.

14

Почему в инструкции не рекомендуется подключать другие электроприборы в розетку, к которой подключен электрорадиатор (электрообогреватель)?

Ответ: _____

15

Почему в инструкции запрещается накрывать работающий электрорадиатор?

Ответ: _____

Прочитайте текст и выполните задания 16–18.**Инфразрение**

У холоднокровных животных возможно существование инфраглаза. Тепловые «глаза» змеи, получившие название «лицевые ямки», представляют собой специализированные органы, чувствительные к инфракрасному излучению внешних объектов. Лицевые ямки, как правило, расположены впереди и чуть ниже обоих глаз змеи, а их число зависит от вида змеи и может достигать 26 (у питона).

Наиболее изучены лицевые ямки гремучей змеи. Чувствительность лицевой ямки такова, что она может обнаружить человеческую руку или живую мышь на расстоянии 0,5 м. Змея производит бросок тогда, когда температура чувствительной мембраны лицевой ямки повышается всего лишь на $0,003^{\circ}\text{C}$.

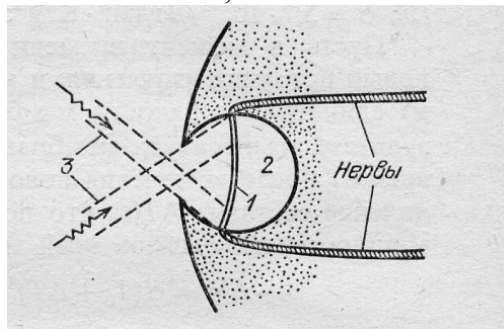


Рис. Разрез «лицевой ямки» змеи: 1 – термочувствительная мембрана; 2 – воздушная полость (3 – инфракрасное излучение)

Глаз-термометр, в отличие от глаза, реагирующего на видимый свет, не содержит линзы, и своей конструкцией напоминает камеру-обскуру (см. рис.). Диаметр термочувствительной мембраны, как правило, более чем в 2 раза превышает диаметр внешнего отверстия лицевой ямки. Это обеспечивает частичную фокусировку изображения на поверхности мембраны. Однако, каждая такая ямка обладает лишь примитивной фокусирующей способностью: она даёт возможность различать два отдельных инфракрасных источника только тогда, когда угол между направлениями на них составляет $30\text{--}60^{\circ}$. В то же время использование змеей одновременно нескольких таких ямок, имеющих различные перекрывающиеся друг друга зоны обзора, позволяет значительно лучше локализовать направление на цель после обработки мозгом информации от всех терморецепторов.

16 Что змея ночью обнаружит на более удалённом расстоянии: спящую кошку или чайник с кипятком?

Ответ: _____.

17 Какой элемент инфраглаза змеи выполняет ту же функцию, что и сетчатка глаза человека?

Ответ: _____.

18

Известно, что максимум собственного теплового излучения тела человека приходится на длины волн 9–10 мкм, что соответствует инфракрасному излучению. Объясните, почему человек не обладает инфразрением.

Ответ:

ВСЕРОССИЙСКАЯ ПРОВЕРОЧНАЯ РАБОТА

ФИЗИКА

11 КЛАСС

Инструкция по выполнению работы

Проверочная работа включает в себя 18 заданий. На выполнение работы по физике отводится 1 час 30 минут (90 минут).

Оформляйте ответы в тексте работы в отведённых для этого местах согласно инструкциям к заданиям. В случае записи неверного ответа зачеркните его и запишите рядом новый.

При выполнении работы разрешается использовать калькулятор.

При выполнении заданий Вы можете использовать черновик. Записи в черновике проверяться и оцениваться не будут.

Советуем выполнять задания в том порядке, в котором они даны. Для экономии времени пропускайте задание, которое не удаётся выполнить сразу, и переходите к следующему. Если после выполнения всей работы у Вас останется время, Вы сможете вернуться к пропущенным заданиям.

Баллы, полученные Вами за выполненные задания, суммируются. Постарайтесь выполнить как можно больше заданий и набрать наибольшее количество баллов.

Желаем успеха!

Ниже приведены справочные данные, которые могут понадобиться Вам при выполнении работы.

Десятичные приставки

Наименование	Обозначение	Множитель	Наименование	Обозначение	Множитель
гига	Г	10^9	санتي	с	10^{-2}
мега	М	10^6	милли	м	10^{-3}
кило	к	10^3	микро	мк	10^{-6}
гекто	г	10^2	нано	н	10^{-9}
деци	д	10^{-1}	пико	п	10^{-12}

Константы

ускорение свободного падения на Земле

$$g = 10 \text{ м/с}^2$$

гравитационная постоянная

$$G = 6,7 \cdot 10^{-11} \text{ Н} \cdot \text{м}^2/\text{кг}^2$$

универсальная газовая постоянная

$$R = 8,31 \text{ Дж}/(\text{моль} \cdot \text{К})$$

скорость света в вакууме

$$c = 3 \cdot 10^8 \text{ м/с}$$

коэффициент пропорциональности в законе Кулона

$$k = 9 \cdot 10^9 \text{ Н} \cdot \text{м}^2/\text{Кл}^2$$

модуль заряда электрона

$$e = 1,6 \cdot 10^{-19} \text{ Кл}$$

(элементарный электрический заряд)

$$h = 6,6 \cdot 10^{-34} \text{ Дж} \cdot \text{с}$$

постоянная Планка

1 Прочитайте перечень понятий, с которыми Вы встречались в курсе физики:

теплопередача, удельная теплоёмкость, интерференция, радиоактивность, скорость, количество вещества

Разделите эти понятия на две группы по выбранному Вами признаку. Запишите в таблицу название каждой группы и понятия, входящие в эту группу.

Название группы понятий	Перечень понятий

2 Выберите **два** верных утверждения о физических явлениях, величинах и закономерностях. Запишите в ответ их номера.

- 1) Свободным падением является движение тела только под действием силы тяжести.
- 2) Скорость диффузии жидкостей уменьшается с повышением температуры.
- 3) При последовательном соединении резисторов напряжения на всех резисторах одинаковы.
- 4) Магнитное поле индукционного тока в контуре всегда увеличивает магнитный поток, изменение которого привело к возникновению этого индукционного тока.
- 5) Движение электронов атома, находящегося в стационарном состоянии, не сопровождается излучением электромагнитных волн.

Ответ:

--	--

3 В истории известны случаи обрушения мостов, когда по ним проходил строй солдат, марширующих «в ногу». Дело в том, что в этих случаях частота шагов солдат совпадала с собственной частотой свободных колебаний моста, и он начинал колебаться с очень большой амплитудой. Какое явление наблюдалось в этих случаях?

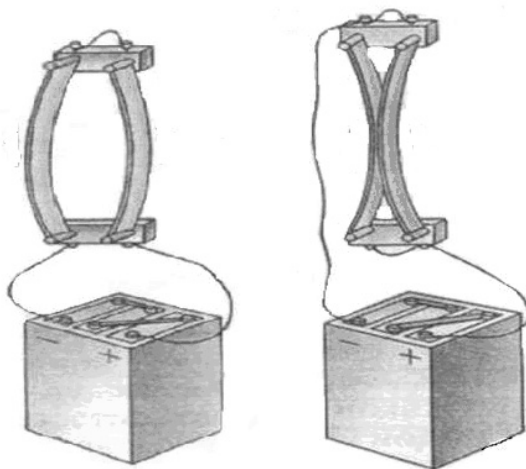
Ответ: _____.

4

Прочитайте текст и вставьте на место пропусков слова (словосочетания) из приведённого списка.

В целях исследования взаимодействия проводников с электрическим током А. Ампер провёл ряд экспериментов с параллельно расположенными проводниками. Ампер установил, что если по двум расположенным параллельно проводникам течёт электрический ток _____, то такие проводники притягиваются. И наоборот.

На основании многочисленных опытов учёные сделали вывод, что вокруг магнита, или проводника с током, или электрически заряженной движущейся частицы существует _____. Взаимодействие постоянных магнитов Ампер объяснил, предположив существование внутри магнита _____ электрических токов.



Список слов и словосочетаний

в противоположных направлениях
в одном направлении
магнитные заряды
магнитное поле
электростатическое поле
молекулярные
затухающие

5

Герметично закрытый сосуд, частично заполненный водой и длительное время находящийся в холодильнике, был переставлен в тёплое помещение. Как со временем изменятся в теплом помещении плотность водяного пара, относительная влажность и абсолютная влажность воздуха в сосуде?

Для каждой величины определите характер изменения и поставьте в таблице знак «У» в нужной клетке таблицы.

Величина	Характер изменения величины		
	увеличится	уменьшится	не изменится
Плотность пара			
Относительная влажность			
Абсолютная влажность			

6

Связанная система элементарных частиц содержит 54 электрона, 74 нейтрона и 53 протона. Используя фрагмент Периодической системы элементов Д.И. Менделеева, определите ионом или нейтральным атомом какого элемента является эта система.

51 Sb 121,75 Сурьма	52 Te 127,60 Теллур	53 I 126,9044 Иод	54 Xe 131,30 Ксенон
73 Ta 180,948 Тантал	74 W 183,85 Вольфрам	75 Re 186,2 Рений	76 Os 190,2 Осмий
83 Bi 208,980 Висмут	84 Po [210] Полоний	85 At 210 Астат	86 Rn [222] Радон

Ответ: _____.

7

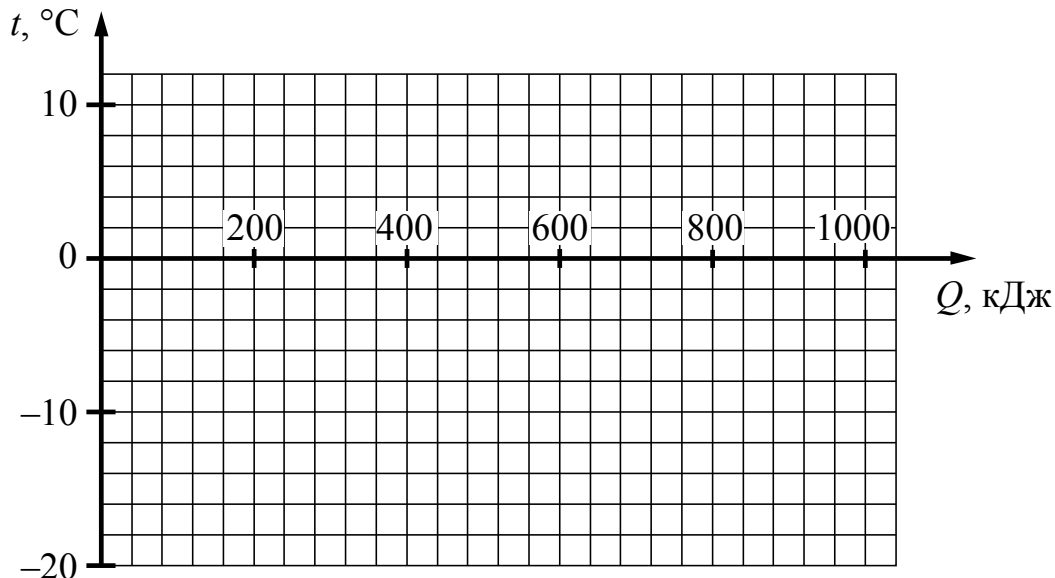
На рисунках приведены спектры излучения атомарных водорода, неизвестного газа и гелия (см. рис.). Содержатся ли в газе водород и гелий? Ответ поясните.



Ответ: _____

8

Замороженный фруктовый сок при температуре $-20\text{ }^{\circ}\text{C}$ достали из морозильника и стали равномерно нагревать. На нагревание сока было затрачено примерно 80 кДж энергии, а на его плавление примерно 700 кДж . Температура плавления сока примерно равна $-2\text{ }^{\circ}\text{C}$. Постройте график зависимости температуры сока от полученного количества теплоты.



9

В мастерской Ивана Петровича электрическая линия для розеток оснащена автоматическим выключателем, который размыкает линию, если потребляемая включенными приборами суммарная электрическая мощность превышает $5,5\text{ кВт}$. Напряжение электрической сети 220 В .

В таблице представлены электрические приборы, используемые в мастерской, и потребляемый ими электрический ток при напряжении 220 В .

<i>Электрические приборы</i>	<i>Потребляемый электрический ток, А (при напряжении сети 220 В)</i>
Электрический рубанок	3,6
Электрическая ударная дрель	6,0
Электрический лобзик	2,8
Шлифовальная машина	8,8
Циркулярная пила	7,3
Торцовочная пила	10,0


В мастерской работает шлифовальная машина. Можно ли дополнительно к шлифовальной машине включить в сеть торцовочную пилу? Запишите решение и ответ.

Решение: _____

Ответ: _____

10

С помощью вольтметра проводились измерения напряжения на участке электрической цепи (см. рисунок). Погрешность измерений напряжения равна цене деления шкалы вольтметра.

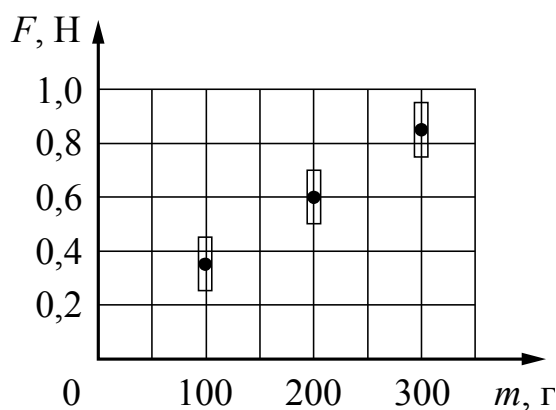


Запишите в ответ показания вольтметра с учётом погрешности измерений.

Ответ: _____ В.

11

Ученик исследовал зависимость силы трения от массы тела, перемещая его равномерно и прямолинейно по горизонтальной поверхности. Погрешность измерения силы трения равна 0,05 Н, а массы тела – 5 г. Результаты измерений с учётом их погрешности представлены на графике.



Каков приблизительно коэффициент трения скольжения тела по поверхности, на которой проводился эксперимент?

Ответ: _____.

13

Установите соответствие между техническими устройствами и физическими явлениями, лежащими в основе принципа их действия.

К каждой позиции первого столбца подберите соответствующую позицию из второго столбца.

ТЕХНИЧЕСКИЕ УСТРОЙСТВА

- А) зеркальный перископ
Б) проекционный аппарат

ФИЗИЧЕСКИЕ ЯВЛЕНИЯ

- 1) отражение света
2) дифракция света
3) интерференция света
4) преломление света

Запишите в таблицу выбранные цифры под соответствующими буквами.

Ответ:

А	Б

Прочитайте фрагмент инструкции к электрической пиле и выполните задания 14 и 15.

- Штепсельная вилка электроинструмента должна соответствовать штепсельной розетке. никоим образом не изменяйте штепсельную вилку. Не применяйте переходных штекеров для электроинструментов с защитным заземлением. Неизмененные штепсельные вилки и подходящие штепсельные розетки снижают риск поражения электротоком.
- Предпринимайте необходимые меры предосторожности от удара электрическим током. Избегайте контакта корпуса инструмента с заземленными поверхностями, такими как трубы, отопление, холодильники.
- Защищайте электроинструмент от дождя и сырости.
- Применяйте средства индивидуальной защиты и всегда защитные очки. Использование средств индивидуальной защиты: защитной маски, обуви на нескользящей подошве, защитного шлема или средств защиты органов слуха в зависимости от вида работы электроинструмента снижает риск получения травмы.

14

В инструкции рекомендуется защищать инструмент от дождя и сырости. Объясните, почему.

Ответ:

15

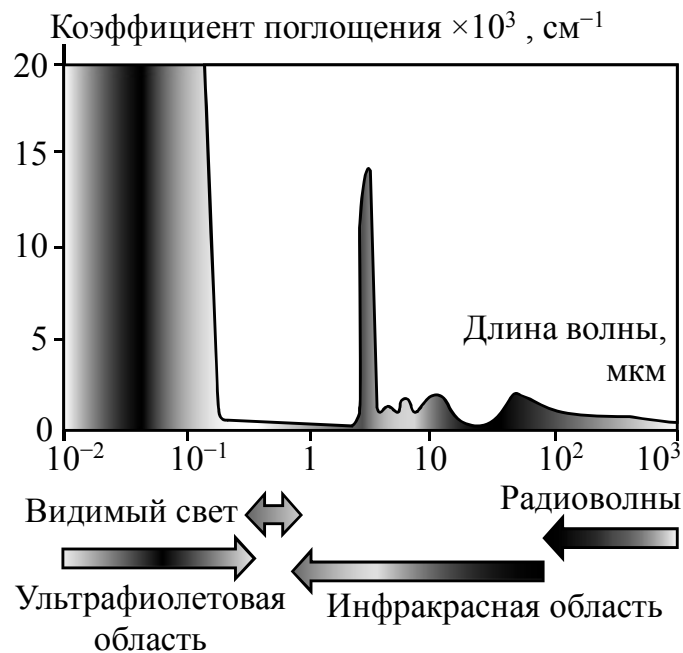
Почему в инструкции требуется всегда надевать защитные очки при работе с электропилой?

Ответ:

Прочитайте текст и выполните задания 16–18.

Почему лёд прозрачный, а снег белый

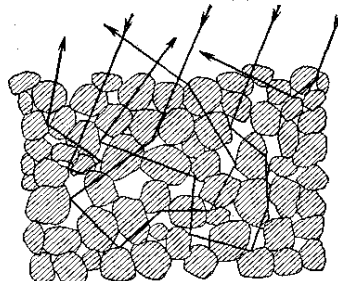
Человеческий глаз способен остро реагировать на электромагнитные волны видимой части спектра. На рисунке показаны результаты измерений коэффициента поглощения льдом электромагнитных излучений различных диапазонов.



В видимой области спектра коэффициент поглощения льда практически равен нулю, поэтому лёд прозрачен. Однако в инфракрасной и ультрафиолетовой областях коэффициент поглощения принимает очень большие значения.

Если бы лёд не был прозрачным, то и снег не выглядел бы белым. Рассматривая снег под микроскопом, можно убедиться, что он состоит из частиц прозрачного льда. Тем не менее комки снега имеют белый цвет.

Белизна снега объясняется тем, что свет, в котором представлены все длины волн, испытав многократное отражение и преломление на поверхностях снежинок, несмотря на сложный путь, почти не поглощается и вновь выходит на поверхность.



Если бы частицы, из которых состоит снег, хоть немного поглощали свет, снег не выглядел бы белым.

Вспомним, что эталоном абсолютно чёрного тела служит платиновая чернь, которая представляет собой порошок платины. Дело в том, что платиновая чернь обладает чрезвычайно высоким коэффициентом поглощения света на всех длинах волн.

В результате из-за сильного поглощения падающий свет больше не возвращается на поверхность.

16 Почему платиновая чернь служит эталоном абсолютно чёрного тела?

☐ Ответ: _____.

17 Какого цвета казался бы нам лёд, если бы наш глаз мог воспринимать только ультрафиолетовое излучение?

☐ Ответ: _____.

18 Прозрачный стеклянный стакан разбился на очень мелкие осколки, которые собрали в одну кучку. Какого цвета будут эти осколки стакана? Ответ поясните.

☐ Ответ: _____

