

ГОСУДАРСТВЕННАЯ ИТОГОВАЯ АТТЕСТАЦИЯ

ГИА-9

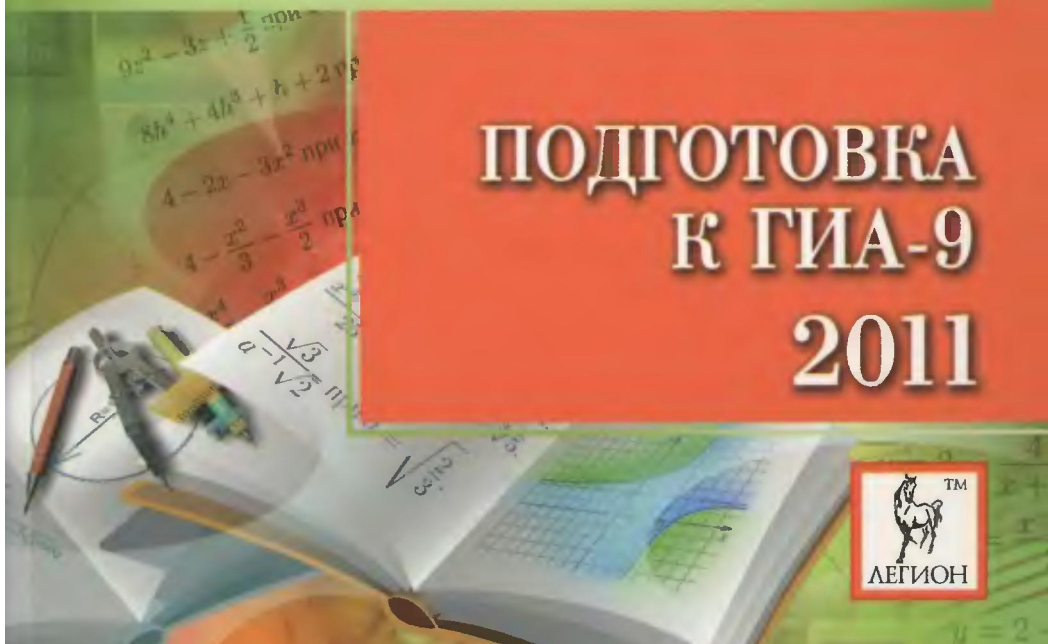


Под редакцией Ф.Ф. Лысенко,
С.Ю. Кулабухова

РЕШЕБНИК МАТЕМАТИКА

9 КЛАСС

ПОДГОТОВКА
К ГИА-9
2011



Под редакцией Ф. Ф. Лысенко, С. Ю. Кулабухова

МАТЕМАТИКА

РЕШЕБНИК

9-й КЛАСС

ПОДГОТОВКА

К ГОСУДАРСТВЕННОЙ

ИТОГОВОЙ АТТЕСТАЦИИ-2011

Учебно-методическое пособие



ЛЕГИОН-М
Ростов-на-Дону
2010

ББК 22.14

Р 47

Рецензенты: *Л. Н. Евич* — к. ф.-м. н., доцент,
Л. Л. Иванова — заслуженный учитель России

Авторский коллектив:

Кулабухов С. Ю., Резникова Н. М., Таран А. А.,
Тимофеенко И. В., Фофонов А. Е.

Р 47 **Решбник. Математика. 9 класс. Подготовка к государственной итоговой аттестации-2011:** учебно-методическое пособие / Под ред. Ф. Ф. Лысенко, С. Ю. Кулабухова. — Ростов-на-Дону: Легион-М, 2010. — 240 с. — (ГИА-9)

ISBN 978-5-91724-048-0

Решбник предназначен для самостоятельной или коллективной подготовки учащихся к государственной итоговой аттестации (ГИА-9) по математике в 9-м классе. Он содержит решения **всех тестовых заданий повышенного уровня сложности и всех задач из раздела «Задачник»** пособия «Математика. 9 класс. Подготовка к ГИА-2011» под редакцией Ф. Ф. Лысенко, С. Ю. Кулабухова за исключением решений, представленных в указанной книге.

Предлагаемый материал поможет школьникам отработать навыки решения заданий предстоящего экзамена и систематизировать знания в процессе подготовки к ГИА-9. Пособие также адресовано учителям, организующим подготовку учеников к экзамену.

ББК 22.14



ISBN 978-5-91724-048-0

© ООО «Легион-М», 2010

Оглавление

Глава I. Решения учебно-тренировочных тестов	4
Решение варианта №1	4
Решение варианта №2	5
Решение варианта №3	6
Решение варианта №4	8
Решение варианта №5	10
Решение варианта №6	12
Решение варианта №7	13
Решение варианта №8	15
Решение варианта №9	17
Решение варианта №10	18
Решение варианта №11	20
Решение варианта №12	22
Решение варианта №13	23
Решение варианта №14	25
Решение варианта №15	27
Решение варианта №16	29
Решение варианта №17	30
Решение варианта №18	32
Решение варианта №19	33
Решение варианта №20	35
Решение варианта №21	36
Решение варианта №22	38
Решение варианта №25	40
Решение варианта №26	41
Решение варианта №27	42
Решение варианта №28	44
 Глава II. Решения задач из сборника	 45
Литература.	228

Глава I. Решения учебно-тренировочных тестов

Решение варианта №1

17. ОДЗ: $x \neq 2$. $\frac{x-2}{x+2} + \frac{x}{x-2} = \frac{16}{x^2-4}$;

$$\frac{x^2 - 4x + 4 + x^2 + 2x - 16}{x^2 - 4} = 0;$$

$2x^2 - 2x - 12 = 0$; $x^2 - x - 6 = 0$; $x_1 = 3$, $x_2 = -2$ — не входит в ОДЗ.

Ответ: 3.

18. Так как прямая проходит через обе точки, составим систему уравнений, где уравнение прямой имеет вид $y = ax + b$: $\begin{cases} -10a + b = -7, \\ 15a + b = -2. \end{cases}$ Вы-

чтем из второго уравнения первое, тогда $25a = 5$, $a = \frac{1}{5}$. Подставляя это

значение во второе уравнение, получаем: $15 \cdot \frac{1}{5} + b = -2$; $b = -5$. Урав-

нение прямой: $y = \frac{1}{5}x - 5$. Прямая пересекает ось Oy , когда $x = 0$, тогда $y = -5$, значит, в точке $(0; -5)$.

Ответ: $y = \frac{1}{5}x - b$; $(0; -5)$.

19. $\frac{3c + 3d - 2}{2d - 2c + 3c^2 - 3d^2} = \frac{3c + 3d - 2}{-2(c - d) + 3(c - d)(c + d)} =$

$$= \frac{3c + 3d - 2}{(c - d)(3c + 3d - 2)} = \frac{1}{c - d}.$$

Ответ: $\frac{1}{c - d}$.

20. Пусть x — это начальная стоимость сахара, а t — количество сахара, которое можно купить после повышения цены, тогда $x \cdot 3,9 = 1,3x \cdot t$; $3,9 = 1,3t$; $t = 3$.

Ответ: 3.

21. Построим график функции $f(x)$ (см. рис. 1). Так как прямая $y = a$ параллельна оси Ox , то она будет иметь 2 общие точки с графиком функции $y = f(x)$ при $a = -4$, $a = 0$.

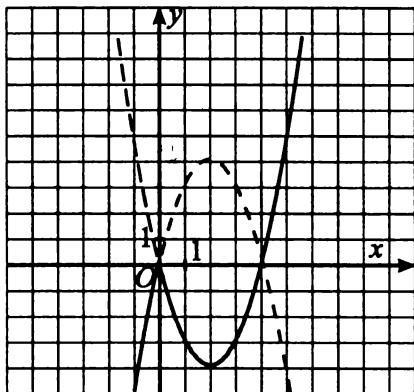


Рис. 1

Ответ: $-4; 0$.

Решение варианта №2

$$17. \text{ОДЗ: } x = \pm 3, \frac{x+3}{x-3} - \frac{x}{x+3} = \frac{72}{x^2-9},$$

$$\frac{x^2+6x+9-x^2+3x-72}{x^2-9} = 0, \quad 9x-63=0, \quad x=7.$$

Ответ: 7.

18. Так как прямая проходит через обе точки, составим систему уравнений, где уравнение прямой имеет вид $y = ax + b$:
$$\begin{cases} -8a + b = -30, \\ 4a + b = 6. \end{cases}$$
 Вычтем из второго уравнения первое, тогда $12a = 36$, $a = 3$. Подставляя это значение во второе уравнение, получаем: $4 \cdot 3 + b = 6$; $b = -6$. Уравнение прямой: $y = 3x - 6$. Прямая пересекает ось Ox , когда $y = 0$, тогда $x = 2$, значит, в точке $(2; 0)$.

Ответ: $y = 3x - 6$; $(2; 0)$.

$$\begin{aligned}
 19. \frac{3a^2 - 3b^2 - 2a + 2b}{2 - 3a - 3b} &= \frac{3(a-b)(a+b) + 2(b-a)}{2 - 3a - 3b} = \\
 &= \frac{(b-a)(-3a-3b) + 2(b-a)}{2 - 3a - 3b} = \frac{(b-a)(2-3a-3b)}{2-3a-3b} = b-a.
 \end{aligned}$$

Ответ: $b - a$.

20. Пусть x — это начальная стоимость конфет, а t — количество конфет, которое можно купить после понижения цены, тогда $x \cdot 3,2 = 0,8x \cdot t$; $3,2 = 0,8t$; $t = 4$.

Ответ: 4.

21. Построим график функции $f(x)$ (см. рис. 2). Так как прямая $y = a$ параллельна Ox , то она будет иметь 3 общие точки с графиком функции $y = f(x)$ при $0 < a < 4$.

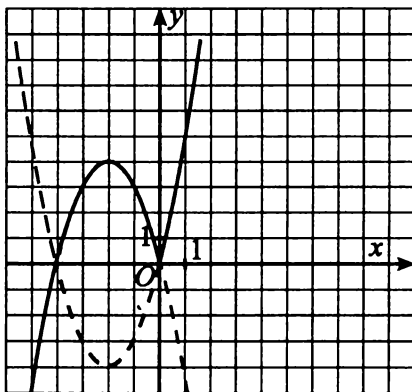


Рис. 2

Ответ: $(0; 4)$.

Решение варианта №3

$$17. \text{ОДЗ: } x \neq \pm 3. \quad \frac{x-1}{x-3} + \frac{15-x}{9-x^2} = \frac{1}{x+3}.$$

$$\frac{(x+3)(x-1) - (15-x)}{x^2-9} = \frac{x-3}{x^2-9},$$

$$\frac{x^2 + 3x - x - 3 - 15 + x - x + 3}{x^2 - 9} = 0. \quad x^2 + 2x - 15 = 0; \quad x_1 = -5, x_2 = 3.$$

$x_2 = 3$ — не входит в ОДЗ.

Ответ: $x = -5$.

18. В общем виде уравнение прямой может быть записано как $y = kx + b$ либо $x = a$.

Второй вариант противоречит условию, так как точки A и B имеют различные абсциссы.

Подставим координаты точек A и B в уравнение $y = kx + b$.

$$\begin{cases} -3 = k \cdot 30 + b \\ 5 = k \cdot 10 + b \end{cases} \Rightarrow -8 = 20k \Rightarrow k = -\frac{2}{5}.$$

$$-3 = -\frac{2}{5} \cdot 30 + b \Rightarrow b = 9.$$

Получаем уравнение прямой: $y = -\frac{2}{5}x + 9$.

$$\text{Пересекает ось абсцисс} \Rightarrow y = 0 \Rightarrow -\frac{2}{5}x + 9 = 0 \Rightarrow x = \frac{45}{2}.$$

Прямая пересекает ось x в точке $\left(\frac{45}{2}; 0\right)$.

Ответ: $y = -\frac{2}{5}x + 9, \left(\frac{45}{2}; 0\right)$.

$$\begin{aligned} 19. \quad \frac{b - ba - a}{a^2 + ab^2 + a^2b - b^2} &= \frac{-(a + ab - b)}{a^2 - b^2 + ab^2 + a^2b} = \\ &= \frac{-(a + ab - b)}{(a - b)(a + b) + ab(a + b)} = \frac{-(a + ab - b)}{(a + b)(a + ab - b)} = \\ &= -\frac{1}{a + b}. \end{aligned}$$

Ответ: $-\frac{1}{a + b}$.

20. Пусть x — цена ткани до подорожания, тогда новая цена — $1,4x$.

На покупку 3,5 метров ткани ранее тратили $3,5x$. Пусть y — объем товара, который теперь можно купить на эти деньги.

Значит, $3,5x = 1,4xy \Rightarrow y = \frac{3,5x}{1,4x} = \frac{5}{2} = 2,5$.

Теперь можно купить 2,5 м ткани. Разность: $3,5 - 2,5 = 1$.

Ответ: 1.

21. Построим график функции $f(x)$ (см. рис. 3). Так как прямая $y = p$ параллельна оси Ox , то она будет иметь более одной общей точки с графиком функции $y = f(x)$ при $-3 < p \leq \frac{9}{4}$.

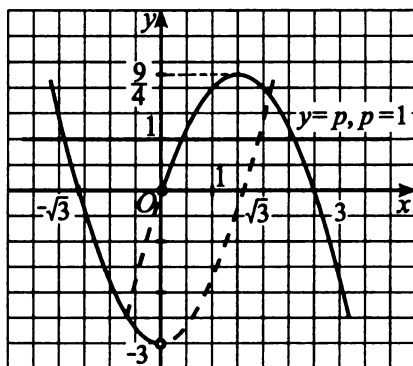


Рис. 3

Ответ: $p \in \left(3; \frac{9}{4}\right]$.

Решение варианта №4

17. ОДЗ: $x \neq \pm \frac{3}{2}$.

$$\frac{x-2}{2(3-2x)} + \frac{2x-4,5}{4x^2-9} = \frac{1}{2x+3};$$

$$\frac{(2x+3)(2-x) + 2(2x-4,5) - 2(2x-3)}{2(4x^2-9)} = 0;$$

$$\frac{4x + 6 - 2x^2 - 3x + 4x - 9 - 4x + 6}{2(4x^2 - 9)} = 0; \quad 2x^2 - x - 3 = 0;$$

$$x_1 = -1, \quad x_2 = 1, 5.$$

$x_2 = 1, 5$ — вне ОДЗ исходного уравнения.

Ответ: -1 .

18. В общем виде уравнение прямой может быть представлено как $y = kx + b$, либо $x = a$.

Второй вариант противоречит условию, так как точки A и B имеют различные абсциссы.

Подставим координаты A и B в уравнение $y = kx + b$.

$$\begin{cases} 3 = 16k + b, \\ 12 = -20k + b. \end{cases} \Rightarrow 36k = -9 \Rightarrow k = -\frac{1}{4};$$

$$3 = -16 \cdot \frac{1}{4} + b \Rightarrow b = 7.$$

Получаем уравнение прямой: $y = -\frac{1}{4}x + 7$.

Она пересекает ось абсцисс при $y = 0 \Rightarrow 0 = -\frac{1}{4}x + 7 \Rightarrow x = 28$.

Ответ: $y = -\frac{1}{4}x + 7, (28; 0)$.

$$\begin{aligned} 19. \frac{(a+b)^2 - 2ab}{a^3 - a^2b + ab^2 - b^3} &= \frac{a^2 + 2ab + b^2 - 2ab}{a^2(a-b) + b^2(a-b)} = \\ &= \frac{a^2 + b^2}{(a^2 + b^2)(a-b)} = \frac{1}{a-b}. \end{aligned}$$

Ответ: $\frac{1}{a-b}$.

20. Пусть x — старая цена, тогда $0,84x$ — новая цена метра ткани.

На 10,5 метров раньше было затрачено 10,5 x .

Пусть y — количество метров ткани, которые можно купить по новой цене. Тогда на покупку будет затрачено $0,84x \cdot y$, что по условию равно 10,5 x .

$$0,84xy = 10,5x \Rightarrow y = \frac{10,5x}{0,84x} = 12,5.$$

Теперь можно купить 12,5 метров ткани.

Разность: $12,5 - 10,5 = 2$.

Ответ: 2.

21. Построим график функции $f(x)$ (см. рис. 4). Так как прямая $y = p$ параллельна оси Ox , то она будет иметь не менее трёх общих точек с графиком функции $y = f(x)$ при $-1 < p < 4$.

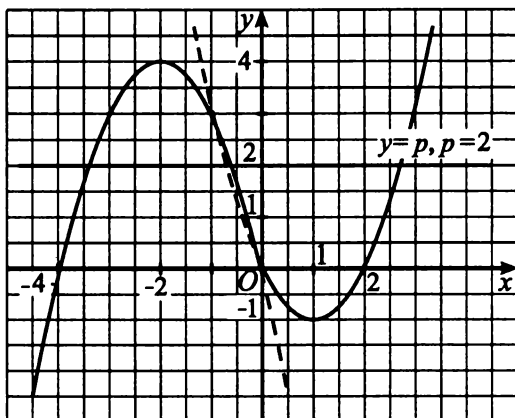


Рис. 4

Ответ: $(-1; 4)$.

Решение варианта №5

17. ОДЗ: $x \neq \pm 4$. $\frac{x+4}{x-4} - \frac{x}{x+4} = \frac{10}{x^2-16}$; $(x+4)(x+4) - x(x-4) = 10$;

$x^2 + 8x + 16 - x^2 + 4x = 10$; $12x = -6$; $x = -\frac{1}{2}$.

Ответ: $-\frac{1}{2}$.

18. Даны точки $A(5; -1)$ и $B(-10; 5)$. Уравнение прямой, не параллельной оси Oy , имеет вид: $y = kx + b$. Составим систему уравнений:

$$\begin{cases} -1 = k \cdot 5 + b, \\ 5 = k \cdot (-10) + b; \end{cases} \quad 15k = -6; k = -0,4; b = -1 - 5 \cdot (-0,4) = 1.$$

Уравнение прямой, проходящей через точки A и B , имеет вид:
 $y = -0,4x + 1$. При $y = 0$, $-0,4x + 1 = 0$; $x = 2,5$.

Ответ: $y = -0,4x + 1$; $(-2,5; 0)$.

$$19. \frac{3b - 3a + 1}{3a^2 - 3b^2 - a - b} = \frac{3b - 3a + 1}{3(a^2 - b^2) - (a + b)} =$$

$$= -\frac{3a - 3b - 1}{(a + b)(3a - 3b - 1)} = -\frac{1}{a + b}.$$

Ответ: $-\frac{1}{a + b}$.

20. Пусть первоначальная стоимость одного килограмма овощей — x . Когда стоимость повысилась на 40%, она стала $1,4x$. На эту сумму купили 5 кг, то есть уплатили $1,4x \cdot 5 = 7x$. Значит, ранее на эту сумму можно было купить $\frac{7x}{x} = 7$ (кг).

Ответ: 7.

21. Построим график функции $y = f(x)$ (см. рис. 5),
 где $f(x) = \begin{cases} x(x - 4), & x < 4; \\ x(4 - x), & x \geq 4. \end{cases}$

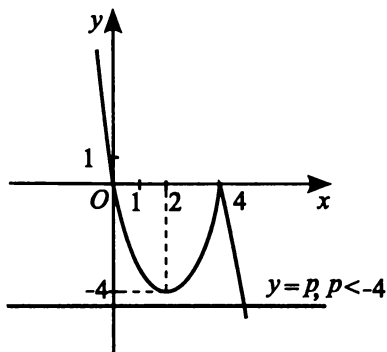


Рис. 5

Прямая $y = p$, параллельная оси Oy будет иметь более одной общей точки с графиком функции $y = f(x)$ при условии $-4 \leq p < 0$.

Ответ: $[-4; 0)$.

Решение варианта №6

17. ОДЗ: $x \neq \pm 5$. $\frac{x}{x-5} - \frac{x-5}{x+5} = \frac{11}{x^2-25}$, $x(x+5) - (x-5)^2 = 11$,

$$x^2 + 5x - x^2 + 10x - 25 - 11 = 0, 15x - 36 = 0, x = \frac{36}{15}, x = 2,4.$$

Ответ: 2,4.

18. Уравнение прямой имеет вид: $y = kx + b$. Она проходит через точки $A(3; -2)$ и $B(-5; 6)$. Составим систему уравнений: $\begin{cases} 3k + b = -2, \\ -5k + b = 6; \end{cases} \Leftrightarrow k = -1, b = 1.$

Уравнение прямой, проходящей через точки A и B , имеет вид: $y = -x + 1$. Если $y = 0$, то $x = 1$.

Ответ: $y = -x + 1$; $(1; 0)$.

$$\begin{aligned} 19. \frac{4a+4b+1}{4a^2-4b^2+a-b} &= \frac{4a+4b+1}{4(a^2-b^2)+(a-b)} = \\ &= \frac{(4a+4b+1)}{(a-b)(4a+4b+1)} = \frac{1}{a-b}. \end{aligned}$$

Ответ: $\frac{1}{a-b}$.

20. Пусть первоначальная стоимость 1 кг овощей — x рублей. Когда стоимость повысилась на 20%, она составила $1,2x$ рублей. На эту сумму купили 5 кг, то есть уплатили $1,2x \cdot 5 = 6x$ (руб). Значит, ранее на эту сумму можно было купить $\frac{6x}{x} = 6$ (кг).

Ответ: 6.

21. Построим график функции $y = f(x)$ (см. рис. 6),

$$\text{где } f(x) = \begin{cases} x(6-x), & x < 6; \\ x(x-6), & x \geq 6. \end{cases}$$

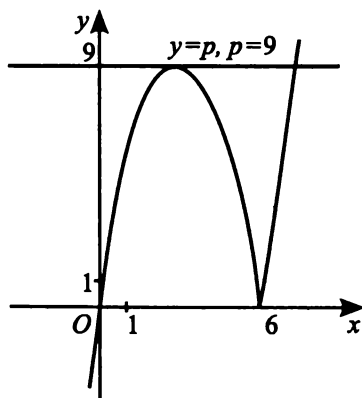


Рис. 6

Уравнение $f(x) = p$ имеет два решения при условии $p = 9$ или $p = 0$.

Ответ: 0; 9.

Решение варианта №7

17. $\frac{x-10}{x-2} + \frac{x}{x+2} = \frac{8}{x^2-4}$. ОДЗ: $x \neq \pm 2$. Умножив обе части уравнения на $x^2 - 4$, получим: $(x-10)(x+2) + x(x-2) = 8$; $x^2 - 5x - 14 = 0$; $x_1 = -2$, $x_2 = 7$. При этом x_1 не удовлетворяет ОДЗ.

Ответ: 7.

18. Составим уравнение прямой, проходящей через точки $A(-5; 7)$ и $B(6; -11)$. Для этого подставим координаты точек в уравнение прямой $y = kx + b$. Получим систему уравнений:

$$\begin{cases} 7 = -5k + b, \\ -11 = 6k + b; \end{cases} \Leftrightarrow k = -\frac{18}{11}, b = -\frac{13}{11}. \text{ Таким образом, уравнение пря-}$$

мой имеет вид: $y = -\frac{18}{11}x - \frac{13}{11}$. Так как уравнение $0 = -\frac{18}{11}x - \frac{13}{11}$ имеет

корень $x = -\frac{13}{18}$, то эта прямая пересекает ось абсцисс в точке $(-\frac{13}{18}; 0)$.

Ответ: $y = -\frac{18}{11}x - \frac{13}{11}, (-\frac{13}{18}; 0)$.

$$19. \frac{10x^2 - 10y^2 + 10x + 10y}{5x - 5y + 5} = \frac{10(x+y)(x-y+1)}{5(x-y+1)} = 2x + 2y.$$

Ответ: $2x + 2y$.

20. Пусть x — первоначальная цена одного килограмма изюма. Купив 21 кг, заплатили $21x$ рублей. Далее цена изюма снизилась на 16%, то есть один килограмм изюма стал стоить $x - 0,16x = 0,84x$ (руб). На сумму $21x$ рублей по цене $0,84x$ рублей можно купить $\frac{21x}{0,84x} = 25$ (кг) изюма.

Ответ: 25.

21. Построим график функции $y = |2x^2 - 15x - 27|$ и найдём, при каких значениях a этот график имеет две общие точки с графиком функции $y = a$ (см. рис. 7).

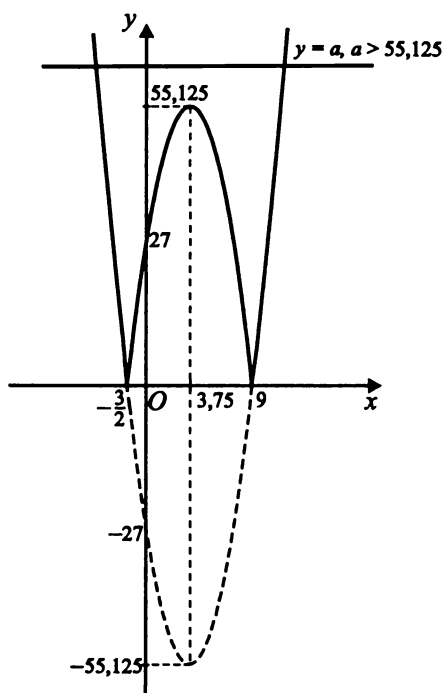


Рис. 7

Для этого вначале построим график функции $y = 2x^2 - 15x - 27$. Это парабола, ветви которой направлены вверх. Вершина имеет координаты $x_0 = -\frac{-15}{2 \cdot 2} = 3,75$ и $y_0 = y(x_0) = 2 \cdot 3,75^2 - 15 \cdot 3,75 - 27 = -55,125$. Координаты точек пересечения с осью Ox найдём, решив уравнение $2x^2 - 15x - 27 = 0$. Его корни $x_1 = -\frac{3}{2}$ и $x_2 = 9$. Так как $y(0) = -27$, то точка $(0; -27)$ — это точка пересечения графика параболы с осью Oy .

Симметрично отразив относительно оси Ox часть графика параболы, находящуюся ниже этой оси, получим график функции $y = |2x^2 - 15x - 27|$. Из рисунка видно, что графики функций $y = |2x^2 - 15x - 27|$ и $y = a$ имеют две общие точки, если $a = 0$ или $a > 55,125$.

Ответ: $\{0\} \cup (55,125; +\infty)$.

Решение варианта №8

17. $\frac{x-26}{x+5} + \frac{x}{x-5} = \frac{50}{x^2-25}$. ОДЗ: $x \neq \pm 5$. Умножив обе части уравнения на $x^2 - 25$, получим: $(x-26)(x-5) + x(x+5) = 50$; $x^2 - 13x + 40 = 0$; $x_1 = 5$, $x_2 = 8$. При этом x_1 не удовлетворяет ОДЗ.

Ответ: 8.

18. Составим уравнение прямой, проходящей через точки $A(-4; 9)$ и $B(5; -13)$. Для этого подставим координаты точек в уравнение прямой $y = kx + b$. Получим систему уравнений

$$\begin{cases} 9 = -4k + b, \\ -13 = 5k + b; \end{cases} \Leftrightarrow k = -\frac{22}{9}, b = -\frac{7}{9}.$$

Таким образом, уравнение прямой имеет вид: $y = -\frac{22}{9}x - \frac{7}{9}$. Так как уравнение $0 = -\frac{22}{9}x - \frac{7}{9}$ имеет корень $x = -\frac{7}{22}$, то эта прямая пересекает ось абсцисс в точке $(-\frac{7}{22}; 0)$.

Ответ: $y = -\frac{22}{9}x - \frac{7}{9}, (-\frac{7}{22}; 0)$.

$$19. \frac{12a^2 - 12b^2 + 3a + 3b}{4a - 4b + 1} = \frac{3(a+b)(4a - 4b + 1)}{4a - 4b + 1} = 3a + 3b.$$

Ответ: $3a + 3b$.

20. Пусть x — первоначальная цена одного килограмма яблок. Купив 11 кг, заплатили $11x$ рублей. Далее цена яблок снизилась на 12%, то есть один килограмм яблок стал стоить $x - 0,12x = 0,88x$ (руб). На сумму 11 x рублей по цене $0,88x$ рублей можно купить $\frac{11x}{0,88x} = 12,5$ (кг) яблок.

Ответ: 12,5.

21. Построим график функции $y = |2x^2 - 7x - 72|$ и найдём, при каких значениях a этот график имеет четыре общие точки с графиком функции $y = a$ (см. рис. 8).

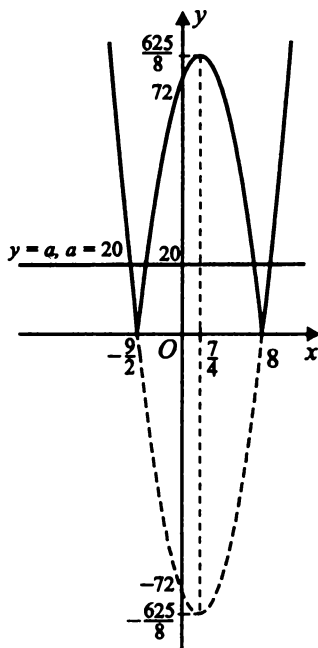


Рис. 8

Для этого вначале построим график функции $y = 2x^2 - 7x - 72$. Это парабола, ветви которой направлены вверх. Вершина имеет координаты $x_0 = \frac{7}{4}$ и $y_0 = y(x_0) = 2 \cdot \frac{49}{16} - 7 \cdot \frac{7}{4} - 72 = -\frac{625}{8}$. Координаты точек пересечения с осью Ox найдём решив уравнение $2x^2 - 7x - 72 = 0$. Его корни $x_1 = -\frac{9}{2}$ и $x_2 = 8$. Так как $y(0) = -72$, то точка $(0; -72)$ — это точка пересечения графика параболы с осью Oy .

Симметрично отразив относительно оси Ox часть графика параболы, находящуюся ниже этой оси, получим график функции $y = |2x^2 - 7x - 72|$. Из рисунка видно, что графики функций $y = |2x^2 - 7x - 72|$ и $y = a$ имеют четыре общие точки, если $0 < a < \frac{625}{8}$.

Ответ: $(0; 78, 125)$.

Решение варианта №9

$$17. \frac{x-3}{x+3} + \frac{x-6}{x-3} = \frac{18}{9-x^2}; \frac{(x-3)^2 + (x-6)(x+3) + 18}{x^2-9} = 0;$$

$$x^2 - 6x + 9 + x^2 - 3x - 18 + 18 = 0; 2x^2 - 9x + 9 = 0; x_1 = 1,5; x_2 = 3.$$

Непосредственной подстановкой в исходное уравнение значений x_1 и x_2 убеждаемся, что $x_1 = 1,5$ — корень, а при $x_2 = 3$ исходное уравнение не имеет смысла.

Ответ: 1,5.

18. Общий вид уравнения прямой, не параллельной оси Oy , имеет вид: $y = kx + b$.

Точки $A(8; 57)$ и $B(-4; -18)$ принадлежат одной прямой, значит, подставив вместо x и y соответствующие значения, получим систему:

$$\begin{cases} 57 = k \cdot 8 + b, \\ -18 = k \cdot (-4) + b. \end{cases}$$

Решив её, найдём $k = \frac{50}{8}$, $b = 7$, то есть искомое уравнение прямой:

$$y = \frac{25}{4}x + 7.$$

Точка пересечения прямой с осью Oy имеет абсциссу, равную 0, \Rightarrow
 $y_0 = \frac{25}{4} \cdot 0 + 7, y_0 = 7.$

Ответ: $y = \frac{25}{4}x + 7, (0; 7).$

$$19. \frac{2a+3b}{4a^2+4ab-3b^2} = \frac{2a+3b}{4a^2+4ab+b^2-4b^2} = \frac{2a+3b}{(2a+b)^2-4b^2} =$$

$$= \frac{2a+3b}{(2a+b+2b)(2a+b-2b)} = \frac{2a+3b}{(2a+3b)(2a-b)} = \frac{1}{2a-b}.$$

Ответ: $\frac{1}{2a-b}.$

20. Пусть x — первоначальная стоимость телевизора, тогда $7x$ — стоимость 7 телевизоров. После подорожания стоимость телевизора составила $x + 0,17x = 1,17x$, значит, на $7x$ можно купить $\frac{7x}{1,17x} = 5\frac{115}{117}$, то есть 5 штук.

Ответ: 5.

21. Изобразим график функции $y = f(x)$ (см. рис. 9). По графику определяем, что прямая $y = a + 7$ имеет нечётное количество общих точек с графиком функции $y = f(x)$ при

а) $y > 4, \Rightarrow a + 7 > 4 \Rightarrow a > -3;$

б) $y = 2,25, \Rightarrow a + 7 = 2,25 \Rightarrow a = -4,75;$

в) $y = -2,25, \Rightarrow a + 7 = -2,25 \Rightarrow a = -9,25;$

г) $y \leq -4, \Rightarrow a + 7 \leq -4 \Rightarrow a \leq -11.$

Ответ: $(-\infty; -11] \cup \{-9,25\} \cup \{-4,75\} \cup (-3; +\infty).$

Решение варианта №10

$$17. \frac{2x+1}{2x-1} - \frac{x+1}{2x+1} = \frac{4}{4x^2-1}; \quad \frac{(2x+1)^2 - (2x-1)(x+1) - 4}{4x^2-1} = 0;$$

$$4x^2 + 4x + 1 - 2x^2 - x + 1 - 4 = 0; \quad 2x^2 + 3x - 2 = 0; \quad x_1 = -2; \quad x_2 = \frac{1}{2}.$$

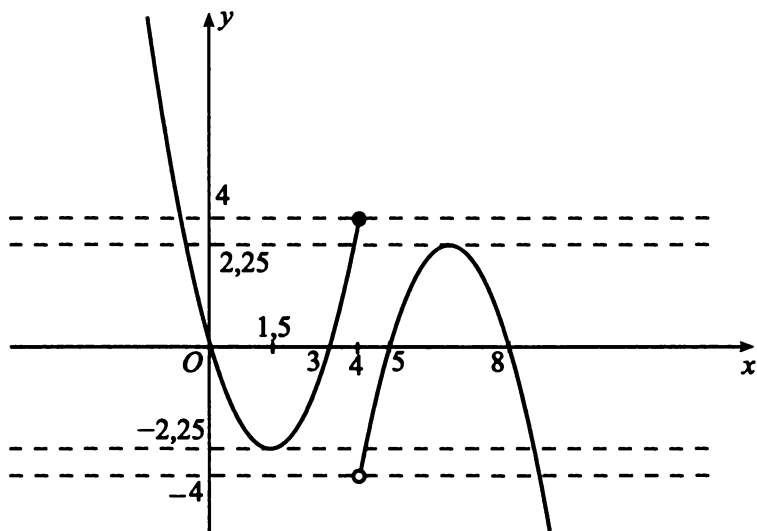


Рис. 9

Непосредственной подстановкой в исходное уравнение значений x_1 и x_2 убеждаемся, что $x_1 = -2$ — корень, а при $x_2 = \frac{1}{2}$ исходное уравнение не имеет смысла.

Ответ: -2 .

18. Общий вид уравнения прямой, не параллельной оси Oy , имеет вид: $y = kx + b$. Точки $A(-12; 82)$ и $B(9; -37)$ принадлежат одной прямой, значит, подставив вместо x и y соответствующие значения, получим систему:

$$\begin{cases} 82 = k \cdot (-12) + b, \\ -37 = k \cdot 9 + b; \end{cases}$$

Решив её, найдем $k = -\frac{17}{3}$, $b = 14$, то есть искомое уравнение

прямой: $y = -\frac{17}{3}x + 14$.

Точка пересечения прямой с осью Oy имеет абсциссу, равную 0, $\Rightarrow y_0 = -\frac{17}{3} \cdot 0 + 14$, $y_0 = 14$.

Ответ: $y = -\frac{17}{3}x + 14$, $(0; 14)$.

$$\begin{aligned}
 19. \frac{8b^2 + 10ab - 3a^2}{64b^3 - a^3} &= \frac{8b^2 + 12ab - 2ab - 3a^2}{(4b - a)(16b^2 + 4ab + a^2)} = \\
 &= \frac{4b(2b + 3a) - a(2b + 3a)}{(4b - a)(16b^2 + 4ab + a^2)} = \frac{(2b + 3a)(4b - a)}{(4b - a)(16b^2 + 4ab + a^2)} = \\
 &= \frac{2b + 3a}{16b^2 + 4ab + a^2}.
 \end{aligned}$$

Ответ: $\frac{2b + 3a}{16b^2 + 4ab + a^2}$.

20. Пусть x — первоначальная стоимость набора инструментов, тогда $13x$ — стоимость 13 наборов. После снижения цен стоимость набора составила $x - 0,31x = 0,69x$, значит, на $13x$ можно купить $\frac{13x}{0,69x} =$

$= 18\frac{58}{69}$, то есть 18 наборов.

Ответ: 18.

21. Изобразим график функции $y = f(x)$ (см. рис. 10). По графику определяем, что прямая $y = 4 - a$ имеет чётное количество общих точек с графиком функции $y = f(x)$ при

а) $9 < y \leq 12$, $\Rightarrow -8 \leq a < -5$;

б) $0 < y < 9$, $\Rightarrow -5 < a < 4$;

в) $y = -4$, $\Rightarrow a = 8$.

Ответ: $[-8; -5) \cup (-5; 4) \cup \{8\}$.

Решение варианта №11

17. $x^3 + 3x^2 - 4x - 12 = 0 \Leftrightarrow x^2(x + 3) - 4(x + 3) = 0 \Leftrightarrow (x^2 - 4)(x + 3) = 0$
 $\Leftrightarrow (x - 2)(x + 2)(x + 3) = 0$.

Ответ: $-3; -2; 2$.

18. $(3 - 2\sqrt{2})(20 - 6x) > 0$. Так как $3 - 2\sqrt{2} > 0$, то $20 - 6x > 0 \Leftrightarrow x < \frac{10}{3}$.

Ответ: $x < \frac{10}{3}$.

19. По условию задачи составим систему уравнений:

$$\begin{cases} b_1 + b_1q = -12, \\ b_1q + b_1q^2 = 16; \end{cases} \quad \begin{cases} b_1 = -\frac{12}{1+q}, \\ b_1q(1+q) = 16. \end{cases}$$

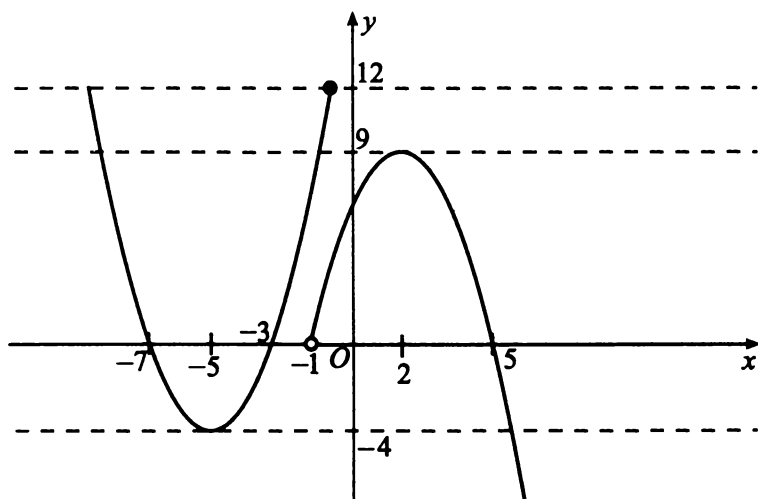


Рис. 10

Подставим значение b_1 во второе уравнение.

$-\frac{12q(1+q)}{1+q} = 16 \Rightarrow -12q = 16 \Rightarrow q = -\frac{4}{3}$. Подставим в первое уравнение системы:

$$b_1 + b_1 \cdot \left(-\frac{4}{3}\right) = -12 \Leftrightarrow b_1 \cdot \left(-\frac{1}{3}\right) = -12 \Rightarrow b_1 = 36.$$

$$\text{Тогда } b_2 = 36 \cdot \left(-\frac{4}{3}\right) = -48; \quad b_3 = 36 \cdot \left(-\frac{4}{3}\right)^2 = \frac{36 \cdot 16}{9} = 64.$$

Ответ: 36; -48; 64.

20. Так как $m = n + 2$, то $m^2 + 3mn - 5n^2 = (n+2)^2 + 3(n+2)n - 5n^2 = n^2 + 4n + 4 + 3n^2 + 6n - 5n^2 = -n^2 + 10n + 4$. Графиком функции $y = -n^2 + 10n + 4$ является парабола, ветви которой направлены вниз. Значит, наибольшее значение достигается в вершине при $n = -\frac{10}{2 \cdot (-1)} = 5$. Тогда $m = n + 2 = 5 + 2 = 7$.

Ответ: $m = 7$; $n = 5$.

$$21. f(x) = |x^2 - 4x + 3|, \begin{cases} x^2 - 4x + 3, & x \in (-\infty; 1) \cup (3; +\infty), \\ -x^2 + 4x - 3, & x \in [1; 3]. \end{cases}$$

Построим график функции (см. рис. 11). Тогда $y = p$ будет иметь 2 точки пересечения с графиком функции $y = f(x)$ тогда, когда $p \in \{0\} \cup (1; +\infty)$.

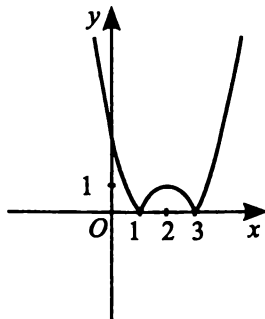


Рис. 11

Ответ: $\{0\} \cup (1; +\infty)$.

Решение варианта №12

$$17. x^3 - x^2 - 9x + 9 = x^2(x - 1) - 9(x - 1) = (x^2 - 9)(x - 1) = (x + 3)(x - 3)(x - 1) = 0.$$

Ответ: $-3; -1; 3$.

$$18. (2\sqrt{5} - 5)(6 - 4x) < 0. \text{ Так как } 2\sqrt{5} - 5 < 0, \text{ то } 6 - 4x > 0; x < 1,5.$$

Ответ: $x < 1,5$.

19. По условию задачи составим систему уравнений:

$$\begin{cases} b_1 + b_1 q = 16, \\ b_1 q + b_1 q^2 = -20; \end{cases} \Leftrightarrow \begin{cases} b_1 = \frac{16}{1+q}; \\ b_1 q(1+q) = -20. \end{cases}$$

Подставим значение b_1 во второе уравнение:

$$\frac{16q(1+q)}{1+q} = -20 \Leftrightarrow 16q = -20 \Leftrightarrow q = -1,25. \text{ Подставим значение } q \text{ в}$$

$$\text{первое уравнение: } \frac{16}{1-1,25} = -64.$$

Тогда $b_2 = -64 \cdot (-1,25) = 80$; $b_3 = -64 \cdot (-1,25)^2 = -100$.

Ответ: -64 ; 80 ; -100 .

20. Так как $m = 1 - n$, то $m^2 - 2mn - n^2 =$
 $= (1 - n)^2 - 2(1 - n)n - n^2 = 1 - 2n + n^2 - 2n + 2n^2 - n^2 = 2n^2 - 4n + 1$.
 Графиком функции $y = 2n^2 - 4n + 1$ является парабола, ветви которой направлены вверх. Значит, наименьшее значение достигается в вершине при $n = -\frac{-4}{2 \cdot 2} = 1$. Тогда $m = 1 - n = 1 - 1 = 0$.

Ответ: $m = 0$; $n = 1$.

21. $f(x) = x^2 - 4|x| + 3 = \begin{cases} x^2 - 4x + 3, & x \geq 0, \\ x^2 + 4x + 3, & x < 0. \end{cases}$ Построим график функции (см. рис. 12). Прямая $y = p$ будет иметь 2 точки пересечения с графиком функции $y = f(x)$ тогда и только тогда, когда $p \in \{-1\} \cup (3; +\infty)$.

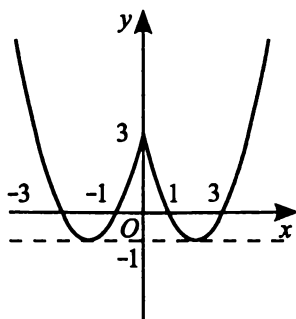


Рис. 12

Ответ: $\{-1\} \cup (3; +\infty)$.

Решение варианта №13

17. $\frac{5,5x - 1}{5} \geq \frac{x^2}{2}$; $11x - 2 \geq 5x^2$; $5x^2 - 11x + 2 \leq 0$; $0,2 \leq x \leq 2$.

Ответ: $[0,2; 2]$.

18. Преобразуем исходное выражение на ОДЗ:

$$\frac{49 - a^2}{a - 9} \cdot \left(\frac{a}{a - 7} - \frac{2a}{a^2 - 14a + 49} \right) + \frac{14a}{a - 7} =$$

$$\begin{aligned}
 &= \frac{49 - a^2}{a - 9} \cdot \left(\frac{a}{a - 7} - \frac{2a}{(a - 7)^2} \right) + \frac{14a}{a - 7} = \\
 &= \frac{49 - a^2}{a - 9} \cdot \frac{a(a - 7) - 2a}{(a - 7)^2} + \frac{14a}{a - 7} = \frac{a(49 - a^2)}{(a - 7)^2} + \frac{14a}{a - 7} = \\
 &= \frac{49a - a^3 + 14a(a - 7)}{(a - 7)^2} = \frac{-a^3 + 14a^2 - 49a}{(a - 7)^2} = \frac{-a(a - 7)^2}{(a - 7)^2} = -a.
 \end{aligned}$$

Ответ: $-a$.

19. Построим график функции $y = \begin{cases} \frac{1}{2}x - 5, & \text{если } x \geq 4, \\ 4 - x, & \text{если } x < 4. \end{cases}$

1. При $x \geq 4$ график функции $y = \frac{1}{2}x - 5$ есть прямая, проходящая через точки $(4; -3)$ и $(6; -2)$ (см. рис. 13).

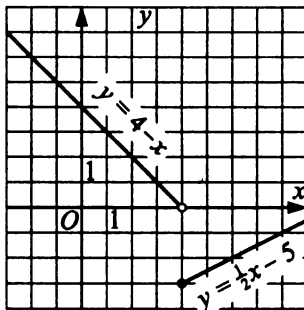


Рис. 13

2. При $x < 4$ график функции $y = 4 - x$ есть прямая, проходящая через точки $(0; 4)$ и $(1; 3)$.

Видно, что функция возрастает на промежутке $[4; +\infty)$.

Ответ: $[4; +\infty)$.

20. Графиком функции $y = 6 - 3x$ является прямая, проходящая через точки $(2; 0)$ и $(0; 6)$ (см. рис. 14).

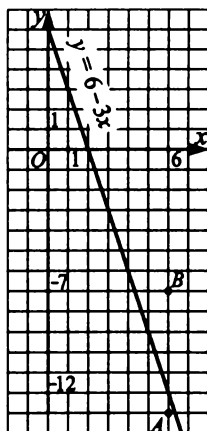


Рис. 14

Из рисунка видно, что точка $A(6; b)$ и точка $B(6; -7)$ расположены по разные стороны от прямой $y = 6 - 3x$ тогда и только тогда, когда точка A находится ниже этой прямой, то есть когда $b < -12$ (точка $(6; -12)$ находится на прямой $y = 6 - 3x$).

Ответ: $(-\infty; -12)$.

21. Пусть x — вес (в некоторых единицах веса) первого раствора, y — второго. Тогда $0,25x$ — количество сахара в первом растворе, $0,35y$ — количество сахара во втором растворе. Из условия следует уравнение $0,25x + 0,35y = 0,325(x + y)$. Решаем полученное уравнение относительно

$$\frac{x}{y}: 0,25\frac{x}{y} + 0,35 = 0,325\frac{x}{y} + 0,325; -0,075\frac{x}{y} = -0,025; \frac{x}{y} = \frac{1}{3}.$$

Ответ: $1 : 3$.

Решение варианта №14

$$17. \frac{7,5x - 1}{7} \leq \frac{x^2}{2}; 15x - 2 \leq 7x^2; 7x^2 - 15x + 2 \geq 0;$$

$$x \in \left(-\infty; \frac{1}{7}\right] \cup [2; +\infty).$$

Ответ: $\left(-\infty; \frac{1}{7}\right] \cup [2; +\infty)$.

18. Преобразуем исходное выражение на ОДЗ:

$$\begin{aligned} & \left(\frac{b}{b-5} - \frac{2b}{b^2-10b+25} \right) \cdot \frac{25-b^2}{b-7} + \frac{10b}{b-5} = \\ & = \left(\frac{b}{b-5} - \frac{2b}{(b-5)^2} \right) \cdot \frac{25-b^2}{b-7} + \frac{10b}{b-5} = \\ & = \frac{b(b-5)-2b}{(b-5)^2} \cdot \frac{25-b^2}{b-7} + \frac{10b}{b-5} = \frac{-(b^2-7b)(b-5)(b+5)}{(b-5)^2(b-7)} + \frac{10b}{b-5} = \\ & = \frac{-b(b+5)}{b-5} + \frac{10b}{b-5} = \frac{-b^2-5b+10b}{b-5} = \frac{-b^2+5b}{b-5} = \frac{-b(b-5)}{b-5} = -b. \end{aligned}$$

Ответ: $-b$.

19. Построим график функции $y = \begin{cases} 3+x, & \text{если } x > -3, \\ -\frac{1}{3}x-2, & \text{если } x \leq -3. \end{cases}$

1. При $x > -3$ график функции $y = 3 + x$ есть прямая, проходящая через точки $(-2; 1)$ и $(0; 3)$ (см. рис. 15).

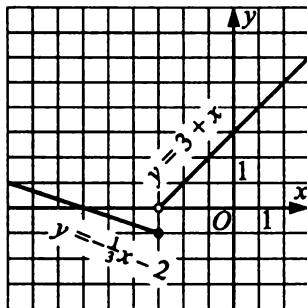


Рис. 15

2. При $x \leq -3$ график функции $y = -\frac{1}{3}x - 2$ есть прямая, проходящая через точки $(-3; -1)$ и $(-6; 0)$.

Видно, что функция убывает на промежутке $(-\infty; -3]$.

Ответ: $(-\infty; -3]$.

20. Графиком функции $y = 4 - 2x$ является прямая, проходящая через точки $(0; 4)$ и $(2; 0)$ (см. рис. 16).

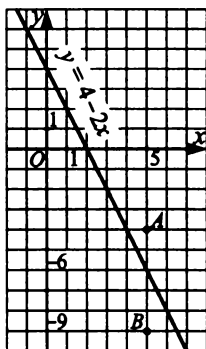


Рис. 16

Из рисунка видно, что точка $A(5; a)$ и точка $B(5; -9)$ расположены по разные стороны от прямой $y = 4 - 2x$ тогда и только тогда, когда точка A находится выше этой прямой, то есть когда $a > -6$ (точка $(5; -6)$ находится на прямой $y = 4 - 2x$).

Ответ: $(-6; +\infty)$.

21. Пусть x — вес (в некоторых единицах веса) соли в первом растворе, y — во втором. Тогда $0,1x$ — количество соли в первом растворе, $0,3y$ — количество соли во втором растворе. Из условия следует уравнение $0,1x + 0,3y = 0,24(x + y)$. Решаем полученное уравнение относительно $\frac{x}{y}$: $0,1\frac{x}{y} + 0,3 = 0,24\frac{x}{y} + 0,24$; $-0,14\frac{x}{y} = -0,06$; $\frac{x}{y} = \frac{3}{7}$.

Ответ: $3 : 7$.

Решение варианта №15

19. $x^3 - 3x^2 - 10x + 24 = 0 \Leftrightarrow x^3 + x^2 - 6x - 4x^2 - 4x + 24 = 0 \Leftrightarrow x(x^2 + x - 6) - 4(x^2 + x - 6) = 0 \Leftrightarrow (x - 4)(x^2 + x - 6) = (x - 4)(x - 2)(x + 3)$.

Ответ: $-3; 2; 4$.

20. $(3,8 - \sqrt{10})(2 - 4x) > 0$. Так как $3,8 - \sqrt{10} > 0$, то $2 - 4x > 0 \Leftrightarrow 2 > 4x \Leftrightarrow x < \frac{1}{2}$.

Ответ: $x < 0,5$.

21. По условию задачи составим систему уравнений

$$\begin{cases} b_1 + b_1 q = 108, \\ b_1 q^2 + b_1 q^3 = 168,75; \end{cases} \quad \begin{cases} b_1 = \frac{108}{q+1}, \\ b_1 q^2 (q+1) = 168,75. \end{cases}$$

Подставим значение b_1 во второе уравнение:

$$\frac{108}{q+1} \cdot q^2 (q+1) = 168,75 \Leftrightarrow q^2 = \frac{168,75}{108} = 1,5625 \Leftrightarrow q = 1,25.$$

Тогда $b_1 + 1,25b_1 = 108 \Leftrightarrow b_1 = \frac{108}{2,25} = 48$; $b_2 = b_1 q = 48 \cdot 1,25 = 60$;

$b_3 = b_1 q^2 = 48 \cdot 1,25^2 = 75$.

Ответ: 48; 60; 75.

22. Если графики функций касаются, то они имеют одну общую точку. То-

$$\text{гда } \begin{cases} x + y = c, \\ y = \frac{1}{x}; \end{cases} \quad \begin{cases} y = c - x, \\ y = \frac{1}{x}; \end{cases} \quad \Rightarrow \frac{1}{x} = c - x \Leftrightarrow 1 = cx - x^2 = 0 \Leftrightarrow$$

$x^2 - cx + 1 = 0$. Так как общая точка только одна, то дискриминант последнего квадратного уравнения $D = 0$. $D = c^2 - 4 = 0 \Leftrightarrow c = \pm 2$.

При $c = 2$ уравнение $x^2 - 2x + 1 = 0$ имеет единственный корень $x = 1$. Это означает, что абсцисса точки касания графиков положительна. При этом ордината точки касания $y = \frac{1}{x} = \frac{1}{1} = 1$ также положительна. Следовательно, $c = 2$ удовлетворяет условию задачи.

Аналогичными рассуждениями можно показать, что $c = -2$ не удовлетворяет условию задачи.

Ответ: 2.

23. Пусть C — точка, в которой встретились автобус и маршрутное такси; v_m , v_a — скорости маршрутного такси и автобуса соответственно. Тогда из условия задачи следует, что $BC = 2v_m = tv_a$; $AC = 8v_a = tv_m$, где t — время, прошедшее от начала движения до встречи. Тогда $t = \frac{2v_m}{v_a} = \frac{8v_a}{v_m}$.

$$\text{Отсюда } \frac{2v_m}{v_a} = \frac{8v_a}{v_m}; \left(\frac{v_m}{v_a}\right)^2 = \frac{8}{2} = 4; v_m = 2v_a.$$

Так как 200 км автобус и маршрутное такси, двигаясь навстречу друг другу, преодолели за $\frac{4}{3}$ часа со скоростью $v_a + v_m$, то

$$v_a + v_m = 200 : \frac{4}{3} = 150 \text{ (км/ч)}.$$

Тогда $v_a + v_{\text{м}} = v_a + 2v_a = 3v_a = 150$. Отсюда $v_a = 50$ (км/ч).

Ответ: 50.

Решение варианта №16

$$\begin{aligned} 19. x^3 - 9x^2 + 26x - 24 = 0 &\Leftrightarrow x^3 - 5x^2 + 6x - 4x^2 + 20x - 24 = 0 \Leftrightarrow \\ x(x^2 - 5x + 6) - 4(x^2 - 5x + 6) &= 0 \Leftrightarrow (x - 4)(x^2 - 5x + 6) = \\ = (x - 4)(x - 3)(x - 2) &= 0. \end{aligned}$$

Ответ: 2; 3; 4.

$$20. (\sqrt{28} - 5,6)(3x - 6) \leq 0. \text{ Так как } \sqrt{28} - 5,6 < 0, \text{ то } 3x - 6 \geq 0 \Leftrightarrow 3x \geq 6 \Leftrightarrow x \geq 2.$$

Ответ: $x \geq 2$.

21. По условию задачи составим систему уравнений:

$$\begin{cases} b_1 + b_1q = -10, \\ b_1q + b_1q^2 = 5; \end{cases} \quad \begin{cases} b_1 = \frac{-10}{q+1}, \\ b_1q(q+1) = 5. \end{cases}$$

Подставим значение b_1 во второе уравнение: $\frac{-10}{q+1}q(q+1) = 5 \Leftrightarrow$

$$\Leftrightarrow -10q = 5 \Leftrightarrow q = -\frac{1}{2}. \text{ Тогда } b_1 - \frac{1}{2}b_1 = -10; b_1 = -20.$$

$$b_2 = b_1q = -20 \cdot \left(-\frac{1}{2}\right) = 10; b_3 = b_1q^2 = -20 \cdot \frac{1}{4} = -5.$$

Ответ: -20; 10; -5.

22. Если графики функций касаются, то они имеют одну общую точку.

$$\text{Тогда } \begin{cases} y + x = c, \\ y = \frac{c}{x} \end{cases} \quad \begin{cases} y = c - x, \\ y = \frac{c}{x} \end{cases} \Rightarrow \frac{c}{x} = c - x \Leftrightarrow c = cx - x^2 \Leftrightarrow$$

$x^2 - cx + c = 0$. Так как общая точка всего одна, то дискриминант последнего квадратного уравнения $D = 0$. $D = c^2 - 4c = c(c - 4) = 0$; $c_1 = 0$, $c_2 = 4$.

При $c = 0$ уравнение $x^2 = 0$ имеет единственный корень $x = 0$. Это не удовлетворяет условию. При $c = 4$ уравнение $x^2 - 4x + 4 = 0$; $(x - 2) = 0$ имеет единственный корень $x = 2$. Это означает, что абсцисса точки касания графиков положительна. При этом ордината точки касания

$$y = \frac{4}{x} = \frac{4}{2} = 2 \text{ также положительна.}$$

Следовательно, $c = 4$ удовлетворяет условию задачи.

Ответ: 4.

23. Пусть C — точка, в которой встретились машина и автобус; v_m, v_a — скорости машины и автобуса соответственно. Тогда из условия задачи следует, что $AC = 9v_a = tv_m$; $BC = 1 \cdot v_m = tv_a$, где t — время, прошедшее от начала движения до встречи. Тогда $t = \frac{9v_a}{v_m} = \frac{v_m}{v_a}$. Отсюда

$$\left(\frac{v_m}{v_a}\right)^2 = 9; v_m = 3v_a.$$

Так как 200 км машина и автобус, двигаясь навстречу друг другу, преодолели за $\frac{5}{4}$ часа со скоростью $v_a + v_m$, то $v_a + v_m = 200 : \frac{5}{4} = 160$ (км/ч).

Тогда $v_a + v_m = v_a + 3v_a = 4v_a = 160$.

Отсюда $v_a = 40$ (км/ч); $v_m = 3v_a = 120$ (км/ч).

Ответ: 120.

Решение варианта №17

19. Решить уравнение $x^3 - 6x^2 - 31x + 36 = 0$.

Если данное уравнение имеет целый корень, то он является делителем числа 36. Проверка убеждает, что число 1 — корень уравнения $x^3 - 6x^2 - 31x + 36 = 0$, левая часть которого может быть представлена в виде $(x - 1) \cdot P(x)$, где $P(x)$ — многочлен второй степени.

$$\begin{array}{r|l} x^3 - 6x^2 - 31x + 36 & x - 1 \\ \hline x^3 - x^2 & \\ \hline -5x^2 - 31x & \\ -5x^2 + 5x & \\ \hline -36x + 36 & \\ -36x + 36 & \\ \hline 0 & \end{array}$$

$$x^3 - 6x^2 - 31x + 36 = (x - 1)(x^2 - 5x - 36) = 0;$$

$$x^2 - 5x - 36 = 0, x_{1,2} = \frac{5 \pm \sqrt{25 + 144}}{2} = \frac{5 \pm 13}{2}; x_1 = 9; x_2 = -4.$$

Ответ: $-4; 1; 9$.

20. $(4 - 2\sqrt{5})(3x - 5) \leq 0$. Так как $4 - 2\sqrt{5} < 0$, то $3x - 5 \geq 0$, $3x \geq 5$, $x \geq \frac{5}{3}$.

Ответ: $\left[\frac{5}{3}; \infty\right)$.

21. По условию задачи составим систему уравнений

$$\begin{cases} \frac{b_1 \cdot (q^5 - 1)}{q - 1} = 242, \\ b_1 \cdot q = 6. \end{cases}$$

Подставим $b_1 = \frac{6}{q}$ в первое уравнение и решим его относительно q .

$\frac{6}{q} \cdot \frac{q^5 - 1}{q - 1} = 242$. Разделим на $(q - 1)$ столбиком и получим:

$$\frac{6}{q} \cdot (q^4 + q^3 + q^2 + q + 1) = 242;$$

$$6 \cdot (q^3 + q^2 + q + 1) + \frac{6}{q} = 242;$$

$$3 \cdot (q^3 + q^2 + q + 1) + \frac{3}{q} = 121.$$

Так как прогрессия целочисленная, то число q должно быть целым.

Проверкой убеждаемся, что $q = 3$. Тогда $b_1 = \frac{6}{3} = 2$;

$$b_4 = 2 \cdot 3^3 = 2 \cdot 27 = 54.$$

Ответ: 54.

22. Найдём координаты точек пересечения графиков функций

$y = x^2 - 2x + 8$ и $y = 4 + 4x - x^2$, решив уравнение $x^2 - 2x + 8 = 4 + 4x - x^2$;

$$2x^2 - 6x + 4 = 0; x_{1,2} = \frac{3 \pm \sqrt{9 - 8}}{2} = \frac{3 \pm 1}{2}; x_1 = 1; x_2 = 2; y_1 = 7;$$

$$y_2 = 8.$$

Ответ: (1; 7); (2; 8).

23. Пусть x кг — объем раствора.

Тогда $0,2x + 5 = 0,36(x + 5)$; $0,36x + 1,8 - 5 - 0,2x = 0$; $0,16x = 3,2$.
 $x = 20$ (кг).

Пусть y кг — вес соли, которую нужно добавить к 36%-ному раствору, чтобы он стал 60%-ным.

Тогда $0,36 \cdot 25 + y = 0,6(y + 25)$; $9 + y = 0,6y + 15$; $0,4y = 6$; $y = 15$.

Ответ: 15.

Решение варианта №18

19. Решите уравнение $x^3 - 2x^2 - 13x - 10 = 0$.

Проверкой убеждаемся, что $x = -2$ — корень уравнения. Тогда при делении многочлена $x^3 - 2x^2 - 13x - 10$ на $(x + 2)$ имеем:

$$\begin{array}{r|l}
 x^3 - 2x^2 - 13x - 10 & x + 2 \\
 \underline{x^3 + 2x^2} & x^2 - 4x - 5 \\
 -4x^2 - 13x & \\
 \underline{-4x^2 - 8x} & -5x - 10 \\
 -5x - 10 & \\
 \underline{-5x - 10} & 0
 \end{array}$$

$$x^3 - 2x^2 - 13x - 10 = (x + 2)(x^2 - 4x - 5),$$

$$(x + 2)(x^2 - 4x - 5) = 0, x_1 = -2 \text{ или } x^2 - 4x - 5 = 0;$$

$$x_2 = 5, x_3 = -1.$$

Ответ: -2 ; -1 ; 5 .

20. $(10 - 2\sqrt{21})(2x + 7) \geq 0$. Так как $10 - 2\sqrt{21} > 0$, то $2x + 7 \geq 0$, $x \geq -3,5$.

Ответ: $[-3,5; \infty)$.

21. На основании условия задачи составим систему уравнений:

$$\begin{cases} \frac{b_1 \cdot (q^4 - 1)}{q - 1} = 255, \\ b_1 \cdot q^2 = 48. \end{cases}$$

Найдем q :

$$\frac{b_1 \cdot (q^4 - 1)}{q - 1} = 255; \frac{b_1 \cdot (q^2 - 1)(q^2 + 1)}{q - 1} = 255;$$

$$b_1 \cdot (q + 1)(q^2 + 1) = 255; \frac{48}{q^2} \cdot (q + 1)(q^2 + 1) = 255; 16(q + 1)(q^2 + 1) = 85q^2.$$

Так как прогрессия целочисленная, то q — целое число, а q^2 — натуральное число. Значит, $q + 1 > 0$. Следовательно, q — натуральное число.

Уравнение $16(q+1)(q^2+1) = 85q^5$; $16q^3 + 16q - 69q + 16 = 0$ имеет единственный целый корень $q = 4$. Тогда $b_1 = \frac{48}{16} = 3$; $b_2 = b_1 \cdot q = 3 \cdot 4 = 12$.

Ответ: 12.

22. Найдём абсциссы точек пересечения, решив уравнение:

$$x^2 - 4x + 6 = -2x^2 + 11x - 12; \quad 3x^2 - 15x + 18 = 0;$$

$$x^2 - 5x + 6 = 0; \quad x_1 = 2; \quad x_2 = 3.$$

$$y_1 = y(x_1) = 2; \quad y_2 = y(x_2) = 3.$$

Ответ: (2; 2); (3; 3).

23. Пусть x — вес раствора, тогда $0,25x + 6 = 0,4(x + 6)$;

$$0,25x - 0,4x = 2,4 - 6; \quad -0,15x = -3,6.$$

$$x = 24.$$

В задаче вопрос, сколько надо добавить соли к 40%-ному раствору, чтобы получить 50%-ный раствор, для этого составим уравнение, где y — количество добавленной соли:

$$0,4 \cdot (24 + 6) + y = 0,5(24 + 6 + y); \quad 12 + y = 15 + 0,5y; \quad 0,5y = 15 - 12;$$

$$y = 6.$$

Ответ: 6.

Решение варианта №19

19. Решим уравнение $x^3 - 13x^2 - 33x + 45 = 0$.

Если данное уравнение имеет целый корень, то он является делителем числа 45. Проверка убеждает, что число 1 — корень уравнения $x^3 - 13x^2 - 33x + 45 = 0$. Левая часть может быть представлена в виде $(x - 1) \cdot P(x)$, где $P(x)$ — многочлен второй степени.

$$\begin{array}{r|l} x^3 - 13x^2 - 33x + 45 & x - 1 \\ \hline x^3 - x^2 & x^2 - 12x - 45 \\ \hline -12x^2 - 33x & \\ -12x^2 + 12x & \\ \hline -45x + 45 & \\ -45x + 45 & \\ \hline 0 & \end{array}$$

Итак, $x^3 - 13x^2 - 33x + 45 = (x - 1)(x^2 - 12x - 45)$.

Из уравнения $(x - 1)(x^2 - 12x - 45) = 0$ следует $x - 1 = 0$ или $x^2 - 12x - 45 = 0$, $x_1 = 1$, $x_2 = -3$, $x_3 = 15$.

Ответ: $-3; 1; 15$.

20. $(4\sqrt{3} - 7)(3x - 2) \geq 0$. Так как $4\sqrt{3} - 7 < 0$, то $3x - 2 \leq 0$, $3x \leq 2$, $x \leq \frac{2}{3}$.

Ответ: $(-\infty; \frac{2}{3}]$.

$$21. \begin{cases} b_1 + b_2 + b_3 + b_4 + b_5 = \frac{211}{8}, \\ b_1 = 2, \\ b_1 - b_2 + b_3 - b_4 + b_5 = \frac{55}{8}. \end{cases}$$

Сложив первое и третье уравнения системы, получим:

$$2b_1 + 2b_3 + 2b_5 = \frac{266}{8}, \quad b_1 + b_3 + b_5 = \frac{266}{16}, \quad b_1 + b_1q^2 + b_1q^4 = \frac{266}{16},$$

$$2(1 + q^2 + q^4) = \frac{266}{16}, \quad 16q^4 + 16q^2 - 177 = 0, \quad q^2 = \frac{-16 \pm 88}{32}, \quad q^2 = \frac{36}{16}.$$

Так как $q > 0$, то $q = \frac{6}{4}$, $q = 1,5$.

Ответ: $q = 1,5$.

22. Параболы касаются, то есть нижеследующее уравнение должно иметь единственное решение.

$$6x^2 - cx - 3 = 5x - 2x^2 - 5, \quad 8x^2 - x(c+5) + 2 = 0, \quad D = (c+5)^2 - 4 \cdot 2 \cdot 8,$$

$$c^2 + 10c - 39 = 0, \quad c = 5 \pm \sqrt{25 + 39} = -5 \pm 8, \quad c_1 = 3, \quad c_2 = -13.$$

При $c = 3$ уравнение $8x^2 - (3+5)x + 2 = 0$ имеет единственный корень $x = \frac{1}{2}$. Это означает, что абсцисса точки касания парабол положительна.

При $c = -13$ уравнение $8x^2 - (-13+5)x + 2 = 0$ имеет единственный корень $x = -\frac{1}{2}$. Это означает, что абсцисса точки касания парабол отрицательна.

Ответ: $c = 3$.

23. Так как за 1 час мотоциклист проехал 37 км, то $60 - 37 = 23$ (км) проехал за 1 час велосипедист, его скорость равна 23 км в час.

Из пункта *A* велосипедист и мотоциклист выехали одновременно. Один от другого за час отставал на 14 км ($37 - 23 = 14$). Достигнув пункта *B*, велосипедист отстал от мотоциклиста на 28 км. Таким образом, он преодолел путь *AB* за 2 часа. Следовательно, расстояние от *A* до *B* равно $23 \cdot 2 = 46$ (км).

Ответ: 46.

Решение варианта №20

19. $5x^3 + 2x^2 - 45x - 18 = x^2(5x + 2) - 9(5x + 2) =$
 $= (5x + 2)(x^2 - 9) = (5x + 2)(x - 3)(x + 3) = 0$. Следовательно, $x_1 = -\frac{2}{5}$;
 $x_2 = 3$; $x_3 = -3$ — корни исходного уравнения.

Ответ: $-0,4$; 3; -3 .

20. Так как $7 - 3\sqrt{5} > 0$, то из неравенства $(7 - 3\sqrt{5})(7x - 3) < 0$ следует неравенство $7x - 3 < 0$. Значит, $7x < 3$; $x < \frac{3}{7}$.

Ответ: $(-\infty; \frac{3}{7})$.

21.
$$\begin{cases} \frac{b_1}{1-q} = 5,6, \\ \frac{b_1(q^4 - 1)}{q - 1} = 5,25; \end{cases}$$

 $-5,6(q^4 - 1) = 5,25$; $q^4 - 1 = -0,9375$; $q^4 = 1 - 0,9375$; $q^4 = 0,0625$;
 $q = \pm 0,5$.

1) $b_1 = 5,6 \cdot (1 - 0,5) = 2,8$; $b_5 = b_1 \cdot q^4 = 2,8 \cdot 0,0625 = 0,175$.

2) $b_1 = 5,6 \cdot (1 + 0,5) = 5,6 \cdot 1,5 = 8,4$.

$b_5 = b_1 \cdot q^4 = 8,4 \cdot 0,0625 = 0,525$.

Ответ: 0,175; 0,525.

22. Так как параболы пересекаются в одной точке, то следующее уравнение должно иметь единственный корень.

$16x^2 - cx + 30 = 15x^2 - 3x + 5$; $16x^2 - 5x^2 - cx + 3x + 30 - 5 = 0$;
 $x^2 - x(c - 3) + 25 = 0$, $D = 0$; $(c - 3)^2 - 25 \cdot 4 = 0$; $(c - 3)^2 = 100$;
 $c - 3 = \pm 10$; $c_1 = 13$; $c_2 = -7$.

При $c = 13$ уравнение $x^2 - (13 - 3)x + 25 = 0$ имеет единственный корень $x = 5$. Это означает, что абсцисса точки пересечения парабол положительна, что не удовлетворяет условию. При $c = -7$ уравнение $x^2 - (-7 - 3)x + 25 = 0$ имеет единственный отрицательный корень $x = -5$.

Ответ: -7 .

23. Скорость велосипедиста $x \frac{\text{км}}{\text{мин}}$, тогда скорость мотоциклиста $2x \frac{\text{км}}{\text{мин}}$, составим уравнение:

$$\frac{14}{x} + 9 = \frac{34}{2x}, \quad 9 = \frac{17}{x} - \frac{14}{x}, \quad 9 = \frac{3}{x}, \quad x = \frac{1}{3} \left(\frac{\text{км}}{\text{мин}} \right).$$

Время до встречи $\frac{14}{\frac{1}{3}} + 9 = 51$ (мин).

Ответ: 51.

Решение варианта №21

19. $2x^3 + 3x^2 - 3x - 2 = 0$. Проверкой убеждаемся, что $x = 1$ — корень уравнения. Приводим левую часть к виду $(x - 1) \cdot P(x)$, где $P(x)$ — многочлен второй степени.

$$\begin{array}{r|l} 2x^3 + 3x^2 - 3x - 2 & x - 1 \\ \underline{2x^3 - 2x^2} & \\ -5x^2 - 3x & \\ \underline{-5x^2 - 5x} & \\ -2x - 2 & \\ \underline{-2x - 2} & \\ 0 & \end{array}$$

$$2x^3 + 3x^2 - 3x - 2 = (x - 1)(2x^2 + 5x + 2) = 0; \quad 2x^2 + 5x + 2 = 0;$$

$$x_{1,2} = \frac{-5 \pm \sqrt{25 - 16}}{2 \cdot 2} = \frac{-5 \pm 3}{4}; \quad x_1 = -\frac{1}{2}; \quad x_2 = -2.$$

Ответ: $-2; -0,5; 1$.

20. $(7x - 4)(\sqrt{2} - 1,4) \leq 0$. Так как $\sqrt{2} - 1,4 > 0$, то исходное неравенство равносильно неравенству $7x - 4 \leq 0; x \leq \frac{4}{7}$.

Ответ: $\left(-\infty; \frac{4}{7} \right]$.

21. По условию задачи составим систему:

$$\begin{cases} b_1 \cdot b_4 = 18, \\ \frac{b_{10}}{b_{12}} = 4; \end{cases} \Leftrightarrow \begin{cases} b_1 \cdot b_1 \cdot q^3 = 18, \\ \frac{b_1 \cdot q^9}{b_1 \cdot q^{11}} = 4; \end{cases} \Leftrightarrow \begin{cases} b_1^2 q^3 = 18, \\ \frac{1}{q^2} = 4; \end{cases} \Leftrightarrow \begin{cases} (b_1 \cdot q)^2 q = 18, \\ q^2 = \frac{1}{4}; \end{cases} \Leftrightarrow \begin{cases} b_2^2 \cdot \frac{1}{2} = 18, \quad q > 0, \\ b_2^2 = 36, \\ b_2 = 6. \end{cases}$$

Ответ: 6.

22. Прямая $y = 2x - c$ имеет две общие точки с кубической параболой $y = x^3 + x^2 + x - 7$, если уравнение $2x - c = x^3 + x^2 + x - 7$ имеет два различных действительных корня. То есть тогда, когда многочлен $x^3 + x^2 - x - 7 + c$ можно представить в виде $(x - a)(x - b)^2 = x^3 + x^2(-2b - a) + x(b^2 + 2ab) - ab^2$, где $a, b \in R, a \neq b$.

Тогда из равенства $x^3 + x^2 - x - 7 + c = x^3 + (-2b - a)x^2 + (b^2 + 2ab)x - ab^2$ получаем систему:

$$\begin{cases} -2b - a = 1, \\ b^2 + 2ab = -1, \\ -ab^2 = c - 7; \end{cases} \quad a = -2b - 1; \quad b^2 + 2(-2b - 1)b = -1; \quad 3b^2 + 2b - 1 = 0;$$

$$b_1 = -1, \quad b_2 = \frac{1}{3}; \quad a_1 = 1, \quad a_2 = -1\frac{2}{3}; \quad c = 7 - ab^2, \quad c_1 = 6, \quad c_2 = 7\frac{5}{27}.$$

Ответ: 6; $7\frac{5}{27}$.

23. Пусть x л — вместимость кувшина; $0,2x$ — количество соли в растворе; $0,2x - 0,2 \cdot 1$ — количество соли в растворе после того, как 1 л раствора отлили. Тогда $\frac{0,2x - 0,2}{x}$ — содержание соли в получившемся растворе после того, как долили 1 л воды. Так как количество соли во вновь полученном растворе равно $0,05x$, то получаем уравнение:

$$0,2x - 0,2 - \frac{0,2x - 0,2}{x} = 0,05x; \quad x > 0,$$

$$0,2x^2 - 0,2x - 0,2x + 0,2 = 0,05x^2;$$

$$3x^2 - 8x + 4 = 0;$$

$$x_1 = 2, \quad x_2 = \frac{2}{3}.$$

Так как по условию задачи вместимость кувшина не менее 1 литра, то x_2 не удовлетворяет условию.

Ответ: 2.

Решение варианта №22

19. $2x^3 - 3x^2 - 3x + 2 = 0$. Проверкой убеждаемся, что $x = -1$ — корень уравнения. Приводим левую часть к виду $(x + 1) \cdot P(x)$, где $P(x)$ — многочлен второй степени.

$$\begin{array}{r|l} 2x^3 - 3x^2 - 3x + 2 & x + 1 \\ \underline{2x^3 + 2x^2} & \\ -5x^2 - 3x & \\ \underline{-5x^2 - 5x} & \\ 2x + 2 & \\ \underline{2x + 2} & \\ 0 & \end{array}$$

$$2x^3 - 3x^2 - 3x + 2 = (x + 1)(2x^2 - 5x + 2) = 0; 2x^2 - 5x + 2 = 0; \\ x_1 = 2; x_2 = \frac{1}{2}.$$

Ответ: $-1; \frac{1}{2}; 2$.

20. $(4x + 9)(2\sqrt{3} - 3,4) \geq 0$. Так как $2\sqrt{3} - 3,4 > 0$, то исходное неравенство равносильно неравенству $4x + 9 \geq 0; x \geq -\frac{9}{4}$.

Ответ: $\left[-2\frac{1}{4}; +\infty\right)$.

21. По условию задачи составим систему:

$$\begin{cases} b_1 \cdot b_5 = 4, \\ \frac{b_5}{b_7} = 9; \end{cases} \Leftrightarrow \begin{cases} b_1 \cdot b_1 \cdot q^4 = 4, \\ \frac{b_1 \cdot q^4}{b_1 \cdot q^6} = 9; \end{cases} \Leftrightarrow \begin{cases} b_1^2 q^4 = 4, \\ \frac{1}{q^2} = 9; \end{cases} \Leftrightarrow \begin{cases} b_1^2 (q^2)^2 = 4, & b_1^2 \cdot \left(\frac{1}{9}\right)^2 = 4, \\ q^2 = \frac{1}{9}; & b_1^2 = 4 \cdot 9^2 = 324, \\ & b_1 = \pm 18. \end{cases}$$

$$\text{При } q = \frac{1}{3} \quad b_1 = 18; b_4 = b_1 \cdot q^3 = 18 \cdot \left(\frac{1}{3}\right)^3 = \frac{2}{3}.$$

$$\text{При } q = -\frac{1}{3} \quad b_1 = 18; b_4 = b_1 \cdot q^3 = 18 \cdot \left(-\frac{1}{3}\right)^3 = -\frac{2}{3}.$$

$$\text{При } b_1 = -18 \quad q = \pm \frac{1}{3} \text{ получим те значения } b_4 = \frac{2}{3} \text{ или } b_4 = -\frac{2}{3}.$$

$$\text{Ответ: } -\frac{2}{3}; \frac{2}{3}.$$

22. Прямая $y = 15x + c$ имеет две общие точки с кубической параболой $y = x^3 - 3x^2 - 30x + 18$, если уравнение $15x + c = x^3 - 3x^2 - 30x + 18$ имеет два различных действительных корня. То есть тогда, когда многочлен $x^3 - 3x^2 - 45x + 18 - c$ можно представить в виде $(x-a)(x-b)^2 = x^3 + x^2(-2b-a) + x(b^2 + 2ab) - ab^2$, где $a, b \in R, a \neq b$.

Тогда из равенства $x^3 - 3x^2 - 45x + 18 - c = x^3 + (-2b-a)x^2 + (b^2 + 2ab)x - ab^2$ получаем систему:

$$\begin{cases} -2b - a = -3, \\ b^2 + 2ab = -45, & a = -2b + 3; b^2 + 2(-2b + 3)b = -45; \\ 18 - c = -ab^2; \end{cases}$$

$$b^2 - 2b - 15 = 0; b_1 = 5, b_2 = -3; a_1 = -7, a_2 = 9; c = 18 + ab^2, c_1 = -157, c_2 = 99.$$

$$\text{Ответ: } -157; 99.$$

23. Пусть x л — вместимость кувшина; $0,2x$ — количество соли в растворе; $0,2x - 0,2 \cdot 1$ — количество соли в растворе после того, как 1 л раствора отлили. Тогда $\frac{0,2x - 0,2}{x}$ — содержание соли в получившемся растворе после того, как долили 1 л воды. Так как количество соли во вновь полученном растворе равно $0,1125x$, то получаем уравнение:

$$0,2x - 0,2 - \frac{0,2x - 0,2}{x} = 0,1125x; \quad x > 0,$$

$$0,2x^2 - 0,2x - 0,2x + 0,2 = 0,1125x^2;$$

$$7x^2 - 32x + 16 = 0;$$

$$x_1 = 4, x_2 = \frac{4}{7}.$$

Так как по условию задачи вместимость кувшина не менее 1 литра, то x_2 не удовлетворяет условию.

Ответ: 4.

Решение варианта №25

19. ОДЗ: $x \neq \pm 3$. $\frac{x+3}{x-3} + \frac{x}{x+3} - \frac{36}{x^2-9} = 0$;

$$\frac{(x+3)^2 + x(x-3) - 36}{x^2-9} = 0; \frac{2x^2 + 3x - 27}{x^2-9} = 0; 2x^2 + 3x - 27 = 0;$$

$x_1 = 3$ — не удовлетворяет ОДЗ; $x_2 = -4,5$.

Ответ: $-4,5$.

20. По условию задачи составим систему уравнений:
$$\begin{cases} 2^2 + 2b + c = 2, \\ 3^2 + 3b + c = 5. \end{cases}$$

Вычитая из второго уравнения системы первое, получим: $5 + b = 3$; $b = -2$. Тогда, подставляя найденное значение b в первое уравнение, получим: $c = 2$. Значит, $f(x) = x^2 - 2x + 2$. Уравнение $f(x) = 0$ не имеет корней, так как его дискриминант $D = -4 < 0$. Следовательно, график функции $y = f(x)$ не пересекает ось Ox .

Ответ: $x^2 - 2x + 2$, не пересекает.

21.
$$\frac{3x-3y+1}{3y^2-3x^2-x-y} = \frac{3x-3y+1}{3(x+y)(y-x)-(x+y)} =$$
$$= \frac{3x-3y+1}{(x+y)(3y-3x-1)} = \frac{3x-3y+1}{-(x+y)(3x-3y+1)} = -\frac{1}{x+y}.$$

Ответ: $-\frac{1}{x+y}$.

22. Пусть t — количество бензина, которое можно купить со скидкой. Тогда $57 = 0,95t$; $t = 60$.

Ответ: 60.

23. Построим график функции $f(x)$ (см. рис. 17).

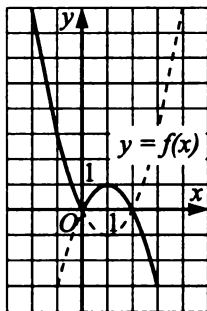


Рис. 17

Заметим, что для того чтобы графики функций $y = f(x)$ и $y = 2p$ имели не менее двух общих точек, необходимо и достаточно, чтобы $2p \in [0; 1]$, то есть $p \in [0; 0,5]$.

Ответ: $[0; 0,5]$.

Решение варианта №26

$$19. \text{ОДЗ: } x \neq \pm 1. \frac{x+1}{x-1} + \frac{x}{x+1} - \frac{2}{x^2-1} = 0;$$

$$\frac{(x+1)^2 + x(x-1) - 2}{x^2-1} = 0; \frac{2x^2 + x - 1}{x^2-1} = 0; 2x^2 + x - 1 = 0; x_1 = -1 \text{ — не удовлетворяет ОДЗ; } x_2 = 0,5.$$

Ответ: 0,5.

20. По условию задачи составим систему уравнений:

$$\begin{cases} 2^2 + 2b + c = 11, \\ 1^2 + b + c = 5. \end{cases}$$

Вычитая из первого уравнения системы второе, получим: $3 + b = 6$; $b = 3$. Тогда, подставляя найденное значение b во второе уравнение, получим: $c = 1$. Значит, $f(x) = x^2 + 3x + 1$. Так как $f(0) = 1$, то график функции $y = f(x)$ пересекает ось Oy в точке $(0; 1)$.

Ответ: $x^2 + 3x + 1, (0; 1)$.

$$\begin{aligned}
 21. \quad \frac{2x^2 - 2y^2 - 3x + 3y}{2x + 2y - 3} &= \frac{2(x - y)(x + y) - 3(x - y)}{2x + 2y - 3} = \\
 &= \frac{(x - y)(2x + 2y - 3)}{2x + 2y - 3} = x - y.
 \end{aligned}$$

Ответ: $x - y$.

22. Пусть t — количество бензина, которое можно купить после повышения цены. Тогда $10 = 1,25t$; $t = 8$.

Ответ: 8.

23. Построим график функции $f(x)$ (см. рис. 18).

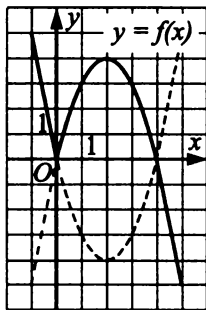


Рис. 18

Заметим, что для того чтобы графики функций $y = f(x)$ и $y = p$ имели одну общую точку, необходимо и достаточно, чтобы $p \in (-\infty; 0) \cup (4; +\infty)$.

Ответ: $(-\infty; 0) \cup (4; +\infty)$.

Решение варианта №27

$$\begin{aligned}
 19. \quad x^3 - 2x^2 - 8x + 16 = 0; \quad x^2(x - 2) - 8(x - 2) = 0; \quad (x^2 - 8)(x - 2) = 0; \\
 (x - 2\sqrt{2})(x + 2\sqrt{2})(x - 2) = 0; \quad x_1 = -2\sqrt{2}, \quad x_2 = 2\sqrt{2}, \quad x_3 = 2.
 \end{aligned}$$

Ответ: $-2\sqrt{2}$; 2; $2\sqrt{2}$.

20. $(\sqrt{15} - 4)(2x - 4,8) < 0$. Так как $\sqrt{15} < 4$, то $\sqrt{15} - 4 < 0$. Следовательно, $2x - 4,8 > 0$, $2x > 4,8$, $x > 2,4$.

Ответ: $x > 2,4$.

21. По условию составим систему уравнений:

$$\begin{cases} b_1 + b_1 q = 300, \\ b_1 q^2 + b_1 q^3 = 675; \end{cases} \quad \begin{cases} b_1 = \frac{300}{q+1}, \\ b_1 q^2 (q+1) = 675. \end{cases}$$

Подставляя значение b_1 во второе уравнение, получим:

$\frac{300}{q+1} q^2 (q+1) = 675, \quad q^2 = \frac{675}{300}, \quad q^2 = 2,25.$ Так как сумма первого и второго членов меньше суммы третьего и четвёртого, то прогрессия возрастающая, а значит, $q = 1,5$. Тогда $b_1 = \frac{300}{1,5+1} = 120$; $b_2 = 120 \cdot 1,5 = 180$; $b_3 = 120 \cdot 2,25 = 270$.

Ответ: 120; 180; 270.

22. $9x + y = c, \quad y = c - 9x$. Тогда, так как графики функций касаются (имеют общую точку), то $c - 9x = \frac{4}{x}, \quad cx - 9x^2 = 4, \quad 9x^2 - cx + 4 = 0$,

Так как графики функций имеют только одну общую точку, то дискриминант последнего квадратного уравнения равен нулю. Следовательно, $c^2 - 4 \cdot 9 \cdot 4 = 0, \quad c = \pm 12$. При $c = -12$ уравнение $9x^2 + 12x + 4 = 0$; $(3x + 4)^2 = 0$ имеет отрицательный корень $x = -\frac{2}{3}$, что удовлетворяет условию. Если же $c = 12$, то уравнение $9x^2 - 12x + 4 = 0$; $(3x - 2)^2 = 0$ имеет положительный корень $\frac{2}{3}$.

Ответ: $c = -12$.

23. Пусть x — скорость течения, тогда скорость катера по течению — $10 + x$, а против течения — $10 - x$. Составим уравнение исходя из того, что на весь путь катер потратил полтора часа: $\frac{14}{10+x} + \frac{3}{10-x} = 1,5$;

$\frac{140 - 14x + 30 + 3x - 150 + 1,5x^2}{100 - x^2} = 0; \quad 1,5x^2 - 11x + 20 = 0; \quad x_{1,2} = \frac{11 \pm \sqrt{121 - 120}}{3} = \frac{11 \pm 1}{3}; \quad x_1 = 4, \quad x_2 = 3\frac{1}{3}$ — не удовлетворяет условию $x > 3,5$.

Ответ: 4.

Решение варианта №28

19. $x^3 - 6x^2 - 6x + 36 = 0$; $x^2(x - 6) - 6(x - 6) = 0$; $(x^2 - 6)(x - 6) = 0$,
 $(x - \sqrt{6})(x + \sqrt{6})(x - 6) = 0$; $x_1 = -\sqrt{6}$, $x_2 = \sqrt{6}$, $x_3 = 6$.

Ответ: $-\sqrt{6}$; $\sqrt{6}$; 6.

20. $(\sqrt{17} - 3,2)(3 - x) < 0$. Так как $\sqrt{17} > 3,2$, то $\sqrt{17} - 3,2 > 0$. Следовательно, $3 - x < 0$; $x > 3$.

Ответ: $x > 3$.

21. По условию составим систему уравнений:

$$\begin{cases} b_1 = \frac{210}{q+1}, \\ b_1 q(q+1) = 42. \end{cases}$$

Подставим значение b_1 во второе уравнение, получим: $\frac{210}{q+1}q(q+1) = 42$;

$q = \frac{42}{210} = 0,2$. Откуда $b_1(1 + 0,2) = 210$; $b_1 = 175$. Тогда

$b_2 = 175 \cdot 0,2 = 35$, $b_3 = 175 \cdot 0,04 = 7$.

Ответ: 175; 35; 7.

22. $x + y = c$, $y = c - x$. Тогда, так как графики функций касаются (имеют общую точку), то $c - x = \frac{1}{x}$; $cx - x^2 = 1$; $x^2 - cx + 1 = 0$. Так как графики функций имеют только одну общую точку, то дискриминант последнего уравнения равен нулю. Следовательно, $c^2 - 4 = 0$, тогда $c = \pm 2$. При $c = 2$ уравнение $x^2 - 2x + 1 = 0$; $(x - 1)^2 = 0$ имеет положительный корень $x = 1$, что удовлетворяет условию. Если же $c = -2$, то уравнение $x^2 + 2x + 1 = 0$; $(x + 1)^2 = 0$ имеет отрицательный корень $x = -1$.

Ответ: 2.

23. Пусть x — скорость катера, тогда скорость катера по течению — $x + 4$, а против течения — $x - 4$. Составим уравнение исходя из того, что на весь

путь катер потратил один час: $\frac{10}{x+4} + \frac{6}{x-4} = 1$;

$$\frac{10x - 40 + 6x + 24 + 16 - x^2}{x^2 - 16} = 0; \quad x^2 - 16x = 0; \quad x(x - 16) = 0;$$

$x_1 = 16$, $x_2 = 0$ — не удовлетворяет условию задачи.

Ответ: 16.

Глава II. Решения задач из сборника

1. По условию задачи рост Томи больше среднего на 8%, значит, на $150 \cdot 0,08 = 12$ (см). Так как средний рост девочек возраста Томи равен 150 см, то рост Томи равен $150 + 12 = 162$ (см).

Ответ: 162.

2. На второй день цена розы снизилась на 15% от цены первого дня, то есть на $80 \cdot 0,15 = 12$ (руб.), и стала равна $80 - 12 = 68$ (руб.). Тогда на третий день цена снизилась на 15% от цены второго дня, то есть на $68 \cdot 0,15 = 10,2$ (руб.), и стала равна $68 - 10,2 = 57,8$ (руб.).

Ответ: 57,8.

3. По условию задачи 1,44 м составляет 75%. Пусть x м — высота прыжка взрослого кенгуру. Тогда x составляет 100%. Следовательно,

$$x = \frac{1,44 \cdot 100}{75} = 1,92 \text{ (м)} = 192 \text{ (см)}.$$

Ответ: 192.

4. По условию в первом магазине число порций мороженого уменьшилось на 50%; это означает, что порций мороженого стало меньше в 2 раза. Таким образом, во втором магазине осталось больше порций мороженого.

Ответ: Во втором.

5. Пусть x шт. — первоначальное количество книг в каждой из библиотек. Тогда в первой библиотеке количество книг увеличилось на $x \cdot 0,8$ (шт.) и стало равно $x + 0,8x = 1,8x$. Значит, количество книг в первой библиотеке увеличилось в 1,8 раза. Так как во второй библиотеке количество книг увеличилось в 1,7 раза, то в первой библиотеке книг стало больше.

Ответ: В первой библиотеке.

6. Увеличение во втором аквариуме хомячков в 1,6 раза означает, что количество хомячков в нём составило $1,6 \cdot 100\% = 160\%$, то есть увеличилось на 60% от первоначального количества. Так как в первом аквариуме количество хомячков увеличилось на столько же процентов, то хомячков осталось поровну.

Ответ: Хомячков осталось поровну.

7. Так как через неделю на обоих складах книг стало поровну и количество книг на первом складе не изменилось, то количество книг на втором — складе увеличилось в 2 раза, то есть составило $2 \cdot 100\% = 200\%$. Следовательно, количество продукции на этом складе увеличилось на 100%.

Ответ: 100.

8. Пусть в маленьком аквариуме было x рыб, тогда в большом аквариуме рыб было $2x$. Через два года в большом аквариуме количество рыб уменьшилось на 25%, то есть стало равно $2x - 2x \cdot 0,25 = 1,5x$, а в маленьком — стало равно $1,5x$. Следовательно, рыб стало поровну.

Ответ: Рыб стало поровну.

9. Пусть во втором спичечном коробке было x спичек. Тогда в первом коробке было $3x$ спичек. Через день в первом коробке число спичек стало $\frac{3x}{4} = 0,75x$, во втором $x - 0,3x = 0,7x$. Следовательно, в первом коробке спичек осталось больше.

Ответ: В первом коробке.

10. Пусть на складе B было x продукции. Тогда на складе A было $x + x \cdot 0,5 = 1,5x$ продукции. Через месяц количество продукции на складе A уменьшилось в 1,25 раза, то есть стало равно $\frac{1,5x}{1,25} = 1,2x$. На складе B через месяц количество продукции увеличилось на 25%, то есть стало равно $x + x \cdot 0,25 = 1,25x$. Значит, на складе B продукции стало больше.

Ответ: B .

11. Пусть в 9-х классах обучается x человек. По условию число неуспевающих в 8 раз меньше числа успевающих, значит, отношение числа неуспевающих учащихся к числу успевающих равно $1 : 8$. Следовательно, $\frac{x}{9}$ — неуспевающих учащихся, $\frac{8x}{9}$ — успевающих.

Так как отличники составляют 15% от числа всех учащихся 9-х классов, то их количество $\frac{15x}{100} = \frac{3x}{20}$ человек.

Приведём дроби $\frac{x}{9}$, $\frac{8x}{9}$, $\frac{3x}{20}$ к общему знаменателю: $\frac{20x}{180}$, $\frac{160x}{180}$, $\frac{27x}{180}$. Следовательно, наименьшее число учащихся 9-х классов, удовлетворяющих условию задачи, равно 180.

Ответ: 180.

12. Пусть в школе x девочек и x мальчиков. Тогда блондинок — $0,15 \cdot x$, а блондинов — $\frac{1}{7} \cdot x$ (мальчиков с иным цветом волос $\frac{6}{7} \cdot x$).

$$0,15x = \frac{15}{100}x = \frac{3}{20}x = \frac{21}{140}x; \frac{1}{7}x = \frac{20}{140}x.$$

Так как $\frac{21}{140} > \frac{20}{140}$, то $0,15x > \frac{1}{7}x$. Следовательно, в школе блондинок больше.

Ответ: Блондинок больше.

13. Переведём десятичную дробь 0,25 в проценты: $0,25 \cdot 100\% = 25\%$. Следовательно, спортсмен улучшил свой результат на 25%.

Ответ: 25.

14. Температура воздуха понизилась на 30%, то есть на $20^\circ \cdot 0,30 = 6^\circ$. Следовательно, температура стала равна $20^\circ - 6^\circ = 14^\circ$.

Ответ: 14.

15. Пусть нужно взять x л воды. Тогда раствора получим $(x + 0,2)$ л, что составляет 100%. По условию 0,2 л соли в этом растворе должно составлять 5%. Следовательно, $\frac{x + 0,2}{0,2} = \frac{100}{5}$; $x + 0,2 = \frac{0,2 \cdot 100}{5}$; $x = 4 - 0,2 = 3,8$ (л).

Ответ: 3,8.

16. Расстояние S км за 10,5 ч мотоциклист преодолевает со скоростью $\frac{S}{10,5}$ км/ч, а это же расстояние за 8 ч 24 мин $= 8\frac{24}{60}$ ч $= 8,4$ ч он преодолевает со скоростью $\frac{S}{8,4}$ км/ч.

Пусть скорость мотоциклиста повысилась на $x\%$ от первоначальной, то есть на $\frac{S}{10,5} + \frac{S}{10,5} \cdot \frac{x}{100} = \frac{S}{8,4}$; $\left(\frac{x}{100} + 1\right) \cdot \frac{1}{10,5} = \frac{1}{8,4}$; $\frac{x}{100} = 0,25$; $x = 25\%$.

Ответ: 25.

17. Всего в походе участвовало $20 + 60 = 80$ детей, что составляет 100%. Следовательно, 60 мальчиков от общего числа ребят составляет $\frac{60 \cdot 100\%}{80} = 75\%$.

Ответ: 75.

18. Увеличение зарплаты на 20% от 4000 рублей составляет $4000 \cdot 0,2 = 800$ (руб). Следовательно, рабочий стал получать $4000 + 800 = 4800$ (руб.).

Ответ: 4800.

19. Увеличение цены товара на 15% от 600 рублей составляет $600 \cdot 0,15 = 90$ (руб). Следовательно, товар будет стоить $600 + 90 = 690$ (руб.).

Ответ: 690.

20. По расчётам первой группы физиков масса барионной материи составляет $\frac{1}{25}$ массы Вселенной, что составляет $\frac{1}{25} \cdot 100\% = 4\%$ от массы Вселенной. Следовательно, вторая группа физиков отводит массе барионной материи большую долю — 4,5%.

Ответ: Вторая.

21. Пусть в прошлом году в каждом филиале было по x клиентов. Тогда в этом году в первом филиале стало $x + x \frac{150\%}{100\%} = 2,5x$ клиентов, что совпадает с числом клиентов во втором филиале, которое возросло в этом году в 2,5 раза.

Ответ: Количество клиентов в обоих филиалах осталось одинаковым.

$$\begin{aligned} 22. \frac{25x^2 - 9}{x^2 + x - 12} \cdot \frac{x + 4}{5x + 3} + \frac{2x}{3 - x} &= \\ &= \frac{(5x - 3)(5x + 3)(x + 4)}{(x - 3)(x + 4)(5x + 3)} + \frac{2x}{3 - x} = \frac{5x - 3}{x - 3} - \frac{2x}{x - 3} = \\ &= \frac{5x - 3 - 2x}{x - 3} = \frac{3(x - 1)}{x - 3}. \end{aligned}$$

Ответ: $\frac{3(x - 1)}{x - 3}$.

$$\begin{aligned} 23. \frac{9x^2 - 49}{2x^2 + 15x - 8} \cdot \frac{x + 8}{3x + 7} - \frac{1}{1 - 2x} &= \\ &= \frac{(3x - 7)(3x + 7)}{2x^2 + 16x - x - 8} \cdot \frac{x + 8}{3x + 7} + \frac{1}{2x - 1} = \\ &= \frac{(3x - 7)(x + 8)}{(x + 8)(2x - 1)} + \frac{1}{2x - 1} = \frac{3x - 7}{2x - 1} + \frac{1}{2x - 1} = \frac{3x - 6}{2x - 1}. \end{aligned}$$

Ответ: $\frac{3(x - 2)}{2x - 1}$.

24. Обозначим заданное выражение через A , тогда

$$A = \left(\frac{(x + 3y)^2 + 3y(x - 3y)}{xy(x - 3y)(x + 3y)} \right) \cdot \frac{y(9y^2 - x^2)}{(9y + x)^2} =$$

$$\begin{aligned}
 &= \frac{x^2 + 6xy + 9y^2 + 3xy - 9y^2}{xy(x^2 - 9y^2)} \cdot \frac{y(9y^2 - x^2)}{(9y + x)^2} = \\
 &= -\frac{x^2 + 9xy}{xy} \cdot \frac{y}{(9y + x)^2} = -\frac{1}{x + 9y}.
 \end{aligned}$$

Ответ: $-\frac{1}{x + 9y}$.

$$\begin{aligned}
 25. & \left(\frac{2x + y}{2x^2y - xy^2} - \frac{2}{y^2 + 2xy} \right) : \frac{(6x + y)^2}{4x^3 - y^2x} = \\
 &= \left(\frac{2x + y}{xy(2x - y)} - \frac{2}{y(2x + y)} \right) \cdot \frac{x(2x - y)(2x + y)}{(6x + y)^2} = \\
 &= \frac{(2x + y)x(2x - y)(2x + y)}{xy(2x - y)(6x + y)^2} - \frac{2x(2x - y)(2x + y)}{y(2x + y)(6x + y)^2} = \\
 &= \frac{4x^2 + 4xy + y^2 - 4x^2 + 2xy}{y(6x + y)^2} = \frac{6xy + y^2}{y(6x + y)^2} = \frac{y(6x + y)}{y(6x + y)^2} = \frac{1}{6x + y}.
 \end{aligned}$$

Ответ: $\frac{1}{6x + y}$.

$$\begin{aligned}
 26. & \left(\frac{a^2 - 4b^2}{a^2 + ab - 6b^2} - \frac{a^2 - 9b^2}{a^2 + 6ab + 9b^2} \right) \cdot \frac{a + 3b}{b} = \\
 &= \left(\frac{(a - 2b)(a + 2b)}{(a - 2b)(a + 3b)} - \frac{(a - 3b)(a + 3b)}{(a + 3b)^2} \right) \cdot \frac{a + 3b}{b} = \\
 &= \left(\frac{a + 2b}{a + 3b} - \frac{a - 3b}{a + 3b} \right) \cdot \frac{a + 3b}{b} = \frac{a + 2b - a + 3b}{a + 3b} \cdot \frac{a + 3b}{b} = \frac{5b}{b} = 5.
 \end{aligned}$$

Ответ: 5.

$$\begin{aligned}
 27. & \left(\frac{6a + 1}{a^2 - 6a} + \frac{6a - 1}{a^2 + 6a} \right) \cdot \frac{a^4 - 35a^2 - 36}{a^4 + 2a^2 + 1} = \\
 &= \frac{6a^2 + a + 36a + 6 + 6a^2 - 36a - a + 6}{a(a - 6)(a + 6)} \cdot \frac{a^4 - 36a^2 + a^2 - 36}{(a^2 + 1)^2} = \\
 &= \frac{12a^2 + 12}{a(a - 6)(a + 6)} \cdot \frac{(a^2 - 36)a^2 + (a^2 - 36)}{(a^2 + 1)^2} = \\
 &= \frac{12(a^2 + 1)(a^2 - 36)(a^2 + 1)}{a(a^2 - 36)(a^2 + 1)^2} = \frac{12}{a}.
 \end{aligned}$$

Ответ: $\frac{12}{a}$.

$$\begin{aligned}
 28. & \left(\frac{x+7a}{7ax-x^2} + \frac{x-7a}{7ax+x^2} \right) : \frac{28a}{x^2-49a^2} = \\
 & = \left(\frac{x+7a}{x(7a-x)} + \frac{x-7a}{x(7a+x)} \right) \cdot \frac{(x-7a)(x+7a)}{28a} = \\
 & = \frac{(x+7a)(x-7a)(x+7a)}{x(7a-x) \cdot 28a} + \frac{(x-7a)(x-7a)(x+7a)}{x(7a+x) \cdot 28a} = \\
 & = \frac{-x^2-14ax-49a^2+x^2-14ax+49a^2}{28ax} = \frac{-28ax}{28ax} = -1.
 \end{aligned}$$

Ответ: -1 .

$$\begin{aligned}
 29. & \left(\frac{x-4a}{4ax-x^2} + \frac{4a+x}{4xa+x^2} \right) : \frac{16a}{x^2-16a^2} = \\
 & = \left(\frac{x-4a}{x(4a-x)} + \frac{4a+x}{x(4a+x)} \right) : \frac{16a}{(x-4a)(x+4a)} = \\
 & = \left(-\frac{1}{x} + \frac{1}{x} \right) \frac{(x-4a)(x+4a)}{16a} = 0. \quad \frac{(x-4a)(x+4a)}{16a} = 0.
 \end{aligned}$$

Ответ: 0 .

$$\begin{aligned}
 30. & \left(\frac{x^2-2ax+4a^2}{x-2a} + \frac{x^2+2ax+4a^2}{2a+x} \right) \cdot \frac{4a^2-x^2}{2x^3} = \\
 & = \frac{x^3+8a^3+x^3-8a^3}{(x-2a)(x+2a)} \cdot \frac{(2a-x)(2a+x)}{2x^3} = -\frac{2x^3(2a-x)(2a+x)}{(2a-x)(2a+x) \cdot 2x^3} = \\
 & = -1.
 \end{aligned}$$

Ответ: -1 .

$$\begin{aligned}
 31. & \left(\frac{x+4a}{x-a} - \frac{3-ax}{x+a} - \frac{5a-3-a^2}{x^2-a^2} : \frac{1}{x} \right) (x^2-a^2) = \\
 & = \left(\frac{x+4a}{x-a} - \frac{3-ax}{x+a} - \frac{(5a-3-a^2)x}{(x-a)(x+a)} \right) (x^2-a^2) = \\
 & = (x+4a)(x+a) - (3-ax)(x-a) - x(5a-3-a^2) = \\
 & = x^2+4ax+ax+4a^2-3x+3a+ax^2-a^2x-5ax+3x+a^2x = \\
 & = x^2+ax^2+4a^2+3a.
 \end{aligned}$$

Ответ: $x^2+ax^2+4a^2+3a$.

$$\begin{aligned}
 32. & \frac{b^2}{a-b} : \left(\frac{a^2+ab+b^2}{ab+b^2} - \frac{a^2-ab+b^2}{ab-b^2} \right) = \\
 & = \frac{b^2}{a-b} : \frac{a^3-b^3-a^3-b^3}{b(a-b)(a+b)} = \frac{b^2 \cdot b(a-b)(a+b)}{(a-b)(-2b^3)} = -\frac{a+b}{2}.
 \end{aligned}$$

Ответ: $-\frac{a+b}{2}$.

$$\begin{aligned}
33. & \left(\frac{a+b}{a-b} - \frac{a^2-ab+b^2}{a^2+ab+b^2} \right) \cdot \frac{ab^3-a^4}{b^5-4a^4b} = \\
& = \frac{(a+b)(a^2+ab+b^2) - (a-b)(a^2-ab+b^2)}{(a-b)(a^2+ab+b^2)} \cdot \frac{a(b^3-a^3)}{b(b^4-4a^4)} = \\
& = \frac{a^3+a^2b+ab^2+a^2b+ab^2+b^3 - (a^3-a^2b+ab^2-a^2b+ab^2-b^3)}{a^3-b^3} \times \\
& \times \frac{a(a^3-b^3)}{b(4a^4-b^4)} = \frac{a^3+2a^2b+2ab^2+b^3-a^3+2a^2b-2ab^2+b^3}{1} \times \\
& \times \frac{a}{b(4a^4-b^4)} = \frac{2b^3+4a^2b}{1} \cdot \frac{a}{b(4a^4-b^4)} = \frac{2b(b^2+2a^2) \cdot a}{b(2a^2-b^2)(2a^2+b^2)} = \\
& = \frac{2a}{2a^2-b^2}.
\end{aligned}$$

Ответ: $\frac{2a}{2a^2-b^2}$.

$$\begin{aligned}
34. & \left(\frac{2a-4b}{b^2+4ab} - \frac{3a+b}{b^2-4ab} \right) (b^2-4ab) + \frac{21a^2+6b^2-9ab}{4a+b} = \\
& = \frac{(2ab-4b^2-8a^2+16ab-3ab-b^2-12a^2-4ab)b(b-4a)}{b(b+4a)(b-4a)} + \\
& + \frac{21a^2+6b^2-9ab}{4a+b} = \frac{11ab-5b^2-20a^2+21a^2+6b^2-9ab}{4a+b} = \\
& = \frac{2ab+b^2+a^2}{4a+b} = \frac{(a+b)^2}{4a+b}.
\end{aligned}$$

Ответ: $\frac{(a+b)^2}{4a+b}$.

$$\begin{aligned}
35. & \left(\frac{a+b}{a^2-b} - \frac{a-b}{a^2+b} \right) : \frac{a+1}{a^2-b} = \\
& = \frac{(a^3+ab+a^2b+b^2-a^3+ab+a^2b-b^2)(a^2-b)}{(a^2-b)(a^2+b)(a+1)} = \\
& = \frac{2ab+2a^2b}{(a^2+b)(a+1)} = \frac{2ab(a+1)}{(a^2+b)(a+1)} = \frac{2ab}{a^2+b}.
\end{aligned}$$

Ответ: $\frac{2ab}{a^2+b}$.

$$36. \frac{16}{a+5} - \frac{3-2a}{72a^2+24a+8} \cdot \frac{-8+216a^3}{2a^2+7a-15} =$$

$$\begin{aligned}
&= \frac{16}{a+5} + \frac{2a-3}{8(9a^2+3a+1)} \cdot \frac{-8(1-27a^3)}{2a^2-3a+10a-15} = \\
&= \frac{16}{a+5} + \frac{2a-3}{8(9a^2+3a+1)} \cdot \frac{-8(1-3a)(1+3a+9a^2)}{a(2a-3)+5(2a-3)} = \\
&= \frac{16}{a+5} + \frac{2a-3}{8(9a^2+3a+1)} \cdot \frac{-8(1-3a)(9a^2+3a+1)}{(2a-3)(a+5)} = \\
&= \frac{16}{a+5} + \frac{-(1-3a)}{a+5} = \frac{16-1+3a}{a+5} = \frac{3(a+5)}{a+5} = 3.
\end{aligned}$$

Ответ: 3.

$$37. \frac{a^2-1}{a+1} = \frac{(a-1)(a+1)}{a+1} = a-1;$$

$$\frac{1}{a-1} - \frac{a^2-1}{a+1} = \frac{1}{a-1} - (a-1) = \frac{1-(a-1)^2}{a-1} = \frac{-a^2+2a}{a-1} = \frac{a^2-2a}{1-a}.$$

$$\begin{aligned}
\text{Итак, } \left(\frac{1}{a-1} - \frac{a^2-1}{a+1} \right)^{-1} + \frac{a^2-a-1}{a^2-2a} &= \frac{1-a}{a^2-2a} + \frac{a^2-a-1}{a^2-2a} = \\
&= \frac{a^2-2a}{a^2-2a} = 1.
\end{aligned}$$

Ответ: 1.

$$\begin{aligned}
38. \left(\frac{a}{a+1} + \frac{1}{a-1} \right)^{-1} + \frac{2}{a^2+1} &= \left(\frac{a^2-a+a+1}{a^2-1} \right)^{-1} + \frac{2}{a^2+1} = \\
&= \frac{a^2-1}{a^2+1} + \frac{2}{a^2+1} = \frac{a^2+1}{a^2+1} = 1.
\end{aligned}$$

Ответ: 1.

$$\begin{aligned}
39. \frac{a\sqrt{a}-b\sqrt{b}}{\sqrt{a}-\sqrt{b}} + \frac{a\sqrt{a}+b\sqrt{b}}{\sqrt{a}+\sqrt{b}} &= \\
&= \frac{\left(a^{\frac{1}{2}}\right)^3 - \left(b^{\frac{1}{2}}\right)^3}{a^{\frac{1}{2}} - b^{\frac{1}{2}}} + \frac{\left(a^{\frac{1}{2}}\right)^3 + \left(b^{\frac{1}{2}}\right)^3}{a^{\frac{1}{2}} + b^{\frac{1}{2}}} = \\
&= \frac{\left(a^{\frac{1}{2}} - b^{\frac{1}{2}}\right)\left(a + a^{\frac{1}{2}}b^{\frac{1}{2}} + b\right)}{a^{\frac{1}{2}} - b^{\frac{1}{2}}} + \frac{\left(a^{\frac{1}{2}} + b^{\frac{1}{2}}\right)\left(a - a^{\frac{1}{2}}b^{\frac{1}{2}} + b\right)}{a^{\frac{1}{2}} + b^{\frac{1}{2}}} = \\
&= a + a^{\frac{1}{2}}b^{\frac{1}{2}} + b + a - a^{\frac{1}{2}}b^{\frac{1}{2}} + b = 2(a+b)
\end{aligned}$$

Ответ: $2(a+b)$.

$$40. \frac{(a+b)^3}{a^2-ab+b^2} = \frac{a^3+3ab(a+b)+b^3}{a^2-ab+b^2},$$

$$\frac{1}{a} + \frac{1}{b} - \frac{3}{a+b} = \frac{b(a+b) + a(a+b) - 3ab}{ab(a+b)} = \frac{a^2 - ab + b^2}{ab(a+b)},$$

$$3\left(\frac{1}{a} + \frac{1}{b} - \frac{3}{a+b}\right)^{-1} = \frac{3ab(a+b)}{a^2 - ab + b^2}.$$

$$\begin{aligned} & \frac{(a+b)^3}{a^2 - ab + b^2} - 3\left(\frac{1}{a} + \frac{1}{b} - \frac{3}{a+b}\right)^{-1} = \\ &= \frac{a^3 + 3ab(a+b) + b^3}{a^2 - ab + b^2} - \frac{3ab(a+b)}{a^2 - ab + b^2} = \frac{a^3 + b^3}{a^2 - ab + b^2} = \\ &= \frac{(a+b)(a^2 - ab + b^2)}{a^2 - ab + b^2} = a + b. \end{aligned}$$

Ответ: $a + b$.

$$\begin{aligned} 41. \left(a + \frac{b-a}{1+ab}\right) : \left(1 - \frac{a(b-a)}{1+ab}\right) &= \frac{(a + a^2b + b - a)(1+ab)}{(1+ab)(1+ab - ab + a^2)} = \\ &= \frac{b(a^2 + 1)}{a^2 + 1} = b. \end{aligned}$$

Ответ: b .

$$\begin{aligned} 42. \left(a - \frac{4a-9}{a-2}\right) : \left(2a - \frac{2a}{a-2}\right) &= \frac{a^2 - 2a - 4a + 9}{a-2} : \frac{2a^2 - 4a - 2a}{a-2} = \\ &= \frac{(a^2 - 6a + 9)(a-2)}{(a-2)(2a^2 - 6a)} = \frac{(a-3)^2}{2a(a-3)} = \frac{a-3}{2a}. \end{aligned}$$

Ответ: $\frac{a-3}{2a}$.

$$\begin{aligned} 43. \left(x + 1 - \frac{12x-13}{x+3}\right) : \left(x - 3 - \frac{7}{x+3}\right) &= \\ &= \frac{x^2 + 4x + 3 - 12x + 13}{x+3} : \frac{x^2 - 9 - 7}{x+3} = \frac{x^2 - 8x + 16}{x^2 - 16} = \\ &= \frac{(x-4)^2}{(x-4)(x+4)} = \frac{x-4}{x+4}. \end{aligned}$$

Ответ: $\frac{x-4}{x+4}$.

$$44. \frac{x}{\frac{2}{x+1} - 1} - \frac{2 + \frac{4x}{1-x}}{x+1} + 3 = \frac{x(x+1)}{1-x} - \frac{2+2x}{(1-x)(1+x)} + 3 =$$

$$\begin{aligned}
&= \frac{x(x+1)^2 - 2 - 2x + 3(1-x^2)}{1-x^2} = \\
&= \frac{x(x^2+2x+1) - 2 - 2x + 3 - 3x^2}{1-x^2} = \\
&= \frac{x^3+2x^2+x-2x-3x^2+1}{1-x^2} = \frac{x^3-x^2-x+1}{1-x^2} = \\
&= -\frac{x^2(x-1) - (x-1)}{(x-1)(x+1)} = -\frac{(x-1)(x^2-1)}{(x-1)(x+1)} = \\
&= -\frac{(x-1)(x+1)}{x+1} = 1-x.
\end{aligned}$$

Ответ: $1-x$.

$$\begin{aligned}
45. \frac{18 \cdot 12^{3n-1}}{9^{2n+1} \cdot 2^{4n-3}} &= \frac{3^2 \cdot 2 \cdot (2^2 \cdot 3)^{3n-1}}{3^{2 \cdot (2n+1)} \cdot 2^{4n-3}} = \frac{3^{2+3n-1} \cdot 2^{1+6n-2}}{3^{4n+2} \cdot 2^{4n-3}} = \\
&= \frac{3^{3n+1} \cdot 2^{6n-1}}{3^{4n+2} \cdot 2^{4n-3}} = \frac{2^{2n+2}}{3^{n+1}} = \frac{4^{n+1}}{3^{n+1}} = \left(\frac{4}{3}\right)^{n+1}.
\end{aligned}$$

Ответ: $\left(\frac{4}{3}\right)^{n+1}$.

$$\begin{aligned}
46. \left(\frac{3}{4a-b} - \frac{2}{4a+b} - \frac{1}{4a-5b}\right) : \frac{b^2}{16a^2-b^2} &= \\
&= \left(\frac{12a+3b-8a+2b}{(4a-b)(4a+b)} - \frac{1}{4a-5b}\right) : \frac{b^2}{16a^2-b^2} = \\
&= \left(\frac{4a+5b}{16a^2-b^2} - \frac{1}{4a-5b}\right) : \frac{b^2}{16a^2-b^2} = \\
&= \frac{(16a^2-25b^2-16a^2+b^2)(16a^2-b^2)}{(16a^2-b^2)(4a-5b) \cdot b^2} = \frac{-24}{4a-5b} = \frac{24}{5b-4a}.
\end{aligned}$$

Ответ: $\frac{24}{5b-4a}$.

$$\begin{aligned}
47. \left(\frac{1}{x^2+3x+2} - \frac{1}{x^2+5x+6}\right) : \left(\frac{1}{x+1} - \frac{1}{x+3}\right) &= \\
&= \left(\frac{1}{(x+1)(x+2)} - \frac{1}{(x+3)(x+2)}\right) : \frac{x+3-x-1}{(x+1)(x+3)} = \\
&= \frac{(x+3-x-1)(x+1)(x+3)}{(x+1)(x+2)(x+3) \cdot 2} = \frac{1}{x+2}.
\end{aligned}$$

Ответ: $\frac{1}{x+2}$.

$$\begin{aligned}
 48. & \left(\frac{2}{\sqrt{3}-1} - \frac{1}{\sqrt{3}+2} + \frac{13}{4-\sqrt{3}} \right) \cdot \frac{1}{3+3\sqrt{3}} = \\
 & = \left(\frac{2(\sqrt{3}+1)}{(\sqrt{3}-1)(\sqrt{3}+1)} - \frac{\sqrt{3}-2}{(\sqrt{3}+2)(\sqrt{3}-2)} + \frac{13(4+\sqrt{3})}{(4-\sqrt{3})(4+\sqrt{3})} \right) \cdot \\
 & \cdot \frac{1}{3+3\sqrt{3}} = (\sqrt{3}+1+\sqrt{3}-2+4+\sqrt{3}) \cdot \frac{1}{3+3\sqrt{3}} = (3+3\sqrt{3}) \cdot \frac{1}{3+3\sqrt{3}} = 1.
 \end{aligned}$$

Ответ: 1.

49. Обозначим заданное выражение через A . Представим выражение под корнем в виде полных квадратов и получим:

$$A = \sqrt{(\sqrt{2}-\sqrt{3})^2} + \sqrt{(\sqrt{2}+\sqrt{3})^2}.$$

При извлечении корня учитываем, что арифметический квадратный корень — величина неотрицательная:

$$A = (\sqrt{3}-\sqrt{2}) + (\sqrt{2}+\sqrt{3}) = 2\sqrt{3}.$$

Ответ: $2\sqrt{3}$.

$$\begin{aligned}
 50. & \left(\frac{2m}{m-7} + \frac{4m}{m^2-14m+49} \right) \cdot \frac{m^2-9m+14}{m-5} + \frac{10m}{7-m} = \\
 & = \left(\frac{2m}{m-7} + \frac{4m}{(m-7)^2} \right) \cdot \frac{(m-7)(m-2)}{m-5} + \frac{10m}{7-m} = \\
 & = \frac{(2m(m-7)+4m)(m-7)(m-2)}{(m-7)^2(m-5)} + \frac{10m}{7-m} = \\
 & = \frac{(2m^2-14m+4m)(m-2)}{(m-7)(m-5)} + \frac{10m}{7-m} = \frac{2m(m-5)(m-2)}{(m-7)(m-5)} - \frac{10m}{m-7} = \\
 & = \frac{2m^2-4m-10m}{m-7} = \frac{2m(m-7)}{m-7} = 2m.
 \end{aligned}$$

Ответ: $2m$.

$$\begin{aligned}
 51. & \left(\frac{m}{m-5} + \frac{3m}{2m^2-11m+5} \right) \cdot \frac{m^2+m-30}{m+1} - \frac{4m}{2m-1} = \\
 & = \left(\frac{m}{m-5} + \frac{3m}{(m-5)(2m-1)} \right) \cdot \frac{(m+6)(m-5)}{m+1} - \frac{4m}{2m-1} = \\
 & = \frac{(2m^2-m+3m)(m+6)(m-5)}{(m-5)(2m-1)(m+1)} - \frac{4m}{2m-1} = \\
 & = \frac{2m(m+1)(m+6)}{(2m-1)(m+1)} - \frac{4m}{2m-1} = \frac{2m(m+6)-4m}{2m-1} =
 \end{aligned}$$

$$= \frac{2m^2 + 8m}{2m - 1} = \frac{2m(m + 4)}{2m - 1}.$$

Ответ: $\frac{2m(m + 4)}{2m - 1}$.

$$52. A = \sqrt{(2 - \sqrt[3]{20})^2} + \sqrt{(3 - \sqrt[3]{20})^2} = |2 - \sqrt[3]{20}| + |3 - \sqrt[3]{20}|.$$

Так как $2 < \sqrt[3]{20} < 3$, то $A = \sqrt[3]{20} - 2 + 3 - \sqrt[3]{20} = 1$.

Ответ: 1.

$$53. A = \sqrt{(\sqrt[5]{240} - 2)^2} + \sqrt{(\sqrt[5]{240} - 3)^2} = |\sqrt[5]{240} - 2| + |\sqrt[5]{240} - 3|.$$

Так как $2 < \sqrt[5]{240} < 3$, то получим: $A = \sqrt[5]{240} - 2 + 3 - \sqrt[5]{240} = 1$.

Ответ: 1.

$$\begin{aligned} 54. & \left(\left(\frac{b^2 - 2b + 2}{b^4 + 4} \right)^{-1} - 1 \right) \cdot (b + 1)^{-1} = \left(\frac{b^4 + 4}{b^2 - 2b + 2} - 1 \right) \cdot \frac{1}{b + 1} = \\ & = \frac{b^4 + 4 - b^2 + 2b - 2}{(b^2 - 2b + 2)(b + 1)} = \frac{b^4 - b^2 + 2b + 2}{(b^2 - 2b + 2)(b + 1)} = \\ & = \frac{b^2(b^2 - 1) + 2(b + 1)}{(b^2 - 2b + 2)(b + 1)} = \frac{b^2(b - 1) + 2}{b^2 - 2b + 2} = \frac{b^3 - b^2 + 2}{b^2 - 2b + 2} = \\ & = \frac{(b + 1)(b^2 - 2b + 2)}{b^2 - 2b + 2} = b + 1. \end{aligned}$$

Ответ: $b + 1$.

$$\begin{aligned} 55. & x^{-8} \cdot \left(\frac{1}{x - 1} + (x + 1)(x^2 + 1)(x^4 + 1) \right) = \\ & = x^{-8} \cdot \left(\frac{1 + (x^2 - 1)(x^2 + 1)(x^4 + 1)}{x - 1} \right) = x^{-8} \cdot \frac{1 + (x^4 - 1)(x^4 + 1)}{x - 1} = \\ & = x^{-8} \cdot \frac{1 + x^8 - 1}{x - 1} = \frac{1}{x - 1}. \end{aligned}$$

Ответ: $\frac{1}{x - 1}$.

$$56. \frac{4 \cdot 36^n}{2^{2n+2} \cdot 3^{2n-3}} = \frac{4 \cdot 6^{2n}}{2^2 \cdot 2^{2n} \cdot 3^{2n} \cdot 3^{-3}} = \frac{6^{2n} \cdot 3^3}{6^{2n}} = 3^3 = 27.$$

Ответ: 27.

$$57. \frac{8 \cdot 100^n}{5^{2n-2} \cdot 2^{2n+1}} = \frac{8 \cdot 10^{2n}}{5^{2n} \cdot 5^{-2} \cdot 2^{2n} \cdot 2} = \frac{4 \cdot 10^{2n} \cdot 5^2}{10^{2n}} = 4 \cdot 5^2 = 100.$$

Ответ: 100.

$$58. \frac{(5^{1-5n})^2 \cdot (4^{2n+1})^3 \cdot (2,5)^{11n}}{160} = \frac{5^2 \cdot 4^{6n} \cdot 4^3 \cdot 5^{11n}}{5^{10n} \cdot 160 \cdot 2^{11n}} =$$

$$= \frac{5^2 \cdot 2^{12n} \cdot 4^2 \cdot 2^2 \cdot 5^n}{4^2 \cdot 10 \cdot 2^{11n}} = 10 \cdot 2^n \cdot 5^n = 10 \cdot 10^n = 10^{n+1}.$$

Ответ: 10^{n+1} .

$$\begin{aligned} 59. 81 \cdot \frac{(3 \cdot 3^n)^{3n}}{(9^n)^2} : 27^{n^2-n} &= \frac{3^4 \cdot 3^{3n} \cdot 3^{3n^2}}{(3^{2n})^2} : 3^{3(n^2-n)} = \\ &= \frac{3^{3n^2+3n+4}}{3^{4n}} : 3^{3n^2-3n} = 3^{3n^2+3n+4-4n-3n^2+3n} = 3^{2n+4} = 3^{2(n+2)} = \\ &= 9^{n+2}. \end{aligned}$$

Ответ: 9^{n+2} .

$$\begin{aligned} 62. \sqrt{7-4\sqrt{3}} + \sqrt{7+4\sqrt{3}} &= \sqrt{4-4\sqrt{3}+3} + \sqrt{4+4\sqrt{3}+3} = \\ &= \sqrt{(2-\sqrt{3})^2} + \sqrt{(2+\sqrt{3})^2} = |2-\sqrt{3}| + 2 + \sqrt{3} = 2 - \sqrt{3} + 2 + \sqrt{3} = 4. \end{aligned}$$

Ответ: 4.

66. Данное выражение имеет смысл при $a < 0$, $b < 0$. Заметим, что $\sqrt{(-a)^2} = |a| = -a$, при $a < 0$. Поэтому

$$\begin{aligned} \frac{\sqrt{ab}-a}{\sqrt{-a}} &= \frac{\sqrt{ab}-\sqrt{(-a)^2}}{\sqrt{-a}} = \\ &= \frac{\sqrt{-a} \cdot (\sqrt{-b} + \sqrt{-a})}{\sqrt{-a}} = \sqrt{-a} + \sqrt{-b}. \end{aligned}$$

Ответ: $\sqrt{-a} + \sqrt{-b}$.

67. Заметим, что при $a < 0$ имеем: $\sqrt{(-a)^2} = |a| = -a$. Поэтому

$$\frac{a + \sqrt{ab}}{b + \sqrt{ab}} = \frac{-\sqrt{(-a)^2} + \sqrt{-a} \cdot \sqrt{-b}}{-\sqrt{(-b)^2} + \sqrt{-a} \cdot \sqrt{-b}} = \frac{\sqrt{-a} \cdot (-\sqrt{-a} + \sqrt{-b})}{\sqrt{-b} \cdot (-\sqrt{-b} + \sqrt{-a})} = -\sqrt{\frac{a}{b}}.$$

Ответ: $-\sqrt{\frac{a}{b}}$.

$$68. \frac{2ab - 10a + 5 - b}{2a^2 - 7a + 3} = \frac{2a(b-5) - (b-5)}{2(a-3)(a-\frac{1}{2})} = \frac{(b-5)(2a-1)}{(a-3)(2a-1)} = \frac{b-5}{a-3}.$$

Ответ: $\frac{b-5}{a-3}$.

$$\begin{aligned}
 69. \frac{6-9n+6mn-4m}{3n^2+n-2} &= \frac{3(2-3n)+2m(3n-2)}{3\left(n-\frac{2}{3}\right)(n+1)} = \\
 &= \frac{(3n-2)(2m-3)}{(3n-2)(n+1)} = \frac{2m-3}{n+1}.
 \end{aligned}$$

$$\text{Ответ: } \frac{2m-3}{n+1}.$$

$$\begin{aligned}
 70. \frac{3ab+21a+2b+14}{9a^2+9a+2} &= \frac{3a(b+7)+2(b+7)}{9a^2+6a+1+3a+1} = \\
 &= \frac{(b+7)(3a+2)}{(3a+1)^2+3a+1} = \frac{(b+7)(3a+2)}{(3a+1)(3a+2)} = \frac{b+7}{3a+1}.
 \end{aligned}$$

$$\text{Ответ: } \frac{b+7}{3a+1}.$$

$$\begin{aligned}
 71. \frac{4ab-16a+b-4}{16a^2-8a-3} &= \frac{4a(b-4)+b-4}{16a^2-8a+1-4} = \frac{(4a+1)(b-4)}{(4a-1)^2-2^2} = \\
 &= \frac{(4a+1)(b-4)}{(4a-3)(4a+1)} = \frac{b-4}{4a-3}.
 \end{aligned}$$

$$\text{Ответ: } \frac{b-4}{4a-3}.$$

$$\begin{aligned}
 72. \left(\frac{a(1-a)}{2} + \frac{a^2-4a+3}{2a^2-6a} \right) : (a-1)^2 &= \\
 &= \left(\frac{a(1-a)}{2} + \frac{(a-1)(a-3)}{2a(a-3)} \right) \cdot \frac{1}{(a-1)^2} = \\
 &= \left(\frac{a^2(1-a) - (1-a)}{2a} \right) \cdot \frac{1}{(a-1)^2} = \frac{(1-a)(a-1)(a+1)}{2a(a-1)^2} = \\
 &= -\frac{(a-1)^2(a+1)}{2a(a-1)^2} = -\frac{a+1}{2a}.
 \end{aligned}$$

$$\text{Ответ: } -\frac{a+1}{2a}.$$

$$\begin{aligned}
 73. \left(\frac{x}{x^2-2x+1} - \frac{1}{x-1} \right) : \frac{5}{(x-1)^2} &= \left(\frac{x}{(x-1)^2} - \frac{1}{x-1} \right) \cdot \frac{(x-1)^2}{5} = \\
 &= \frac{x-(x-1)}{(x-1)^2} \cdot \frac{(x-1)^2}{5} = \frac{x-x+1}{5} = \frac{1}{5} = 0,2.
 \end{aligned}$$

$$\text{Ответ: } 0,2.$$

$$\begin{aligned}
 74. & \left(\frac{a(1-a)}{2} + \frac{a^2 - 4a + 3}{2a^2 - 6a} \right) : (a-1)^2 = \\
 &= \frac{a(1-a) \cdot a(a-3) + (a-3)(a-1)}{2a(a-3)} \cdot \frac{1}{(a-1)^2} = \\
 &= \frac{(a-1)(a-3)(1-a^2)}{2a(a-3)(a-1)^2} = \frac{(1-a)(1+a)}{2a(a-1)} = -\frac{1+a}{2a}.
 \end{aligned}$$

Ответ: $-\frac{1+a}{2a}$.

$$\begin{aligned}
 75. & \left(\frac{(b^2 - 3b + 2)(b-1)}{b^2} - \frac{b^2 - 4b + 3}{b} \right) : (b-1)^2 = \\
 &= \frac{(b^2 - 3b + 2)(b-1) - b(b^2 - 4b + 3)}{b^2(b-1)^2} = \\
 &= \frac{(b-1)(b-2)(b-1) - b(b-1)(b-3)}{b^2(b-1)^2} = \\
 &= \frac{(b-1)(b-2) - b(b-3)}{b^2(b-1)} = \frac{b^2 - 3b + 2 - b^2 + 3b}{b^2(b-1)} = \frac{2}{b^2(b-1)}.
 \end{aligned}$$

Ответ: $\frac{2}{b^2(b-1)}$.

$$\begin{aligned}
 76. & \left(\frac{k+2}{k^2 + 3k - 4} - \frac{k-8}{k^2 + 8k + 16} \right) : \frac{5}{(k+4)^2} = \\
 &= \left(\frac{k+2}{(k+4)(k-1)} - \frac{k-8}{(k+4)^2} \right) \cdot \frac{(k+4)^2}{5} = \\
 &= \frac{(k+2)(k+4) - (k-8)(k-1)}{(k+4)^2(k-1)} \cdot \frac{(k+4)^2}{5} = \\
 &= \frac{(k^2 + 6k + 8) - (k^2 - 9k + 8)}{5(k-1)} = \frac{15k}{5(k-1)} = \frac{3k}{k-1}.
 \end{aligned}$$

Ответ: $\frac{3k}{k-1}$.

$$\begin{aligned}
 77. & \left(\frac{1}{t^2 - 4} - \frac{1}{t^2 + t - 6} \right) : \frac{1}{t^2 + 5t + 6} = \\
 &= \left(\frac{1}{(t-2)(t+2)} - \frac{1}{(t+3)(t-2)} \right) \cdot \frac{(t+3)(t+2)}{1} =
 \end{aligned}$$

$$= \frac{(t+3) - (t+2)}{(t-2)(t+2)(t+3)} \cdot (t+3)(t+2) = \frac{1}{t-2}.$$

Ответ: $\frac{1}{t-2}$.

$$\begin{aligned} 78. & \frac{1}{(a-b)(a-c)} + \frac{1}{(b-c)(b-a)} + \frac{1}{(c-a)(c-b)} = \\ & = \frac{(b-c) + (c-a) + (a-b)}{(a-c)(a-b)(b-c)} = \frac{0}{(a-c)(a-b)(b-c)} = 0. \end{aligned}$$

Ответ: 0.

$$\begin{aligned} 79. & \frac{a^2}{(a-b)(a-c)} + \frac{b^2}{(b-c)(b-a)} + \frac{c^2}{(c-a)(c-b)} = \\ & = \frac{a^2(b-c) - b^2(a-c) + c^2(a-b)}{(a-b)(a-c)(b-c)} = \\ & = \frac{a^2b - a^2c - b^2a + b^2c + c^2a - c^2b}{(a-b)(a-c)(b-c)} = \\ & = \frac{b(a-c)(a+c) - b^2(a-c) - ac(a-c)}{(a-b)(a-c)(b-c)} = \\ & = \frac{(a-c)[b(a+c) - b^2 - ac]}{(a-b)(a-c)(b-c)} = \\ & = \frac{(a-c)[b(a-b) - c(a-b)]}{(a-b)(a-c)(b-c)} = \\ & = \frac{(a-b)(a-c)(b-c)}{(a-b)(a-c)(b-c)} = 1. \end{aligned}$$

Ответ: 1.

$$\begin{aligned} 80. & \left(\frac{m-3}{m^2-4m+3} - \frac{2m}{m^2-1} \right) : \frac{1}{5m+5} = \\ & = \left(\frac{m-3}{(m-3)(m-1)} - \frac{2m}{(m-1)(m+1)} \right) \cdot 5(m+1) = \\ & = \frac{m+1-2m}{(m-1)(m+1)} \cdot 5(m+1) = \frac{1-m}{m-1} \cdot 5 = -5. \end{aligned}$$

Ответ: -5.

$$\begin{aligned} 81. & \left(\frac{m+3}{m^2+4m+4} - \frac{2m+6}{m^2+5m+6} \right) \cdot \frac{m^2-4}{m+1} = \\ & = \left(\frac{m+3}{(m+2)^2} - \frac{2(m+3)}{(m+2)(m+3)} \right) \cdot \frac{(m-2)(m+2)}{m+1} = \end{aligned}$$

$$= \frac{m+3-2(m+2)}{(m+2)^2} \cdot \frac{(m-2)(m+2)}{m+1} = \frac{-m-1}{m+2} \cdot \frac{m-2}{m+1} = \frac{2-m}{m+2}.$$

Ответ: $\frac{2-m}{m+2}$.

$$\begin{aligned} 82. & \left(\frac{x-1}{x^2-6x+8} - \frac{3}{x^2-16} \right) : \frac{2x^2+4}{x^2+2x-8} + \frac{1}{8-2x} = \\ & = \left(\frac{x-1}{(x-4)(x-2)} - \frac{3}{(x-4)(x+4)} \right) : \frac{2x^2+4}{(x+4)(x-2)} + \frac{1}{8-2x} = \\ & = \frac{(x-1)(x+4)-3(x-2)}{(x-4)(x-2)(x+4)} \cdot \frac{(x+4)(x-2)}{2(x^2+2)} + \frac{1}{2(4-x)} = \\ & = \frac{x^2+3x-4-3x+6}{2(x-4)(x^2+2)} + \frac{1}{2(4-x)} = \frac{x^2+2}{2(x-4)(x^2+2)} - \frac{1}{2(x-4)} = 0. \end{aligned}$$

Ответ: 0.

$$\begin{aligned} 83. & \left(\frac{x+6}{x^2-6x} + \frac{x-6}{x^2+6x} \right) : \frac{x^2+36}{x^2-36} - \frac{2}{x} = \\ & = \left(\frac{x+6}{x(x-6)} + \frac{x-6}{x(x+6)} \right) \cdot \frac{x^2-36}{x^2+36} - \frac{2}{x} = \\ & = \frac{(x+6)^2 + (x-6)^2}{x(x-6)(x+6)} \cdot \frac{(x-6)(x+6)}{x^2+36} - \frac{2}{x} = \frac{2(x^2+36)}{x(x^2+36)} - \frac{2}{x} = \frac{2}{x} - \frac{2}{x} = 0. \end{aligned}$$

Ответ: 0.

$$\begin{aligned} 84. & \left(\frac{a^3-b^3}{a^2+ab+b^2} - \frac{a^2}{a+b} \right) \cdot \left(\frac{-1}{b^2} \right) = \\ & = \left(\frac{(a-b)(a^2+ab+b^2)}{a^2+ab+b^2} - \frac{a^2}{a+b} \right) \cdot \left(\frac{-1}{b^2} \right) = \\ & = \frac{(a^2-b^2)-a^2}{a+b} \cdot \left(\frac{-1}{b^2} \right) = \frac{1}{a+b}. \end{aligned}$$

Ответ: $\frac{1}{a+b}$.

$$\begin{aligned} 85. & \left(\frac{a^2-b^2}{a^2+2ab+b^2} + \frac{b}{a+b} \right) \cdot \frac{a+b}{3b} = \left(\frac{(a-b)(a+b)}{(a+b)^2} + \frac{b}{a+b} \right) \cdot \frac{a+b}{3b} = \\ & = \frac{(a-b)+b}{a+b} \cdot \frac{a+b}{3b} = \frac{a}{3b}. \end{aligned}$$

Ответ: $\frac{a}{3b}$.

$$86. \left(\frac{2a+1}{2a-1} - \frac{2a-1}{2a+1} \right) \left(1 - \frac{1}{a} + \frac{1}{4a^2} \right) =$$

$$\begin{aligned}
&= \frac{(2a+1)^2 - (2a-1)^2}{(2a-1)(2a+1)} \cdot \frac{4a^2 - 4a + 1}{4a^2} = \\
&= \frac{(4a^2 + 4a + 1 - 4a^2 + 4a - 1)(2a-1)^2}{(2a-1)(2a+1)4a^2} = \\
&= \frac{8a(2a-1)}{(2a+1) \cdot 4a^2} = \frac{2(2a-1)}{a(2a+1)} = \frac{4a-2}{2a^2+a}, \text{ что и требовалось доказать.}
\end{aligned}$$

$$\begin{aligned}
87. & \left(a - b + \frac{4ab}{a-b}\right) : \left(\frac{a}{a+b} - \frac{2ab}{b^2-a^2}\right) = \\
&= \frac{(a-b)^2 + 4ab}{a-b} : \frac{a(a-b) + 2ab}{a^2-b^2} = \\
&= \frac{a^2 - 2ab + b^2 + 4ab}{a-b} : \frac{a^2 - ab + 2ab}{a^2-b^2} = \frac{(a+b)^2(a-b)(a+b)}{(a-b)a(a+b)} = \\
&= \frac{(a+b)^2}{a}.
\end{aligned}$$

Ответ: $\frac{(a+b)^2}{a}$.

$$\begin{aligned}
88. & \frac{1}{3b-1} - \frac{27b^3-3b}{9b^2+1} \cdot \left(\frac{3b}{9b^2-6b+1} - \frac{1}{9b^2-1}\right) = \\
&= \frac{1}{3b-1} - \frac{3b(9b^2-1)}{9b^2+1} \cdot \left(\frac{3b}{(3b-1)^2} - \frac{1}{(3b-1)(3b+1)}\right) = \\
&= \frac{1}{3b-1} - \frac{3b(3b-1)(3b+1)}{9b^2+1} \cdot \frac{3b(3b+1) - (3b-1)}{(3b-1)^2(3b+1)} = \\
&= \frac{1}{3b-1} - \frac{3b}{9b^2+1} \cdot \frac{9b^2+3b-3b+1}{3b-1} = \frac{1}{3b-1} - \frac{3b}{3b-1} = \frac{1-3b}{3b-1} = -1.
\end{aligned}$$

Ответ: -1 .

$$\begin{aligned}
89. & \frac{3}{2a-3} - \frac{8a^3-18a}{4a^2+9} \cdot \left(\frac{2a}{4a^2-12a+9} - \frac{3}{4a^2-9}\right) = \\
&= \frac{3}{2a-3} - \frac{2a(4a^2-9)}{4a^2+9} \cdot \left(\frac{2a}{(2a-3)^2} - \frac{3}{(2a-3)(2a+3)}\right) = \\
&= \frac{3}{2a-3} - \frac{2a(2a-3)(2a+3)}{4a^2+9} \cdot \frac{2a(2a+3) - 3(2a-3)}{(2a-3)^2(2a+3)} = \\
&= \frac{3}{2a-3} - \frac{2a(4a^2+6a-6a+9)}{(4a^2+9)(2a-3)} = \frac{3}{2a-3} - \frac{2a}{2a-3} = \frac{3-2a}{2a-3} = -1.
\end{aligned}$$

Ответ: -1 .

$$\begin{aligned} 90. & \left(\frac{2x}{x+1} + \frac{3}{x-4} - \frac{6-4x}{x^2-3x-4} \right) : \frac{2x-3}{x} = \\ & = \left(\frac{2x}{x+1} + \frac{3}{x-4} - \frac{6-4x}{(x+1)(x-4)} \right) \cdot \frac{x}{2x-3} = \\ & = \frac{2x(x-4) + 3(x+1) - (6-4x)}{(x+1)(x-4)} \cdot \frac{x}{2x-3} = \frac{2x^2 - x - 3}{(x+1)(x-4)} \cdot \frac{x}{2x-3} = \\ & = \frac{(x+1)(2x-3)x}{(x+1)(x-4)(2x-3)} = \frac{x}{x-4}. \end{aligned}$$

Ответ: $\frac{x}{x-4}$.

$$\begin{aligned} 91. & \frac{2x-5}{x} : \left(\frac{2x}{x+3} + \frac{2}{x-2} - \frac{21-3x}{(x+3)(x-2)} \right) = \\ & = \frac{(2x-5)}{x} : \frac{(2x(x-2) + 2(x+3) - (21-3x))}{(x+3)(x-2)} = \\ & = \frac{2x-5}{x} : \frac{2x^2 + x - 15}{(x+3)(x-2)} = \\ & = \frac{2x-5}{x} \cdot \frac{(x+3)(x-2)}{(2x-5)(x+3)} = \frac{x-2}{x}. \end{aligned}$$

Ответ: $\frac{x-2}{x}$.

$$\begin{aligned} 92. & \left(\frac{1}{a+2} + \frac{5}{(a+2)(a-3)} + \frac{2a}{a-3} \right) \cdot \frac{a}{2a+1} = \\ & = \frac{a-3+5+2a^2+4a}{(a+2)(a-3)} \cdot \frac{a}{2a+1} = \frac{2a^2+5a+2}{(a+2)(a-3)} \cdot \frac{a}{2a+1} = \\ & = \frac{(2a+1)(a+2)}{(a+2)(a-3)} \cdot \frac{a}{(2a+1)} = \frac{a}{a-3}. \end{aligned}$$

Ответ: $\frac{a}{a-3}$.

$$\begin{aligned} 93. & \left(\frac{2}{b+1} + \frac{10}{(b+1)(b-4)} + \frac{3b}{b-4} \right) : \frac{3b+2}{3} = \\ & = \frac{2b-8+10+3b^2+3b}{(b-4)(b+1)} \cdot \frac{3}{3b+2} = \frac{3b^2+5b+2}{(b-4)(b+1)} \cdot \frac{3}{3b+2} = \end{aligned}$$

$$= \frac{(3b+2)(b+1)}{(b-4)(b+1)} \cdot \frac{3}{3b+2} = \frac{3}{b-4}.$$

Ответ: $\frac{3}{b-4}$.

$$\begin{aligned} 94. & \left(\frac{m^2+3m}{m^2+3m+2} - \frac{m^2-2m}{m^2-2m-3} \right) : \frac{1}{m^2-m-6} - \frac{5}{m+1} = \\ & = \left(\frac{m(m+3)}{(m+1)(m+2)} - \frac{m(m-2)}{(m-3)(m+1)} \right) \cdot (m-3)(m+2) - \frac{5}{m+1} = \\ & = \frac{m(m+3)(m-3)(m+2)}{(m+1)(m+2)} - \frac{m(m-2)(m-3)(m+2)}{(m-3)(m+1)} - \frac{5}{m+1} = \\ & = \frac{m^3-9m-m^3+4m}{m+1} - \frac{5}{m+1} = -\frac{5m}{m+1} - \frac{5}{m+1} = -5. \end{aligned}$$

Ответ: -5 .

$$\begin{aligned} 95. & \left(\frac{m(m+3)}{(m-1)(m+4)} - \frac{m(m-4)}{(m-1)(m-3)} \right) \cdot \frac{(m-3)(m+4)}{m} = \\ & = \frac{m(m+3)(m-3)(m+4)}{(m-1)(m+4) \cdot m} - \frac{m(m-4)(m-3)(m+4)}{(m-1)(m-3) \cdot m} = \\ & = \frac{m^2-9}{m-1} - \frac{m^2-16}{m-1} = \frac{7}{m-1}. \end{aligned}$$

Ответ: $\frac{7}{m-1}$.

100. Так как $(2x^2 + 3y + x + 5)^2 \geq 0$ и $(y + 3 - 2x)^2 \geq 0$, то наименьшее значение выражения $(2x + 3y + x + 5) + (y + 3 - 2x)^2$ будет равно нулю тогда и только тогда, когда $\begin{cases} 2x^2 + 3y + x + 5 = 0, \\ y + 3 - 2x = 0. \end{cases}$ Тогда:

$$\begin{cases} 2x^2 + 3y + x + 5 = 0, \\ y = 2x - 3; \end{cases} \Leftrightarrow 2x^2 + 3(2x-3) + x + 5 = 0 \Leftrightarrow 2x^2 + 7x - 4 = 0.$$

$$x_1 = \frac{1}{2} = 0,5; x_2 = -4. y_1 = -2; y_2 = -11.$$

Ответ: $0; x_1 = 0,5; y_1 = -2; x_2 = -4; y_2 = -11$.

102. Так как $(17 - 4x - 5y)^2 \geq 0$ и $(3x - y - 4,2)^2 \geq 0$, то наименьшее значение выражения $(17 - 4x - 5y)^2 + (3x - y - 4,2)^2 + 3$ будет равно 3 тогда и только тогда, когда $\begin{cases} 17 - 4x - 5y = 0, \\ 3x - y - 4,2 = 0. \end{cases}$ Надо найти x и y , удо-

влетворяющие системе $\begin{cases} 4x + 5y = 17, \\ 3x - y = 4,2. \end{cases}$

Умножим второе уравнение этой системы на 5 и прибавим к первому. Получим: $19x = 38$; $x = 2$.

Из второго уравнения системы $y = 3x - 4,2 = 3 \cdot 2 - 4,2 = 1,8$.

Ответ: 3; $x = 2$; $y = 1,8$.

104. Запишем условие задачи в виде равенства:

$$x + \sqrt{2a - 3b - 1} = \sqrt{4 - (a - 2b)^2}.$$

Поскольку $\sqrt{2a - 3b - 1} \geq 0$ и $(a - 2b)^2 \geq 0$, то левая часть этого равенства не меньше двух, а правая — не больше 2. Равенство верно, когда обе его части равны 2, то есть при $\begin{cases} 2a - 3b - 1 = 0, \\ a = 2b; \end{cases} \Leftrightarrow b = 1, a = 2$.

Ответ: (2; 1).

$$106. \frac{3}{x^2 + 4x - 5} - \frac{5}{x^2 - 8x + 7} = \frac{2}{x - 1},$$

$$\frac{3}{(x-1)(x+5)} - \frac{5}{(x-1)(x-7)} = \frac{2}{x-1}.$$

ОДЗ: $x \neq 1$; $x \neq -5$; $x \neq 7$.

$3x - 21 - 5x - 25 = 2x^2 - 4x - 70$; $2x^2 - 2x - 24 = 0$; $x^2 - x - 12 = 0$; $x_1 = -3$, $x_2 = 4$. Оба корня удовлетворяют ОДЗ.

Ответ: -3; 4.

$$107. \frac{3}{x^2 + x - 6} - \frac{2}{2x^2 - 5x + 2} - \frac{x}{2x^2 + 5x - 3} = 0.$$

Разложив знаменатели дробей на множители, запишем уравнение в виде:

$$\frac{3}{(x+3)(x-2)} - \frac{2}{2(x-2)\left(x-\frac{1}{2}\right)} - \frac{x}{2\left(x-\frac{1}{2}\right)(x+3)} = 0,$$

$$\frac{6\left(x-\frac{1}{2}\right) - 2(x+3) - x(x-2)}{2(x+3)(x-2)\left(x-\frac{1}{2}\right)} = 0; \quad x+3 \neq 0; \quad x-2 \neq 0; \quad x-\frac{1}{2} \neq 0.$$

Умножив обе части уравнения на $2(x+3)(x-2)\left(x-\frac{1}{2}\right)$, получим:

$$-x^2 + 6x - 9 = 0; \quad x^2 - 6x + 9 = 0; \quad (x-3)^2 = 0; \quad x = 3.$$

При $x = 3$ знаменатели дробей, входящих в исходное уравнение, не равны нулю, поэтому $x = 3$ — корень данного уравнения.

Ответ: 3.

108. Запишем уравнение в виде $\frac{x}{2+3x} + \frac{5}{2-3x} = \frac{15x+10}{(2-3x)(2+3x)}$.

ОДЗ: $2-3x \neq 0$; $2+3x \neq 0$, то есть $x \neq \pm \frac{2}{3}$.

Умножим обе части уравнения на $(2-3x)(2+3x) \neq 0$:

$$x(2-3x) + 5(2+3x) = 15x+10; \quad 2x-3x^2+10+15x = 15x+10;$$

$$3x^2-2x=0; \quad x(3x-2)=0; \quad x_1=0, \quad x_2=\frac{2}{3}.$$

Так как $x \neq \pm \frac{2}{3}$, то $x = \frac{2}{3}$ — посторонний корень. Следовательно, исходное уравнение имеет единственный корень $x = 0$.

Ответ: 0.

$$\begin{aligned} 110. \quad & 2x^4 + 3x^3 - 8x^2 - 12x = 0; \quad x(2x^3 + 3x^2 - 8x - 12) = 0; \quad x_1 = 0; \\ & 2x^3 + 3x^2 - 8x - 12 = 0; \quad x^2(2x+3) - 4(2x+3) = 0; \quad (x^2-4)(2x+3) = 0; \\ & x^2-4 = 0; \quad x_2 = 2, \quad x_3 = -2; \quad 2x+3 = 0; \quad 2x = -3; \quad x_4 = -1,5. \end{aligned}$$

Ответ: 0; 2; -2; -1,5.

$$\begin{aligned} 111. \quad & 10x^4 - 45x = 30x^2 - 15x^3; \quad 10x^4 + 15x^3 - 30x^2 - 45x = 0; \\ & 5x^3(2x+3) - 15x(2x+3) = 0; \quad (2x+3)(5x^3-15x) = 0; \quad 2x+3 = 0; \\ & x_1 = -1,5; \\ & 5x^3-15x = 0; \quad 5x(x^2-3) = 0; \quad x_2 = 0; \quad x^2-3 = 0; \quad x^2 = 3; \quad x_3 = -\sqrt{3}, \\ & x_4 = \sqrt{3}. \end{aligned}$$

Ответ: -1,5; 0; $-\sqrt{3}$; $\sqrt{3}$.

$$\begin{aligned} 112. \quad & (x^2+3)^2 + 3 = 7x^3 - 7x^2 + 7x; \quad x^4 + 6x^2 + 9 + 3 - 7x^3 + 7x^2 - 7x = 0; \\ & x^4 - 7x^3 + 13x^2 - 7x + 12 = 0; \quad (x^4 - 7x^3 + 12x^2) + (x^2 - 7x + 12) = 0; \\ & x^2(x^2 - 7x + 12) + (x^2 - 7x + 12) = 0; \quad (x^2+1)(x^2 - 7x + 12) = 0, \\ & x^2+1 > 0; \quad x^2 - 7x + 12 = 0. \end{aligned}$$

По теореме, обратной теореме Виета, $x_1 = 3$, $x_2 = 4$.

Ответ: 3; 4.

$$\begin{aligned} 113. \quad & 5x^3 + 3x^2 - 5x - 3 = 0; \quad (5x^3 + 3x^2) - (5x + 3) = 0; \\ & x^2(5x+3) - (5x+3) = 0; \quad (5x+3)(x^2-1) = 0; \quad 5x+3 = 0; \quad x_1 = -0,6; \\ & x^2-1 = 0; \quad (x-1)(x+1) = 0; \quad x_2 = 1, \quad x_3 = -1. \end{aligned}$$

Ответ: -0,6; 1; -1.

$$\begin{aligned} 114. \quad & x^4 + 2x^3 + 2x^2 + 2x + 1 = 0; \quad (x^4 + 2x^3 + x^2) + (x^2 + 2x + 1) = 0; \\ & x^2(x^2 + 2x + 1) + (x^2 + 2x + 1) = 0; \quad (x^2+1)(x+1)^2 = 0, \quad x^2+1 > 0; \\ & (x+1)^2 = 0; \quad x+1 = 0; \quad x = -1. \end{aligned}$$

Ответ: -1.

$$115. x^4 + 3x^3 + 3x^2 + 3x + 2 = 0;$$

$$(x^4 + 2x^3 + x^2) + (x^3 + 2x^2 + x) + (2x + 2) = 0;$$

$$x^2(x^2 + 2x + 1) + x(x^2 + 2x + 1) + 2(x + 1) = 0;$$

$$x^2(x+1)^2 + x(x+1)^2 + 2(x+1) = 0; (x+1)(x^2(x+1) + x(x+1) + 2) = 0;$$

$$x+1 = 0, x_1 = -1;$$

$$x^3 + x^2 + x^2 + x + 2 = 0; (x^3 + 2x^2) + (x + 2) = 0; x^2(x + 2) + (x + 2) = 0;$$

$$(x + 2)(x^2 + 1) = 0, x^2 + 1 > 0; x + 2 = 0; x_2 = -2.$$

Ответ: $-1; -2$.

$$116. x^6 - 2x^4 + 4x^2 - 8 = 0.$$

Замена $x^2 = t; t \geq 0$. Получим:

$$t^3 - 2t^2 + 4t - 8 = 0; t(t^2 + 4) - 2(t^2 + 4) = 0; (t^2 + 4)(t - 2) = 0.$$

$$t^2 + 4 = 0 \text{ — действительных корней нет; } t - 2 = 0; t = 2.$$

Вернёмся к замене: $x^2 = 2, x_{1,2} = \pm\sqrt{2}$.

Ответ: $\pm\sqrt{2}$.

$$118. (x^2 + 8x + 17)(x^2 - 4x + 7) = 3. \text{ Рассмотрим}$$

$$a) y = x^2 + 8x + 17; x^2 + 8x + 17 = 0; D = 64 - 68 = -4; -4 < 0.$$

$$x_0 = -\frac{8}{2} = -4; y_0 = 16 - 32 + 17 = 1; E(y) = [1; +\infty).$$

$$б) y = x^2 - 4x + 7; x^2 - 4x + 7 = 0; D = 16 - 28 = -12; -12 < 0.$$

$$x_0 = \frac{4}{2} = 2; y_0 = 4 - 8 + 7 = 3; E(y) = [3; +\infty).$$

$$в) \text{ Запишем } x^2 + 8x + 17 = \frac{3}{x^2 - 4x + 7}; E(x^2 + 8x + 17) = [1; +\infty),$$

$$E\left(\frac{3}{x^2 - 4x + 7}\right) = (0; 1].$$

Общее значение только 1, но левая часть равна 1 при $x = -4$, а правая — при $x = 2$, то есть корней уравнение не имеет, следовательно, исходное уравнение корней не имеет.

Ответ: корней нет.

$$119. (x^2 - 6x + 10)(x^2 - 10x + 32) = 7.$$

$$a) \text{ Рассмотрим } y = x^2 - 6x + 10; x^2 - 6x + 10 = 0; D = 36 - 40 = -4; -4 < 0; x_0 = 3; y_0 = 9 - 18 + 10 = 1; E(y) = [1; +\infty).$$

$$б) y = x^2 - 10x + 32; x^2 - 10x + 32 = 0; D = 100 - 128 = -28; -28 < 0; x_0 = 5; y_0 = 25 - 50 + 32 = 7; E(y) = [7; +\infty).$$

$$в) \text{ Запишем в виде } x^2 - 6x + 10 = \frac{7}{x^2 - 10x + 32};$$

$$E(x^2 - 6x + 10) = [1; +\infty); E\left(\frac{7}{x^2 - 10x + 32}\right) = (0; 1].$$

Общее значение только 1, но левая часть равна 1 при $x = 3$, а правая — при $x = 5$. Следовательно, корней нет.

Ответ: корней нет.

120. Преобразуем уравнение $\frac{3}{(x-1)^2} + \frac{2}{(1-x)(1+x)} = \frac{1}{x+1}$.

ОДЗ: $x \neq \pm 1$. Умножив обе части уравнения на $(x-1)^2(x+1)$, получим: $3(x+1) - 2(x-1) = x^2 - 2x + 1$; $x^2 - 3x - 4 = 0$; $x_1 = -1$, $x_2 = 4$. Число $x_1 = -1$ не принадлежит ОДЗ, поэтому решением не является.

Ответ: $x = 4$.

121. Преобразуем уравнение к виду $\frac{4}{(x+3)^2} - \frac{6}{(3-x)(3+x)} = \frac{1}{x-3}$.

ОДЗ: $x \neq \pm 3$. Умножив обе части уравнения на $(x+3)^2(x-3)$, получим: $4(x-3) + 6(x+3) = x^2 + 6x + 9$; $x^2 - 4x + 3 = 0$; $x_1 = 1$, $x_2 = 3$. Число $x_2 = 3$ не принадлежит ОДЗ, поэтому решением не является.

Ответ: $x = 1$.

122. Уравнение прямой, данной в условии задачи, можно записать в виде $y = 2x - 5$. Точка $(x; y)$ является точкой пересечения данных в условии

прямой и параболы тогда и только тогда, когда $\frac{1}{3}x^2 - 2x + 4 = 2x - 5$.

Решим последнее уравнение, умножив обе его части на 3 и применив теорему Виета: $x^2 - 6x + 12 = 6x - 15$; $x^2 - 12x + 27 = 0$; $x_1 = 3$, $x_2 = 9$. Подставляя найденные значения абсцисс точек пересечения в уравнение прямой $y = 2x - 5$, находим ординаты точек пересечения: $y_1 = 1$, $y_2 = 13$.

Ответ: $(3; 1)$, $(9; 13)$.

123. Уравнение прямой, данной в условии задачи, можно записать в виде

$y = -\frac{3}{2}x + \frac{1}{2}$. Точка $(x; y)$ является точкой пересечения данных в условии

прямой и параболы тогда и только тогда, когда $\frac{1}{2}x^2 - \frac{5}{2}x - 7 = -\frac{3}{2}x + \frac{1}{2}$.

Решим последнее уравнение, умножив обе его части на 2 и применив теорему Виета: $x^2 - 5x - 14 = -3x + 1$; $x^2 - 2x - 15 = 0$; $x_1 = -3$, $x_2 = 5$. Подставляя найденные значения абсцисс точек пересечения в уравнение пря-

мой $y = -\frac{3}{2}x + \frac{1}{2}$, находим ординаты точек пересечения: $y_1 = 5$, $y_2 = -7$.

Ответ: $(-3; 5)$, $(5; -7)$.

124. Легко видеть, что число 0 не входит в область определения уравнения. Умножив обе части уравнения на x^2 , получим уравнение, равносильное данному ($x^2 \neq 0$): $x^4 + 2 = 3x^2$. Обозначив $t = x^2$, получаем

уравнение: $t^2 - 3t + 2 = 0$, корнями которого являются $t_1 = 1$, $t_2 = 2$. Таким образом, исходное уравнение равносильно совокупности:

$$\begin{cases} x^2 = 1, \\ x^2 = 2; \end{cases} \Leftrightarrow \begin{cases} x = \pm 1, \\ x = \pm\sqrt{2}; \end{cases}$$

и его целыми корнями являются $x_1 = -1$ и $x_2 = 1$.

Ответ: -1 ; 1 .

125. Уравнение параболы с вершиной в точке $(3; 3)$ и старшим коэффициентом 1 может быть записано в виде $y = (x - 3)^2 + 3 = x^2 - 6x + 12$. Чтобы найти абсциссы точек пересечения этой параболы с прямой $y = 2x$, решим уравнение: $x^2 - 6x + 12 = 2x$; $x^2 - 8x + 12 = 0$; $x_1 = 2$, $x_2 = 6$. Подставляя полученные значения абсцисс точек пересечения в уравнение прямой $y = 2x$, находим ординаты точек пересечения: $y_1 = 4$, $y_2 = 12$.

Ответ: $(2; 4)$, $(6; 12)$.

126. Так как выражение $x^2 + 2$ не обращается в нуль, то, домножив на него обе части исходного уравнения, получим уравнение, равносильное данному: $x^2 - 10 + (x^2 - 2)(x^2 + 2) = x^2 + 2$; $x^4 - 4 = 12$; $x^4 - 16 = 0$; $(x^2 - 4)(x^2 + 4) = 0$; $(x + 2)(x - 2)(x^2 + 4) = 0$; $x^2 + 4 > 0$, $x = \pm 2$.

Ответ: -2 ; 2 .

127. Чтобы найти точки пересечения прямой и окружности, нужно решить систему: $\begin{cases} y - x - 3 = 0, \\ x^2 + y^2 = 9; \end{cases} \Leftrightarrow \begin{cases} y = x + 3, \\ x^2 + y^2 = 9. \end{cases}$

Подставив $y = x + 3$ во второе уравнение, получаем: $x^2 + (x + 3)^2 = 9$, $2x^2 + 6x + 9 = 9$, $2x^2 + 6x = 0$, $x(x + 3) = 0$. Т.е. абсциссы точек пересечения равны $x_1 = -3$, $x_2 = 0$, а ординаты равны $y_1 = -3 + 3 = 0$, $y_2 = 0 + 3 = 3$.

Ответ: $(-3; 0)$, $(0; 3)$.

128. Преобразуем исходное уравнение: $(x - 3)^4 + 2(x - 3)^2 = 3$. Пусть $(x - 3)^2 = t \geq 0$, тогда получим квадратное уравнение $t^2 + 2t - 3 = 0$, $t_1 = -3$ — посторонний корень, $t_2 = 1$. Таким образом, исходное уравнение равносильно уравнению $(x - 3)^2 = 1 \Leftrightarrow \begin{cases} x - 3 = -1, \\ x - 3 = 1, \end{cases} \quad x_1 = 2,$
 $x_2 = 4$.

Ответ: 2 ; 4 .

129. Заметим, что $x^2 + 4x + 4 = (x + 2)^2$. Пусть $(x + 2)^2 = t \geq 0$, тогда имеем: $t^2 + 3t - 4 = 0$, $t_1 = -4$ — посторонний корень, $t_2 = 1$. Таким образом, исходное уравнение равносильно уравнению $(x + 2)^2 = 1 \Leftrightarrow \begin{cases} x + 2 = -1, \\ x + 2 = 1, \end{cases} \quad x_1 = -3, \quad x_2 = -1$.

Ответ: -3 ; -1 .

130. Сделаем замену $\frac{(x^2 - 5)^2}{4} = t$; $t \geq 0$. Тогда $(t - 3)(t + 2) - 6 = 0$, $t^2 - t - 12 = 0$. Решение этого уравнения: $t_1 = 4$; $t_2 = -3$. Второе значение $t = -3$ не подходит, так как $t \geq 0$. Поэтому $t = 4$. Возвращаясь к неизвестной x , имеем $\frac{(x^2 - 5)^2}{4} = 4$; $(x^2 - 5)^2 = 16$. Отсюда $x^2 - 5 = 4$ или $x^2 - 5 = -4$. Решим первое: $x^2 = 9$, $x_{1,2} = \pm 3$. Решим второе: $x^2 = 1$, $x_{3,4} = \pm 1$.

Ответ: ± 1 ; ± 3 .

131. Пусть $\frac{(x^2 - 1)^2}{3} = t$, $t \geq 0$. Тогда $\left(t - \frac{21}{8}\right)\left(t + 5\right) - 3 = 0$; $8t^2 + 19t - 129 = 0$. Решая это уравнение, получим $t_1 = -\frac{43}{8}$, $t_2 = 3$. Значение $t = -\frac{43}{8}$ не подходит, так как $t \geq 0$. Подставим значение $t = 3$ в равенство $\frac{(x^2 - 1)^2}{3} = t$. Получим $\frac{(x^2 - 1)^2}{3} = 3$, $(x^2 - 1)^2 = 9$. Отсюда $x^2 - 1 = \pm 3$.

Значит, $x^2 = 4$ или $x^2 = -2$. Второе уравнение решений не имеет, а первое имеет два решения $x_{1,2} = \pm 2$.

Ответ: ± 2 .

134. Запишем уравнение в виде $x^2 + 2(2\sqrt{2} - 1)x + 2 + \sqrt{2} = 0$. Это квадратное уравнение. Его дискриминант $D = 4(2\sqrt{2} - 1)^2 - 4(2 + \sqrt{2}) = 7 - 5\sqrt{2}$. Так как $49 < 50 \Leftrightarrow 7 < 5\sqrt{2} \Leftrightarrow D = 7 - 5\sqrt{2} < 0$, то уравнение не имеет действительных корней.

Ответ: нет.

136. Запишем уравнение в виде $x^2 + (3 + 2\sqrt{2})x + 8,4 = 0$. Это квадратное уравнение. Его дискриминант $D = (3 + 2\sqrt{2})^2 - 4 \cdot 8,4 = 17 + 12\sqrt{2} - 33,6 = 12\sqrt{2} - 16,6$. Так как $144 \cdot 2 > (16,6)^2 \Leftrightarrow 12\sqrt{2} > 16,6 \Leftrightarrow D = 12\sqrt{2} - 16,6 > 0$, то исходное уравнение имеет действительные корни.

Ответ: да.

138. 1) Это приведённое квадратное уравнение.

По теореме Виета: $x_1 + x_2 = \sqrt{2} + 1 \approx 2,4$ (поскольку $\sqrt{2} \approx 1,4$).

2) Это приведённое квадратное уравнение.

По теореме Виета: $x_1 + x_2 = 2\sqrt{2} \approx 2,8$.

3) Запишем наше уравнение в виде: $x^2 - \sqrt{2}x - \frac{\sqrt{2}}{2} = 0$. Это приведённое квадратное уравнение. По теореме Виета: $x_1 + x_2 = \sqrt{2} \approx 1,4$.

Наименьшую сумму корней имеет третье уравнение.

Ответ: 3.

$$140. \begin{cases} x^2 + y^2 = 29, \\ 3x - 7y = -29. \end{cases}$$

Выразим из второго уравнения системы x через y и подставим в первое уравнение:

$$x = \frac{7y - 29}{3}; \frac{49y^2 - 406y + 841 + 9y^2}{9} = 29; 58y^2 - 406y + 841 = 29 \cdot 9;$$

$$2y^2 - 14y + 29 - 9 = 0; y^2 - 7y + 10 = 0; y_1 = 5, y_2 = 2; x_1 = \frac{35 - 29}{3} = \frac{6}{3} = 2, x_2 = \frac{14 - 29}{3} = -\frac{15}{3} = -5.$$

Ответ: $(-5; 2)$, $(2; 5)$.

$$142. \begin{cases} x^2 - y^2 = 3, \\ xy = 2. \end{cases}$$

Заметим, что если $x = 0$ или $y = 0$, то $xy = 0$, что противоречит условию $xy = 2$, значит, $x \neq 0$, $y \neq 0$.

$$\begin{cases} x^2 - y^2 = 3, \\ y = \frac{2}{x}; \end{cases} \Leftrightarrow \begin{cases} x^2 - \left(\frac{2}{x}\right)^2 = 3, \\ y = \frac{2}{x}; \end{cases} \Leftrightarrow \begin{cases} x^2 - \frac{4}{x^2} = 3, \\ y = \frac{2}{x}. \end{cases}$$

Решим первое уравнение системы:

$$x^2 - \frac{4}{x^2} = 3.$$

Обозначим $x^2 = t$, $t > 0$. Уравнение примет вид:

$$t - \frac{4}{t} = 3; t^2 - 3t - 4 = 0; t_1 = 4, t_2 = -1. \text{ Значение } t = -1 \text{ не удовлетворяет условию } t > 0.$$

Вернёмся к исходной переменной: $x^2 = 4$; $x_1 = 2$; $x_2 = -2$.

Так как $y = \frac{2}{x}$, то $y_1 = 1$, $y_2 = -1$.

Ответ: $(2; 1)$, $(-2; -1)$.

$$\begin{aligned}
 143. \quad & \begin{cases} \frac{1}{x} + \frac{1}{y} = 3, \\ \frac{1}{x^2} - \frac{1}{y^2} = 6; \end{cases} \Leftrightarrow \begin{cases} \frac{1}{x} + \frac{1}{y} = 3, \\ \left(\frac{1}{x} + \frac{1}{y}\right) \cdot \left(\frac{1}{x} - \frac{1}{y}\right) = 6; \end{cases} \Leftrightarrow \\
 & \Leftrightarrow \begin{cases} \frac{1}{x} + \frac{1}{y} = 3, \\ \frac{1}{x} - \frac{1}{y} = 2; \end{cases} \Leftrightarrow \\
 & \Leftrightarrow \begin{cases} \frac{2}{x} = 5, \\ \frac{1}{y} = \frac{1}{x} - 2; \end{cases} \Leftrightarrow \begin{cases} x = \frac{2}{5}, \\ \frac{1}{y} = \frac{1}{2}. \end{cases} \quad \text{Следовательно, } x = \frac{2}{5}, y = 2.
 \end{aligned}$$

Ответ: (0,4; 2).

$$\begin{aligned}
 145. \quad & \begin{cases} y^2 - x^2 = 9, \\ 2x - y = 3; \end{cases} \Leftrightarrow \begin{cases} y^2 - x^2 = 9, \\ y = 2x - 3; \end{cases} \Leftrightarrow \begin{cases} (2x - 3)^2 - x^2 = 9, \\ y = 2x - 3; \end{cases} \Leftrightarrow \\
 & \Leftrightarrow \begin{cases} 4x^2 - 12x + 9 - x^2 - 9 = 0, \\ y = 2x - 3; \end{cases} \Leftrightarrow \begin{cases} 3x^2 - 12x = 0, \\ y = 2x - 3; \end{cases} \Leftrightarrow \\
 & \Leftrightarrow \begin{cases} 3x \cdot (x - 4) = 0, \\ y = 2x - 3; \end{cases} \Leftrightarrow \begin{cases} \begin{bmatrix} x = 0, \\ x = 4, \\ y = 2x - 3; \end{bmatrix} \\ x_1 = 0, y_1 = -3; x_2 = 4, y_2 = 5. \end{cases}
 \end{aligned}$$

Ответ: (0; -3), (4; 5).

146. Сделаем замену в первом уравнении $t = \frac{x}{y}$ и получим $t + \frac{1}{t} = \frac{25}{12}$.

Решаем это уравнение и находим корни $t_1 = \frac{3}{4}$; $t_2 = \frac{4}{3}$. Выражаем y через x , подставляем во второе уравнение и получаем ответ.

Ответ: (3; 4), (4; 3), (-3; -4), (-4; -3).

$$147. \quad \begin{cases} x^2 - y = 0, \\ x + 6 - y = 0; \end{cases} \Leftrightarrow \begin{cases} y = x^2, \\ x^2 + x - 6 = 0; \end{cases} \Rightarrow x_1 = 2, y_1 = 4; x_2 = -3, y_2 = 9.$$

Ответ: (2; 4), (-3; 9).

$$149. \quad \begin{cases} \sqrt{xy} = x + 12, \\ y - x = 48. \end{cases} \quad \text{Пусть искоемые числа } x \text{ и } y, \quad x < y. \text{ Тогда}$$

$$\begin{cases} \sqrt{xy} = x + 12, \\ \frac{x + y}{2} = y - 24. \end{cases} \quad \text{Выразим } y \text{ из второго уравнения: } y = x + 48, \text{ и под-} \\
 \text{ставим его в первое.}$$

1) $\sqrt{x^2 + 48x} = x + 12$. Перейдём к равносильной системе.

$$\begin{cases} x + 12 \geq 0, \\ x^2 + 48x = x^2 + 24x + 144; \end{cases} \Leftrightarrow \begin{cases} x \geq -12, \\ x = 6; \end{cases} \quad x = 6.$$

2) Находим значение второй переменной системы $y = 6 + 48 = 54$.

Итак, $\begin{cases} x = 6, \\ y = 54. \end{cases}$

Ответ: 6 и 54.

$$150. \begin{cases} 2x - \frac{12x + y}{8} = 3, \\ \frac{x - y}{2} + \frac{1}{16} = \frac{y}{3}; \end{cases} \Leftrightarrow \begin{cases} 2x - \frac{12x}{8} - \frac{y}{8} = 3, \\ \frac{x}{2} - \frac{y}{2} - \frac{y}{3} + \frac{1}{16} = 0; \end{cases} \Leftrightarrow$$

$$\Leftrightarrow \begin{cases} \frac{x}{2} = \frac{y}{8} + 3, \\ \frac{x}{2} - \frac{5y}{6} + \frac{1}{16} = 0. \end{cases}$$

Подставив значение $\frac{x}{2}$ из первого уравнения системы во второе, получим:

$$\frac{y}{8} + 3 - \frac{5y}{6} + \frac{1}{16} = 0 \Leftrightarrow -\frac{17y}{24} + \frac{49}{16} = 0 \Leftrightarrow y = \frac{49}{16} \cdot \frac{24}{17} = \frac{147}{34}.$$

Найденное значение y подставим в первое уравнение системы:

$$x = \frac{y}{4} + 6, \quad x = \frac{147}{34 \cdot 4} + 6 = \frac{963}{136}.$$

Ответ: $x = \frac{963}{136}, y = \frac{147}{34}.$

$$151. \begin{cases} \frac{x + y}{5} + 2x = 11, \\ \frac{3y}{5} + \frac{y - x}{15} = \frac{x}{5}; \end{cases} \Leftrightarrow \begin{cases} \left(2 + \frac{1}{5}\right)x + \frac{y}{5} = 11, \\ \left(\frac{3}{5} + \frac{1}{15}\right)y - \left(\frac{1}{15} + \frac{1}{5}\right)x = 0; \end{cases} \Leftrightarrow$$

$$\Leftrightarrow \begin{cases} x = -\frac{y}{11} + 5, \\ y = \frac{2x}{5}. \end{cases}$$

Подставим значение y из второго уравнения системы в первое:

$$x = -\frac{2x}{55} + 5; \quad x = \frac{275}{57}. \quad \text{Тогда } y = \frac{2x}{5} = \frac{110}{57}.$$

$$\text{Ответ: } x = \frac{275}{57}, \quad y = \frac{110}{57}.$$

$$152. \begin{cases} \frac{x-2y}{3} + \frac{11}{3} = 2x, \\ 2 + \frac{y-x}{4} = \frac{y}{7}; \end{cases} \Leftrightarrow \begin{cases} \left(\frac{1}{3} - 2\right)x - \frac{2y}{3} = -\frac{11}{3}, \\ -\frac{1}{4}x + \left(\frac{1}{4} - \frac{1}{7}\right)y = -2; \end{cases} \Leftrightarrow$$

$$\Leftrightarrow \begin{cases} x = \frac{11-2y}{5}, \\ -\frac{1}{4}x + \frac{3y}{28} = -2. \end{cases}$$

Подставим полученное значение x из первого уравнения системы во второе:

$$\frac{1}{4} \cdot \frac{2y-11}{5} + \frac{3y}{28} = -2 \Leftrightarrow -\frac{11}{20} + \frac{y}{10} + \frac{3y}{28} = -2 \Leftrightarrow \frac{29y}{140} = -2 + \frac{11}{20} \Rightarrow y = -7.$$

$$\text{Так как } x = \frac{11-2y}{5}, \text{ то } x = \frac{11+14}{5} = 5.$$

$$\text{Ответ: } x = 5, y = -7.$$

$$153. \begin{cases} \frac{x+3y}{4} - \frac{15}{2} = -\frac{x}{2}, \\ \frac{5y}{2} + 3 = -\frac{x+y}{5}; \end{cases} \Leftrightarrow \begin{cases} \left(\frac{1}{4} + \frac{1}{2}\right)x + \frac{3y}{4} = \frac{15}{2}, \\ \frac{1}{5}x + \left(\frac{5}{2} + \frac{1}{5}\right)y = -3; \end{cases} \Leftrightarrow$$

$$\Leftrightarrow \begin{cases} \frac{3}{4}x = \frac{15}{2} - \frac{3}{4}y, \\ x + \frac{27}{2}y = -15; \end{cases} \Leftrightarrow \begin{cases} x = 10 - y, \\ 10 - y + \frac{27}{2}y = -15; \end{cases} \Leftrightarrow \begin{cases} x = 12, \\ y = -2. \end{cases}$$

$$\text{Ответ: } x = 12, y = -2.$$

154. 1. ОДЗ: $x \neq 0$ и $y \neq 0$.

2. Преобразуем систему уравнений:

$$\begin{cases} \frac{x+y}{xy} = 7, \\ x+y+5xy = 1; \end{cases} \Leftrightarrow \begin{cases} x+y = 7xy, \\ 12xy = 1; \end{cases} \Leftrightarrow$$

$$\Leftrightarrow \begin{cases} x+y = \frac{7}{12}, \\ xy = \frac{1}{12}; \end{cases} \Leftrightarrow \begin{cases} y = \frac{7}{12} - x, \\ 12x^2 - 7x + 1 = 0; \end{cases} \Leftrightarrow \begin{cases} y = \frac{7}{12} - x, \\ \begin{cases} x = \frac{1}{4}, \\ x = \frac{1}{3}; \end{cases} \end{cases} \Leftrightarrow$$

$$\Leftrightarrow \begin{cases} \begin{cases} y = \frac{1}{3}, \\ x = \frac{1}{4}, \end{cases} \\ \begin{cases} y = \frac{1}{4}, \\ x = \frac{1}{3}. \end{cases} \end{cases}$$

Ответ: $(\frac{1}{3}; \frac{1}{4}), (\frac{1}{4}; \frac{1}{3})$.

155. 1. ОДЗ: $x \neq 0$ и $y \neq 0$.

2. Преобразуем систему уравнений: $\begin{cases} \frac{x+y}{xy} = 6, \\ x+y+10xy = 2; \end{cases} \Leftrightarrow$

$$\Leftrightarrow \begin{cases} x+y = 6xy, \\ 16xy = 2; \end{cases} \Leftrightarrow \begin{cases} x+y = \frac{3}{4}, \\ xy = \frac{1}{8}; \end{cases} \Leftrightarrow \begin{cases} y = \frac{3}{4} - x, \\ 8x^2 - 6x + 1 = 0. \end{cases}$$

Решая квадратное уравнение, находим: $x_1 = 0,25$, $x_2 = 0,5$. Значения неизвестной y соответственно равны $y_1 = 0,75 - 0,25 = 0,5$ и $y_2 = 0,75 - 0,5 = 0,25$.

Ответ: $(0,25; 0,5), (0,5; 0,25)$.

156. $\begin{cases} 2x - 6 - 4y - 28 = 1, \\ 6 - 3x + 7y - 7 = 3; \end{cases} \Leftrightarrow \begin{cases} 2x - 4y = 35, \\ -3x + 7y = 4; \end{cases} \Leftrightarrow$

$$\Leftrightarrow \begin{cases} -x + 3y = 39, \\ -3x + 7y = 4; \end{cases} \Leftrightarrow \begin{cases} -x = -3y + 39, \\ -3x + 7y = 4; \end{cases} \Leftrightarrow$$

$$\Leftrightarrow \begin{cases} -x = -3y + 39, \\ -9y + 117 + 7y = 4; \end{cases} \Leftrightarrow \begin{cases} x = 3y - 39, \\ y = \frac{113}{2} = 56,5; \end{cases} \Leftrightarrow \begin{cases} x = 130,5, \\ y = 56,5. \end{cases}$$

Ответ: $(130,5; 56,5)$.

$$157. \begin{cases} 5x + 4y - 2x = 6, \\ x - 2y + 4x = -16; \end{cases} \Leftrightarrow \begin{cases} 3x + 4y = 6, \\ 5x - 2y = -16; \end{cases} \Leftrightarrow \begin{cases} 13x = -26, \\ 2y = 5x + 16; \end{cases} \Leftrightarrow$$

$$\Leftrightarrow \begin{cases} x = -2, \\ y = 3. \end{cases}$$

Ответ: $(-2; 3)$.

158. Выразим y через x из второго уравнения системы и подставим в первое:

$$1) 2x + y = -2 \Rightarrow y = -2 - 2x.$$

$$2) x^2 - y = x^2 + 2x + 2 = 2 \Rightarrow x^2 + 2x = 0.$$

3) Решениями уравнения $x^2 + 2x = 0$ являются $x_1 = -2$, $x_2 = 0$, которым соответствуют $y_1 = 2$; $y_2 = -2$.

Ответ: $(0; -2)$, $(-2; 2)$.

159. Точки, у которых координаты x и y останутся неизменными, удовлетворяют уравнениям $x = x^2$ и $y = y^2$. Получаем систему уравнений:

$$\begin{cases} x = x^2, \\ y = y^2; \end{cases} \Leftrightarrow \begin{cases} x(x-1) = 0, \\ y(y-1) = 0; \end{cases} \Leftrightarrow \begin{cases} \begin{cases} x = 0, \\ x = 1, \\ y = 0, \\ y = 1; \end{cases} \end{cases} \Leftrightarrow \begin{cases} \begin{cases} x = 0, \\ y = 0, \\ x = 0, \\ y = 1, \\ x = 1, \\ y = 0, \\ x = 1, \\ y = 1. \end{cases} \end{cases}$$

Ответ: $(0; 0)$, $(0; 1)$, $(1; 0)$, $(1; 1)$.

160. По теореме, обратной теореме Виета, x и y^2 удовлетворяют квадратному уравнению $z^2 - 7z + 12 = 0$. Откуда $x = 3$, $y^2 = 4$ или $x = 4$, $y^2 = 3$. Значит, решением системы являются пары: $(3; 2)$, $(3; -2)$, $(4; \sqrt{3})$, $(4; -\sqrt{3})$.

Ответ: $(3; 2)$, $(3; -2)$, $(4; \sqrt{3})$, $(4; -\sqrt{3})$.

161. Точки, у которых координаты x и y останутся неизменными, удовлетворяют уравнениям $x = |x|$ и $y = |y|$. Получаем систему уравнений:

$$\begin{cases} x = |x|, \\ y = |y|; \end{cases} \Leftrightarrow \begin{cases} x \geq 0, \\ y \geq 0. \end{cases}$$

Ответ: $x \geq 0, y \geq 0$.

162. Пусть $\frac{1}{x+y} = b$, $\frac{1}{x-y} = a$ ($x \neq \pm y$), тогда имеем систему уравне-

$$\text{ний: } \begin{cases} 9b + 2a = 3, \\ 18b - 5a = -3. \end{cases}$$

Вычитая из второго уравнения первое уравнение, умноженное на 2, получим: $-9a = -9$; $a = 1$. Подставляя $a = 1$ в любое из уравнений последней

системы, находим, что $b = \frac{1}{9}$. Таким образом, исходная система равносильна следующей:

$$\begin{cases} \frac{1}{x-y} = 1, \\ \frac{1}{x+y} = \frac{1}{9}; \end{cases} \Leftrightarrow \begin{cases} x-y = 1, \\ x+y = 9. \end{cases}$$

Решая последнюю систему методом сложения, получаем: $x = 5, y = 4$.

Ответ: (5; 4).

163. Пусть $\frac{1}{x+y} = b, \frac{1}{x-y} = a$ ($x \neq \pm y$), тогда имеем систему уравнений:

$$\begin{cases} 6b + 5a = 7, \\ 3b - 2a = -1. \end{cases}$$

Вычитая из первого уравнения второе уравнение, умноженное на 2, получим: $9a = 9; a = 1$. Подставляя $a = 1$ в любое из уравнений последней системы, находим, что $b = \frac{1}{3}$. Таким образом, исходная система равносильна следующей:

$$\begin{cases} \frac{1}{x-y} = 1, \\ \frac{1}{x+y} = \frac{1}{3}; \end{cases} \Leftrightarrow \begin{cases} x-y = 1, \\ x+y = 3. \end{cases}$$

Решая последнюю систему методом сложения, получаем: $x = 2, y = 1$.

Ответ: (2; 1).

164. Пусть $\frac{1}{x+y} = b, \frac{1}{x-y} = a$ ($x \neq \pm y$), тогда имеем систему уравнений:

$$\begin{cases} 4a + 12b = 3, \\ 8a - 18b = -1. \end{cases}$$

Вычитая из второго уравнения первое уравнение, умноженное на 2, получим: $-42b = -7; b = \frac{1}{6}$. Подставляя $b = \frac{1}{6}$ в любое из уравнений последней

системы, находим, что $a = \frac{1}{4}$.

Таким образом, исходная система равносильна следующей:

$$\begin{cases} \frac{1}{x-y} = \frac{1}{4}, \\ \frac{1}{x+y} = \frac{1}{6}, \end{cases} \Leftrightarrow \begin{cases} x-y=4, \\ x+y=6. \end{cases}$$

Решая последнюю систему методом сложения, получаем: $x=5, y=1$.

Ответ: (5; 1).

165. Пусть $\frac{1}{x+y} = b$, $\frac{1}{x-y} = a$ ($x \neq \pm y$), тогда имеем систему уравнений: $\begin{cases} 6a - 8b = -2, \\ 9a + 10b = 8. \end{cases}$

Умножив первое уравнение на 3 и вычитая из полученного уравнения второе уравнение, умноженное на 2, получим: $-44b = -22$; $b = \frac{1}{2}$. Подстав-

ляя $b = \frac{1}{2}$ в любое из уравнений последней системы, находим, что $a = \frac{1}{3}$.

Таким образом, исходная система равносильна следующей:

$$\begin{cases} \frac{1}{x-y} = \frac{1}{3}, \\ \frac{1}{x+y} = \frac{1}{2}, \end{cases} \Leftrightarrow \begin{cases} x-y=3, \\ x+y=2. \end{cases}$$

Решая последнюю систему методом сложения, получаем: $x=2,5, y=-0,5$.

Ответ: $x=2,5, y=-0,5$.

166. Из второго уравнения системы выразим y через x : $y = x - 7$ (1).

Подставив выражение (1) в первое уравнение системы, получим:

$(3x-7)^2 = 3x-5$; $9x^2 - 42x + 49 = 3x-5$; $9x^2 - 45x + 54 = 0$; $x^2 - 5x + 6 = 0$; $x_1 = 2, x_2 = 3$. Из уравнения (1) находим, что значениям $x_1 = 2, x_2 = 3$ соответствуют значения $y_1 = -5, y_2 = -4$.

Ответ: (2; -5), (3; -4).

$$\begin{aligned} 167. \quad & \begin{cases} (3x-y)^2 = 12-3x+y, \\ x+y=5; \end{cases} \Leftrightarrow \begin{cases} (3x-5+x)^2 = 12-3x+5-x, \\ y=5-x; \end{cases} \Leftrightarrow \\ & \begin{cases} (4x-5)^2 = 17-4x, \\ y=5-x; \end{cases} \Leftrightarrow \begin{cases} 16x^2-36x+8=0, \\ y=5-x; \end{cases} \Leftrightarrow \\ & \begin{cases} 4x^2-9x+2=0 \\ y=5-x. \end{cases} \end{aligned}$$

Решением первого уравнения этой системы являются числа $x_1 = 0,25$; $x_2 = 2$. Подставляя найденные значения x во второе уравнение системы, получаем: $y_1 = 4,75$, $y_2 = 3$.

Ответ: $(0,25; 4,75)$, $(2; 3)$.

$$168. \begin{cases} \frac{x}{y} + 1 = \frac{6y}{x}, \\ x + y = 3. \end{cases} \quad \text{Обозначим } \frac{x}{y} = t (x \neq 0, y \neq 0). \text{ Тогда } t^2 + t - 6 = 0;$$

$$t_1 = 2, t_2 = -3.$$

$$\begin{cases} x = 2y, \\ y = 3 - x, \\ x = -3y, \\ y = 3 - x; \end{cases} \Leftrightarrow \begin{cases} x = 2, \\ y = 1, \\ x = 4,5, \\ y = -1,5. \end{cases}$$

Ответ: $(2; 1)$, $(4,5; -1,5)$.

$$169. \begin{cases} \frac{x}{y} + 3 = \frac{4y}{x}, \\ y - x = 5. \end{cases} \quad \text{Обозначим } \frac{x}{y} = t (x \neq 0, y \neq 0).$$

$$\text{Тогда } t^2 + 3t - 4 = 0;$$

$$t_1 = -4, t_2 = 1.$$

$$\begin{cases} x = -4y, \\ y = 5 + x, \\ x = y, \\ y = 5 + x; \end{cases} \Leftrightarrow \begin{cases} x = -4, \\ y = 1. \end{cases}$$

Ответ: $(-4; 1)$.

170. ОДЗ: $x \neq 0$ и $y \neq 0$.

Преобразуем систему уравнений:

$$\begin{cases} \frac{y-x}{xy} = 1, \\ y-x+11xy = 1; \end{cases} \Leftrightarrow \begin{cases} y-x = xy, \\ 12xy = 1; \end{cases} \Leftrightarrow \begin{cases} y-x = \frac{1}{12}, \\ xy = \frac{1}{12}; \end{cases} \Leftrightarrow$$

$$\Leftrightarrow \begin{cases} y = \frac{1}{12} + x, \\ 12x^2 + x - 1 = 0; \end{cases} \Leftrightarrow \begin{cases} y = \frac{1}{12} + x, \\ x = -\frac{1}{3}, \\ x = \frac{1}{4}; \end{cases} \Leftrightarrow \begin{cases} y = -\frac{1}{4}, \\ x = -\frac{1}{3}, \\ y = \frac{1}{3}, \\ x = \frac{1}{4}. \end{cases}$$

Ответ: $(-\frac{1}{3}; -\frac{1}{4}), (\frac{1}{4}; \frac{1}{3})$.

171. ОДЗ: $x \neq 0$ и $y \neq 0$.

Преобразуем систему уравнений:

$$\begin{cases} \frac{y-x}{xy} = 2, \\ y-x-10xy = -1; \end{cases} \Leftrightarrow \begin{cases} y-x = 2xy, \\ 8xy = 1; \end{cases} \Leftrightarrow \begin{cases} y-x = \frac{1}{4}, \\ xy = \frac{1}{8}; \end{cases} \Leftrightarrow \begin{cases} y = \frac{1}{4} + x, \\ 8x^2 + 2x - 1 = 0. \end{cases}$$

Решая квадратное уравнение, находим: $x_1 = -0,5$, $x_2 = 0,25$. Значения неизвестной y соответственно равны $y_1 = 0,25 - 0,5 = -0,25$; $y_2 = 0,25 + 0,25 = 0,5$.

Ответ: $(-0,5; 0,25), (0,25; 0,5)$.

172. Исходная система равносильна совокупности двух систем:

$$\begin{cases} 3x^2 + 2xy = 9, \\ 2x + y = 5, \\ 3x^2 + 2xy = 9, \\ 2x + y = -5; \end{cases} \Leftrightarrow \begin{cases} 3x^2 + 2x(5-2x) = 9, \\ y = 5-2x, \\ 3x^2 + 2x(-5-2x) = 9, \\ y = -5-2x; \end{cases} \Leftrightarrow \begin{cases} x^2 - 10x + 9 = 0, \\ y = 5-2x, \\ x^2 + 10x + 9 = 0, \\ y = -5-2x; \end{cases} \Leftrightarrow \begin{cases} x = 1, \\ y = 3, \\ x = 9, \\ y = -13, \\ x = -9, \\ y = 13, \\ x = -1, \\ y = -3. \end{cases}$$

Ответ: $(-9; 13), (-1; -3), (1; 3), (9; -13)$.

173. Исходная система равносильна совокупности двух систем:

$$\begin{cases} 2xy + y^2 = 15, \\ x - y = 6 \end{cases} \quad \text{и} \quad \begin{cases} 2xy + y^2 = 15, \\ x - y = -6. \end{cases}$$

$$\begin{aligned} 1) \begin{cases} 2xy + y^2 = 15, \\ x - y = 6; \end{cases} &\Leftrightarrow \begin{cases} y^2 + 4y - 5 = 0, \\ x = 6 + y; \end{cases} \Leftrightarrow \begin{cases} y = -5, \\ x = 1, \\ y = 1, \\ x = 7; \end{cases} \\ 2) \begin{cases} 2xy + y^2 = 15, \\ x - y = -6; \end{cases} &\Leftrightarrow \begin{cases} y^2 - 4y - 5 = 0, \\ x = -6 + y; \end{cases} \Leftrightarrow \begin{cases} y = -1, \\ x = -7, \\ y = 5, \\ x = -1. \end{cases} \end{aligned}$$

Ответ: $(-7; -1), (-1; 5), (1; -5), (7; 1)$.

174. Пусть $t = \frac{x}{y}$ ($x \neq 0, y \neq 0$). Тогда первое уравнение исходной системы принимает вид: $t + \frac{6}{t} - 5 = 0$; $t^2 - 5t + 6 = 0$; $t_1 = 2, t_2 = 3$.

Следовательно, $x = 2y$ или $x = 3y$. Исходная система равносильна совокупности двух систем:

$$\begin{aligned} 1) \begin{cases} x = 2y, \\ 4y^2 + 8y^2 - 3y^2 = 18; \end{cases} &\Leftrightarrow \begin{cases} x = 2y, \\ y^2 = 2; \end{cases} \Leftrightarrow \begin{cases} y = -\sqrt{2}, \\ x = -2\sqrt{2}, \\ y = \sqrt{2}, \\ x = 2\sqrt{2}. \end{cases} \\ 2) \begin{cases} x = 3y, \\ 9y^2 + 12y^2 - 3y^2 = 18; \end{cases} &\Leftrightarrow \begin{cases} x = 3y, \\ y^2 = 1; \end{cases} \Leftrightarrow \begin{cases} y = -1, \\ x = -3, \\ y = 1, \\ x = 3. \end{cases} \end{aligned}$$

Ответ: $(-3; -1), (3; 1), (2\sqrt{2}; \sqrt{2}), (-2\sqrt{2}; -\sqrt{2})$.

175. Пусть $t = \frac{x}{y}$ ($x \neq 0, y \neq 0$). Тогда первое уравнение исходной системы принимает вид: $t - \frac{2}{t} - 1 = 0$; $t^2 - t - 2 = 0$; $t_1 = -1, t_2 = 2$.

Следовательно, $x = -y$ или $x = 2y$. Исходная система равносильна совокупности двух систем:

$$1) \begin{cases} x = -y, \\ y^2 + 5y^2 + 2y^2 = 32; \end{cases} \Leftrightarrow \begin{cases} x = -y, \\ y^2 = 4; \end{cases} \Leftrightarrow \begin{cases} y = -2, \\ x = 2, \\ y = 2, \\ x = -2. \end{cases}$$

$$2) \begin{cases} x = 2y, \\ 4y^2 - 10y^2 + 2y^2 = 32; \end{cases} \Leftrightarrow \begin{cases} x = 2y, \\ y^2 = -8. \end{cases} \quad \text{Эта система не имеет решений.}$$

Ответ: $(2; -2), (-2; 2)$.

$$176. \begin{cases} 3x - y = 8, \\ (3x + y)(9x^2 - y^2) = 128; \end{cases} \Leftrightarrow \begin{cases} 3x - y = 8, \\ (3x + y)^2(3x - y) = 128; \end{cases} \Leftrightarrow$$

$$\Leftrightarrow \begin{cases} 3x - y = 8, \\ (3x + y)^2 = 16; \end{cases} \Leftrightarrow \begin{cases} y = 3x - 8, \\ 3x + y = 4, \\ y = 3x - 8, \\ 3x + y = -4; \end{cases} \Leftrightarrow \begin{cases} y = 3x - 8, \\ 6x = 12, \\ y = 3x - 8, \\ 6x = 4; \end{cases} \Leftrightarrow$$

$$\Leftrightarrow \begin{cases} y = -2, \\ x = 2, \\ y = -6, \\ x = \frac{2}{3}. \end{cases}$$

Ответ: $(2; -2), \left(\frac{2}{3}; -6\right)$.

$$177. \begin{cases} (x^2 - 4y^2)(x - 2y) = 640, \\ x + 2y = 10; \end{cases} \Leftrightarrow \begin{cases} (x - 2y)^2(x + 2y) = 640, \\ x + 2y = 10; \end{cases} \Leftrightarrow$$

$$\Leftrightarrow \begin{cases} (x - 2y)^2 = 64, \\ x = 10 - 2y; \end{cases} \Leftrightarrow \begin{cases} x - 2y = 8, \\ x = 10 - 2y, \\ x - 2y = -8, \\ x = 10 - 2y; \end{cases} \Leftrightarrow$$

$$\Leftrightarrow \begin{cases} 10 - 2y - 2y = 8, \\ x = 10 - 2y, \\ 10 - 2y - 2y = -8, \\ x = 10 - 2y; \end{cases} \Leftrightarrow \begin{cases} y = \frac{1}{2}, \\ x = 9, \\ y = 4\frac{1}{2}, \\ x = 1. \end{cases}$$

Ответ: $(9; 0,5), (1; 4,5)$.

$$\begin{aligned}
 178. \quad & \begin{cases} (x^2 - y^2)(x - y) = 81, \\ x + y = 9; \end{cases} \Leftrightarrow \begin{cases} (x + y)(x - y)^2 = 81, \\ x + y = 9; \end{cases} \Leftrightarrow \\
 & \Leftrightarrow \begin{cases} (x - y)^2 = 9, \\ x + y = 9; \end{cases} \Leftrightarrow \begin{cases} x - y = -3, \\ x = 9 - y, \\ x - y = 3, \\ x = 9 - y; \end{cases} \Leftrightarrow \begin{cases} 9 - y - y = -3, \\ x = 9 - y, \\ 9 - y - y = 3, \\ x = 9 - y; \end{cases} \Leftrightarrow \\
 & \Leftrightarrow \begin{cases} y = 6, \\ x = 3, \\ y = 3, \\ x = 6. \end{cases}
 \end{aligned}$$

Ответ: (6; 3), (3; 6).

$$\begin{aligned}
 179. \quad & \begin{cases} (y^2 - x^2)(y - x) = 75, \\ x - y = -5; \end{cases} \Leftrightarrow \begin{cases} (y - x)^2(y + x) = 75, \\ y - x = 5; \end{cases} \Leftrightarrow \\
 & \begin{cases} y + x = 3, \\ y - x = 5; \end{cases} \Leftrightarrow \begin{cases} y = 4, \\ x = -1. \end{cases}
 \end{aligned}$$

Ответ: (-1; 4).

$$\begin{aligned}
 183. \quad & x - 2 + \frac{2,25}{x+1} \leq 0; \quad \frac{x^2 - 2x + x - 2 + 2,25}{x+1} \leq 0; \quad \frac{(x-0,5)^2}{x+1} \leq 0; \\
 & \begin{cases} x = 0,5, \\ x < -1. \end{cases}
 \end{aligned}$$

Ответ: $(-\infty; -1) \cup \{0,5\}$.

$$184. \quad \frac{\sqrt{x^2 + x - 20}}{4x + 1} \geq \frac{\sqrt{x^2 + x - 20}}{2x + 3}. \quad \text{ОДЗ: } x \neq -\frac{1}{4}; x \neq -\frac{3}{2}.$$

Рассмотрим два случая:

а) $x^2 + x - 20 = 0$. По теореме, обратной теореме Виета, $x_1 = 4$, $x_2 = -5$.

Числа -5 и 4 являются решениями данного неравенства.

$$\begin{aligned}
 б) \quad & \begin{cases} x^2 + x - 20 > 0, \\ \frac{1}{4x+1} - \frac{1}{2x+3} \geq 0; \end{cases} \Leftrightarrow \begin{cases} (x+5)(x-4) > 0 \text{ (см. рис. 1)}, \\ \frac{1-x}{(4x+1)(2x+3)} \leq 0; \end{cases} \Leftrightarrow \\
 & \Leftrightarrow \begin{cases} \begin{bmatrix} x < -5, \\ x > 4, \end{bmatrix} \\ \frac{1-x}{8\left(x+\frac{1}{4}\right)\left(x+\frac{3}{2}\right)} \leq 0 \text{ (см. рис. 2);} \end{cases} \Leftrightarrow \begin{cases} \begin{bmatrix} x < -5, \\ x > 4, \end{bmatrix} \\ \begin{bmatrix} x < -\frac{3}{2}, \\ -\frac{1}{4} < x \leq 1; \end{bmatrix} \end{cases} \Leftrightarrow \\
 & \Leftrightarrow x < -5.
 \end{aligned}$$

Объединим решения, полученные в а) и б):
 $x \in (-\infty; -5] \cup \{4\}$.

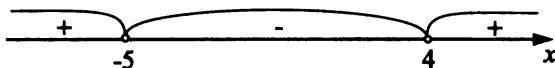


Рис. 1

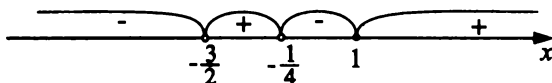


Рис. 2

Ответ: $(-\infty; -5] \cup \{4\}$.

$$185. \frac{2x-1}{\sqrt{-x^2-0,5x+0,5}} \geq \frac{5x+1}{\sqrt{-x^2-0,5x+0,5}}.$$

$$\begin{cases} 2x-1 \geq 5x+1, \\ -x^2-0,5x+0,5 > 0; \end{cases} \Leftrightarrow \begin{cases} x \leq -\frac{2}{3}, \\ x^2+0,5x-0,5 < 0; \end{cases} \Leftrightarrow$$

$$\Leftrightarrow \begin{cases} x \leq -\frac{2}{3}, \\ (x+1)(x-\frac{1}{2}) < 0; \end{cases} \Leftrightarrow -1 < x \leq -\frac{2}{3} \text{ (см. рис. 3).}$$

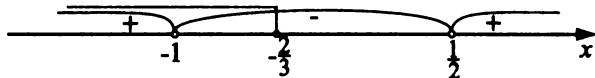


Рис. 3

Ответ: $(-1; -\frac{2}{3}]$.

$$186. x^2 + \frac{1}{x^2} > 7; x^2 + 2 + \frac{1}{x^2} > 9; \left(x + \frac{1}{x}\right)^2 > 9; \left|x + \frac{1}{x}\right| > 3. \text{ Получим}$$

$$x + \frac{1}{x} > 3 \text{ или } x + \frac{1}{x} < -3.$$

$$1) x + \frac{1}{x} - 3 > 0; \frac{x^2 - 3x + 1}{x} > 0; \frac{\left(x - \frac{3 + \sqrt{5}}{2}\right) \left(x - \frac{3 - \sqrt{5}}{2}\right)}{x} > 0;$$

$$\left[\begin{array}{l} 0 < x < \frac{3 - \sqrt{5}}{2}, \\ x > \frac{3 + \sqrt{5}}{2}; \end{array} \right. \quad (\text{см. рис. 4}).$$

$$2) x + \frac{1}{x} + 3 < 0; \frac{x^2 + 3x + 1}{x} < 0; \frac{\left(x - \frac{-3 + \sqrt{5}}{2}\right) \left(x - \frac{-3 - \sqrt{5}}{2}\right)}{x} < 0;$$

$$\left[\begin{array}{l} x < \frac{-3 - \sqrt{5}}{2}, \\ \frac{-3 + \sqrt{5}}{2} < x < 0; \end{array} \right. \quad (\text{см. рис. 5}).$$

Объединяя решения 1 и 2, имеем:

$$\left(-\infty; \frac{-3 - \sqrt{5}}{2}\right) \cup \left(\frac{-3 + \sqrt{5}}{2}; 0\right) \cup \left(0; \frac{3 - \sqrt{5}}{2}\right) \cup \left(\frac{3 + \sqrt{5}}{2}; +\infty\right).$$

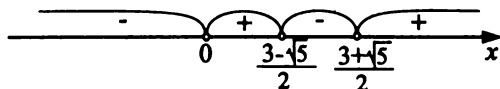


Рис. 4

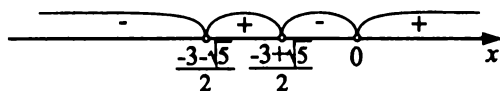


Рис. 5

Ответ: $\left(-\infty; \frac{-3 - \sqrt{5}}{2}\right) \cup \left(\frac{-3 + \sqrt{5}}{2}; 0\right) \cup \left(0; \frac{3 - \sqrt{5}}{2}\right) \cup \left(\frac{3 + \sqrt{5}}{2}; +\infty\right).$

187. Преобразуем данное неравенство: $x^2 + 4 + \frac{4}{x^2} < 9; \left(x + \frac{2}{x}\right)^2 < 3^2.$

Рассмотрим отдельно два случая: $x > 0$ и $x < 0$.

1) Так как при $x > 0 \Rightarrow x + \frac{2}{x} > 0$, то $0 < x + \frac{2}{x} < 3 \Leftrightarrow x^2 - 3x + 2 < 0;$
 $x \in (1; 2).$

2) При рассмотрении случая $x < 0$ достаточно заметить, что функция $y = x + \frac{2}{x}$ нечётна, и, значит, решением неравенства $\left(x + \frac{2}{x}\right)^2 < 3^2$ на отрицательной полуоси будет множество $(-2; -1)$, симметричное множеству $(1; 2)$ относительно нуля.

Ответ: $(-2; -1) \cup (1; 2)$.

$$190. \begin{cases} \frac{6-x}{x+3} \geq 0, \\ \frac{1}{x} \leq -\frac{1}{2}. \end{cases}$$

Решим каждое неравенство системы.

1) $\frac{6-x}{x+3} \geq 0 \Leftrightarrow -3 < x \leq 6$ (см. рис. 6).

2) $\frac{1}{x} \leq -\frac{1}{2}; \frac{1}{x} + \frac{1}{2} \leq 0; \frac{x+2}{2x} \leq 0 \Leftrightarrow -2 \leq x < 0$ (см. рис. 7).

3) Следовательно: $\begin{cases} -3 < x \leq 6, \\ -2 \leq x < 0. \end{cases}$
 $-2 \leq x < 0$ (см. рис. 8).

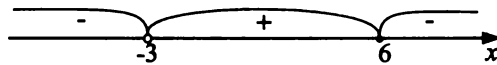


Рис. 6



Рис. 7



Рис. 8

Ответ: $-2 \leq x < 0$.

191. Решим сначала первое неравенство, потом — второе и найдём общее решение.

$$1) x^2 - 4x - 5 < 0; (x+1)(x-5) < 0; -1 < x < 5.$$

$$2) \frac{1}{x} \geq \frac{1}{4}; \frac{1}{x} - \frac{1}{4} \geq 0; \frac{4-x}{4x} \geq 0; \frac{x-4}{x} \leq 0; 0 < x \leq 4.$$

Следовательно, $0 < x \leq 4$ (см. рис. 9).



Рис. 9

Ответ: $(0; 4]$.

$$192. \begin{cases} 2 - \frac{3+2x}{3} > 1 - \frac{x+6}{2}, \\ 3 - \frac{x}{4} < x; \end{cases} \Leftrightarrow \begin{cases} 12 - 6 - 4x > 6 - 3x - 18, \\ 12 - x < 4x; \end{cases} \Leftrightarrow$$

$$\Leftrightarrow \begin{cases} x < 18, \\ x > 2,4; \end{cases} \Leftrightarrow 2,4 < x < 18.$$

Ответ: $2,4 < x < 18$.

$$193. \begin{cases} 1 - \frac{1-x}{2} < 4 - \frac{5+5x}{3}, \\ 2 - \frac{x+8}{4} > 0; \end{cases} \Leftrightarrow \begin{cases} 6 - 3 + 3x < 24 - 10 - 10x, \\ 8 - x - 8 > 0; \end{cases} \Leftrightarrow$$

$$\Leftrightarrow \begin{cases} 13x < 11, \\ x < 0; \end{cases} \Leftrightarrow \begin{cases} x < \frac{11}{13}, \\ x < 0; \end{cases} \Leftrightarrow x < 0.$$

Ответ: $x < 0$.

195. Область определения данного выражения найдём из системы неравенств:

$$\begin{cases} 3x^2 - 20x - 7 \geq 0, \\ 2x^2 + 5x \neq 0, \\ 3x - 21 \neq 0; \end{cases} \Leftrightarrow \begin{cases} 3(x-7)\left(x+\frac{1}{3}\right) \geq 0, \\ x(2x+5) \neq 0, \\ x \neq 7; \end{cases} \Leftrightarrow$$

$$\Leftrightarrow \begin{cases} x \leq -\frac{1}{3}, \\ x \geq 7 \text{ (см. рис. 10)}, \\ x \neq 0, x \neq -2,5, \\ x \neq 7. \end{cases}$$

Таким образом, $x \in (-\infty; -2,5) \cup \left(-2,5; -\frac{1}{3}\right] \cup (7; +\infty)$.

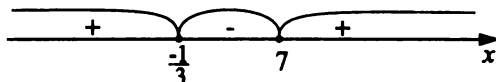


Рис. 10

Ответ: $(-\infty; -2,5) \cup \left(-2,5; -\frac{1}{3}\right] \cup (7; +\infty)$.

196. Область определения данного выражения найдём из системы неравенств:

$$\begin{cases} x^2 - 4x - 21 \geq 0, \\ x^2 - 25 \neq 0; \end{cases} \Leftrightarrow \begin{cases} (x+3)(x-7) \geq 0, \\ x^2 \neq 25; \end{cases} \Leftrightarrow \begin{cases} x \leq -3, \\ x \geq 7, \\ x \neq 5, x \neq -5. \end{cases}$$

Таким образом, $x \in (-\infty; -5) \cup (-5; -3] \cup [7; +\infty)$ (см. рис. 11).



Рис. 11

Ответ: $(-\infty; -5) \cup (-5; -3] \cup [7; +\infty)$.

197. Исходное выражение имеет смысл при x , удовлетворяющих условию $x^2 - 3x + 2 > 0$; $(x-1)(x-2) > 0$ (см. рис. 12). Следовательно, $x \in (-\infty; 1) \cup (2; +\infty)$.

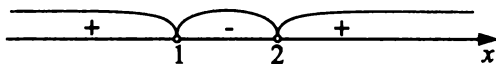


Рис. 12

Ответ: $(-\infty; 1) \cup (2; +\infty)$.

198. Исходное выражение имеет смысл при x , удовлетворяющих системе неравенств:

$$\begin{cases} x^2 + 2x + 1 \geq 0, \\ 14 - 3x \neq 0; \end{cases} \Leftrightarrow \begin{cases} (x+1)^2 \geq 0, \\ x \neq \frac{14}{3}; \end{cases} \Leftrightarrow x \neq \frac{14}{3}.$$

Таким образом, область определения: $(-\infty; \frac{14}{3}) \cup (\frac{14}{3}; +\infty)$.

Ответ: $(-\infty; \frac{14}{3}) \cup (\frac{14}{3}; +\infty)$.

199. Исходное выражение имеет смысл при x , удовлетворяющих системе неравенств:

$$\begin{cases} x + 12 - x^2 \geq 0, \\ 4 - x^2 \neq 0; \end{cases} \Leftrightarrow \begin{cases} (x+3)(x-4) \leq 0, \\ x^2 \neq 4; \end{cases} \Leftrightarrow \begin{cases} -3 \leq x \leq 4, \\ x \neq 2, x \neq -2. \end{cases}$$

(см. рис. 13). Таким образом, $x \in [-3; -2) \cup (-2; 2) \cup (2; 4]$.

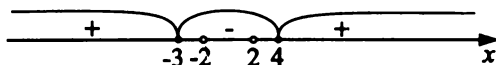


Рис. 13

Ответ: $[-3; -2) \cup (-2; 2) \cup (2; 4]$.

200. Выражение имеет смысл при x , удовлетворяющих следующим условиям:

$$\begin{cases} x - 5 \geq 0, \\ x^2 - 36 \geq 0, \\ x^2 - 49 \neq 0; \end{cases} \Leftrightarrow \begin{cases} x \geq 5, \\ \begin{cases} x \leq -6, \\ x \geq 6, \end{cases} \\ x \neq 7, x \neq -7; \end{cases} \Leftrightarrow \begin{cases} 6 \leq x < 7, \\ x > 7. \end{cases}$$

Ответ: $[6; 7) \cup (7; +\infty)$.

202. Выражение $\sqrt{2x^2 + 9x - 35}$ не имеет смысла, если $2x^2 + 9x - 35 < 0$; $2(x+7)(x-2,5) < 0$ (см. рис. 14); $-7 < x < 2,5$.

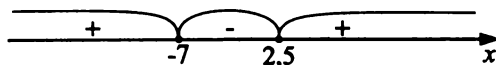


Рис. 14

Ответ: $(-7; 2,5)$.

203. Выражение $\sqrt{16 - 2x - 3x^2}$ имеет смысл, если $16 - 2x - 3x^2 \geq 0$; $3x^2 + 2x - 16 \leq 0$; $3(x - 2)\left(x + 2\frac{2}{3}\right) \leq 0$; $-2\frac{2}{3} \leq x \leq 2$ (см. рис. 15).

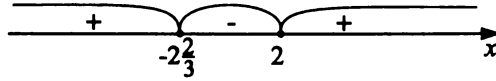


Рис. 15

Ответ: $\left[-2\frac{2}{3}; 2\right]$.

204. Выражение имеет смысл при x , удовлетворяющих условию:

$\frac{20x - 11x^2 - 3x^3}{x} \geq 0$; $\frac{3x\left(x - \frac{4}{3}\right)(x + 5)}{x} \leq 0$; $x \in [-5; 0) \cup \left(0; \frac{4}{3}\right]$ (см. рис. 16).

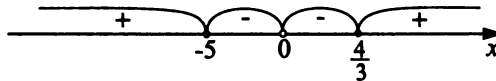


Рис. 16

Ответ: $[-5; 0) \cup \left(0; \frac{4}{3}\right]$.

206. Выражение не определено, если выполняются условия:

$$\begin{cases} x + 3 = 0, \\ 2x^2 - 11x + 12 \leq 0; \end{cases} \Leftrightarrow \begin{cases} x = -3, \\ 2(x - 4)(x - 1,5) \leq 0; \end{cases} \Leftrightarrow \begin{cases} x = -3, \\ 1,5 \leq x \leq 4. \end{cases}$$

(см. рис. 17).



Рис. 17

Ответ: $\{-3\} \cup [1,5; 4]$.

209.
$$\begin{cases} y < 1, \\ y > x - 5, \\ y > 3 - 3x. \end{cases}$$

Построим графики функций $y = 1$, $y = x - 5$, $y = -3x + 3$ (см. рис. 18). Решением системы неравенств является внутренняя область $\triangle ABC$. Целочисленные решения отмечены точками. Это $(2; -2)$, $(2; -1)$, $(2; 0)$, $(3; -1)$, $(3; 0)$, $(4; 0)$.

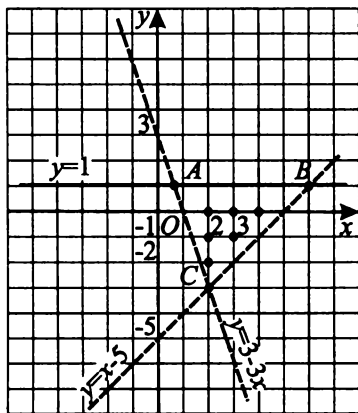


Рис. 18

Ответ: $(2; -2)$, $(2; -1)$, $(2; 0)$, $(3; -1)$, $(3; 0)$, $(4; 0)$.

$$210. \begin{cases} \frac{6-x}{2} - 4 < \frac{2+3x}{5} - 1, \\ x - \frac{6-x}{2} < \frac{x}{3}; \end{cases} \Leftrightarrow \begin{cases} 30 - 5x - 40 < 4 + 6x - 10, \\ 6x - 18 + 3x < 2x; \end{cases} \Leftrightarrow$$

$$\Leftrightarrow \begin{cases} -11x < 4, \\ 7x < 18; \end{cases} \Leftrightarrow \begin{cases} x > -\frac{4}{11}, \\ x < \frac{18}{7}; \end{cases} \Leftrightarrow -\frac{4}{11} < x < 2\frac{4}{7}.$$

0, 1, 2 — целые числа, удовлетворяющие системе неравенств.

Ответ: 0; 1; 2.

$$211. \begin{cases} \frac{6x+1}{3} - \frac{5x-1}{2} \leq \frac{10-x}{5}, \\ 3 - \frac{2x}{3} \geq 1 - \frac{x}{6}; \end{cases} \Leftrightarrow$$

$$\Leftrightarrow \begin{cases} 60x + 10 - 75x + 15 \leq 60 - 6x, \\ 18 - 4x \geq 6 - x; \end{cases} \Leftrightarrow$$

$$\Leftrightarrow \begin{cases} 60x - 75x + 6x \leq 60 - 10 - 15, \\ -4x + x \geq 6 - 18; \end{cases} \Leftrightarrow$$

$$\Leftrightarrow \begin{cases} -9x \leq 35, \\ -3x \geq -12; \end{cases} \Leftrightarrow \begin{cases} x \geq -\frac{35}{9}, \\ x \leq 4; \end{cases} \Leftrightarrow -3\frac{8}{9} \leq x \leq 4.$$

Целые числа, удовлетворяющие системе неравенств $-3; -2; -1; 0; 1; 2; 3; 4$.

Ответ: $-3; -2; -1; 0; 1; 2; 3; 4$.

212. $(x^2 - 3x + 2)^4 \leq 0 \Leftrightarrow x^2 - 3x + 2 = 0; x_1 = 1, x_2 = 2$. Подставляя полученные значения во второе неравенство системы, убеждаемся в том, что x_1 не является, а x_2 является его решением.

Ответ: 2.

213. $(x^2 - 13x + 42)^2 \leq 0 \Leftrightarrow x^2 - 13x + 42 = 0; x_1 = 6, x_2 = 7$. Подставляя полученные значения во второе неравенство системы, убеждаемся в том, что x_2 не является решением, а x_1 является решением.

Ответ: 6.

214. $(x^2 - 16x + 63)^2 \leq 0 \Leftrightarrow x^2 - 16x + 63 = 0; x_1 = 7, x_2 = 9$. Подставляя полученные значения во второе неравенство системы, убеждаемся в том, что x_2 не является решением, а x_1 является решением.

Ответ: 7.

215. $(x^2 - 4x + 3)^2 \leq 0 \Leftrightarrow x^2 - 4x + 3 = 0; x_1 = 1, x_2 = 3$. Подставляя полученные значения во второе неравенство системы, убеждаемся в том, что x_1 не является решением, а x_2 является решением.

Ответ: 3.

216. 1) Первое неравенство системы эквивалентно уравнению

$$\frac{2}{x^2 - 2x - 1} + 2x^2 - 4x - 7 = 0.$$

Преобразуем уравнение к виду $\frac{2}{x^2 - 2x - 1} + 2(x^2 - 2x - 1) - 5 = 0$ и сделаем замену $t = x^2 - 2x - 1, t \neq 0$. Тогда уравнение примет вид: $\frac{2}{t} + 2t - 5 = 0; 2t^2 - 5t + 2 = 0; t_1 = \frac{1}{2}, t_2 = 2$.

Если $t = \frac{1}{2}$, то $x^2 - 2x - 1 = \frac{1}{2}; x_1 = 1 - \frac{1}{2}\sqrt{10}, x_2 = 1 + \frac{1}{2}\sqrt{10}$.

Если $t = 2$, то $x^2 - 2x - 1 = 2; x_3 = -1, x_4 = 3$.

$$2) x^2 - 2x - 3 \geq 0 \Leftrightarrow x^2 - 2x - 3 = 0 \Leftrightarrow \begin{cases} x \leq -1, \\ x \geq 3. \end{cases}$$

3) Учитывая, что $2 < \sqrt{10} < 3$, получаем, что $1 < \frac{1}{2}\sqrt{10} < 1,5$. Таким образом, $-1 < x_1 < 0$, $2 < x_2 < 3$, следовательно, $x_1 = 1 - \frac{1}{2}\sqrt{10}$, $x_2 = 1 + \frac{1}{2}\sqrt{10}$ не являются решениями второго неравенства, а значит, и решениями системы. Очевидно, что $x_3 = -1$, $x_4 = 3$ являются решениями второго неравенства, а значит, и решениями системы.

Ответ: $-1; 3$.

217. 1) Первое неравенство системы эквивалентно уравнению

$$2x^2 - 10x + 9 - \frac{2}{x^2 - 5x + 6} = 0.$$

Преобразуем уравнение к виду $2(x^2 - 5x + 6) - \frac{2}{x^2 - 5x + 6} - 3 = 0$ и сделаем замену $t = x^2 - 5x + 6$, $t \neq 0$. Тогда уравнение примет вид: $2t - \frac{2}{t} - 3 = 0$; $2t^2 - 3t - 2 = 0$; $t_1 = -\frac{1}{2}$, $t_2 = 2$.

Если $t = -\frac{1}{2}$, то $x^2 - 5x + 6 = -\frac{1}{2}$, решений нет.

Если $t = 2$, то $x^2 - 5x + 6 = 2$; $x_1 = 1$, $x_2 = 4$.

2) Решим неравенство $x^2 - 7x + 10 \leq 0 \Leftrightarrow (x-2)(x-5) \leq 0 \Leftrightarrow 2 \leq x \leq 5$.

3) Очевидно, что $x_1 = 1$ не является решением второго неравенства, а значит, и решением системы; $x_2 = 4$ является решением второго неравенства, а значит, и решением системы.

Ответ: 4.

$$\begin{aligned} 218. \quad & \begin{cases} (x^2 + 5x)^2 - 12(x^2 + 5x) + 36 \leq 0, \\ (x^2 - 2x - 15)^2 \leq 900; \end{cases} \Leftrightarrow \\ & \Leftrightarrow \begin{cases} (x^2 + 5x - 6)^2 \leq 0, \\ (x^2 - 2x - 15)^2 \leq 900; \end{cases} \Leftrightarrow \begin{cases} x^2 + 5x - 6 = 0, \\ (x^2 - 2x - 15)^2 \leq 900; \end{cases} \Leftrightarrow \\ & \Leftrightarrow \begin{cases} \begin{cases} x = 1, \\ x = -6, \end{cases} \\ (x^2 - 2x - 15)^2 \leq 900; \end{cases} \Leftrightarrow \begin{cases} \begin{cases} x = 1, \\ (x^2 - 2x - 15)^2 \leq 900; \\ x = -6, \\ (x^2 - 2x - 15)^2 \leq 900; \end{cases} \end{cases} \Leftrightarrow x = 1. \end{aligned}$$

Ответ: 1.

$$219. \quad \begin{cases} (x^2 + 3x - 5)^2 - (10x^2 + 30x - 50) + 25 \geq 0, \\ (x^2 - x - 4)^2 \leq 625; \end{cases} \Leftrightarrow$$

$$\begin{aligned}
&\Leftrightarrow \left\{ \begin{array}{l} (x^2 + 3x - 5)^2 - 10(x^2 + 3x - 5) + 25 \geq 0, \\ (x^2 - x - 4)^2 \leq 625; \end{array} \right. \Leftrightarrow \\
&\Leftrightarrow \left\{ \begin{array}{l} (x^2 + 3x - 10)^2 \geq 0, \\ (x^2 - x - 4)^2 \leq 625; \end{array} \right. \Leftrightarrow \left\{ \begin{array}{l} x = 2, \\ x = -5, \\ (x^2 - x - 4)^2 \leq 625; \end{array} \right. \Leftrightarrow \\
&\Leftrightarrow \left\{ \begin{array}{l} x = 2, \\ (x^2 - x - 4)^2 \leq 625, \\ x = -5, \\ (x^2 - x - 4)^2 \leq 625; \end{array} \right. \Leftrightarrow x = 2.
\end{aligned}$$

Ответ: 2.

220. Левая часть первого неравенства системы всегда неотрицательна. Значит, неравенство имеет решение тогда и только тогда, когда $(x - 2)^2(x^2 + 2x - 1)^2 = 0$. Произведение множителей равно нулю, если хотя бы один из них равен нулю. Таким образом, решением первого неравенства системы являются корни уравнений $x - 2 = 0$ и $x^2 + 2x - 1 = 0$: $x_1 = 2$, $x_2 = -1 + \sqrt{2}$, $x_3 = -1 - \sqrt{2}$. Из них только $x_2 = -1 + \sqrt{2}$ удовлетворяет второму неравенству системы.

Ответ: $-1 + \sqrt{2}$.

221. Левая часть первого неравенства системы всегда неотрицательна, так как $4x^2 - 4x + 1 = (2x - 1)^2$. Следовательно, x является решением первого неравенства тогда и только тогда, когда

$$(2x - 1)^2(x^2 + 2x - 4)^2 = 0 \Leftrightarrow \left\{ \begin{array}{l} 2x - 1 = 0, \\ x^2 + 2x - 4 = 0; \end{array} \right. \Leftrightarrow \left\{ \begin{array}{l} x = 0,5, \\ x = -1 + \sqrt{5}, \\ x = -1 - \sqrt{5}. \end{array} \right.$$

Подстановкой убеждаемся, что из чисел 0,5; $-1 + \sqrt{5}$; $-1 - \sqrt{5}$ лишь последнее удовлетворяет второму неравенству системы.

Ответ: $-1 - \sqrt{5}$.

222. Проведём следующие преобразования данного неравенства:

$$x^4 - 4x^3 + 4x^2 \geq 4; \quad x^2(x^2 - 4x + 4) \geq 4; \quad x^2(x - 2)^2 \geq 4.$$

Последнее неравенство равносильно совокупности:

$$\begin{aligned}
&\left[\begin{array}{l} x(x - 2) \geq 2, \\ x(x - 2) \leq -2; \end{array} \right. \Leftrightarrow \left[\begin{array}{l} x^2 - 2x - 2 \geq 0, \\ x^2 - 2x + 2 \leq 0; \end{array} \right. \Leftrightarrow \\
&\Leftrightarrow \left[\begin{array}{l} (x - (1 - \sqrt{3}))(x - 1 - \sqrt{3}) \geq 0, \\ (x - 1)^2 + 1 \leq 0; \end{array} \right. \Leftrightarrow \left[\begin{array}{l} x \leq 1 - \sqrt{3}, \\ x \geq 1 + \sqrt{3}. \end{array} \right.
\end{aligned}$$

Ответ: $(-\infty; 1 - \sqrt{3}] \cup [1 + \sqrt{3}; +\infty)$.

223. Проведём следующие преобразования данного неравенства:

$$x^4 - 12x^3 + 36x^2 \geq 81; \quad x^2(x^2 - 12x + 36) \geq 81; \quad x^2(x - 6)^2 \geq 81.$$

Последнее неравенство равносильно совокупности:

$$\begin{aligned} & \left[\begin{array}{l} x(x-6) \geq 9, \\ x(x-6) \leq -9; \end{array} \right] \Leftrightarrow \left[\begin{array}{l} x^2 - 6x - 9 \geq 0, \\ x^2 - 6x + 9 \leq 0; \end{array} \right] \Leftrightarrow \left[\begin{array}{l} x \leq 3 - 3\sqrt{2}, \\ x \geq 3 + 3\sqrt{2}, \\ (x-3)^2 \leq 0; \end{array} \right] \Leftrightarrow \\ & \Leftrightarrow \left[\begin{array}{l} x \leq 3 - 3\sqrt{2}, \\ x \geq 3 + 3\sqrt{2}, \\ x = 3. \end{array} \right] \end{aligned}$$

$$\text{Ответ: } (-\infty; 3 - 3\sqrt{2}] \cup [3 + 3\sqrt{2}; +\infty) \cup \{3\}.$$

$$224. (2x^2 - x)^2 < 1 \Leftrightarrow |2x^2 - x| < 1 \Leftrightarrow \begin{cases} 2x^2 - x < 1, \\ 2x^2 - x > -1; \end{cases} \Leftrightarrow$$

$$\Leftrightarrow \begin{cases} 2x^2 - x - 1 < 0, \\ 2x^2 - x + 1 > 0; \end{cases} \Leftrightarrow -0,5 < x < 1.$$

$$\text{Ответ: } (-0,5; 1).$$

225. $|x+1| \geq 0$, $|x| \geq 0$, поэтому равенство $|x+1| + |x| = 0$ невозможно ($|x+1|$ и $|x|$ не обращаются в нуль одновременно). Следовательно, $|x+1| + |x| > 0$ при всех x . Умножив обе части исходного неравенства на $|x+1| + |x|$, получим: $(|x+1| - |x|)^2 (|x+1| + |x|)^2 < 1$; $(|x+1|^2 - |x|^2)^2 < 1$;

$$\begin{aligned} & ((x+1)^2 - x^2)^2 < 1; \quad (2x+1)^2 < 1 \Leftrightarrow |2x+1| < 1; \quad \begin{cases} 2x+1 < 1, \\ 2x+1 > -1; \end{cases} \\ & \begin{cases} x < 0, \\ x > -1. \end{cases} \end{aligned}$$

$$\text{Ответ: } (-1; 0).$$

$$\begin{aligned} 226. & \begin{cases} \sqrt{x^2 + 4x + 3} \geq 0, \\ \sqrt{(x^2 - 5x + 5)^2} \leq 1; \end{cases} \Leftrightarrow \begin{cases} x^2 + 4x + 3 \geq 0, \\ |x^2 - 5x + 5| \leq 1; \end{cases} \Leftrightarrow \\ & \Leftrightarrow \begin{cases} x^2 + 4x + 3 \geq 0, \\ x^2 - 5x + 5 \geq -1, \end{cases} \Leftrightarrow \begin{cases} x^2 + 4x + 3 \geq 0, \\ x^2 - 5x + 6 \geq 0, \end{cases} \Leftrightarrow \begin{cases} (x+1)(x+3) \geq 0, \\ (x-2)(x-3) \geq 0, \\ (x-1)(x-4) \leq 0; \end{cases} \\ & \Leftrightarrow \begin{cases} x \leq -3, \\ x \geq -1, \\ 1 \leq x \leq 2, \\ 3 \leq x \leq 4; \end{cases} \Leftrightarrow \begin{cases} 1 \leq x \leq 2, \\ 3 \leq x \leq 4. \end{cases} \end{aligned}$$

$$\text{Ответ: } [1; 2] \cup [3; 4].$$

$$227. \begin{cases} \sqrt{5x+6-x^2} \geq 0, \\ \sqrt{(x^2-8x+11)^2} \leq 4; \end{cases} \Leftrightarrow \begin{cases} 5x+6-x^2 \geq 0, \\ |x^2-8x+11| \leq 4; \end{cases} \Leftrightarrow$$

$$\Leftrightarrow \begin{cases} x^2 - 5x - 6 \leq 0, \\ x^2 - 8x + 11 \geq -4, \\ x^2 - 8x + 11 \leq 4; \end{cases} \Leftrightarrow \begin{cases} (x-6)(x+1) \leq 0, \\ (x-5)(x-3) \geq 0, \\ (x-1)(x-7) \leq 0; \end{cases} \Leftrightarrow$$

$$\Leftrightarrow \begin{cases} -1 \leq x \leq 6, \\ \begin{cases} x \leq 3, \\ x \geq 5, \end{cases} \\ 1 \leq x \leq 7; \end{cases} \Leftrightarrow \begin{cases} -1 \leq x \leq 6, \\ \begin{cases} 1 \leq x \leq 3, \\ 5 \leq x \leq 7; \end{cases} \end{cases} \Leftrightarrow \begin{cases} 1 \leq x \leq 3, \\ 5 \leq x \leq 6. \end{cases}$$

Ответ: $[1; 3] \cup [5; 6]$.

$$228. \begin{cases} \sqrt{-x^2 + 3,5x + 4,5} \geq 0, \\ \sqrt{(x^2 - 7x + 11)^2} \geq 1; \end{cases} \Leftrightarrow \begin{cases} \sqrt{-x^2 + 3,5x + 4,5} \geq 0, \\ |x^2 - 7x + 11| \geq 1; \end{cases} \Leftrightarrow$$

$$\Leftrightarrow \begin{cases} -(x-4,5)(x+1) \geq 0, \\ \begin{cases} x^2 - 7x + 11 \leq -1, \\ x^2 - 7x + 11 \geq 1; \end{cases} \end{cases} \Leftrightarrow \begin{cases} (x-4,5)(x+1) \leq 0, \\ \begin{cases} (x-4)(x-3) \leq 0, \\ (x-2)(x-5) \geq 0; \end{cases} \end{cases} \Leftrightarrow$$

$$\Leftrightarrow \begin{cases} -1 \leq x \leq 4,5, \\ \begin{cases} 3 \leq x \leq 4, \\ \begin{cases} x \leq 2, \\ x \geq 5; \end{cases} \end{cases} \end{cases} \Leftrightarrow \begin{cases} -1 \leq x \leq 2, \\ 3 \leq x \leq 4. \end{cases}$$

Ответ: $[-1; 2] \cup [3; 4]$.

$$229. \begin{cases} \sqrt{-x^2 - 4,5x + 5,5} \geq 0, \\ \sqrt{(x^2 + 6x + 6,5)^2} \geq 1,5; \end{cases} \Leftrightarrow \begin{cases} -x^2 - 4,5x + 5,5 \geq 0, \\ |x^2 + 6x + 6,5| \geq 1,5; \end{cases} \Leftrightarrow$$

$$\Leftrightarrow \begin{cases} -(x+5,5)(x-1) \geq 0, \\ \begin{cases} x^2 + 6x + 6,5 \leq -1,5, \\ x^2 + 6x + 6,5 \geq 1,5; \end{cases} \end{cases} \Leftrightarrow \begin{cases} (x+5,5)(x-1) \leq 0, \\ \begin{cases} (x+4)(x+2) \leq 0, \\ (x+1)(x+5) \geq 0; \end{cases} \end{cases} \Leftrightarrow$$

$$\Leftrightarrow \begin{cases} -5,5 \leq x \leq 1, \\ \begin{cases} -4 \leq x \leq -2, \\ \begin{cases} x \leq -5, \\ x \geq -1; \end{cases} \end{cases} \end{cases} \Leftrightarrow \begin{cases} -5,5 \leq x \leq -5 \\ -1 \leq x \leq 1, \\ -4 \leq x \leq -2. \end{cases}$$

Ответ: $[-5,5; -5] \cup [-4; -2] \cup [-1; 1]$.

230. 1) Сделаем замену в первом неравенстве системы: $t = x^2 - 4x - 3$, $t \neq 0$. Тогда неравенство примет вид: $t^2 - 8 + \frac{16}{t^2} \leq 0$; $\left(t - \frac{4}{t}\right)^2 \leq 0$.

Следовательно, $t - \frac{4}{t} = 0$; $t^2 - 4 = 0$; $t_1 = -2$, $t_2 = 2$.

Если $t = -2$, то $x^2 - 4x - 3 = -2$; $x_1 = 2 - \sqrt{5}$, $x_2 = 2 + \sqrt{5}$.
 Если $t = 2$, то $x^2 - 4x - 3 = 2$; $x_3 = -1$, $x_4 = 5$.

$$2) x^2 - 4x - 5 \geq 0 \Leftrightarrow (x+1)(x-5) \geq 0 \Leftrightarrow \begin{cases} x \leq -1, \\ x \geq 5. \end{cases}$$

3) Учитывая, что $2 < \sqrt{5} < 3$, получаем: $-1 < x_1 < x_2 < 5$, следовательно, $x_1 = 2 - \sqrt{5}$, $x_2 = 2 + \sqrt{5}$ не являются решениями системы. Очевидно, что $x_3 = -1$, $x_4 = 5$ являются решениями второго неравенства, а значит, и решениями системы.

Ответ: -1 ; 5 .

231. 1) Сделаем замену в первом неравенстве системы: $t = x^2 - 3x + 5$, $t \neq 0$. Тогда неравенство примет вид: $t^2 - 18 + \frac{81}{t^2} \leq 0$; $\left(t - \frac{9}{t}\right)^2 \leq 0$.

Следовательно, $t - \frac{9}{t} = 0$; $t^2 - 9 = 0$; $t_1 = -3$, $t_2 = 3$.

Если $t = -3$, то $x^2 - 3x + 5 = -3$; решений нет.

Если $t = 3$, то $x^2 - 3x + 5 = 3$; $x_1 = 1$, $x_2 = 2$.

$$2) x^2 + x - 2 \leq 0 \Leftrightarrow (x+2)(x-1) \leq 0 \Leftrightarrow -2 \leq x \leq 1.$$

3) Очевидно $x_2 = 2$ не является решением второго неравенства, а $x_1 = 1$ является решением второго неравенства, а значит, и решением системы.

Ответ: 1 .

232. 1) При $x^2 - 4 \neq 0$ исходное неравенство равносильно системе

$$\begin{cases} x^2 - 4 > 0, \\ x^2 + 2x - 15 \geq 0; \end{cases} \Leftrightarrow \begin{cases} (x-2)(x+2) > 0, \\ (x-3)(x+5) \geq 0; \end{cases} \Leftrightarrow \begin{cases} x < -2, \\ x > 2, \\ x \leq -5, \\ x \geq 3; \end{cases} \Leftrightarrow \begin{cases} x \leq -5, \\ x \geq 3. \end{cases}$$

2) При $x^2 - 4 = 0$ $x = \pm 2$ — данное в условии неравенство выполнено.

Ответ: $(-\infty; -5) \cup \{-2; 2\} \cup [3; +\infty)$.

233. 1) При $9 - x^2 \neq 0$ исходное неравенство равносильно системе

$$\begin{cases} 9 - x^2 > 0, \\ x^2 + x - 2 \leq 0; \end{cases} \Leftrightarrow \begin{cases} (3-x)(3+x) > 0, \\ (x+2)(x-1) \leq 0; \end{cases} \Leftrightarrow \begin{cases} -3 < x < 3, \\ -2 \leq x \leq 1; \end{cases} \Leftrightarrow -2 \leq x \leq 1.$$

2) При $9 - x^2 = 0$ $x = \pm 3$ — данное в условии неравенство выполнено.

Ответ: $[-2; 1] \cup \{-3; 3\}$.

$$234. \frac{x^2}{16} \leq \frac{3-2x}{3} \Leftrightarrow 3x^2 \leq 48 - 32x \Leftrightarrow 3x^2 + 32x - 48 \leq 0 \Leftrightarrow$$

$$\Leftrightarrow 3\left(x - \frac{4}{3}\right)(x + 12) \leq 0 \Leftrightarrow -12 \leq x \leq \frac{4}{3}.$$

$$\text{Ответ: } \left[-12; \frac{4}{3}\right].$$

$$235. \frac{x^2}{8} \leq \frac{2-x}{3} \Leftrightarrow 3x^2 \leq 16 - 8x \Leftrightarrow 3x^2 + 8x - 16 \leq 0 \Leftrightarrow$$

$$\Leftrightarrow 3(x + 4)\left(x - \frac{4}{3}\right) \leq 0 \Leftrightarrow -4 \leq x \leq \frac{4}{3}.$$

$$\text{Ответ: } \left[-4; \frac{4}{3}\right].$$

$$236. \frac{x^2}{3} \leq \frac{5x-3}{4} \Leftrightarrow 4x^2 \leq 15x - 9 \Leftrightarrow 4x^2 - 15x + 9 \leq 0 \Leftrightarrow$$

$$\Leftrightarrow 4\left(x - \frac{3}{4}\right)(x - 3) \leq 0 \Leftrightarrow \frac{3}{4} \leq x \leq 3.$$

$$\text{Ответ: } \left[\frac{3}{4}; 3\right].$$

$$237. \frac{x^2}{3} \geq \frac{x+14}{12} \Leftrightarrow 12x^2 \geq 3x + 42 \Leftrightarrow 12x^2 - 3x - 42 \geq 0 \Leftrightarrow$$

$$\Leftrightarrow 4x^2 - x - 14 \geq 0 \Leftrightarrow 4(x + 1,75)(x - 2) \geq 0 \Leftrightarrow \begin{cases} x \leq -1,75, \\ x \geq 2. \end{cases}$$

$$\text{Ответ: } (-\infty; -1,75] \cup [2; +\infty).$$

$$238. \text{Условие, что разность дробей } \frac{58-5x}{3} \text{ и } \frac{2x+12}{2} \text{ неотрицательна,}$$

$$\text{означает } \frac{58-5x}{3} - \frac{2x+12}{2} \geq 0 \Leftrightarrow 116 - 10x - 6x - 36 \geq 0 \Leftrightarrow$$

$$\Leftrightarrow 80 - 16x \geq 0 \Leftrightarrow 16 \leq 80 \Leftrightarrow x \leq 5. \text{ Наибольшее целое значение } x, \text{ удовлетворяющее исходному условию, равно } 5.$$

$$\text{Ответ: } 5.$$

$$239. \text{Условие, что разность дробей } \frac{23-2x}{5} \text{ и } \frac{3x-11}{4} \text{ неположительна,}$$

$$\text{означает } \frac{23-2x}{5} - \frac{3x-11}{4} \leq 0 \Leftrightarrow 92 - 8x - 15x + 55 \leq 0 \Leftrightarrow$$

$$\Leftrightarrow 147 - 23x \leq 0 \Leftrightarrow 23x \geq 147 \Leftrightarrow x \geq 6\frac{9}{23}.$$

Наименьшее целое значение x , удовлетворяющее условию, равно 7.

Ответ: 7.

248. По условию $a_n = 6n$, $a_n \leq 170$, следовательно, $6n \leq 170$; $n \leq \frac{170}{6}$;

$$n \leq 28\frac{1}{3}.$$

Найдём сумму натуральных чисел, которые делятся на 6:

$$S_n = \frac{a_1 + a_n}{2} \cdot n, \text{ где } a_1 = 6; a_{28} = 6 \cdot 28, n = 28.$$

$$S_{28} = \frac{6 + 6 \cdot 28}{2} \cdot 28 = (3 + 3 \cdot 28) \cdot 28 = 2436.$$

Ответ: 2436.

250. Из условия следует, что за 1 мин скорость увеличивается на $15 \frac{\text{км}}{\text{ч}}$.

Следовательно, получаем арифметическую прогрессию, в которой $a_1 = 40 + 15 = 55$, $d = 15$. Тогда $a_7 = a_1 + 6d = 55 + 6 \cdot 15 = 145$.

Ответ: 145.

251. Имеем арифметическую прогрессию, у которой $a_1 = 5$, $d = 2$. Найдём n , при котором $S_n = 140$.

$$S_n = \frac{2a_1 + d(n-1)}{2} \cdot n; \frac{10 + 2(n-1)}{2} \cdot n = 140; n(4+n) = 140;$$

$n^2 + 4n - 140 = 0$; $n_1 = 10$, $n_2 = -14$. Отрицательный корень не удовлетворяет условию задачи, следовательно, $n = 10$.

Ответ: 10.

252. Согласно условию, имеем арифметическую прогрессию, у которой $a_1 = 7$, $d = 7$. Найдём наибольшее $n \in N$, при котором $a_n \leq 370$:

$$a_n = a_1 + d(n-1); 7 + 7(n-1) \leq 370; 7n \leq 370; n \leq \frac{370}{7}; n \leq 52\frac{6}{7}.$$

Так как $n \in N$, то $n = 52$. Тогда сумма искомых чисел

$$S_{52} = \frac{2a_1 + d(52-1)}{2} \cdot 52 = (2 \cdot 7 + 7 \cdot 51) \cdot 26 = (14 + 357) \cdot 26 = 371 \cdot 26 = 9646.$$

Ответ: 9646.

253. Имеем арифметическую прогрессию, у которой $a_1 = 9$, $d = 9$. Найдём наибольшее $n \in N$, при котором $a_n \leq 400$:

$$a_n = a_1 + d(n-1); 9 + 9(n-1) \leq 400; 9n \leq 400; n \leq \frac{400}{9}; n \leq 44\frac{4}{9}.$$

Так как $n \in N$, то $n = 44$. Следовательно, сумма искомых чисел

$$S_{44} = \frac{2a_1 + d(44 - 1)}{2} \cdot 44 = (2 \cdot 9 + 9 \cdot 43) \cdot 22 = 9 \cdot 45 \cdot 22 = 8910.$$

Ответ: 8910.

254. Числа, делящиеся на 2 и 3, то есть на 6, это: 6; 12; 18; 24; ...

Имеем арифметическую прогрессию, в которой $a_1 = 6$; $d = 6$.

Найдём наибольшее $n \in N$, при котором $a_n \leq 170$.

$$a_n = a_1 + d(n - 1); 6 + 6n - 6 \leq 170; n \leq 28\frac{1}{3}. \text{ Так как } n \in N, \text{ то}$$

$n = 28$. Тогда сумма искоемых чисел

$$S_{28} = \frac{2a_1 + d(28 - 1)}{2} \cdot 28 = (2 \cdot 6 + 6 \cdot 27) \cdot 14 = 2436.$$

Ответ: 2436.

256. Определим разность прогрессии: $d = 78,3 - 84,1 = -5,8$. По условию $a_1 = 84,1$. Найдём наибольшее $n \in N$, при котором $a_n > 0$:

$$a_n = a_1 + d(n - 1); \quad 84,1 - 5,8(n - 1) > 0; \quad 84,1 - 5,8n + 5,8 > 0; \\ 5,8n < 89,9; \quad n < 15,5. \text{ Следовательно, искомое количество равно } 15.$$

Ответ: 15.

257. Пусть a — первое из чисел, образующих данную арифметическую прогрессию. Тогда $a + d$, $a + 2d$ — второе и третье из этих чисел. По условию, числа a^2 , $(a + d)^2$, $(a + 2d)^2$ образуют геометрическую прогрессию, а значит, знаменатель этой прогрессии $q = \frac{(a + d)^2}{a^2} = \frac{(a + 2d)^2}{(a + d)^2}$;

$$((a + d)^2)^2 = a^2(a + 2d)^2; \quad (a + d)^2 = |a \cdot (a + 2d)|. \text{ Учитывая, что } a > 0, \\ a + 2d > 0, \text{ имеем:}$$

$$a^2 + 2ad + d^2 = a(a + 2d); \quad a^2 + 2ad + d^2 = a^2 + 2ad; \quad d^2 = 0; \quad d = 0.$$

Ответ: 0.

258. По условию задачи имеем: a_1, a_2, a_3 — арифметическая прогрессия, $a_1 + a_2 + a_3 = 27$. Так как $a_1 - 1, a_2 - 3, a_3 - 2$ — геометрическая прогрессия, то $(a_2 - 3)^2 = (a_1 - 1)(a_3 - 2)$. Пусть d — разность арифметической прогрессии, тогда числа $a_2 = a_1 + d$ и $a_3 = a_1 + 2d$ удовлетворяют системе уравнений:

$$\begin{cases} a_1 + a_1 + d + a_1 + 2d = 27, \\ (a_1 + d - 3)^2 = (a_1 - 1) \cdot (a_1 + 2d - 2); \end{cases} \Leftrightarrow \\ \Leftrightarrow \begin{cases} a_1 = 9 - d, \\ (9 - d + d - 3)^2 = (8 - d)(9 - d + 2d - 2); \end{cases} \Leftrightarrow \\ \Leftrightarrow \begin{cases} a_1 = 9 - d, \\ 36 = (8 - d)(d + 7); \end{cases} \Leftrightarrow \begin{cases} a_1 = 9 - d, \\ d^2 - d - 20 = 0; \end{cases} \Leftrightarrow \begin{cases} a - 1 = 9 - d, \\ \begin{cases} d = -4, \\ d = 5; \end{cases} \end{cases} \Leftrightarrow$$

$$\Leftrightarrow \left[\begin{cases} a_1 = 13, \\ d = -4, \\ a_1 = 4, \\ d = 5. \end{cases} \right.$$

Таким образом, существуют два набора чисел, удовлетворяющих условию задачи: 1) 13, 9, 5 и 2) 4, 9, 14.

Ответ: 13, 9, 5; 4, 9, 14.

259. По условию задачи имеем: a_1, a_2, a_3 — арифметическая прогрессия, $a_1 + a_2 + a_3 = 12$. Так как $a_1 + 1, a_2 + 2, a_3 + 11$ — геометрическая прогрессия, то её знаменатель $q = \frac{a_2 + 2}{a_1 + 1} = \frac{a_3 + 11}{a_2 + 2}$; $(a_2 + 2)^2 = (a_1 + 1)(a_3 + 11)$.

Пусть d — разность арифметической прогрессии, тогда $a_2 = a_1 + d$, $a_3 = a_1 + 2d$. Значения d и a_1 найдём из системы уравнений:

$$\begin{aligned} & \begin{cases} a_1 + a_1 + d + a_1 + 2d = 12, \\ (a_1 + d + 2)^2 = (a_1 + 1) \cdot (a_1 + 2d + 11); \end{cases} \Leftrightarrow \\ & \Leftrightarrow \begin{cases} a_1 = 4 - d, \\ (4 - d + d + 2)^2 = (4 - d + 1)(4 - d + 2d + 11); \end{cases} \Leftrightarrow \\ & \Leftrightarrow \begin{cases} a_1 = 4 - d, \\ 36 = (5 - d)(15 + d); \end{cases} \Leftrightarrow \begin{cases} a_1 = 4 - d, \\ d^2 + 10d - 39 = 0; \end{cases} \Leftrightarrow \\ & \Leftrightarrow \begin{cases} a_1 = 4 - d, \\ \begin{bmatrix} d = -13, \\ d = 3; \end{bmatrix} \end{cases} \Leftrightarrow \begin{cases} a_1 = 17, \\ d = -13, \\ a_1 = 1, \\ d = 3. \end{cases} \end{aligned}$$

Таким образом, существуют два набора чисел, удовлетворяющих условию задачи: 1) 17, 4, -9 и 2) 1, 4, 7.

Ответ: 17, 4, -9; 1, 4, 7.

260. По условию задачи имеем: a_1, a_2, a_3 — арифметическая прогрессия, $a_1 + a_2 + a_3 = 15$. Так как $a_1 + 1, a_2 + 1, a_3 + 4$ — геометрическая прогрессия, то $(a_2 + 1)^2 = (a_1 + 1)(a_3 + 4)$. Пусть d — разность арифметической прогрессии, тогда $a_2 = a_1 + d$, $a_3 = a_1 + 2d$. Значения a_1 и d найдём из системы уравнений:

$$\begin{aligned} & \begin{cases} a_1 + a_1 + d + a_1 + 2d = 15, \\ (a_1 + d + 1)^2 = (a_1 + 1)(a_1 + 2d + 4); \end{cases} \Leftrightarrow \\ & \Leftrightarrow \begin{cases} a_1 = 5 - d, \\ (5 - d + d + 1)^2 = (5 - d + 1)(5 - d + 2d + 4); \end{cases} \Leftrightarrow \\ & \Leftrightarrow \begin{cases} a_1 = 5 - d, \\ 36 = (6 - d)(9 + d); \end{cases} \Leftrightarrow \begin{cases} a_1 = 5 - d, \\ d^2 + 3d - 18 = 0; \end{cases} \Leftrightarrow \begin{cases} a_1 = 5 - d, \\ \begin{bmatrix} d = -6, \\ d = 3; \end{bmatrix} \end{cases} \Leftrightarrow \end{aligned}$$

$$\Leftrightarrow \begin{cases} a_1 = 11, \\ d = -6, \\ a_1 = 2, \\ d = 3. \end{cases}$$

Таким образом, существуют два набора чисел, удовлетворяющих условию задачи: 1) 11, 5, -1 и 2) 2, 5, 8.

Ответ: 11, 5, -1; 2, 5, 8.

261. По условию задачи имеем: a_1, a_2, a_3 — арифметическая прогрессия, $a_1 + a_2 + a_3 = 30$. Так как $a_1, a_2 - 4, a_3 - 5$ — геометрическая прогрессия, то $(a_2 - 4)^2 = a_1(a_3 - 5)$. Пусть d — разность арифметической прогрессии, тогда $a_2 = a_1 + d, a_3 = a_1 + 2d$. Значения d и a_1 найдём из системы:

$$\begin{cases} a_1 + a_1 + d + a_1 + 2d = 30, \\ (a_1 + d - 4)^2 = a_1(a_1 + 2d - 5); \end{cases} \Leftrightarrow$$

$$\Leftrightarrow \begin{cases} a_1 = 10 - d, \\ (10 - d + d - 4)^2 = (10 - d)(10 - d + 2d - 5); \end{cases} \Leftrightarrow$$

$$\Leftrightarrow \begin{cases} a_1 = 10 - d, \\ 36 = (10 - d)(d + 5); \end{cases} \Leftrightarrow \begin{cases} a_1 = 10 - d, \\ d^2 - 5d - 14 = 0; \end{cases} \Leftrightarrow$$

$$\Leftrightarrow \begin{cases} a_1 = 10 - d, \\ \begin{cases} d = -2, \\ d = 7; \end{cases} \end{cases} \Leftrightarrow \begin{cases} \begin{cases} a_1 = 12, \\ d = -2, \end{cases} \\ \begin{cases} a_1 = 3, \\ d = 7. \end{cases} \end{cases}$$

Таким образом, существуют два набора чисел, удовлетворяющих условию задачи: 1) 3, 10, 17 и 2) 12, 10, 8.

Ответ: 3, 10, 17; 12, 10, 8.

262. Пусть a_1, a_2, a_3 — члены данной арифметической прогрессии, d — её разность, b — первый член геометрической прогрессии. Так как по условию знаменатель геометрической прогрессии совпадает с её первым членом, то она имеет вид: b, b^2, b^3 .

Из условия имеем: $a_1 = b, a_2 = b^2 + 1, a_3 = b^3$. Поскольку $d = a_2 - a_1 = a_3 - a_2; a_1 + a_3 = 2a_2$, то $b + b^3 = 2(b^2 + 1); b^3 - 2b^2 + b - 2 = 0; (b - 2)(b^2 + 1) = 0; b = 2$. Итак, $b = 2, a_1 = b = 2, a_2 = b^2 + 1 = 5$. Следовательно, $d = a_2 - a_1 = 5 - 2 = 3$.

Ответ: 3.

263. Пусть a_1, a_2, a_3 — члены данной арифметической прогрессии, b — знаменатель геометрической прогрессии. Тогда, согласно условию, числа $a_1, a_2 - 1,5, a_3$ образуют геометрическую прогрессию и $a_1 = 1,5b; a_2 = 1,5b^2 + 1,5; a_3 = 1,5b^3$. По свойству арифметической прогрессии $2a_2 = a_1 + a_3$, то есть $2(1,5b^2 + 1,5) = 1,5b + 1,5b^3; b^3 - 2b^2 + b - 2 = 0;$

$(b-2)(b^2+1)=0$; $b=2$. Итак, $a_1=1,5b=3$; $a_2=1,5b^2+1,5=7,5$; $d=a_2-a_1=7,5-3=4,5$.

Ответ: 4,5.

264. Пусть a_1, a_2, \dots, a_5 — члены данной арифметической прогрессии, b — первый член геометрической прогрессии, а q — её знаменатель. Тогда $a_1=b$; $a_2=bq$; $a_5=bq^2$. Так как $a_2=a_1+d$, $a_5=a_1+4d$, где d — разность арифметической прогрессии, то $a_5-a_1=4(a_2-a_1)$, то есть $bq^2-b=4(bq-b)$, $b(q-1)(q+1)=4b(q-1)$; $b(q-1)(q-3)=0$. Заметим, что $b \neq 0$; $q \neq 1$ (иначе арифметическая прогрессия не является возрастающей). Следовательно, $q=3$. Итак, $a_1=b$; $a_2=bq=3b=3a_1$; $d=a_2-a_1=3a_1-a_1=2a_1$; $a_4=a_1+3d=a_1+6a_1=7a_1$; $\frac{a_4}{a_1}=\frac{7a_1}{a_1}=7$.

Ответ: 7.

265. Пусть a_1, a_2, \dots, a_7 — члены данной арифметической прогрессии, b — первый член геометрической прогрессии, а q — её знаменатель. Тогда $a_1=b$; $a_2=bq$; $a_7=bq^2$. Так как $a_2=a_1+d$; $a_7=a_1+6d$, где d — разность арифметической прогрессии, то $a_7-a_1=6(a_2-a_1)$, то есть $bq^2-b=6(bq-b)$; $b(q-1)(q+1)=6b(q-1)$; $b(q-1)(q-5)=0$. Заметим, что $b \neq 0$, $q \neq 1$ (иначе арифметическая прогрессия не является возрастающей). Следовательно, $q=5$. Итак, $q=5$; $a_2=bq=5b=5a_1$; $d=a_2-a_1=5a_1-a_1=4a_1$; $a_5=a_1+4d=a_1+16a_1=17a_1$; $\frac{a_5}{a_1}=\frac{17a_1}{a_1}=17$.

Ответ: 17.

266. Пусть указанная прогрессия существует, a_1 — первый член этой прогрессии, d — её разность. Тогда $a_3=2d+a_1$; $a_6=5d+a_1$. Так как по условию $a_3=7$; $a_6=13$, то d и a_1 найдём из системы уравнений

$$\begin{cases} 2d+a_1=7, \\ 5d+a_1=13; \end{cases} \Leftrightarrow \begin{cases} 3d=6, \\ a_1=7-2d; \end{cases} \Leftrightarrow \begin{cases} d=2, \\ a=3. \end{cases}$$

Тогда $a_8=7d+a_1=7 \cdot 2+3=17$, что соответствует условию. Следовательно, указанная в условии прогрессия существует.

Ответ: да.

267. Пусть указанная прогрессия существует, a_1 — первый член этой прогрессии, d — её разность. Тогда $a_4=3d+a_1$; $a_9=8d+a_1$. Так как по условию $a_4=8$; $a_9=-7$, то d и a_1 найдём из системы уравнений

$$\begin{cases} 3d + a_1 = 8, \\ 8d + a_1 = -7; \end{cases} \Leftrightarrow \begin{cases} 5d = -15, \\ a_1 = 8 - 3d; \end{cases} \Leftrightarrow \begin{cases} d = -3, \\ a_1 = 17. \end{cases}$$

Следовательно, $a_{12} = 11d + a_1 = 11 \cdot (-3) + 17 = -16$. По условию $a_{12} = -17$. Значит, указанной в задаче прогрессии не существует.

Ответ: нет.

268. Пусть указанная прогрессия существует, a_1 — первый член этой прогрессии, d — её разность. Тогда $a_3 = 2d + a_1$; $a_8 = 7d + a_1$. Так как по условию $a_3 = -5$; $a_8 = 5$, то d и a_1 найдём из системы уравнений

$$\begin{cases} 2d + a_1 = -5, \\ 7d + a_1 = 5; \end{cases} \Leftrightarrow \begin{cases} 5d = 10, \\ a_1 = 5 - 7d; \end{cases} \Leftrightarrow \begin{cases} d = 2, \\ a_1 = -9. \end{cases}$$

Следовательно, $a_{11} = 10d + a_1 = 10 \cdot 2 - 9 = 11$. По условию $a_{11} = 12$. Значит, указанной в задаче прогрессии не существует.

Ответ: нет.

269. Пусть a_1, a_2, a_3 — члены данной арифметической прогрессии. По условию $a_1 + a_2 + a_3 = 24$. Так как $a_1, a_2 - 2, a_3 + 4$ — геометрическая прогрессия, то $(a_2 - 2)^2 = a_1(a_3 + 4)$. Пусть d — разность арифметической прогрессии, тогда $a_2 = a_1 + d$; $a_3 = a_1 + 2d$. Найдём значения a_1 и d из системы уравнений

$$\begin{aligned} &\begin{cases} a_1 + (a_1 + d) + (a_1 + 2d) = 24, \\ (a_1 + d - 2)^2 = a_1(a_1 + 2d + 4); \end{cases} \Leftrightarrow \\ &\Leftrightarrow \begin{cases} a_1 = 8 - d, \\ (8 - d + d - 2)^2 = (8 - d)(8 - d + 2d + 4); \end{cases} \Leftrightarrow \\ &\Leftrightarrow \begin{cases} a_1 = 8 - d, \\ 36 = (8 - d)(12 + d); \end{cases} \Leftrightarrow \begin{cases} a_1 = 8 - d, \\ d^2 + 4d - 60 = 0; \end{cases} \Leftrightarrow \\ &\Leftrightarrow \begin{cases} a_1 = 8 - d, \\ \begin{cases} d = -10, \\ d = 6; \end{cases} \end{cases} \Leftrightarrow \begin{cases} a_1 = 18, \\ d = -10, \\ a_1 = 2, \\ d = 6. \end{cases} \end{aligned}$$

Так как по условию $a_1 > 3$, то искомые числа: 18, 8, -2.

Ответ: 18; 8; -2.

270. Пусть a_1, a_2, a_3 — члены данной арифметической прогрессии. По условию $a_1 + a_2 + a_3 = 18$. Так как $a_1 + 2, a_2, a_3 + 1$ — геометрическая прогрессия, то $a_2^2 = (a_1 + 2)(a_3 + 1)$. Пусть d — разность арифметической прогрессии, тогда $a_2 = a_1 + d$; $a_3 = a_1 + 2d$. Найдём значения a_1 и d из системы уравнений

$$\begin{aligned} &\begin{cases} a_1 + (a_1 + d) + (a_1 + 2d) = 18, \\ (a_1 + d)^2 = (a_1 + 2)(a_1 + 2d + 1); \end{cases} \Leftrightarrow \\ &\Leftrightarrow \begin{cases} a_1 = 6 - d, \\ (6 - d + d)^2 = (6 - d + 2)(6 - d + 2d + 1); \end{cases} \Leftrightarrow \end{aligned}$$

$$\Leftrightarrow \begin{cases} a_1 = 6 - d, \\ 36 = (8 - d)(7 + d); \end{cases} \Leftrightarrow \begin{cases} a_1 = 6 - d, \\ d^2 - d - 20 = 0; \end{cases} \Leftrightarrow \begin{cases} a_1 = 6 - d, \\ \begin{cases} d = -4, \\ d = 5; \end{cases} \end{cases} \Leftrightarrow$$

$$\Leftrightarrow \begin{cases} \begin{cases} a_1 = 10, \\ d = -4, \\ a_1 = 1, \\ d = 5. \end{cases} \end{cases}$$

Так как по условию $a_3 < 3$, то искомые числа: 10; 6; 2.

Ответ: 10; 6; 2.

271. Предположим, что числа $\sqrt{3}$, 2, $\sqrt{8}$ могут быть членами арифметической прогрессии. Так как $\sqrt{3} < 2 < \sqrt{8}$, то в арифметической прогрессии они расположены либо в указанном в задаче порядке (при $d > 0$), либо в обратном порядке (при $d < 0$).

Не нарушая общности, можем считать, что $a_1 = \sqrt{3}$; $a_n = 2$; $a_m = \sqrt{8}$ ($n, m \in \mathbb{N}$; $n < m$; $n, m \neq 1$).

$$\text{Тогда } 2 = a_n = a_1 + (n-1)d = \sqrt{3} + (n-1)d; d = \frac{2 - \sqrt{3}}{n-1};$$

$$\sqrt{8} = a_m = a_1 + (m-1)d = \sqrt{3} + (m-1)d; d = \frac{\sqrt{8} - \sqrt{3}}{m-1}.$$

Следовательно,

$$\begin{aligned} \frac{2 - \sqrt{3}}{n-1} &= \frac{\sqrt{8} - \sqrt{3}}{m-1} \Leftrightarrow \frac{m-1}{n-1} = \frac{\sqrt{8} - \sqrt{3}}{2 - \sqrt{3}} = \frac{(\sqrt{8} - \sqrt{3})(2 + \sqrt{3})}{(2 - \sqrt{3})(2 + \sqrt{3})} = \\ &= \frac{(\sqrt{8} - \sqrt{3})(2 + \sqrt{3})}{2^2 - (\sqrt{3})^2} = (\sqrt{8} - \sqrt{3})(2 + \sqrt{3}) = 4\sqrt{2} - 2\sqrt{3} + 2\sqrt{6} - 3. \end{aligned}$$

Так как $m, n \in \mathbb{N}$; $m, n > 1$, то дробь $\frac{m-1}{n-1} \in \mathbb{Q}$, и, значит, число $4\sqrt{2} - 2\sqrt{3} + 2\sqrt{6} - 3 \in \mathbb{Q}$. Покажем, что это неверно.

Если $4\sqrt{2} - 2\sqrt{3} + 2\sqrt{6} - 3 \in \mathbb{Q}$, то $4\sqrt{2} - 2\sqrt{3} + 2\sqrt{6} - 3 = \frac{p_1}{q_1}$, где $p_1 \in \mathbb{Z}$,

$q_1 \in \mathbb{N}$. Следовательно, $2\sqrt{2} - \sqrt{3} + \sqrt{6} = \frac{1}{2} \left(\frac{p_1}{q_1} + 3 \right) \in \mathbb{Q}$.

Обозначим $\frac{1}{2} \left(\frac{p_1}{q_1} + 3 \right) = \frac{p}{q}$, где $p \in \mathbb{Z}$, $q \in \mathbb{N}$. Тогда $2\sqrt{2} - \sqrt{3} + \sqrt{6} = \frac{p}{q}$;

$$2\sqrt{2} + \sqrt{6} = \frac{p}{q} + \sqrt{3}; (2\sqrt{2} + \sqrt{6})^2 = \left(\frac{p}{q} + \sqrt{3} \right)^2; 8 + 2\sqrt{12} + 6 =$$

$$= \frac{p^2}{q^2} + 2\frac{p}{q} \cdot \sqrt{3} + 3; 4\sqrt{3} + 11 = \frac{p^2}{q^2} + \frac{2p}{q}\sqrt{3}; \sqrt{3}\left(4 - \frac{2p}{q}\right) = \frac{p^2}{q^2} - 11;$$

$$\sqrt{3} = \frac{\frac{p^2}{q^2} - 11}{4 - \frac{2p}{q}} \in Q. \text{ Пусть } \sqrt{3} = \frac{r}{t} \text{ и } r \in Z, t \in N. \frac{r}{t} \text{ — несократимая}$$

$$\text{дробь, тогда } (\sqrt{3})^2 = \left(\frac{r}{t}\right)^2; 3t^2 = r^2. \text{ Следовательно, } r^2 : 3 \Rightarrow r : 3 \Rightarrow$$

$$r^2 : 9 \Rightarrow t^2 : 3 \Rightarrow t : 3 \Rightarrow \frac{r}{t} \text{ — сократимая дробь. Пришли к противоречию.}$$

Следовательно, число $4\sqrt{2} - 2\sqrt{3} + 2\sqrt{6} - 3 \notin Q$, а значит, предположение о том, что данные числа могут быть членами арифметической прогрессии, неверно.

Ответ: нет.

272. Предположим, что числа $\sqrt{2}$, 3, $\sqrt{12}$ могут быть членами арифметической прогрессии. Так как $\sqrt{2} < 3 < \sqrt{12}$, то в арифметической прогрессии они расположены либо в указанном в задаче порядке (при $d > 0$), либо в обратном порядке (при $d < 0$). Не нарушая общности, можем считать, что $a_1 = \sqrt{2}$; $a_n = 3$; $a_m = \sqrt{12}$ ($n, m \in N$; $n < m$; $n, m \neq 1$). Тогда $3 = a_n = a_1 + (n-1)d = \sqrt{2} + (n-1)d$; $d = \frac{3 - \sqrt{2}}{n-1}$.

$$\sqrt{12} = a_m = a_1 + (m-1)d = \sqrt{2} + (m-1)d; d = \frac{\sqrt{12} - \sqrt{2}}{m-1}.$$

Следовательно,

$$\begin{aligned} \frac{3 - \sqrt{2}}{n-1} &= \frac{\sqrt{12} - \sqrt{2}}{m-1} \Leftrightarrow \frac{m-1}{n-1} = \frac{\sqrt{12} - \sqrt{2}}{3 - \sqrt{2}} = \frac{(\sqrt{12} - \sqrt{2})(3 + \sqrt{2})}{(3 - \sqrt{2})(3 + \sqrt{2})} = \\ &= \frac{3\sqrt{12} - 3\sqrt{2} + \sqrt{12} \cdot 2 - \sqrt{2} \cdot \sqrt{2}}{9 - (\sqrt{2})^2} = \frac{3\sqrt{2} - 2\sqrt{6} - 2}{7}. \end{aligned}$$

Так как $m, n \in N$; $m, n > 1$, то дробь $\frac{m-1}{n-1} \in Q$, значит, число

$$\frac{3\sqrt{2} - 2\sqrt{6} - 2}{7} \in Q. \text{ Однако это неверно (покажите самостоятельно).}$$

Следовательно, предположение о том, что данные числа могут быть членами арифметической прогрессии, неверно.

Ответ: нет.

273. Пусть a_n ($n \in N$) — заданная арифметическая прогрессия, d — её разность. По условию задачи составим систему уравнений:

$$\begin{cases} a_1 + 2d = 7, \\ a_1 + 4d = 13. \end{cases}$$

Отсюда $d = 3$, $a_1 = 1$. Следовательно, $a_2 = 4$; $a_6 = 16$. Легко увидеть, что числа 1, 4 и 16 образуют геометрическую прогрессию со знаменателем $q = 4$.

Ответ: да.

274. Пусть a_n ($n \in N$) — заданная арифметическая прогрессия, d — её разность. По условию задачи составим систему уравнений:

$$\begin{cases} a_1 + 2d = 8, \\ a_1 + 7d = 33. \end{cases}$$

Отсюда $5d = 25$; $d = 5$; $a_1 = -2$. Следовательно, $a_2 = 3$; $a_4 = 13$; $a_6 = 23$. Предположим, что эти числа образуют геометрическую прогрессию. Обозначим $b_1 = a_3 = 3$; $b_2 = a_4 = 13$; $b_3 = a_6 = 23$ — члены этой прогрессии. Тогда должно выполняться равенство $\frac{b_3}{b_2} = \frac{b_2}{b_1}$. Однако

$\frac{23}{13} \neq \frac{13}{3}$. Следовательно, предположение о том, что второй, четвёртый и шестой члены заданной арифметической прогрессии образуют геометрическую прогрессию, неверно.

Ответ: нет.

275. Пусть a_1, a_2, \dots, a_6 — члены данной арифметической прогрессии. По условию $a_2 + a_4 + a_6 = 18$; $a_2 \cdot a_4 \cdot a_6 = 120$. Тогда $a_2 = d + a_1$; $a_4 = 3d + a_1$; $a_6 = 5d + a_1$. Значение чисел a_1 и d найдём из системы уравнений

$$\begin{cases} (d + a_1) + (3d + a_1) + (5d + a_1) = 18, \\ (d + a_1)(3d + a_1)(5d + a_1) = 120; \end{cases} \Leftrightarrow$$

$$\Leftrightarrow \begin{cases} a_1 = 6 - 3d, \\ (d + 6 - 3d)(3d + 6 - 3d)(5d + 6 - 3d) = 120; \end{cases} \Leftrightarrow$$

$$\Leftrightarrow \begin{cases} a_1 = 6 - 3d, \\ (6 - 2d)(6 + 2d) = 20; \end{cases} \Leftrightarrow \begin{cases} a_1 = 6 - 3d, \\ 36 - 4d^2 = 20; \end{cases} \Leftrightarrow \begin{cases} a_1 = 6 - 3d, \\ \begin{cases} d = 2, \\ d = -2. \end{cases} \end{cases}$$

Следовательно, $a_1 = 0$ или $a_1 = 12$.

Ответ: 0; 12.

276. Пусть $a_1, a_2, \dots, a_n, \dots$ — члены заданной арифметической прогрессии. По условию $a_1 = -8$, $a_2 = -5$. Следовательно, разность этой прогрессии $d = a_2 - a_1 = -5 + 8 = 3$.

Пусть найдётся такое натуральное число n , что $a_n = 4$ есть n -й член

данной прогрессии. Так как $a_n = (n - 1)d + a_1$, то должно выполняться, $4 = (n - 1) \cdot 3 - 8$; $(n - 1) \cdot 3 = 12$; $n - 1 = 4$; $n = 5$. Следовательно, число 4 может быть пятым членом заданной прогрессии.

Ответ: да.

277. Пусть a_1, a_2, \dots, a_{10} — члены данной арифметической прогрессии. По условию $3 \cdot (a_1 + a_2 + a_3 + a_4 + a_5) = a_6 + a_7 + a_8 + a_9 + a_{10}$.

Пусть d — разность данной прогрессии, тогда

$3(a_1 + a_1 + d + a_1 + 2d + a_1 + 3d + a_1 + 4d) = a_1 + 5d + a_1 + 6d + a_1 + 7d + a_1 + 8d + a_1 + 9d$; $3(5a_1 + 10d) = 35d + 5a_1$; $d = 2a_1$. Так как по условию $a_7 = 26$, то $a_1 + 6d = 6(2a_1) + a_1 = 13a_1 = 26$; $a_1 = 2$; $d = 2a_1 = 4$.

Следовательно $a_3 = 2d + a_1 = 2 \cdot 4 + 2 = 10$.

Ответ: 10..

278. Пусть a_1, a_2, \dots, a_7 — члены данной арифметической прогрессии. По условию $2(a_1 + a_2 + a_3 + a_4) = a_5 + a_6 + a_7$.

Пусть d — разность данной прогрессии, тогда

$2(a_1 + d + a_1 + 2d + a_1 + 3d + a_1) = 4d + a_1 + 5d + a_1 + 6d + a_1$; $2(6d + 4a_1) =$
 $= 15d + 3a_1$; $d = \frac{5}{3}a_1$. Так как по условию $a_8 = 38$, то $7d + a_1 =$

$= 7 \cdot \frac{5}{3}a_1 + a_1 = \frac{38}{3}a_1 = 38$; $a_1 = 3$; $d = \frac{5}{3}a_1 = 5$.

Следовательно, $a_2 = d + a_1 = 5 + 3 = 8$.

Ответ: 8.

288. Запишем сначала сумму первых 17 членов нашей арифметической прогрессии с первым членом a_1 и разностью $3d$:

$$S_{17} = \frac{(2a_1 + 3d(17 - 1)) \cdot 17}{2} = 17 \cdot (a_1 + 24d) = 17a_1 + 408d.$$

Затем запишем сумму первых 23 членов арифметической прогрессии с первым членом a_1 и разностью d :

$$S_{23} = \frac{(2a_1 + d(23 - 1)) \cdot 23}{2} = 23 \cdot (a_1 + 11d) = 23a_1 + 253d.$$

Запишем сумму первых 6 членов:

$$S_6 = \frac{(2a_1 + d(6 - 1)) \cdot 6}{2} = 6 \cdot \left(a_1 + \frac{5}{2}d\right) = 6a_1 + 15d.$$

Запишем их разность, то есть сумму членов с 7 по 23:

$$S_{7-23} = S_{23} - S_6 = 17a_1 + 238d.$$

По условию задачи: $S_{17} - S_{7-23} = 153$. То есть $17a_1 + 408d - 17a_1 - 238d = 153$; $170d = 153$; $d = \frac{153}{170} = \frac{9}{10} = 0,9$.

Ответ: 0,9.

290. Найдём количество натуральных чисел, не превосходящих 130, которые делятся на 17: $\frac{130}{17} = 7,64$. Значит, таких чисел 7. Нечётными из них будут $17 \cdot 1$, $17 \cdot 3$, $17 \cdot 5$, $17 \cdot 7$, то есть, 4 числа. Найдём их сумму: $17 \cdot (1 + 3 + 5 + 7) = 17 \cdot 16 = 272$.

Найдём количество нечётных чисел, не превосходящих 130: $\frac{130}{2} = 65$. Это числа 1, 3, 5, ..., 129. Найдём их сумму: $S = \frac{(2 + 2 \cdot (65 - 1)) \cdot 65}{2} = 65^2 = 4225$.

Осталось отнять сумму тех нечётных чисел, которые делятся на 17: $4225 - 272 = 3953$.

Ответ: 3953.

292. После вычёркивания всех членов последовательности $b_n = 16 \cdot (-0,5)^n$, имеющих чётные номера, получилась бесконечно убывающая геометрическая прогрессия $b_{2n-1} = 16(-0,5)^{2n-1}$. Её знаменатель

$$q = \frac{b_{2(n+1)-1}}{b_{2n-1}} = \frac{b_{2n+1}}{b_{2n-1}} = \frac{16(-0,5)^{2n+1}}{16(-0,5)^{2n-1}} = (-0,5)^2 = \frac{1}{4},$$

$$\text{а сумма } S = \frac{b_1}{1 - q} = \frac{16(-0,5)}{1 - \frac{1}{4}} = \frac{-8}{\frac{3}{4}} = \frac{-32}{3} = -10\frac{2}{3}.$$

Ответ: $-10\frac{2}{3}$.

295. Пусть b_1, b_2, \dots, b_5 — члены данной геометрической прогрессии, q — её знаменатель. По условию $b_3 = b_2 + 6$, $b_5 = b_3 + 36$, $q > 1$.

Найдём значения b_1 и q из системы

$$\begin{cases} b_1 \cdot q^2 = b_1 \cdot q + 6, \\ b_1 \cdot q^4 = b_1 \cdot q^2 + 36; \end{cases} \Leftrightarrow \begin{cases} b_1 \cdot q \cdot (q - 1) = 6, \\ b_1 \cdot q^2 \cdot (q^2 - 1) = 36. \end{cases}$$

Разделив второе уравнение системы на первое ($q \neq 0$, $b_1 \neq 0$, $q \neq \pm 1$), получим:

$q \cdot (q + 1) = 6$, $q^2 + q - 6 = 0$, $q_1 = 2$, $q_2 = -3$ — не удовлетворяет условию $q > 1$. Таким образом, $q = 2$.

$b_1 q (q - 1) = 6$; $2b_1 = 6$; $b_1 = 3$.

$$S_{10} = \frac{b_1 \cdot (q^{10} - 1)}{q - 1} = \frac{3 \cdot (2^{10} - 1)}{2 - 1} = 3 \cdot 1023 = 3069.$$

Ответ: 3069.

298. Пусть q — знаменатель геометрической прогрессии с первым членом x , то есть прогрессия имеет вид: x, qx, q^2x . Пусть b — разность арифметической прогрессии $x, 2qx, 3q^2x$. Тогда

$$\begin{cases} x + b = 2qx, \\ x + 2b = 3q^2x; \end{cases} \Leftrightarrow \begin{cases} b = (2q - 1)x, \\ b = \frac{1}{2} \cdot (3q^2 - 1)x; \end{cases} \Rightarrow 2q - 1 = \frac{1}{2} \cdot (3q^2 - 1);$$

$3q^2 - 4q + 1 = 0$; $q_1 = \frac{1}{3}$, $q_2 = 1$. Поскольку заданная геометрическая

прогрессия убывает, то $q < 1 \Rightarrow q = \frac{1}{3}$.

Ответ: $\frac{1}{3}$.

299. Пусть q — знаменатель геометрической прогрессии с первым членом x , то есть прогрессия имеет вид: x, qx, q^2x . Пусть b — разность арифметической прогрессии $x, 5qx, 2q^2x$. Тогда

$$\begin{cases} x + b = 5qx, \\ x + 2b = 2q^2x; \end{cases} \Leftrightarrow \begin{cases} b = (5q - 1)x, \\ b = \frac{1}{2} \cdot (2q^2 - 1)x. \end{cases} \Rightarrow 5q - 1 = \frac{1}{2} \cdot (2q^2 - 1) \Leftrightarrow$$

$\Leftrightarrow 2q^2 - 10q + 1 = 0 \Rightarrow q_{1,2} = \frac{5 \pm \sqrt{23}}{2}$. Поскольку заданная геометрическая прогрессия убывает, то $0 < q < 1$ — этому условию удовлетворяет лишь значение $q = \frac{5 - \sqrt{23}}{2}$.

Ответ: $\frac{5 - \sqrt{23}}{2}$.

300. Пусть q — знаменатель геометрической прогрессии с первым членом x , то есть прогрессия имеет вид: x, qx, q^2x . Пусть b — разность арифметической прогрессии $x, qx, \frac{q^2x}{3}$. Тогда

$$\begin{cases} x + b = qx, \\ x + 2b = \frac{q^2x}{3}; \end{cases} \Leftrightarrow \begin{cases} b = (q - 1)x, \\ b = \left(\frac{q^2}{6} - \frac{1}{2}\right)x; \end{cases} \Rightarrow q - 1 = \frac{q^2}{6} - \frac{1}{2} \Leftrightarrow$$

$\Leftrightarrow q^2 - 6q + 3 = 0 \Rightarrow q_{1,2} = 3 \pm \sqrt{6}$.

Поскольку заданная геометрическая прогрессия возрастает, то $q > 1 \Rightarrow q = 3 + \sqrt{6}$.

Ответ: $3 + \sqrt{6}$.

301. Пусть q — знаменатель геометрической прогрессии с первым членом x , то есть прогрессия имеет вид: x, qx, q^2x . Пусть b — разность арифметической прогрессии $\frac{x}{3}, qx, \frac{q^2x}{2}$. Тогда

$$\begin{cases} \frac{x}{3} + b = qx, \\ \frac{x}{3} + 2b = \frac{q^2x}{2}; \end{cases} \Leftrightarrow \begin{cases} b = \left(q - \frac{1}{3}\right)x, \\ b = \left(\frac{q^2}{4} - \frac{1}{6}\right)x; \end{cases} \Rightarrow q - \frac{1}{3} = \frac{q^2}{4} - \frac{1}{6} \Leftrightarrow$$

$$\Leftrightarrow 3q^2 - 12q + 2 = 0 \Rightarrow q_{1,2} = 2 \pm \sqrt{\frac{10}{3}}.$$

Поскольку заданная геометрическая прогрессия возрастает, то $q > 1 \Rightarrow q = 2 + \sqrt{\frac{10}{3}}$.

Ответ: $2 + \sqrt{\frac{10}{3}}$.

302. Обозначим искомые числа через x, y, z . По условию, $x + y + z = 18$. Так как x, y, z образуют арифметическую прогрессию, то $x + z = 2y$.

Из второго условия следует, что числа $x + 1, y + 2, z + 7$ образуют геометрическую прогрессию, а значит, $(x + 1)(z + 7) = (y + 2)^2$.

Таким образом, получаем систему из трёх уравнений с тремя неизвестными:

$$\begin{cases} x + y + z = 18, \\ x + z = 2y, \\ (x + 1)(z + 7) = (y + 2)^2. \end{cases}$$

Вычтя из первого уравнения второе, получим $y = 18 - 2y$, откуда $y = 6$. Подставив найденное значение y во второе и третье уравнение, получим систему:

$$\begin{cases} y = 6, \\ x + z = 12, \\ (x + 1)(z + 7) = 64; \end{cases} \Leftrightarrow \begin{cases} y = 6, \\ z = 12 - x, \\ (x + 1)(19 - x) = 64. \end{cases}$$

Решая квадратное уравнение $(x + 1)(19 - x) = 64$, $x^2 - 18x + 45 = 0$, находим: $x_1 = 3, x_2 = 15$. Значения неизвестной z соответственно равны $z_1 = 12 - 3 = 9, z_2 = 12 - 15 = -3$. Итак, имеем два набора чисел:

1) $x = 3, y = 6, z = 9$, 2) $x = 15, y = 6, z = -3$.

Второй набор не удовлетворяет условию задачи, так как образует убывающую прогрессию.

Ответ: 3; 6; 9.

303. Обозначим искомые числа через x, y, z . По условию, $x + y + z = 33$. Так как x, y, z образуют арифметическую прогрессию, то $x + z = 2y$.

Из второго условия следует, что числа $x, y - 3, z - 2$ образуют геометрическую прогрессию, следовательно, $x(z - 2) = (y - 3)^2$.

Таким образом, получаем систему из трёх уравнений с тремя неизвестными.

$$\begin{cases} x + y + z = 33, \\ x + z = 2y, \\ x(z - 2) = (y - 3)^2. \end{cases}$$

Вычитая из первого уравнения второе, получим, $y = 33 - 2y$, откуда $y = 11$. Подставив найденное значение y во второе и третье уравнения, получим систему:

$$\begin{cases} y = 11, \\ x + z = 22, \\ x(z - 2) = 64; \end{cases} \Leftrightarrow \begin{cases} y = 11, \\ z = 22 - x, \\ x(20 - x) = 64. \end{cases}$$

Решая квадратное уравнение $x(20 - x) = 64$, $x^2 - 20x + 64 = 0$, находим: $x_1 = 4$, $x_2 = 16$. Значения неизвестной z соответственно равны $z_1 = 22 - 4 = 18$, $z_2 = 22 - 16 = 6$.

Итак, имеем два набора чисел: 1) $x = 4, y = 11, z = 18$.

2) $x = 16, y = 11, z = 6$.

Первый набор не удовлетворяет условию, так как образует возрастающую прогрессию.

Ответ: 16; 11; 6.

304. Пусть a, aq, aq^2 — данная геометрическая прогрессия, тогда $\frac{2}{3}a, aq, aq^2$ — арифметическая прогрессия, то есть существует число d такое, что $\frac{2}{3}a + d = aq$ и $\frac{2}{3}a + 2d = aq^2$. Имеем систему:

$$\begin{cases} \frac{2}{3}a + d = aq, \\ \frac{2}{3}a + 2d = aq^2. \end{cases}$$

Умножим первое уравнение системы на (-2) и сложим со вторым уравнением: $-\frac{2}{3}a = -2aq + aq^2$; $q^2 - 2q + \frac{2}{3} = 0$; $q = 1 \pm \frac{1}{\sqrt{3}}$. Так как по условию геометрическая прогрессия должна убывать, то $0 < q < 1$ — этому условию удовлетворяет только значение $q = 1 - \frac{1}{\sqrt{3}} = 1 - \frac{\sqrt{3}}{3}$.

Ответ: $1 - \frac{\sqrt{3}}{3}$.

305. Пусть a, aq, aq^2 — данная геометрическая прогрессия, тогда $a, \frac{3}{2}aq, aq^2$ — арифметическая прогрессия, то есть существует число d такое, что $\frac{3}{2}aq = a + d$ и $aq^2 = a + 2d$. Имеем систему:

$$\begin{cases} \frac{3}{2}aq = a + d, \\ aq^2 = a + 2d. \end{cases}$$

Умножим первое уравнение системы на (-2) и сложим со вторым уравнением: $aq^2 - 3aq = -a$; $q^2 - 3q + 1 = 0$; $q = \frac{3 \pm \sqrt{5}}{2}$.

Так как по условию геометрическая прогрессия должна возрасть, то $q > 1$ — этому условию удовлетворяет только значение $q = \frac{3 + \sqrt{5}}{2}$.

Ответ: $\frac{3 + \sqrt{5}}{2}$.

306. Числа b_1, b_2, b_3 являются последовательными членами геометрической прогрессии тогда и только тогда, когда $b_1 \cdot b_3 = b_2^2$. Поэтому, если x удовлетворяет условию задачи, то $x(5x-2) = (x+2)^2$, $5x^2 - 2x = x^2 + 4x + 4$; $4x^2 - 6x - 4 = 0$; $2x^2 - 3x - 2 = 0$. Последнее уравнение имеет корни $x_1 = -\frac{1}{2}$, $x_2 = 2$; x_1 не удовлетворяет условию задачи, так как не является целым.

Ответ: 2.

307. Так как числа b_1, b_2, b_3 являются последовательными членами геометрической прогрессии, то $b_1 \cdot b_3 = b_2^2$. Следовательно, искомое значение x удовлетворяет уравнению:

$-x(x-5) = (x+1)^2 \Leftrightarrow -x^2 + 5x = x^2 + 2x + 1$, $2x^2 - 3x + 1 = 0$. Последнее уравнение имеет корни $x_1 = 0,5$; $x_2 = 1$.

Значение x_1 не удовлетворяет условию задачи, так как не является целым.

Ответ: 1.

308. Обозначим через q знаменатель геометрической прогрессии, а через d разность арифметической прогрессии. Тогда $b = aq$; $c = aq^2$;
 $a + b + d = b + c$; $b + c + d = c + a \Rightarrow a + d = c$; $b + d = a$. Имеем систему из двух уравнений:
$$\begin{cases} a + d = aq^2, \\ aq + d = a. \end{cases}$$

Вычтем из первого уравнения системы второе. Получим: $a - aq = aq^2 - a$. Поскольку числа a, b, c — различны, то $a \neq 0$. Следовательно, $q^2 + q - 2 = 0$. Корнями этого уравнения являются $q_1 = -2$, $q_2 = 1$. Значение $q = 1$ не подходит, так как по условию задачи числа a, b, c должны быть различны. Следовательно, $q = -2$.

Ответ: -2 .

309. Обозначим через q знаменатель геометрической прогрессии, а через d разность арифметической прогрессии. Тогда $b = aq$; $c = aq^2$;
 $c + a + d = a + b$; $a + b + d = b + c \Rightarrow c + d = b$; $a + d = c$.

Имеем систему из двух уравнений:
$$\begin{cases} aq^2 + d = aq, \\ a + d = aq^2. \end{cases}$$

Вычтем из первого уравнения системы второе. Получим: $aq^2 - a = aq - aq^2$. Поскольку числа a, b, c различны, то $a \neq 0$. Следовательно, $2q^2 - q - 1 = 0$. Корнями этого уравнения являются $q_1 = -0,5$, $q_2 = 1$. Значение $q = 1$ не подходит, так как по условию задачи числа a, b, c должны быть различны. Следовательно, $q = -0,5$.

Ответ: $-0,5$.

310. Пусть b — первое из чисел, образующих данную геометрическую прогрессию. Тогда bq, bq^2 — второе и третье из этих чисел. По условию, числа $b^2, (bq)^2, (bq^2)^2$ образуют арифметическую прогрессию, а значит, $2(bq)^2 = b^2 + (bq^2)^2$. Сокращая на b^2 (из условия положительности b следует, что $b \neq 0$), получаем уравнение: $2q^2 = 1 + q^4$; $(q^2 - 1)^2 = 0 \Leftrightarrow q^2 - 1 = 0$; $q_1 = -1$, $q_2 = 1$. Так как по условию все члены прогрессии положительны, то $q > 0$, поэтому $q = 1$ — единственное значение знаменателя прогрессии, удовлетворяющее всем требуемым условиям.

Ответ: 1.

311. Пусть a — первый член прогрессии, а d — её разность. Тогда $d > 0$ и числа $a, a + d, a + 3d$ образуют геометрическую прогрессию. По свойству геометрической прогрессии имеем: $(a + d)^2 = a(a + 3d)$; $a^2 + 2ad + d^2 = a^2 + 3ad$; $d^2 = ad$. Сократив на d ($d \neq 0$), получим $d = a$.

То есть числа a , $a + d$ и $a + 3d$ равны соответственно числам a , $2a$ и $4a$. Они образуют геометрическую прогрессию со знаменателем 2.

Ответ: 2.

312. Пусть a — первый член прогрессии, а d — её разность. Тогда $d > 0$ и числа a^2 , $(a + d)^2$ и $(a + 4d)^2$ образуют геометрическую прогрессию. Согласно свойству геометрической прогрессии имеем:

$(a + d)^4 = a^2(a + 4d)^2$; $(a + d)^2 = |a(a + 4d)|$. Так как $a > 0$, $d > 0$, то $(a + d)^2 = a(a + 4d)$; $a^2 + 2ad + d^2 = a^2 + 4ad$; $d^2 = 2ad$ (сокращаем на $d \neq 0$), $d = 2a$. То есть числа a^2 , $(a + d)^2$ и $(a + 4d)^2$ равны соответственно числам a^2 , $9a^2$ и $81a^2$. Они образуют геометрическую прогрессию со знаменателем 9.

Ответ: 9.

313. Обозначим искомые числа через x , y , z . По условию, $x + y + z = 28$. Так как x , y , z образуют геометрическую прогрессию, то $xz = y^2$.

Из второго условия следует, что числа $x + 1$, $y + 2$, $z - 1$ образуют арифметическую прогрессию, следовательно, $(x + 1) + (z - 1) = 2(y + 2)$.

Таким образом, получаем систему из трёх уравнений с тремя неизвестными:

$$\begin{cases} x + y + z = 28, \\ x + z = 2y + 4, \\ xz = y^2. \end{cases}$$

Вычтя из первого уравнения второе, получим $y = 24 - 2y$, откуда $y = 8$. Подставив найденное значение y во второе и третье уравнения, получим систему:

$$\begin{cases} y = 8, \\ x + z = 20, \\ xz = 64; \end{cases} \Leftrightarrow \begin{cases} y = 8, \\ z = 20 - x, \\ x(20 - x) = 64. \end{cases}$$

Решая уравнение $x(20 - x) = 64$, находим $x_1 = 4$, $x_2 = 16$. Значения неизвестной z соответственно равны $z_1 = 20 - 4 = 16$, $z_2 = 20 - 16 = 4$. Получаем два набора чисел: 1) $x = 4$, $y = 8$, $z = 16$; 2) $x = 16$, $y = 8$, $z = 4$.

Первый набор удовлетворяет условию, а второй — нет, так как числа $16 + 1 = 17$, $8 + 2 = 10$, $4 - 1 = 3$ образуют убывающую прогрессию.

Ответ: 4; 8; 16.

314. Обозначим искомые числа через x , y , z . По условию, $x + y + z = 21$. Так как x , y , z образуют геометрическую прогрессию, то $xz = y^2$.

Из второго условия следует, что числа $x + 1$, $y + 1$, $z - 2$ образуют арифметическую прогрессию, следовательно, $(x + 1) + (z - 2) = 2(y + 1)$.

Таким образом, получаем систему из трёх уравнений с тремя неизвестными:

$$\begin{cases} x + y + z = 21, \\ x + z = 2y + 3, \\ xz = y^2. \end{cases}$$

Вычитая из первого уравнения второе, получим $y = 18 - 2y$, откуда $y = 6$. Подставив найденное значение y во второе и третье уравнения, получим систему:

$$\begin{cases} y = 6, \\ x + z = 15, \\ xz = 36; \end{cases} \Leftrightarrow \begin{cases} y = 6, \\ z = 15 - x, \\ x(15 - x) = 36. \end{cases}$$

Решая уравнение $x(15 - x) = 36$, находим $x_1 = 3$, $x_2 = 12$. Значения неизвестной z соответственно равны $z_1 = 15 - 3 = 12$, $z_2 = 15 - 12 = 3$. Получаем два набора чисел: 1) $x = 3$, $y = 6$, $z = 12$; 2) $x = 12$, $y = 6$, $z = 3$.

Второй набор удовлетворяет условию, а первый — нет, так как числа $3 + 1 = 4$, $6 + 1 = 7$, $12 - 2 = 10$ образуют возрастающую арифметическую прогрессию.

Ответ: 12; 6; 3.

315. Пусть b_1 , b_2 , b_3 — данные положительные числа, q — знаменатель геометрической прогрессии, тогда $b_2 = b_1q$; $b_3 = b_1q^2$. По условию числа b_1 , b_2 , $\frac{b_3}{5}$ образуют арифметическую прогрессию, следовательно-

но, $2b_2 = b_1 + \frac{b_3}{5}$; $2b_1q = b_1 + \frac{1}{5}b_1q^2$. Заметим, что $b_1 \neq 0$, $q > 1$,

иначе прогрессия b_1 , b_2 , b_3 не является возрастающей. Следовательно,

$2q = 1 + \frac{1}{5}q^2$; $q^2 - 10q + 5 = 0$; $q_{1,2} = 5 \pm 2\sqrt{5}$. Значение $q = 5 - 2\sqrt{5}$

не удовлетворяет условию $q > 1$, а значение $q = 5 + 2\sqrt{5}$ этому условию удовлетворяет, то есть является искомым.

Ответ: $5 + 2\sqrt{5}$.

316. Пусть b_1 , b_2 , b_3 — данные положительные числа, q — знаменатель геометрической прогрессии, тогда $b_2 = b_1q$, $b_3 = b_1q^2$. По условию, числа b_1 , b_2 , $0,8b_3$ образуют арифметическую прогрессию, следовательно, $2b_2 = b_1 + 0,8b_3$; $2b_1q = b_1 + 0,8b_1q^2$. Заметим, что $b_1 \neq 0$, $0 < q < 1$.

Следовательно, $2q = 1 + 0,8q^2$; $4q^2 - 10q + 5 = 0$; $q_{1,2} = \frac{5 \pm \sqrt{5}}{4}$.

Значение $q = \frac{5 + \sqrt{5}}{4}$ не удовлетворяет условию $0 < q < 1$, а значение $q = \frac{5 - \sqrt{5}}{4}$ этому условию удовлетворяет, то есть является искомым.

Ответ: $\frac{5 - \sqrt{5}}{4}$.

317. Предположим, что такая прогрессия существует. Обозначим её знаменатель через q . Тогда $\frac{b_m}{b_n} = q^{m-n}$ ($m, n \in N, m > n$). То есть

$$\frac{b_5}{b_2} = \frac{12}{4} = 3 = q^3; \quad \frac{b_8}{b_5} = \frac{32}{12} = \frac{8}{3} = q^3. \text{ Отсюда } 3 = \frac{8}{3}. \text{ Противоречие.}$$

Значит, наше предположение было неверно и геометрической прогрессии с указанными членами не существует.

Ответ: нет.

318. Покажем, что данная прогрессия существует. По данным задачи находим:

$$1) \frac{b_6}{b_1} = \frac{8 - 4\sqrt{2}}{1 - \sqrt{2}} = \frac{4(2 - \sqrt{2})}{1 - \sqrt{2}} = \frac{4(2 - \sqrt{2})(1 + \sqrt{2})}{(1 - \sqrt{2})(1 + \sqrt{2})} = -4\sqrt{2} = (-\sqrt{2})^5;$$

$$2) \frac{b_4}{b_1} = \frac{4 - 2\sqrt{2}}{1 - \sqrt{2}} = \frac{2(2 - \sqrt{2})}{1 - \sqrt{2}} = -2\sqrt{2} = (-\sqrt{2})^3;$$

$$3) \frac{b_8}{b_4} = \frac{8 - 4\sqrt{2}}{4 - 2\sqrt{2}} = \frac{2(4 - 2\sqrt{2})}{4 - 2\sqrt{2}} = 2 = (-2)^2.$$

Следовательно, данные числа образуют геометрическую прогрессию со знаменателем $q = -\sqrt{2}$.

Ответ: да.

319. Покажем, что указанная прогрессия существует. По данным задачи находим:

$$1) \frac{b_6}{b_1} = \frac{63\sqrt{3}}{-7} = -9\sqrt{3} = (-\sqrt{3})^5;$$

$$2) \frac{b_4}{b_1} = \frac{21\sqrt{3}}{-7} = -3\sqrt{3} = (-\sqrt{3})^3;$$

$$3) \frac{b_8}{b_4} = \frac{63\sqrt{3}}{21\sqrt{3}} = 3 = (-\sqrt{3})^2.$$

Следовательно, данные числа образуют геометрическую прогрессию со знаменателем $q = -\sqrt{3}$.

Ответ: да.

320. Пусть q — знаменатель данной прогрессии. Так как по условию

$$\begin{cases} b_2 - b_4 = 3, \\ b_1 - b_3 = 6, \end{cases} \text{ то } \begin{cases} b_1 q - b_1 q^3 = 3, \\ b_1 - b_1 q^2 = 6; \end{cases} \Leftrightarrow \begin{cases} b_1 q(1 - q^2) = 3; \\ b_1(1 - q^2) = 6. \end{cases}$$

Разделим первое равенство на второе ($b_1 \neq 0, q \neq \pm 1$). Получим $q = \frac{1}{2}$. Из второго уравнения системы получим $b_1 = 8$. Сумма данной

$$\text{прогрессии } S = \frac{b_1}{1 - q}; S = \frac{8}{1 - 0,5} = 16.$$

Ответ: 16.

321. Пусть q — знаменатель данной прогрессии. Так как по условию задачи

$$\begin{cases} b_2 + b_4 = \frac{20}{3}, \\ b_1 + b_3 = 20, \end{cases} \text{ то } \begin{cases} b_1 q + b_1 q^3 = \frac{20}{3}, \\ b_1 + b_1 q^2 = 20; \end{cases} \Leftrightarrow \begin{cases} b_1 q(1 + q^2) = \frac{20}{3}, \\ b_1(1 + q^2) = 20. \end{cases}$$

Разделим первое уравнение системы на второе ($b_1 \neq 0, q \neq \pm 1$). Получим $q = \frac{1}{3}$. Из второго уравнения системы получим $b_1 = 18$. Сумма данной

$$\text{прогрессии } S = \frac{b_1}{1 - q} = \frac{18}{1 - \frac{1}{3}} = 27.$$

Ответ: 27.

322. Пусть b_1 — первый член прогрессии, q — её знаменатель. Согласно

$$\text{условию } q \neq 0 \text{ и } \begin{cases} b_1 \cdot q^2 = -18, \\ b_1 \cdot q^5 = 486; \end{cases} \Leftrightarrow \begin{cases} q^3 = -27, \\ b_1 = -\frac{18}{q^2}; \end{cases} \Leftrightarrow \begin{cases} q = -3, \\ b_1 = -2. \end{cases}$$

Следовательно, сумма первых трёх членов данной прогрессии

$$S_3 = \frac{b_1(q^3 - 1)}{q - 1} = \frac{-2 \cdot (-28)}{-4} = -14.$$

Ответ: -14.

323. Пусть b_1 — первый член данной прогрессии, q — её знаменатель. Со-

$$\text{гласно условию, } q \neq 0 \text{ и } \begin{cases} b_1 q^3 = -32, \\ b_1 q^8 = 1024; \end{cases} \Leftrightarrow \begin{cases} q^5 = -32, \\ b_1 = -\frac{32}{q^3}; \end{cases} \Leftrightarrow \begin{cases} q = -2, \\ b_1 = 4. \end{cases}$$

Следовательно, сумма первых четырёх членов данной прогрессии

$$S_4 = \frac{b_1(q^4 - 1)}{q - 1} = \frac{4 \cdot 15}{-3} = -20.$$

Ответ: -20 .

324. В данной геометрической прогрессии $b_1 = 3$; $q = \frac{1}{3}$. Так как $\frac{1}{81} = 3 \cdot \left(\frac{1}{3}\right)^5 = b_1 q^5$, то число $\frac{1}{81}$ является членом данной прогрессии.

Ответ: да.

325. В данной геометрической прогрессии $b_1 = 0,5$; $q = \frac{1}{0,5} = 2$. Так как $64 = 0,5 \cdot 2^7 = b_1 q^7$, то число 64 является членом данной прогрессии.

Ответ: да.

327. Согласно условию, имеем систему уравнений:
$$\begin{cases} b_1 + b_2 + b_3 = 14, \\ \frac{1}{b_1} + \frac{1}{b_2} + \frac{1}{b_3} = \frac{7}{8}; \end{cases}$$

где $b_1 > 0$, $b_2 > 0$, $b_3 > 0$.

Так как числа b_1, b_2 и b_3 образуют геометрическую прогрессию, то $b_2 = qb_1$; $b_1 = \frac{b_2}{q}$, $b_3 = qb_2$, где $q \neq 0$. Подставляя значения b_1 и b_3 в систему уравнений, получаем:

$$\begin{cases} \frac{b_2}{q} + b_2 + b_2 q = 14, \\ \frac{q}{b_2} + \frac{1}{b_2} + \frac{1}{b_2 q} = \frac{7}{8}; \end{cases} \Leftrightarrow \begin{cases} b_2(1 + q + q^2) = 14q, \\ q^2 + q + 1 = \frac{7b_2 q}{8}; \end{cases} \Leftrightarrow$$

$$\Leftrightarrow \begin{cases} \frac{7b_2^2 q}{8} = 14q, \\ q^2 + q + 1 = \frac{7b_2 q}{8}. \end{cases}$$

Из первого уравнения системы получаем: $b_2^2 = 16$; $b_2 = -4$ или $b_2 = 4$. Так как $b_2 > 0$, то $b_2 = 4$.

Тогда $b_1 b_2 b_3 = \frac{b_2}{q} \cdot b_2 \cdot qb_2 = b_2^3 = 64$.

Ответ: 64.

328. $y = -\frac{9x + x^3}{3x}.$

Найдём область определения функции, зная, что дробь определена, если знаменатель отличен от нуля: $D(y) = (-\infty; 0) \cup (0; +\infty)$. На $D(y)$ имеем:

$$-\frac{x \cdot (9 + x^2)}{3x} = -\frac{9 + x^2}{3} = -\frac{1}{3}x^2 - 3.$$

Графиком функции $y = -\frac{1}{3}x^2 - 3$ при $x \neq 0$ является парабола с вершиной $(0; -3)$, не принадлежащей ей, ветви направлены вниз. Составим таблицу:

x	-3	-1	1	3
y	-6	$-3\frac{1}{3}$	$-3\frac{1}{3}$	-6

График функции изображён на рисунке 19.

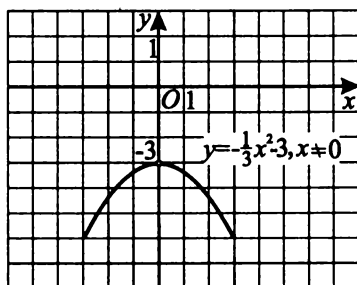


Рис. 19

$$329. y = \frac{8x - x^3}{4x}.$$

Найдём область определения функции, зная, что дробь определена, если знаменатель отличен от нуля: $D(y) = (-\infty; 0) \cup (0; +\infty)$. На $D(y)$ имеем:

$$\frac{8x - x^3}{4x} = \frac{x \cdot (8 - x^2)}{4x} = \frac{8 - x^2}{4} = -\frac{1}{4}x^2 + 2.$$

Графиком функции $y = -\frac{1}{4}x^2 + 2$ при $x \neq 0$ является парабола с вершиной $(0; 2)$, не принадлежащей графику, ветви направлены вниз. Составим таблицу:

x	-2	-1	1	2
y	1	$1\frac{3}{4}$	$1\frac{3}{4}$	1

График заданной функции изображён на рисунке 20.

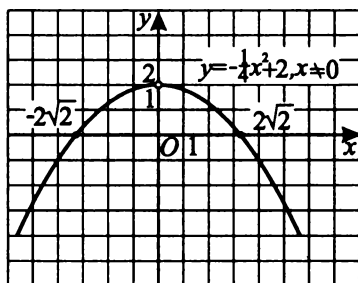


Рис. 20

330. $y = \frac{x^3 + 3x^2 - 4x - 12}{2x + 6}$. Найдём область определения функции,

зная, что дробь определена, если знаменатель отличен от нуля:

$D(y) = (-\infty; -3) \cup (-3; +\infty)$. На $D(y)$ имеем:

$$y = \frac{x^2 \cdot (x + 3) - 4 \cdot (x + 3)}{2 \cdot (x + 3)} = \frac{(x^2 - 4) \cdot (x + 3)}{2 \cdot (x + 3)} = \frac{1}{2}x^2 - 2.$$

Графиком функции $y = \frac{1}{2}x^2 - 2$ при $x \neq -3$ является парабола, ветви которой направлены вверх, вершина находится в точке с координатами $(0; -2)$.

Так как $x \neq -3$, то точка с координатами $(-3; 2,5)$ не принадлежит графику.

Составим таблицу:

x	-2	-1	1	2
y	0	-1,5	-1,5	0

График заданной функции изображён на рисунке 21.

$$331. y = \begin{cases} \frac{1}{x}, & \text{если } x \geq 1, \\ -(x-1)^2 + 1, & \text{если } x < 1. \end{cases}$$

1) $y = \frac{1}{x}$, если $x \geq 1$. Составим таблицу:

x	1	2	4
y	1	0,5	0,25

2) $y = -(x-1)^2 + 1$, если $x < 1$. График есть ветвь параболы (ветви направлены вниз, вершина $(1; 1)$).

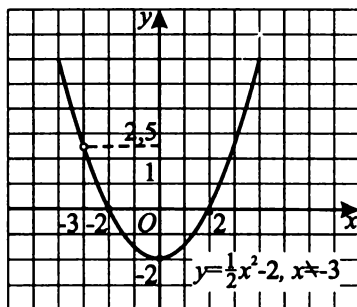


Рис. 21

Составим таблицу:

x	0	-1
y	0	-3

График заданной функции изображён на рисунке. 22.

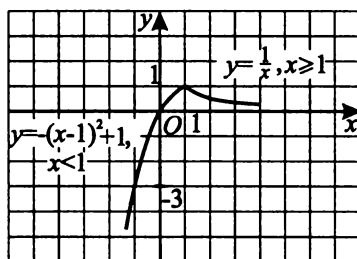


Рис. 22

332. График функции состоит из двух частей:

- 1) для неотрицательных x — это график функции $y = -(x-1)^2$ — парабола, ветви направлены вниз, вершина $(1; 0)$;
- 2) для отрицательных x — это график функции $y = x^2 + 2x - 1$ — парабола, ветви направлены вверх, вершина $(-1; -2)$.

График заданной функции изображён на рис. 23.

333. 1) Графиком функции $y = (x-3)^2 - 2$, $x \geq 1$ является парабола, ветви которой направлены вверх, а вершина находится в точке с координатами $(3; -2)$.

Дополнительные точки:

x	1	2	4	3
y	2	-1	-1	-2

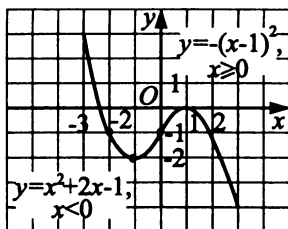


Рис. 23

2) Графиком функции $y = -2x^2 + 4$, $x < 1$ является парабола, ветви которой направлены вниз, вершина находится в точке с координатами $(0; 4)$.

Дополнительные точки:

x	-1	-2
y	2	-4

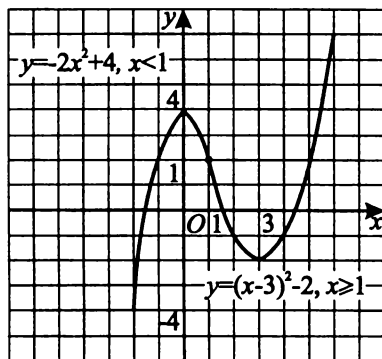


Рис. 24

График заданной функции изображён на рис. 24.

$$334. y = \frac{x^2 - 4x + 3}{x - 3}.$$

Разложим на множители числитель дроби: $y = \frac{(x-1)(x-3)}{x-3}$.

Найдём область определения функции, зная, что дробь определена, если знаменатель отличен от нуля: $D(y) = (-\infty; 3) \cup (3; +\infty)$.

На найденной области определения функция примет вид $y = x - 1$. Так как $x \neq 3$, то $y \neq 2$. Графиком функции является прямая без точки $(3; 2)$.

Составим таблицу:

x	0	1
y	-1	0

График заданной функции изображён на рисунке 25.

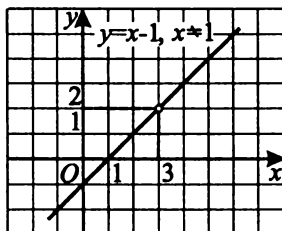


Рис. 25

$$335. y = \frac{x-4}{x^2-4x}.$$

Разложим на множители знаменатель дроби: $y = \frac{x-4}{x(x-4)}$.

Найдём область определения функции, зная, что дробь определена, если знаменатель не равен нулю.

$$D(y) = (-\infty; 0) \cup (0; 4) \cup (4; +\infty).$$

На найденной области определения функция примет вид $y = \frac{1}{x}$. Так как

$$x \neq 4, \text{ то } y \neq \frac{1}{4}.$$

Графиком функции является гипербола без точки $(4; \frac{1}{4})$.

Составим таблицу:

x	$\frac{1}{4}$	$\frac{1}{2}$	1	2
y	4	2	1	$\frac{1}{2}$

График заданной функции изображён на рисунке 26.

$$336. y = x + \sqrt{x^2 - 6x + 9} + \sqrt{9 - 12x + 4x^2},$$

$$y = x + \sqrt{(x-3)^2} + \sqrt{(2x-3)^2}, y = x + |x-3| + |2x-3|.$$

1) Найдём, при каких значениях x выражения, стоящие под знаком модуля, равны нулю.

$$x-3=0, x=3; 2x-3=0, x=1,5.$$

2) Рассмотрим функцию на каждом промежутке (см. рис. 27):

а) $x < 1,5$. $y = x + 3 - x + 3 - 2x, y = -2x + 6$.

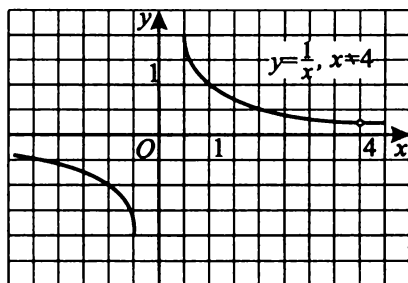


Рис. 26

x	0	1
y	6	4

$$б) 1,5 \leq x < 3. y = x + 3 - x + 2x - 3, y = 2x.$$

x	1,5	2
y	3	4

$$в) x \geq 3. x + x - 3 + 2x - 3, y = 4x - 6.$$

x	3	4
y	6	10

$$\text{Итак, } y = \begin{cases} -2x + 6, & \text{если } x < 1,5, \\ 2x, & \text{если } 1,5 \leq x < 3, \\ 4x - 6, & \text{если } x \geq 3. \end{cases}$$

График заданной функции изображён на рисунке 28.

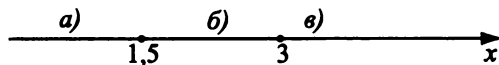


Рис. 27

$$337. y = \sqrt{16x^2 + 56x + 49} + \sqrt{x^2 - 4x + 4} - 5x, \\ y = \sqrt{(4x + 7)^2} + \sqrt{(x - 2)^2} - 5x, y = |4x + 7| + |x - 2| - 5x.$$

1) Найдём нули выражений, стоящих в модульных скобках:

$$4x + 7 = 0, x = -1,75; x - 2 = 0, x = 2.$$

2) Рассмотрим функцию на каждом промежутке (см. рис. 29):

$$а) x < -1,75. y = -4x - 7 + 2 - x - 5x, y = -10x - 5.$$

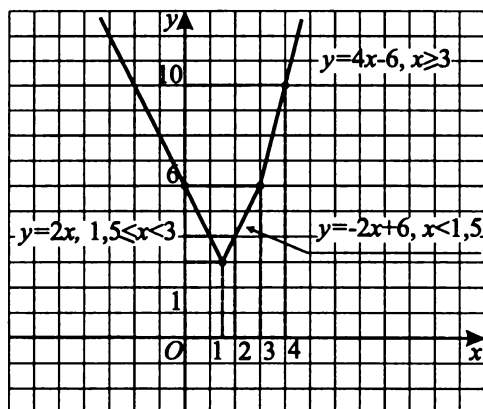


Рис. 28

x	-2	-2,5
y	15	20

б) $-1,75 \leq x < 2$. $y = 4x + 7 + 2 - x - 5x$, $y = -2x + 9$.

x	0	1
y	9	7

в) $x \geq 2$ $y = 4x + 7 + x - 2 - 5x$, $y = 5$.

Итак, $y = \begin{cases} -10x - 5, & \text{если } x < -1,75, \\ -2x + 9, & \text{если } -1,75 \leq x < 2, \\ 5, & \text{если } x \geq 2. \end{cases}$

График заданной функции изображён на рисунке 30.

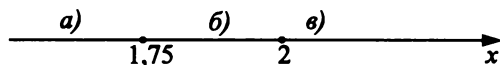


Рис. 29

$$338. y = \frac{(x^2 - 5x + 6)(x^2 - 5x + 4)}{(x - 4)(2 - x)}.$$

Разложим на множители квадратные трёхчлены, стоящие в числителе:

$$y = -\frac{(x - 2) \cdot (x - 3) \cdot (x - 1) \cdot (x - 4)}{(x - 4) \cdot (x - 2)}.$$

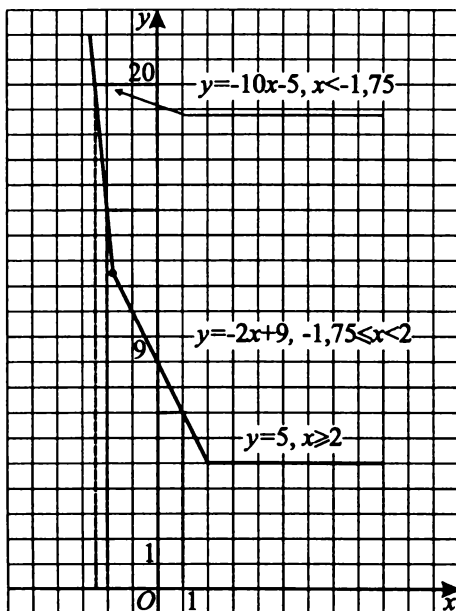


Рис. 30

Найдём область определения функции, зная, что дробь определена, если знаменатель отличен от нуля:

$$D(y) = (-\infty; 2) \cup (2; 4) \cup (4; +\infty).$$

На найденной области определения функция примет вид:

$y = -(x-3) \cdot (x-1)$ или $y = -x^2 + 4x - 3$. Так как $x \neq 2$ и $x \neq 4$, то $y \neq 1$ и $y \neq -3$.

Графиком функции является парабола с вершиной $(2; 1)$, ветви которой направлены вниз. $(2; 1)$ и $(4; -3)$ — не принадлежат параболе.

Дополнительные точки:

x	0	1	3
y	-3	0	0

График заданной функции изображён на рисунке 31.

339. Область определения $D(y) : x \neq 2, x \neq 3$.

$y = -\frac{(x-1)(x-3)(x-2)(x-4)}{(x-3)(x-2)} = -(x-1)(x-4)$. Так как $x \neq 2$, $x \neq 3$, то $y \neq 2$.

$y = -(x^2 - 5x + 4) = -x^2 + 5x - 4$. Графиком функции является

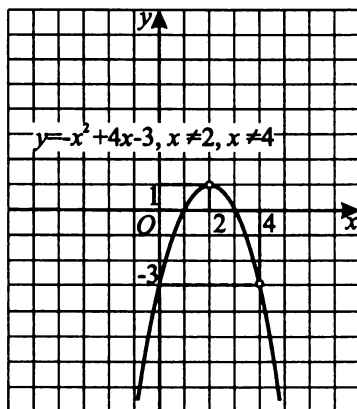


Рис. 31

парабола, ветви направлены вверх, вершина в точке с координатами $(2,5; 2,25)$. Точки $(2; 2)$ и $(3; 2)$ не принадлежат параболе.

График заданной функции изображён на рисунке 32.

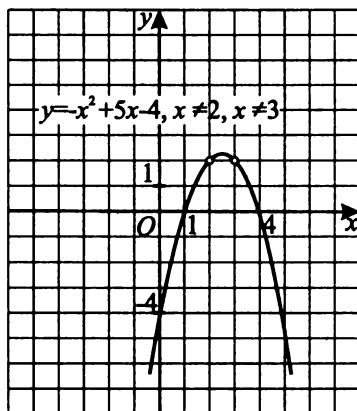


Рис. 32

341. По условию $a > 0$, поэтому данную функцию можно представить в виде $y = a \left| x^2 + \frac{b}{a}x + \frac{c}{a} \right|$. Из рисунка 33 следует, что квадратный трёх-член $x^2 + \frac{b}{a}x + \frac{c}{a}$ имеет корни $x_1 = -1$, $x_2 = 5$. Отсюда, согласно

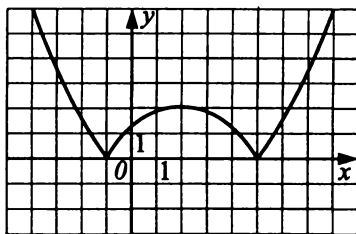


Рис. 33

теореме Виета, получаем: $\frac{b}{a} = -(x_1 + x_2) = -4$, $\frac{c}{a} = x_1 \cdot x_2 = -5$, то есть $x^2 + \frac{b}{a}x + \frac{c}{a} = x^2 - 4x - 5$. Вершина параболы $y = x^2 - 4x - 5$ имеет абсциссу $x = \frac{-(-4)}{2} = 2$ и ординату $y = 2^2 - 4 \cdot 2 - 5 = -9$. С другой стороны, из рисунка 33 следует, что вершина параболы $y = a\left(x^2 + \frac{b}{a}x + \frac{c}{a}\right)$ имеет ординату, равную -2 . Следовательно, $a \cdot (-9) = -2$, $a = \frac{2}{9} \Rightarrow b = \frac{b}{a} \cdot a = (-4) \cdot \frac{2}{9} = -\frac{8}{9}$, $c = \frac{c}{a} \cdot a = (-5) \cdot \frac{2}{9} = -\frac{10}{9}$.

Ответ: $a = \frac{2}{9}$, $b = -\frac{8}{9}$, $c = -\frac{10}{9}$.

342. Угловые коэффициенты k_1 и k_2 , отличные от нуля, перпендикулярных прямых удовлетворяют соотношению $k_1 \cdot k_2 = -1$. Поэтому множество прямых, перпендикулярных прямой $y = 0,125x$, имеет вид $y = -8x + b$, где b — произвольное действительное число. Для того чтобы прямая $y = -8x + b$ касалась параболы $y = x^2 - 1$, уравнение $x^2 - 1 = -8x + b$ должно иметь единственное решение. Тогда трёхчлен $x^2 + 8x - 1 - b$ должен быть полным квадратом. Следовательно, абсцисса точки касания $x = -4$, тогда ордината $y = (-4)^2 - 1 = 15$.

Ответ: $(-4; 15)$.

343. Так как по условию прямая $y = 0,25x$ перпендикулярна прямой

$y = kx + b$, то $k = -\frac{1}{0,25} = -4$, значит, $y = -4x + b$. Найдём b из условия, что эта прямая касается параболы $y = 4x^2 + 8x + 7$, то есть уравнение $4x^2 + 8x + 7 = -4x + b$ имеет один корень (два равных).

Имеем: $4x^2 + 12x + 7 - b = 0$, $D = 0$. $D = 144 - 112 + 16b = 0$, $b = -2$.

Уравнение прямой примет вид: $y = -4x - 2$.

Найдём координаты точки касания, решив систему уравнений:

$$\begin{cases} y = 4x^2 + 8x + 7, & 4x^2 + 8x + 7 = -4x - 2, & 4x^2 + 12x + 9 = 0, \\ y = -4x - 2, \end{cases}$$

$$(2x + 3)^2 = 0, x = -\frac{3}{2}, y = 4.$$

Ответ: $\left(-\frac{3}{2}; 4\right)$.

344. а) Уравнение касательной, параллельной прямой $y = 3x - 2$, имеет вид: $y = 3x + b$.

б) Вычислим b , зная, что прямая $y = 3x + b$ касается параболы

$y = 2x^2 - 3x + 5$. Для этого необходимо, чтобы уравнение

$2x^2 - 3x + 5 = 3x + b$ имело один корень (два равных).

$$2x^2 - 6x + 5 - b = 0, D = 0, D = 36 - 8 \cdot 5 + 8b = 8b - 4, 8b - 4 = 0, b = \frac{1}{2}.$$

$y = 3x + \frac{1}{2}$ — уравнение касательной.

в) Найдём координаты точки касания, решив систему уравнений:

$$\begin{cases} y = 3x + \frac{1}{2}, & 2x^2 - 3x + 5 = 3x + \frac{1}{2}, & 2x^2 - 6x + 4,5 = 0, \\ y = 2x^2 - 3x + 5, \end{cases}$$

$$4x^2 - 12x + 9 = 0, (2x - 3)^2 = 0, x = \frac{3}{2} = 1,5, y = 3 \cdot 1,5 + 0,5 = 5.$$

$(1,5; 5)$ — искомые координаты.

Ответ: $(1,5; 5)$.

345. а) Уравнение касательной, параллельной прямой $y = x + 3$, имеет вид: $y = x + b$.

б) Вычислим b , зная, что прямая $y = x + b$ касается параболы

$y = 2x^2 - 3x + 6$. Для этого необходимо, чтобы уравнение

$2x^2 - 3x + 6 = x + b$ имело один корень (два равных).

$$2x^2 - 4x + 6 - b = 0, D = 0, D = 16 - 48 + 8b = -32 + 8b, -32 + 8b = 0, b = 4.$$

$y = x + 4$ — уравнение касательной.

в) Найдём координаты точки касания, решив систему уравнений:

$$\begin{cases} y = x + 4, \\ y = 2x^2 - 3x + 6; \end{cases} \quad 2x^2 - 3x + 6 = x + 4, \quad 2x^2 - 4x + 2 = 0, \quad x^2 - 2x + 1 = 0,$$

$$(x - 1)^2 = 0, \quad x = 1, \quad y = 5.$$

(1; 5) — искомые координаты.

Ответ: (1; 5).

346. По условию прямая $y = 6x$ параллельна прямой $y = kx + b$. Тогда $k = 6$ и прямая имеет вид $y = 6x + b$. Она касается параболы $y = x^2 + 5$. Значит, уравнение $x^2 + 5 = 6x + b$ имеет один корень (два равных).
 $x^2 - 6x + 5 - b = 0$, $D = 0$, $D = -4 \cdot (5 - b)$, $36 - 20 + 4b = 0$, $4b = -16$,
 $b = -4$.

Уравнение касательной: $y = 6x - 4$.

Координаты точки касания найдём, решив систему уравнений:

$$\begin{cases} y = x^2 + 5, \\ y = 6x - 4. \end{cases} \quad x^2 + 5 = 6x - 4, \quad x^2 - 6x + 9 = 0, \quad (x - 3)^2 = 0, \quad x = 3,$$

$$y = 14.$$

Ответ: (3; 14).

347. 1) Так как касательная параллельна прямой $y = 14x$, то её уравнение $y = 14x + b$.

Вычислим b , зная, что прямая $y = 14x + b$ касается параболы $y = x^2 + 9$, то есть $x^2 + 9 = 14x + b$.

Уравнение $x^2 - 14x + 9 - b = 0$ имеет один корень (два равных), тогда $D = 0$, $D = 196 - 4 \cdot (9 - b)$, $196 - 36 + 4b = 0$, $4b = -160$, $b = -40$.

Уравнение касательной: $y = 14x - 40$.

2) Координаты точки касания найдём, решив систему уравнений:

$$\begin{cases} y = x^2 + 9, \\ y = 14x - 40. \end{cases} \quad x^2 + 9 = 14x - 40, \quad x^2 - 14x + 49 = 0, \quad (x - 7)^2 = 0, \quad x = 7,$$

$$y = 58.$$

Ответ: (7; 58).

348. а) Уравнение касательной, параллельной прямой $y = 4x$, имеет вид: $y = 4x + b$.

б) Вычислим b , зная, что прямая $y = 4x + b$ касается параболы $y = x^2 + 3$, то есть $x^2 + 3 = 4x + b$.

Уравнение $x^2 - 4x + 3 - b = 0$ имеет один корень (два равных), тогда $D = 0$, $D = 16 - 4 \cdot (3 - b)$, $16 - 12 + 4b = 0$, $4 + 4b = 0$, $b = -1$.

Уравнение касательной: $y = 4x - 1$.

в) Координаты точки касания найдём, решив систему уравнений:

$$\begin{cases} y = x^2 + 3, \\ y = 4x - 1, \end{cases} \quad x^2 + 3 = 4x - 1, x^2 - 4x + 4 = 0, (x - 2)^2 = 0, x = 2, y = 7.$$

Ответ: (2; 7).

349. а) Уравнение касательной, параллельной прямой $y = 2x$, имеет вид: $y = 2x + b$.

б) Вычислим b , зная, что прямая $y = 2x + b$ касается параболы $y = x^2 - 14$, то есть $x^2 - 14 = 2x + b$.

Уравнение $x^2 - 2x - 14 - b = 0$ имеет один корень (два равных).

Тогда $D = 0$, $D = 4 + 4 \cdot (14 + b) = 60 + 4b$, $60 + 4b = 0$, $b = -15$.

Уравнение касательной: $y = 2x - 15$.

в) Координаты точки касания найдём, решив систему уравнений:

$$\begin{cases} y = x^2 - 14, \\ y = 2x - 15. \end{cases} \quad x^2 - 14 = 2x - 15, x^2 - 2x + 1 = 0, (x - 1)^2 = 0, x = 1, \\ y = -13.$$

Ответ: (1; -13).

351. Найдём b и c , используя данные задачи. Так как парабола касается прямых $y = x + 1$, $y = 5 - 3x$, то каждое из уравнений: $-x^2 + bx + c = x + 1$ и $-x^2 + bx + c = 5 - 3x$ имеет единственный корень (два равных). Следовательно, дискриминанты уравнений $x^2 + (1 - b)x + 1 - c = 0$, $x^2 - (3 + b)x + 5 - c = 0$ равны нулю. Таким образом, получаем систему

$$\text{уравнений: } \begin{cases} (1 - b)^2 - 4(1 - c) = 0, \\ (3 + b)^2 - 4(5 - c) = 0; \end{cases} \Leftrightarrow \begin{cases} 1 - 2b + b^2 - 4 + 4c = 0, \\ 9 + 6b + b^2 - 20 + 4c = 0; \end{cases}$$

$$\Leftrightarrow \begin{cases} b^2 - 2b + 4c = 3, \\ b^2 + 6b + 4c = 11. \end{cases} \quad \text{Вычитая из нижнего уравнения верхнее, приходим к уравнению } 8b = 8 \Rightarrow b = 1.$$

Подставляя найденное значение b в первое уравнение последней системы, находим $1 - 2 + 4c = 3 \Rightarrow c = 1$. Поэтому искомое уравнение параболы: $y = -x^2 + x + 1$.

Ответ: x .

352. 1. Найдём координаты концов отрезка, решив систему уравнений:

$$\begin{cases} y = 2|x| + 1, \\ y = 4x^2 + 2x - 1. \end{cases}$$

$$1) \ x \geq 0; \quad \begin{cases} y = 2x + 1, \\ y = 4x^2 + 2x - 1; \end{cases} \quad 2x + 1 = 4x^2 + 2x - 1; \quad 4x^2 - 2 = 0;$$

$$x^2 - \frac{1}{2} = 0; \quad \left(x - \frac{1}{\sqrt{2}}\right)\left(x + \frac{1}{\sqrt{2}}\right) = 0.$$

Условию $x \geq 0$ удовлетворяет $x_1 = \frac{1}{\sqrt{2}}$, $y_1 = \frac{2}{\sqrt{2}} + 1 = \sqrt{2} + 1$,

$$A\left(\frac{1}{\sqrt{2}}; \sqrt{2} + 1\right).$$

$$2) x < 0, \begin{cases} y = -2x + 1, \\ y = 4x^2 + 2x - 1, \end{cases} \quad -2x + 1 = 4x^2 + 2x - 1, \quad 2x^2 + 2x - 1 = 0,$$

$$D = 4 + 8 = 12 = (2\sqrt{3})^2,$$

$$x_2 = \frac{-1 + \sqrt{3}}{2} \text{ (не удовлетворяет условию } x < 0),$$

$$x_3 = \frac{-1 - \sqrt{3}}{2} \text{ (удовлетворяет условию } x < 0), \quad y_3 = 1 + \sqrt{3} + 1 = 2 + \sqrt{3},$$

$$B\left(\frac{-1 - \sqrt{3}}{2}; 2 + \sqrt{3}\right).$$

2. Найдём координаты середины отрезка:

$$x_0 = \frac{x_A + x_B}{2} = \frac{1}{2\sqrt{2}} + \frac{-1 - \sqrt{3}}{4} = \frac{2 - \sqrt{2} - \sqrt{6}}{4\sqrt{2}} = \frac{\sqrt{2} - 1 - \sqrt{3}}{4} =$$

$$= \frac{-1 - \sqrt{3} + \sqrt{2}}{4},$$

$$y_0 = \frac{y_A + y_B}{2} = \frac{\sqrt{2} + 1 + 2 + \sqrt{3}}{2} = \frac{3 + \sqrt{3} + \sqrt{2}}{2}.$$

$$\text{Ответ: } \left(\frac{-1 - \sqrt{3} + \sqrt{2}}{4}; \frac{3 + \sqrt{3} + \sqrt{2}}{2}\right).$$

354. Запишем уравнение параболы $y = ax^2 + bx + c$, где a, b, c — заданные числа и $a \neq 0$.

По условию известно, что точки с координатами $(-1; -5)$, $(0; -4)$ и $(1; 1)$ лежат на этой параболы, значит, $y(-1) = -5$, $y(0) = -4$, $y(1) = 1$.

Найдём числа a, b, c , решив систему уравнений:

$$\begin{cases} a - b + c = -5, \\ c = -4, \\ a + b + c = 1; \end{cases} \Leftrightarrow \begin{cases} a - b - 4 = -5, \\ c = -4, \\ a + b - 4 = 1; \end{cases} \Leftrightarrow \begin{cases} a - b = -1, \\ c = -4, \\ a + b = 5; \end{cases} \Leftrightarrow$$

$$\Leftrightarrow \begin{cases} a = 2, \\ b = 3, \\ c = -4. \end{cases}$$

Уравнение параболы примет вид: $y = 2x^2 + 3x - 4$.

Найдём координаты вершины.

$$x_0 = -\frac{b}{2a}, \quad x_0 = -\frac{3}{2 \cdot 2} = -\frac{3}{4},$$

$$y_0 = 2 \cdot \left(-\frac{3}{4}\right)^2 + 3 \cdot \left(-\frac{3}{4}\right) - 4 = \frac{9}{8} - \frac{9}{4} - 4 = \frac{9 - 18 - 32}{8} = -\frac{41}{8}.$$

$\left(-\frac{3}{4}; -\frac{41}{8}\right)$ — искомые координаты вершины параболы.

Ответ: $\left(-\frac{3}{4}; -\frac{41}{8}\right)$.

$$356. y = -x^3 - 2x^2 + x + 2.$$

1) С осью Ox :

$$-x^3 - 2x^2 + x + 2 = 0; -x^2(x + 2) + (x + 2) = 0; (x + 2)(1 - x^2) = 0;$$

$$x + 2 = 0, x_1 = -2; 1 - x^2 = 0, x_2 = -1, x_3 = 1.$$

$(-2; 0), (-1; 0), (1; 0)$ — координаты точек пересечения графика функции $y = x^3 - x^2 - 4x + 4$ с осью Ox .

2) С осью Oy :

$(0; 2)$ — координаты точки пересечения графика данной функции с осью Oy .

Ответ: $(-2; 0), (-1; 0), (1; 0), (0; 2)$.

357. Пусть точка с координатами $(x; y)$ лежит на параболе

$y = 16x^2 + 12x - 2$, тогда точка, симметричная ей относительно оси Ox , имеет координаты $(x; -y)$ и лежит на прямой $y = 2x + 5$. Задача сводится к решению системы уравнений:

$$\begin{cases} 16x^2 + 12x - 2 = y, \\ 2x + 5 = -y; \end{cases} \Leftrightarrow \begin{cases} 16x^2 + 12x - 2 = -2x - 5, \\ y = -2x - 5. \end{cases} \Leftrightarrow \begin{cases} 16x^2 + 14x + 3 = 0, \\ y = -2x - 5. \end{cases}$$

Решим первое уравнение системы:

$$16x^2 + 14x + 3 = 0, D = 49 - 48 = 1;$$

$$x_1 = \frac{-7+1}{16} = -\frac{6}{16} = -\frac{3}{8} = -0,375, x_2 = \frac{-7-1}{16} = -0,5;$$

$$y_1 = -2 \cdot (-0,375) - 5 = -4,25, y_2 = -2 \cdot (-0,5) - 5 = -4.$$

$(-0,375; -4,25)$ и $(-0,375; 4,25)$, $(-0,5; -4)$ и $(-0,5; 4)$ — координаты искомых точек.

Ответ: 1) $(-0,375; -4,25), (-0,375; 4,25)$; 2) $(-0,5; -4), (-0,5; 4)$.

358. Пусть точка с координатами $(x; y)$ лежит на параболе

$y = 18x^2 - 33x$, тогда точка, симметричная ей относительно оси Oy , имеет координаты $(-x; y)$ и лежит на прямой $y = 6x + 5$. Задача сводится к решению системы уравнений

$$\begin{cases} 18x^2 - 33x = y, \\ -6x + 5 = y; \end{cases} \Leftrightarrow \begin{cases} 18x^2 - 33x = -6x + 5, \\ y = -6x + 5; \end{cases} \Leftrightarrow$$

$$\Leftrightarrow \begin{cases} 18x^2 - 27x - 5 = 0, & (1) \\ y = -6x + 5. \end{cases}$$

Решим уравнение (1) системы:

$$18x^2 - 27x - 5 = 0; x_{1,2} = \frac{27 \pm \sqrt{729 + 360}}{36}; x_{1,2} = \frac{27 \pm 33}{36}; x_1 = \frac{5}{3},$$

$$x_2 = -\frac{1}{6}; y_1 = -6 \cdot \frac{5}{3} + 5 = -5, y_2 = -6 \cdot \left(-\frac{1}{6}\right) + 5 = 6.$$

$\left(\frac{5}{3}; -5\right)$ и $\left(-\frac{5}{3}; -5\right)$; $\left(-\frac{1}{6}; 6\right)$ и $\left(\frac{1}{6}; 6\right)$ — координаты искомых точек.

Ответ: 1) $\left(\frac{5}{3}; -5\right), \left(-\frac{5}{3}; -5\right)$; 2) $\left(-\frac{1}{6}; 6\right), \left(\frac{1}{6}; 6\right)$.

360. $y = ||x + 1| - 2|$.

1. $y = x + 1$,

2. $y = |x + 1|$,

3. $y = |x + 1| - 2$,

4. $y = ||x + 1| - 2|$.

График заданной функции изображён на рис. 34.

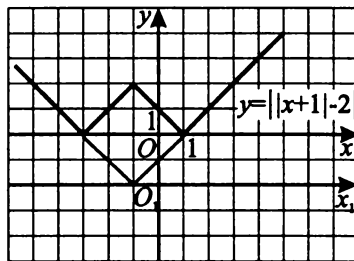


Рис. 34

361. Так как координаты вершины параболы $x_0 = 0$, $y_0 = 4$, то

$x_0 = -\frac{b}{2a} = 0$, $b = 0$. Итак, уравнение параболы имеет вид: $y = ax^2 + c$.

Подставив координаты известных точек, через которые проходит парабола, получим систему:

$$\begin{cases} c = 4, \\ 9a + c = -14; \end{cases} \Leftrightarrow \begin{cases} c = 4, \\ 9a = -14 - c; \end{cases} \Leftrightarrow$$

$$\Leftrightarrow \begin{cases} 9a = -18, \\ a = -2. \end{cases}$$

Следовательно, $y = -2x^2 + 4$. Найдём теперь абсциссы точек пересечения параболы с осью Ox : $-2x^2 + 4 = 0 \Leftrightarrow x_{1,2} = \pm\sqrt{2}$.

Ответ: $(\sqrt{2}; 0)$, $(-\sqrt{2}; 0)$.

362. Так как координаты вершины параболы $x_0 = 0$, $y_0 = -12$, то $x_0 = -\frac{b}{2a} = 0$, следовательно, $b = 0$. Итак, уравнение параболы имеет вид: $y = ax^2 + c$. Подставив координаты известных точек $(0; -12)$ и $(-1; -9)$, через которые проходит парабола, получим систему:

$$\begin{cases} c = -12, \\ a + c = -9; \end{cases} \Leftrightarrow \begin{cases} c = -12, \\ a = 3; \end{cases} \text{ следовательно, } y = 3x^2 - 12.$$

Найдём абсциссы точек пересечения параболы с осью Ox : $3x^2 - 12 = 0 \Leftrightarrow x_{1,2} = \pm 2$.

Ответ: $(2; 0)$, $(-2; 0)$.

363. Так как координаты вершины параболы $x_0 = 4$, $y_0 = -28$, то $x_0 = -\frac{b}{2a} = 4$; $b = -8a$. Итак, уравнение параболы имеет вид:

$y = ax^2 - 8ax + c$. Подставив координаты точек $(0; 4)$ и $(4; -28)$, через которые проходит парабола, получим: $-\frac{b}{2a} = 4$; $c = 4$; $16a + 4b + c = -28$;

$a = \frac{2+c}{16} = 2$, следовательно, $y = 2x^2 - 16x + 4$. Найдём абсциссы точек пересечения параболы с осью Ox : $2x^2 - 16x + 4 = 0$, $x_{1,2} = 4 \pm \sqrt{14}$.

Ответ: $(4 + \sqrt{14}; 0)$, $(4 - \sqrt{14}; 0)$.

364. Так как координаты вершины параболы $x_0 = 6$, $y_0 = 33$, то

$x_0 = -\frac{b}{2a} = 6$; $b = -12a$. Итак, уравнение параболы имеет вид:

$y = ax^2 - 12ax + c$. Подставив координаты точек $(0; -3)$ и $(6; 3)$, через которые проходит парабола, получим: $c = -3$; $36a - 72a + c = 33$;

$a = \frac{c-33}{36} = -1$, следовательно, $y = -x^2 + 12x - 3$. Найдём абсциссы точек пересечения параболы с осью Ox : $-x^2 + 12x - 3 = 0$, $x_{1,2} = 6 \pm \sqrt{33}$.

Ответ: $(6 + \sqrt{33}; 0)$, $(6 - \sqrt{33}; 0)$.

365. Ключевые идеи решения. 1. Парабола, пересекающая ось Ox в точках с абсциссами x_1 и x_2 , является графиком функции $y = a(x - x_1)(x - x_2)$, где $a \neq 0$. 2. Прямая, касающаяся параболы и параллельная оси Ox , касается этой параболы в её вершине.

1. Парабола, указанная в условии, является графиком функции $y = a(x - 2)(x + 6)$, где $a \neq 0$. Так как парабола пересекает ось Oy в точке с абсциссой $x_3 = 0$, то ордината этой точки $y_3 = -12a$. По условию, $y_3 = 24$, таким образом, $a = -2$ и уравнение параболы имеет вид: $y = -2x^2 - 8x + 24$.

2. Вершиной параболы является точка с абсциссой $x_0 = \frac{8}{-4} = -2$ и ординатой $y_0 = y(-2) = 32$. Следовательно, касательной к параболе, параллельной оси x , является прямая $y = 32$.

Ответ: $y = 32$.

366. Ключевые идеи решения те же, что и в решении предыдущей задачи.

1. Парабола, пересекающая ось Ox в точках с абсциссами $x_1 = -2$ и $x_2 = 6$, является графиком функции $y = a(x + 2)(x - 6)$, где $a \neq 0$. Так как парабола пересекает ось Oy в точке с абсциссой $x_3 = 0$, то ордината этой точки $y_3 = -12a$. По условию, $y_3 = -9$, таким образом, $a = 0,75$ и уравнение параболы имеет вид: $y = 0,75x^2 - 3x - 9$.

2. Вершиной параболы является точка с абсциссой $x_0 = \frac{3}{1,5} = 2$ и ординатой $y_0 = y(2) = -12$. Следовательно, касательной к параболе, параллельной оси x , является прямая $y = -12$.

Ответ: $y = -12$.

367. Пусть прямая $y = kx + b$ касается кривой $x = y^2$ в точке с координатами $(1; 1)$, тогда $k + b = 1$ и уравнение $y = ky^2 + b$ имеет один корень (два равных), то есть $D = 0$.

$$ky^2 - y + b = 0; D = 1 - 4bk = 0, k = \frac{1}{4b}.$$

Учитывая, что $k + b = 1$, имеем $4b^2 - 4b + 1 = 0; (2b - 1)^2 = 0; b = \frac{1}{2}$,

$$k = \frac{1}{2}; y = \frac{1}{2}x + \frac{1}{2} \text{ — уравнение искомой прямой.}$$

$$\text{Ответ: } y = \frac{1}{2}x + \frac{1}{2}.$$

368. Пусть прямая $x = ky + b$ касается параболы $x = y^2$ в точке с координатами $x = 1, y = -1$. Это означает, что $-k + b = 1$ и уравнение $y^2 = ky + b$ имеет ровно одно решение, то есть $D = 0; D = k^2 + 4b = 0$. Учитывая равенство $-k + b = 1$, получим: $D = k^2 + 4(1 + k) = k^2 + 4k + 4 = (k + 2)^2 = 0$. Отсюда $k = -2, b = -1$, то есть $x = -2y - 1$ является искомой прямой.

Запишем уравнение этой прямой: $y = -\frac{1}{2}x - \frac{1}{2}$.

Ответ: $y = -\frac{1}{2}(x + 1)$.

369. По формуле расстояния между двумя точками имеем:

$OA = \sqrt{(8-4)^2 + (6-3)^2} = \sqrt{25} = 5$. Следовательно, радиус данной в условии окружности равен 5, и она определяется уравнением:

$$(x-4)^2 + (y-3)^2 = 25.$$

Полагая в этом уравнении $y = 0$, получаем уравнение для абсцисс точек пересечения данной окружности с осью Ox : $(x-4)^2 + 9 = 25$. Решим последнее уравнение: $(x-4)^2 = 16$, $\begin{cases} x-4 = -4, \\ x-4 = 4; \end{cases} x_1 = 0, x_2 = 8$. Аналогично ординаты точек пересечения окружности с осью Oy удовлетворяют уравнению $16 + (y-3)^2 = 25$ (в уравнении окружности полагаем $x = 0$). Имеем: $(y-3)^2 = 9$, $\begin{cases} y-3 = -3, \\ y-3 = 3; \end{cases} y_1 = 0, y_2 = 6$. Итак, данная окружность пересекает ось Ox в точках $(0; 0)$ и $(8; 0)$, а ось Oy в точках $(0; 0)$ и $(0; 6)$.

Ответ: $(0; 0), (8; 0), (0; 6)$.

370. По формуле расстояния между двумя точками имеем:

$OA = \sqrt{(3-2)^2 + (4-2)^2} = \sqrt{5}$. Следовательно, радиус данной в условии окружности равен $\sqrt{5}$, и она определяется уравнением:

$(x-2)^2 + (y-2)^2 = 5$. Полагая в этом уравнении $y = 0$, получаем уравнение для абсцисс точек пересечения данной окружности с осью Ox :

$$(x-2)^2 + 4 = 5. \text{ Решим последнее уравнение: } (x-2)^2 = 1, \begin{cases} x-2 = -1, \\ x-2 = 1; \end{cases}$$

$x_1 = 1, x_2 = 3$. Итак, данная окружность пересекает ось Ox в точках $(1; 0)$ и $(3; 0)$. Поскольку уравнение данной окружности симметрично относительно x и y , то точками пересечения этой окружности с осью Oy являются точки $(0; 1)$ и $(0; 3)$.

Ответ: $(1; 0), (3; 0), (0; 1), (0; 3)$.

371. $y = \frac{x^2 - 25}{10 - 2x}$. Областью определения данной функции являются все

x , при которых $10 - 2x \neq 0$, то есть $D(y) = (-\infty; 5) \cup (5; +\infty)$. При $x \neq 5$

$$\text{имеем: } \frac{x^2 - 25}{10 - 2x} = \frac{(x-5)(x+5)}{2(5-x)} = -0,5 \cdot (x+5).$$

Таким образом, множество значений данной функции получается из множества значений функции $y = -0,5 \cdot (x + 5)$ с учётом того, что $y \neq -0,5(5 + 5)$, $y \neq -5$, то есть совпадает с множеством $(-\infty; -5) \cup (-5; +\infty)$.

Ответ: $(-\infty; -5) \cup (-5; +\infty)$.

372. $y = \frac{25 - x^2}{2x - 10}$. Областью определения данной функции являются все x , при которых $2x - 10 \neq 0$, то есть $D(y) = (-\infty; 5) \cup (5; +\infty)$. При $x \neq 5$ имеем: $\frac{25 - x^2}{2x - 10} = \frac{(5 - x)(5 + x)}{2(x - 5)} = -0,5 \cdot (x + 5)$. Таким образом, множество значений данной функции получается из множества значений функции $y = -0,5 \cdot (x + 5)$ с учётом того, что $y \neq -0,5 \cdot (5 + 5)$, $y \neq -5$, то есть совпадает с множеством $(-\infty; -5) \cup (-5; +\infty)$.

Ответ: $(-\infty; -5) \cup (-5; +\infty)$.

373. Ключевые идеи решения. 1. Парабола, пересекающая ось Ox в точках с абсциссами x_1 и x_2 , является графиком функции $y = a(x - x_1)(x - x_2)$, где $a \neq 0$. 2. Прямая, касающаяся параболы и параллельная оси Ox , касается этой параболы в её вершине.

1. Парабола, пересекающая ось Ox в точках с абсциссами $x_1 = -2$ и $x_2 = 4$, является графиком функции $y = a(x + 2)(x - 4) = ax^2 - 2ax - 8a$, где $a \neq 0$.

2. Вершиной параболы является точка с абсциссой $x_B = \frac{2a}{2a} = 1$ и ординатой $y_B = y(1) = -9a$. Значит, касательной к параболе, параллельной оси Ox , является прямая $y = -9a$. По условию, парабола касается прямой $y = -18$, следовательно, $-9a = -18$, $a = 2$, и уравнение параболы имеет вид: $y = 2x^2 - 4x - 16$.

Парабола пересекает ось Oy в точке с абсциссой $x = 0$ и ординатой $y = y(0) = -16$.

Ответ: $(0; -16)$.

374. Ключевые идеи решения те же, что и в решении соответствующего задания предыдущего варианта.

1. Парабола, пересекающая ось Ox в точках с абсциссами $x_1 = -5$ и $x_2 = 3$, является графиком функции $y = a(x + 5)(x - 3) = ax^2 + 2ax - 15a$, где $a \neq 0$.

2. Вершиной параболы является точка с абсциссой $x_0 = \frac{-2a}{2a} = -1$ и ординатой $y_0 = y(-1) = -16a$. Следовательно, касательной к параболе, параллельной оси Ox , является прямая $y = -16a$. По условию, парабола касается прямой $y = 32$, значит, $a = -2$, и уравнение параболы имеет вид: $y = -2x^2 - 4x + 30$.

Парабола пересекает ось Oy в точке с абсциссой $x = 0$ и ординатой $y = y(0) = 30$.

Ответ: $(0; 30)$.

375. Графиком функции $y = 6 - 3x$ является прямая. Найдём две какие-нибудь точки, её определяющие:

x	0	2
y	6	0

Построим прямую (см. рис. 35).

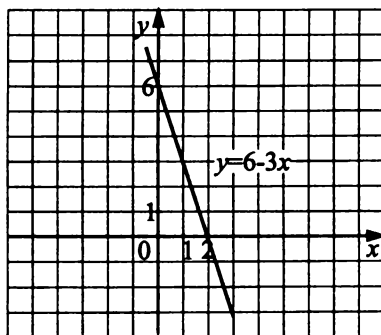


Рис. 35

Решим неравенство: $1,5 \leq y \leq 9 \Leftrightarrow 1,5 \leq 6 - 3x \leq 9 \Leftrightarrow -4,5 \leq -3x \leq 3 \Leftrightarrow 1,5 \geq x \geq -1 \Leftrightarrow -1 \leq x \leq 1,5$.

Ответ: $-1 \leq x \leq 1,5$.

376. Графиком функции $y = \frac{3x - 2}{2}$ является прямая. Найдём две какие-нибудь точки, её определяющие:

x	2	4
y	2	5

Построим прямую (см. рис. 36).

Решим неравенство: $-1 \leq y \leq 2 \Leftrightarrow -1 \leq \frac{3x - 2}{2} \leq 2 \Leftrightarrow 0 \leq x \leq 2$.

Ответ: $0 \leq x \leq 2$.

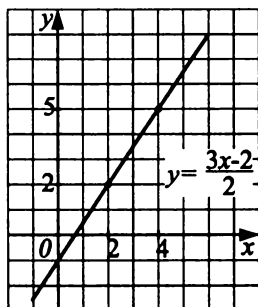


Рис. 36

377. Для построения графика функции $y = \left| \frac{2-x}{4} \right|$ рассмотрим отдельно случаи, когда $2-x \geq 0$ и $2-x < 0$.

1) Если $2-x \geq 0$ ($x \leq 2$), то $y = \frac{1}{4}(2-x)$. Графиком этой функции является прямая, проходящая через точки с координатами $(0; 0,5)$ и $(2; 0)$.

2) Если $2-x < 0$ ($x > 2$), то $y = -\frac{1}{4}(2-x)$. Графиком этой функции является прямая, проходящая через точки с координатами $(2; 0)$ и $(4; 0,5)$. График заданной функции изображён на рисунке 37.

Решим неравенство $0 \leq y < 1$. Получаем: $0 \leq \left| \frac{2-x}{4} \right| < 1$; $0 \leq |2-x| < 4$.

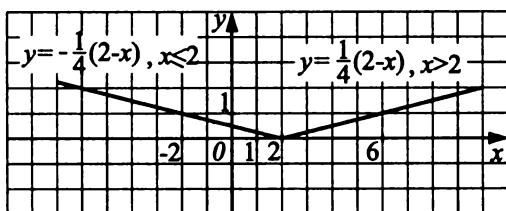


Рис. 37

Так как неравенство $|2-x| \geq 0$ выполняется для всех x , то остаётся решить неравенство $|2-x| < 4$; $-4 < 2-x < 4$; $-6 < -x < 2$; $-2 < x < 6$.

Ответ: $-2 < x < 6$.

378. Построим график функции $y = \left| \frac{3+x}{6} \right|$. Отдельно рассмотрим случаи:

1) $3+x \geq 0$, тогда $y = \frac{1}{6}(3+x)$. Графиком функции является прямая, проходящая через точки с координатами $(0; 0,5)$, $(9; 2)$ (рис. 38).

2) $3+x < 0$, тогда $y = -\frac{1}{6}(3+x)$. Графиком функции является прямая, проходящая через точки с координатами $(-3; 0)$, $(-6; 0,5)$.

График заданной функции изображён на рисунке 38.

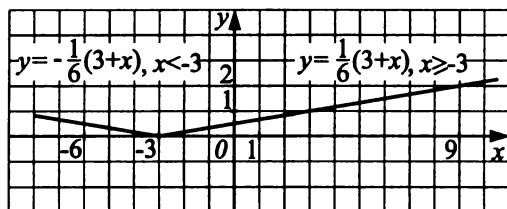


Рис. 38

Решим неравенство $1 \leq y \leq 2 \Leftrightarrow -1 \leq \left| \frac{3+x}{6} \right| \leq 2 \Leftrightarrow -6 \leq |3+x| \leq 12$.

Так как неравенство $|3+x| \geq -6$ выполняется для всех x , то остаётся неравенство $|3+x| \leq 12 \Leftrightarrow -12 \leq 3+x \leq 12 \Leftrightarrow -15 \leq x \leq 9$.

Ответ: $-15 \leq x \leq 9$.

379. Графиком функции $y = 3 - 2x$ является прямая. Найдём две какие-нибудь точки, её определяющие:

x	1	2
y	1	-1

Построим прямую (см. рис. 39).

Так как функция $y = 3 - 2x$ — непрерывная и убывающая, то $y(5) < y < y(-2) \Leftrightarrow -7 < y < 7$.

Ответ: $-7 < y < 7$.

380. Графиком функции $y = 5 - 2x$ является прямая. Найдём две какие-нибудь точки, её определяющие:

x	1	3
y	3	-1

Построим прямую (см. рис. 40).

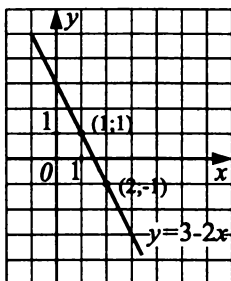


Рис. 39

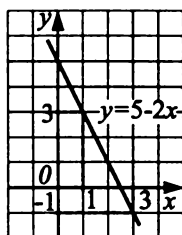


Рис. 40

Так как $y(x)$ — непрерывная и убывающая функция, то из $-1 < x < 3$ следует: $y(3) < y(x) < y(-1)$. Значит, $-1 < y < 7$.

Ответ: $-1 < y < 7$.

381. Графиком функции $y = \frac{5-x}{4} = \frac{5}{4} - \frac{1}{4}x$ является прямая. Найдём

две какие-нибудь точки, её определяющие:

x	5	0
y	0	1,25

Построим прямую (см. рис. 41).

Так как $0 \leq y \leq 0,25 = \frac{1}{4}$, то $0 \leq \frac{5-x}{4} \leq \frac{1}{4}$, $0 \leq 5-x \leq 1$,
 $-5 \leq -x \leq -4$; $4 \leq x \leq 5$.

Ответ: $4 \leq x \leq 5$.

382. Графиком функции $y = \frac{3x-2}{2}$ является прямая, изображённая на рис. 42. По рисунку определяем, что неравенство $-1 < y < 2$ выполняется при $0 < x < 2$.

Ответ: $0 < x < 2$.

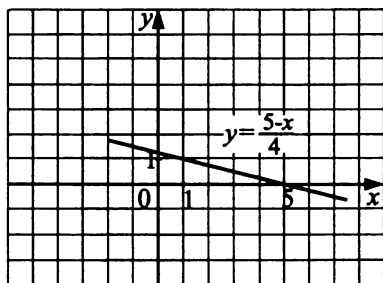


Рис. 41

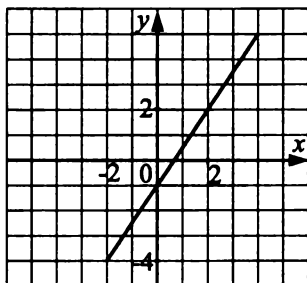


Рис. 42

383. Графиком функции $y = \frac{x+2}{2}$ является прямая (см. рис. 43). По графику определяем, что неравенство $1,5 \leq y \leq 3$ выполняется при $1 \leq x \leq 4$.

Ответ: $1 \leq x \leq 4$.

384. Графиком функции $y = \frac{x+5}{2}$ является прямая (см. рис. 44).

Решим неравенство $-4 < y < -1,5$. Получаем: $-4 < \frac{x+5}{2} < -1,5$;
 $-8 < x+5 < -3$; $-13 < x < -8$.

Ответ: $-13 < x < -8$.

385. Графиком функции $y = 2x + 3 - x^2$ является парабола, ветви которой направлены вверх, вершина находится в точке с координатами (1; 4) (см. рис. 45). По графику определяем, что $3 \leq y \leq 4$ при $0 \leq x \leq 2$.

Ответ: $0 \leq x \leq 2$.

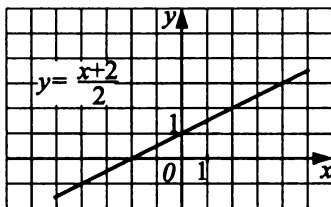


Рис. 43

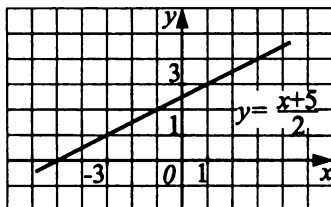


Рис. 44

386. Чтобы построить параболу $y = ax^2 + bx + c$, найдём координаты вершины: $x_0 = -\frac{b}{2a} = -\frac{4}{2} = -2$; $y_0 = (-2)^2 + 4 \cdot (-2) - 5 = -9$. Так как $a = 1$, то ветви параболы направлены вверх и не подвержены сжатию или растяжению (рис. 46). По графику функции определяем, что $-9 \leq y \leq -5$ при $-4 \leq x \leq 0$.

Ответ: $-4 \leq x \leq 0$.

387. 1. Функцию $y = \frac{5-2x}{3}$ запишем в виде $y = -\frac{2}{3}x + \frac{5}{3}$. Графиком

функции $y = -\frac{2}{3}x + \frac{5}{3}$ является прямая, проходящая через точки с координатами $(1; 1)$ и $(\frac{5}{2}; 0)$ (см. рис. 47).

2. Найдём аналитически, при каких значениях y выполняется неравенство $2 < x \leq 3\frac{2}{3}$.

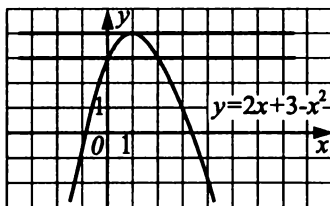


Рис. 45

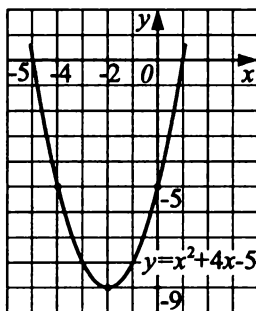


Рис. 46

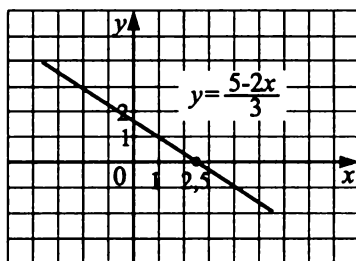


Рис. 47

В силу того, что заданная функция непрерывная и убывающая на всей числовой прямой, неравенство $2 < x \leq 3\frac{2}{3}$ выполняется при

$$y\left(3\frac{2}{3}\right) < y < y(2), \text{ то есть } -\frac{7}{9} \leq y < \frac{1}{3}.$$

Ответ: $-\frac{7}{9} \leq y < \frac{1}{3}$.

388. Функцию $y = 3x^{-1}$ запишем в виде $y = \frac{3}{x}$. $D(y)$: $x \neq 0$. Графиком функции $y = \frac{3}{x}$ является гипербола, ветви которой расположены в I и III координатных четвертях.

x	-0,5	1	1,5	2	3	6
y	-6	3	2	1,5	1	0,5

График функции изображён на рисунке 48.

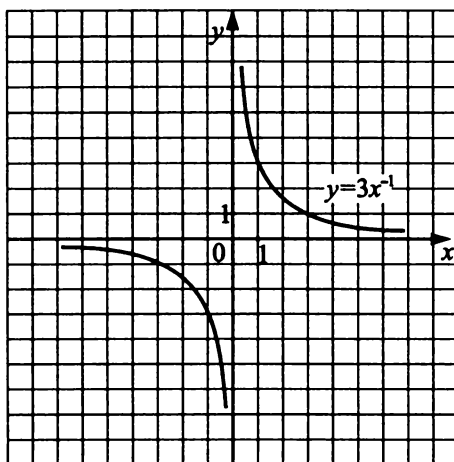


Рис. 48

2. Найдём, при каких значениях x выполняется неравенство $y \geq 3,3$, решив неравенство $\frac{3}{x} \geq 3,3$, $\frac{3,3x - 3}{x} \leq 0$, $\frac{x - \frac{10}{11}}{x} \leq 0$, $0 < x \leq \frac{10}{11}$

(см. рис. 49).

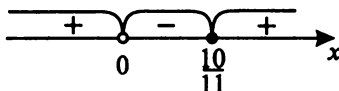


Рис. 49

Ответ: $0 < x \leq \frac{10}{11}$.

389. Графиком функции $y = 7x - 5$ является прямая. Найдём две какие-нибудь точки, её определяющие:

x	1	2
y	2	9

Построим прямую (см. рис. 50).

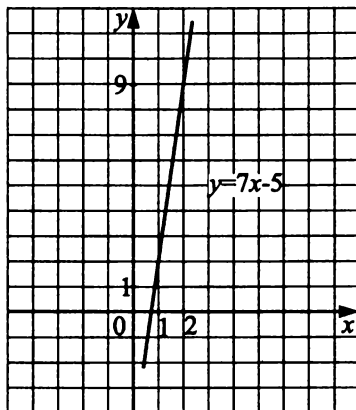


Рис. 50

Так как по условию $y \geq -40$, то $7x - 5 \geq -40$; $x \geq -5$.

Ответ: $x \geq -5$.

390. Графиком функции $y = 6x - 7$ является прямая. Найдём две какие-нибудь точки, её определяющие:

x	1	2
y	-1	5

Построим прямую (см. рис. 51).

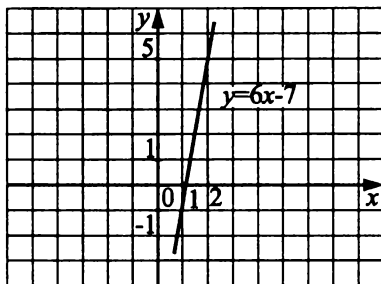


Рис. 51

Так как по условию $y \geq -49$, то $6x - 7 \geq -49$, $x \geq -7$.

Ответ: $x \geq -7$.

391. Графиком функции $y = \frac{5+x}{2}$ является прямая. Найдём две какие-нибудь точки, её определяющие:

x	1	-1
y	3	2

Построим прямую (см. рис. 52).

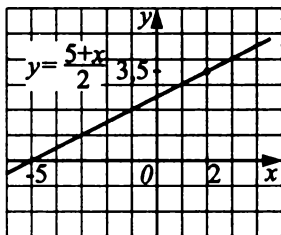


Рис. 52

По графику определяем, что неравенство $0 \leq y \leq 3,5$ выполняется при $-5 \leq x \leq 2$.

Ответ: $-5 \leq x \leq 2$.

392. Функцию $y = \frac{6-2x}{3}$ запишем в виде $y = -\frac{2}{3}x + 2$. Графиком функ-

ции $y = 2 - \frac{2}{3}x$ является прямая, проходящая через точки $(0; 2)$ и $(3; 0)$ (см. рис. 53). По графику видно, что $-2 \leq y \leq 4$ при $-3 \leq x \leq 6$.

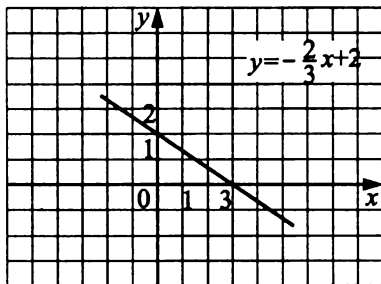


Рис. 53

Ответ: $-3 \leq x \leq 6$.

393. Графиком функции $y = 3,5 - 0,5x$ является прямая, проходящая через точки $(0; 3,5)$ и $(7; 0)$ (см. рис. 54). По графику видно, что $0 \leq y \leq 3,5$ при $0 \leq x \leq 7$.

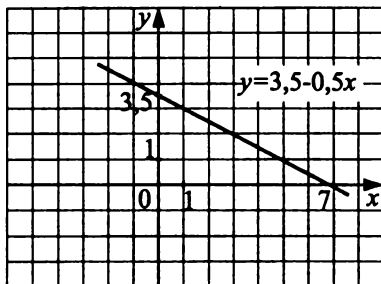


Рис. 54

Ответ: $0 \leq x \leq 7$.

394. Графиком функции $y = 2,5 - 0,5x$ является прямая, проходящая через точки $(0; 2,5)$ и $(5; 0)$ (см. рис. 55). По графику видно, что $0 \leq y \leq 2,5$ при $0 \leq x \leq 5$ (см. рис. 55).

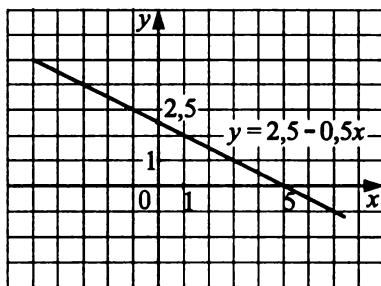


Рис. 55

Ответ: $0 \leq x \leq 5$.

395. $y = -\frac{x+3}{4}$; $y = -\frac{1}{4}x - \frac{3}{4}$; $-5 \leq x \leq 4$ (см. рис. 56). Функция

$y = -\frac{1}{4}x - \frac{3}{4}$ — непрерывная и убывающая. $y(-5) = -\frac{1}{4}(-5) - \frac{3}{4} = \frac{1}{2}$;

$y(4) = -1 - \frac{3}{4} = -\frac{7}{4}$. Если $-5 \leq x \leq 4$, то $-\frac{7}{4} \leq y \leq \frac{1}{2}$.

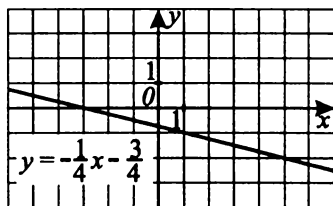


Рис. 56

Функция $y = -\frac{1}{4}x - \frac{3}{4}$ принимает на промежутке $[-\frac{7}{4}; \frac{1}{2}]$ два целых значения: $y = -1$ и $y = 0$.

Ответ: 2.

396. Графиком функции $y = \frac{7-x}{3}$; $y = \frac{7}{3} - \frac{1}{3}x$ является прямая, проходящая через точки $(0; 2\frac{1}{3})$ и $(7; 0)$ (см. рис. 57). По графику видно, что на промежутке $-4 \leq x \leq 6$ функция принимает три целых значения: $y = 1$, $y = 2$, $y = 3$.

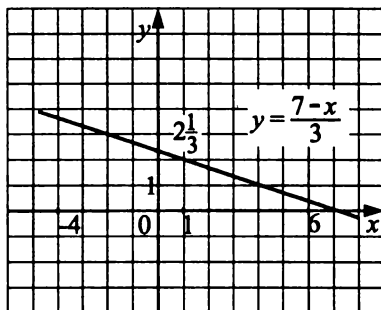


Рис. 57

Ответ: 3.

397. Функция $y = \frac{\sqrt{2x-x^3}}{x^4-3x^2+1}$ определена при x , удовлетворяющих

условию: $\begin{cases} 2x-x^3 \geq 0, \\ x^4-3x^2+1 \neq 0. \end{cases}$

1) $x(x^2-2) \leq 0$; $x(x-\sqrt{2})(x+\sqrt{2}) \leq 0$; $x \leq -\sqrt{2}$; $0 \leq x \leq \sqrt{2}$ (см. рис. 58).

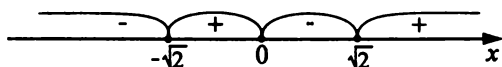


Рис. 58

2) $x^4 - 3x^2 + 1 \neq 0$. Обозначим $x^2 = t$; $t \geq 0$, тогда $t^2 - 3t + 1 \neq 0$;
 $t_1 \neq \frac{3+\sqrt{5}}{2}$; $t_2 \neq \frac{3-\sqrt{5}}{2}$.

Следовательно, $x^2 \neq \frac{3+\sqrt{5}}{2} = \left(\frac{1+\sqrt{5}}{2}\right)^2$, $x^2 \neq \frac{3-\sqrt{5}}{2} =$
 $= \left(\frac{1-\sqrt{5}}{2}\right)^2$; $x_1 \neq \frac{-1-\sqrt{5}}{2}$, $x_2 \neq \frac{1+\sqrt{5}}{2}$, $x_3 \neq \frac{-1+\sqrt{5}}{2}$,
 $x_4 \neq \frac{1-\sqrt{5}}{2}$.

3) Имеем (см. рис. 59):

$$\left(-\infty; \frac{-1-\sqrt{5}}{2}\right) \cup \left(\frac{-1-\sqrt{5}}{2}; -\sqrt{2}\right] \cup \left[0; \frac{-1+\sqrt{5}}{2}\right) \cup \left(\frac{-1+\sqrt{5}}{2}; \sqrt{2}\right].$$

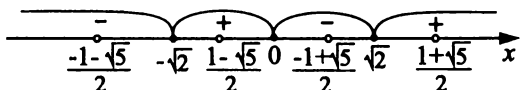


Рис. 59

Ответ: $\left(-\infty; \frac{-1-\sqrt{5}}{2}\right) \cup \left(\frac{-1-\sqrt{5}}{2}; -\sqrt{2}\right] \cup \left[0; \frac{-1+\sqrt{5}}{2}\right) \cup$
 $\cup \left(\frac{-1+\sqrt{5}}{2}; \sqrt{2}\right]$.

398. Функция $y = \frac{\sqrt{x^3 - 7x}}{x^4 - 5x^2 + 4}$ определена при x , удовлетворяющих условию:

$$\begin{cases} x^3 - 7x \geq 0, \\ x^4 - 5x^2 + 4 \neq 0; \end{cases} \Leftrightarrow \begin{cases} x(x - \sqrt{7})(x + \sqrt{7}) \geq 0, \\ (x^2 - 4)(x^2 - 1) \neq 0; \end{cases} \Leftrightarrow$$

$$\Leftrightarrow \begin{cases} x(x - \sqrt{7})(x + \sqrt{7}) \geq 0, \\ (x - 2)(x + 2)(x - 1)(x + 1) \neq 0. \end{cases}$$

$[-\sqrt{7}; -2) \cup (-2; -1) \cup (-1; 0] \cup [\sqrt{7}; +\infty)$ (см. рис. 60).

Ответ: $[-\sqrt{7}; -2) \cup (-2; -1) \cup (-1; 0] \cup [\sqrt{7}; +\infty)$.

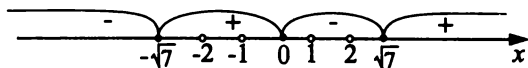


Рис. 60

399. $y = \sqrt{x^2 - 9x - 22} + \frac{1}{\sqrt{x}}.$

Найдём область определения функции, решив систему неравенств:

$$\begin{cases} x^2 - 9x - 22 \geq 0, \\ x > 0; \end{cases} \Leftrightarrow \begin{cases} (x - 11)(x + 2) \geq 0, \\ x > 0; \end{cases} \Leftrightarrow \begin{cases} \begin{cases} x \leq -2, \\ x \geq 11, \end{cases} \\ x > 0; \end{cases} \Leftrightarrow x \geq 11.$$

Ответ: $[11; +\infty).$

400. Функция $y = \sqrt{x^2 - 2x - 8} + \sqrt{x}$ определена при x , удовлетворяющих системе неравенств

$$\begin{cases} x^2 - 2x - 8 \geq 0, \\ x \geq 0; \end{cases} \Leftrightarrow \begin{cases} (x + 2)(x - 4) \geq 0, \\ x \geq 0; \end{cases} \Leftrightarrow \begin{cases} \begin{cases} x \leq -2, \\ x \geq 4, \end{cases} \\ x \geq 0; \end{cases} \Leftrightarrow x \geq 4.$$

Ответ: $[4; +\infty).$

401. Функция $y = \sqrt{7x - x^2 - 10} + \frac{1}{\sqrt{4x^2 - 20x + 25}}$ определена при x , удовлетворяющих системе неравенств

$$\begin{cases} 7x - x^2 - 10 \geq 0, \\ 4x^2 - 20x + 25 > 0; \end{cases} \Leftrightarrow \begin{cases} (x - 2)(x - 5) \leq 0, \\ (2x - 5)^2 > 0; \end{cases} \Leftrightarrow \begin{cases} x \geq 2, \\ x \leq 5, \\ x \neq 2,5. \end{cases}$$

Ответ: $[2; 2,5) \cup (2,5; 5].$

402. $D(y) = (-\infty; 0].$

Обозначим $\sqrt{-x} = t$; $t \geq 0$, тогда $y(t) = 10t^2 + 4t + 2$. Задача сводится к нахождению наименьшего значения функции $y(t)$ на промежутке $[0; +\infty)$. Графиком функции $y(t) = 10t^2 + 4t + 2$ является парабола, ветви которой направлены вверх, вершина находится в точке с координатами $(-\frac{1}{5}; 1\frac{3}{5})$.

При $t \geq -\frac{1}{5}$ функция возрастает, значит, на промежутке $[0; +\infty)$ наименьшее значение функции $y_{\text{наим}} = y(0) = 2$.

Ответ: 2.

403. $D(y) = (-\infty; 0]$.

Выполним замену $\sqrt{-x} = t$; $t \geq 0$; $-x = t^2$. Тогда $y(t) = t^2 + 2t + 1$; $y(t) = (t + 1)^2$.

Задача сводится к нахождению наименьшего значения функции $y(t)$ на промежутке $[0; +\infty)$. Графиком функции $y(t) = (t + 1)^2$ является парабола, ветви которой направлены вверх, вершина находится в точке с координатами $(-1; 0)$.

При $t \geq -1$ функция возрастает, значит, на промежутке $[0; +\infty)$ наименьшее значение функции $y_{\text{наим}} = y(0) = 1$.

Ответ: 1.

404. Функция $y = 3x + 5 - 3\sqrt[4]{-x}$ определена при $x \leq 0$.

Функция $y = 3x + 5$ — монотонно возрастающая, функция $-3\sqrt[4]{-x}$ также монотонно возрастающая, поэтому функция $y = 3x + 5 - 3\sqrt[4]{-x}$ — монотонно возрастающая. Наибольшее значение функция примет при $x = 0$, то есть $y = 5$ — наибольшее значение.

Ответ: 5.

405. Функция $y = x - 2\sqrt{-x} - 1$ определена при $x \leq 0$.

Выполним замену $\sqrt{-x} = t$; $t \geq 0$; $-x = t^2$. Тогда $y(t) = -t^2 - 2t - 1$; $y(t) = -(t + 1)^2$.

Задача сводится к нахождению наибольшего значения функции $y(t)$ на промежутке $[0; +\infty)$. Графиком функции $y = -(t + 1)^2$ является парабола, ветви которой направлены вниз, вершина находится в точке с координатами $(-1; 0)$. При $t \geq -1$ функция убывает, значит, на промежутке $[0; +\infty)$ наибольшее значение функции $y_{\text{наиб}} = y(0) = -1$.

Ответ: -1 .

406. Областью определения данной функции являются все x , при которых $6 - 2x \neq 0$, то есть $D(y) = \{x \neq 3\}$. При $x \neq 3$ имеем:

$$\frac{x^2 - 9}{6 - 2x} = \frac{(x - 3)(x + 3)}{2(3 - x)} = -0,5 \cdot (x + 3).$$

Таким образом, множество значений данной функции получается из множества значений функции $y = -0,5 \cdot (x + 3)$ за исключением значения $y(3) = -0,5 \cdot (3 + 3) = -3$, то есть совпадает с множеством $(-\infty; -3) \cup (-3; +\infty)$.

Ответ: $(-\infty; -3) \cup (-3; +\infty)$.

407. Областью определения данной функции являются все x , при которых $2x - 6 \neq 0$, то есть $D(y) = \{x \neq 3\}$. При $x \neq 3$ имеем:

$$\frac{9 - x^2}{2x - 6} = \frac{(3 - x)(3 + x)}{2(x - 3)} = -0,5 \cdot (x + 3). \text{ Таким образом, множество}$$

значений данной функции получается из множества значений функции $y = -0,5 \cdot (x + 3)$, за исключением значения $y(3) = -0,5 \cdot (3 + 3) = -3$, то есть совпадает с множеством $(-\infty; -3) \cup (-3; +\infty)$.

Ответ: $(-\infty; -3) \cup (-3; +\infty)$.

408. Графиком этой функции является парабола, ветви которой направлены вверх. Найдём наименьшее значение этой функции $x_0 = \frac{3}{2} = 1,5$.

$$y_0 = (1,5)^2 - 3 \cdot 1,5 - 10 = 2,25 - 4,5 - 10 = -12,25.$$

Для построения графика найдём значение y функции в дополнительных точках:

x	0	-1	-2
y	-10	-6	0

Построим график (см. рис. 61).

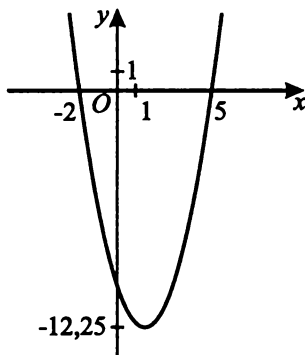


Рис. 61

Ответ: $-12,25$.

$$409. y = \frac{4x - 2x^2}{3} + 2; y = -\frac{2}{3}x^2 + \frac{4}{3}x + 2.$$

График функции $y = -\frac{2}{3}x^2 + \frac{4}{3}x + 2$ — парабола, ветви которой направлены вниз.

Найдём координаты вершины:

$$x_0 = -\frac{b}{2a}, x_0 = -\frac{4 \cdot 3}{3 \cdot 2 \cdot (-2)} = 1, y_0 = -\frac{2}{3} + \frac{4}{3} + 2 = 2\frac{2}{3}.$$

$(1; 2\frac{2}{3})$ — координаты вершины параболы.

Найдём нули функции, решив уравнение: $-\frac{2}{3}x^2 + \frac{4}{3}x + 2 = 0 \Leftrightarrow$

$x^2 - 2x - 3 = 0 \Leftrightarrow x_1 = -1, x_2 = 3$. $(-1; 0)$ и $(3; 0)$ — координаты точек пересечения графика функции с осью Ox .

Дополнительные точки:

x	0	2	4	-2
y	2	2	$-\frac{10}{3}$	$-\frac{10}{3}$

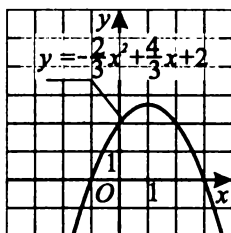


Рис. 62

Наибольшее значение функции $y = \frac{4x - 2x^2}{3} + 2$ достигается в вер-

шине параболы и равно $2\frac{2}{3}$ (см. рис. 62).

Ответ: $2\frac{2}{3}$.

410. Графиком этой функции является парабола, ветви которой направлены вверх. Найдём наименьшее значение этой функции:

$$x_0 = \frac{\frac{2}{3}}{x \cdot \frac{4}{9}} = \frac{3}{4} = 0,75;$$

$$y_0 = \frac{4}{9}(0,75)^2 - \frac{2}{3} \cdot 0,75 + 1 = \frac{1}{3} \cdot \frac{3}{4} - \frac{2}{3} \cdot \frac{3}{4} + 1 = \frac{1}{4} - \frac{1}{2} + 1 = \frac{3}{4}.$$

Так как $D = \left(\frac{2}{3}\right)^2 - 4 \cdot \frac{4}{9} \cdot 1 = \frac{4-16}{9} < 0$, то график лежит всюду выше оси Ox . Для построения графика, найдём значение y функции в дополни-

тельных точках:

x	0	-1	-2
y	1	$2\frac{1}{9}$	$4\frac{1}{9}$

Построим график (см. рис. 63).

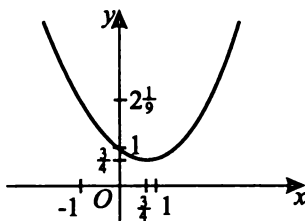


Рис. 63

Ответ: $\frac{3}{4}$.

412. Графиком этой функции является парабола, ветви которой направлены вниз. Найдём нули этой функции, то есть точки, где $-0,5x^2 - x + 4 = 0$; $x^2 + 2x - 8 = 0$; $x_1 = -4$; $x_2 = 2$. То есть у нас есть ответ на второй вопрос задачи: $-4 \leq x \leq 2$. Для построения графика найдём наибольшее значение этой функции: $x_0 = \frac{-1}{-1} = -1$, $y_0 = -0,5 + 1 + 4 = 4,5$.

Для построения графика, найдём значение y функции в дополнительных точках:

x	0	1	2	4
y	4	2,5	0	-8

Построим график (см. рис. 64).

Ответ: $-4 \leq x \leq 2$.

414. Пусть первоначально у кролика было x кг мёда. Винни-Пух за первые 3 часа съел $0,4x$ кг, а Пятачок и кролик съели 300 г мёда. У кролика осталось $x - 0,4x - 0,3 = 0,6x - 0,3$ (кг).

За следующие 3 часа Винни-Пух съел $\frac{2}{3} \cdot (0,6x - 0,3) = 0,4x - 0,2$ (кг),

а Пятачок и кролик — 100 г. У кролика осталось $0,6x - 0,3 - 0,4x + 0,2 - 0,1 = 0,2x - 0,2$ (кг).

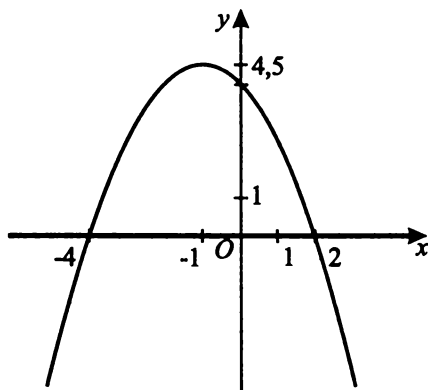


Рис. 64

Зная, что осталось 1,6 кг, составим уравнение: $0,2x - 0,2 = 1,6$;
 $x - 1 = 8$; $x = 9$ (кг). Первоначально у кролика было 9 кг мёда.

Ответ: 9.

418. Пусть скорость движения первой черепахи x м/ч, а второй — y м/ч. Если бы первая ползла на 40 м/ч быстрее, то через t_1 часов они бы встретились на полпути.

Получаем: $(x + 40) \cdot t_1 = y \cdot t_1$ или $x + 40 = y$.

Если бы вторая ползла на 50 м/ч быстрее, она бы проползла до встречи за t_2 часов в два раза большее расстояние, чем первая.

Получаем: $2xt_2 = (y + 50) \cdot t_2$ или $2x = y + 50$.

Решим систему уравнений:

$$\begin{cases} x + 40 = y, \\ 2x = y + 50; \end{cases} \Leftrightarrow \begin{cases} y = x + 40, \\ 2x = x + 40 + 50; \end{cases} \Leftrightarrow \begin{cases} y = x + 40, \\ x = 90; \end{cases} \Leftrightarrow \begin{cases} x = 90, \\ y = 130. \end{cases}$$

90 м/ч — скорость первой черепахи, 130 м/ч — скорость второй черепахи.

Ответ: 90; 130.

419. Пусть производительность третьего токаря — x деталей в час, а догоняет третий токарь второго по числу деталей через y часов. Тогда второй работал $(1 + y)$ часов и сделал $5 \cdot (1 + y)$ деталей, а третий сделал xy деталей. Первое уравнение: $5 \cdot (1 + y) = xy$.

Третий токарь, чтобы догнать первого, работал $(2 + y)$ часов и сделал $x(2 + y)$ деталей, а первый работал $(4 + y)$ часов и сделал $6 \cdot (4 + y)$ деталей.

Второе уравнение:

$$6 \cdot (4 + y) = x \cdot (2 + y).$$

Решим систему уравнений:

$$\begin{cases} 5 \cdot (1 + y) = xy, \\ 6 \cdot (4 + y) = x \cdot (2 + y); \end{cases} \Leftrightarrow \begin{cases} 5 + 5y = xy, \\ 24 + 6y - 2x = xy; \end{cases} \Leftrightarrow \begin{cases} 5(1 + y) = xy, \\ 5 + 5y = 24 + 6y - 2x; \end{cases} \Leftrightarrow \begin{cases} 5(1 + y) = xy, \\ y = 2x - 19. \end{cases}$$

Подставим $y = 2x - 19$ в первое уравнение системы:

$$5 \cdot (1 + 2x - 19) = x(2x - 19); 2x^2 - 29x + 90 = 0;$$

$$x_{1,2} = \frac{29 \pm \sqrt{841 - 720}}{4} = \frac{29 \pm 11}{4}; x_1 = 10, x_2 = 4,5.$$

Учитывая, что производительность третьего токаря больше, чем первого и второго, производительность третьего токаря равна 10 деталей в час.

Ответ: 10.

420. Пусть x км/ч — скорость мотоциклиста, а t ч — время после выезда первого велосипедиста до встречи второго велосипедиста с мотоциклистом. Расстояние, которое проехал второй велосипедист до встречи с мотоциклистом, равно $20(t - 2)$ км, а мотоциклист проехал $x(t - 4)$ км. К моменту встречи мотоциклиста с первым велосипедистом мотоциклист проехал $x(t - 1)$ км, а первый велосипедист — $30(t + 3)$ км. По условию $20(t - 2) = x(t - 4)$ и $x(t - 1) = 30(t + 3)$.

Решим систему уравнений:

$$\begin{cases} 20(t - 2) = x(t - 4), \\ x(t - 1) = 30(t + 3); \end{cases} \quad \begin{cases} x = \frac{20(t - 2)}{t - 4}, \\ x = \frac{30(t + 3)}{t - 1}; \end{cases}$$

$$\frac{20(t - 2)}{t - 4} = \frac{30(t + 3)}{t - 1}, \quad 2(t - 2)(t - 1) = 3(t + 3)(t - 4),$$

$$2(t^2 - 3t + 2) = 3(t^2 - t - 12), \quad 2t^2 - 6t + 4 = 3t^2 - 3t - 36,$$

$$t^2 + 3t - 40 = 0, \quad t = -8 \text{ или } t = 5.$$

Время не может быть отрицательно, поэтому подходит только $t = 5$. От-

$$\text{сюда } x = \frac{20 \cdot (5 - 2)}{5 - 4} = 20 \cdot 3 = 60; \text{ скорость мотоциклиста равна } 60 \text{ км/ч.}$$

Ответ: 60.

423. Пусть v — первоначальный ежесуточный объём переработки, c_1, c_2 — себестоимость продукции и её отпускная цена до повышения цен, а $\tilde{v}, \tilde{c}_1, \tilde{c}_2$ — те же величины после произошедших изменений. Тогда первоначально прибыль завода составляла $s = v(c_2 - c_1)$ у.е./сут., а прибыль

завода после произошедших изменений равна $\tilde{s} = \tilde{v} \cdot (\tilde{c}_2 - \tilde{c}_1)$ у.е./сут.

По условию, $\tilde{v} = 1,3v$; $\tilde{c}_2 = 1,25c_2$; $\tilde{c}_1 = c_1 + \frac{1}{3}c_1 = \frac{4}{3}c_1$; $\tilde{c}_1 = 0,8\tilde{c}_2$. Отсюда имеем: $\tilde{c}_1 = 0,8\tilde{c}_2 = 0,8(1,25c_2) = c_2 \Rightarrow \tilde{s} = 1,3v(1,25c_2 - c_2) = \frac{1,3v \cdot c_2}{4}$. Далее, $c_1 = \frac{3}{4}\tilde{c}_1 = \frac{3}{4}c_2 \Rightarrow s = v(c_2 - \frac{3}{4}c_2) = \frac{v \cdot c_2}{4}$. Следовательно, $\frac{\tilde{s}}{s} = \frac{(1,3v \cdot c_2)/4}{(v \cdot c_2)/4} = 1,3$, то есть прибыль завода увеличилась на 30%.

Ответ: 30.

424. Примем весь объём работ за 1. Пусть v_1, v_2, v_3 и v_4 — объём работы, выполняемой за час первой, второй, третьей и четвёртой бригадой соответственно. Тогда из первого условия задачи получаем: $v_1 + v_2 + v_3 = \frac{1}{8}$,

из второго — $v_2 + v_3 + v_4 = \frac{3}{20}$, из третьего — $v_1 + v_2 + v_3 + v_4 = \frac{1}{5}$. Умножим обе части третьего уравнения на 2 и вычтем из него первое и второе уравнения. В результате получим $v_1 + v_4 = \frac{1}{8}$, следовательно, первая и четвёртая бригады вместе справятся с работой за 8 часов.

Ответ: 8.

427. Примем весь объём работ за 1. Пусть производительность комбайнов: I — a , II — b , III — c , IV — d .

Необходимо найти, за какое время будет выполнена работа, если будут работать все четыре комбайна, то есть $\frac{1}{a+b+c+d}$.

По условию: $a + b + c = \frac{1}{1\frac{1}{3}}$; $a + b + d = \frac{1}{2}$; $c + d = \frac{1}{1\frac{1}{3}}$.

Получаем: $2a + 2b + 2c + 2d = \frac{3}{4} + \frac{1}{2} + \frac{3}{4}$; $a + b + c + d = 1$; $\frac{1}{a+b+c+d} = 1$.

Ответ: 1.

428. Пусть производительность первого студента — x , производительность второго студента — y , производительность первого школьника — z , производительность второго школьника — t .

Необходимо найти $\frac{10}{x+y+z+t}$.

$$\text{По условию: } \begin{cases} x + z + t = \frac{10}{7}, \\ y + z + t = \frac{10}{10}, \\ x + y = \frac{10}{12}. \end{cases}$$

$$\text{Тогда } 2(x + y) + 2(z + t) = \frac{10}{7} + \frac{10}{10} + \frac{10}{12}, \quad x + y + z + t = \frac{1370}{840},$$

$$\frac{10}{x + y + z + t} = \frac{840}{137}.$$

Тогда все вместе они решат 10 задач за $\frac{840}{137}$ минут.

Ответ: $\frac{840}{137}$.

431. Пусть расстояние AB равно x км, тогда на этот путь затрачено $\frac{x}{80}$

часов, а на обратный — $\frac{30}{40} + \frac{x-30}{90} = \frac{3}{4} + \frac{x-30}{90}$ часа. Зная, что на

обратный путь водитель затратил на $\frac{5}{18}$ часа меньше, составим уравнение:

$$\frac{x}{80} - \frac{3}{4} - \frac{x-30}{90} = \frac{5}{18}, \quad \frac{x}{80} - \frac{x-30}{90} = \frac{5}{18} + \frac{3}{4}, \quad \frac{x}{80} - \frac{x-30}{90} = \frac{37}{36},$$

$$\frac{9x - 8x + 240}{720} = \frac{37}{36}, \quad x + 240 = 37 \cdot 20; \quad x = 500.$$

Расстояние между пунктами — 500 км.

Ответ: 500.

432. Обозначим через D место встречи автомобилей. Пусть расстояние

$AD = x$ км, а $BD = y$ км (см. рис. 65), тогда $v_I = \frac{y}{50} \frac{\text{км}}{\text{ч}}$, а $v_{II} = \frac{x}{8} \frac{\text{км}}{\text{ч}}$.

Первый автомобиль прошёл путь AD за $\frac{50x}{y}$ часов, второй автомобиль

прошёл путь BD за $\frac{8y}{x}$ часов. Зная, что до встречи они шли одно и то же

время, составим уравнение: $\frac{50x}{y} = \frac{8y}{x}$.

Обозначим $\frac{x}{y} = u$; $50u = \frac{8}{u}$; $50u^2 = 8$; $u^2 = \frac{8}{50}$, $u > 0$; $u = \frac{2}{5}$, $\frac{x}{y} = \frac{2}{5}$

или $\frac{y}{x} = 2,5$.




Рис. 65

Первый автомобиль прошёл до встречи в 2,5 раза меньший путь, значит, он потратил на него в 2,5 раза меньше времени, то есть $50 : 2,5 = 20$ часов.

Ответ: 20.

434. Пусть в начале пути в трамвай село x пассажиров. Тогда, согласно условию, следующая последовательность соответствует количеству пассажиров в трамвае после каждой остановки: x ; $x + 8 - 2 = x + 6$; $x + 6 + 8 - 4 = x + 10$; $x + 10 + 8 - 6 = x + 12$; $x + 12 + 8 - 8 = x + 12$; $x + 12 + 8 - 10 = x + 10$; $x + 10 + 8 - 12 = x + 6$; $x + 10 + 8 - 12 = x + 6$; $x + 6 + 8 - 14 = x$; $x + 8 - 16 = x - 8$. Так как, по условию, на последней остановке было 25 человек, то $x - 8 = 25$; $x = 33$. Следовательно, наибольшее количество пассажиров, ехавших в трамвае, было $x + 12 = 33 + 12 = 45$ (чел.).

Ответ: 45.

435. Пусть в начале пути в трамвай село x пассажиров. Тогда, согласно условию, следующая последовательность соответствует количеству пассажиров в трамвае после каждой остановки: x ; $x + 10 - 6 = x + 4$; $x + 4 + 10 - 8 = x + 6$; $x + 6 + 10 - 10 = x + 6$; $x + 6 + 10 - 12 = x + 4$; $x + 4 + 10 - 14 = x$; $x + 10 - 16 = x - 6$; $x - 6 + 10 - 18 = x - 14$; $x - 14 + 10 - 20 = x - 24$. Так как, по условию, на последней остановке было 10 человек, то $x - 24 = 10$; $x = 34$. Следовательно, наибольшее количество пассажиров, ехавших в трамвае, было $x + 6 = 34 + 6 = 40$ (чел.).

Ответ: 40.

436. В сутки на табло электронных часов (без секунд) светится хотя бы одна цифра 1:

1) 10 раз, обозначая десятки часов, 2 раза, обозначая единицы часов, всего в течение 12 часов;

2) 10 раз, обозначая десятки минут, 5 раз, обозначая единицы минут, в течение 15 минут каждые 12 часов:

$$15 \text{ мин} \cdot 12 = 180 \text{ мин} = 3 \text{ часа.}$$

$$\text{Итого: } 12\text{ч} + 3\text{ч} = 15 \text{ ч.}$$

Ответ: 15.

437. В сутки на табло электронных часов (без секунд) светится хотя бы одна цифра 3:

1) 3 раза, обозначая единицы часов в течение 3-х часов;

2) 9 раз, обозначая десятки минут;

3) 6 раз, обозначая единицы минут, в течение 15 минут каждые 21 час:

$$15 \text{ мин} \cdot 21 = 315 \text{ мин} = 5,25 \text{ часа.}$$

$$\text{Итого: } 3\text{ч} + 5,25 \text{ ч} = 8,25 \text{ ч.}$$

Ответ: 8,25.

441. Пусть x г — масса серебра в сплаве, тогда $(x + 80)$ г — первоначальная масса сплава, $\frac{80}{x + 80} \cdot 100\%$ — процентное содержание золота

в первоначальном сплаве, $(x + 180)$ г — масса сплава после добавления

100 г золота, тогда $\frac{180}{x + 180} \cdot 100\%$ — процентное содержание золота в

новом сплаве. По условию, содержание золота в сплаве по сравнению с первоначальным повысилось на 20%. Составим и решим уравнение:

$$\frac{180}{x + 180} \cdot 100 - \frac{80}{x + 80} \cdot 100 = 20, \quad \frac{900}{x + 180} - \frac{400}{x + 80} = 1,$$

$$900x + 72000 - 400x - 72000 = x^2 + 260x + 14400, \quad x^2 - 240x + 14400 = 0, \\ (x - 120)^2 = 0, \quad x = 120. \quad 120 \text{ г серебра было в сплаве.}$$

Ответ: 120.

443. Пусть x часов до начала матча

	v (км/ч)	t (ч)	S (км)
пешком	5	$x + 1$	$5(x + 1)$
на велосипеде	10	$x - \frac{1}{2}$	$10\left(x - \frac{1}{2}\right)$

Зная, что путь от дома болельщика до стадиона один и тот же, составим и решим уравнение:

$$5(x+1) = 10\left(x - \frac{1}{2}\right); x+1 = 2x-1; x=2.$$

2 часа до начала матча.

Ответ: 2.

444. Пусть x км/ч — скорость пешехода, y км/ч — скорость велосипедиста.

1. Велосипедист отправился в путь на 1 час раньше пешехода, и они встретятся через 2 часа после выезда велосипедиста. Отсюда следует, что пешеход прошёл x км, а велосипедист проехал $2y$ км, значит, $x + 2y = 28$.

2. Пешеход выйдет на 1 час раньше велосипедиста, и через 2 часа после выхода пешехода расстояние между ними сократится в 3,5 раза. Отсюда следует, что пешеход прошёл $2x$ км, а велосипедист проехал y км, значит,

$$2x + y = 28 - \frac{28}{3,5}.$$

Составим и решим систему уравнений:

$$\begin{cases} x + 2y = 28, & | -2 \\ 2x + y = 20. \end{cases}$$

Сложим $-2x - 4y = -56$ и $2x + y = 20$. Получим: $-3y = -36$; $y = 12$.

Подставим $y = 12$ во второе уравнение системы и найдём x :

$$2x + 12 = 20; 2x = 8; x = 4.$$

4 км/ч — скорость пешехода, 12 км/ч — скорость велосипедиста.

Ответ: 12; 4.

445. Пусть x г — масса первого раствора, y г — масса второго раствора, тогда $0,3x$ г — масса кислоты в первом растворе, $0,5y$ г — масса кислоты во втором растворе, $(0,3x + 0,5y)$ г — масса кислоты в смеси, что по условию задачи составляет 45% массы раствора. Составим уравнение:

$$0,3x + 0,5y = 0,45(x + y); 0,5y - 0,45y = 0,45x - 0,3x; 0,05y = 0,15x; y = 3x; x : y = 1 : 3.$$

Ответ: 1 : 3.

446. Пусть x г — масса первого сплава, y г — масса второго сплава, тогда $0,4x$ г — масса меди в первом сплаве, $0,6y$ г — масса меди во втором сплаве, $(0,4x + 0,6y)$ г — масса меди после того, как соединили два сплава, что по условию задачи составляет 45% массы вновь полученного сплава: $0,4x + 0,6y = 0,45 \cdot (x + y)$; $0,6y - 0,45y = 0,45x - 0,4x$; $0,15y = 0,05x$; $3y = x$; $x : y = 3 : 1$.

Ответ: 3 : 1.

447. Пусть первоначальная скорость катера — x км/ч. Тогда за 3 часа катер прошёл $3x$ км. Оставшееся расстояние $(87,5 - 3x)$ км он прошёл за $\frac{87,5 - 3x}{x + 2}$

часа. Так как 87,5 км катер должен был проплыть за $\frac{87,5}{x}$ часа, то получа-

ем уравнение: $3 + \frac{1}{3} + \frac{87,5 - 3x}{x + 2} = \frac{87,5}{x}$; $x > 0$; $\frac{87,5 - 3x}{x + 2} = \frac{87,5 \cdot 3 - 10x}{3x}$;

$(87,5 - 3x) \cdot 3x = (87,5 \cdot 3 - 10x)(x + 2)$; $87,5 \cdot 3x - 9x^2 = 87,5 \cdot 3x - 10x^2 + 2 \cdot 87,5 \cdot 3 - 20x$; $x^2 + 20x - 525 = 0$; $x_1 = 15$; $x_2 = -35$. Так как $x > 0$, то первоначальная скорость катера 15 км/ч.

Ответ: 15.

448. Пусть t минут — время до встречи пешеходов; v_A, v_B — скорости пешеходов, вышедших из пунктов A и B соответственно (см. рис. 66), тогда

$$\begin{cases} v_A \cdot t = 12v_B, \\ v_B \cdot t = 27v_A; \end{cases} \Leftrightarrow \begin{cases} \frac{v_A}{v_B} = \frac{12}{t}, \\ \frac{v_A}{v_B} = \frac{t}{27}; \end{cases}$$

$$t^2 = 27 \cdot 12; t > 0; t = \sqrt{27 \cdot 12} = \sqrt{3^4 \cdot 4} = 2 \cdot 9 = 18.$$

Через 18 минут после выхода пешеходы встретились.

1) $18 + 12 = 30$ (мин) — время пешехода, который вышел из пункта B .

2) $18 + 27 = 45$ (мин) — время пешехода, который вышел из пункта A .

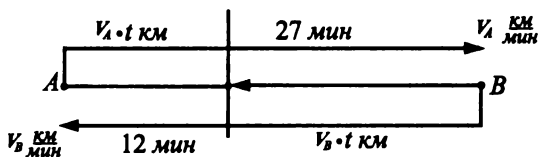


Рис. 66

Ответ: 30, 45.

449. Пусть x г меди и y г цинка находятся в прямоугольном куске сплава, тогда $(x + y)$ г — масса сплава. После увеличения количества меди на 40% масса меди в новом сплаве составила $1,4x$ г, а после уменьшения количества цинка в новом сплаве масса цинка — $0,6y$ г; $(1,4x + 0,6y)$ г — масса нового сплава.

По условию масса куска сплава увеличилась на 20%, значит, стала равна $1,2(x + y)$ г. Составим уравнение:

$$1,2(x + y) = 1,4x + 0,6y; 1,2y - 0,6y = 1,4x - 1,2x; 0,6y = 0,2x; 3y = x.$$

Отсюда следует, что $\frac{x}{y} = 3 : 1$, значит, меди было 75%, а цинка — 25% в первоначальном куске сплава.

Ответ: 75; 25.

450. Пусть n абонементов продали в прошлом сезоне, $8000n$ рублей составила выручка. В настоящем сезоне продали $0,75n$ абонементов, стоимость одного абонемента увеличили на x рублей, значит, $(8000 + x) \cdot 0,75n$ рублей — выручка в настоящем сезоне. По условию выручка уменьшилась на 2,5% по сравнению с прошлым сезоном, значит, стала $8000n \cdot 0,975$ рублей. Составим и решим уравнение:

$$(8000 + x) \cdot 0,75n = 8000n \cdot 0,975, 0,75x = 8000 \cdot 0,225, x = 2400.$$

На 2400 рублей увеличили стоимость абонемента.

Ответ: 2400.

451. Обозначим через $S_{\text{неч}}$ сумму членов, стоящих на нечётных местах среди первых 12-ти членов арифметической прогрессии, а через $S_{\text{чёт}}$ сумму членов, стоящих на чётных местах среди первых 12-ти членов арифметической прогрессии. Тогда условие задачи можно записать в виде системы

$$\begin{cases} S_{\text{неч}} + S_{\text{чёт}} = 354, \\ \frac{S_{\text{чёт}}}{S_{\text{неч}}} = \frac{32}{27}; \end{cases} \Leftrightarrow \begin{cases} S_{\text{чёт}} = \frac{32}{27} S_{\text{неч}}, \\ S_{\text{неч}} + \frac{32}{27} S_{\text{неч}} = 354 \end{cases} \Rightarrow$$

$$\frac{59}{27} S_{\text{неч}} = 354 \Rightarrow S_{\text{неч}} = \frac{354 \cdot 27}{59} = 162. \text{ Тогда } S_{\text{чёт}} = 354 - S_{\text{неч}} = 354 - 162 = 192.$$

Если a_k — k -й член арифметической прогрессии, а d — её разность, то $S_{\text{неч}} = \frac{a_1 + a_1 + 2d \cdot 5}{2} \cdot 6 = 6a_1 + 30d$, так как числа, стоящие на нечётных местах арифметической прогрессии $\{a_k\}$, также составляют арифметическую прогрессию, но с разностью $2d$. Аналогично получим, что

$$S_{\text{чёт}} = \frac{a_2 + a_2 + 2d \cdot 5}{2} \cdot 6 = 6a_2 + 30d.$$

Поэтому $S_{\text{чёт}} - S_{\text{неч}} = (6a_2 + 30d) - (6a_1 + 30d) = 6(a_2 - a_1) = 6d$. Так как $S_{\text{чёт}} - S_{\text{неч}} = 30$, то $6d = 30 \Rightarrow d = 5$.

Ответ: 5.

452. Пусть v_A км/ч ($v_A > 0$) и v_B км/ч ($v_B > 0$) — скорости поездов, которые одновременно отправились навстречу друг другу из пунктов A и B соответственно (см. рис. 67).

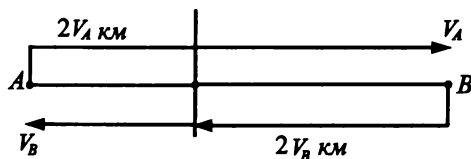


Рис. 67

1) $(v_A + v_B)$ км/ч — скорость сближения, $2(v_A + v_B)$ км — расстояние между пунктами. По условию расстояние составляет 180 км.

$$2(v_A + v_B) = 180.$$

2) $\frac{2v_A}{v_B}$ ч — время движения после встречи поезда, который вышел из пункта B .

$\frac{2v_B}{v_A}$ ч — время движения после встречи поезда, который вышел из пункта A .

По условию второй поезд прибыл в пункт A на 54 мин раньше, чем первый в пункт B .

$$\frac{2v_B}{v_A} - \frac{2v_A}{v_B} = \frac{54}{60}.$$

Составим и решим систему уравнений:

$$\begin{cases} v_A + v_B = 90, \\ \frac{2v_B}{v_A} - \frac{2v_A}{v_B} = \frac{9}{10}. \end{cases}$$

Из второго уравнения системы найдём отношение $\frac{v_B}{v_A}$.

Обозначим $\frac{v_B}{v_A} = t, t > 0$.

$$2t - \frac{2}{t} = \frac{9}{10}; 2t^2 - \frac{9}{10}t - 2 = 0; 20t^2 - 9t - 20 = 0; t_1 = \frac{5}{4}; t_2 = -\frac{4}{5} — не$$

удовлетворяет условию $t > 0$, значит, $\frac{v_B}{v_A} = \frac{5}{4}$.

Вернёмся к исходной системе:

$$\begin{cases} v_A + v_B = 90, \\ \frac{v_B}{v_A} = \frac{5}{4}; \end{cases} \quad \begin{cases} v_A + v_B = 90, \\ v_A = 0,8v_B; \end{cases} \quad \begin{cases} 0,8v_B + v_B = 90, \\ v_A = 0,8v_B, \end{cases}$$

$v_B = 50$, $v_A = 40$. 40 км/ч — скорость поезда, который вышел из пункта A , 50 км/ч — скорость поезда, который вышел из пункта B .

Ответ: 40; 50.

453. v_A км/ч — скорость пешехода, который вышел из пункта A (первый); v_B км/ч — скорость пешехода, который вышел из пункта B (второй).

3 часа 45 минут = $3\frac{45}{60}$ часа = $3\frac{3}{4}$ часа = 3,75 часа — время до встречи пешеходов. Пусть t часов ($t > 0$) — время в пути второго пешехода; $(t + 4)$ — время в пути первого пешехода (см. рис. 68), тогда:

$$\begin{cases} 3,75v_A = v_B(t - 3,75), \\ 3,75v_B = v_A(t + 4 - 3,75); \end{cases} \Leftrightarrow \begin{cases} \frac{v_A}{v_B} = \frac{t - 3,75}{3,75}, \\ \frac{v_A}{v_B} = \frac{3,75}{t + 0,25}; \end{cases}$$

$$\frac{t - 3,75}{3,75} = \frac{3,75}{t + 0,25}, \quad t > 0. \quad t^2 + 0,25t - 3,75t - 0,9375 = 14,0625;$$

$t^2 - 3,5t - 15 = 0$; $2t^2 - 7t - 30 = 0$; $t_1 = 6$, $t_2 = -\frac{5}{2}$ — не удовлетворяет условию $t > 0$.

6 часов был в пути второй пешеход, 10 часов был в пути первый пешеход.

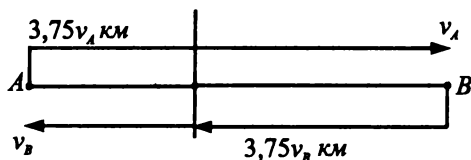


Рис. 68

Ответ: 10; 6.

454. Пусть x км/ч ($x > 0$) — скорость поезда после остановки, тогда $(x - 10)$ км/ч — скорость поезда до остановки. Так как 420 км составляет 60% всего пути, то весь путь AB равен $\frac{420}{0,6} = 700$ км. После остановки поезду осталось проехать $700 - 420 = 280$ км. Следовательно, остаток пути поезд должен был проехать за $\frac{280}{x - 10}$ ч, но, потеряв 0,5 ч, он проехал

его за $\frac{280}{x}$ ч. Таким образом, получаем уравнение: $\frac{280}{x-10} - \frac{280}{x} = 0,5$; $x_1 = -70$ и $x_2 = 80$. Первый корень не удовлетворяет условию $x > 0$.

Ответ: 80.

455. Пусть первая швея может выполнить всю работу за x дней ($x > 0$), а вторая — за y дней ($y > 0$). Тогда их производительность $\frac{1}{x}$ и $\frac{1}{y}$ всей работы в день. Можно составить следующие уравнения, обозначив всю работу за 1:

$$\begin{cases} \frac{6}{x} + \frac{10}{y} = \frac{1}{2}, \\ \frac{6}{x} + \frac{6}{y} + \frac{1}{10} = \frac{1}{2}. \end{cases}$$

Вычтем из первого уравнения системы второе, получим:

$$\frac{4}{y} - \frac{1}{10} = 0; \frac{4}{y} = \frac{1}{10}; y = 40.$$

Подставим это значение в первое уравнение системы:

$$\frac{6}{x} + \frac{1}{4} = \frac{1}{2}; \frac{6}{x} = \frac{1}{4}; x = 24.$$

Итак, первая швея может сделать всю работу за 24 дня, а вторая — за 40 дней.

Ответ: 24, 40.

456. Примем объём работы за 1.

Пусть за x дней ($x > 0$) первая машинистка сможет перепечатать рукопись, за y дней ($y > 0$) — вторая машинистка, $\frac{1}{x}$ — производитель-

ность первой машинистки, а $\frac{1}{y}$ — производительность второй. По условию задачи, работая вместе, они могут перепечатать рукопись за 6 часов;

$$6\left(\frac{1}{x} + \frac{1}{y}\right) = 1.$$

Если машинистки будут работать вместе 5 часов, то они напечатают

$5\left(\frac{1}{x} + \frac{1}{y}\right)$ часть работы, а если вторая машинистка будет работать 3 часа,

она напечатает $\frac{3}{y}$ часть работы. По условию задачи работа при этом будет завершена.

$$5\left(\frac{1}{x} + \frac{1}{y}\right) + \frac{3}{y} = 1.$$

Учитывая, что $x > 0$, $y > 0$, составим и решим систему уравнений:

$$\begin{cases} 6\left(\frac{1}{x} + \frac{1}{y}\right) = 1, \\ 5\left(\frac{1}{x} + \frac{1}{y}\right) + \frac{3}{y} = 1; \end{cases} \Leftrightarrow \begin{cases} \frac{1}{x} + \frac{1}{y} = \frac{1}{6}, \\ \frac{5}{6} + \frac{3}{y} = 1; \end{cases} \Leftrightarrow \begin{cases} \frac{1}{x} = \frac{1}{6} - \frac{1}{y}, \\ \frac{3}{y} = \frac{1}{6}; \end{cases} \Leftrightarrow$$

$$\Leftrightarrow \begin{cases} \frac{1}{x} = \frac{1}{6} - \frac{1}{18}, \\ y = 18; \end{cases} \Leftrightarrow \begin{cases} x = 9, \\ y = 18. \end{cases}$$

За 9 часов первая машинистка может перепечатать рукопись, за 18 часов перепечатает рукопись вторая машинистка.

Ответ: 9; 18.

457. Пусть v км/ч и t ч — скорость и время поездки первого мотоциклиста.

Второй мотоциклист был в пути на 6 минут меньше, поэтому $\left(t - \frac{1}{10}\right)$ часов — время поездки второго мотоциклиста. Скорость второго мотоциклиста — $1,25v$ км/ч. Учитывая, что $t > 0$, решим систему уравнений:

$$\begin{cases} vt = 30, \\ 1,25v\left(t - \frac{1}{10}\right) = 30; \end{cases} \Leftrightarrow \begin{cases} v = \frac{30}{t}, \\ 1,25 \cdot \frac{30}{t} \cdot \left(t - \frac{1}{10}\right) = 30. \end{cases}$$

Из второго уравнения последней системы имеем:

$$1,25 - \frac{0,125}{t} = 1; \frac{0,125}{t} = 0,25; t = \frac{0,125}{0,25} = \frac{1}{2} \Rightarrow v = 60 \text{ км/ч.}$$

Таким образом, 60 км/ч — скорость первого мотоциклиста, а скорость второго равна $v \cdot 1,25 = 75$ км/ч.

Ответ: 60; 75.

458. Пусть v км/мин — скорость первого пешехода, а t мин — потраченное им на дорогу время. Тогда для второго пешехода время, потраченное им на дорогу, составляет $(t - 20)$ мин, а его скорость — $\frac{6}{5}v$ км/мин. Учитывая, что $t > 0$, решим систему уравнений:

$$\begin{cases} vt = 40, \\ \frac{6}{5}v(t-20) = 40; \end{cases} \Leftrightarrow \begin{cases} v = \frac{40}{t}, \\ \frac{6}{5} \cdot \frac{1}{t} \cdot (t-20) = 1; \end{cases} \Rightarrow \left(\frac{6}{5} - 1\right)t = 24 \Rightarrow t = 120.$$

Ответ: 120.

459. Пусть v км/ч и t ч — скорость и время поездки первого грузовика соответственно. Тогда время поездки второго грузовика $\left(t - \frac{1}{2}\right)$ ч, а его скорость — $\frac{6}{5}v$ км/ч. Имеем систему:

$$\begin{cases} vt = 150, \\ \frac{6}{5}v(t-0,5) = 150; \end{cases} \Leftrightarrow \begin{cases} v = \frac{150}{t}, \\ \frac{6}{5} \cdot \frac{1}{t} \cdot (t-0,5) = 1; \end{cases} \Rightarrow \left(\frac{6}{5} - 1\right)t = \frac{3}{5} \Rightarrow t = 3.$$

Ответ: 3.

460. Пусть v км/ч и t ч — скорость и время поездки второго автомобиля соответственно. Тогда время поездки первого автомобиля $\left(t - \frac{5}{6}\right)$ ч, а его скорость — $1,5v$ км/ч. Имеем систему:

$$\begin{cases} vt = 250, \\ 1,5v\left(t - \frac{5}{6}\right) = 250; \end{cases} \Leftrightarrow \begin{cases} v = \frac{250}{t}, \\ 1,5 \cdot \frac{1}{t} \cdot \left(t - \frac{5}{6}\right) = 1; \end{cases} \Rightarrow (1,5 - 1)t = \frac{5}{6} \cdot 1,5 \Rightarrow t = \frac{5}{2}.$$

Ответ: 2,5.

461. Пусть x км/ч ($x > 12$) — скорость мотоциклиста после остановки, тогда $(x - 12)$ км/ч — скорость мотоциклиста до остановки. После остановки мотоциклисту осталось проехать 36% пути, то есть $0,36 \cdot 300 = 108$ км. Следовательно, остаток пути мотоциклист должен был проехать за $\frac{108}{x-12}$ ч, но, потеряв 18 мин ($= 0,3$ ч), он проехал его за $\frac{108}{x}$ ч. Таким образом, получаем уравнение:

$$\frac{108}{x-12} - \frac{108}{x} = 0,3; \quad \frac{36}{x-12} - \frac{36}{x} = 0,1; \quad \frac{432}{x^2-12x} = 0,1;$$

$x^2 - 12x - 4320 = 0$; $x_1 = -60$ и $x_2 = 72$. Первый корень не удовлетворяет условию $x > 12$.

Ответ: 72.

462. Пусть x км/ч ($x > 0$) — скорость поезда до остановки, тогда $(x + 10)$ км/ч — скорость поезда после остановки. Так как 420 км составляет 60% всего пути, то весь путь AB равен $\frac{420}{0,6} = 700$ км. После остановки поезду осталось проехать $700 - 420 = 280$ км. Следовательно, остаток пути поезд должен был проехать за $\frac{280}{x}$ ч, но, потеряв 0,5 ч, он проехал его за $\frac{280}{x + 10}$ ч. Таким образом, получаем уравнение: $\frac{280}{x} - \frac{280}{x + 10} = 0,5$;
 $\frac{560}{x} - \frac{560}{x + 10} = 1$; $\frac{5600}{x^2 + 10x} = 1$; $x_1 = -80$ и $x_2 = 70$. Первый корень не удовлетворяет условию $x > 0$.

Ответ: 70.

463. 1) Автомобиль двигался на $30 + 25 + 25 = 80$ (мин) = $1\frac{1}{3}$ часа меньше, чем автобус. Пусть t — время движения автомобиля, тогда автобус двигался $t + 1\frac{1}{3}$ часов.

2) Если скорость автомобиля v км/ч, то скорость автобуса $0,6v$ км/ч. Так как автомобиль и автобус проехали одно и то же расстояние, то выполнено уравнение $\left(t + \frac{4}{3}\right) \cdot 0,6v = vt$.

Сокращая на v ($v \neq 0$), получаем: $(3t + 4) \cdot 0,2 = t$; $3t + 4 = 5t$; $t = 2$.

3) Теперь найдём скорость автомобиля и автобуса:

$$v_{\text{автом}} = \frac{200}{2} = 100 \text{ км/ч}, v_{\text{автоб}} = \frac{200}{2 + \frac{4}{3}} = 60 \text{ км/ч}.$$

Ответ: 100; 60.

464. 1) Автомобиль двигался на $25 + 26 - 3 = 48$ (мин) = $\frac{4}{5}$ часа меньше, чем велосипедист. Пусть t — время движения автомобиля, тогда велосипедист двигался $t + \frac{4}{5}$ часов.

2) Если скорость велосипедиста v км/ч, то скорость автомобиля $2,5v$ км/ч. Так как автомобиль и велосипедист проехали одно и то же расстояние, то выполнено уравнение $\left(t + \frac{4}{5}\right) \cdot v = 2,5vt$. Сокращая на v ($v \neq 0$), получаем:

$$t + \frac{4}{5} = 2,5t; t = \frac{8}{15}.$$

3) Теперь найдём скорость автомобиля и велосипедиста:

$$v_{\text{автом}} = \frac{64}{\frac{8}{15}} = 120 \text{ (км/ч)}, v_{\text{вел}} = \frac{64}{\frac{8}{15} + \frac{4}{5}} = 48 \text{ (км/ч)}.$$

Ответ: 120; 48.

465. Обозначим через x расстояние между городами А и В, а через v ($v > 0$) — скорость велосипедиста. Тогда скорость мотоциклиста — $3v$. Время, которое затратит велосипедист на преодоление половины пути, будет равно $\frac{x}{2v}$, а время, которое затратит мотоциклист на преодоление того

же расстояния, соответственно равно $\frac{x}{2 \cdot 3v}$. Имеем первое уравнение системы:

$\frac{x}{2v} = \frac{x}{6v} + 3$. Во втором случае, время велосипедиста, затраченное

на преодоление расстояния $\left(\frac{x}{2} - 15\right)$, равно $\frac{x}{2v} - \frac{15}{v}$, а время мотоцикли-

ста, затраченное на преодоление расстояния $\frac{x}{2} + 15$ км, равно $\frac{x}{2 \cdot 3v} + \frac{15}{3v}$.

Составляем второе уравнение системы: $\frac{x}{2v} - \frac{15}{v} = \frac{x}{6v} + \frac{15}{3v} + 2$.

Учитывая, что $v > 0$, решим систему уравнений:

$$\begin{aligned} & \begin{cases} \frac{x}{2v} = \frac{x}{6v} + 3, \\ \frac{x}{2v} - \frac{15}{v} = \frac{x}{6v} + \frac{15}{3v} + 2; \end{cases} \Leftrightarrow \begin{cases} \frac{x}{2v} = \frac{x}{6v} + 3, \\ \frac{x}{2v} - \frac{15}{v} = \frac{x}{6v} + \frac{15}{3v} + 2; \end{cases} \Leftrightarrow \\ & \Leftrightarrow \begin{cases} 3x = x + 18v, \\ 3x - 90 = x + 30 + 12v; \end{cases} \Leftrightarrow \begin{cases} 2x = 18v, \\ 2x = 12v + 120; \end{cases} \Leftrightarrow \\ & \Leftrightarrow \begin{cases} x = 9v, \\ x = 6v + 60; \end{cases} \Leftrightarrow \begin{cases} x = 9v, \\ 9v = 6v + 60; \end{cases} \Leftrightarrow \begin{cases} x = 9v, \\ 3v = 60; \end{cases} \Leftrightarrow \begin{cases} x = 180, \\ v = 20. \end{cases} \end{aligned}$$

Ответ: 180.

466. Обозначим скорость первого поезда через v_1 км/ч, скорость второго — через v_2 км/ч. Первый поезд проходит расстояние между станциями за $\frac{96}{v_1}$ часов, второй — за $\frac{96}{v_2}$ часов. Учитывая, что $v_1 > 0$, $v_2 > 0$, решим следующую систему уравнений:

$$\begin{cases} \frac{96}{v_1} + \frac{2}{3} = \frac{96}{v_2}, \\ v_1 = v_2 + 12; \end{cases} \Leftrightarrow \begin{cases} \left(96 + \frac{2v_1}{3}\right) \cdot v_2 = 96v_1, \\ v_1 = v_2 + 12; \end{cases} \Leftrightarrow$$

$$\Leftrightarrow \begin{cases} 48v_2 + \frac{1}{3}(v_2 + 12)v_2 = 48(v_2 + 12), \\ v_1 = v_2 + 12; \end{cases} \Leftrightarrow \begin{cases} \frac{1}{3}v_2^2 + 4v_2 - 576 = 0, \\ v_1 = v_2 + 12. \end{cases}$$

Корнями уравнения $v_2^2 + 12v_2 - 1728 = 0$ являются числа 36 и -48 . Второе из них, очевидно, не подходит по смыслу задачи. Итак, имеем: $v_2 = 36$ км/ч, $v_1 = 48$ км/ч.

Ответ: 36; 48.

467. Пусть скорость первого поезда равна v_1 км/ч ($v_1 > 0$), а скорость второго равна v_2 км/ч ($v_2 > 0$). Тогда время, затрачиваемое первым поездом на преодоление 720 км, составляет $\frac{720}{v_1}$ ч, а время, затрачиваемое

вторым поездом на преодоление того же расстояния, равно $\frac{720}{v_2}$ ч. Учитывая, что $v_1 > 0$, $v_2 > 0$, решим систему уравнений:

$$\begin{cases} \frac{720}{v_1} = \frac{720}{v_2} - 2, \\ \frac{60}{v_1} = \frac{50}{v_2}; \end{cases} \Leftrightarrow \begin{cases} \frac{720}{v_1} = \frac{720}{v_2} - 2, \\ v_2 = \frac{5}{6}v_1; \end{cases} \Leftrightarrow \begin{cases} \frac{720}{v_1} = \frac{864}{v_1} - 2, \\ v_2 = \frac{5}{6}v_1; \end{cases} \Leftrightarrow$$

$$\Leftrightarrow \begin{cases} \frac{144}{v_1} = 2, \\ v_2 = \frac{5}{6}v_1; \end{cases} \Leftrightarrow \begin{cases} v_1 = 72, \\ v_2 = 60. \end{cases}$$

Ответ: 72; 60.

468. Пусть скорость первого поезда равна v_1 км/ч ($v_1 > 0$), а скорость второго — равна v_2 км/ч ($v_2 > 0$). Тогда время, затрачиваемое первым поездом на преодоление 450 км, составляет $\frac{450}{v_1}$ ч, а время, затрачиваемое

вторым поездом на преодоление того же расстояния, равно $\frac{450}{v_2}$ ч.

Учитывая, что $v_1 > 0$, $v_2 > 0$, решим систему уравнений:

$$\begin{cases} \frac{450}{v_1} = \frac{450}{v_2} - 1,5, \\ \frac{250}{v_1} = \frac{200}{v_2}; \end{cases} \Leftrightarrow \begin{cases} \frac{450}{v_1} = \frac{450}{v_2} - 1,5, \\ v_2 = \frac{4}{5}v_1; \end{cases} \Leftrightarrow \begin{cases} \frac{450}{v_1} = \frac{562,5}{v_1} - 1,5, \\ v_2 = \frac{4}{5}v_1; \end{cases} \Leftrightarrow \begin{cases} \frac{112,5}{v_1} = 1,5, \\ v_2 = \frac{4}{5}v_1; \end{cases} \Leftrightarrow \begin{cases} v_1 = 75, \\ v_2 = 60. \end{cases}$$

Ответ: 75; 60.

469. Пусть x кг — количество варенья, которое было у малыша первоначально, а y кг — количество варенья, которое Малыш с Карлсоном взяли с собой на крышу. Тогда в доме Малыша Карлсон съел $0,3x$ кг варенья, и из условия задачи имеем уравнение: $0,3x + 0,2 + y + 1,7 = x$, (1). Поскольку из взятого на крышу варенья, Малыш съел $0,3$ кг, то Карлсон съел $(y - 0,3)$ кг варенья. Тогда $0,3x + y - 0,3$ (кг) — общее количество съеденного Карлсоном варенья, и, по условию, $y - 0,3 = \frac{1}{3} \cdot (0,3x + y - 0,3)$ (2). Из

уравнения (2) выразим y через x : $y - 0,3 = 0,1x + \frac{1}{3}y - 0,1$; $\frac{2}{3}y = 0,1x + 0,2$;

$y = \frac{3}{2} \cdot (0,1x + 0,2) = 0,15x + 0,3$. Подставим найденное для y выражение в уравнение (1) и решим полученное уравнение: $0,3x + 0,2 + 0,15x + 0,3 + 1,7 = x$; $0,45x + 2,2 = x$; $0,55x = 2,2$; $x = 4$. Таким образом, у Малыша первоначально было 4 кг варенья.

Ответ: 4.

470. Пусть x км — протяжённость всего выбранного туристами маршрута, а y км — протяжённость части маршрута, оставшейся после четырёх дней похода. Тогда из условия задачи имеем систему уравнений:

$$\begin{cases} 20 + 0,3(x - 20) + \frac{1}{4}x + \frac{1}{5}x + y = x, \\ y = 0,8y + 2. \end{cases}$$

Из второго уравнения системы находим: $0,2y = 2$, $y = 10$. Подставив найденное значение y в первое уравнение, получаем:

$$20 + \frac{3x}{10} - 6 + \frac{x}{4} + \frac{x}{5} + 10 = x; \frac{12x + 10x + 8x}{40} + 24 = x; x - \frac{3}{4}x = 24; x = 96.$$

Итак, протяжённость всего выбранного туристами маршрута составляет 96 км.

Ответ: 96.

471. Пусть x литров — объём первого ведра, а y литров — объём второго. Время, необходимое для того, чтобы набрать оба ведра из первого крана, равно $\frac{x+y}{5}$ минут. А время, необходимое для того, чтобы набрать первое

ведро из второго крана, равно $\frac{x}{7}$ минут. Отсюда получаем: $\frac{x+y}{5} = 2 \cdot \frac{x}{7}$; $7(x+y) = 10x$; $7y = 3x$.

Таким образом, $\frac{x}{y} = \frac{7}{3}$.

Ответ: $\frac{7}{3}$.

472. Пусть скорость лодки x км/ч ($x > 0$), тогда скорость катера $4x$ км/ч. Тогда время, затрачиваемое катером на прохождение 16 километров, равно $\frac{16}{4x}$ часов, а время, затрачиваемое лодкой, — $\frac{16}{x}$ часов. Отсюда получаем: $\frac{16}{4x} + 3 = \frac{16}{x}$; $\frac{19}{x} = 3$; $x = 4$.

Ответ: 4.

473. Пусть первый рабочий может наклеить обои в комнате за x часов ($x > 0$), тогда второй рабочий наклеит обои за $x+5$ часов. Всю работу по наклеиванию обоев примем за 1, тогда $\frac{1}{x}$ — производительность первого рабочего, $\frac{1}{x+5}$ — производительность второго. Так как, работая вместе, они наклеят обои за 6 ч, то их совместная производительность равна $\frac{1}{6}$. Таким образом, имеем: $\frac{1}{x} + \frac{1}{x+5} = \frac{1}{6}$; $\frac{2x+5}{x(x+5)} = \frac{1}{6}$; $x(x+5) = 6(2x+5)$; $x^2 - 7x - 30 = 0$; $x_1 = -3$, $x_2 = 10$. $x_1 = -3$ не удовлетворяет условию $x > 0$, то есть $x = 10$; первый рабочий может выполнить работу за 10 ч, второй — за 15 ч.

Ответ: 10, 15.

474. Пусть первая бригада может вспахать поле за x часов ($x > 0$), тогда вторая бригада может вспахать поле за $x+12$ часов. Примем всю

работу за 1, тогда $\frac{1}{x}$ — производительность первой бригады, а $\frac{1}{x+12}$ — производительность второй. Так как, работая вместе, они вспахали поле за 8 ч, то их совместная производительность равна $\frac{1}{8}$. Таким образом,

имеем: $\frac{1}{x} + \frac{1}{x+12} = \frac{1}{8}$; $\frac{2x+12}{x(x+12)} = \frac{1}{8}$; $x(x+12) = 8(2x+12)$;
 $x^2 - 4x - 96 = 0$; $x_1 = -8$, $x_2 = 12$. $x_1 = -8$ не удовлетворяет условию $x > 0$, то есть $x = 12$; первая бригада может вспахать поле за 12 ч, вторая — за 24 ч.

Ответ: 12; 24.

475. Пусть первый токарь может выполнить задание за x часов ($x > 0$), тогда второй токарь может выполнить задание за $x+7$ часов. Вся работу примем за 1, тогда $\frac{1}{x}$ — производительность первого токаря, $\frac{1}{x+7}$ — производительность второго. Так как, работая вместе, они выполнили задание за 12 ч, то их совместная производительность равна $\frac{1}{12}$. Таким образом, имеем:

$\frac{1}{x} + \frac{1}{x+7} = \frac{1}{12}$; $\frac{2x+7}{x(x+7)} = \frac{1}{12}$; $x(x+7) = 12(2x+7)$; $x^2 - 17x - 84 = 0$;
 $x_1 = -4$, $x_2 = 21$. $x_1 = -4$ не удовлетворяет условию $x > 0$, то есть $x = 21$; первый токарь может выполнить задание за 21 ч, второй — за 28 ч.

Ответ: 21; 28.

476. Пусть x страниц в час печатала первая машинистка, тогда вторая в час печатала $(x-2)$ страницы. Так как вторая машинистка работала на 1 час дольше, то получаем уравнение: $\frac{60}{x-2} - \frac{60}{x} = 1$, ($x > 2$). Отсюда

имеем: $\frac{60x - 60(x-2)}{(x-2)x} = 1$; $120 = (x-2)x$; $x^2 - 2x - 120 = 0$; $x_1 = -10$,
 $x_2 = 12$. $x_1 = -10$ не удовлетворяет условию $x > 2$, значит, первая машинистка печатала $x = 12$ страниц в час.

Ответ: 12.

477. Пусть t часов — время, которое будет находиться в пути Петя до того момента, когда его догонит Вася. Тогда Вася до того, как догонит Петю, будет находиться в пути $\left(t - \frac{1}{3}\right)$ часов. Всего Петя пройдёт 4,5т км, а Вася проедет $12\left(t - \frac{1}{3}\right)$ км. Решим уравнение:

$$4,5t = 12\left(t - \frac{1}{3}\right); 4,5t = 12t - 4; 7,5t = 4; t = \frac{8}{15}. \text{ Следовательно,}$$

Вася догонит Петю на расстоянии $\frac{4,5 \cdot 8}{15} = 0,3 \cdot 8 = 2,4$ км от школы.

Ответ: 2,4.

478. Пусть t часов — время, которое будет находиться в пути Нина до того момента, когда её догонит брат. Тогда брат до того, как догонит Нину, будет находиться в пути $(t - 0,1)$ часов. Следовательно, Нина проедет 15т км, а брат проедет $40(t - 0,1)$ км. Решим уравнение: $15t = 40(t - 0,1)$; $15t = 40t - 4$; $25t = 4$; $t = \frac{4}{25}$. Итак, брат догонит Нину на расстоянии

$$15t = 15 \cdot \frac{4}{25} = 2,4 \text{ км от дома.}$$

Ответ: 2,4.

479. Пусть x км/ч — первоначальная скорость автобуса, а S км — расстояние между городами, тогда $S = 8x$. Из условия следует, что после снижения скорости до $(x - 10)$ км/ч (через 5 ч после начала движения) автобус проехал оставшуюся часть пути за $\left(3 + \frac{1}{3}\right)$ часа. Таким образом, имеем:

$$S = 5x + \frac{10}{3}(x - 10); 5x + \frac{10}{3}x - \frac{100}{3} = 8x; \frac{x}{3} = \frac{100}{3}; x = 100; \text{ то есть}$$

первоначальная скорость автобуса равна 100 км/ч.

Ответ: 100.

480. Пусть x км/ч — первоначальная скорость велосипедиста, а S км — расстояние, проезжаемое велосипедистом, тогда $S = 2x$. Из условия следует, что после снижения скорости до $(x - 3)$ км/ч (через 1,5 ч после начала движения) велосипедист проехал оставшуюся часть пути за 40 мин = $\frac{2}{3}$ часа. Таким образом, имеем:

$S = 1,5x + \frac{2}{3}(x - 3)$; $1,5x + \frac{2}{3}x - 2 = 2x$; $\frac{x}{6} = 2$; $x = 12$, то есть первоначальная скорость велосипедиста равна 12 км/ч.

Ответ: 12.

481. Пусть x км/ч ($x > 0$) — первоначальная скорость поезда, тогда $x + 6$ км/ч — скорость поезда после задержки. Так как весь путь AB равен 78 км, а до задержки поезд проехал на 12 км больше, чем после задержки, то длина пути, пройденного до задержки, равна $\frac{78 + 12}{2} = 45$ км. Тогда после задержки поезду осталось проехать $78 - 45 = 33$ км. Следовательно, первую часть пути поезд проехал за $\frac{45}{x}$ ч, а вторую часть — за $\frac{33}{x + 6}$ ч. По условию, первый отрезок времени больше второго на 15 мин ($= 0,25$ ч). Таким образом, получаем уравнение:

$$\frac{45}{x} - \frac{33}{x + 6} = 0,25; \frac{180}{x} - \frac{132}{x + 6} = 1; \frac{48x + 1080}{x^2 + 6x} = 1; x^2 - 42x - 1080 = 0.$$

Решаем квадратное уравнение, применяя формулу с чётным коэффициентом при x , и получаем корни $x_1 = -18$ и $x_2 = 60$. Первый корень не удовлетворяет условию $x > 0$.

Ответ: 60.

482. Пусть x км/ч ($x > 75$) — скорость третьего мотоциклиста, тогда его скорость сближения с первым мотоциклистом равна $(x - 75)$ км/ч, а со вторым — $(x - 60)$ км/ч. За 20 мин ($= \frac{1}{3}$ ч), к моменту, когда третий мото-

циклист выехал из пункта A , первый мотоциклист проехал $\frac{1}{3} \cdot 75 = 25$ (км),

а второй — $\frac{1}{3} \cdot 60 = 20$ (км). Следовательно, третий мотоциклист догонит

первого за $\frac{25}{x - 75}$ ч, а второго за $\frac{20}{x - 60}$ ч. По условию, первый отрезок времени больше второго на 1 ч. Таким образом, получаем уравнение:

$$\frac{25}{x - 75} - \frac{20}{x - 60} = 1; \frac{5x}{(x - 75)(x - 60)} = 1; x^2 - 140x + 4500 = 0.$$

Решаем квадратное уравнение, применяя формулу с чётным коэффициентом при x , и получаем корни $x_1 = 50$ и $x_2 = 90$. Первый корень не удовлетворяет условию $x > 75$.

Ответ: 90.

483. Пусть s — расстояние между A и B . Тогда $\frac{s}{5}$ — скорость движения парохода по течению (собственная скорость парохода плюс скорость течения реки), а $\frac{s}{7}$ — скорость движения парохода против течения (собственная скорость парохода минус скорость течения реки). Определим скорость течения реки: $\left(\frac{s}{5} - \frac{s}{7}\right) : 2 = \frac{s}{35}$. Следовательно, плоты от A до B плывут $s : \frac{s}{35} = 35$ суток.

Ответ: 35.

484. Пусть s — расстояние между A и B . Тогда $\frac{s}{4}$ — скорость движения моторной лодки по течению (собственная скорость моторной лодки плюс скорость течения реки), а $\frac{s}{5}$ — скорость движения моторной лодки против течения (собственная скорость моторной лодки минус скорость течения реки). Определим скорость течения реки: $\left(\frac{s}{4} - \frac{s}{5}\right) : 2 = \frac{s}{40}$. Следовательно, скорость движения моторной лодки по течению больше скорости течения в $\frac{s}{4} : \frac{s}{40} = 10$ раз.

Ответ: 10.

485. Пусть второй насос перекачивает ежечасно x м³ ($x > 10$), тогда он работал $\frac{480}{x}$ часов. Тогда первый насос перекачивает $(x - 10)$ м³ в час, и, значит, он работал $\frac{360}{x - 10}$ часов. По условию задачи известно, что первый насос работал дольше, чем второй, на 2 часа, то есть имеем уравнение: $\frac{360}{x - 10} - \frac{480}{x} = 2$; $\frac{360x - 480(x - 10)}{(x - 10)x} = 2$; $2x^2 - 20x = 4800 - 120x$; $x^2 + 50x - 2400 = 0$; $x_1 = -80$, $x_2 = 30$. $x_1 = -80$ не удовлетворяет условию $x > 10$, то есть второй насос перекачивает за час $x = 30$ м³; при этом первый насос перекачивает 20 м³.

Ответ: 20; 30.

486. Пусть второй насос перекачивает ежечасно x м³ ($x > 0$), тогда 100 м³ он перекачивает за $\frac{100}{x}$ часов. Тогда первый насос перекачива-

ет $(x + 5)$ м³/ч, значит, 90 м³ он перекачивает за $\frac{90}{x+5}$ часов. По условию задачи известно, что первый насос перекачивает 90 м³ на 1 час быстрее, чем второй 100 м³, значит, имеем уравнение: $\frac{90}{x+5} + 1 = \frac{100}{x}$;

$$\frac{100(x+5) - 90x}{x(x+5)} = 1; x^2 + 5x = 10x + 500; x^2 - 5x - 500 = 0; x_1 = -20,$$

$x = 25$. $x_1 = -20$ не удовлетворяет условию $x > 0$, то есть второй насос перекачивает $x = 25$ м³/ч; при этом первый насос перекачивает 30 м³.

Ответ: 30; 25.

487. Обозначим через x и y количество первого и второго растворов соответственно ($x > 0, y > 0$). Тогда, из условия следует уравнение:

$$\frac{0,4x + 0,7y}{x + y} = 0,6; \frac{x}{y} = \frac{1}{2}.$$

Ответ: 1 : 2.

488. Обозначим через x и y количество первого и второго сплавов соответственно ($x > 0, y > 0$). Тогда из условия следует уравнение

$$\frac{0,25x + 0,45y}{x + y} = 0,3; \frac{x}{y} = 3.$$

Ответ: 3 : 1.

489. Пусть x и y — количество первого и второго сплава соответственно ($x > 0, y > 0$). Тогда концентрация железа в новом сплаве будет:

$$\frac{0,75x + 0,25y}{x + y} = 0,4 \Leftrightarrow 0,35x = 0,15y; \frac{x}{y} = \frac{3}{7}.$$

Ответ: 3 : 7.

490. Пусть x и y — количество первого и второго растворов соли соответственно ($x > 0, y > 0$). Тогда концентрация соли в новом растворе будет

$$\frac{0,64x + 0,36y}{x + y} = 0,48 \Leftrightarrow 0,16x = 0,12y; \frac{x}{y} = \frac{3}{4}.$$

Ответ: 3 : 4.

491. Пусть скорость автомобиля x км/ч, а скорость автобуса y км/ч. C — точка встречи. Так как автобус приехал в пункт A через 9 часов после встречи, а автомобиль в пункт B — через 4 часа, то расстояние $AC = 9y$, а $BC = 4x$. Тогда автомобиль до встречи с автобусом находился в пути $\frac{9y}{x}$ ч, а автобус — $\frac{4x}{y}$ ч. Так как автомобиль и автобус выехали из своих пунктов одновременно, то до встречи они находились одно и то же время в пути.

Получим уравнение: $\frac{9y}{x} = \frac{4x}{y}$; $\frac{x^2}{y^2} = \frac{9}{4}$; $\frac{x}{y} > 0$; $\frac{x}{y} = \frac{3}{2} = 1,5$.

Средняя скорость автомобиля в 1,5 раза больше скорости автобуса.

Ответ: 1,5.

492. Пусть x — скорость грузовика при движении с горы, y — скорость при движении в гору. В задаче требуется найти $k = \frac{x}{y}$ ($k > 1$). Обозначим, согласно условию задачи, A и B — конечные точки движения и C — нижняя точка (см. рис. 69).

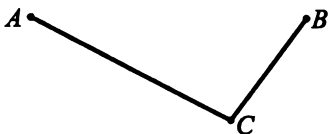


Рис. 69

Тогда имеем: $\frac{AC}{x} = 3$; $\frac{CB}{y} = 7$; $\frac{BC}{x} + \frac{CA}{y} = 22$. Откуда $\frac{7y}{x} + \frac{3x}{y} = 22$; $\frac{7}{k} + 3k = 22$; $3k^2 - 22k + 7 = 0$. Корни: $k_1 = 7$, $k_2 = \frac{1}{3}$. Так как $k > 1$, то $k = 7$. Значит, скорость грузовика при движении с горы в семь раз больше скорости грузовика при движении в гору.

Ответ: 7.

493. Пусть x км/ч — скорость автомобиля, y км/ч — скорость автобуса; C — место их встречи. Тогда $\frac{AC}{x}$ (ч) и $\frac{CB}{y}$ (ч) — время в пути до встречи автомобиля и автобуса соответственно; $\frac{AC}{y}$ (ч) и $\frac{CB}{x}$ (ч) — время в пути после встречи автомобиля и автобуса соответственно. По условию $\frac{AC}{y} = 9$; $\frac{CB}{x} = 4$; $\frac{AC}{x} = \frac{CB}{y}$; $x > 0$; $y > 0$. Отсюда $\frac{9y}{x} = \frac{4x}{y}$; $4x^2 = 9y^2$; $\left(\frac{x}{y}\right)^2 = \frac{9}{4}$. Так как $x > 0$; $y > 0$, то $\frac{x}{y} = \frac{3}{2} = 1,5$.

Ответ: 1,5.

494. Пусть x км/ч — скорость автомобиля, y км/ч — скорость автобуса, C — место их встречи (см. рис. 70).




Рис. 70

Требуется найти $\frac{AB}{y}$ — время в пути автобуса. Так как они выехали из пунктов A и B одновременно, то до места встречи в пути они были одинаковое время: $\frac{AC}{x} = \frac{BC}{y}$. Из условия задачи следует, что $\frac{AC}{y} = 16$

и $\frac{BC}{x} = 4$, отсюда $AC = 16y$; $BC = 4x$. Следовательно, $\frac{16y}{x} = \frac{4x}{y}$;

$\left(\frac{x}{y}\right)^2 = 4$, ($x > 0$, $y > 0$); $\frac{x}{y} = 2$. Так как $AB = AC + BC$, то

$$\frac{AB}{y} = \frac{AC + BC}{y} = \frac{16y + 4x}{y} = 16 + 4 \cdot \frac{x}{y} = 16 + 4 \cdot 2 = 24 \text{ (часа)}.$$

Ответ: 24.

495. Пусть x, y, z — производительности первого, второго и третьего рабочих (объём работ/день) соответственно ($x > 0$, $y > 0$, $z > 0$). Весь объём работ примем равным 1. Из условия задачи следует, что

$$\begin{cases} \frac{1}{x+y} = 3, \\ \frac{1}{x+z} = 3, \\ \frac{1}{y+z} = 6. \end{cases}$$

Сложим все три уравнения системы:

$$2(x+y+z) = \frac{2}{3} + \frac{1}{6} = \frac{5}{6}; \quad x+y+z = \frac{5}{12}.$$

Поэтому, работая втроём,

$$\text{рабочие выполняют всю работу за время } \frac{1}{x+y+z} = \frac{12}{5} = 2,4 \text{ ч.}$$

Ответ: 2,4.

496. Обозначим x, y, z — производительность первого, второго и третьего рабочих соответственно. Весь объём работ примем равным 1. Тогда из условия задачи следует, что

$$\begin{cases} \frac{1}{x+y} = 18, \\ \frac{1}{x+z} = 12, \\ \frac{1}{y+z} = 9. \end{cases}$$

Требуется найти $\frac{1}{x+y+z}$. Сложим все три уравнения полученной системы: $2(x+y+z) = \frac{1}{18} + \frac{1}{12} + \frac{1}{9} = \frac{1}{4}$. Значит, $x+y+z = \frac{1}{8}$. А искомое значение $\frac{1}{x+y+z} = 8$ (ч).

Ответ: 8.

497. Обозначим через x и y стоимость 1 кг первого и второго продуктов соответственно. Тогда из условия задачи $x + 10y = 200$. Первый продукт подорожал на 15%, то есть его стоимость стала равна $x + \frac{15}{100}x = 1,15x$. Второй продукт подешевел на 25%, то есть его стоимость стала равна $y - \frac{25}{100}y = 0,75y$. Поэтому $1,15x + 10 \cdot 0,75y = 182$. Эти два условия

должны выполняться одновременно: $\begin{cases} x + 10y = 200; \\ 1,15x + 7,5y = 182; \end{cases} \Leftrightarrow$

$$\Leftrightarrow \begin{cases} x = 200 - 10y; \\ 1,15(200 - 10y) + 7,5y = 182. \end{cases}$$

Из второго уравнения системы получаем: $230 - 11,5y + 7,5y = 182$; $y = 12$. Тогда из первого уравнения: $x = 200 - 120 = 80$. Итак, $x = 80$, $y = 12$.

Ответ: 80 и 12.

498. Пусть в 100 г первого раствора было x г соли ($x\%$ -ный раствор), а в 100 г второго раствора — y г соли ($y\%$ -ный раствор). Тогда до испарения в 1000 г первого раствора содержалось $10x$ г соли, а в 1000 г второго раствора — $10y$ г соли. После испарения такое же количество соли стало содержаться соответственно в 800 г каждого раствора, то есть концентрация соли в каждом растворе увеличилась в $\frac{1000}{800} = \frac{5}{4} = 1,25$ раза. Пусть также до испарения мы брали a г второго раствора (и $2a$ г первого), а после испарения b г второго раствора (и $4b$ г первого). Составим и решим систему уравнений, учитывая, что концентрация соли в смеси будет 10%:

$$\begin{cases} \frac{2a \cdot (x/100) + a \cdot (y/100)}{3a} = 0,1, \\ \frac{4b \cdot (1,25x/100) + b \cdot (1,25y/100)}{5b} = 0,1 \end{cases} \Leftrightarrow \begin{cases} 2x + y = 30, \\ 5x + 1,25y = 50 \end{cases} \Leftrightarrow \begin{cases} x = 5, \\ y = 20. \end{cases}$$

Ответ: 5; 20.

499. Пусть первый поезд проходит путь от A до B за t_1 ч ($t_1 > 0$), а второй поезд путь от B до A — за t_2 ч ($t_2 > 0$). Если обозначить расстояние от A до B (или от B до A) через s км, то получим систему уравнений:

$$\begin{cases} \frac{t_1}{2} - 2 = \frac{t_2}{2}, \\ \left(\frac{s}{t_1} + \frac{s}{t_2} \right) \cdot 2 = s - \frac{s}{4}; \end{cases} \Leftrightarrow \begin{cases} t_1 = t_2 + 4, \\ 8(t_1 + t_2) = 3t_1t_2; \end{cases} \Leftrightarrow \begin{cases} t_1 = t_2 + 4, \\ 3t_2^2 - 4t_2 - 32 = 0. \end{cases}$$

Корнями последнего уравнения являются $t_2 = 4$ и $t_2 = -\frac{8}{3}$. Второй корень не удовлетворяет условию задачи. Значит, $t_2 = 4$ ч. Отсюда, $t_1 = 8$ ч.

Ответ: 8; 4.

500. Пусть скорость велосипедиста равна v_1 км/ч, а скорость мотоциклиста — v_2 км/ч. По условию велосипедист проезжает каждую минуту на 500 м меньше, чем мотоциклист. Это соответствует тому, что его скорость

на $\frac{\frac{1}{2} \text{ км}}{\frac{1}{60} \text{ ч}} = 30$ км/ч меньше скорости мотоциклиста. Тогда имеем систему

$$\text{уравнений: } \begin{cases} v_1 + 30 = v_2, \\ \frac{120}{v_1} - 2 = \frac{120}{v_2}; \end{cases} \Leftrightarrow \begin{cases} v_2 = v_1 + 30, \\ v_1^2 + 30v_1 - 1800 = 0. \end{cases}$$

Корнями последнего уравнения являются $v_1 = 30$ и $v_1 = -60$. Второй корень очевидно не удовлетворяет условию задачи. Значит, $v_1 = 30$. Из первого уравнения $v_2 = 60$.

Ответ: 30; 60.

501. Имеется 200 граммов 30%-го раствора. Значит, кислоты в них

$\frac{200 \cdot 30}{100} = 60$ (г). Обозначим через x количество воды (в граммах), кото-

рое нужно долить, чтобы получился 6%-ный раствор. Тогда

$$\frac{60}{200 + x} = \frac{6}{100}. \text{ Отсюда } x = 800 \text{ (г).}$$

Ответ: 800.

502. Имеется 300 граммов 20%-го раствора кислоты с водой. Значит, кислоты в этом растворе $300 \cdot \frac{20}{100} = 60$ (г). Обозначим через x количество (в граммах) воды, которое нужно добавить в имеющийся раствор, чтобы получился 16%-ный. Тогда $\frac{60}{300 + x} = \frac{16}{100}$. Отсюда $x = 75$ (г).

Ответ: 75.

503. Пусть первый экскаватор, работая один, вырыл яму за x часов, тогда второй — вырыл бы её за $3x$ часов. $\frac{49}{x}$ м³/ч — производительность первого экскаватора, а $\frac{49}{3x}$ м³/ч — производительность второго экскаватора.

Так как их совместная производительность равна $49 : 1,5 = \frac{98}{3}$ (м³/ч),

получим уравнение: $\frac{49}{x} + \frac{49}{3x} = \frac{98}{3}$; $\frac{1}{x} + \frac{1}{3x} = \frac{2}{3}$; $x = 2$.

Первый экскаватор вырыл бы яму за 2 часа, а половину ямы за 1 час, тогда второй вырыл бы яму за 6 часов, а половину — за 3 часа. Если бы каждый по очереди вырыл бы половину ямы, то они вырыли бы яму за $1 + 3 = 4$ (ч).

Ответ: 4.

504. Пусть скорость второго грузовика — x , тогда скорость первого — $2,5x$. Имеем: $(2,5x + x) \cdot 3 = 31,5$, откуда $x = 3$. Первый грузовик привёз бы 21 т зерна за $\frac{21}{7,5} = \frac{14}{5} = 2\frac{4}{5}$ (ч), а второй — 10,5 т за $\frac{10,5}{3} = \frac{7}{2} = 3\frac{1}{2}$ (ч).

Общее время равно $3\frac{1}{2} + 2\frac{4}{5} = 6\frac{3}{10} = 6,3$ (ч).

Ответ: 6,3.

505. Пусть x км/ч ($x > 0$) — скорость первого поезда, а y км/ч ($y > 0$) — скорость второго поезда. За $\frac{840}{x}$ часов пройдёт 840 км первый поезд, а за $\frac{840}{y}$ часов пройдёт это же расстояние второй поезд.

По условию задачи первый поезд затратит времени на 2 часа меньше, чем второй, значит, $\frac{840}{y} - \frac{840}{x} = 2$. За $\frac{63}{x}$ часов пройдёт 63 км первый поезд, за $\frac{54}{y}$ часов пройдёт 54 км второй поезд.

По условию, время, затраченное поездами, одинаково, значит, $\frac{63}{x} = \frac{54}{y}$. Составим и решим систему уравнений:

$$\begin{cases} 63 \cdot \frac{1}{x} = 54 \cdot \frac{1}{y}, \\ 840 \cdot \frac{1}{y} - 840 \cdot \frac{1}{x} = 2. \end{cases}$$

Замена $\frac{1}{x} = a$; $\frac{1}{y} = b$ приводит к системе уравнений

$$\begin{cases} 7a = 6b, \\ 420b - 420a = 1; \end{cases} \Leftrightarrow \begin{cases} a = \frac{6}{7}b, \\ 60b = 1; \end{cases} \Leftrightarrow \begin{cases} a = \frac{1}{70}, \\ b = \frac{1}{60}. \end{cases}$$

Возвращаясь к исходным переменным, получаем: $x = 70$; $y = 60$.

Тогда 70 км/ч — скорость первого поезда; 60 км/ч — скорость второго поезда, $70 - 60 = 10$ (км/ч).

Ответ: 10 км/ч.

506. Пусть x км/ч ($x > 0$) — скорость лодки по течению, y км/ч ($y > 0$) — скорость лодки против течения. Так как $12 \text{ мин} = \frac{1}{5} \text{ ч}$, $40 \text{ мин} = \frac{2}{3} \text{ ч}$,

$52 \text{ мин} = \frac{13}{15} \text{ ч}$, то $\frac{1}{5} \cdot x$ км — путь, пройденный одной лодкой по течению;

$\frac{2}{3} \cdot y$ км — путь, пройденный другой лодкой против течения; $\frac{1}{5} \cdot \frac{x}{y}$ ч — вре-

мя, затраченное одной лодкой на обратный путь против течения; $\frac{2}{3} \cdot \frac{y}{x}$ ч — время, затраченное другой лодкой на обратный путь по течению.

Зная, что время на обратный путь лодок в сумме заняло $\frac{13}{15}$ часа, составим и решим уравнение: $\frac{1}{5} \cdot \frac{x}{y} + \frac{2}{3} \cdot \frac{y}{x} = \frac{13}{15}$. Обозначим искомое отношение скорости лодки по течению к скорости лодки против течения че-

рез t , имеем: $\frac{x}{y} = t, t > 1$, тогда уравнение примет вид: $\frac{1}{5}t + \frac{2}{3} \cdot \frac{1}{t} = \frac{13}{15}$,

$3t^2 - 13t + 10 = 0$; $t_1 = \frac{10}{3}$, $t_2 = 1$ — не удовлетворяет условию $t > 1$.

Ответ: $\frac{10}{3}$.

507. Обозначим x — концентрация первого раствора в процентах, y — второго. Из условия задачи следует:

$$\begin{cases} 2\frac{x}{100} + 6\frac{y}{100} = \frac{36}{100} \cdot (2 + 6), \\ \frac{x}{100} + \frac{y}{100} = \frac{32}{100} \cdot (1 + 1). \end{cases}$$

Во втором уравнении считаем (не нарушая общности) что первого и второго раствора берут по одному килограмму.

$$\begin{cases} 2x + 6y = 36 \cdot 8, \\ x + y = 32 \cdot 2; \end{cases} \Leftrightarrow \begin{cases} 2x + 6(64 - x) = 288, \\ y = 64 - x. \end{cases}$$

Из первого уравнения получаем $x = 24$. Зная x , из второго уравнения получаем $y = 40$.

Ответ: 24 и 40.

508. Пусть для получения 30%-го раствора нужно взять x кг 28%-го раствора и y кг 36%-го раствора. Тогда $0,28x + 0,36y = 0,3(x + y)$;

$0,02x = 0,06y$; $\frac{x}{y} = \frac{1}{3}$. То есть для получения раствора нужной концентрации нужно взять три части 28%-го раствора и одну часть 36%-го раствора. Так как первого раствора имеется всего 2 кг, то, чтобы получить наибольший объем 30%-го раствора, нужно взять 2 кг 28%-го раствора и $y = \frac{x}{3} = \frac{2}{3}$ (кг) 36%-го раствора. Тогда общее количество раствора будет

равно $x + y = 2 + \frac{2}{3} = 2\frac{2}{3}$ (кг).

Ответ: $2\frac{2}{3}$.

509. Пусть К — красный грузовик, а С — синий, x ч — время, за которое синий вывозит груз с первого склада ($x > 0$). Составим таблицу:

	1-й склад	2-й склад
К	3	$x - 7$
С	x	6

Имеем теперь пропорцию:

$\frac{3}{x} = \frac{x-7}{6}$; $x^2 - 7x - 18 = 0$; $x_1 = 9$, $x_2 = -2$. Так как по условию задачи x — число положительное, то $x = 9$. Таким образом, синий грузовик может вывезти груз с первого склада быстрее, чем это сделает красный, в $\frac{9}{3} = 3$ раза.

Ответ: 3.

510. Пусть x — время, за которое второй кран разгрузит баржу ($x > 0$).

Рассмотрим таблицу:

	баржа	сухогруз
I кран	3	$x - 10$
II кран	x	8

Составим пропорцию: $\frac{3}{x} = \frac{x-10}{8}$; $x^2 - 10x - 24 = 0$; $x_1 = -2$; $x_2 = 12$. Так как x не может быть меньше нуля, то $x = 12$.

Примем всю работу по разгрузке баржи за единицу. Тогда $p_1 = \frac{1}{3}$ — производительность I-го крана, $p_2 = \frac{1}{12}$ — производительность II-го крана. Искомая величина $\frac{p_1}{p_2} = 4$.

Ответ: 4.

511. Пусть V — собственная скорость лодки, V_T — скорость течения реки. Тогда из условия задачи получим систему:

$$\begin{cases} \frac{6}{V+V_T} + \frac{6}{V-V_T} = \frac{35}{60}, \\ \frac{18}{V-V_T} - \frac{18}{V+V_T} = \frac{15}{60}. \end{cases} \quad \text{Обозначим } \frac{1}{V+V_T} = a \text{ и } \frac{1}{V-V_T} = b.$$

$$\text{Тогда } \begin{cases} a + b = \frac{7}{72}, \\ b - a = \frac{1}{72}; \end{cases} \Leftrightarrow \begin{cases} a = \frac{3}{72}, \\ b = \frac{4}{72}. \end{cases}$$

Возвращаясь к переменным V и V_T , получим:

$$\begin{cases} \frac{1}{V + V_T} = \frac{3}{72}, \\ \frac{1}{V - V_T} = \frac{4}{72}; \end{cases} \Leftrightarrow \begin{cases} V + V_T = 24, \\ V - V_T = 18; \end{cases} \Leftrightarrow \begin{cases} 2V_T = 6, \\ V = 18 + V_T; \end{cases} \Leftrightarrow \\ \Leftrightarrow \begin{cases} V_T = 3, \\ V = 21. \end{cases}$$

Ответ: 21.

512. Пусть V — собственная скорость катера, V_T — скорость течения реки. Тогда из условия задачи получим систему:

$$\begin{cases} \frac{36}{V - V_T} + \frac{36}{V + V_T} = 3\frac{1}{2}, \\ \frac{12}{V - V_T} - \frac{12}{V + V_T} = \frac{10}{60}. \end{cases}$$

Обозначим $\frac{1}{V - V_T} = a$ и $\frac{1}{V + V_T} = b$.

$$\text{Тогда } \begin{cases} 36a + 36b = \frac{7}{2}, \\ 12a - 12b = \frac{1}{6}; \end{cases} \Leftrightarrow \begin{cases} a = \frac{1}{18}, \\ b = \frac{1}{24}. \end{cases}$$

Возвращаясь к переменным V и V_T , получим:

$$\begin{cases} \frac{1}{V - V_T} = \frac{1}{18}, \\ \frac{1}{V + V_T} = \frac{1}{24}; \end{cases} \Leftrightarrow \begin{cases} V - V_T = 18, \\ V + V_T = 24; \end{cases} \Leftrightarrow \begin{cases} V_T = V - 18, \\ 2V = 42; \end{cases} \Leftrightarrow \\ \Leftrightarrow \begin{cases} V_T = 3, \\ V = 21. \end{cases}$$

Ответ: 21.

513. Пусть x км/ч — скорость первого туриста, y км/ч — скорость второго туриста. Расстояние, пройденное первым туристом до встречи, равно $3x$ км, а расстояние, пройденное вторым туристом до встречи, равно $2y$ км, ($AC = 3x$; $BC = 2y$) (см. рис. 71).

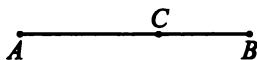


Рис. 71

$\frac{2y}{x}$ ч — время движения первого туриста на участке BC .

$\frac{3x}{y}$ ч — время движения второго туриста на участке AC .

Так как первый турист пришёл в пункт B на 5 часов раньше, чем второй пришёл в пункт A , получим уравнение $\frac{3x}{y} - \frac{2y}{x} = 5$. Пусть $\frac{x}{y} = t$, $t > 0$, тогда $3t - \frac{2}{t} = 5$; $3t^2 - 5t - 2 = 0$; $t_1 = 2$, $t_2 = -\frac{1}{3}$ — не удовлетворяет условию $t > 0$.

Скорость первого туриста в два раза больше скорости второго туриста.

Ответ: 2.

514. Пусть x — время, которое затратил автомобиль на путь от места встречи до пункта A . Этот же участок пути велосипедист проехал за 6 часов. Кроме того, участок пути от места встречи до пункта B автомобиль проехал за 2 часа, а велосипедист — за $(x + 11)$ часов. Получим уравнение $\frac{x}{6} = \frac{2}{x + 11}$; $x^2 + 11x - 12 = 0$; $x_1 = 1$, $x_2 = -12$, которое имеет

положительный корень $x = 1$. Значит, скорость автомобиля в $\frac{6}{1}$ раз больше скорости велосипедиста.

Ответ: 6.

515. Пусть p_i — производительность i -ой группы программистов, $i = 1, 2, 3$. Тогда из условия задачи получим систему:

$$\begin{cases} 4(p_1 + p_2 + p_3) = 1, \\ p_2 = 3p_3, \\ \frac{1}{p_1} - \frac{1}{p_2 + p_3} = 6. \end{cases}$$

Из первого уравнения системы следует, что $p_1 = \frac{1 - 4p_2 - 4p_3}{4}$. Подставляя в третье уравнение системы выражения для p_1 и p_2 , получим уравнение: $\frac{4}{1 - 16p_3} - \frac{1}{4p_3} = 6 \Leftrightarrow \frac{384p_3^2 + 8p_3 - 1}{4p_3(1 - 16p_3)} = 0 \Leftrightarrow$

$$\Leftrightarrow \begin{cases} 384p_3^2 + 8p_3 - 1 = 0, \\ p_3 \neq 0, \\ p_3 \neq \frac{1}{16}. \end{cases}$$

Отсюда, учитывая, что по смыслу задачи $p_3 > 0$, получим $p_3 = \frac{1}{24}$. Тогда

$$p_2 = 3 \cdot p_3 = \frac{1}{8}, p_1 = \frac{1 - 4 \cdot \frac{1}{8} - 4 \cdot \frac{1}{24}}{4} = \frac{1}{12}.$$

Ответ: 12; 8; 24.

521. Пусть за x дней может вспахать всё поле первый трактор. Тогда за $(x+2)$ дня может вспахать всё поле второй трактор; $\frac{1}{x}$ — производительность первого трактора (часть поля, которую он вспахивает за один день), $\frac{1}{x+2}$ — производительность второго трактора.

По условию за 4 дня совместной работы было вспахано 0,9 поля. Следовательно, $4\left(\frac{1}{x} + \frac{1}{x+2}\right) = 0,9$, где $x > 0$;

$$\frac{2x+2}{x(x+2)} = \frac{9}{40}; (2x+2)40 = 9(x^2+2x); 9x^2 - 62x - 80 = 0. \text{ Решением}$$

этого уравнения являются $x_1 = 8$, $x_2 = -\frac{10}{9}$. $x_2 = -\frac{10}{9}$ — не удовлетворяет условию $x > 0$. Следовательно, первый трактор вспахает поле за 8 дней, второй — за 10 дней.

Ответ: 8; 10.

523. Для ответа на поставленный в условии вопрос достаточно определить, сколько общих точек имеют прямая $y = a$ ($a > 0$) и график функции $y = |x^2 - 4x - 3|$. Графиком функции $y = x^2 - 4x - 3$ является парабола с вершиной, абсцисса которой равна $x_B = \frac{-(-4)}{2 \cdot 1} = 2$, а ордината равна

$y_B = 2^2 - 4 \cdot 2 - 3 = -7$. Отражая часть графика $y = x^2 - 4x - 3$, расположенную ниже оси Ox , симметрично относительно оси Ox , получаем график функции $y = |x^2 - 4x - 3|$, эскиз которого изображён на рисунке 72. Таким образом, при $0 < a < 7$ прямая $y = a$ пересекает график $y = |x^2 - 4x - 3|$ в четырёх точках, при $a = 7$ — в трёх точках, и при $a > 7$ в двух.

Ответ: 4 при $0 < a < 7$; 3 при $a = 7$; 2 при $a > 7$.

524. Построим графики функций $y = |2x^2 + 4x - 7|$; $y = a$ ($a > 0$) и найдём количество точек их пересечения.

1) Построим график $y = 2x^2 + 4x - 7$ (см. рис. 73).

а) Вершина: $x_0 = -\frac{b}{2a} = -\frac{4}{4} = -1$, $y_0 = 2 - 4 - 7 = -9$. $(-1; -9)$ — координаты вершины параболы.

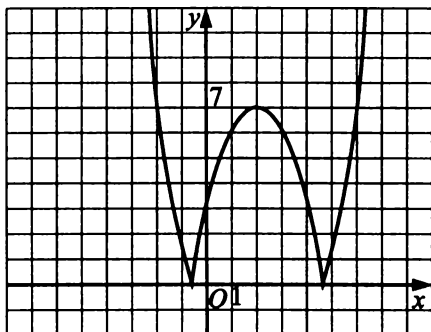


Рис. 72

б) Дополнительные точки:

x	-4	-3	-2	0	1	2
y	9	-1	-7	-7	-1	9

2) Построим график $y = |2x^2 + 4x - 7|$ (см. рис. 73).

Получаем, что графики данных функций пересекаются в 4-х точках при $0 < a < 9$, в 3-х точках при $a = 9$, в 2-х точках при $a > 9$.

Ответ: 4 корня при $0 < a < 9$; 3 корня при $a = 9$; 2 корня при $a > 9$.

525. Построим ломаную, заданную условием:

$$y = \begin{cases} -3x - 4, & \text{если } x < -2, \\ 2, & \text{если } -2 \leq x \leq 2, \\ 3x - 4, & \text{если } x > 2. \end{cases} \quad (\text{см. рис. 74})$$

Проводим прямую MB , проходящую через точки с координатами $(0; 1)$ и $(2; 2)$. Эта прямая задаётся уравнением $y = \frac{1}{2}x + 1$ и имеет угловой

коэффициент $k_1 = \frac{1}{2}$. Проведём прямую ME , проходящую через точку с координатами $(0; 1)$, параллельно прямой $y = 3x - 4$. Очевидно, угловой коэффициент этой прямой $k_2 = 3$. При положительном k прямая $y = kx + 1$ пересекает ломаную в двух точках, если она лежит внутри угла BME . Следовательно, $k_1 < k < k_2$; $\frac{1}{2} < k < 3$.

Ответ: $(\frac{1}{2}; 3)$.

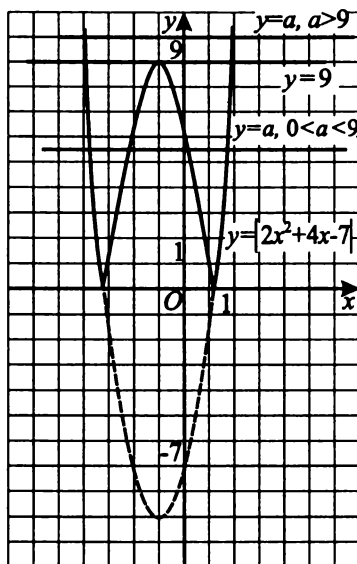


Рис. 73

526. Построим ломаную, заданную условием:

$$y = \begin{cases} x + 1, & \text{если } x < -2, \\ -1, & \text{если } -2 \leq x \leq 2, \\ -x + 1 & \text{если } x > 2. \end{cases} \quad (\text{см. рис. 75})$$

Проводим прямую OA , проходящую через начало координат и точку с координатами $(2; -1)$. Эта прямая задаётся уравнением $y = -\frac{1}{2}x$ и имеет

угловой коэффициент $k_1 = -\frac{1}{2}$. Проведём прямую OB , проходящую через начало координат и параллельно прямой $y = -x + 1$. Угловой коэффициент этой прямой $k_2 = -1$. При отрицательном значении k прямая $y = kx$ пересекает ломаную в двух точках, если она лежит внутри угла AOB . Следовательно, $k_2 < k < k_1$; $-1 < k < -\frac{1}{2}$.

Ответ: $(-1; -\frac{1}{2})$.

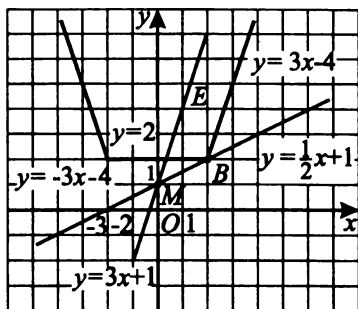


Рис. 74

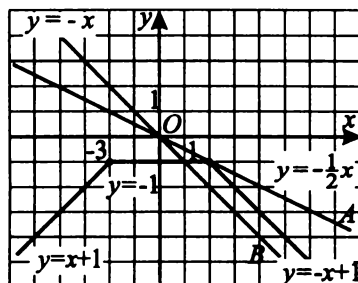


Рис. 75

527. Найдём координаты точек пересечения прямой $y = 0,3x + p$ с осями координат.

1) С осью Ox : $y = 0$; $0,3x + p = 0$; $x = -\frac{10p}{3}$; $(-\frac{10p}{3}; 0)$.

2) С осью Oy : $x = 0$; $y = p$; $(0; p)$.

3) Прямая $y = 0,3x + p$ образует с осями координат прямоугольный треугольник (см. рис. 76) с катетами $|\frac{10p}{3}|$ и $|p|$. По условию площадь тре-

угольника равна 60; $S = \frac{1}{2} \cdot \frac{10p}{3} |p| \cdot |p| = \frac{5}{3} p^2$. Из уравнения $\frac{5}{3} p^2 = 60$ находим $p = \pm 6$.

Ответ: ± 6 .

529. Найдём координаты точек пересечения прямой $y = -1,5x + n$ с осями координат.

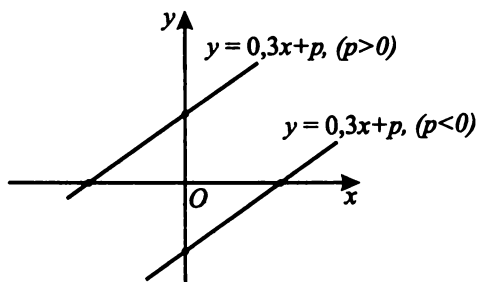


Рис. 76

С осью Ox : $(\frac{2}{3}n; 0)$, с осью Oy : $(0; n)$.

Прямая $y = -1,5 + n$ образует с осями координат прямоугольный треугольник с катетами $|\frac{2}{3}n|$ и $|n|$.

По условию площадь треугольника равна 75.

$S = \frac{1}{2} \cdot \frac{2}{3} \cdot |n| \cdot |n| = \frac{1}{3} \cdot n^2$. Решим уравнение:

$$\frac{1}{3}n^2 = 75, n^2 = 225, n_{1,2} = \pm 15.$$

Ответ: ± 15 .

530. Найдём координаты точек пересечения прямой $y = 7x - 2m$ с осями координат.

С осью Ox : $(\frac{2}{7}m; 0)$, с осью Oy : $(0; -2m)$.

Прямая $y = 7x - 2m$ образует с осями координат прямоугольный треугольник с катетами $|\frac{2}{7}m|$ и $|-2m|$.

По условию площадь треугольника равна 14.

$$\frac{1}{2} \cdot \frac{2}{7} \cdot |m| \cdot 2 \cdot |m| = 14; m^2 = \frac{14 \cdot 7}{2}; m^2 = 49; m_{1,2} = \pm 7.$$

Ответ: ± 7 .

531. $2x^2 - \frac{1}{2}x + (k-3)(k+5) = 0$. $x_1 < 2 < x_2$, где x_1 и x_2 — корни.

1) Найдём корни уравнения:

$$4x^2 - x + 2(k-3)(k+5) = 0, x_{1,2} = \frac{1 \pm \sqrt{1 - 32(k-3)(k+5)}}{8}.$$

2) Тогда по условию

$$\frac{1 - \sqrt{1 - 32(k-3)(k+5)}}{8} < 2 < \frac{1 + \sqrt{1 - 32(k-3)(k+5)}}{8} \Leftrightarrow$$

$$\Leftrightarrow 1 - \sqrt{1 - 32(k-3)(k+5)} < 16 < 1 + \sqrt{1 - 32(k-3)(k+5)} \Leftrightarrow$$

$$\Leftrightarrow \begin{cases} 1 - \sqrt{1 - 32(k-3)(k+5)} < 16, \\ 1 + \sqrt{1 - 32(k-3)(k+5)} > 16; \end{cases} \Leftrightarrow$$

$$\Leftrightarrow \begin{cases} -\sqrt{1 - 32(k-3)(k+5)} < 15, \\ \sqrt{1 - 32(k-3)(k+5)} > 15; \end{cases} \Leftrightarrow$$

$$\Leftrightarrow \begin{cases} \sqrt{1 - 32(k-3)(k+5)} > -15, \\ \sqrt{1 - 32(k-3)(k+5)} > 15; \end{cases} \Leftrightarrow \sqrt{1 - 32(k-3)(k+5)} > 15 \Leftrightarrow$$

$$\Leftrightarrow 1 - 32(k-3)(k+5) > 225 \Leftrightarrow 32(k-3)(k+5) < -224 \Leftrightarrow$$

$$\Leftrightarrow k^2 + 2k - 15 < -7 \Leftrightarrow k^2 + 2k - 8 < 0 \Leftrightarrow -4 < k < 2.$$

Ответ: $(-4; 2)$.

533. $9x^2 - 6x - (l-2)(l+2) - 3 = 0$.

Введём обозначение: $f(x) = 9x^2 - 6x - (l-2)(l+2) - 3$,

$f(x) = 9x^2 - 6x - l^2 + 1$. Учитывая, что старший коэффициент квадратного трёхчлена $f(x)$ положителен, можно сделать вывод, что число 2 находится между корнями уравнения $f(x) = 0$ тогда и только тогда, когда $f(2) < 0$ (см. рис. 77). Решим неравенство $f(2) < 0$. $9 \cdot 4 - 6 \cdot 2 - l^2 + 1 < 0$; $25 - l^2 < 0$; $(l-5)(l+5) > 0$; $l < -5$, $l > 5$ (см. рис. 78).

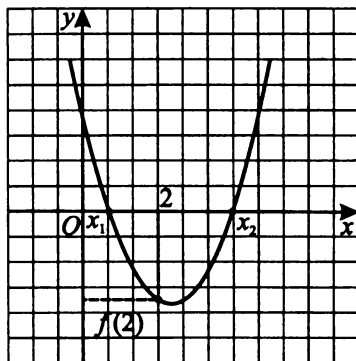


Рис. 77

Ответ: $(-\infty; -5) \cup (5; +\infty)$.



Рис. 78

534. Обозначим $y = kx^2 - (k-3)x + k$ (1) и

$$y = (2k-1) \cdot x^2 - 2kx + k + \frac{9}{4} \quad (2).$$

1) Так как по условию прямая $y = kx + 1$ и парабола (1) имеют ровно две общие точки, то уравнение $kx^2 - (k-3)x + k = kx + 1$ имеет 2 различных действительных корня, значит, $D > 0$.

$$kx^2 - 2kx + 3x + k - 1 = 0; \quad kx^2 + (3-2k)x + (k-1) = 0.$$

$$D = (3-2k)^2 - 4k(k-1); \quad 9 - 12k + 4k^2 - 4k^2 + 4k > 0; \quad -8k + 9 > 0;$$

$$k < \frac{9}{8}.$$

2) Так как прямая $y = kx + 1$ не пересекает параболу (2), уравнение

$$(2k-1)x^2 - 2kx + k + \frac{9}{4} = kx + 1 \text{ не имеет действительных корней, значит,}$$

$$D < 0.$$

$$(2k-1)x^2 - 3kx + k + \frac{5}{4} = 0.$$

$$D = 9k^2 - 4(2k-1)\left(k + \frac{5}{4}\right) = 9k^2 - 8k^2 - 10k + 4k + 5 = k^2 - 6k + 5.$$

Решим неравенство $k^2 - 6k + 5 < 0$; $(k-5)(k-1) < 0$; $1 < k < 5$ (см. рис. 79).

$$3) \text{ Таким образом, } \begin{cases} k < \frac{9}{8}, \\ 1 < k < 5; \end{cases} \Leftrightarrow 1 < k < \frac{9}{8}.$$



Рис. 79

Ответ: $\left(1; \frac{9}{8}\right)$.

535. Выделим в каждом трёхчлене полный квадрат:

$$3(4x^2 - 12x + 9 + 2)(x^2 + 22x + 121 + 4) = 24 - a^2;$$

$$3((2x-3)^2 + 2)((x+11)^2 + 4) = 24 - a^2;$$

$$3((2x-3)^2(x+11)^2 + 4(2x-3)^2 + 2(x+11)^2 + 8) = 24 - a^2;$$

$$3(2x - 3)^2(x + 11)^2 + 12(2x - 3)^2 + 6(x + 11)^2 + 24 = 24 - a^2;$$

$$3(2x - 3)^2(x + 11)^2 + 12(2x - 3)^2 + 6(x + 11)^2 = -a^2.$$

Левая часть уравнения принимает положительные значения при любом действительном значении x , правая часть принимает либо отрицательные значения, либо ноль. Следовательно, данное уравнение не имеет корней ни при каких значениях параметра a .

536. Выделим в каждом трёхчлене полный квадрат:

$$(49x^2 - 112x + 64 + 1)(x^2 + 26x + 169 + 2) = 2 - x^2;$$

$$((7x - 8)^2 + 1)((x + 13)^2 + 2) = 2 - x^2;$$

$$(7x - 8)^2(x + 13)^2 + 2(7x - 8)^2 + (x + 13)^2 + 2 = 2 - x^2;$$

$$(7x - 8)^2(x + 13)^2 + 2(7x - 8)^2 + (x + 13)^2 = -x^2.$$

Левая часть уравнения принимает положительные значения при любом действительном значении x , правая часть принимает либо отрицательные значения, либо ноль. Следовательно, данное уравнение не имеет корней.

537. Касание прямой и параболы означает, что они имеют лишь одну общую точку (для графиков других функций, отличных от квадратичной, это может быть и не так). То есть нужно определить, при каких значениях параметров k и a уравнение $ax^2 = k(x - a)$ имеет единственный корень. $ax^2 - kx + ka = 0$, $D = k^2 - 4ka^2$, квадратное уравнение имеет единственный корень тогда и только тогда, когда $D = 0$, то есть $k(k - 4a^2) = 0$. В случае $k = 0$ прямой, данной в условии, является прямая $y = 0$, ордината точки касания никак не может быть равна 4, то есть $k \neq 0$. Тогда из уравнения $k(k - 4a^2) = 0$ получаем, что $k = 4a^2$. Пусть $(x_0; y_0)$ — точка касания. Абсцисса x_0 точки касания является корнем уравнения

$$ax^2 - kx + ka = 0, \text{ и так как } D = 0, \text{ то } x_0 = \frac{k}{2a} = \frac{4a^2}{2a} = 2a.$$

Подставляя x_0 в уравнение прямой, получаем ординату точки касания $y_0 = k(x_0 - a) = 4a^2(2a - a) = 4a^3$. По условию $y_0 = 4$, то есть $4a^3 = 4$; $a = 1$; $k = 4a^2 = 4$.

Ответ: $k = 4$; $a = 1$.

539. $x^2 - (a + 4)x + 2a + 5 = 0$, так как уравнение имеет два корня, то $D > 0$, $D = (a + 4)^2 - 4(2a + 5)$; $a^2 + 8a + 16 - 8a - 20 > 0$; $a^2 - 4 > 0$, кроме того:

$$\frac{1}{x_1} + \frac{1}{x_2} \geq -2; \frac{x_1 + x_2}{x_1 \cdot x_2} \geq -2; \frac{a + 4}{2a + 5} \geq -2; \frac{a + 4 + 4a + 10}{2a + 5} \geq 0;$$

$$\frac{5a + 14}{2a + 5} \geq 0, \text{ таким образом,}$$

$$\begin{cases} a^2 - 4 > 0, \\ \frac{5a + 14}{2a + 5} \geq 0; \end{cases} \quad \begin{cases} (a - 2)(a + 2) > 0, \\ \frac{5a + 14}{2a + 5} \geq 0. \end{cases}$$

$(-\infty; -2,8] \cup (-2,5; -2) \cup (2; +\infty)$ (см. рис. 80).

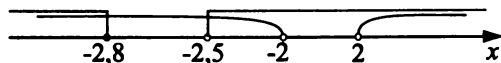


Рис. 80

Ответ: $(-\infty; -2,8] \cup (-2,5; -2) \cup (2; +\infty)$.

540. Данное уравнение может иметь два различных корня лишь тогда, когда оно квадратное (то есть $a \neq 0$) и его дискриминант положителен.

$$D = (2a + 3)^2 - 4a(a + 2) = 4a + 9 > 0 \Rightarrow \text{при } a > -\frac{9}{4}, a \neq 0 \text{ данное уравнение}$$

имеет два различных корня — x_1, x_2 . По условию, нужно выбрать те значения параметра a , при которых $x_1^2 + x_2^2 > 3$. Выразим $x_1^2 + x_2^2$ через коэффициенты данного уравнения, воспользовавшись теоремой Виета и тождеством

$$x_1^2 + x_2^2 = (x_1 + x_2)^2 - 2x_1x_2. \text{ Имеем: } x_1^2 + x_2^2 = \frac{(2a + 3)^2}{a^2} - \frac{2(a + 2)}{a} = \frac{2a^2 + 8a + 9}{a^2}. \text{ Решим неравенство } \frac{2a^2 + 8a + 9}{a^2} > 3. \text{ С учётом условия}$$

$$a \neq 0 \text{ оно равносильно неравенству } 2a^2 + 8a + 9 > 3a^2 \Leftrightarrow a^2 - 8a - 9 < 0;$$

$$a \in (-1; 9). \text{ Остаётся вспомнить, что условие } a > -\frac{9}{4} \text{ при } a \in (-1; 9)$$

выполнено. Учитывая, что $a \neq 0$, получаем: $a \in (-1; 0) \cup (0; 9)$.

Ответ: $a \in (-1; 0) \cup (0; 9)$.

543. Наименьшее трёхзначное число, кратное 14, это 112, наибольшее — 994.

Задача сводится к нахождению суммы членов арифметической прогрессии, у которой $a_1 = 112$, $a_n = 994$, $d = 14$.

Найдём число элементов этой прогрессии, применив формулу общего члена. $a_n = a_1 + d(n - 1)$; $112 + 14(n - 1) = 994$; $8 + n - 1 = 71$; $n = 64$.

Сумму членов найдём по формуле $S_n = \frac{a_1 + a_n}{2} \cdot n$:

$$S_{64} = \frac{112 + 994}{2} \cdot 64 = 35392.$$

Ответ: 35392.

544. Пусть t_1, t_2, t_3, t_4, t_5 — заданные числа.

По условию $\sqrt{t_1 \cdot t_2} = 243$, тогда $t_1 \cdot t_2 = 243^2 = 3^{10}$, а $\sqrt[3]{t_3 \cdot t_4 \cdot t_5} = 32$, тогда $t_3 \cdot t_4 \cdot t_5 = 32^3 = 2^{15}$. Имеем: $t_1 \cdot t_2 \cdot t_3 \cdot t_4 \cdot t_5 = 3^{10} \cdot 2^{15}$, среднее геометрическое всех пяти чисел равно:

$$\sqrt[5]{t_1 \cdot t_2 \cdot t_3 \cdot t_4 \cdot t_5} = \sqrt[5]{3^{10} \cdot 2^{15}} = 3^2 \cdot 2^3 = 9 \cdot 8 = 72.$$

Ответ: 72.

545. Графиком функции $y = x^2 - (2a - 1)x + 3a$ является парабола, ветви которой направлены вверх.

Найдём координаты вершины параболы:

$$x_0 = \frac{2a - 1}{2} = a - 0,5,$$

$$y_0 = (a - 0,5)^2 - (2a - 1)(a - 0,5) + 3a = a^2 - a + 0,25 - 2a^2 + 2a - 0,5 + 3a = -a^2 + 4a - 0,25.$$

$(a - 0,5; -a^2 + 4a - 0,25)$ — искомые координаты. $E(y) = [y_0; +\infty)$.

По условию задачи необходимо, чтобы $E(y) = [1,5; +\infty)$, значит,

$$y_0 = 1,5.$$

$$-a^2 + 4a - 0,25 = 1,5; \quad a^2 - 4a + 1,75 = 0; \quad a_1 = 0,5, \quad a_2 = 3,5.$$

Ответ: 0,5; 3,5.

547. Найдём координаты вершины параболы $y = 2x^2 + ax + 1$.

$$x_0 = -\frac{a}{2 \cdot 2} = -\frac{a}{4};$$

$$y_0 = 2 \cdot \left(\frac{a}{4}\right)^2 + a \cdot \left(-\frac{a}{4}\right) + 1 = \frac{a^2}{8} - \frac{a^2}{4} + 1 = \frac{a^2 - 2a^2 + 8}{8} = \frac{8 - a^2}{8};$$

$\left(-\frac{a}{4}; \frac{8 - a^2}{8}\right)$ — координаты вершины.

Найдём ординату y_1 точки с абсциссой x_0 , лежащей на прямой $y = x$,

$$y_1 = -\frac{a}{4}.$$

Поскольку вершина параболы лежит выше прямой, ордината y должна быть больше ординаты y_1 . Следовательно, все искомые значения параметра a удовлетворяют неравенству:

$$\frac{8 - a^2}{8} > -\frac{a}{4}; \quad \frac{8 - a^2}{8} > -\frac{2a}{8}; \quad 8 - a^2 > -2a; \quad a^2 - 2a - 8 < 0;$$

$$(a + 2)(a - 4) < 0; \quad -2 < a < 4.$$

Целые искомые значения параметра a : $-1; 0; 1; 2; 3$.

Ответ: $-1; 0; 1; 2; 3$.

548. Найдём координаты вершины параболы $y = x^2 + ax - 2$.

$$x_0 = -\frac{a}{2}; y_0 = \left(-\frac{a}{2}\right)^2 + a\left(-\frac{a}{2}\right) - 2 = \frac{a^2}{4} - \frac{a^2}{2} - 2 = -\frac{a^2}{4} - 2.$$

Найдём ординату y_1 точки с абсциссой x_0 , лежащей на прямой $y = 2x$:

$$y_1 = 2\left(-\frac{a}{2}\right) = -a.$$

Поскольку вершина параболы лежит ниже прямой, ордината y_1 должна быть больше ординаты y_0 . Следовательно, все искомые значения параметра a удовлетворяют неравенству:

$-\frac{a^2}{4} - 2 < -a; a^2 - 4a + 8 > 0; (a-2)^2 + 4 > 0$. Это неравенство верно при любом действительном значении a . В задаче необходимо найти все целые значения a , следовательно, $a \in \mathbb{Z}$.

Ответ: $a \in \mathbb{Z}$.

550. 1. Отметим, что если $m = 0$, то прямая $-x - 1 = 0$ имеет с параболой одну единственную общую точку.

2. $m \neq 0$. Система

$$\begin{cases} y = x^2 + x + 1, \\ my - x - 1 = 0; \end{cases}$$

должна иметь единственное решение.

$$\begin{cases} y = x^2 + x + 1, \\ x = my - 1; \end{cases}$$

Подставив значение x из второго уравнения системы в первое уравнение, получим:

$$y = (my - 1)^2 + (my - 1) + 1; \quad y = m^2 y^2 - my + 1; \\ m^2 y^2 - (m+1)y + 1 = 0.$$

Уравнение должно иметь один корень, следовательно, $D = 0$.

$$(m+1)^2 - 4m^2 = 0; \quad m^2 + 2m + 1 - 4m^2 = 0; \quad 3m^2 - 2m - 1 = 0;$$

$$m_{1,2} = \frac{1 \pm \sqrt{1+3}}{3}; \quad m_1 = 1, \quad m_2 = -\frac{1}{3}.$$

Ответ: $0; 1; -\frac{1}{3}$.

551. Найдём абсциссу вершины параболы $y = x^2 - 2ax + 43$:

$$x_0 = \frac{2a}{2} = a.$$

1) Пусть $x_0 < -2$, тогда $a < -2$. Так как ветви параболы направлены вверх, то на промежутке $[x_0; +\infty)$ функция возрастает (см. рис. 81).

$$y_{\text{наим}} = y(-2) = 4 - 2a \cdot (-2) + 43 = 7; \quad 4a = -40; \quad a = -10. \quad a = -10$$

удовлетворяет условию $a < -2$.

2) Пусть $x_0 \geq -2$, тогда $a \geq -2$. Наименьшее значение функция принимает в вершине параболы (см. рис. 82).

$y_{\text{наим}} = y(x_0) = y(a) = a^2 - 2a^2 + 43 = 7$; $a^2 = 36$; $a_1 = 6$; $a_2 = -6$ — не удовлетворяет условию $a \geq -2$.

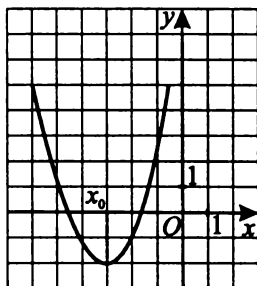


Рис. 81

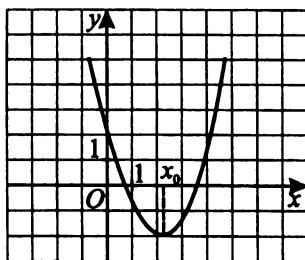


Рис. 82

Ответ: -10 ; 6 .

552. Найдём абсциссу вершины параболы $y = -x^2 + 2ax - 71$ на $[-3; +\infty)$:

$$x_0 = \frac{-2a}{-2} = a.$$

1) Пусть $x_0 < -3$, тогда $a < -3$. Так как ветви параболы направлены вниз, то на промежутке $[x_0; +\infty)$ функция убывает (см. рис. 83).

$y_{\text{наиб}} = y(-3) = -9 + 2a \cdot (-3) - 71 = 10$; $-6a = 90$; $a = -15$ — удовлетворяет условию $a < -3$.

2) Пусть $x_0 \geq -3$, тогда $a \geq -3$. Наибольшее значение функция принимает в вершине параболы (см. рис. 84).

$y_{\text{наиб}} = y(x_0) = y(a) = -a^2 + 2a^2 - 71 = 10$; $a^2 = 81$; $a_1 = 9$ — не удовлетворяет условию $a \geq -3$.

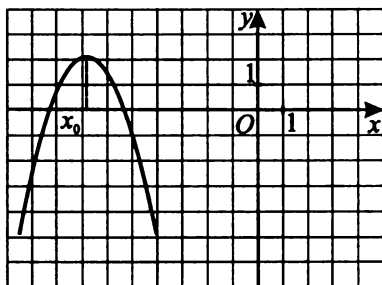


Рис. 83

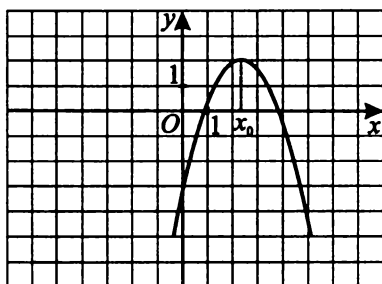


Рис. 84

Ответ: -15 ; -3 .

$$553. x^2 - 2ax + a^2 - 1 = 0.$$

$$x_{1,2} = a \pm \sqrt{a^2 - a^2 + 1}; x_1 = a - 1, x_2 = a + 1.$$

По условию задачи число 3 заключено между корнями уравнения, то есть

$$a - 1 < 3 < a + 1; \begin{cases} a - 1 < 3, \\ a + 1 > 3; \end{cases} \begin{cases} a < 4, \\ a > 2; \end{cases} 2 < a < 4.$$

Ответ: $2 < a < 4$.

$$554. x^2 - 6ax + 9a^2 - 2a + 2 = 0.$$

1) Найдём допустимые значения параметра a . Уравнение имеет действительные корни, если $D \geq 0$.

$D = (6a)^2 - 4(9a^2 - 2a + 2) = 36a^2 - 36a^2 + 8a - 8 = 8a - 8; 8a - 8 > 0; a > 1.$

2) Рассмотрим функцию $y = x^2 - 6ax + 9a^2 - 2a + 2$. Графиком функции является парабола, ветви которой направлены вверх, значит, на промежутках $(-\infty; x_1)$ и $(x_2; +\infty)$, где $x_2 \geq x_1$, функция принимает положительные значения. Из условия следует: $3 \in (-\infty; x_1)$ (см. рис. 85), значит, $y(3) > 0$.

3) Найдём значения параметра a , решив систему неравенств:

$$\begin{cases} 3^2 - 6a \cdot 3 + 9a^2 - 2a + 2 > 0, \\ a \geq 1; \end{cases} \quad \begin{cases} 9 - 18a + 9a^2 - 2a + 2 > 0, \\ a \geq 1; \end{cases}$$

$$\begin{cases} 9a^2 - 20a + 11 > 0, \\ a \geq 1; \end{cases} \quad \begin{cases} 9(a-1)\left(a - \frac{11}{9}\right) > 0, \\ a \geq 1; \end{cases}$$

$$\begin{cases} \begin{cases} a < 1, \\ a > \frac{11}{9}, \end{cases} & a > \frac{11}{9} \text{ (см. рис. 86).} \\ a \geq 1; \end{cases}$$

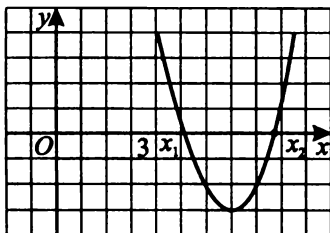


Рис. 85

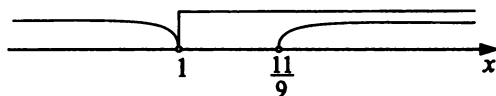


Рис. 86

Ответ: $a > \frac{11}{9}$.

555. Пусть (x_0, y_0) — координаты вершины данной параболы, тогда

$$x_0 = -\frac{b}{2a}, \text{ где } b = -7, a = m, \text{ то есть } x_0 = \frac{7}{2m} \text{ (} m \neq 0 \text{)}.$$

Так как вершина параболы должна лежать во II-ой четверти, то $x_0 < 0$; $\frac{7}{2m} < 0$; $m < 0$. Ветви параболы направлены вниз. Так как вершина находится во II-ой четверти, то квадратный трёхчлен имеет 2 различных действительных корня.

$D > 0$; $49 - 16m^2 > 0$; $-\frac{7}{4} < m < \frac{7}{4}$; учитывая, что $m < 0$, получаем:

$$-\frac{7}{4} < m < 0.$$

Ответ: $(-1,75; 0)$.

556. ОДЗ: $x \in [2; 7]$.

Левая часть уравнения $\sqrt{x-2} + \sqrt{7-x} = c$ есть сумма двух неотрицательных чисел, следовательно, $c \geq 0$.

Тогда $(\sqrt{x-2} + \sqrt{7-x})^2 = c^2$; $x-2+7-x+2\sqrt{(x-2)(7-x)} = c^2$; $2\sqrt{(x-2)(7-x)} = c^2 - 5$. Отсюда $c^2 \geq 5$. Так как $c \geq 0$, то $c \geq \sqrt{5}$. $4(7x-x^2+2x-14) = c^4 - 10c^2 + 25$; $4x^2 - 36x + c^4 - 10c^2 + 81 = 0$. Так как заданное уравнение должно иметь хотя бы один корень, то и полученное квадратное уравнение относительно x должно иметь хотя бы один корень. Следовательно, $D = 36^2 - 4 \cdot 4(c^4 - 10c^2 + 81) \geq 0$; $c^4 - 10c^2 \leq 0$; $c^2(c^2 - 10) \leq 0$. Учитывая, что $c \geq \sqrt{5}$, получаем: $c^2 - 10 \leq 0$, $c \leq \sqrt{10}$.

Таким образом, $\sqrt{5} \leq c \leq \sqrt{10}$. Отрезок $[\sqrt{5}; \sqrt{10}]$ содержит единственное целое число 3.

Подставляя $c = 3$ в заданное уравнение, получаем два корня: $x_1 = 3$ и $x_2 = 6$. Следовательно, $c = 3$ — искомое значение.

Ответ: 3.

557. $2\sqrt{x+3} + \sqrt{11-4x} = c$. (1)

Левая часть уравнения представляет собой сумму двух неотрицательных чисел, значит, $c \geq 0$. Уравнение равносильно системе:

$$\begin{cases} x+3 \geq 0, \\ 11-4x \geq 0, \\ c \geq 0, \\ (2\sqrt{x+3} + \sqrt{11-4x})^2 = c^2; \\ x \geq -3, \\ x \leq \frac{11}{4}, \\ c \geq 0, \\ 4x+12+4\sqrt{(x+3)(11-4x)}+11-4x=c^2; \end{cases}$$

$$\begin{cases} -3 \leq x \leq \frac{11}{4}, \\ c \geq 0, \\ 4\sqrt{11x - 4x^2 + 33 - 12x} = c^2 - 23; \end{cases}$$

$$\begin{cases} -3 \leq x \leq \frac{11}{4}, \\ c \geq 0, \\ c^2 - 23 \geq 0, \\ 16(33 - x - 4x^2) = (c^2 - 23)^2; \end{cases}$$

$$\begin{cases} -3 \leq x \leq \frac{11}{4}, \\ c \geq 0, \\ |c| \geq \sqrt{23}, \\ 64x^2 + 16x - 528 + (c^2 - 23)^2 = 0; \end{cases}$$

$$\begin{cases} -3 \leq x \leq \frac{11}{4}, \\ c \geq \sqrt{23}, \\ 64x^2 + 16x - 528 + (c^2 - 23)^2 = 0. \end{cases}$$

Рассмотрим уравнение $64x^2 + 16x - (528 - (c^2 - 23)^2) = 0$. (2)

По условию уравнение (1) должно иметь хотя бы один корень, значит, дискриминант уравнения (2) должен быть неотрицательным числом.

$$D \geq 0; 16^2 + 4 \cdot 64 \cdot (528 - (c^2 - 23)^2) \geq 0; 529 - (c^2 - 23)^2 \geq 0; \\ (c^2 - 23)^2 \leq 529; |c^2 - 23| \leq 23; -23 \leq c^2 - 23 \leq 23; 0 \leq c^2 \leq 46; \\ |c| \leq \sqrt{46}.$$

Учитывая, что $c \geq \sqrt{23}$, имеем:

$$\begin{cases} c \geq \sqrt{23}, \\ -\sqrt{46} \leq c \leq \sqrt{46}; \end{cases} \quad \sqrt{23} \leq c \leq \sqrt{46}.$$

Отрезок $[\sqrt{23}; \sqrt{46}]$ содержит два целых числа: 5 и 6.

Проверка показала, что при $c = 5$ уравнение (1) имеет один корень, при $c = 6$ два корня (выполните самостоятельно).

Ответ: 5; 6.

558. Найдём координаты точки пересечения прямых $3x + ay + 1 = 0$ и $2x - 3y - 4 = 0$, решив систему уравнений:

$$\begin{cases} 3x + ay = -1, \\ 2x - 3y = 4. \end{cases}$$

а) Умножим первое уравнение системы на 2, а второе — на -3 , а затем

сложим полученные уравнения: $(2a + 9)y = -14$; $y = -\frac{14}{2a + 9}$; $a \neq -4,5$.

б) Умножим первое уравнение системы на 3, второе — на a , получим:

$$9x + 3ay = -3 \text{ и } 2ax - 3ay = 4a, \text{ сложим: } (9 + 2a)x = 4a - 3, x = \frac{4a - 3}{9 + 2a},$$

$a \neq -4,5$.

$\left(\frac{4a - 3}{9 + 2a}; -\frac{14}{2a + 9}\right)$ — искомые координаты. При $a = -4,5$ система несовместна (проверьте самостоятельно).

По условию задачи точка находится в третьей координатной четверти, значит, и абсцисса, и ордината — отрицательные числа. Найдём значения параметра a ($a \neq -4,5$), решив систему неравенств:

$$\begin{cases} \frac{4a - 3}{9 + 2a} < 0, \\ -\frac{14}{2a + 9} < 0; \end{cases} \quad \begin{cases} \frac{4a - 3}{2a + 9} < 0, \\ 2a + 9 > 0; \end{cases} \quad \begin{cases} 4a - 3 < 0, \\ 2a + 9 > 0; \end{cases} \quad \begin{cases} a < \frac{3}{4}, \\ a > -\frac{9}{2}; \end{cases}$$

$$-4,5 < a < 0,75.$$

Ответ: $(-4,5; 0,75)$.

559. Найдём координаты точки пересечения прямых $x + 5y - 3 = 0$ и $ax - 2y - 1 = 0$, решив систему уравнений:

$$\begin{cases} x + 5y = 3, \\ ax - 2y = 1. \end{cases}$$

а) Умножим первое уравнение системы на $-a$ и сложим со вторым уравнением; получим: $(-5a - 2)y = -3a + 1$; $y = \frac{3a - 1}{5a + 2}$; $a \neq -0,4$.

б) Умножим первое уравнение системы на 2, а второе — на 5, и сложим полученные уравнения; получим:

$$(2 + 5a)x = 11; x = \frac{11}{5a + 2}; a \neq -0,4.$$

$\left(\frac{11}{5a + 2}; \frac{3a - 1}{5a + 2}\right)$ — координаты точки пересечения заданных прямых.

При $a = -0,4$ система несовместна (проверьте самостоятельно).

По условию задачи, точка находится в четвёртой координатной четверти, значит, её абсцисса положительная, а ордината отрицательная.

Найдём значения параметра a ($a \neq -0,4$), решив систему неравенств:

$$\left\{ \begin{array}{l} \frac{11}{5a+2} > 0, \\ \frac{3a-1}{5a+2} < 0; \end{array} \right\} \left\{ \begin{array}{l} 5a+2 > 0, \\ a - \frac{1}{3} < 0; \end{array} \right\} \left\{ \begin{array}{l} a > -0,4, \\ a < \frac{1}{3}. \end{array} \right.$$

$-0,4 < a < \frac{1}{3}$ — решение системы неравенств.

Ответ: $(-0,4; \frac{1}{3})$.

560. По определению корнем уравнения является число, при подстановке которого в уравнение получается верное числовое равенство. Так как число $2 + \sqrt{5}$ является корнем уравнения $x^3 - 5x^2 + 3x + b = 0$, то $(2 + \sqrt{5})^3 - 5(2 + \sqrt{5})^2 + 3(2 + \sqrt{5}) + b = 0$ — верное числовое равенство, из которого находим, что

$$\begin{aligned} b &= -(2 + \sqrt{5})^3 + 5(2 + \sqrt{5})^2 - 3(2 + \sqrt{5}) = \\ &= -8 - 12\sqrt{5} - 30 - 5\sqrt{5} + 20 + 20\sqrt{5} + 25 - 6 - 3\sqrt{5} = 1. \end{aligned}$$

Итак, $b = 1$.

Ответ: $b = 1$.

561. Точка $M(3; 1)$ лежит вне заданной окружности, следовательно, через неё можно провести две касательные к этой окружности. Подставляя координаты этой точки в общий вид уравнения прямой $y = kx + b$, получим $1 = 3k + b$; $b = 1 - 3k$. Следовательно, уравнения прямых, проходящих через точку M , имеют вид $y = kx + 1 - 3k$.

Каждая из прямых должна иметь с данной окружностью одну общую точку. Следовательно, система уравнений $\begin{cases} x^2 + y^2 = 5, \\ y = kx + 1 - 3k \end{cases}$ должна иметь относительно x и y единственное решение.

Подставляя значение y из второго уравнения системы в первое, получим: $x^2 + (kx + 1 - 3k)^2 = 5$; $(1 + k^2)x^2 + 2(k - 3k^2)x + 9k^2 - 6k - 4 = 0$.

Это уравнение имеет один корень, если

$$D = 4(k - 3k^2)^2 - 4(1 + k^2)(9k^2 - 6k - 4) = 0; \quad 2k^2 - 3k - 2 = 0; \quad k_1 = -0,5, \quad k_2 = 2. \quad \text{Тогда } b_1 = 1 - 3k_1 = 2,5, \quad b_2 = 1 - 3k_2 = -5.$$

Таким образом, искомые уравнения касательных имеют вид:

$$y = -0,5x + 2,5 \text{ и } y = 2x - 5.$$

Ответ: $y = -0,5x + 2,5$, $y = 2x - 5$.

562. 1) Пусть $a = 0$, тогда $y = 2x + 2$; графиком этой функции является прямая, пересекающая ось Ox в одной точке, что удовлетворяет условию задачи.

2) Пусть $a \neq 0$, тогда графиком функции $y = ax^2 + 2x - a + 2$ является парабола.

Для того чтобы она пересекала ось Ox только в одной точке, необходимо равенство нулю дискриминанта уравнения $ax^2 + 2x - a + 2 = 0$.

$$D = 4 - 4a(2 - a) = 0; 4a^2 - 8a + 4 = 0; a^2 - 2a + 1 = 0; (a - 1)^2 = 0; a = 1.$$

Ответ: 0; 1.

563. Найдём координаты точки пересечения прямых $y = 2x + 3$ и $y = 2a - 3x$, решив систему уравнений:

$$\begin{cases} y = 2x + 3, \\ y = 2a - 3x; \end{cases} \Leftrightarrow \begin{cases} 2x + 3 = 2a - 3x, \\ y = 2x + 3; \end{cases} \Leftrightarrow \begin{cases} x = \frac{2a - 3}{5}, \\ y = \frac{4a + 9}{5}. \end{cases}$$

$\left(\frac{2a - 3}{5}; \frac{4a + 9}{5}\right)$ — искомые координаты.

Найдём ординату y_1 точки с абсциссой $x = \frac{2a - 3}{5}$, лежащей на прямой

$$y = x: y_1 = \frac{2a - 3}{5}.$$

Поскольку точка пересечения прямых $y = 2x + 3$ и $y = 2a - 3x$ лежит выше прямой $y = x$, то ордината $y_1 = \frac{2a - 3}{5} < \frac{4a + 9}{5}$.

Найдём значения параметра a , решив неравенство:

$$\frac{4a + 9}{5} > \frac{2a - 3}{5}; 4a + 9 > 2a - 3; 2a > -12; a > -6.$$

Ответ: $a \in (-6; +\infty)$.

564. Запишем уравнение прямой $y = kx + b$.

Точки $A(1; 2)$, $B(3; a + 1)$, $C(a; 4)$ лежат на прямой, значит, $y(1) = 2$, $y(3) = a + 1$, $y(a) = 4$ и имеет место система уравнений:

$$\begin{aligned} \begin{cases} k+b=2, \\ 3k+b=a+1, \\ ak+b=4; \end{cases} &\Leftrightarrow \begin{cases} b=2-k, \\ 3k+2-k=a+1, \\ ak+2-k=4; \end{cases} \Leftrightarrow \begin{cases} b=2-k, \\ k=\frac{a-1}{2}, \\ \frac{(a-1)^2}{2}=2; \end{cases} \Leftrightarrow \\ &\Leftrightarrow \begin{cases} b=2-k, \\ k=\frac{a-1}{2}, \\ |a-1|=2; \end{cases} \Leftrightarrow \begin{cases} b=2-k, \\ k=\frac{a-1}{2}, \\ \begin{cases} a-1=2, \\ a-1=-2; \end{cases} \end{cases} \Leftrightarrow \begin{cases} b=2-k, \\ k=\frac{a-1}{2}, \\ \begin{cases} a=3, \\ a=-1. \end{cases} \end{cases} \end{aligned}$$

При $a = -1, k = -1, b = 3, y = -x + 3$, при $a = 3, k = 1, b = 1, y = x + 1$.

Ответ: $-1, 3$.

565. Найдём абсциссу x_0 точки пересечения прямых

$y = 5x - 3$ и $y = a + 1 - 2x$, приравняв ординаты y . Получаем:

$5x_0 - 3 = a + 1 - 2x_0$, откуда $x_0 = \frac{a+4}{7}$. Тогда ордината точки пересечения

прямых $y_0 = \frac{5a-1}{7}$. Далее находим ординату y_1 точки с абсциссой x_0 ,

лежащей на прямой $y = -x$: $y_1 = -\frac{a+4}{7}$. Поскольку точка пересечения

прямых $y = 5x - 3$ и $y = a + 1 - 2x$ лежит ниже прямой $y = -x$, ордината y_1 должна быть больше ординаты y_0 . Следовательно, условие задачи выполняется при всех значениях параметра, удовлетворяющих неравенству:

$$-\frac{a+4}{7} > \frac{5a-1}{7}; a < -0,5.$$

Ответ: $a \in (-\infty; -0,5)$.

566. Для ответа на поставленный в условии вопрос достаточно определить, сколько общих точек имеют прямая $y = a$ и график функции

$y = |x^2 - 6x + 4|$. Графиком функции $y = x^2 - 6x + 4$ является парабола

с вершиной, абсцисса которой равна $x_0 = \frac{-(-6)}{2} = 3$, а ордината равна

$y_0 = 3^2 - 6 \cdot 3 + 4 = -5$. Отражая часть графика $y = x^2 - 6x + 4$, расположенную ниже оси Ox , симметрично относительно оси Ox , получаем график функции $y = |x^2 - 6x + 4|$, эскиз которого изображён на рисунке 87.

Таким образом, при $a = 0$ прямая $y = a$ пересекает график $y = |x^2 - 6x + 4|$ в двух точках, при $0 < a < 5$ — в четырёх точках, при $a = 5$ — в трёх точках и при $a > 5$ в двух точках.

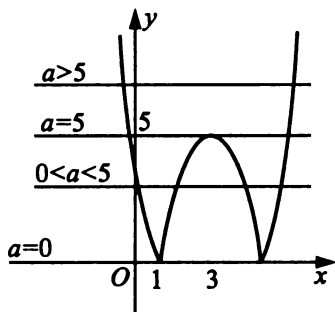


Рис. 87

Ответ: 2 при $a = 0$; 4 при $0 < a < 5$; 3 при $a = 5$; 2 при $a > 5$.

567. Определим, сколько общих точек имеют прямая $y = a$ и график функции $y = |x^2 - 4x|$. Графиком функции $y = x^2 - 4x$ является парабола, абсцисса вершины которой равна $x_0 = \frac{-(-4)}{2} = 2$, а ордината равна $y_0 = 2^2 - 4 \cdot 2 = -4$. Отражая часть графика $y = x^2 - 4x$, расположенную ниже оси Ox , симметрично относительно оси Ox , получаем график функции $y = |x^2 - 4x|$, эскиз которого изображён на рисунке 88. Таким образом, при $a = 0$ прямая $y = a$ пересекает график $y = |x^2 - 4x|$ в двух точках, при $0 < a < 4$ — в четырёх точках, при $a = 4$ — в трёх точках и при $a > 4$ — в двух точках.

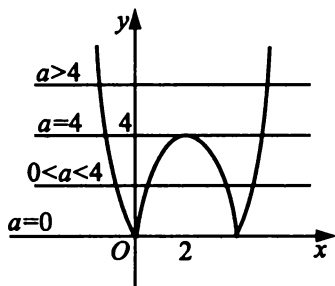


Рис. 88

Ответ: 2 при $a = 0$; 4 при $0 < a < 4$; 3 при $a = 4$; 2 при $a > 4$.

568. Выразим y из первого уравнения системы $y = nx - 5$ и подставим во второе: $2x + 3n(nx - 5) = 7$. Выразим теперь x через n :

$$2x + 3n(nx - 5) = 7 \Leftrightarrow (3n^2 + 2)x - 15n = 7 \Leftrightarrow x = \frac{15n + 7}{3n^2 + 2}. \text{ Тогда}$$

$$y = nx - 5 = \frac{n(15n + 7)}{3n^2 + 2} - 5 = \frac{7n - 10}{3n^2 + 2}. \text{ Итак, система имеет решение,}$$

$$\text{зависящее от параметра } n: x = \frac{15n + 7}{3n^2 + 2}, y = \frac{7n - 10}{3n^2 + 2}. \text{ Так как } 3n^2 + 2 > 0,$$

то для того чтобы было $x > 0$, $y < 0$, необходимо и достаточно, чтобы n удовлетворяло системе неравенств:
$$\begin{cases} 15n + 7 > 0, \\ 7n - 10 < 0. \end{cases}$$
 Решением системы

является интервал: $-\frac{7}{15} < n < \frac{10}{7}$. Целых значений n в этом интервале только два: $n = 0; 1$.

Ответ: 0; 1.

569. Выразим y из первого уравнения системы: $y = 4 - 2nx$ и подставим во второе: $3x - 2n(4 - 2nx) = 5$. Выразим из этого уравнения x :

$$3x - 2n(4 - 2nx) = 5 \Leftrightarrow (4n^2 + 3)x - 8n = 5 \Leftrightarrow x = \frac{8n + 5}{4n^2 + 3}. \text{ Тогда}$$

$$y = 4 - 2nx = 4 - \frac{2n(8n + 5)}{4n^2 + 3} = \frac{12 - 10n}{4n^2 + 3}. \text{ Итак, система имеет ре-}$$

$$\text{шение, зависящее от параметра } n: x = \frac{8n + 5}{4n^2 + 3}, y = \frac{12 - 10n}{4n^2 + 3}. \text{ Так как}$$

$4n^2 + 3 > 0$, то для того чтобы было $x > 0$, $y > 0$, необходимо и достаточно, чтобы n удовлетворяло системе неравенств:
$$\begin{cases} 8n + 5 > 0, \\ 12 - 10n > 0. \end{cases}$$

Решением системы является интервал: $-\frac{5}{8} < n < \frac{6}{5}$. Целых значений n в этом интервале только два: $n = 0; 1$.

Ответ: $n = 0; 1$.

570. Для того чтобы график квадратичной функции $y = ax^2 + bx + c$ располагался ниже оси абсцисс, необходимо и достаточно выполнения условий для соответствующего квадратного уравнения: $D < 0$, $a < 0$. Для квадратного уравнения $ax^2 - 6x + a = 0$ имеем: $D = 36 - 4a^2$. Получаем систему неравенств:

$$\begin{cases} a < 0, \\ 36 - 4a^2 < 0; \end{cases} \quad \begin{cases} a < 0, \\ 9 - a^2 < 0. \end{cases}$$

Откуда находим: $a \in (-\infty; -3)$ (см. рис. 89).

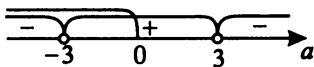


Рис. 89

Ответ: $(-\infty; -3)$.

571. Для того чтобы график квадратичной функции $y = ax^2 + bx + c$ располагался выше оси абсцисс, необходимо и достаточно для соответствующего квадратного уравнения выполнения условий: $D < 0$, $a > 0$. Для квадратного уравнения $ax^2 - 2ax + 3 = 0$ имеем: $D = 4a^2 - 12a$. Получаем систему неравенств:

$$\begin{cases} a > 0, \\ 4a^2 - 12a < 0; \end{cases} \Leftrightarrow \begin{cases} a > 0, \\ 4a(a - 3) < 0; \end{cases} \Leftrightarrow \begin{cases} a > 0, \\ a < 3. \end{cases}$$

Ответ: $(0; 3)$.

572. Для того чтобы график квадратичной функции $y = ax^2 + bx + c$ располагался выше оси абсцисс, необходимо и достаточно выполнения для соответствующего квадратного уравнения условий: $D < 0$, $a > 0$. Для квадратного уравнения $ax^2 - 4x + a = 0$ имеем: $D = 16 - 4a^2$. Получаем систему неравенств:

$$\begin{cases} a > 0, \\ 16 - 4a^2 < 0; \end{cases} \Leftrightarrow \begin{cases} a > 0, \\ 4(2 - a)(2 + a) < 0. \end{cases}$$

Решая второе неравенство последней системы методом интервалов и пересекая полученное множество значений параметра a с множеством $a > 0$, находим, что $a \in (2; +\infty)$.

Ответ: $(2; +\infty)$.

573. Для того чтобы график квадратичной функции $y = ax^2 + bx + c$ располагался ниже оси абсцисс, необходимо и достаточно выполнения для соответствующего квадратного уравнения условий: $D < 0$, $a < 0$. Для квадратного уравнения $ax^2 - 8x + a = 0$ имеем: $D = 64 - 4a^2$. Получаем систему неравенств:

$$\begin{cases} a < 0, \\ 64 - 4a^2 < 0; \end{cases} \Leftrightarrow \begin{cases} a < 0, \\ 16 - a^2 < 0. \end{cases}$$

Откуда находим: $a \in (-\infty; -4)$ (см. рис. 90).

Ответ: $(-\infty; -4)$.

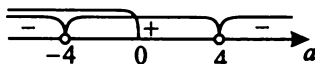


Рис. 90

574. Так как первая парабола пересекает ось Ox в точке $x = 2$, то $x = 2$ является корнем уравнения $y_1(x) = 0$. Пусть $x = a$ — второй корень уравнения $y_1(x) = 0$, тогда $y_1 = (x - a)(x - 2) = x^2 - x(a + 2) + 2a$; значит, $b = -(a + 2)$, $c = 2a$.

Поскольку $A(1; 2)$ — точка пересечения данных парабол, то справедлива система:

$$\begin{cases} y_1(1) = 2, \\ y_2(1) = 2; \end{cases} \quad \begin{cases} 1 - (a + 2) + 2a = 2, \\ -1 + k + l = 2; \end{cases} \quad \begin{cases} a = 3, \\ k + l = 3. \end{cases}$$

Проекция вершины второй параболы на ось Ox — это абсцисса вершины, то есть точка $x = \frac{k}{2}$. Аналогично проекция вершины первой параболы —

точка $x = \frac{a + 2}{2}$. Из условия следует, что $\frac{k}{2} = \frac{a + 2}{2} + 1$. Так как $a = 3$, то

$\frac{k}{2} = \frac{5}{2} + 1 = 3,5$; $k = 7$. Подставив $k = 7$ во второе уравнение последней системы, получим: $l = 3 - k = -4$. Таким образом, $k = 7$, $l = -4$.

Ответ: $k = 7$, $l = -4$

575. Так как вторая парабола пересекает ось Ox в точке $x = 3$, то $x = 3$ является корнем уравнения $y_2(x) = 0$. Пусть $x = a$ — второй корень уравнения $y_2(x) = 0$, тогда $y_2 = -(x - a)(x - 3) = -x^2 + x(a + 3) - 3a$; значит, $d = a + 3$; $f = -3a$. Поскольку $A(2; 3)$ — точка пересечения данных парабол, то справедлива система:

$$\begin{cases} y_1(2) = 3, \\ y_2(2) = 3; \end{cases} \quad \begin{cases} 4 + 2b + c = 3, \\ -4 + 2(a + 3) - 3a = 3; \end{cases} \quad \begin{cases} 2b + c = -1, \\ a = -1. \end{cases} \quad (1)$$

Проекция вершины первой параболы на ось Ox — это абсцисса вершины, то есть точка $x = -\frac{b}{2}$. Аналогично проекция вершины второй параболы

на ось Ox — точка $x = \frac{a + 3}{2}$. Из условия следует, что $\frac{a + 3}{2} = -\frac{b}{2} + 2$.

Так как $a = -1$, то $\frac{b}{2} = 2 - \frac{a + 3}{2} = 1$; $b = 2$. Подставив $b = 2$ в

уравнение (1), получим: $c = -1 - 4 = -5$. Таким образом, $b = 2$, $c = -5$.

Ответ: $b = 2$, $c = -5$.

576. Если данная парабола симметрична относительно прямой $x = -2$, то на этой прямой лежит её вершина, то есть $x_0 = -\frac{b}{2} = -2$; $b = 4$.

Парабола $y = x^2 + bx + c$ касается прямой $y = 2x + 3$ тогда и только тогда, когда уравнение $x^2 + bx + c = 2x + 3$ имеет ровно одно решение, то есть дискриминант уравнения $x^2 + (b - 2)x + c - 3 = 0$ равен нулю: $D = (b - 2)^2 - 4(c - 3) = 0$; $(b - 2)^2 = 4(c - 3)$. Подставив $b = 4$, получим: $4 = 4(c - 3)$; $c = 4$.

Ответ: $b = 4$; $c = 4$.

577. Если данная парабола симметрична относительно прямой $x = 3$, то на этой прямой лежит её вершина, то есть $x_0 = -\frac{b}{2} = 3$; $b = -6$.

Парабола $y = x^2 + bx + c$ касается прямой $y = 2x - 5$ тогда и только тогда, когда уравнение $x^2 + bx + c = 2x - 5$ имеет ровно одно решение, то есть дискриминант уравнения $x^2 + (b - 2)x + c + 5 = 0$ равен нулю: $D = (b - 2)^2 - 4(c + 5) = 0$; $(b - 2)^2 = 4(c + 5)$. Подставив $b = -6$, получим: $64 = 4(c + 5)$; $c + 5 = 16$; $c = 11$.

Ответ: $b = -6$; $c = 11$.

578. Уравнение $x^2 - 2bx + b + 6 = 0$ имеет корни тогда и только тогда, когда его дискриминант неотрицателен. $D = 4b^2 - 4(b + 6) \geq 0$; $4(b - 3)(b + 2) \geq 0$; $b \in (-\infty; -2] \cup [3; +\infty)$. Если корни x_1, x_2 отрицательны, то, согласно теореме Виета имеем:

$$\begin{cases} x_1 + x_2 = 2b < 0, \\ x_1 x_2 = b + 6 > 0; \end{cases} \Leftrightarrow -6 < b < 0.$$

Учитывая, что $b \in (-\infty, -2] \cup [3, +\infty)$, получаем, что искомыми значениями параметра b являются $b \in (-6; -2]$.

Ответ: $(-6; -2]$.

579. Уравнение $x^2 - 2bx + b + 6 = 0$ имеет корни тогда и только тогда, когда его дискриминант неотрицателен. $D = 4b^2 - 4(b + 6) \geq 0$; $4(b - 3)(b + 2) \geq 0$; $b \in (-\infty; -2] \cup [3; +\infty)$. Если корни x_1, x_2 положительны, то, согласно теореме Виета, имеем:

$$\begin{cases} x_1 + x_2 = 2b > 0, \\ x_1 x_2 = b + 6 > 0; \end{cases} \Leftrightarrow b > 0.$$

Учитывая, что $b \in (-\infty, -2] \cup [3, +\infty)$, получаем, что искомыми значениями параметра b являются $b \in [3, +\infty)$.

Ответ: $[3, +\infty)$.

580. Графиком функции $y = f(x)$ является непрерывная кривая (см. рис. 91), совпадающая при $x < -2$ с графиком гиперболы $y = \frac{4}{x}$, при $-2 \leq x \leq 2$ с графиком прямой $y = \frac{x}{2} - 1$ и при $x > 2$ с графиком параболы $y = x^2 - 6x + 8 = (x - 2)(x - 4)$. Вершина параболы находится в точке $(3; -1)$, ветви направлены вверх. По графику определяем, что прямая $y = t$ имеет с графиком функции $y = f(x)$ две общие точки при $-2 < t < -1$ и при $t = 0$.

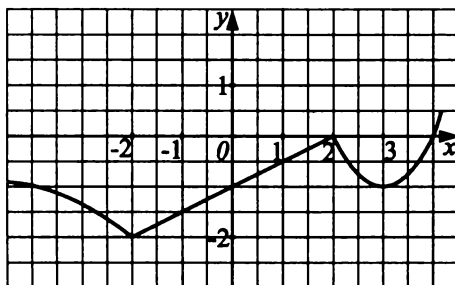


Рис. 91

Ответ: $t \in (-2; -1) \cup \{0\}$.

581. Графиком функции $y = f(x)$ является непрерывная кривая (см. рис. 92), совпадающая при $x < -1$ с графиком параболы $y = 2x^2 + 8x + 8 = 2(x + 2)^2$, вершина которой находится в точке $(-2; 0)$, а ветви направлены вверх; при $-1 \leq x < 0$ с графиком прямой $y = -x + 1$; при $0 \leq x \leq 3$ с графиком прямой $y = x + 1$; при $x > 3$ с графиком гиперболы $y = \frac{12}{x}$. По графику определяем, что прямая $y = t$ имеет с графиком функции $y = f(x)$ три общие точки при $0 < t < 1$ и при $2 < t < 4$.

Ответ: $t \in (0; 1) \cup (2; 4)$.

582. Графиком функции $y = f(x)$ является непрерывная кривая (см. рис. 93), совпадающая при $x \leq -3$ с графиком гиперболы $y = \frac{6}{x}$, при $-3 < x \leq 3$ с графиком прямой $y = x + 1$ и при $x > 3$ с графиком параболы $y = 4x^2 - 32x + 64 = (2x - 8)^2$.

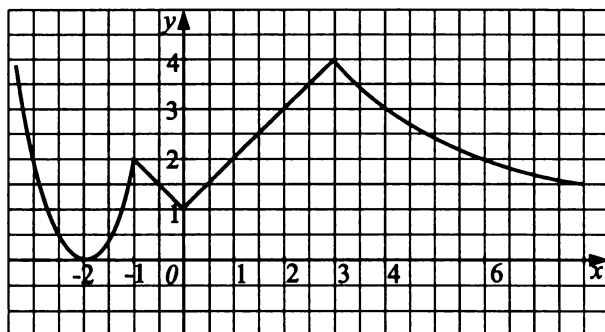


Рис. 92

Вершина параболы находится в точке $(4; 0)$, ветви направлены вверх. По рисунку определяем, что прямая $y = t$ имеет с графиком функции $y = f(x)$ только одну общую точку при $t = -2$ и при $t > 4$.

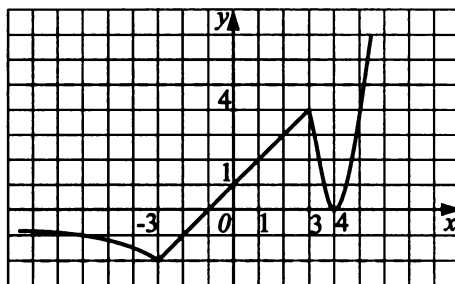


Рис. 93

Ответ: $\{-2\} \cup (4; +\infty)$.

583. Графиком функции $y = f(x)$ является непрерывная кривая (см. рис. 94), совпадающая при $x \leq -1$ с графиком гиперболы $y = -\frac{1}{x}$, при $-1 < x \leq 1$ с графиком прямой $y = -x$ и при $x > 1$ с графиком параболы $y = -x^2 + 4x - 4 = -(x-2)^2$. Вершина параболы находится в точке $(2; 0)$, ветви направлены вниз. По рисунку определяем, что прямая $y = t$ имеет с графиком функции $y = f(x)$ три общие точки при $-1 < t < 0$.

Ответ: $(-1; 0)$.

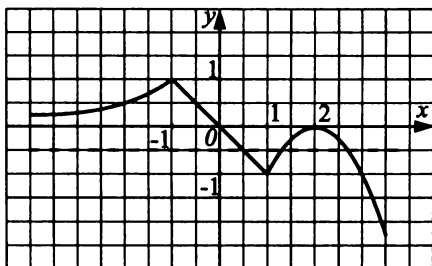


Рис. 94

584. Прямая $y = kx + 4$ не пересекает параболу $y = 3 - 2x - x^2$ тогда и только тогда, когда дискриминант уравнения $3 - 2x - x^2 = kx + 4$ отрицателен.

То есть $D = (k + 2)^2 - 4 = k^2 + 4k + 4 - 4 = k^2 + 4k = k(k + 4) < 0$.

Последнее неравенство имеет решение: $-4 < k < 0$. Наибольшее целое значение из этого промежутка $k = -1$.

Ответ: -1 .

585. Прямая $y = kx - 3$ имеет с параболой $y = 3 - 2x - x^2$ одну общую точку тогда и только тогда, когда дискриминант уравнения $x^2 - 2x + 1 = kx - 3$; $x^2 - (2 + k)x + 4 = 0$ равен нулю.

То есть $D = (k + 2)^2 - 4 \cdot 4 = k^2 + 4k - 12 = 0$. Корни: $k_1 = -6$; $k_2 = 2$. При этих значениях k прямая $y = kx - 3$ и парабола $y = x^2 - 2x + 1$ имеют одну общую точку.

Ответ: -6 ; 2 .

586. Прямая $y = kx - 2$ не пересекает параболу $y = x^2 - x - 1$ тогда и только тогда, когда уравнение $x^2 - x - 1 = kx - 2$; $x^2 - (1 + k)x + 1 = 0$ не имеет решений.

То есть $D = (k + 1)^2 - 4 < 0$; $k^2 - 2k - 3 < 0$; $-3 < k < 1$.

Так как по условию $k \geq 0$, то получаем $0 \leq k < 1$.

Ответ: $0 \leq k < 1$.

587. Прямая $y = kx - \frac{41}{4}$ и парабола $y = x^2 + 3x - 4$ имеют не более одной точки пересечения тогда и только тогда, когда дискриминант уравнения $x^2 + 3x - 4 = kx - \frac{41}{4}$; $x^2 + (3 - k)x + 6,25 = 0$, $D = (3 - k)^2 - 25 = k^2 - 6k - 16 \leq 0$.

Решениями этого неравенства будут $-2 \leq k \leq 8$. Но так как k — число отрицательное, то $-2 \leq k < 0$.

Ответ: $-2 \leq k < 0$.

588. Прямая $y = kx + 5$ имеет с параболой $y = x^2 - 4x + 14$ единственную общую точку тогда и только тогда, когда уравнение $x^2 - 4x + 14 = kx + 5$ имеет один корень.

То есть $D = (k + 4)^2 - 4 \cdot 9 = k^2 + 8k - 20 = 0$. Корни: $k_1 = -10$, $k_2 = 2$. Но так как по условию k — число отрицательное, то $k = -10$.

Ответ: -10 .

589. Прямая $y = kx - 1$ имеет с параболой $y = x^2 + 2x + 3$ единственную общую точку тогда и только тогда, когда уравнение $x^2 + 2x + 3 = kx - 1$; $x^2 + (2 - k)x + 4 = 0$ имеет один корень.

То есть $D = (2 - k)^2 - 4 \cdot 4 = k^2 - 4k - 12 = 0$. Решая полученное уравнение, найдём: $k_1 = 6$, $k_2 = -2$. Но так как по условию $k < 0$, то выбираем ответ $k = -2$.

Ответ: -2 .

590. Прямая $y = kx - 13$ пересекает параболу $y = x^2 + 3x - 4$ в двух точках тогда и только тогда, когда уравнение $x^2 + 3x - 4 = kx - 13$; $x^2 + (3 - k)x + 9 = 0$ имеет два различных решения.

То есть $D = (3 - k)^2 - 4 \cdot 9 = k^2 - 6k - 27 > 0$. Это неравенство имеет решения: $k < -3$ или $k > 9$. Так как по условию $k > 0$, то получаем ответ $k > 9$.

Ответ: $k > 9$.

591. Графики функций $y = kx - 5$ и $y = x^2 - 2x - 1$ пересекаются в двух точках тогда и только тогда, когда уравнение $x^2 - 2x - 1 = kx - 5$; $x^2 - (k + 2)x + 4 = 0$ имеет два различных корня.

То есть $D = (k + 2)^2 - 16 > 0$; $k^2 + 4k - 12 > 0$; $(k + 6)(k - 2) > 0$; $k \in (-\infty; -6) \cup (2; +\infty)$. Так как по условию $k > 0$, то искомые значения $k \in (2; +\infty)$.

Ответ: $(2; +\infty)$.

592. Графики функций $y = kx - 8$ и $y = x^2 + 5x + 1$ не имеют общих точек тогда и только тогда, когда уравнение $kx - 8 = x^2 + 5x + 1$; $x^2 + (5 - k)x + 9 = 0$ не имеет действительных корней.

То есть $D = (5 - k)^2 - 36 = k^2 - 10k - 11 = (k + 1)(k - 11) < 0$. Решением последнего неравенства является интервал $-1 < k < 11$. Так как $k > 0$, то $0 < k < 11$.

Ответ: $0 < k < 11$.

593. Графики функций $y = kx - 11$ и $y = x^2 + 6x + 25$ не имеют общих точек тогда и только тогда, когда уравнение $kx - 11 = x^2 + 6x + 25$; $x^2 + (6 - k)x + 36 = 0$ не имеет действительных корней.

То есть $D = (6 - k)^2 - 144 = k^2 - 12k - 108 = (k + 6)(k - 18) < 0$.

Решением последнего неравенства является интервал $-6 < k < 18$.
Так как $k > 0$, то $0 < k < 18$.

Ответ: $0 < k < 18$.

$$594. \begin{cases} 8 - 6x > 4x - 12, \\ 3x + 16 < 5x + 4a; \end{cases} \Leftrightarrow \begin{cases} 10x < 20, \\ 2x > 16 - 4a; \end{cases} \Leftrightarrow \begin{cases} x < 2, \\ x > 8 - 2a. \end{cases}$$

Отметим на числовых осях области, на которых выполняется каждое из неравенств (см. рис. 95). Так как по условию задачи система имеет толь-

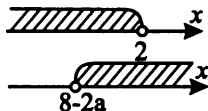


Рис. 95

ко одно целое решение, то $x = 1$, следовательно, $0 \leq 8 - 2a < 1$;
 $-8 \leq -2a < -7$; $4 \geq a > \frac{7}{2}$; $3,5 < a \leq 4$.

Ответ: $3,5 < a \leq 4$.

$$595. \begin{cases} 12 + 7x < 9x - 6, \\ x - 9 < 6a - 2x; \end{cases} \Leftrightarrow \begin{cases} 18 < 2x, \\ 3x < 6a + 9; \end{cases} \Leftrightarrow \begin{cases} x > 9, \\ x < 2a + 3. \end{cases}$$

Так как по условию задачи система имеет ровно два целых решения, то $11 < 2a + 3 \leq 12$ (см. рис. 96). Из этого неравенства получим: $8 < 2a \leq 9$;

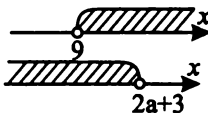


Рис. 96

$$4 < a \leq \frac{9}{2}; \quad 4 < a \leq 4,5.$$

Ответ: $4 < a \leq 4,5$.

596. Заданная парабола имеет с осью Ox не менее одной общей точки тогда и только тогда, когда дискриминант уравнения $x^2 + 3x - 2c = 0$ неотрицателен. Учитывая, что $c < 0$, получим систему неравенств:

$$\begin{cases} 9 + 8c \geq 0, \\ c < 0; \end{cases} \Leftrightarrow \begin{cases} c \geq -\frac{9}{8}, \\ c < 0. \end{cases}$$

Ответ: $-\frac{9}{8} \leq c < 0$.

597. Для того чтобы парабола $y = px^2 - 4x + 3 = 0$ не имела с осью Ox ни одной общей точки, дискриминант уравнения $px^2 - 4x + 3 = 0$ должен быть меньше нуля.

$$D = 16 - 12p < 0; \quad p > \frac{4}{3}.$$

Ответ: $p > \frac{4}{3}$.

598. Графики функций $y = px^2 - 24x + 1$ и $y = 12x^2 - 2px - 1$ пересекаются в двух точках, если уравнение $px^2 - 24x + 1 = 12x^2 - 2px - 1$ имеет два различных действительных корня. Выполнив преобразования, получаем: $(12 - p)x^2 - 2(p - 12)x - 2 = 0$. Уравнение $ax^2 + 2mx + c = 0$ имеет два

различных действительных корня, если $\begin{cases} a \neq 0; \\ \frac{D}{4} > 0. \end{cases}$

В данном случае имеем:

$$\begin{cases} 12 - p \neq 0, \\ (p - 12)^2 + 2(12 - p) > 0; \end{cases} \Leftrightarrow \begin{cases} p \neq 12, \\ (p - 12)(p - 14) > 0; \end{cases} \Leftrightarrow \begin{cases} p < 12, \\ p > 14. \end{cases}$$

Ответ: $p \in (-\infty; 12) \cup (14; +\infty)$.

599. Прямая $y = kx + 10$ и парабола $y = -x^2 - 3x + 6$ не имеют общих точек, если уравнение $kx + 10 = -x^2 - 3x + 6$ не имеет действительных корней, то есть $D < 0$. Получим: $x^2 + (3 + k)x + 4 = 0$; $D = (3 + k)^2 - 16 < 0$; $9 + 6k + k^2 - 16 < 0$; $k^2 + 6k - 7 < 0$; $(k - 1)(k + 7) < 0$; $-7 < k < 1$. По условию $k < 0$, следовательно, $-7 < k < 0$.

Ответ: $-7 < k < 0$.

600. Если уравнение $ax^2 - 4x + 2 = 0$ имеет два различных корня, то $a \neq 0$ и дискриминант $D > 0$. По теореме Виета произведение корней $x_1 x_2$ приведённого квадратного уравнения есть его свободный член. Обозначим корни уравнения $x^2 - \frac{4}{a}x + \frac{2}{a} = 0$ через x_1 и x_2 . Тогда $x_1 \cdot x_2 = \frac{2}{a}$,

и так как корни имеют разные знаки, то $\frac{2}{a} < 0$, $a < 0$. В этом случае

$$D = \frac{16}{a^2} - \frac{8}{a} > 0.$$

Наибольшее целое значение a , удовлетворяющее неравенству $a < 0$, есть $a = -1$.

Ответ: -1 .

601. По условию абсцисса вершины данной параболы $x_0 = -\frac{b}{2} = -4$.

Отсюда $b = 8$. Итак, уравнение параболы $y = x^2 + 8x + c$. Так как вершина параболы находится в точке $K(-4; 7)$, то $7 = (-4)^2 + 8(-4) + c$; $7 = 16 - 32 + c$. Отсюда $c = 23$.

Ответ: $b = 8$; $c = 23$.

602. Данная прямая пересекает заданную окружность, если имеет решения система уравнений
$$\begin{cases} x^2 + (y - 4)^2 = 2, \\ y = kx + 2. \end{cases}$$

Подставив значение y из второго уравнения системы в первое, получим: $x^2 + (kx - 2)^2 = 2$; $(k^2 + 1)x^2 - 4kx + 2 = 0$. Для того чтобы прямая пересекла окружность в двух точках, дискриминант последнего уравнения должен быть больше нуля: $D = 16k^2 - 8k^2 - 8 > 0$; $k^2 > 1$; $|k| > 1$. Так как k — число отрицательное, то $k < -1$.

Ответ: $k < -1$.

603. Данная прямая пересекает заданную окружность, если имеет решения система уравнений
$$\begin{cases} y = x + k + 1, \\ (x + 1)^2 + (y - 1)^2 = 2. \end{cases}$$

Подставив значение y из первого уравнения системы во второе, получим: $(x + 1)^2 + (x + k + 1 - 1)^2 = 2$; $2x^2 + 2(1 + k)x - 1 + k^2 = 0$.

Прямая пересечёт окружность в двух точках, если дискриминант полученного уравнения будет больше нуля: $\frac{D}{4} = (1 + k)^2 + 2 - 2k^2 > 0$; $k^2 - 2k - 3 < 0$; $-1 < k < 3$. Нам нужны неположительные значения k , значит, $-1 < k \leq 0$.

Ответ: $-1 < k \leq 0$.

604. Данные прямая и парабола не имеют общих точек, если уравнение $3x^2 - 2ax + 4 = a - 2$ не имеет решений. В этом случае дискриминант квадратного уравнения $3x^2 - 2ax + 6 - a = 0$ должен быть меньше нуля.

$$\frac{D}{4} = a^2 - 18 + 3a; a^2 + 3a - 18 < 0; -6 < a < 3.$$

Ответ: $-6 < a < 3$.

605. Данные прямая и парабола не имеют общих точек, если уравнение $2x^2 + 2kx + 6 = -k - 6$ не имеет решений. В этом случае дискриминант квадратного уравнения $2x^2 + 2kx + 12 + k = 0$ должен быть меньше нуля.

$$\frac{D}{4} = k^2 - 24 - 2k; k^2 - 2k - 24 < 0; -4 < k < 6.$$

Ответ: $-4 < k < 6$.

606. Прямая $y = kx - 2$ не имеет общих точек с параболой $y = x^2 + 3x - 1$ тогда и только тогда, когда уравнение $x^2 + 3x - 1 = kx - 2$; $x^2 + (3 - k)x + 1 = 0$ не имеет корней, то есть $D = (3 - k)^2 - 4 < 0$. Прямая не имеет общих точек с параболой $y = x^2 - x + 2$ тогда и только тогда, когда уравнение $x^2 - x + 2 = kx - 2$; $x^2 - (1 + k)x + 4 = 0$ не имеет корней, то есть $D = (1 + k)^2 - 16 < 0$. Следовательно, данная прямая не имеет общих точек с обеими параболой, если выполняется система неравенств

$$\begin{cases} (3 - k)^2 - 4 < 0, \\ (1 + k)^2 - 16 < 0; \end{cases} \Leftrightarrow \begin{cases} k^2 - 6k + 5 < 0, \\ k^2 + 2k - 15 < 0; \end{cases} \Leftrightarrow \begin{cases} 1 < k < 5, \\ -5 < k < 3; \end{cases} \Leftrightarrow 1 < k < 3.$$

Ответ: $1 < k < 3$.

607. Прямая $y = kx + 5$ не имеет общих точек с параболой, если уравнения $kx + 5 = -2x^2 - 2x + 3$ и $kx + 5 = x^2 + 5x + 21$ не имеют решений. В этом случае их дискриминанты отрицательны:

$$\begin{cases} (k + 2)^2 - 4 \cdot 2 \cdot 2 < 0, \\ (5 - k)^2 - 4 \cdot 16 < 0; \end{cases} \Leftrightarrow \begin{cases} k^2 + 4k - 12 < 0, \\ k^2 - 10k - 39 < 0; \end{cases} \Leftrightarrow \begin{cases} -6 < k < 2, \\ -3 < k < 13; \end{cases} \Leftrightarrow -3 < k < 2.$$

Ответ: $-3 < k < 2$.

612. Данное неравенство эквивалентно неравенству $x^2 + (4a - 3)x + 1,75 - 3a \leq 0$. Это неравенство не имеет решений, когда дискриминант D соответствующего квадратного уравнения меньше нуля. Вычислим $D = (4a - 3)^2 - 4(1,75 - 3a) = 16a^2 - 12a + 2 = 2(8a^2 - 6a + 1)$. Решим неравенство $8a^2 - 6a + 1 < 0$. Для этого решим уравнение $8a^2 - 6a + 1 = 0$. Его корни $a_1 = \frac{1}{4}$ и $a_2 = \frac{1}{2}$, а решение неравенства есть $\frac{1}{4} < a < \frac{1}{2}$.

Ответ: $\frac{1}{4} < a < \frac{1}{2}$.

613. Неравенство $ax^2 + (a - 3)x + a > 0$ выполняется при любых x , если $a > 0$ и дискриминант уравнения $ax^2 + (a - 3)x + a = 0$ $D = (a - 3)^2 - 4a \cdot a < 0$. Получаем:

$$\begin{cases} a^2 - 6a + 9 - 4a^2 < 0, \\ a > 0; \end{cases} \Leftrightarrow \begin{cases} a^2 + 2a - 3 > 0, \\ a > 0; \end{cases} \Leftrightarrow \begin{cases} (a - 1)(a + 3) > 0, \\ a > 0. \end{cases}$$

Решая методом интервалов последнюю систему (см. рис. 97), получим $a > 1$.

Ответ: $a > 1$.

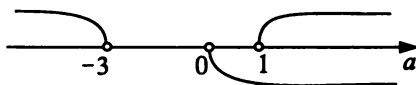


Рис. 97

617. Будем решать эту задачу графически. Для этого построим в одной системе координат графики функций $y = kx$ и $y = y(x)$, имея в виду, что прямая $y = kx$ проходит через начало координат, а параметр k есть угловой коэффициент этой прямой. Для различных значений k прямая $y = kx$, проходящая через начало координат, принимает разные положения (см. рис. 98).

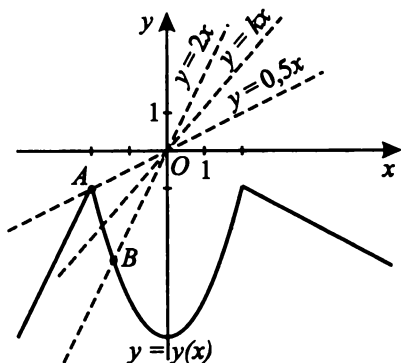


Рис. 98

Прямая $y = kx$ пересекает кривую $y = y(x)$ в двух различных точках тогда и только тогда, когда прямая $y = kx$ будет проходить внутри угла AOB , где прямая OB задана уравнением $y = 2x$, а прямая OA уравнением $y = 0,5x$.

При любом другом k прямая $y = kx$ пересекает график функции $y = y(x)$ либо не более, чем в одной точке, либо в бесконечном числе точек при $k = -0,5$.

Таким образом, $0,5 < k < 2$.

Ответ: $0,5 < k < 2$.

619. Будем решать эту задачу графически. Для этого построим в одной системе координат графики функций $y = kx$ и $y = \begin{cases} 3x + 3, & x < 0, \\ x - 2, & 0 \leq x < 1, \\ -2x + 1, & x \geq 1. \end{cases}$

Для различных значений k прямая $y = kx$, проходящая через начало координат, принимает разные положения.

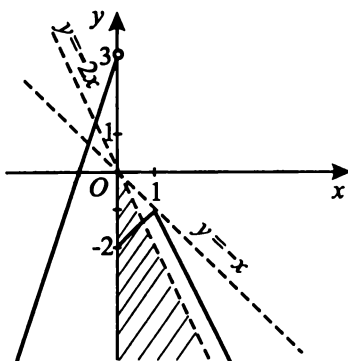


Рис. 99

Из рисунка следует, что $k \in (-\infty; -2]$ или $k = -1$, так как для всех других k прямая $y = kx$ будет иметь с кривой или одну общую точку, или три общие точки, или ни одной.

Ответ: $k \in (-\infty; -2] \cup \{-1\}$.

621. Построим в одной системе координат данный прямоугольник (с его диагоналями) и прямую $y = kx$ (см. рис. 100).

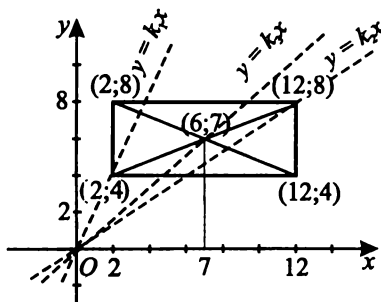


Рис. 100

Пусть $y = k_1x$ — прямая, проходящая через точки $(0;0)$ и $(2;4)$; $y = k_2x$ — прямая, проходящая через точки $(0;0)$ и $(12;8)$; $y = k_3x$ —

прямая, проходящая через точки $(0; 0)$ и $(6; 7)$. Тогда прямая $y = kx$ имеет ровно две общие точки с множеством точек, принадлежащих диагоналям этого прямоугольника, тогда и только тогда, когда $k_1 \leq k \leq k_2$ и $k \neq k_3$.

Легко видеть, что $k_1 = 2$, $k_2 = \frac{2}{3}$, $k_3 = \frac{6}{7}$.

Ответ: $\frac{2}{3} \leq k < \frac{6}{7}$; $\frac{6}{7} < k \leq 2$.

Литература

1. Обязательный минимум содержания основного общего образования по математике (Приказ МО РФ от 19.05.98 №1276).
2. Обязательный минимум содержания среднего (полного) общего образования по математике (Приказ МО РФ от 30.06.99 №56).
3. Федеральный компонент государственного стандарта общего образования. Математика. Основное общее образование: 2004 г. (Приказ МО РФ от 05.03.04 №1089).
4. *Дорофеев В. Г. и др.* Оценка качества подготовки выпускников основной школы по математике. — М.: Дрофа, 2000.
5. *Лысенко Ф. Ф. и др.* Математика. 9 класс. Подготовка к ГИА-2011. Учебно-методическое пособие / Под редакцией Ф. Ф. Лысенко, С. Ю. Кулабухова. — Ростов-на-Дону: Легион, 2010. — 224 с.
6. Спецификация экзаменационной работы для проведения государственной (итоговой) аттестации выпускников IX классов общеобразовательных учреждений в 2010 году (в новой форме) по МАТЕМАТИКЕ (АЛГЕБРЕ) [Электронный ресурс]. — Электрон. текст. дан. — Москва: ФИПИ. — 2009. — Режим доступа: www.fipi.ru, свободный.
7. Кодификаторы элементов содержания и требований к уровню подготовки выпускников IX классов общеобразовательных учреждений для проведения государственной (итоговой) аттестации в 2010 году (в новой форме) по МАТЕМАТИКЕ. [Электронный ресурс]. — Электрон. текст. дан. — Москва: ФИПИ. — 2009. — Режим доступа: www.fipi.ru, свободный.
8. Экзаменационная работа для проведения государственной (итоговой) аттестации выпускников IX классов общеобразовательных учреждений в 2010 году (в новой форме) по МАТЕМАТИКЕ (АЛГЕБРЕ). Демонстрационный вариант 1. [Электронный ресурс]. — Электрон. текст. дан. — Москва: ФИПИ. — 2009. — Режим доступа: www.fipi.ru, свободный.
9. Экзаменационная работа для проведения государственной (итоговой) аттестации выпускников IX классов общеобразовательных учреждений в 2010 году (в новой форме) по МАТЕМАТИКЕ (АЛГЕБРЕ). Демонстрационный вариант 2. [Электронный ресурс]. — Электрон. текст. дан. — Москва: ФИПИ. — 2009. — Режим доступа: www.fipi.ru, свободный.

ГИА-9

Учебное издание

**МАТЕМАТИКА. РЕШЕБНИК.
9-й КЛАСС.
ПОДГОТОВКА К ГОСУДАРСТВЕННОЙ
ИТОГОВОЙ АТТЕСТАЦИИ-2011**

Учебно-методическое пособие


Под редакцией ***Ф. Ф. Лысенко, С. Ю. Кулабухова***

Художественное оформление,
разработка серии *И. Лойкова*
Компьютерная верстка *Л. Шверида*
Корректор *Н. Пимонова*

Подписано в печать 29.07.2010.
Формат 60х84¹/₁₆. Бумага типографская.
Гарнитура Таймс. Печать офсетная. Усл. печ. л. 14,4.
Тираж 20 000 экз. Заказ № 263.

ООО «ЛЕГИОН-М»
Для писем: 344000, г. Ростов-на-Дону, а/я 550.
Адрес редакции: 344011, г. Ростов-на-Дону, пер. Доломановский, 55.
www.legionr.ru e-mail: legionrus@legionrus.com

Отпечатано в соответствии с качеством предоставленных диапозитивов
в ЗАО «Полиграфобъединение». 347900, г. Таганрог, ул. Лесная биржа, 6 В.

**Рекомендует****ГИА-9****МАТЕМАТИКА. 9-й класс
ПОДГОТОВКА К ГИА-2011***Под редакцией Ф. Ф. Лысенко, С. Ю. Кулабухова*

В настоящее время ГИА-9 в новой форме проводится во всех регионах России, и наше пособие будет полезным для школьников, готовящихся к ГИА по математике, а также для учителей, осуществляющих эту подготовку.

Предлагаемое пособие включает 28 авторских учебно-тренировочных тестов, составленных по последнему плану государственной итоговой аттестации за курс основной школы (14 вариантов включают задания, относящиеся к разделу «Элементы теории вероятностей и статистики») и сборник, содержащий более 600 задач, которые иллюстрируют основные идеи тестов итоговой аттестации прошлых лет.

К двум вариантам тестов и ко многим задачам из сборника приведены решения, ко всем тестам и задачам — ответы.

Вместе с этим пособием выходит в свет «Решебник», куда включены решения всех заданий повышенного уровня сложности тестов ГИА-9 и всех заданий сборника задач.



Рекомендует

Готовимся к ЕГЭ

МАТЕМАТИКА
УСТНЫЕ ВЫЧИСЛЕНИЯ И БЫСТРЫЙ СЧЁТ.
Тренировочные упражнения за курс
7–11 классов

Под редакцией Ф. Ф. Лысенко, С. Ю. Кулабухова

В предлагаемом пособии представлено около 3000 тренировочных устных упражнений по всем дидактическим линиям программы по математике за курс 7-х — 11-х классов. Книга состоит из 17 глав. В каждую главу включён теоретический материал. Предлагаемые задания объединены в группы по шесть, для одного из них приводится решение. В конце книги даны ответы ко всем заданиям.

Пособие адресовано ученикам, учителям и методистам. Учителю даётся материал, который может быть использован как при изложении новых тем, так и при организации тематического повторения. Ученику предоставляется возможность выработать навыки выполнения быстрых и качественных вычислений.

Особенно книга важна выпускникам, готовящимся к ЕГЭ. Прорешав пособие, выпускник сможет правильно выполнить задания части В и потратит на их выполнение минимальное время, а это даст возможность уделить больше внимания решению более трудных заданий части С.

ИЗДАТЕЛЬСТВО



344000, г. Ростов-на-Дону, а/я 550 (для писем)

Тел.: (863) 248-14-03, 303-05-50

e-mail: legionrus@legionrus.com

www.legionr.ru

Книги для тех, кто учится и учит

Издательство «Легион» специализируется на выпуске учебно-методических пособий для школьников, абитуриентов и учителей

Книги объединены в серии:

**«Готовимся к ЕГЭ», «ГИА-9», «Тематические тесты»,
«Промежуточная аттестация», «Готовимся к олимпиаде»,
«Мастер-класс»**

Пособия издательства «Легион» позволяют:

- ✓ эффективно подготовиться к любым экзаменам и систематизировать свои знания;
- ✓ освоить методы решения трудных, в том числе и олимпиадных задач;
- ✓ ознакомиться с идеями единого государственного экзамена (ЕГЭ) и государственной итоговой аттестации за курс основной школы (ГИА-9).

Книги издательства универсальны, соответствуют требованиям государственных образовательных стандартов, в том числе стандартов второго поколения.

Издательство ООО «Легион» включено в перечень организаций, осуществляющих издание учебных пособий, которые допускаются к использованию в образовательном процессе в имеющих государственную аккредитацию и реализующих образовательные программы общего образования образовательных учреждениях. Приказ Минобрнауки России № 729 от 14.12.2009, зарегистрирован в Минюст России 15.01.2010 № 15987.

ОПТОВИКАМ, МАГАЗИНАМ, ПРЕДПРИНИМАТЕЛЯМ ВСЕХ РЕГИОНОВ!

- ✓ Удобные условия
- ✓ Индивидуальный подход к каждому клиенту
- ✓ Оперативная доставка
- ✓ Проверенное качество

Пособия издательства «Легион» можно приобрести
в книготорговых организациях:

АБАКАН

ООО «Кругозор Иванова и К»
(3902) 22-36-40
ГОУ ДПО ХРИПК и ПРО
(39022) 2-70-12, 2-61-22

АНАПА

ИП Ладанова Н. И.
(86133) 3-72-76

АРХАНГЕЛЬСК

ООО «Оберег»
(8182) 65-12-41, 20-72-12, 65-24-77
Магазин учебной литературы
«Школьный мир»
(8142) 78-24-43

АСТРАХАНЬ

ИП Агаев Сархаддин Х.О.
8-960-859-53-89
ИП Агаев Сейфаддин Х.О.
(8512) 72-77-93
ИП Щенина В.В.
8-917-180-88-18, (8512) 22-33-62

БАРНАУЛ

ИП Нестеренко Т.Н.
(3852) 36-80-93

БЕЛГОРОД

ИП Бабьяк И. А.
(4722) 34-15-59
Областное государственное учреждение
«Квант»
(4722) 34-17-34, 34-30-28
ИП Поляков А.М.
(4722) 35-61-83

БЕЛЕБЕЙ

ООО «Предприятие Прогресс»
(34786) 448-61, 467-39, 450-89

БОРИСОГЛЕБСК

ИП Мусатов С.Ю.
(47354) 64-560

БРЯНСК

ООО «Александрия»
(4832) 66-52-30, 74-41-80
ИП Белкина И. В.
(4832) 67-68-40
ИП Трубка Л. И.
(4832) 74-92-20, 74-61-64

ВЕЛИКИЙ НОВГОРОД

ООО «Маркет-Сервис»
(8162) 62-30-47
ООО «Книжный магазин «Прометей»
(8162) 77-82-96, 77-30-21

ВЛАДИМИР

ИП Митина Л.Г.
8-960-721-40-48, 8-960-721-55-48
ОГОО ДПО ВИПКРО
(4922) 36-63-94, 36-63-69
Талета
(4922) 21-26-66

ВОЛГОГРАД

ИП Гражданкин Н. Н.
(8442) 93-04-65, 90-05-85, 95-54-11
ООО «Кассандра»
(8442) 97-58-00, 97-85-85
ООО «Учебная и деловая книга»
(844-2) 76-06-06, 76-34-34, 76-60-92,
76-60-93

ВОЛОГДА

ОАО «Библиотечный коллектор»
(8172) 72-04-75, 21-05-86, 72-20-45
ОАО «Источник»
(8172) 72-42-38
ИП Соловьев А.В.
(8172) 72-61-28, 21-17-36

ВОРОНЕЖ

ООО «Амиталь»
(4732) 26-77-77, 24-24-90, 26-35-19,
26-35-60
ООО «Риокса»
(4732) 21-08-66, 46-13-26, 46-43-94

ВЫШНИЙ ВОЛОЧЕК

ИП Лебедев В. Ф.
(48233) 6-41-03, 8-910-930-86-35

ГЕОРГИЕВСК

ИП Куцева Т.И.
(87951) 6-77-43, 6-39-12
ИП Филатов В.П.
8-928-366-05-00

ДЕРБЕНТ

ИП Шисинов И. Ш.
(87240) 4-35-00

ДМИТРОВГРАД

ООО «Учебник»
(8423) 57-48-48

ЕЙСК

ООО «Телеком»
(86132) 69-069

ЕКАТЕРИНБУРГ

ООО «Алис-Альянс»
(343) 355-33-86, 355-43-92
ИП Евтюгина Н.С.
(343) 228-10-91, 228-10-79

ИВАНОВО

ООО «Новая мысль»
(4932) 41-64-16
ИП Ракова О.В.
(4932) 30-04-28

ИЖЕВСК

ООО «Инвис»
(3412) 78-16-24
ООО «Свиток»
(3412) 78-22-24, 51-05-37
ООО «Учебно-методическая книга»
(3412) 78-35-04

ЙОШКАР-ОЛА

ИП Бессолицын В.С.
(8362) 42-88-55
ИП Кошкин Н.Ю.
(8362) 63-41-55, 63-44-04
ИП Удальцова З.И.
(8362) 46-24-69

КАЗАНЬ

ИП Крамень И.Н.
(843) 292-46-51
ИП Микашкин В. Н.
8-903-344-90-63
ООО «Пегас»
(843) 272-34-55, 272-34-55, 295-12-71
ООО Торговый дом «Аист-Пресс»
(843) 525-55-40, 525-52-14

КАЛИНИНГРАД

ООО «Лабор»
(4012) 75-87-46

КАЛУГА

ИП Безбородова Т. И.
8-906-643-37-17
ИП Калуженский Г.В.
8-910-910-41-76

ИП Махонина А. А.
(4842) 56-10-10
ИП Настенко Т. Н.
8-910-913-08-49, (4842) 54-71-95

КИРОВ

ИП Кокорин Ю. П.
(8332) 29-40-40, 29-44-08

КОСТРОМА

ИП Аббакумова Э. О.
(4942) 31-53-76, 37-05-21, 37-04-21
ООО «Филлипок»
(4942) 41-50-91, 36-00-72
МУП города Костромы «Школьник»
(4942) 51-42-55, 31-25-58

КРАСНОДАР

ООО «Когорта»
(861) 279-54-21, 279-54-20
ООО «Ремикс»
(861) 267-24-49

КРАСНОЯРСК

ООО фирма «Градъ»
(391) 212-39-94; 226-91-45; 227-82-65;
ООО «Мила-В»
(3912) 40-04-80

КУРГАН

ООО «Алис-К»
(3522) 24-61-04; 24-61-05
ООО «Кристалл»
(3522) 49-23-01

КУРСК

ООО «Аистенок»
(4712) 52-86-10
ИП Захаров С.Ю.
(4712) 35-16-51
ООО «Интеллект Образование XXI»
(4712) 52-97-03

КЫЗЫЛ

ИП Тунева Е. Г.
(39422) 2-29-27, 2-42-86, 2-42-86

ЛЕНИНОГОРСК

ИП Исхакова Ф.Г.
(85595) 5-08-74

ЛИПЕЦК

ООО «ЛКТФ Книжный клуб 36,6»
(4742) 77-40-64, 48-79-32, 22-19-61,
22-19-50

МОСКВА

ООО «Абрис Д»
(495) 229-67-59
ООО ТД «БИБЛИО-ГЛОБУС»
(495) 621-78-39, 781-19-08, 621-19-47
ООО «Учебно-методический Центр
«Глобус»
(495) 988-72-83, 721-17-13

НЕВИННОМЫСК

ИП Гагарин Н. В.
(86554) 6-74-94

НЕФТЕКАМСК

ИП Киямова Г. Ф.
(34783) 4-88-83, 9-07-34

НЕФТЕЮГАНСК

ИП Пугачева М.В.
(3463) 25-47-42

НИЖНИЙ НОВГОРОД

ИП Кулемина Л. М.
(8312) 41-92-27, 41-95-57, 41-95-74
ИП Чернышев В. В.
(831) 436-58-14

НОВОРОССИЙСК

ООО «Центр социальных инициатив»
(8617) 63-17-04

НОВОСИБИРСК

ИП Березкина Е. В.
(8383) 223-47-71
ИП Камалетдинов Р.Р.
(383) 28-999-06, 224-63-48
ООО «СибВерк»
(383) 212-50-90

ОМСК

ООО «Принт ТФ»
(3812) 53-52-73, 53-42-73
ООО «Сфера»
8-960-989-48-65
ООО «Форсаж»
(3812) 23-35-71, 57-88-56, 53-89-67

ОРЕЛ

ЗАО «Орловский учебный коллектор»
(4862) 74-48-34, 75-29-11

ОРЕНБУРГ

ООО «Фирма «Фолиант»
(3532) 77-46-92, 77-40-33

ПЕРМЬ

ИП Жмыхова Г.И.
(342), 226-66-91, 226-44-10
ИП Габзалилов М.Х.
(342) 245-24-37

ПЕТРОЗАВОДСК

ООО «Азбука»
(8142) 78-55-03
ООО Книжный магазин «Экслибрис»
(8142) 76-33-76, 76-75-51

ПЛАВСК

ИП Дедук Л. В.
(848752) 6-53-11

Пос. ЛАЗАРЕВСКАЯ Краснодарского края

ИП Зайцев А. А.
8-918-916-71-66, (8622)70-74-13

ПСКОВ

ИП Васильева А. В.
(8112) 66-25-04
ОАО «Псковский областной учебный
коллектор»
(8112) 56-93-63, 58-58-36

ПЯТИГОРСК

ПБОЮЛ Бердникова Л.А.
(8793) 33-88-80, 39-47-17
ИП Борисковский В.А.
(88793) 39-02-54, 39-02-53

РОСТОВ-НА-ДОНУ

ООО «Алтай»
(863) 262-37-95
ООО «Донская школа»
(863) 267-56-11
ИП Евдокимов И.А.
(863) 279-39-11, 26-35-331
ОАО «Ростовкнига»
(863) 295-89-32, 278-36-23
ИП Рудницкий А.В.
(863) 291-03-53, 234-82-96

САМАРА

Магазин «Учебная книга»
(846) 995-58-68
ООО «МЕТИДА-ОПТ»
(846) 269-17-17
ООО «Чакона»
(846) 331-22-33

САНКТ-ПЕТЕРБУРГ

ООО «Век развития»
(812)924-04-58

ООО «Коллибри»
(812) 703-59-94; 703-59-95; 703-59-75
ООО «Санкт-Петербургский Дом Книги»
(812) 448-23-57

САРАНСК

ГУП РМ «Мордовское книжное
издательство»
(8342) 47-05-91

САРАТОВ

ИП Вавилов О.Ю.
(8452) 222-404
ООО «Гемера-Плюс»
(8452) 64-37-37, 64-78-24
ООО «Стрелец и К»
(8452) 52-25-24

СМОЛЕНСК

ИП Воронцов С.В.
(4812) 65-62-94, 32-75-21
ИП Кормильцева И. В.
(4812) 38-93-52
ИП Кудашова Н.Н.
(4812) 65-86-65

СОЧИ

ООО «Анис»
(8622) 92-33-51, 64-83-56
МУП г. Сочи «Книги»
(8622) 64-14-61, 64-69-28

СТАВРОПОЛЬ

ИП Апурин А.И.
(8652) 28-07-30, 28-23-81
ООО «Ставрополь-Сервис-Школа»
(8652) 57-47-27, 72-87-40

СЫКТЫВКАР

ИП Коврижных Д.Г.
(8212) 66-37-35

ТАГАНРОГ

ИП Боринский И.Г.
(8634) 61-03-57

ТАМБОВСКАЯ обл.

ГОУ ДПО «Тамбовский областной ИПК
работников образования»
(8-4752) 63-05-08

ТВЕРЬ

ООО «ВООК-СЕРВИС»
(4822) 34-52-11
ООО «Кириллица»
(4822) 32-05-68

ТИХОРЕЦК

ООО «Астрейя»
(86196) 7-36-42, 7-36-53

ТОМСК

Книжный магазин-музей
«Петр Макушин»
(3822) 51-58-33

ТУЛА

ООО «Система плюс»
(4872) 31-29-23, 70-02-48, 32-60-94

ТЮМЕНЬ

ООО «Книжник»
(3452) 35-72-12
ИП Нестеров В.А.
(3452) 20-56-10

УЛАН-УДЭ

ИП Шашина О. К.
(3012) 22-01-05

УЛЬЯНОВСК

ИП Селезнев Ю. И.
(8422) 94-23-83

УФА

ГУП Башучколлектор РБ
(3472) 63-37-78, 83-95-66
ООО «Мир книги»
(3472) 82-56-30, 82-83-92, 82-89-65

ЧЕБОКСАРЫ

Чувашский учколлектор
(8352) 56-08-55, 61-45-76, 62-85-57
Чувашский бибколлектор
(8352) 62-15-67, 62-03-70, 62-28-46

ЧЕЛЯБИНСК

ООО «ИнтерСервис ЛТД»
(351) 247-74-14, 247-74-13
ООО ПК «Урал-пресс»
(351) 772-69-57, 773-48-37, 771-44-03

ЭЛИСТА

ИП Борлыкова Л.А.
(84722) 2-86-42
ООО «Фирма МСП магазин «Санан»
8-917-681-77-77

ЯРОСЛАВЛЬ

ИП Зелинская Т.В.
(4852) 73-40-07
ГОУ «Институт развития образования»
(4852) 73-93-00, 21-06-83



ЛЕГИОН

**УЧИТЕЛЬ! УЧЕНИК!
«ПЛАНЕТА ЗНАНИЙ» — ВАША!**

Плaнeтa
ЗНАНИЙ

ООО «Легион» издает учебно-методическую литературу для выпускников средних общеобразовательных учреждений, сдающих государственную (итоговую) аттестацию в форме ЕГЭ и поступающим в сузу и вузы, сдающих вступительные испытания в форме и по материалам ЕГЭ.


Одновременно, ООО «Легион» выпускает для школьников и учителей газету «Планета знаний».

Газета «Планета знаний» распространяется по подписке в Ростовской области. Подписной индекс газеты «Планета знаний» **И-31591**. Стоимость подписки одного номера газеты — 20 рублей. Выписать газету можно с любого текущего месяца.

Содержание газеты призвано отражать актуальные проблемы общего образования: модернизация содержания образования; введение профильного (предпрофильного) обучения; подготовка, проведение и результаты ЕГЭ...

Редакция газеты открыта читателям для обратной связи. Мы ждём от школ, участников образовательного процесса вопросы, предложения, интересные для нашей аудитории подписчиков материалы.

Готовы публиковать в газете (платно) поздравления педагогическим коллективам, объявления, рекламу.

 для справок: (863)248-14-04
Иванова Людмила Лаврентьевна.



УЧЕБНО-МЕТОДИЧЕСКИЙ КОМПЛЕКС ДЛЯ ПОДГОТОВКИ К ГИА-9 ПО МАТЕМАТИКЕ

под редакцией Ф.Ф. Лысенко, С.Ю. Кулабухова

Математика. 9-й класс. Подготовка к ГИА-2011

Предлагаемое пособие включает **28 авторских учебно-тренировочных тестов**, составленных по последнему плану государственной итоговой аттестации за курс основной школы (14 вариантов включают задания, относящиеся к разделу «Элементы теории вероятностей и статистики») и **сборник, содержащий более 600 задач**, которые иллюстрируют основные идеи тестов итоговой аттестации прошлых лет. К двум вариантам тестов и ко многим задачам из сборника приведены **решения**, ко всем тестам и задачам — **ответы**.

Вместе с этим пособием выходит в свет «Решебник», куда включены решения всех заданий повышенного уровня сложности тестов ГИА-9 и всех заданий сборника задач.



TM

ИЗДАТЕЛЬСТВО

ЛЕГИОН

www.legionr.ru

e-mail: legionrus@legionrus.com

344000, г. Ростов-на-Дону, а/я 550

Тел. (863) 303-05-50, 248-14-03

ISBN 978-5-91724-048-0



9 785917 240480