


С.А. Маркин

# ИСТОРИЯ

КАРТОГРАФИЧЕСКИЙ ТРЕНИНГ

Пособие

для подготовки к **ЕГЭ**



С. А. МАРКИН

# ИСТОРИЯ

## КАРТОГРАФИЧЕСКИЙ ТРЕНИНГ

*Пособие для подготовки к ЕГЭ*

РОСТОВ-НА-ДОНУ

**ФЕНИКС**

2016



73.167.1:94(47)  
3.3(2)я72  
42  
М27

**Маркин С. А.**

История. Картографический тренинг : пособие для подготовки к ЕГЭ / С. А. Маркин. — Ростов н/Д : Феникс, 2016. — 158, [1] с. — (Справочники).

ISBN 978-5-222-23749-6

Пособие предназначено как для учащихся средней школы при подготовке к ЕГЭ по курсу отечественной истории, так и для преподавателей общеобразовательных учреждений при организации изучения данного курса, его повторении и обобщении. Пособие включает карты и задания к ним по всем периодам отечественной истории, что поможет ученикам систематизировать имеющиеся знания и, в случае необходимости, своевременно восполнить обнаружившиеся пробелы.

Пособие является универсальным подспорьем в процессе формирования и совершенствования у учеников базовых картографических знаний, которые обеспечат успешную сдачу ЕГЭ по истории.

978-5-222-23749-6

УДК 373.167.1:94(47)  
ББК 63.3(2)я72

© Маркин С. А., 2015  
© Оформление ООО «Феникс», 2015

## Содержание

Предисловие.....	
Раздел 1. Рекомендации по выполнению заданий на умение работать с исторической картой, схемой (В8, В9, В10, В11) .....	
Раздел 2. Тренировочные задания .....	
Тема 1. История России с древнейших времён до середины IX в. ....	
Тема 2. Русь во второй половине IX — начале XI в. ....	
Тема 3. Русь в XI — первой трети XII в. ....	
Тема 4. Русские земли в первой трети XII — первой трети XIII в. ....	
Тема 5. Борьба Руси с иноземными захватчиками в XIII—XIV вв. ....	
Тема 6. Борьба Руси за единство и независимость в XIV—XV вв. ....	
Тема 7. Россия в XVI в. ....	
Тема 8. Смутное время (1598—1613).....	
Тема 9. Правление Михаила Фёдоровича (1613—1645).....	
Тема 10. Правление Алексея Михайловича (1645—1676).....	
Тема 11. Правление Фёдора Алексеевича (1676—1682) и Софьи Алексеевны (1682—1689) .....	
Тема 12. Правление Петра I (1689—1725).....	
Тема 13. Россия в эпоху дворцовых переворотов (1725—1762). ....	
Тема 14. Россия в царствование Екатерины II (1762—1796) и Павла I (1796—1801).....	
Тема 15. Россия в царствование Александра I (1801—1825).....	
Тема 16. Россия в царствование Николая I (1825—1855). ....	
Тема 17. Россия в царствование Александра II (1855—1881). ....	
Тема 18. Россия в царствование Александра III (1881—1894).....	
Тема 19. Россия в царствование Николая II (1894—1917).....	
Тема 20. Великая российская революция (1917—1922). ....	
Тема 21. СССР в период новой экономической политики (1921—1928).....	
Тема 22. СССР в период индустриализации (1929—1941).....	
Тема 23. Великая Отечественная война (1941—1945). ....	
Тема 24. СССР в период послевоенного восстановления народного хозяйства (1945—1953). ....	1
Тема 25. СССР в период «оттепели» (1954—1964). ....	1
Тема 26. СССР в период «застоя» (1964—1984).....	1
Тема 27. Перестройка в СССР (1985—1991).....	1
Тема 28. Российская Федерация в 1991—2014 гг. ....	1
Тема 29. Экономическое развитие России в разные периоды.....	1
Ответы на тренировочные задания. ....	1

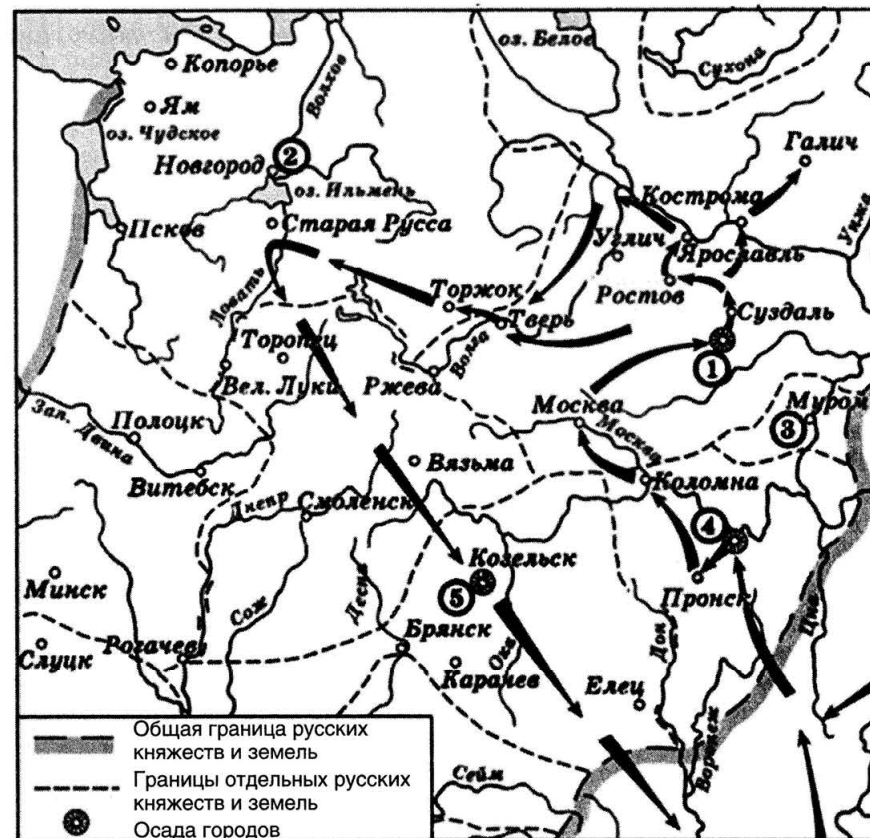
Пособие содержит варианты тестовых заданий по истории России для 10–11-х классов в формате ЕГЭ, направленных на выработку умения работать с исторической картой или схемой (задания B8, B9, B10, B11).

Задания составлены по основным темам курса истории России для 10–11-х классов с ответами и могут быть использованы для самостоятельной работы на уроке, организации текущего контроля и подготовки учащихся к ЕГЭ.

**В первом разделе пособия даны методические рекомендации по выполнению заданий В8–В11.**

**Во втором разделе пособия представлены тренировочные задания по основным блокам и темам курса истории России.**

## Примеры подобных заданий



Ответ:

ОТВЕТ:

OTHER:

**В11.** Какие суждения, относящиеся к событиям, обозначенным на схеме, являются верными? Выберите три суждения из шести предложенных. Запишите в бланк ответа цифры, под которыми они указаны:

- 1) завоеватели вторглись в пределы Руси в зимний период...;
  - 2) ни один из городов, захваченных завоевателями, не выдержал осады более одной недели ...;
  - 3) поход, обозначенный на схеме стрелками, длился около трех лет ...;
  - 4) одним из последствий событий, обозначенных на схеме, было начало раздробленности Древнерусского государства ...;
  - 5) в результате событий, обозначенных на схеме, русские земли попали в зависимость ...;
  - 6) полководец, поход которого обозначен на схеме, является основателем государства ...
- т:

--	--	--

Для выполнения задания В8 нужно соотнести изображение на схеме и легенду к ней. В левом нижнем углу схемы приведены условные обозначения общей границы княжеств и земель и границ отдельных русских княжеств и земель. Из этого следует, что изображенный на схеме поход относится к периоду феодальной раздробленности, т. е. к XII–XV вв.

Далее необходимо определить, какие враги напали на русские земли. В период раздробленности с востока на русские земли нападали вначале половцы, затем монголо-татары. Половцы дальше приграничных территорий не проникали. Следовательно, на схеме изображен поход монголо-татар на русские земли и княжества. Этот масштабный поход в период раздробленности состоялся всего один раз — в 1237–1238 гг. под руководством хана Батые.

Пишем в строку ответа на задание В8 в нашем примере: **БАТЫЙ**.

Для выполнения задания В9 нужно определить, что за город находился к северо-востоку от Москвы, неподалеку от Суздаля. Во время похода Батые, согласно схеме, город держал осаду, т. е. сопротивлялся долго. Такой город только Владимир, в то время главный город на северо-востоке Руси.

Пишем в строку ответа на задание В9 в нашем примере: **ВЛАДИМИР**.

Для выполнения задания В10 в нашем примере необходимо вспомнить, в какой земле в период похода Батые существовала республиканская форма правления. Сама формулировка задания говорит о том, что эта территория не являлась княжеством. Во времена раздробленности существовала только одна такая территория — Новгородская земля.

Пишем в строку ответа на задание В10 в нашем примере: **2**.

Для выполнения задания В11 в нашем примере необходимо выбрать три суждения из числа предложенных те, которые относятся к событиям, обозначенным на схеме.

Проверяем первое суждение — «завоеватели вторглись в пределы Руси в зимний период». Из схемы непонятно, в какое время года произошло вторжение. Для проверки верности суждения необходимо вспомнить, как проходило обозначенное на схеме вторжение в русские земли. Из летописных источников известно, что первым захваченным городом, захваченным монголо-татарами, были Рязань. Она была захвачена

21 декабря 1237 г., т. е. зимой. Следовательно, суждение является верным. Ставим в таблицу ответа цифру **1**.

Затем проверяем второе суждение — «ни один из городов, захваченных завоевателями, не выдержал осады более одной недели». На схеме обозначены три города, которые некоторое время держали осаду: Рязань, Владимир и Козельск. Из летописных источников известно, что Рязань сопротивлялась пять дней, Владимир — десять дней, а Козельск — полтора месяца. Как мы видим, два города из обозначенных на схеме, монголо-татары осаждали более одной недели. Следовательно, суждение является неверным.

Далее проверяем третье суждение — «поход, обозначенный на схеме стрелками, длился около трех лет». Из летописных источников известно, что Рязань монголо-татары взяли в декабре 1237 г., Владимир — в феврале 1238 г., а Козельск — весной 1238 г., после чего ушли в степи. Поход, как мы видим, продлился всего шесть месяцев, а не три года. Следовательно, суждение является неверным.

Проверяем четвертое суждение — «одним из последствий событий, обозначенных на схеме, было начало раздробленности Древнерусского государства». Из курса истории мы знаем, что Киевская Русь распалась на отдельные княжества в первой трети XII в. Поход, обозначенный на схеме, произошел в XIII в., т. е. на столетие позже. Следовательно, этот поход не мог привести к началу раздробленности Древнерусского государства, а значит, суждение является неверным.

Проверяем пятое суждение — «в результате событий, обозначенных на схеме, русские земли попали в зависимость». Из курса истории известно, что в 1240-х гг. к востоку от русских земель возникло новое государство — Золотая Орда. Русские княжества должны были платить Орде дань, поставлять воинов. Кроме того, ордынские ханы решали, кому из князей где княжить. Все это не что иное, как проявления политической зависимости русских княжеств от Золотой Орды. Следовательно, суждение является верным. Ставим в таблицу ответа цифру **5**.

Проверяем шестое суждение — «полководец, поход которого обозначен на схеме, является основателем государства». Из курса истории известно, что основателем нового государства — Золотой Орды — стал внук Чингисхана Батый, тот самый полководец, который зимой 1237–1238 гг. совершил поход в северо-восточные русские земли. Следовательно, суждение является верным. Ставим в таблицу ответа цифру **6**.

Таким образом, в нашем примере ответ должен выглядеть следующим образом: **156**.

## Раздел 2. ТРЕНИРОВОЧНЫЕ ЗАДАНИЯ

### Тема 1. История России с древнейших времен до середины IX в.

Рассмотрите схему и выполните задания В8–В11.



**В8.1.1.** Напишите название племенного союза славян, живших в месте, обозначенном цифрой 1.

Ответ: \_\_\_\_\_

**В9.1.1.** Напишите название города, обозначенного на схеме цифрой 2.

Ответ: \_\_\_\_\_

**В10.1.1.** Напишите цифру, обозначающую народ, которому в VIII–IX вв. часть восточнославянских племен платили дань.

Ответ: \_\_\_\_\_

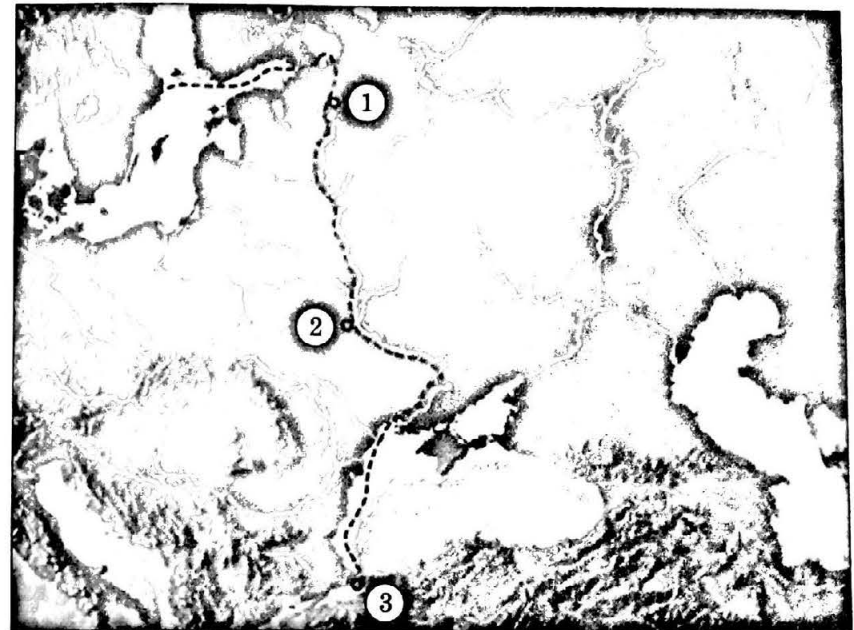
**В11.1.1.** Какие суждения, относящиеся к событиям, обозначенным на схеме, являются верными? Выберите три суждения из шести предложенных. Запишите в таблицу цифры, под которыми они указаны:

- 1) обозначенные на схеме племенные союзы славян возникли в VI–VIII вв.;
- 2) обозначенные на схеме племенные союзы славян были язычниками;
- 3) обозначенные на схеме племенные союзы славян были христианами;
- 4) обозначенные на схеме племенные союзы славян не имели письменности;
- 5) обозначенные на схеме племенные союзы не занимались земледелием;
- 6) обозначенные на схеме племенные союзы платили дань Византии.

Ответ:

--	--	--

Рассмотрите схему и выполните задания В8–В11.



**В8.1.2.** Напишите название торгового пути, обозначенного на схеме пунктиром.

Ответ: \_\_\_\_\_

**В9.1.2.** Напишите название города, обозначенного на схеме цифрой 2.

Ответ: \_\_\_\_\_

**В10.1.2.** Напишите цифру, которой обозначен город, являвшийся в VI–VIII вв. столицей империи.

Ответ: \_\_\_\_\_

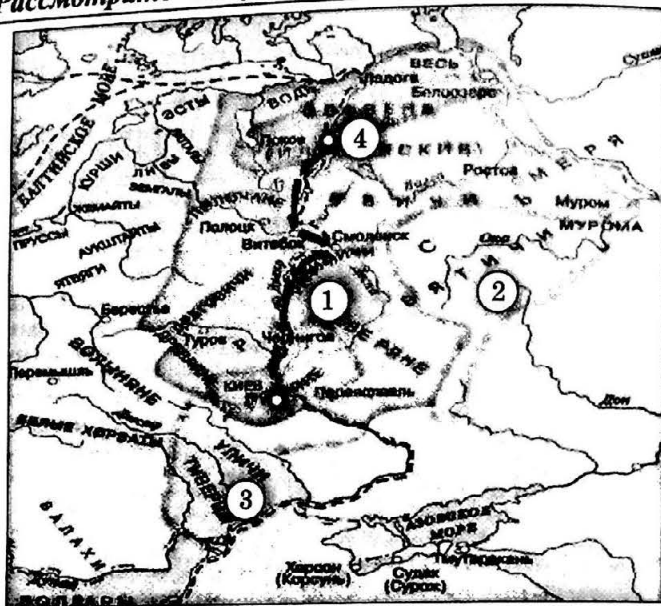
**В11.1.2.** Какие суждения, относящиеся к событиям, обозначенным на схеме, являются верными? Выберите три суждения из шести предложенных. Запишите в таблицу цифры, под которыми они указаны:

- 1) торговый путь, обозначенный на схеме, связывал Северную Европу с Персией;
- 2) торговый путь, обозначенный на схеме, зародился в VIII–IX вв.;
- 3) торговый путь, обозначенный на схеме, проходил через земли, населенные германскими племенами;
- 4) торговый путь, обозначенный на схеме, действовал круглый год;
- 5) торговый путь, обозначенный на схеме, потерял свое значение в XI в.;
- 6) появление обозначенного на схеме торгового пути является одной из предпосылок образования Древнерусского государства.

Ответ:

--	--	--





Ответ: \_\_\_\_\_.

Ответ: \_\_\_\_\_.

Ответ: \_\_\_\_\_.

1) обозначенный на схеме поход состоялся в ходе борьбы за первенство древнерусских государственных центров;

2) поход, обозначенный на схеме стрелками, длился более трех лет;

3) в результате похода Русь стала контролировать торговый путь по Волге;

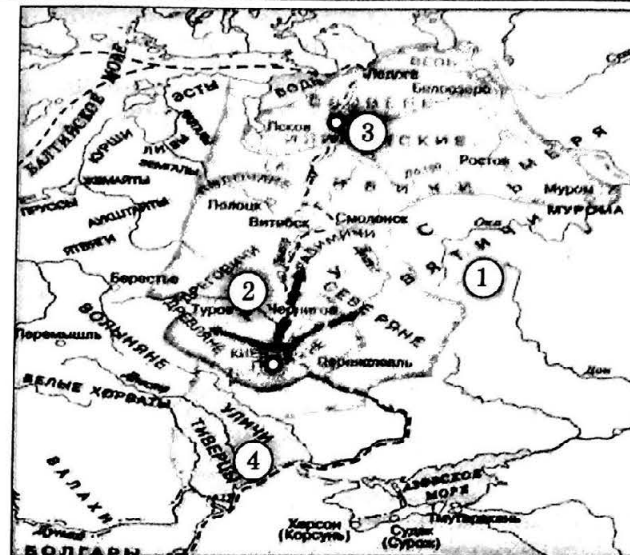
4) одним из последствий событий, обозначенных на схеме, было провозглашение Киева столицей Древнерусского государства:

5) в результате событий, обозначенных на схеме, русские земли попали в зависимость от Византии;

б) полководец, поход которого обозначен на схеме, является основателем Древнерусского государства.

**Отвеч:**

**Рассмотрите схему и выполните задания В8–В11.**



Ответ: \_\_\_\_\_.

Ответ:

Ответ: \_\_\_\_\_.

1) полководец, поход которого обозначен на схеме, является основателем Древнерусского государства;

3) в результате похода был установлен контроль Руси над Днепром;;

4) одним из последствий событий, обозначенных на схеме, было образование единого Древнерусского государства;

5) походы, обозначенные на схеме стрелками, состоялись в течение трех лет;

6) обозначенные на схеме походы состоялись в ходе борьбы за первенство древнерусских государственных центров.

**Ответ:**



Рассмотрите схему и выполните задания В8–В11.



**В8.2.3.** Напишите название мероприятия, маршрут которого обозначен на схеме стрелками.

Ответ: \_\_\_\_\_.

**В9.2.3.** Напишите название города, обозначенного на схеме цифрой 2.

Ответ: \_\_\_\_\_.

**В10.2.3.** Напишите цифру, которой обозначена территория проживания племени, во время восстания которого погиб киевский князь.

Ответ: \_\_\_\_\_.

**В11.2.3.** Какие суждения, относящиеся к событиям, обозначенным на схеме, являются верными? Выберите три суждения из шести предложенных. Запишите в таблицу цифры, под которыми они указаны:

- 1) на схеме обозначен военный поход князя Олега с целью объединения восточнославянских племен под властью Киева;
- 2) мероприятие, маршрут которого обозначен на схеме стрелками, продолжалось с ноября по март;
- 3) частично маршрут обозначенного на схеме мероприятия проходил по торговому пути «из варяг в греки»;
- 4) одним из последствий мероприятия, маршрут которого обозначен на схеме стрелками, было вхождение в состав Руси новых земель;
- 5) в результате мероприятия, маршрут которого обозначен на схеме стрелками, русские земли попали в зависимость от Византии;
- 6) с середины X в. мероприятие, маршрут которого обозначен на схеме стрелками, не проводилось.

Ответ:

--	--	--

Рассмотрите схему и выполните задания В8–В11.



**В8.2.4.** Напишите имя полководца, совершившего поход, обозначенный на схеме стрелками.

Ответ: \_\_\_\_\_.

**В9.2.4.** Напишите название города, обозначенного на схеме цифрой 4.

Ответ: \_\_\_\_\_.

**В10.2.4.** Напишите цифру, которой обозначено государство, уничтоженное русским войском в том же веке, в котором состоялся поход, обозначенный на схеме.

Ответ: \_\_\_\_\_.

**В11.2.4.** Какие суждения, относящиеся к событиям, обозначенным на схеме, являются верными? Выберите три суждения из шести предложенных. Запишите в таблицу цифры, под которыми они указаны:

- 1) на схеме обозначен военный поход с целью объединения восточно-славянских племен под властью Киева;
- 2) поход, обозначенный на схеме стрелками, состоялся в начале X в.;
- 3) частично маршрут обозначенного на схеме похода проходил по торговому пути «из варяг в греки»;
- 4) одним из последствий похода, маршрут которого обозначен на схеме стрелками, было вхождение в состав Руси новых земель;
- 5) в результате похода, маршрут которого обозначен на схеме стрелками, русские земли попали в зависимость от Византии;
- 6) до середины IX века походы, подобные тому, маршрут которого обозначен на схеме стрелками, не проводились.

Ответ:

--	--	--

Рассмотрите схему и выполните задания В8–В11.



**В8.2.5.** Напишите имя полководца, совершившего походы, обозначенные на схеме стрелками.

Ответ: \_\_\_\_\_.

**В9.2.5.** Напишите название государства, обозначенного на схеме цифрой 1.

Ответ: \_\_\_\_\_.

**В10.2.5.** Напишите цифру, которой обозначены территории, вошедшие в состав Руси при князе, совершившем обозначенные на схеме походы.

Ответ: \_\_\_\_\_.

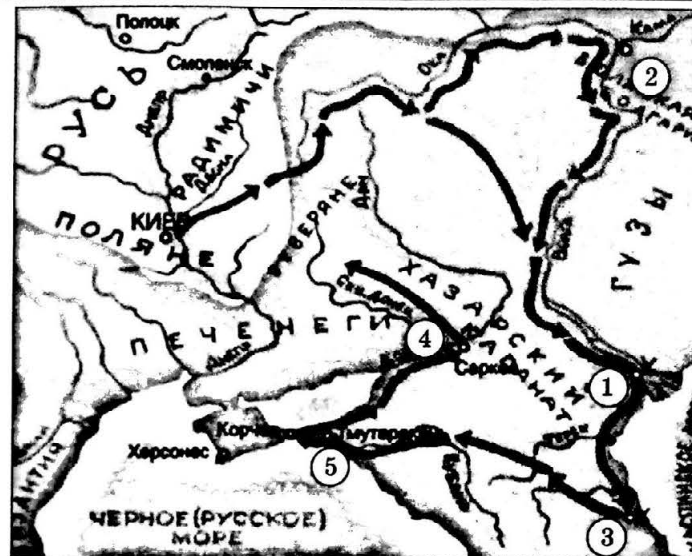
**В11.2.5.** Какие суждения, относящиеся к событиям, обозначенным на схеме, являются верными? Выберите три суждения из шести предложенных. Запишите в таблицу цифры, под которыми они указаны:

- 1) на схеме обозначены военные походы с целью объединения восточно-славянских племен под властью Киева;
- 2) походы, обозначенные на схеме, состоялись в первой половине X в.;
- 3) частично маршрут обозначенного на схеме похода проходил по торговому пути «из варяг в греки»;
- 4) одним из последствий похода, маршрут которого обозначен на схеме стрелками, было вхождение в состав Руси новых земель;
- 5) в результате одного из походов, маршрут которых обозначен на схеме стрелками, Русь заключила договор с Византией;
- 6) до середины X в. походы, подобные тому, маршрут которого обозначен на схеме стрелками, не проводились.

Ответ:

--	--	--

Рассмотрите схему и выполните задания В8–В11.



**В8.2.6.** Напишите имя полководца, осуществившего поход, обозначенный на схеме стрелками.

Ответ: \_\_\_\_\_.

**В9.2.6.** Напишите название города, обозначенного на схеме цифрой 1.

Ответ: \_\_\_\_\_.

**В10.2.6.** Напишите цифру, которой обозначен город, ставший вскоре после похода, обозначенного на карте, столицей русского княжества.

Ответ: \_\_\_\_\_.

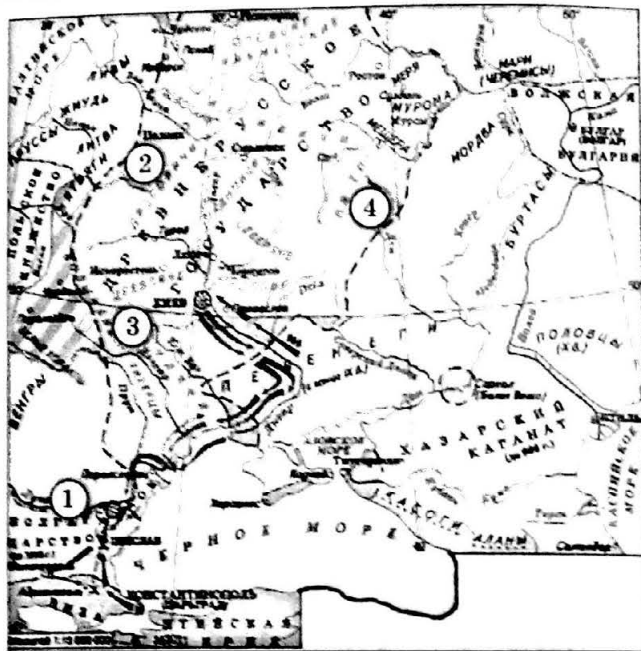
**В11.2.6.** Какие суждения, относящиеся к событиям, обозначенным на схеме, являются верными? Выберите три суждения из шести предложенных. Запишите в таблицу цифры, под которыми они указаны:

- 1) одно из государств, обозначенных на схеме, после этого похода перестало существовать;
- 2) поход, обозначенный на схеме стрелками, длился более трех лет;
- 3) в результате похода был установлен контроль Руси над волжским торговым путем;
- 4) одним из последствий событий, обозначенных на схеме, было вхождение в состав Древнерусского государства новых земель;
- 5) в результате событий, обозначенных на схеме, русские земли попали в зависимость от одного из государств, обозначенных на схеме;
- 6) полководец, поход которого обозначен на схеме, является основателем Древнерусского государства.

Ответ:

--	--	--

Рассмотрите схему и выполните задания В8–В11.



**В8.2.7.** Напишите имя полководца, осуществившего поход, обозначенный на схеме стрелками.

Ответ: \_\_\_\_\_

**В9.2.7.** Напишите название города, обозначенного на схеме цифрой 1.

Ответ: \_\_\_\_\_

**В10.2.7.** Напишите цифру, которой обозначено племя славян, подчиненное Киеву полководцем, совершившим поход, обозначенный на схеме.

Ответ: \_\_\_\_\_

**В11.2.7.** Какие суждения, относящиеся к событиям, обозначенным на схеме, являются верными? Выберите три суждения из шести предложенных. Запишите в таблицу цифры, под которыми они указаны:

- 1) цели обозначенного на схеме похода не были достигнуты;
- 2) походы, обозначенные на схеме стрелками, длились около двух лет;
- 3) в результате похода был установлен контроль Руси над волжским торговым путем;
- 4) одним из последствий событий, обозначенных на схеме, было вхождение в состав Древнерусского государства новых земель;
- 5) в результате событий, обозначенных на схеме, русские земли попали в зависимость от Хазарского каганата;
- 6) полководец, чьи походы обозначены на схеме, погиб во время охоты.

Ответ:

--	--	--

Рассмотрите схему и выполните задания В8–В11.



**В8.2.8.** Напишите имя полководца, осуществившего походы, обозначенные на схеме стрелками.

Ответ: \_\_\_\_\_

**В9.2.8.** Напишите название города, обозначенного на схеме цифрой 3.

Ответ: \_\_\_\_\_

**В10.2.8.** Напишите цифру, которой обозначены территории, вошедшие в состав России после походов, обозначенных на схеме.

Ответ: \_\_\_\_\_

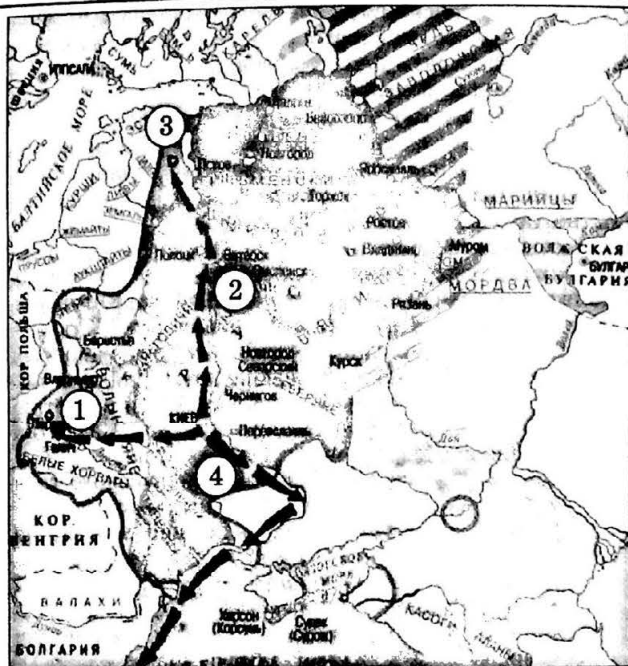
**В11.2.8.** Какие суждения, относящиеся к событиям, обозначенным на схеме, являются верными? Выберите три суждения из шести предложенных. Запишите в таблицу цифры, под которыми они указаны:

- 1) в результате походов, обозначенных на схеме, Русь стала империей;
- 2) походы, обозначенные на схеме стрелками, возглавлял киевский князь;
- 3) в результате одного из походов Русь приняла христианство;
- 4) одним из последствий походов, обозначенных на схеме, было вхождение в состав Руси новых земель;
- 5) обозначенные на схеме походы были проведены в конце X в.;
- 6) полководец, чьи походы обозначены на схеме, погиб в одном из них.

Ответ:

--	--	--

Рассмотрите схему и выполните задания В8–В11.



**В8.3.1.** Напишите имя полководца, совершившего походы, обозначенные на схеме стрелками.

Ответ: \_\_\_\_\_

**В9.3.1.** Напишите название кочевых племен, разгромленных этим полководцем в месте, обозначенном на схеме цифрой 4.

Ответ: \_\_\_\_\_

**В10.3.1.** Напишите цифру, которой на схеме обозначен город, основанный этим полководцем.

Ответ: \_\_\_\_\_

**В11.3.1.** Какие суждения, относящиеся к событиям, обозначенным на схеме, являются верными? Выберите три суждения из шести предложенных. Запишите в таблицу цифры, под которыми они указаны:

- 1) в одном из походов, обозначенных на схеме, Русь воевала с Византией;
- 2) походы, обозначенные на схеме стрелками, возглавлял киевский князь;
- 3) в одном из походов, обозначенных на схеме, Русь разбила Хазарский каганат;
- 4) в результате походов, обозначенных на схеме, Русь потеряла территории;
- 5) обозначенные на схеме походы были проведены в первой половине XI в.;
- 6) полководец, чьи походы обозначены на схеме, погиб во время охоты.

Ответ:

Рассмотрите схему и выполните задания В8–В11.



**В8.3.2.** Напишите имя князя, при котором сложилась территория Киевской Руси, обозначенная на схеме границей.

Ответ: \_\_\_\_\_

**В9.3.2.** Напишите название города, обозначенного на схеме цифрой 1.

Ответ: \_\_\_\_\_

**В10.3.2.** Напишите название города, родовой вотчины князя, совершившего поход, обозначенный на схеме цифрой 4.

Ответ: \_\_\_\_\_

**В11.3.2.** Какие суждения, относящиеся к событиям, обозначенным на схеме, являются верными? Выберите три суждения из шести предложенных. Запишите в таблицу цифры, под которыми они указаны:

- 1) на схеме обозначены военные походы киевского князя с целью объединения восточнославянских племен под властью Киева;
- 2) походы, обозначенные на схеме стрелками, состоялись в конце XI в.;
- 3) во время походов, обозначенных на схеме, великим князем был Всеволод Ярославич;
- 4) после походов, обозначенных на схеме, Русь потеряла часть территории;
- 5) на схеме обозначены события междоусобицы русских князей;
- 6) походы, обозначенные на схеме, состоялись в первой четверти XI в.

Ответ:



Рассмотрите схему и выполните задания В8–В11.



**В8.3.3.** Напишите имя полководца, совершившего походы, обозначенные на схеме стрелками.

Ответ: \_\_\_\_\_

**В9.3.3.** Напишите название города, обозначенного на схеме цифрой 1.

Ответ: \_\_\_\_\_

**В10.3.3.** Напишите название города, обозначенного на схеме цифрой 2.

Ответ: \_\_\_\_\_

**В11.3.3.** Какие суждения, относящиеся к событиям, обозначенным на схеме, являются верными? Выберите три суждения из шести предложенных. Запишите в таблицу цифры, под которыми они указаны:

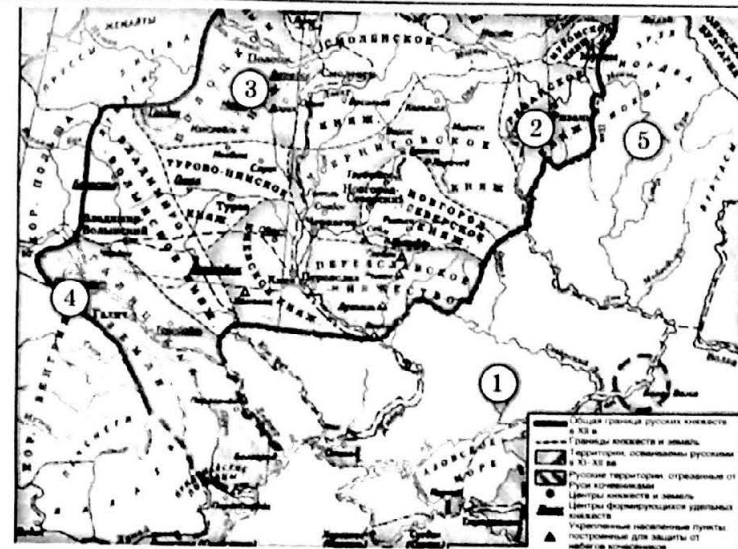
- 1) в одном из походов, обозначенных на схеме, Русь воевала с Византией;
- 2) походы, обозначенные на схеме стрелками, возглавлял киевский князь;
- 3) в одном из походов, обозначенных на схеме, Русь разбила Хазарский каганат;
- 4) в результате походов, обозначенных на схеме, Русь потеряла территории;
- 5) обозначенные на схеме походы были проведены в первой половине XI в.;
- 6) полководец, чьи походы обозначены на схеме, был убит в результате заговора.

Ответ:

--	--	--

Тема 4. Русские земли в первой трети XII — первой трети XIII в.

Рассмотрите схему и выполните задания В8–В11.



**В8.4.1.** Напишите название периода истории России, к которому относится представленная схема.

Ответ: \_\_\_\_\_

**В9.4.1.** Напишите, какие кочевые племена, проживавшие на территории, обозначены на схеме цифрой 1.

Ответ: \_\_\_\_\_

**В10.4.1.** Напишите цифру, обозначающую землю, где в период, к которому относится представленная схема, шла борьба князей и бояр за власть.

Ответ: \_\_\_\_\_

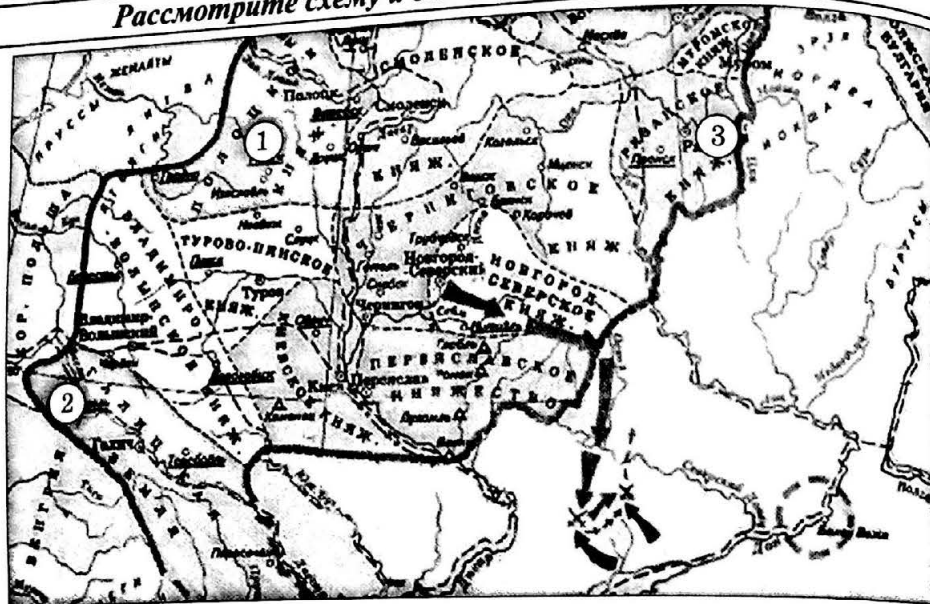
**В11.4.1.** Какие суждения, относящиеся к событиям, обозначенным на схеме, являются верными? Выберите три суждения из шести предложенных. Запишите в таблицу цифры, под которыми они указаны:

- 1) в рассматриваемый период на Руси усилилось влияние Польши;
- 2) в рассматриваемый период на Руси часто происходили волнения на религиозной почве, возглавляемые языческими волхвами;
- 3) наиболее крупными политическими центрами русских земель в рассматриваемый период были Владимир, Новгород, Галич;
- 4) в рассматриваемый период участие в междоусобицах на Руси всегда принимали иностранные государства;
- 5) в рассматриваемый период на Русь часто совершали набеги кочевники;
- 6) в рассматриваемый период на Руси часто происходили междоусобицы.

Ответ:

--	--	--





**В8.4.2.** Напишите имя полководца, совершившего поход, обозначенный на карте стрелками.

Ответ: \_\_\_\_\_

**В9.4.2.** Напишите название кочевых племен, против которых был совершен обозначенный на карте поход.

Ответ: \_\_\_\_\_

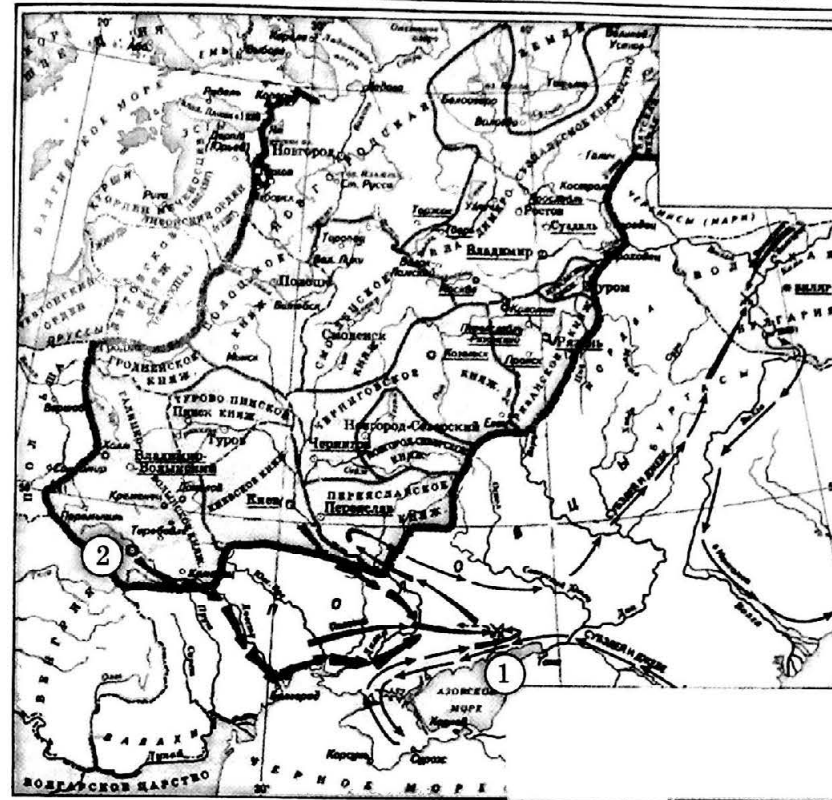
**В10.4.2.** Напишите цифру, которой обозначено княжество, где в период обозначенного на карте похода происходила борьба князей с боярством.

Ответ: \_\_\_\_\_

**В11.4.2.** Какие суждения, относящиеся к событиям, обозначенным на схеме, являются верными? Выберите три суждения из шести предложенных. Запишите в таблицу цифры, под которыми они указаны:

- 1) полководец, совершивший обозначенный на карте поход, был великим киевским князем;
- 2) поход закончился поражением русского войска и пленением князя, возглавлявшего русское войско;
- 3) полководец, совершивший обозначенный на карте поход, являлся потомком Ярослава Мудрого;
- 4) главным сражением обозначенного на карте похода стала битва на реке Калке;
- 5) об этом походе позднее было создано крупное литературное произведение;
- 6) поход, обозначенный на карте, состоялся в начале XI в. и носил общерусский характер.

Ответ: \_\_\_\_\_



**В8.4.3.** Напишите год, когда произошли события, обозначенные на схеме.

Ответ: \_\_\_\_\_

**В9.4.3.** Напишите название реки, на которой произошло сражение, обозначенное на схеме цифрой 1.

Ответ: \_\_\_\_\_

**В10.4.3.** Напишите название города, обозначенного на схеме цифрой 2.

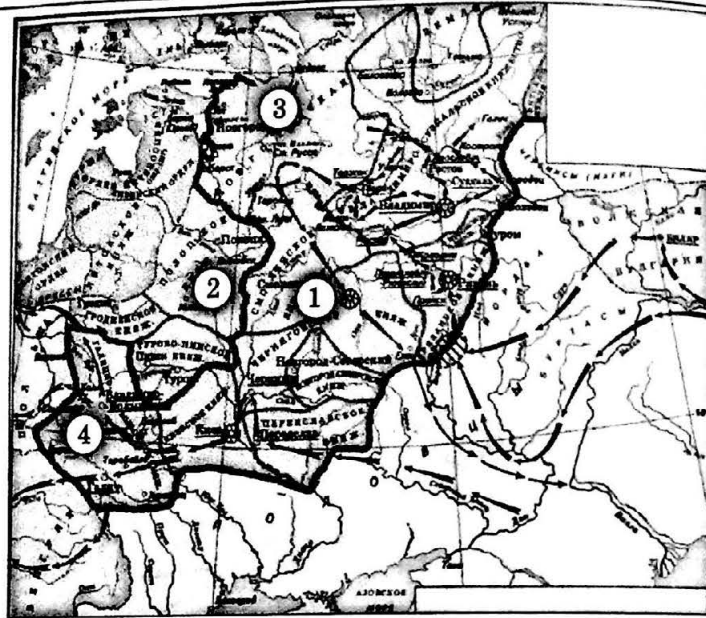
Ответ: \_\_\_\_\_

**В11.4.3.** Какие суждения, относящиеся к событиям, обозначенным на схеме, являются верными? Выберите три суждения из шести предложенных. Запишите в таблицу цифры, под которыми они указаны:

- 1) русское войско возглавлял великий киевский князь;
- 2) поход закончился поражением русского войска;
- 3) обозначенный на карте поход носил общерусский характер;
- 4) поход, обозначенный на карте, состоялся в первой трети XII в.;
- 5) об этом походе позднее было создано крупное литературное произведение;
- 6) поход, обозначенный на карте, состоялся в конце XI в.

Ответ: \_\_\_\_\_

Рассмотрите схему и выполните задания В8–В11.



**В8.5.1.** Напишите имя полководца, осуществившего походы, обозначенные на карте.

Ответ: \_\_\_\_\_.

**В9.5.1.** Напишите города, обозначенного на схеме цифрой 1.

Ответ: \_\_\_\_\_.

**В10.5.1.** Напишите цифру, которой обозначена территория, где в период данного похода существовала республиканская форма правления.

Ответ: \_\_\_\_\_.

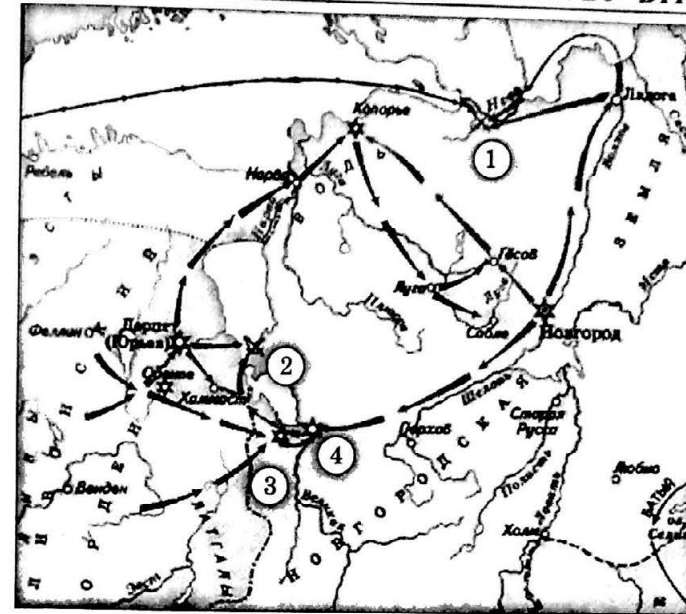
**В11.5.1.** Какие суждения, относящиеся к событиям, обозначенным на схеме, являются верными? Выберите три суждения из шести предложенных. Запишите в таблицу цифры, под которыми они указаны:

- 1) завоеватели вторгались в пределы русских земель летом;
- 2) города, захваченные завоевателями, не выдержали осады более недели;
- 3) походы, обозначенные на схеме, длились в общей сложности около 5 лет;
- 4) одним из последствий событий, обозначенных на схеме, было начало раздробленности Древнерусского государства;
- 5) полководец, чьи походы обозначены на схеме, основал государство;
- 6) в результате событий, обозначенных на схеме, русские земли попали в зависимость от Ливонского ордена.

Ответ:

--	--	--

Рассмотрите схему и выполните задания В8–В11.



**В8.5.2.** Напишите имя полководца, проведенного обозначенные на схеме походы.

Ответ: \_\_\_\_\_.

**В9.5.2.** Напишите название сражения, обозначенного на схеме цифрой 2.

Ответ: \_\_\_\_\_.

**В10.5.2.** Напишите цифру, которой обозначен город Псков.

Ответ: \_\_\_\_\_.

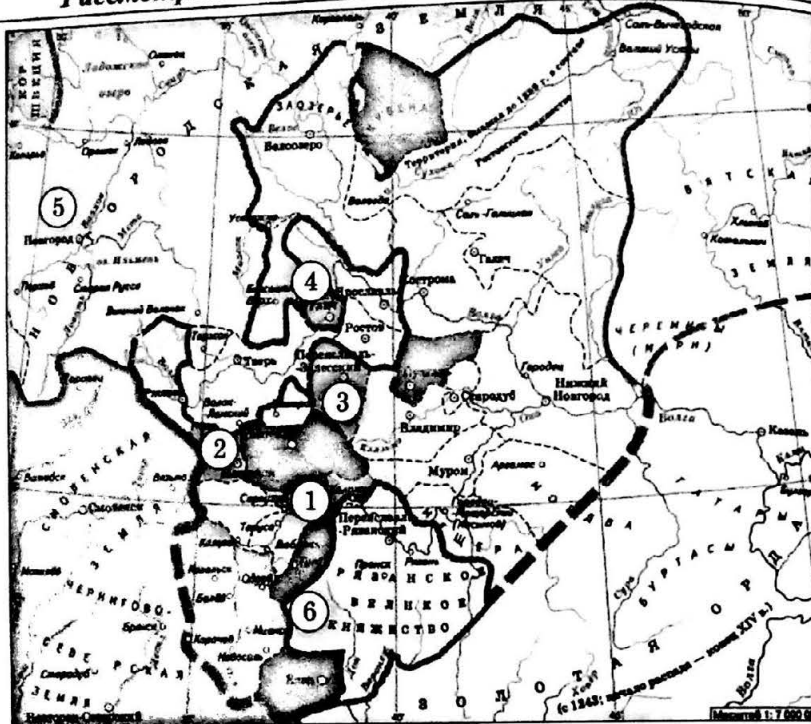
**В11.5.2.** Какие суждения, относящиеся к событиям, обозначенным на схеме, являются верными? Выберите три суждения из шести предложенных. Запишите в таблицу цифры, под которыми они указаны:

- 1) в битве, обозначенной на схеме цифрой 1, сражались морские флоты;
- 2) полководец, осуществивший обозначенные на карте походы, являлся приглашенным князем в Новгороде;
- 3) союзником иноземных захватчиков, разгромленных в ходе обозначенных на карте походов, являлся хан Батый;
- 4) полководец, осуществивший обозначенные на карте походы, являлся сыном великого князя владимирского;
- 5) благодаря успешности походов, обозначенных на карте, полководец стал единоличным правителем в Новгороде;
- 6) в результате походов, обозначенных на карте, было остановлено продвижение крестоносцев на восток.

Ответ:

--	--	--

Рассмотрите схему и выполните задания В8–В11.



**В8.5.3.** Напишите имя князя, присоединившего к Московскому княжеству земли, обозначенные на схеме цифрой 1.

Ответ: \_\_\_\_\_.

**В9.5.3.** Напишите имя князя, присоединившего к Московскому княжеству земли, обозначенные на схеме цифрой 2.

Ответ: \_\_\_\_\_.

**В10.5.3.** Напишите две цифры, которыми обозначены земли, вошедшие в состав Московского княжества при Иване Калите.

Ответ: \_\_\_\_\_.

**В11.5.3.** Какие суждения, относящиеся к событиям, обозначенным на схеме, являются верными? Выберите три суждения из шести предложенных. Запишите в таблицу цифры, под которыми они указаны:

- 1) на карте изображены этапы объединения русских земель вокруг Москвы;
- 2) в XIV в. объединению земель вокруг Москвы не препятствовала Золотая Орда;
- 3) объединение русских земель вокруг Москвы происходило мирно;
- 4) в XIV в. отсутствовала внешняя угроза Московскому княжеству;
- 5) объединению русских земель вокруг Москвы препятствовала Литва;
- 6) позже других к Московскому княжеству была присоединена Рязань.

Ответ:

--	--	--

Рассмотрите схему и выполните задания В8–В11.



**В8.5.4.** Напишите название реки, где произошло сражение, обозначенное на схеме цифрой 1.

Ответ: \_\_\_\_\_.

**В9.5.4.** Напишите название реки, где произошло сражение, обозначенное на схеме цифрой 2.

Ответ: \_\_\_\_\_.

**В10.5.4.** Напишите имя русского князя, совершившего поход, обозначенный на схеме цифрой 3.

Ответ: \_\_\_\_\_.

**В11.5.4.** Какие суждения, относящиеся к событиям, обозначенным на схеме, являются верными? Выберите три суждения из шести предложенных. Запишите в таблицу цифры, под которыми они указаны:

- 1) одним из последствий событий, обозначенных на схеме, было начало раздробленности Московского княжества;
- 2) одним из последствий событий, обозначенных на схеме, было возвышение Московского княжества;
- 3) противником русского войска в сражениях, обозначенных на схеме цифрами 1 и 2, являлось войско Золотой Орды;
- 4) в результате обозначенных на схеме событий Русь освободилась от ордынского ига;
- 5) союзниками московского войска были войска Литовского княжества;
- 6) обозначенные на схеме события ослабили власть Золотой Орды над Русью.

Ответ:

--	--	--



Тема 6. Борьба Руси за единство и независимость в XIV–XV вв.

Рассмотрите схему и выполните задания В8–В11.



**В8.6.1.** Напишите имя русского полководца, совершившего поход, обозначенный на схеме.

Ответ: \_\_\_\_\_.

**В9.6.1.** Напишите название города, обозначенного на схеме цифрой 2.

Ответ: \_\_\_\_\_.

**В10.6.1.** Напишите цифру, которой обозначено княжество, войско которого не принимало участия в обозначенном на схеме походе.

Ответ: \_\_\_\_\_.

**В11.6.1.** Какие суждения, относящиеся к событиям, обозначенным на схеме, являются верными? Выберите три суждения из шести предложенных. Запишите в таблицу цифры, под которыми они указаны:

- 1) в результате обозначенных на схеме событий все русские княжества и земли вошли в состав Московского княжества;
- 2) одним из последствий событий, обозначенных на схеме, было начало раздробленности Московского княжества;
- 3) противником русского войска в обозначенных на схеме событиях являлось войско Золотой Орды;
- 4) в результате обозначенных на схеме событий Русь освободилась от ордынского ига;
- 5) союзниками противника московского войска были войска некоторых европейских государств;
- 6) итогом обозначенных на схеме событий стало ослабление Золотой Орды.

Ответ:

--	--	--

Рассмотрите схему и выполните задания В8–В11.



**В8.6.2.** Напишите имя князя, выступившего инициатором конфликта, обозначенного на схеме.

Ответ: \_\_\_\_\_.

**В9.6.2.** Напишите цифру, которой обозначен город, являвшийся владением князя, инициатора обозначенного на схеме конфликта.

Ответ: \_\_\_\_\_.

**В10.6.2.** Напишите название города, обозначенного на схеме цифрой 2.

Ответ: \_\_\_\_\_.

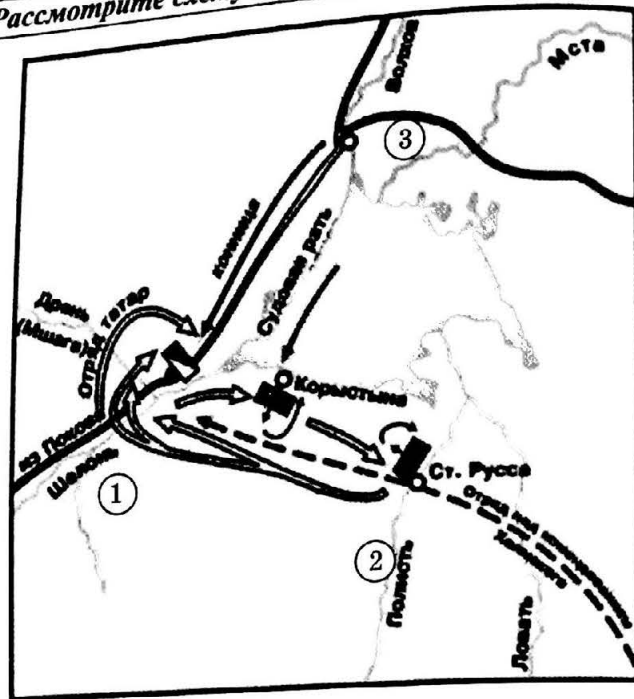
**В11.6.2.** Какие суждения, относящиеся к событиям, обозначенным на схеме, являются верными? Выберите три суждения из шести предложенных. Запишите в таблицу цифры, под которыми они указаны:

- 1) причиной обозначенных на схеме событий стали противоречия из-за порядка наследования великокняжеского престола;
- 2) в результате обозначенных на схеме событий Русь освободилась от ордынского ига;
- 3) в событиях, обозначенных на схеме, участвовало войско Золотой Орды;
- 4) одним из последствий событий, обозначенных на схеме, было усиление раздробленности Московского княжества;
- 5) союзниками противника московского князя были новгородцы;
- 6) итогом обозначенных на схеме событий стало ослабление Золотой Орды.

Ответ:

--	--	--

Рассмотрите схему и выполните задания В8–В11.



**В8.6.3.** Напишите имя полководца, возглавлявшего русское войско в походе представленном на схеме.

Ответ: \_\_\_\_\_

**В9.6.3.** Напишите цифру, которой обозначена река, где произошло решающее сражение представленного на схеме похода.

Ответ: \_\_\_\_\_

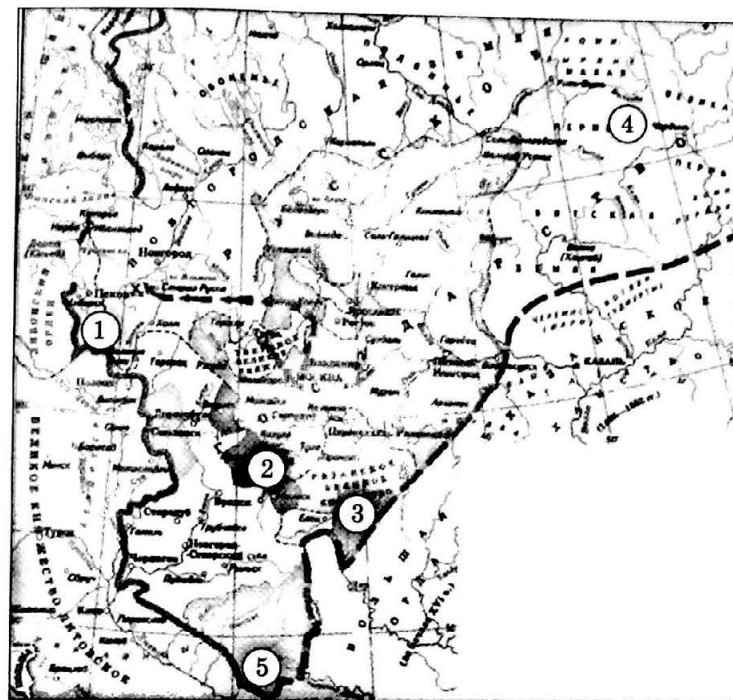
**В10.6.3.** Напишите название города, обозначенного на схеме цифрой 3.

**В11.6.3.** Какие суждения, относящиеся к событиям, обозначенным на схеме, являются верными? Выберите три суждения из шести предложенных. Запишите в таблицу цифры, под которыми они указаны:

- 1) обозначенный на схеме поход состоялся в ходе войны с крестоносцами;
- 2) событие, обозначенное на схеме, относится к периоду политической раздробленности Российского государства;
- 3) вскоре после события, обозначенного на схеме, Россия освободилась от власти Золотой Орды;
- 4) одним из последствий событий, обозначенных на схеме, было начало политической раздробленности Российского государства;
- 5) русскую армию возглавлял правитель Российского государства;
- 6) в результате событий, обозначенных на схеме, Россия потеряла часть территории.

Ответ: \_\_\_\_\_

Рассмотрите схему и выполните задания В8–В11.



**В8.6.4.** Напишите имя князя, совершившего обозначенные на схеме походы.

Ответ: \_\_\_\_\_

**В9.6.4.** Напишите две цифры, которыми обозначены земли, вошедшие в состав Московского княжества при князе, совершившем обозначенные на схеме походы.

Ответ: \_\_\_\_\_

**В10.6.4.** Напишите название реки, где произошло обозначенное на схеме сражение.

Ответ: \_\_\_\_\_

**В11.6.4.** Какие суждения, относящиеся к событиям, обозначенным на схеме, являются верными? Выберите три суждения из шести предложенных. Запишите в таблицу цифры, под которыми они указаны:

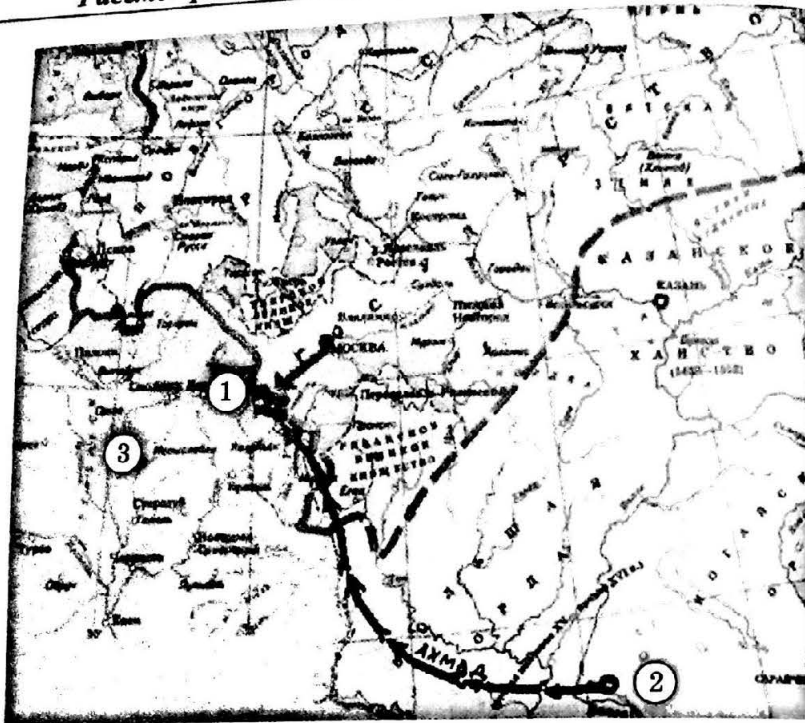
- 1) на карте изображены этапы объединения русских земель вокруг Москвы;
- 2) во время обозначенных событий Московское княжество не воевало с Золотой Ордой;
- 3) объединение русских земель вокруг Москвы происходило мирно;
- 4) в XV в. существовала внешняя угроза Московскому княжеству;
- 5) объединению русских земель вокруг Москвы препятствовала Литва;
- 6) в ходе обозначенного на карте процесса в Московском княжестве был принят единый свод законов.

Ответ: \_\_\_\_\_

--	--	--



Рассмотрите схему и выполните задания В8–В11.



**В8.6.5.** Напишите название реки, обозначенной на схеме цифрой 1.

Ответ: \_\_\_\_\_

**В9.6.5.** Напишите название города, обозначенного на схеме цифрой 2.

Ответ: \_\_\_\_\_

**В10.6.5.** Напишите название государства, обозначенного на схеме цифрой 3.

Ответ: \_\_\_\_\_

**В11.6.5.** Какие суждения, относящиеся к событиям, обозначенным на схеме, являются верными? Выберите три суждения из шести предложенных. Запишите в таблицу цифры, под которыми они указаны:

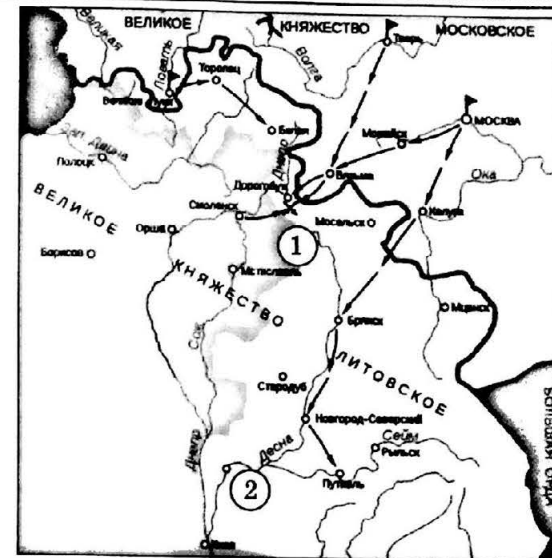
- 1) противником России в обозначенных на схеме событиях являлись полковцы;
- 2) одним из последствий событий, обозначенных на схеме, было разделение Московского княжества на уделы;
- 3) московский князь, в правление которого происходили обозначенные на схеме события, стал учредителем нового свода законов;
- 4) в результате обозначенных на схеме событий Русь свергла ордынское иго;
- 5) в результате обозначенных на схеме событий в состав Московского государства вошли земли Рязанского княжества;
- 6) одним из последствий событий, обозначенных на схеме, стал окончательный распад Золотой Орды.

Ответ:

--	--	--

Тема 7. Россия в XVI в.

Рассмотрите схему и выполните задания В8–В11.



**В8.7.1.** Напишите имя полководца, возглавлявшего русское войско в войне, представленной на схеме.

Ответ: \_\_\_\_\_

**В9.7.1.** Напишите название реки, где произошло сражение, обозначенное на схеме цифрой 1.

Ответ: \_\_\_\_\_

**В10.7.1.** Напишите название города, обозначенного на схеме цифрой 2.

Ответ: \_\_\_\_\_

**В11.7.1.** Какие суждения, относящиеся к событиям, обозначенным на схеме, являются верными? Выберите три суждения из шести предложенных. Запишите в таблицу цифры, под которыми они указаны:

- 1) в ходе обозначенной на карте войны русские сражались с крестоносцами;
- 2) в ходе обозначенной на карте войны Россия потерпела поражение;
- 3) война, ход которой обозначен на схеме, длилась три года;
- 4) одним из последствий событий, обозначенных на схеме, было начало раздробленности Российского государства;
- 5) полководец, возглавлявший русскую армию, не являлся правителем государства;
- 6) в результате событий, обозначенных на схеме, Россия вернула себе часть древнерусских земель.

Ответ:

--	--	--





В8.7.2. Напишите имя русского царя, в правление которого происходили обозначенные на схеме военные действия.

Ответ: \_\_\_\_\_

В9.7.2. Напишите название города, обозначенного на схеме цифрой 3.

Ответ: \_\_\_\_\_

В10.7.2. Напишите цифру, которой обозначено место крупного поражения русских войск в ходе обозначенных на схеме военных действий.

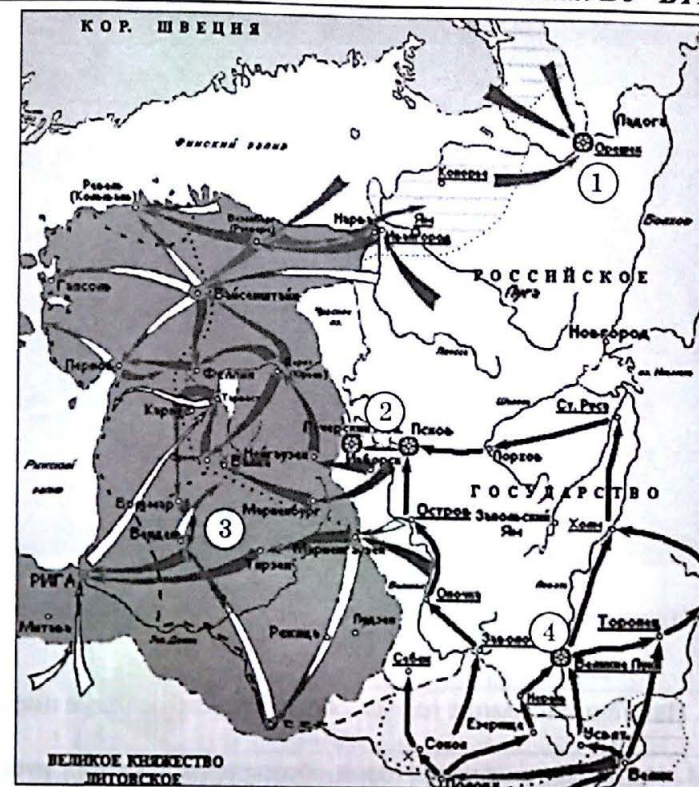
Ответ: \_\_\_\_\_

В11.7.2. Какие суждения, относящиеся к событиям, обозначенным на схеме, являются верными? Выберите три суждения из шести предложенных. Запишите в таблицу цифры, под которыми они указаны:

- 1) инициатором войны, обозначенной на схеме, была Литва;
- 2) все города, обозначенные цифрами, не выдержали осады более недели;
- 3) война, ход которой обозначен на схеме, длилась, в общей сложности два года;
- 4) война, обозначенная на схеме, состоялась в годы правления Василия III;
- 5) одной из причин войны, обозначенной на схеме, стало стремление вернуть России древние русские земли;
- 6) по итогам войны, обозначенной на схеме, Россия потеряла территории.

Ответ:

--	--	--



В8.7.3. Напишите имя русского царя, в правление которого происходили обозначенные на схеме военные действия.

Ответ: \_\_\_\_\_

В9.7.3. Напишите название государства, обозначенного на схеме цифрой 3.

Ответ: \_\_\_\_\_

В10.7.3. Напишите цифру, которой обозначен город, длительная оборона которого способствовала началу мирных переговоров.

Ответ: \_\_\_\_\_

В11.7.3. Какие суждения, относящиеся к событиям, обозначенным на схеме, являются верными? Выберите три суждения из шести предложенных. Запишите в таблицу цифры, под которыми они указаны:

- 1) инициатором войны, обозначенной на схеме, была Швеция;
- 2) все города, обозначенные цифрами, не выдержали осады более месяца;
- 3) война, ход которой обозначен на схеме, длилась 25 лет;
- 4) после войны, обозначенной на схеме, в России создали стрелецкое войско;
- 5) поводом к началу войны, обозначенной на схеме, стала неуплата дани;
- 6) по итогам войны, обозначенной на схеме, Россия потеряла территории.

Ответ:

--	--	--





**В8.7.4.** Напишите имя военачальника, возглавлявшего обозначенные на схеме походы.

Ответ: \_\_\_\_\_

**В9.7.4.** Напишите название города, обозначенного на схеме цифрой 3.

Ответ: \_\_\_\_\_

**В10.7.4.** Напишите цифру, которой обозначены владения русских купцов снабдивших поход всем необходимым.

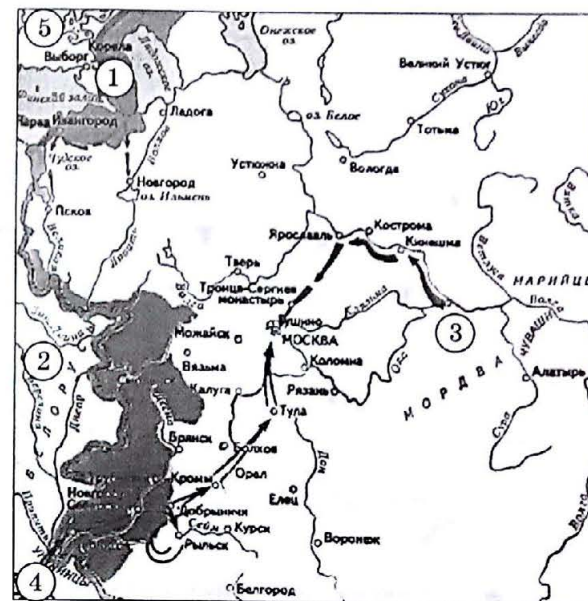
Ответ: \_\_\_\_\_

**В11.7.4.** Какие суждения, относящиеся к событиям, обозначенным на схеме являются верными? Выберите три суждения из шести предложенных. Запишите таблицу цифры, под которыми они указаны:

- 1) противниками русских в данном походе являлись татары;
- 2) походы, обозначенные на схеме стрелками, длились в общей сложности четыре года;
- 3) обозначенные на схеме события происходили во время опричнины;
- 4) военачальник, совершивший обозначенный на схеме поход, стал основателем нового государства;
- 5) походы, обозначенные на схеме стрелками, закончились гибелью предводителя русского войска;
- 6) дальнейшее продвижение отрядов упомянутого военачальника на восток закончилось выходом к океану.

Ответ:

--	--	--



**В8.8.1.** Напишите имя военачальника, возглавлявшего поход, обозначенный на схеме цифрой 4.

Ответ: \_\_\_\_\_

**В9.8.1.** Напишите название города, обозначенного на схеме цифрой 3.

Ответ: \_\_\_\_\_

**В10.8.1.** Напишите цифру, которой обозначена территория Речи Посполитой.

Ответ: \_\_\_\_\_

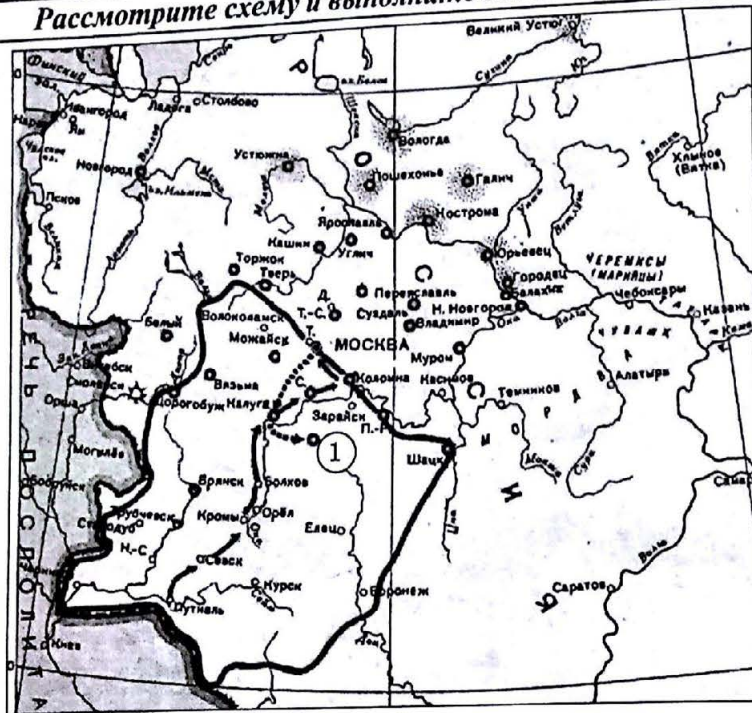
**В11.8.1.** Какие суждения, относящиеся к событиям, обозначенным на схеме, являются верными? Выберите три суждения из шести предложенных. Запишите таблицу цифры, под которыми они указаны:

- 1) поход, обозначенный цифрой 4, возглавлял претендент на русский трон;
- 2) обозначенные на схеме события происходили во время опричнины;
- 3) походы, обозначенные на схеме, произошли в первой четверти XVII в.;
- 4) поход, обозначенный цифрой 4, привел к гибели Русского государства;
- 5) поход, начавшийся в городе, обозначенном цифрой 3, закончился освобождением столицы России от захватчиков;
- 6) поход, начавшийся в городе, обозначенном цифрой 3, возглавлял П.П. Ляпунов.

Ответ:

--	--	--





**В8.8.2.** Напишите фамилию военачальника, возглавлявшего поход, обозначенный на схеме стрелками.

Ответ: \_\_\_\_\_

**В9.8.2.** Напишите название города, обозначенного на схеме цифрой 1.

Ответ: \_\_\_\_\_

**В10.8.2.** Напишите имя царя, во время правления которого произошли события, обозначенные на схеме.

Ответ: \_\_\_\_\_

**В11.8.2.** Какие суждения, относящиеся к событиям, обозначенным на схеме, являются верными? Выберите три суждения из шести предложенных. Запишите в таблицу цифры, под которыми они указаны:

- 1) руководитель восстания, обозначенного на схеме, действовал от имени Лжедмитрия II;
- 2) восстание, обозначенное на схеме, продолжалось около двух лет;
- 3) обозначенные на схеме события происходили во время Ливонской войны;
- 4) военачальник, совершивший обозначенный на схеме поход, происходил из холопов;
- 5) восстание, обозначенное на схеме, закончилось свержением царя;
- 6) руководитель восстания, обозначенного на схеме, был схвачен и казнен.

Ответ:

--	--	--



**В8.8.3.** Напишите фамилии военачальников, возглавлявших поход, начавшийся в городе, обозначенном на схеме цифрой 2.

Ответ: \_\_\_\_\_

**В9.8.3.** Напишите название города, обозначенного на схеме цифрой 1.

Ответ: \_\_\_\_\_

**В10.8.3.** Напишите название государства, обозначенного на схеме цифрой 3.

Ответ: \_\_\_\_\_

**В11.8.3.** Какие суждения, относящиеся к событиям, обозначенным на схеме, являются верными? Выберите три суждения из шести предложенных. Запишите в таблицу цифры, под которыми они указаны:

- 1) продолжительность периода, события которого обозначены на схеме, составила около 10 лет;
- 2) события, обозначенные на схеме, продолжались около пяти лет;
- 3) обозначенные на схеме события происходили во время Ливонской войны;
- 4) итогом событий, обозначенных на схеме, стало начало правления в России новой царской династии;
- 5) в результате событий, обозначенных на схеме, Россия потеряла значительные территории в Сибири;
- 6) в результате событий, обозначенных на схеме, Россия потеряла выход к Балтийскому морю.

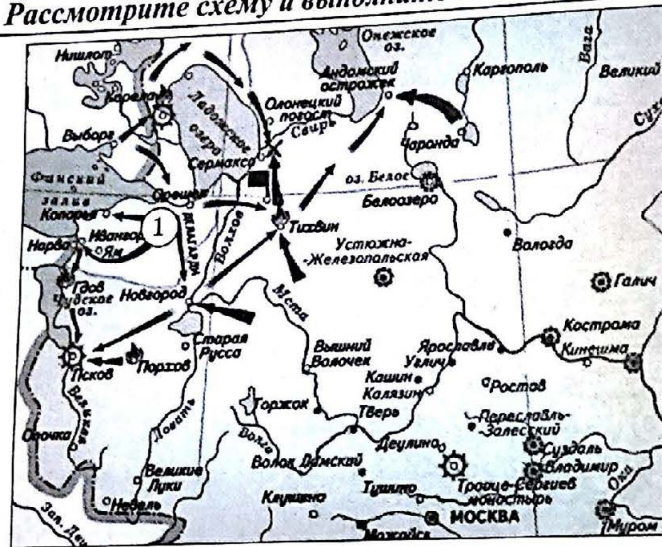
Ответ:

--	--	--



## Тема 9. Правление Михаила Федоровича (1613–1645).

Рассмотрите схему и выполните задания В8–В11.



**В8.9.1.** Напишите периода в истории России, в рамках которого произошла война, обозначенная на схеме.

Ответ: \_\_\_\_\_.

**В9.9.1.** Напишите название места подписания мирного договора, обозначенного на схеме цифрой флажком.

Ответ: \_\_\_\_\_.

**В10.9.1.** Напишите название государства, являвшегося противником России в войне, обозначенной на схеме.

Ответ: \_\_\_\_\_.

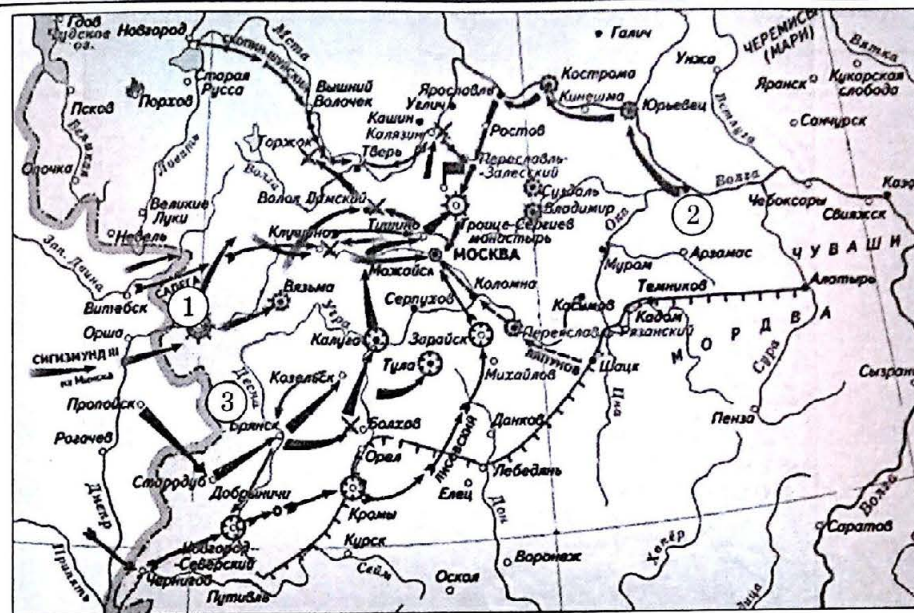
**В11.9.1.** Какие суждения, относящиеся к событиям, обозначенным на схеме, являются верными? Выберите три суждения из шести предложенных. Запишите в таблицу цифры, под которыми они указаны:

- 1) продолжительность войны, события которой обозначены на схеме, составила около 8 лет;
- 2) события, обозначенные на схеме, продолжались около двух лет;
- 3) обозначенные на схеме события происходили во время Северной войны;
- 4) итогом событий, обозначенных на схеме, стала утрата территорий, обозначенных на схеме цифрой 1;
- 5) в результате событий, обозначенных на схеме, Россия вернула территории, обозначенные цифрой 1;
- 6) территории, обозначенные на схеме цифрой 1, перешли во владение другой страны более чем на сто лет.

Ответ:

--	--	--

Рассмотрите схему и выполните задания В8–В11.



**В8.9.2.** Напишите название города, обозначенного на схеме цифрой 1.

Ответ: \_\_\_\_\_.

**В9.9.2.** Напишите название места подписания мирного договора, обозначенного на схеме флажком.

Ответ: \_\_\_\_\_.

**В10.9.2.** Напишите название города, обозначенного на схеме цифрой 2.

Ответ: \_\_\_\_\_.

**В11.9.2.** Какие суждения, относящиеся к событиям, обозначенным на схеме, являются верными? Выберите три суждения из шести предложенных. Запишите в таблицу цифры, под которыми они указаны:

- 1) война, события которой обозначены на схеме, длилась в общей сложности около четырех лет;
- 2) война, события которой обозначены на схеме, длилась в общей сложности около девяти лет;
- 3) обозначенные на схеме события происходили во время Семилетней войны;
- 4) итогом событий, обозначенных на схеме, стала утрата территорий, обозначенных на схеме цифрой 3;
- 5) территории, обозначенные на схеме цифрой 3, перешли во владение другой страны на сорок лет;
- 6) в результате войны, обозначенной на схеме, Россия вернула территории, обозначенные цифрой 3.

Ответ:

--	--	--



Рассмотрите схему и выполните задания В8–В11.



**В8.9.3.** Напишите фамилию военачальника, возглавлявшего русское войско в войне, ход которой обозначен на схеме.

Ответ: \_\_\_\_\_

**В9.9.3.** Напишите название города, обозначенного на схеме цифрой 1.

Ответ: \_\_\_\_\_

**В10.9.3.** Напишите название государства, чьи войска совершили поход, обозначенный на схеме цифрой 5.

Ответ: \_\_\_\_\_

**В11.9.3.** Какие суждения, относящиеся к событиям, обозначенным на схеме, являются верными? Выберите три суждения из шести предложенных. Запишите в таблицу цифры, под которыми они указаны:

- 1) продолжительность войны, события которой обозначены на схеме, составила около пяти лет;
- 2) события, обозначенные на схеме, продолжались около двух лет;
- 3) обозначенные на схеме события происходили во время Ливонской войны;
- 4) итогом событий, обозначенных на схеме, стало начало правления в России новой царской династии;
- 5) в результате событий, обозначенных на схеме, Россия вернула территории, обозначенные цифрами 2, 3, 4;
- 6) главная цель войны, события которой обозначены на схеме, не была достигнута.

Ответ:

--	--	--

Тема 10. Правление Алексея Михайловича (1645–1676).

Рассмотрите схему и выполните задания В8–В11.



**В8.10.1.** Напишите имя царя, при котором произошла война, ход которой обозначен на схеме.

Ответ: \_\_\_\_\_

**В9.10.1.** Напишите название города, обозначенного на схеме цифрой 1.

Ответ: \_\_\_\_\_

**В10.10.1.** Напишите название территории, обозначенной на схеме цифрой 2.

Ответ: \_\_\_\_\_

**В11.10.1.** Какие суждения, относящиеся к событиям, обозначенным на схеме, являются верными? Выберите три суждения из шести предложенных. Запишите в таблицу цифры, под которыми они указаны:

- 1) война, события которой обозначены на схеме, длилась около пяти лет;
- 2) война, события которой обозначены на схеме, длилась около тринадцати лет;
- 3) обозначенные на схеме события происходили во время Смуты;
- 4) итогом войны, обозначенной на схеме, стало поражение Речи Посполитой;
- 5) в результате событий, обозначенных на схеме, Россия вернула территории, обозначенные цифрами 3, 4, 5;
- 6) главной целью войны, события которой обозначены на схеме, было получение выхода к Черному морю.

Ответ:

--	--	--





**В8.10.2.** Напишите имя царя, при котором произошла война, ход которой обозначен на схеме.

Ответ: \_\_\_\_\_

**В9.10.2.** Напишите название города, обозначенного на схеме цифрой 1, где был подписан мирный договор.

Ответ: \_\_\_\_\_

**В10.10.2.** Напишите название государства, являвшегося противником России в войне, обозначенной на схеме.

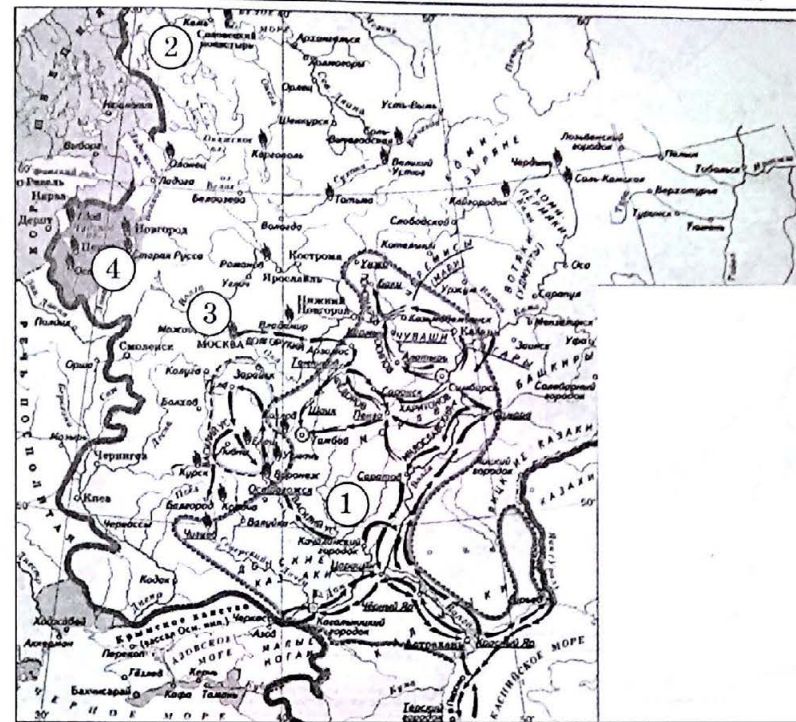
Ответ: \_\_\_\_\_

**В11.10.2.** Какие суждения, относящиеся к событиям, обозначенным на схеме, являются верными? Выберите три суждения из шести предложенных. Запишите в таблицу цифры, под которыми они указаны:

- 1) война, события которой обозначены на схеме, длилась около двух лет;
- 2) война, события которой обозначены на схеме, длилась около шести лет;
- 3) обозначенные на схеме события происходили в середине XVII в.;
- 4) итогом войны, обозначенной на схеме, стало поражение Речи Посполитой;
- 5) в результате событий, обозначенных на схеме, Россия вернула территории, обозначенные на схеме цифрой 3;
- 6) одной из целей войны, обозначенной на схеме, было присоединение территорий, обозначенных на схеме цифрой 2.

Ответ:

--	--	--



**В8.10.3.** Напишите название документа, принятого после восстания, обозначенного на схеме цифрой 3.

Ответ: \_\_\_\_\_

**В9.10.3.** Напишите фамилию предводителя восстания, территория которого обозначена на схеме цифрой 1.

Ответ: \_\_\_\_\_

**В10.10.3.** Напишите название события, приведшего к восстанию, обозначенному на схеме цифрой 2.

Ответ: \_\_\_\_\_

**В11.10.3.** Какие суждения, относящиеся к событиям, обозначенным на схеме, являются верными? Выберите три суждения из шести предложенных. Запишите в таблицу цифры, под которыми они указаны:

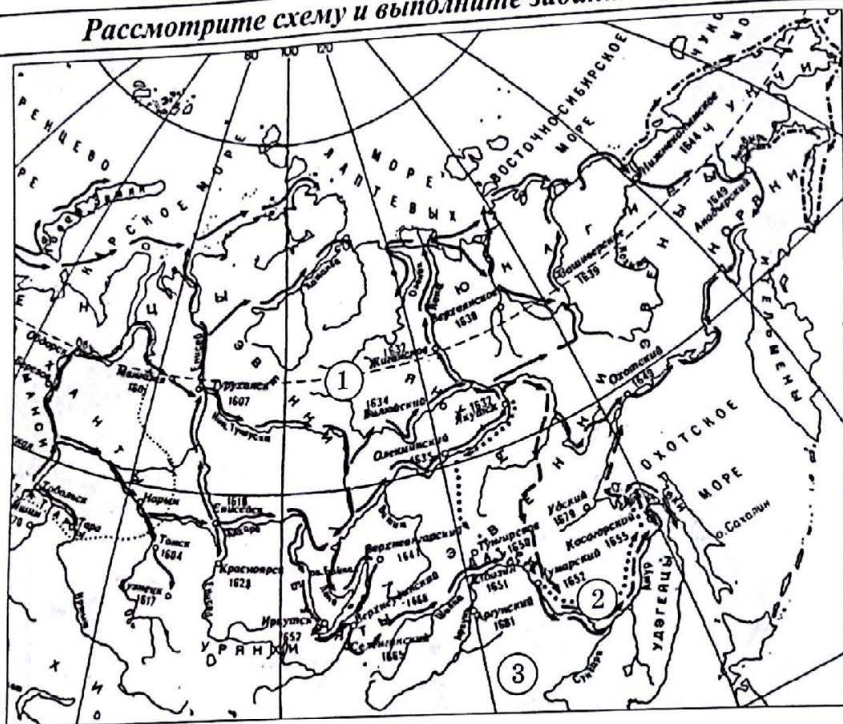
- 1) восстание, обозначенное на схеме цифрой 2, длилось около двух лет;
- 2) восстание, обозначенное на схеме цифрой 2, длилось около пяти лет;
- 3) обозначенные на схеме события происходили во время Смуты;
- 4) одной из причин восстания, обозначенного на схеме цифрой 2, стало закрепощение крестьян;
- 5) в результате событий, обозначенных на схеме, Россия потеряла территории, обозначенные цифрой 4;
- 6) восстание, обозначенное на схеме, было подавлено.

Ответ:

--	--	--



Рассмотрите схему и выполните задания В8–В11.



**В8.10.4.** Напишите имя царя, при котором к России присоединили территории, обозначенные на схеме цифрой 1.

Ответ: \_\_\_\_\_.

**В9.10.4.** Напишите имя землепроходца, исследовавшего территории, обозначенные на схеме цифрой 2.

Ответ: \_\_\_\_\_.

**В10.10.4.** Напишите название государства, обозначенного на схеме цифрой 3.

Ответ: \_\_\_\_\_.

**В11.10.4.** Какие суждения, относящиеся к событиям, обозначенным на схеме, являются верными? Выберите три суждения из шести предложенных. Запишите в таблицу цифры, под которыми они указаны:

- 1) территории, обозначенные на схеме, вошли в состав России мирным путем;
- 2) большая часть территорий, обозначенных на схеме, была завоевана;
- 3) обозначенные на схеме события происходили преимущественно во второй половине XVII в.;
- 4) обозначенные на схеме события происходили в XVIII в.;
- 5) в обозначенных на схеме походах участвовал В. Беринг;
- 6) в ходе одной из экспедиций, обозначенных на схеме, был открыт пролив между Евразией и Америкой.

Ответ:

--	--	--

Тема 11. Правление Федора Алексеевича (1676–1682) и Софьи Алексеевны (1682–1689)

Рассмотрите схему и выполните задания В8–В11.



**В8.11.1.** Напишите название города, обозначенного на схеме цифрой 1.

Ответ: \_\_\_\_\_.

**В9.11.1.** Напишите название государства, обозначенного на схеме цифрой 2.

Ответ: \_\_\_\_\_.

**В10.11.1.** Напишите название города, где был подписан мирный договор, обозначенного на схеме цифрой 3.

Ответ: \_\_\_\_\_.

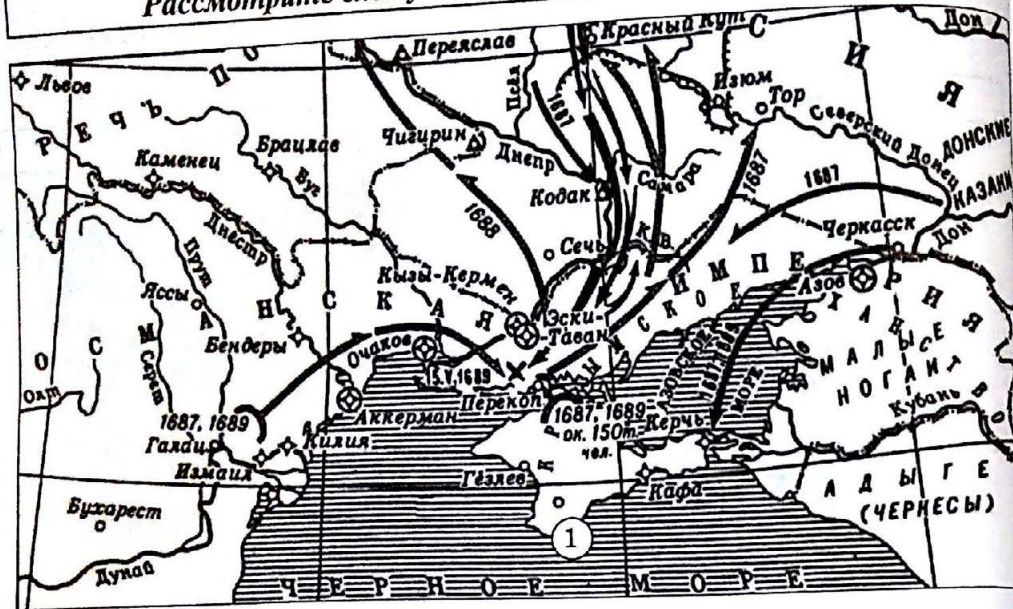
**В11.11.1.** Какие суждения, относящиеся к событиям, обозначенным на схеме, являются верными? Выберите три суждения из шести предложенных. Запишите в таблицу цифры, под которыми они указаны:

- 1) война, события которой обозначены на схеме, длилась около двух лет;
- 2) война, события которой обозначены на схеме, длилась около пяти лет;
- 3) война, события которой обозначены на схеме, происходила во второй половине XVII в.;
- 4) итогом войны, обозначенной на схеме, стало поражение русской армии;
- 5) в результате событий, обозначенных на схеме, Россия передала Османской империи часть своей территории;
- 6) одной из целей войны, обозначенной на схеме, было закрепление за Россией территории Запорожья.

Ответ:

--	--	--





**В8.11.2.** Напишите название города, обозначенного на схеме цифрой 1.

Ответ: \_\_\_\_\_

**В9.11.2.** Напишите имя русского военачальника, возглавлявшего обозначенные на схеме походы.

Ответ: \_\_\_\_\_

**В10.11.2.** Напишите имя правительницы России, при которой произошли обозначенные на схеме события.

Ответ: \_\_\_\_\_

**В11.11.2.** Какие суждения, относящиеся к событиям, обозначенным на схеме являются верными? Выберите три суждения из шести предложенных. Запишите таблицу цифры, под которыми они указаны:

- 1) военные походы, которые обозначены на схеме, длились в общей сложности около двух лет;
- 2) военные походы, которые обозначены на схеме, длились в общей сложности около пяти лет;
- 3) война, события которой обозначены на схеме, происходила из-за агрессии Османской империи;
- 4) военные походы, обозначенные на схеме, закончились победой русской армии;
- 5) военные походы, обозначенные на схеме, закончились неудачно для русской армии;
- 6) одной из целей войны, обозначенной на схеме, было закрепление за Россией территории Крымского ханства.

Ответ:

--	--	--

Рассмотрите схему и выполните задания В8–В11.



**В8.12.1.** Напишите название города, обозначенного на схеме цифрой 1.

Ответ: \_\_\_\_\_

**В9.12.1.** Напишите название города, обозначенного на схеме цифрой 2.

Ответ: \_\_\_\_\_

**В10.12.1.** Напишите год, когда произошел первый из обозначенных на схеме походов.

Ответ: \_\_\_\_\_

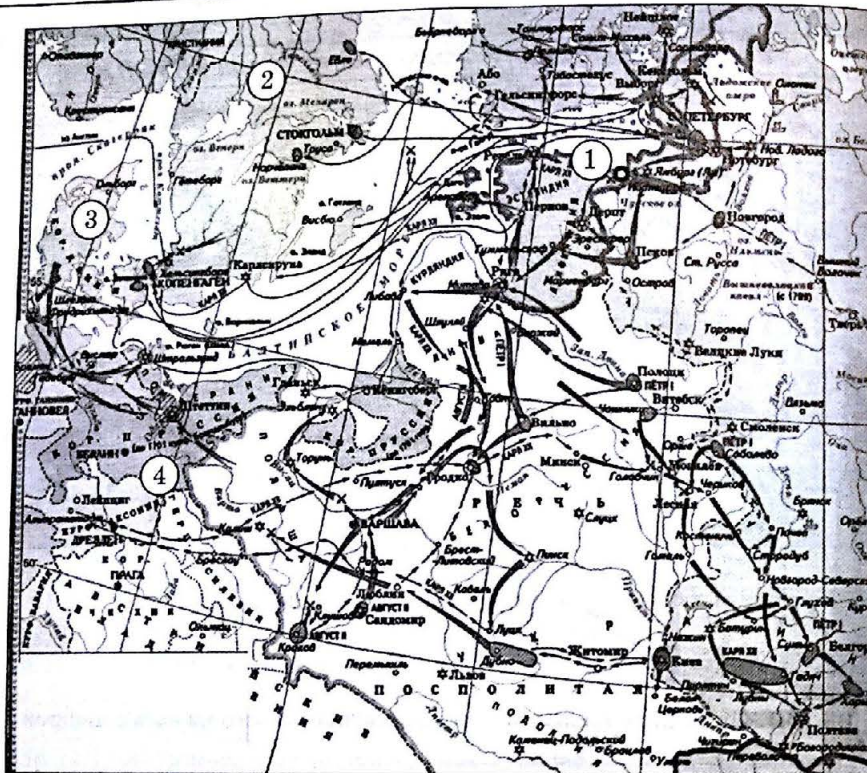
**В11.12.1.** Какие суждения, относящиеся к событиям, обозначенным на схеме, являются верными? Выберите три суждения из шести предложенных. Запишите таблицу цифры, под которыми они указаны:

- 1) военные походы, обозначенные на схеме, длились около трех лет;
- 2) война, начавшаяся с походов, обозначенных на схеме, длилась в общей сложности около пяти лет;
- 3) война, события которой обозначены на схеме, происходила из-за агрессии Османской империи;
- 4) военные походы, обозначенные на схеме, закончились победой России;
- 5) военные походы, обозначенные на схеме, закончились приобретением новых территорий;
- 6) войну, обозначенную на схеме, Россия начала, выполняя союзнические обязательства перед Речью Посполитой.

Ответ:

--	--	--





**В8.12.2.** Напишите название города, обозначенного на схеме цифрой 1.

Ответ: \_\_\_\_\_.

**В9.12.2.** Напишите название государства, обозначенного на схеме цифрой 2.

Ответ: \_\_\_\_\_.

**В10.12.2.** Напишите цифру, которой обозначена страна—союзница России.

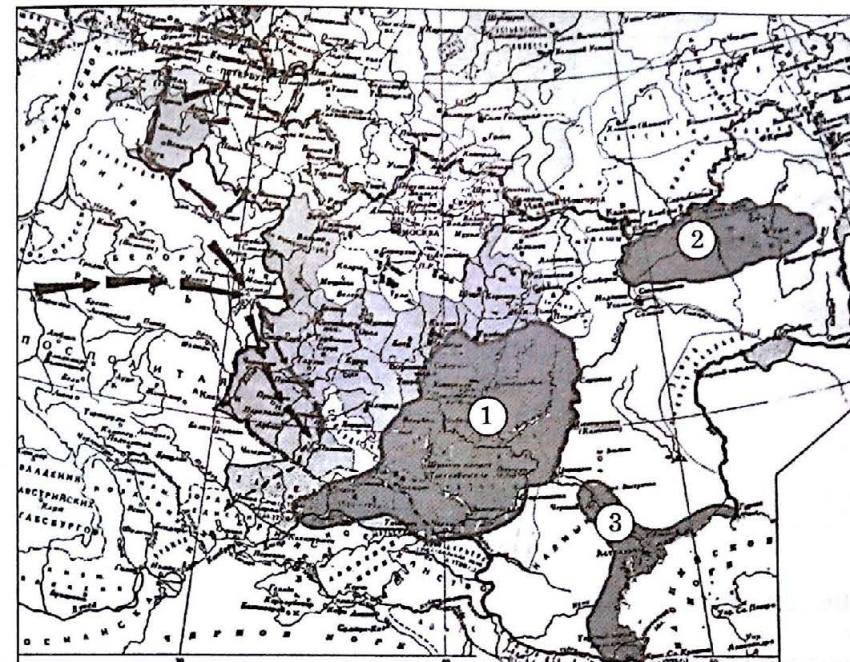
Ответ: \_\_\_\_\_.

**В11.12.2.** Какие суждения, относящиеся к событиям, обозначенным на схеме, являются верными? Выберите три суждения из шести предложенных. Запишите в таблицу цифры, под которыми они указаны:

- 1) война, обозначенная на схеме, длилась около тринадцати лет;
- 2) война, обозначенная на схеме, длилась в общей сложности двадцать один год;
- 3) в войне, которая обозначена на схеме, Россия стала жертвой агрессии;
- 4) война, обозначенная на схеме, закончилась победой России;
- 5) война, обозначенная на схеме, закончилась приобретением Россией выхода к морю;
- 6) войну, обозначенную на схеме, Россия начала, выполняя союзнические обязательства перед Пруссией.

Ответ: \_\_\_\_\_.

--	--	--



**В8.12.3.** Напишите имя императора, в годы правления которого произошли обозначенные на схеме восстания.

Ответ: \_\_\_\_\_.

**В9.12.3.** Напишите фамилию руководителя восстания, обозначенного на схеме цифрой 1.

Ответ: \_\_\_\_\_.

**В10.12.3.** Напишите фамилию военачальника, подавившего восстание, обозначенное на схеме цифрой 3.

Ответ: \_\_\_\_\_.

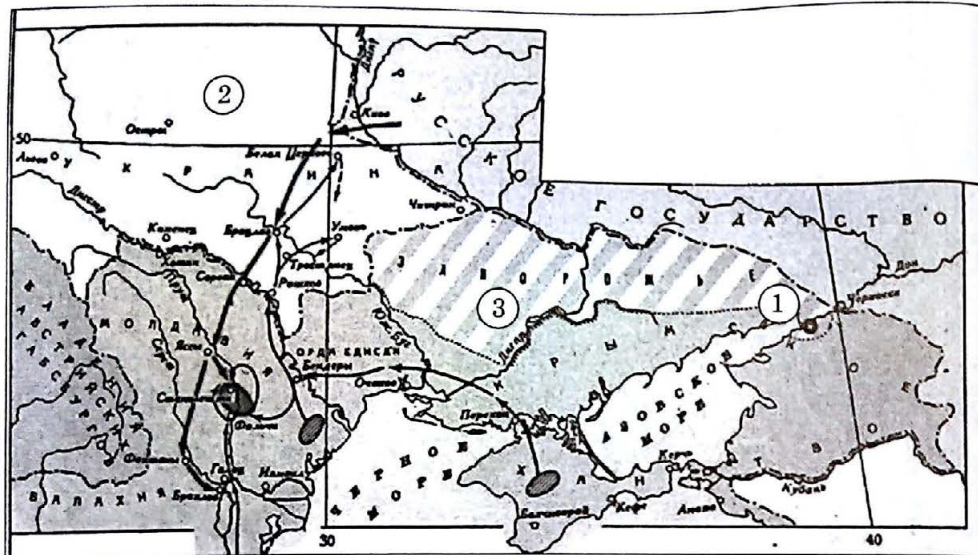
**В11.12.3.** Какие суждения, относящиеся к событиям, обозначенным на схеме, являются верными? Выберите три суждения из шести предложенных. Запишите в таблицу цифры, под которыми они указаны:

- 1) восстание, обозначенное на схеме цифрой 2, произошло из-за ущемления обычаев народов Поволжья;
- 2) ни одно из восстаний, обозначенных на схеме, не длилось более года;
- 3) из восстаний, обозначенных на схеме, дольше остальных длилось восстание, обозначенное на схеме цифрой 2;
- 4) восстания, обозначенные на схеме, произошли во время Северной войны;
- 5) восстания, обозначенные на схеме, привели к отмене крепостного права;
- 6) все восстания, обозначенные на схеме, были быстро подавлены.

Ответ: \_\_\_\_\_.

--	--	--





**В8.12.4.** Напишите название города, обозначенного на схеме цифрой 1.

Ответ: \_\_\_\_\_.

**В9.12.4.** Напишите название государства, обозначенного на схеме цифрой 2.

Ответ: \_\_\_\_\_.

**В10.12.4.** Напишите имя императора России, при котором произошли события, обозначенные на схеме.

Ответ: \_\_\_\_\_.

**В11.12.4.** Какие суждения, относящиеся к событиям, обозначенным на схеме, являются верными? Выберите три суждения из шести предложенных. Запишите в таблицу цифры, под которыми они указаны:

- 1) война, события которой обозначены на схеме, длилась в общей сложности около трех лет;
- 2) война, обозначенная на схеме, длилась в общей сложности один год;
- 3) в войне, которая обозначена на схеме, Россия стала жертвой агрессии;
- 4) по итогам войны, события которой обозначены на схеме, Россия уступала территории, обозначенные цифрой 3;
- 5) война, обозначенная на схеме, закончилась приобретением Россией новых территорий;
- 6) войну, события которой обозначены на схеме, Россия начала, выполняя союзнические обязательства перед странами-участницами антитурецкой Священной лиги.

Ответ:

--	--	--



**В8.12.5.** Напишите название города, обозначенного на схеме цифрой 1.

Ответ: \_\_\_\_\_.

**В9.12.5.** Напишите название города, обозначенного на схеме цифрой 2.

Ответ: \_\_\_\_\_.

**В10.12.5.** Напишите название государства, обозначенного на схеме цифрой 3.

Ответ: \_\_\_\_\_.

**В11.12.5.** Какие суждения, относящиеся к событиям, обозначенным на схеме, являются верными? Выберите три суждения из шести предложенных. Запишите в таблицу цифры, под которыми они указаны:

- 1) война, события которой обозначены на схеме, длилась около трех лет;
- 2) война, обозначенная на схеме, длилась в общей сложности один год;
- 3) в войне, которая обозначена на схеме, Россия стала жертвой агрессии;
- 4) по итогам войны, события которой обозначены на схеме, Россия уступала территории, обозначенные цифрой 4;
- 5) война, обозначенная на схеме, закончилась приобретением Россией новых территорий на западном и южном берегах Каспийского моря;
- 6) войну, события которой обозначены на схеме, Россия начала, стремясь взять под контроль торговый путь в Индию.

Ответ:

--	--	--



Рассмотрите схему и выполните задания В8–В11.



В8.13.1. Напишите название города, обозначенного на схеме цифрой 1.

Ответ: \_\_\_\_\_.

В9.13.1. Напишите название государства, обозначенного на схеме цифрой 2.

Ответ: \_\_\_\_\_.

В10.13.1. Напишите имя российской императрицы, во время правления которой произошли события, обозначенные на схеме.

Ответ: \_\_\_\_\_.

В11.13.1. Какие суждения, относящиеся к событиям, обозначенным на схеме, являются верными? Выберите три суждения из шести предложенных. Запишите в таблицу цифры, под которыми они указаны:

- 1) войну, события которой обозначены на схеме, Россия начала, стремясь получить выход к Черному морю;
- 2) война, обозначенная на схеме, закончилась приобретением Россией новых территорий на берегах Черного моря;
- 3) в войне, которая обозначена на схеме, Россия воевала без союзников;
- 4) по итогам войны, события которой обозначены на схеме, Россия уступала территории, обозначенные цифрой 3;
- 5) война, обозначенная на схеме, длилась в общей сложности два года;
- 6) война, события которой обозначены на схеме, длилась в общей сложности четыре года.

Ответ:

--	--	--



В8.13.2. Напишите название города, обозначенного на схеме цифрой 1.

Ответ: \_\_\_\_\_.

В9.13.2. Напишите название полуострова, обозначенного на схеме цифрой 2.

Ответ: \_\_\_\_\_.

В10.13.2. Напишите имя российской императрицы, во время правления которой произошли события, обозначенные на схеме.

Ответ: \_\_\_\_\_.

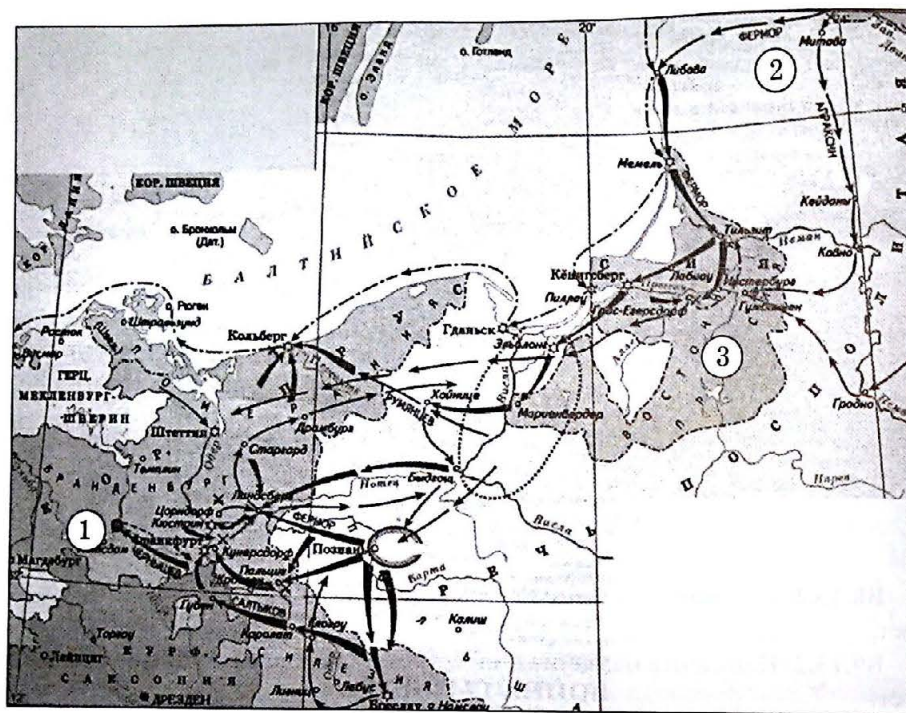
В11.13.2. Какие суждения, относящиеся к событиям, обозначенным на схеме, являются верными? Выберите три суждения из шести предложенных. Запишите в таблицу цифры, под которыми они указаны:

- 1) войну, события которой обозначены на схеме, Россия начала, стремясь получить выход к Балтийскому морю;
- 2) война, обозначенная на схеме, велась Россией с целью защиты своей территории;
- 3) в войне, которая обозначена на схеме, Россия воевала в союзе с Пруссией;
- 4) по итогам войны, события которой приведены на схеме, Россия приобрела территории, обозначенные цифрой 3;
- 5) война, события которой обозначены на схеме, длилась в общей сложности два года;
- 6) война, события которой обозначены на схеме, длилась в общей сложности четыре года.

Ответ:

--	--	--





**В8.13.3.** Напишите название города, обозначенного на схеме цифрой 1.

Ответ: \_\_\_\_\_.

**В9.13.3.** Напишите название территории, обозначенной на схеме цифрой 2.

Ответ: \_\_\_\_\_.

**В10.13.3.** Напишите имя российской императрицы, во время правления которой произошли события, обозначенные на схеме.

Ответ: \_\_\_\_\_.

**В11.13.3.** Какие суждения, относящиеся к событиям, обозначенным на схеме, являются верными? Выберите три суждения из шести предложенных. Запишите в таблицу цифры, под которыми они указаны:

- 1) в войне, обозначенной на схеме, Россия участвовала с целью защиты своих границ и интересов в Прибалтике;
- 2) в войне, обозначенной на схеме, Россия участвовала в коалиции стран;
- 3) в войне, которая обозначена на схеме, Россия воевала без союзников;
- 4) по итогам войны, события которой приведены на схеме, Россия приобрела территории, обозначенные цифрой 3;
- 5) война, события которой обозначены на схеме, длилась в общей сложности два года;
- 6) война, события которой обозначены на схеме, длилась в общей сложности семь лет.

Ответ:

--	--	--

Тема 14. Россия в царствование Екатерины II (1762–1796) и Павла I (1796–1801).

Рассмотрите схему и выполните задания В8–В11.



**В8.14.1.** Напишите название государства, обозначенного на схеме цифрой 1.

Ответ: \_\_\_\_\_.

**В9.14.1.** Напишите название государства, обозначенного на схеме цифрой 2.

Ответ: \_\_\_\_\_.

**В10.14.1.** Напишите имя российской императрицы, во время правления которой произошли события, обозначенные на схеме.

Ответ: \_\_\_\_\_.

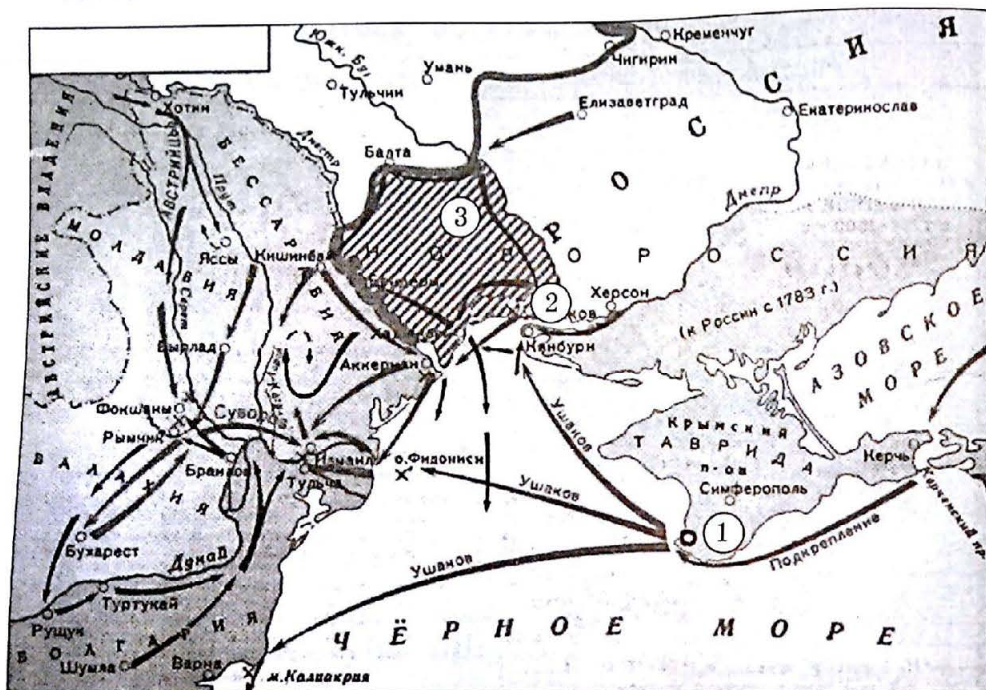
**В11.14.1.** Какие суждения, относящиеся к событиям, обозначенным на схеме, являются верными? Выберите три суждения из шести предложенных. Запишите в таблицу цифры, под которыми они указаны:

- 1) войну, события которой обозначены на схеме, Россия начала, стремясь получить выход к Чёрному морю;
- 2) война, обозначенная на схеме, закончилась поражением России;
- 3) в войне, которая обозначена на схеме, Россия воевала без союзников;
- 4) по итогам войны, события которой обозначены на схеме, Россия уступала территории, обозначенные цифрами 3 и 4;
- 5) в войне, обозначенной на схеме, проявился полководческий талант М.И. Кутузова;
- 6) война, события которой обозначены на схеме, длилась шесть лет.

Ответ:

--	--	--





В8.14.2. Напишите название города, обозначенного на схеме цифрой 1.

Ответ: \_\_\_\_\_.

В9.14.2. Напишите название города, обозначенного на схеме цифрой 2.

Ответ: \_\_\_\_\_.

В10.14.2. Напишите имя российской императрицы, во время правления которой произошли события, обозначенные на схеме.

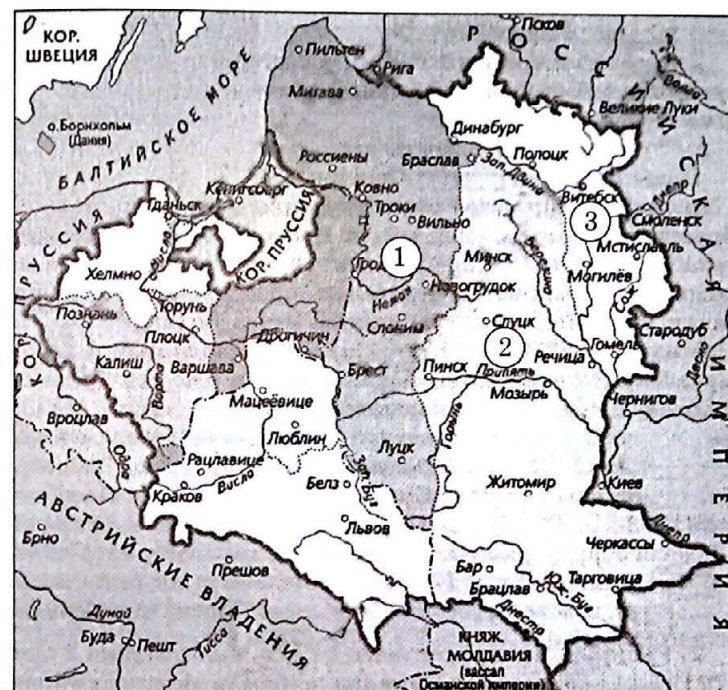
Ответ: \_\_\_\_\_.

В11.14.2. Какие суждения, относящиеся к событиям, обозначенным на схеме, являются верными? Выберите три суждения из шести предложенных. Запишите в таблицу цифры, под которыми они указаны:

- 1) войну, события которой обозначены на схеме, Россия начала, стремясь получить выход к Черному морю;
- 2) война, обозначенная на схеме, закончилась поражением России;
- 3) в войне, которая обозначена на схеме, Россия воевала без союзников;
- 4) по итогам войны, события которой обозначены на схеме, Россия получила территории, обозначенные цифрами 3;
- 5) война, обозначенная на схеме, длилась в общей сложности четыре года;
- 6) война, события которой обозначены на схеме, длилась в общей сложности пять лет.

Ответ:

--	--	--



В8.14.3. Напишите цифру, которой обозначены территории, вошедшие в состав России в 1772 г.

Ответ: \_\_\_\_\_.

В9.14.3. Напишите цифру, которой обозначены территории, вошедшие в состав России в 1793 г.

Ответ: \_\_\_\_\_.

В10.14.3. Напишите цифру, которой обозначены территории, вошедшие в состав России в 1795 г.

Ответ: \_\_\_\_\_.

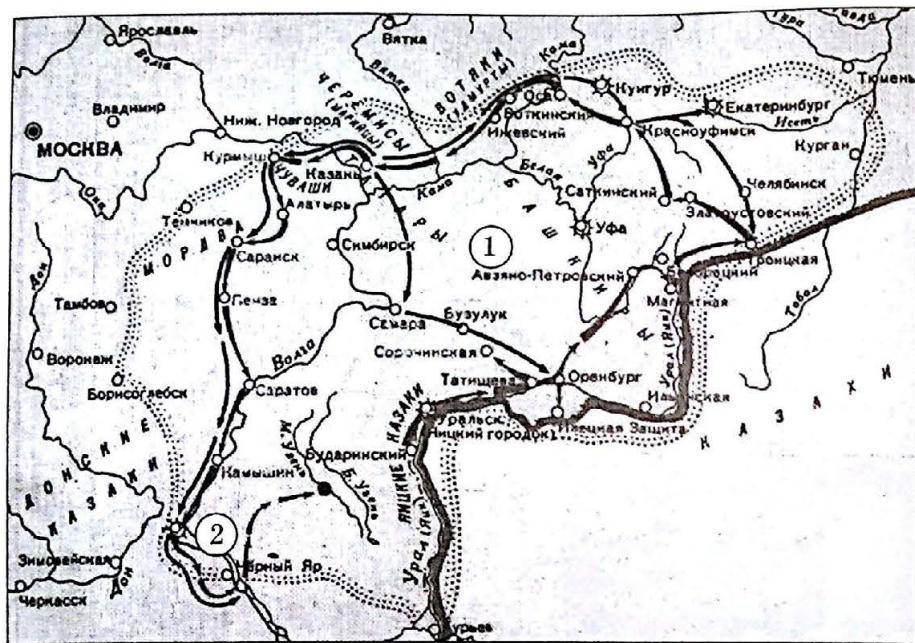
В11.14.3. Какие суждения, относящиеся к событиям, обозначенным на схеме, являются верными? Выберите три суждения из шести предложенных. Запишите в таблицу цифры, под которыми они указаны:

- 1) присоединения территорий, обозначенные на схеме, произошли мирно;
- 2) территории, обозначенные на схеме, отошли от России при Павле I;
- 3) в разделах государства, обозначенных на схеме, каждый раз участвовали три страны;
- 4) по итогам событий, обозначенных на схеме, Россия вернула древние русские земли;
- 5) территории, обозначенные на схеме, отошли от России при Николае I;
- 6) территории, обозначенные на схеме, присоединили при Екатерине II.

Ответ:

--	--	--





**В8.14.4.** Напишите имя императрицы, в годы правления которой произошли обозначенные на схеме восстания.

Ответ: \_\_\_\_\_.

**В9.14.4.** Напишите фамилию руководителя восстания, обозначенного на схеме цифрой 1.

Ответ: \_\_\_\_\_.

**В10.14.4.** Напишите название города, обозначенного на схеме цифрой 2.

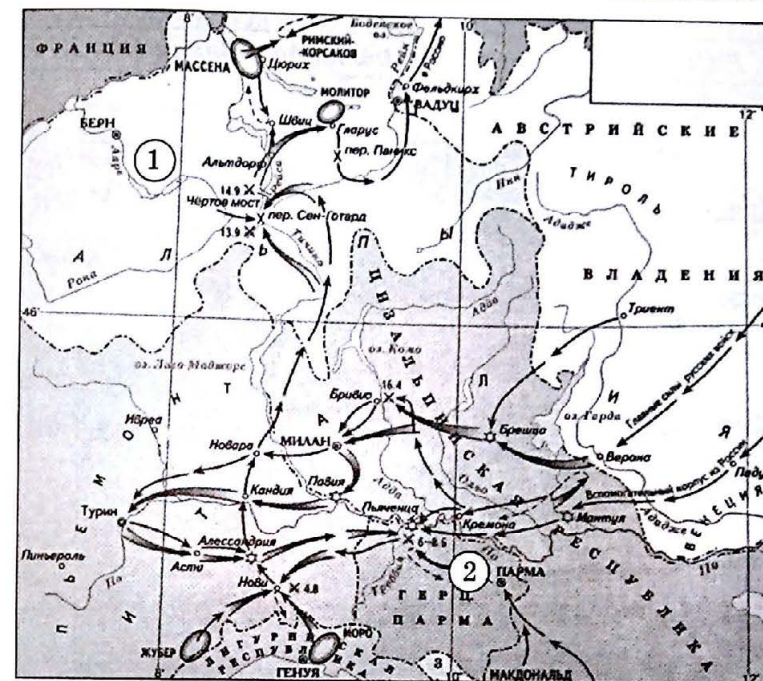
Ответ: \_\_\_\_\_.

**В11.14.4.** Какие суждения, относящиеся к событиям, обозначенным на схеме, являются верными? Выберите три суждения из шести предложенных. Запишите в таблицу цифры, под которыми они указаны:

- 1) восстание, обозначенное на схеме, началось из-за ущемления прав и обычаев казаков;
- 2) восстание, обозначенное на схеме, длилось около двух лет;
- 3) вскоре после подавления восстания, обозначенного на схеме, в Российской империи была проведена губернская реформа.
- 4) восстание, обозначенное на схеме, произошло во время Семилетней войны;
- 5) одним из последствий восстания, обозначенного на схеме, стала отмена в России крепостного права;
- 6) одним из последствий восстания, обозначенного на схеме, стала смена в России правящей династии.

Ответ:

--	--	--



**В8.14.5.** Напишите название государства, обозначенного на схеме цифрой 1.

Ответ: \_\_\_\_\_.

**В9.14.5.** Напишите фамилию полководца, совершившего походы, обозначенные на схеме.

Ответ: \_\_\_\_\_.

**В10.14.5.** Напишите имя русского императора, во время правления которого произошли события, обозначенные на схеме.

Ответ: \_\_\_\_\_.

**В11.14.5.** Какие суждения, относящиеся к событиям, обозначенным на схеме, являются верными? Выберите три суждения из шести предложенных. Запишите в таблицу цифры, под которыми они указаны:

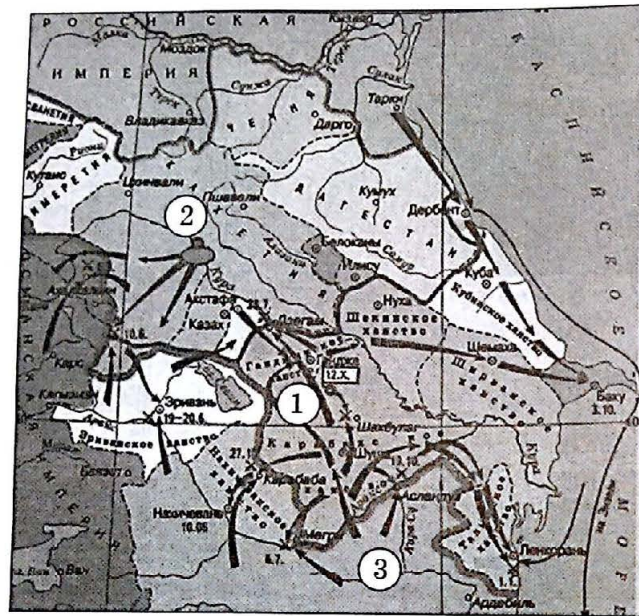
- 1) войну, события которой обозначены на схеме, Россия начала, стремясь получить выход к Черному морю;
- 2) в войне, события которой обозначены на схеме, Россия участвовала в антифранцузской коалиции;
- 3) в войне, которая обозначена на схеме, Россия воевала без союзников;
- 4) по итогам войны, события которой обозначены на схеме, Россия получила территории, обозначенные цифрой 2;
- 5) территории, обозначенные на схеме, отошли от России при Николае I;
- 6) вскоре после событий, обозначенных на схеме, Россия заключила союз с Францией.

Ответ:

--	--	--



Рассмотрите схему и выполните задания В8–В11.



**В8.15.1.** Напишите название города, обозначенного на схеме цифрой 1.

Ответ: \_\_\_\_\_

**В9.15.1.** Напишите название города, обозначенного на схеме цифрой 2.

Ответ: \_\_\_\_\_

**В10.15.1.** Напишите название государства, обозначенного на схеме цифрой 3.

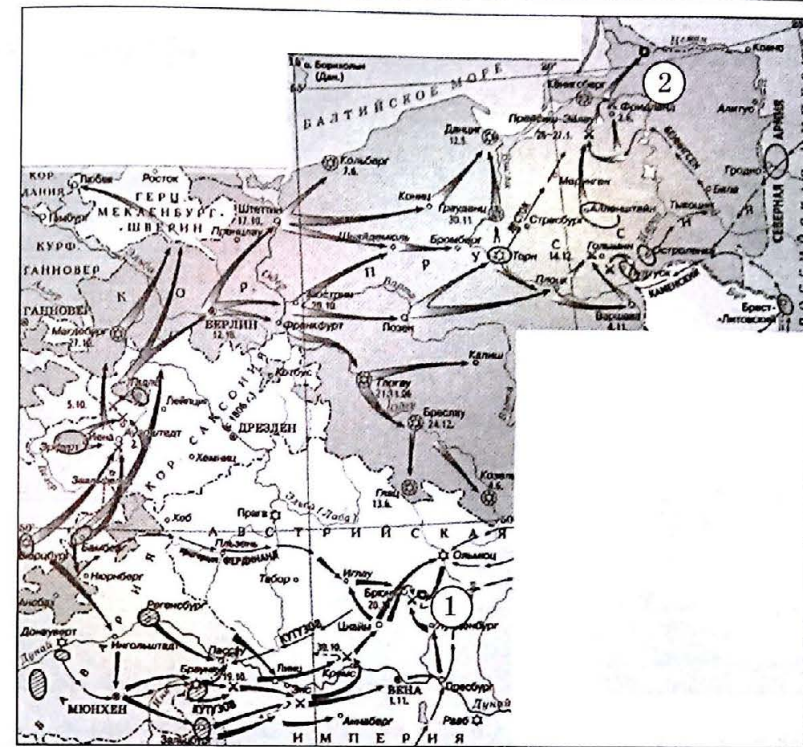
Ответ: \_\_\_\_\_

**В11.15.1.** Какие суждения, относящиеся к событиям, обозначенным на схеме, являются верными? Выберите три суждения из шести предложенных. Запишите в таблицу цифры, под которыми они указаны:

- 1) главнокомандующим русской армией на одном из этапов военных действий, обозначенных на схеме, был А.П. Тормасов;
- 2) военные действия, обозначенные на схеме, закончились заключением союза с Османской империей;
- 3) войну, ход которой обозначен на схеме, Россия проиграла;
- 4) по итогам военных действий, обозначенных на схеме, Россия получила право держать военный флот в Каспийском море;
- 5) война, обозначенная на схеме, длилась четыре года;
- 6) в войне, обозначенной на схеме, Россия несколько раз заключала перемирие с противником.

Ответ:

--	--	--



**В8.15.2.** Напишите название города, обозначенного на схеме цифрой 1.

Ответ: \_\_\_\_\_

**В9.15.2.** Напишите название города, обозначенного цифрой 2.

Ответ: \_\_\_\_\_

**В10.15.2.** Напишите имя полководца, возглавлявшего армию, воевавшую против России в ходе обозначенных на схеме боевых действий.

Ответ: \_\_\_\_\_

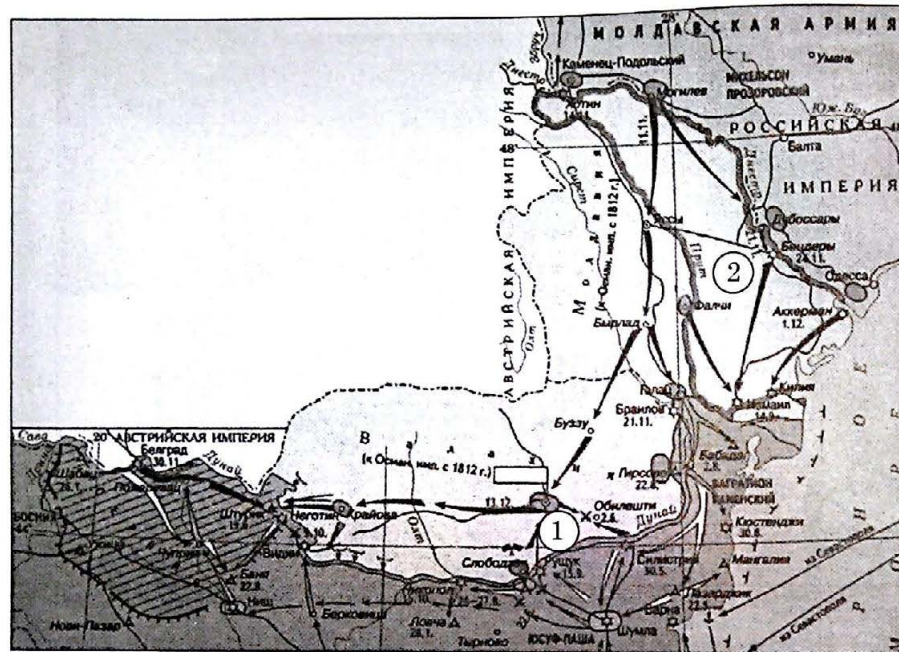
**В11.15.2.** Какие суждения, относящиеся к событиям, обозначенным на схеме, являются верными? Выберите три суждения из шести предложенных. Запишите в таблицу цифры, под которыми они указаны:

- 1) главнокомандующим русской армией на начальном этапе военных действий, обозначенных на схеме, был М.Б. Барклай-де-Толли;
- 2) военные действия, обозначенные на схеме, закончились присоединением России к континентальной блокаде Англии;
- 3) в войне, обозначенной на схеме, Россия воевала в союзе с Австрией;
- 4) по итогам военных действий, обозначенных на схеме, противнику удалось разгромить русскую армию;
- 5) война, обозначенная на схеме, длилась четыре года;
- 6) в войне, обозначенной на схеме, Россия воевала против Пруссии.

Ответ:

--	--	--





**В8.15.3.** Напишите название города, обозначенного на схеме цифрой 1.

Ответ: \_\_\_\_\_.

**В9.15.3.** Напишите название территории, обозначенной на схеме цифрой 2.

Ответ: \_\_\_\_\_.

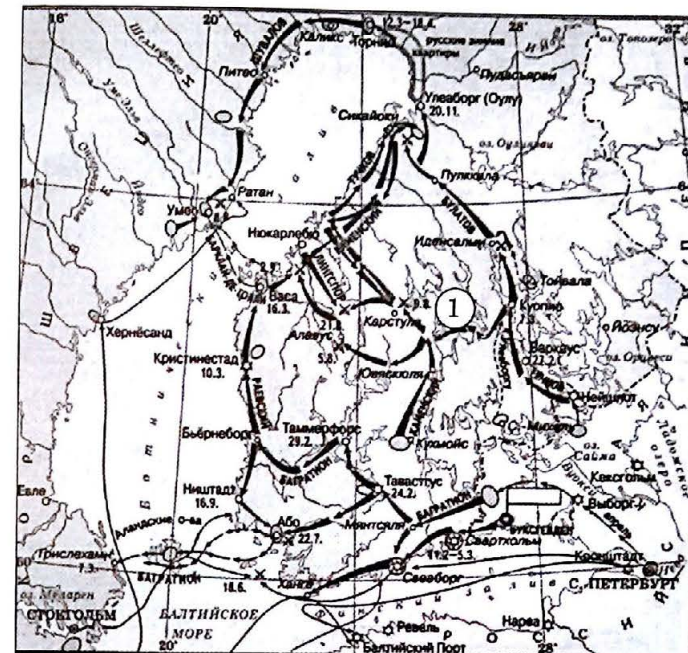
**В10.15.3.** Напишите имя полководца, возглавлявшего армию на заключительном этапе войны, обозначенной на схеме.

Ответ: \_\_\_\_\_.

**В11.15.3.** Какие суждения, относящиеся к событиям, обозначенным на схеме являются верными? Выберите три суждения из шести предложенных. Запишите в таблицу цифры, под которыми они указаны:

- 1) противником России в войне, ход которой обозначен на схеме, была Турция;
- 2) в войне, обозначенной на схеме, союзником России выступала Австрийская империя;
- 3) военные действия, обозначенные на схеме, закончились присоединением России новых территорий;
- 4) по итогам военных действий, обозначенных на схеме, противнику удалось разгромить русскую армию;
- 5) война, обозначенная на схеме, завершилась накануне нападения Наполеона на Россию;
- 6) в войне, обозначенной на схеме, Россия воевала в союзе Ираном.

Ответ: \_\_\_\_\_



**В8.15.4.** Напишите название города, обозначенного на схеме флажком, в котором был подписан мирный договор.

Ответ: \_\_\_\_\_.

**В9.15.4.** Напишите название территории, обозначенной на схеме цифрой 1.

Ответ: \_\_\_\_\_.

**В10.15.4.** Напишите имя русского императора, в годы правления которого произошла война, ход которой обозначен на схеме.

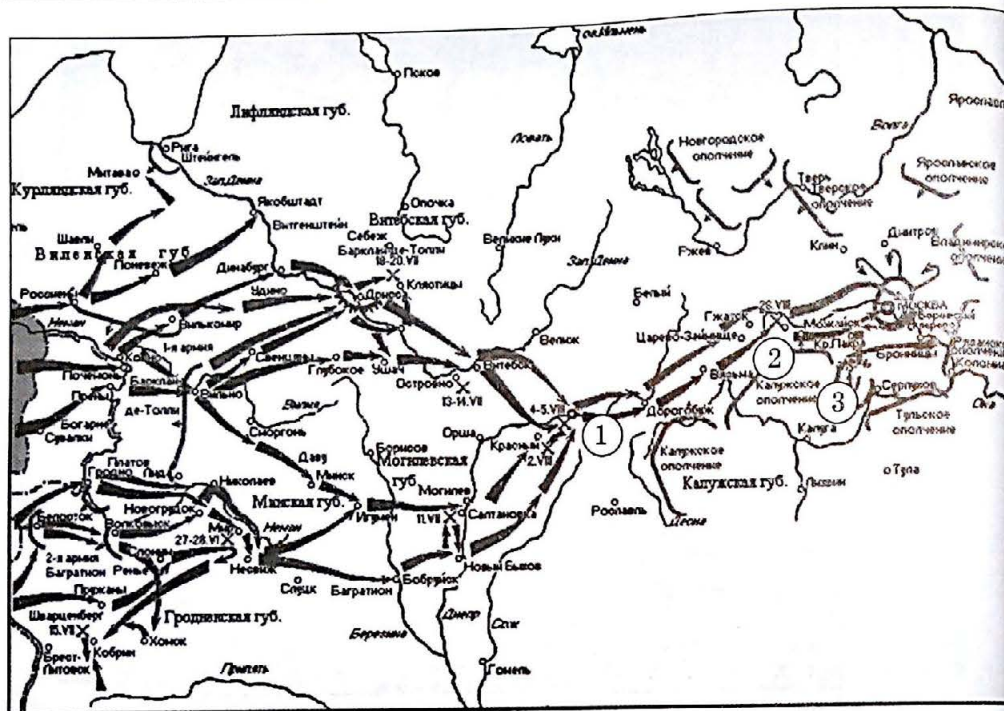
Ответ: \_\_\_\_\_.

**В11.15.4.** Какие суждения, относящиеся к событиям, обозначенным на схеме, являются верными? Выберите три суждения из шести предложенных. Запишите в таблицу цифры, под которыми они указаны:

- 1) одним из противников России в войне, ход которой обозначен на схеме, была Британская империя;
- 2) в войне, обозначенной на схеме, союзником России выступала Франция;
- 3) обозначенные на схеме боевые действия происходили в ходе войны России против наполеоновской Франции;
- 4) по итогам военных действий, обозначенных на схеме, противнику удалось разгромить русскую армию;
- 5) война, обозначенная на схеме, началась нападением Швеции на Россию;
- 6) военные действия, обозначенные на схеме, закончились присоединением к России новых территорий.

Ответ: \_\_\_\_\_





В8.15.5. Напишите название города, обозначенного на схеме цифрой 1.

Ответ: \_\_\_\_\_.

В9.15.5. Напишите название населенного пункта, обозначенного цифрой 2.

Ответ: \_\_\_\_\_.

В10.15.5. Напишите название населенного пункта, обозначенного цифрой 3.

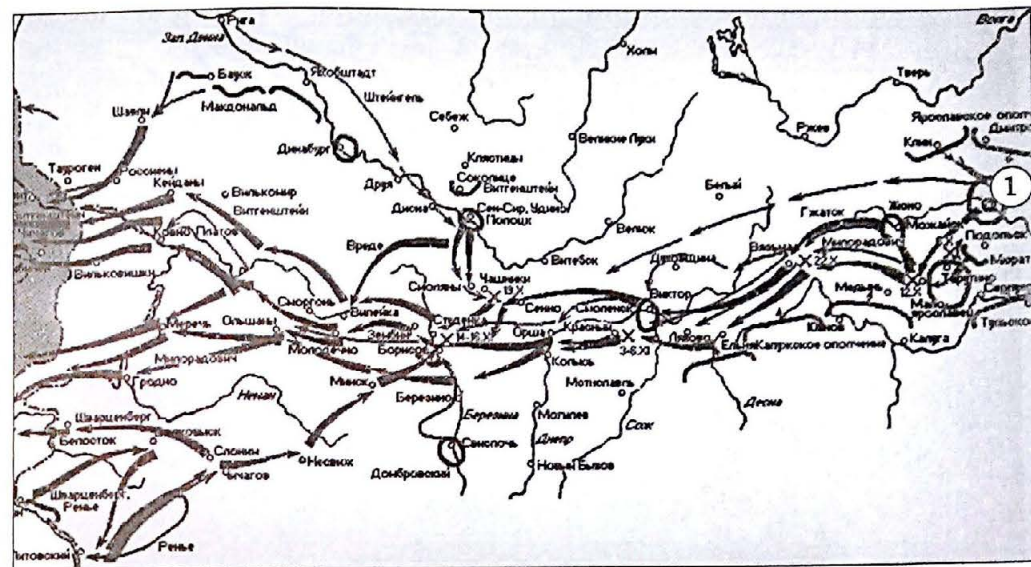
Ответ: \_\_\_\_\_.

В11.15.5. Какие суждения, относящиеся к событиям, обозначенным на схеме являются верными? Выберите три суждения из шести предложенных. Запишите в таблицу цифры, под которыми они указаны:

- 1) главнокомандующим русской армией на начальном этапе военных действий обозначенных на схеме, был М.Б. Барклай-де-Толли;
- 2) военные действия, обозначенные на схеме, закончились захватом столиц России;
- 3) в войне, которая обозначена на схеме, Россия воевала без союзников;
- 4) по итогам военных действий, обозначенных на схеме, противнику удалось разгромить русскую армию;
- 5) война, этап которой обозначен на схеме, длилась четыре года;
- 6) война, события которой обозначены на схеме, началась из-за несоблюдения Россией условий континентальной блокады Англии.

Ответ:

--	--	--



В8.15.6. Напишите название города, обозначенного на схеме цифрой 1.

Ответ: \_\_\_\_\_.

В9.15.6. Напишите фамилию главнокомандующего русской армией во время военных действий, обозначенных на схеме.

Ответ: \_\_\_\_\_.

В10.15.6. Напишите имя главнокомандующего армией противника во время военных действий, обозначенных на схеме.

Ответ: \_\_\_\_\_.

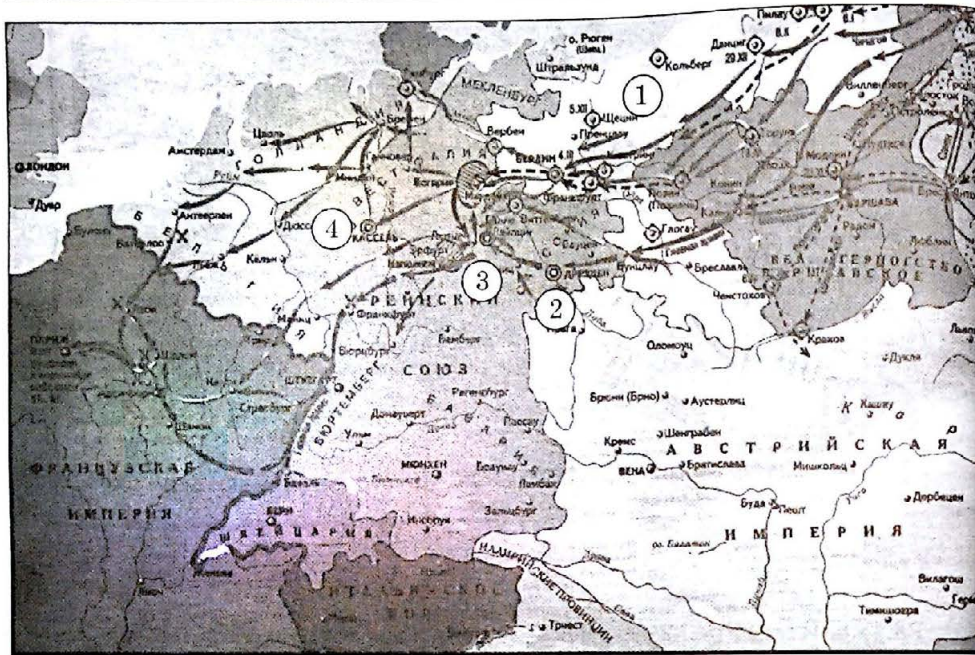
В11.15.6. Какие суждения, относящиеся к событиям, обозначенным на схеме, являются верными? Выберите три суждения из шести предложенных. Запишите в таблицу цифры, под которыми они указаны:

- 1) военные действия, этап которых обозначен на схеме, длились в общей сложности полгода;
- 2) война, этап которой обозначен на схеме, длилась пять лет;
- 3) в войне, которая обозначена на схеме, Россия воевала с коалицией европейских государств;
- 4) по итогам военных действий, обозначенных на схеме, противнику удалось разгромить русскую армию;
- 5) противник русской армии в войне, этап которой обозначен на схеме, использовал тактику партизанских действий;
- 6) военные действия, обозначенные на схеме, закончились разгромом «Великой армии».

Ответ:

--	--	--





В8.15.7. Напишите название государства, обозначенного на схеме цифрой 1.

Ответ: \_\_\_\_\_.

В9.15.7. Напишите фамилию главнокомандующего русской армией на начальном этапе военных действий, обозначенных на схеме.

Ответ: \_\_\_\_\_.

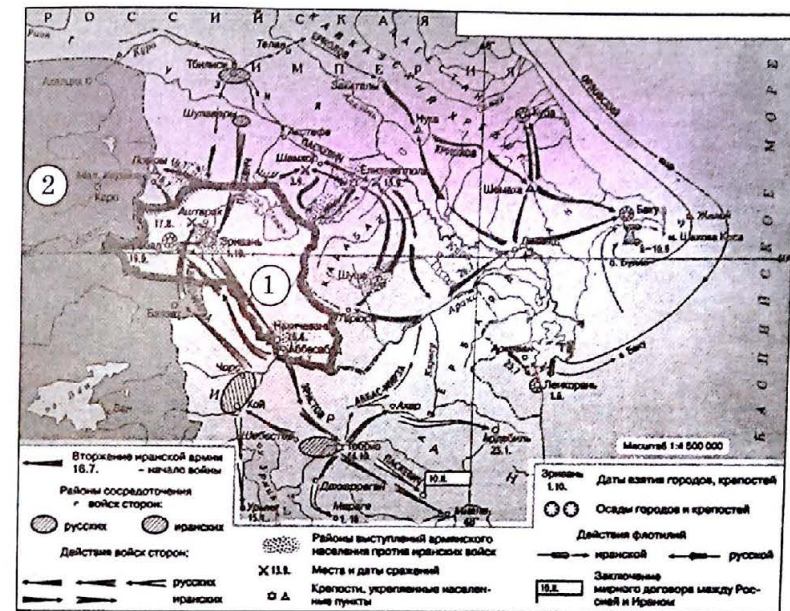
В10.15.7. Напишите цифру, обозначающую город, у которого состоялось крупнейшее сражение изображенных на схеме военных действий.

Ответ: \_\_\_\_\_.

В11.15.7. Какие суждения, относящиеся к событиям, обозначенным на схеме, являются верными? Выберите три суждения из шести предложенных. Запишите в таблицу цифры, под которыми они указаны:

- 1) военные действия, этап которых обозначен на схеме, длились около полутора лет;
- 2) в войне, обозначенной на схеме, участвовали войска Великобритании;
- 3) в ходе войны, обозначенной на схеме, возникла 6-я антифранцузская коалиция;
- 4) итогом военных действий, обозначенных на схеме, стало поражение союзников;
- 5) противник русской армии в войне, этап которой обозначен на схеме, пользовался тактикой партизанских действий;
- 6) военные действия, обозначенные на схеме, закончились распадом Рейнского союза.

Ответ:



В8.16.1. Напишите название территории, обозначенной на схеме цифрой 1.

Ответ: \_\_\_\_\_.

В9.16.1. Напишите название государства, обозначенного на схеме цифрой 2.

Ответ: \_\_\_\_\_.

В10.16.1. Напишите название города, где был заключен мирный договор.

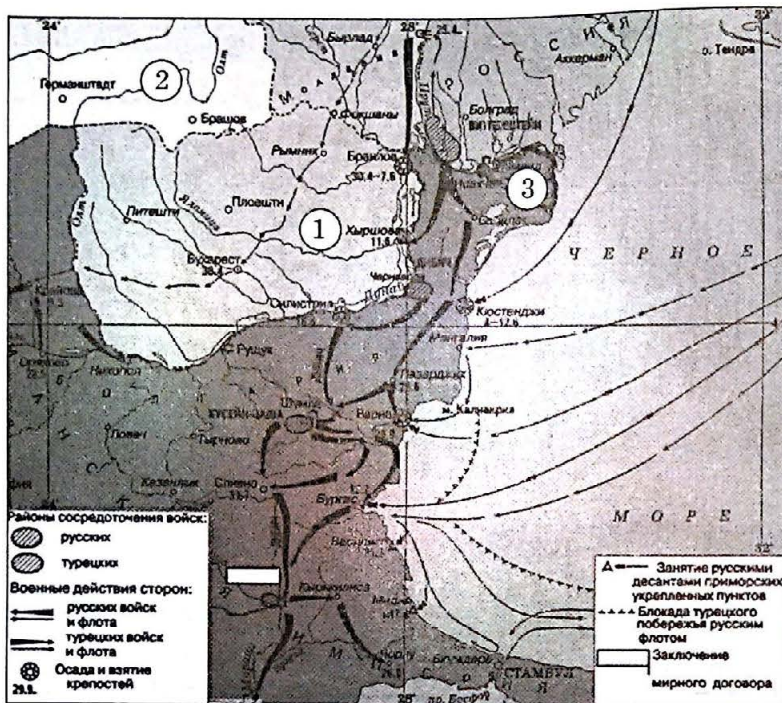
Ответ: \_\_\_\_\_.

В11.16.1. Какие суждения, относящиеся к событиям, обозначенным на схеме, являются верными? Выберите три суждения из шести предложенных. Запишите в таблицу цифры, под которыми они указаны:

- 1) война, обозначенная на схеме, длилась около полутора лет;
- 2) в войне, обозначенной на схеме, участвовали войска Великобритании;
- 3) одной из причин войны, обозначенной на схеме, было стремление Ирана пересмотреть условия Гюлистанского мира;
- 4) итогом военных действий, обозначенных на схеме, стало вступление России в союз с Великобританией;
- 5) в войне, обозначенной на схеме, проявился полководческий талант М.Д. Скобелева;
- 6) военные действия, обозначенные на схеме, закончились распадом Ирана на ряд ханств.

Ответ:





В8.16.2. Напишите название территории, обозначенной на схеме цифрой 1.

Ответ: \_\_\_\_\_.

В9.16.2. Напишите название государства, обозначенного на схеме цифрой 2.

Ответ: \_\_\_\_\_.

В10.16.2. Напишите название города, где был заключен мирный договор.

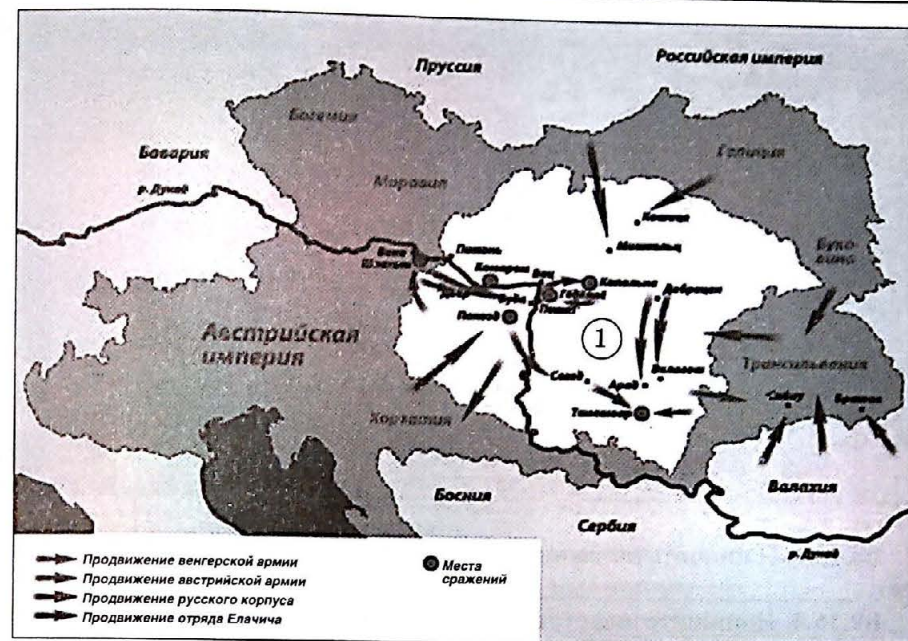
Ответ: \_\_\_\_\_.

В11.16.2. Какие суждения, относящиеся к событиям, обозначенным на схеме являются верными? Выберите три суждения из шести предложенных. Запишите таблицу цифры, под которыми они указаны:

- 1) война, обозначенная на схеме, длилась около трех лет;
- 2) в войне, обозначенной на схеме, были балканский и кавказский театры военных действий;
- 3) одной из причин войны, обозначенной на схеме, было закрытие Турцией черноморских проливов;
- 4) итогом войны, обозначенной на схеме, стало отторжение от России территорий, обозначенных на схеме цифрой 3;
- 5) в войне, обозначенной на схеме, проявился полководческий талант А. В. Суворова;
- 6) итогом войны, обозначенной на схеме, стало предоставление Турцией автономии Греции.

Ответ:

--	--	--



В8.16.3. Напишите название территории, обозначенной на схеме цифрой 1.

Ответ: \_\_\_\_\_.

В9.16.3. Напишите год, когда происходили обозначенные на схеме события.

Ответ: \_\_\_\_\_.

В10.16.3. Напишите фамилию русского генерала, командовавшего русским корпусом, участвовавшим в обозначенных на схеме событиях.

Ответ: \_\_\_\_\_.

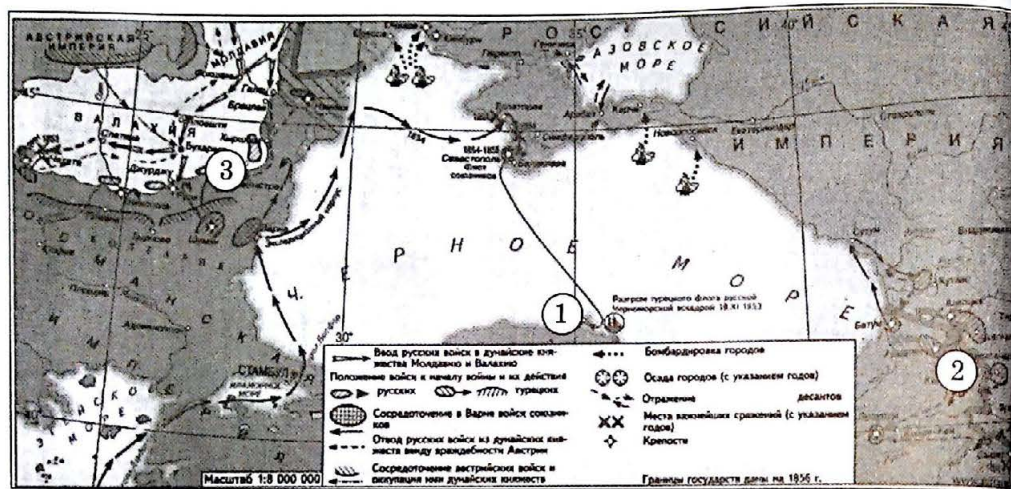
В11.16.3. Какие суждения, относящиеся к событиям, обозначенным на схеме, являются верными? Выберите три суждения из шести предложенных. Запишите в таблицу цифры, под которыми они указаны:

- 1) противником российских войск в событиях, обозначенных на схеме, была коалиция европейских государств;
- 2) в военных действиях, обозначенных на схеме, союзником российских войск выступали войска Австрийской империи;
- 3) в военных действиях, обозначенных на схеме, Россия участвовала в рамках соглашений Союза трех императоров;
- 4) по итогам военных действий, обозначенных на схеме, была подавлена революция;
- 5) вскоре после событий, обозначенных на схеме, Австрийская империя подержала противников России;
- 6) военные действия, обозначенные на схеме, способствовали началу военной реформы в России сразу после их окончания.

Ответ:

--	--	--





**В8.16.4.** Напишите название города, обозначенного на схеме цифрой 1.

Ответ: \_\_\_\_\_.

**В9.16.4.** Напишите цифру, обозначающую город, взятый русскими войсками после длительной осады.

Ответ: \_\_\_\_\_.

**В10.16.4.** Напишите фамилию русского адмирала, командовавшего флотом в сражении у города, обозначенного цифрой 1.

Ответ: \_\_\_\_\_.

**В11.16.4.** Какие суждения, относящиеся к событиям, обозначенным на схеме являются верными? Выберите три суждения из шести предложенных. Запишите таблицу цифры, под которыми они указаны:

1) противником России в войне, ход которой обозначен на схеме, была коалиция европейских государств;

2) в войне, обозначенной на схеме, союзником России выступала Австрийская империя;

3) в войне, обозначенной на схеме, Россия воевала без союзников;

4) по итогам военных действий, обозначенных на схеме, противнику удалось захватить главную базу флота на Черном море;

5) мирный договор, завершивший войну, ход которой обозначен на схеме, предусматривал запрет России держать военный флот в Черном море;

6) военные действия, обозначенные на схеме, способствовали началу проведения в России масштабных реформ в различных сферах общества.

Ответ:

--	--	--

Рассмотрите схему и выполните задания В8–В11.



**В8.17.1.** Напишите название территории, обозначенной на схеме цифрой 1.

Ответ: \_\_\_\_\_.

**В9.17.1.** Напишите год, когда территория, обозначенная на схеме цифрой 1, перешла во владение США.

Ответ: \_\_\_\_\_.

**В10.17.2.** Напишите императора, при котором территория, обозначенная на схеме цифрой 1, перешла во владение США.

Ответ: \_\_\_\_\_.

**В11.17.2.** Какие суждения, относящиеся к событиям, обозначенным на схеме, являются верными? Выберите три суждения из шести предложенных. Запишите в таблицу цифры, под которыми они указаны:

1) Россия присоединила территории, обозначенные на схеме, военным путем;

2) территории, обозначенные на схеме, вошли в состав России после Крымской войны;

3) территории, обозначенные на схеме, были открыты экспедицией Ф.Ф. Беллинсгаузена и М.П. Лазарева;

4) первым русским губернатором территорий, обозначенных на схеме, был А.А. Баранов;

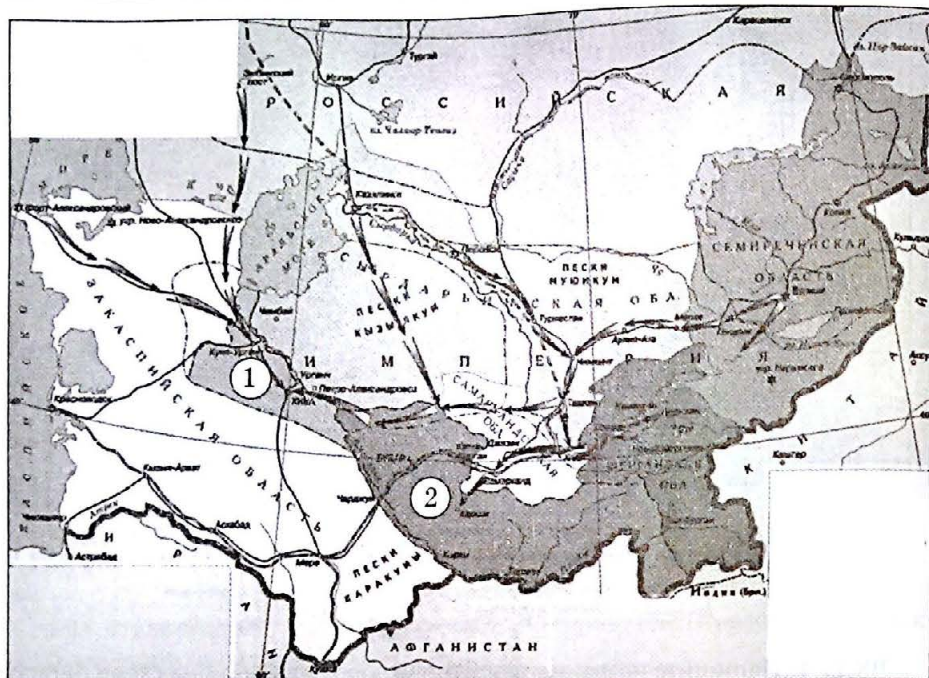
5) граница территории, обозначенной на схеме, была установлена договорами с Великобританией и США;

6) деньги, вырученные от продажи территорий, обозначенных на схеме, пошли на строительство железных дорог в России.

Ответ:

--	--	--





**В8.17.2.** Напишите название государства, обозначенного на схеме цифрой 1.

Ответ: \_\_\_\_\_.

**В9.17.2.** Напишите название государства, обозначенного на схеме цифрой 2.

Ответ: \_\_\_\_\_.

**В10.17.2.** Напишите имя императора, при котором происходили обозначенные на схеме военные походы.

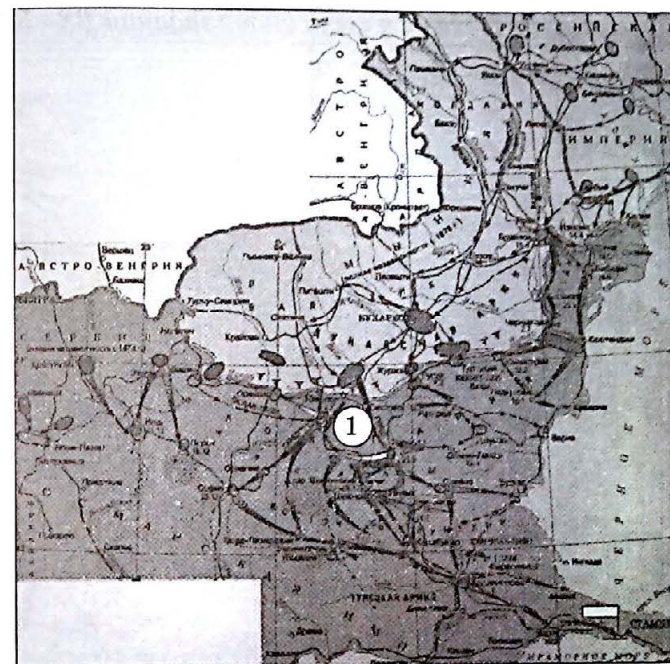
Ответ: \_\_\_\_\_.

**В11.17.2.** Какие суждения, относящиеся к событиям, обозначенным на схеме являются верными? Выберите три суждения из шести предложенных. Запишите в таблицу цифры, под которыми они указаны:

- 1) Россия присоединила территории, обозначенные на схеме, за год;
- 2) территории, обозначенные на схеме, вошли в состав России после Крымской войны;
- 3) территории, обозначенные на схеме, были исследованы экспедицией Г.И. Невельского;
- 4) во время присоединения территорий, обозначенных на схеме, проявился полководческий талант М.Д. Скобелева;
- 5) граница присоединенных территорий была установлена договорами с Великобританией;
- 6) территории, обозначенные на схеме, были впоследствии проданы Великобритании.

Ответ:

--	--	--



**В8.17.3.** Напишите название города, обозначенного на схеме цифрой 1.

Ответ: \_\_\_\_\_.

**В9.17.3.** Напишите название города, обозначенного на схеме флажком.

Ответ: \_\_\_\_\_.

**В10.17.3.** Напишите имя императора, в годы правления которого произошла война, ход которой обозначен на схеме.

Ответ: \_\_\_\_\_.

**В11.17.3.** Какие суждения, относящиеся к событиям, обозначенным на схеме, являются верными? Выберите три суждения из шести предложенных. Запишите в таблицу цифры, под которыми они указаны:

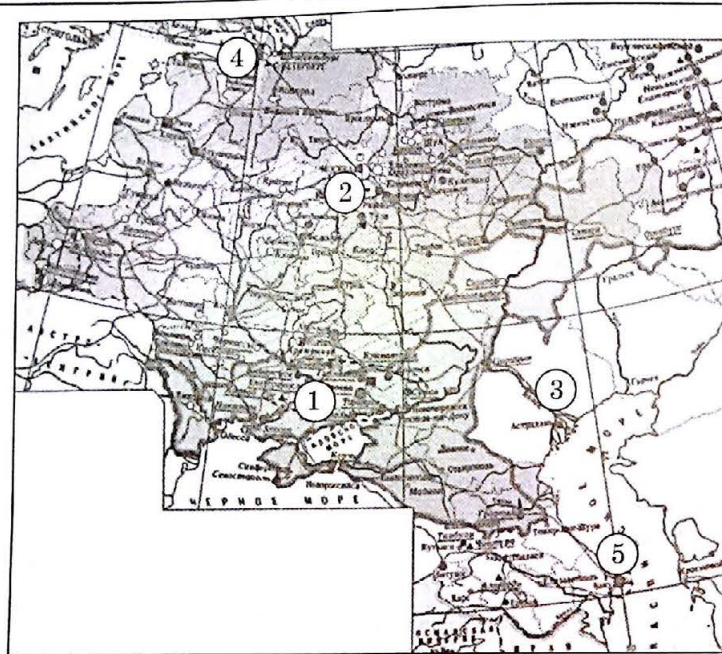
- 1) противником России в войне, ход которой обозначен на схеме, была Турция;
- 2) в войне, обозначенной на схеме, союзником России выступала Австрийская империя;
- 3) военные действия, обозначенные на схеме, закончились присоединением к России новых территорий;
- 4) по итогам военных действий, обозначенных на схеме, противнику удалось разгромить русскую армию;
- 5) итоги войны, ход которой обозначен на схеме, были пересмотрены на Берлинском конгрессе;
- 6) в войне, обозначенной на схеме, Россия воевала без союзников.

Ответ:

--	--	--



Рассмотрите схему и выполните задания В8–В11.



**В8.18.1.** Напишите цифру, обозначающую один из районов размещения иностранного капитала в России.

Ответ: \_\_\_\_\_.

**В9.18.1.** Напишите цифру, обозначающую столицу России в конце XIX в.

Ответ: \_\_\_\_\_.

**В10.18.1.** Напишите цифру, обозначающую район, где в конце XIX в. добывалась основная часть российской нефти.

Ответ: \_\_\_\_\_.

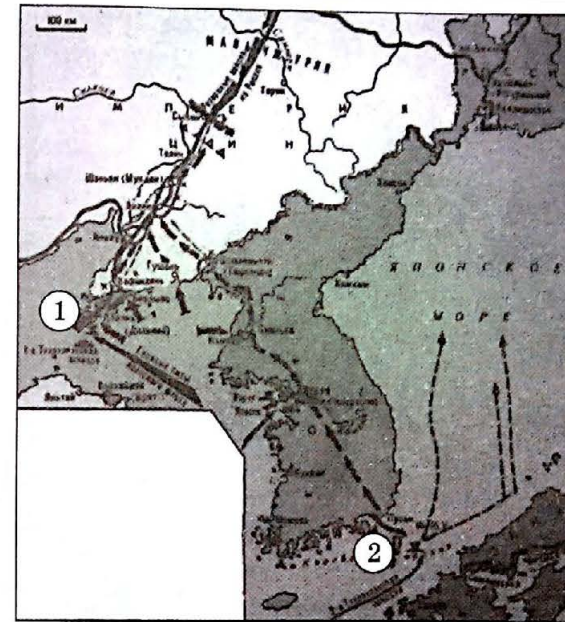
**В11.18.1.** Какие суждения, относящиеся к событиям, обозначенным на схеме, являются верными? Выберите три суждения из шести предложенных. Запишите в таблицу цифры, под которыми они указаны:

- 1) в период времени, обозначенный на схеме, в России отменили оброк;
- 2) в период времени, обозначенный на схеме, в России появились монополии;
- 3) в период времени, обозначенный на схеме, в России существовали ярмарки как центры торговли;
- 4) в период времени, обозначенный на схеме, в России многие промышленные предприятия были казенные (государственные);
- 5) в период времени, обозначенный на схеме, в России почти не строили железных дорог;
- 6) в период времени, обозначенный на схеме, Россия продала Аляску США.

Ответ:

--	--	--

Рассмотрите схему и выполните задания В8–В11.



**В8.19.1.** Напишите название города, обозначенного на схеме цифрой 1.

Ответ: \_\_\_\_\_.

**В9.19.1.** Напишите название сражения, обозначенного на схеме цифрой 2.

Ответ: \_\_\_\_\_.

**В10.19.1.** Напишите имя российского императора, в годы правления которого происходили обозначенные на схеме события.

Ответ: \_\_\_\_\_.

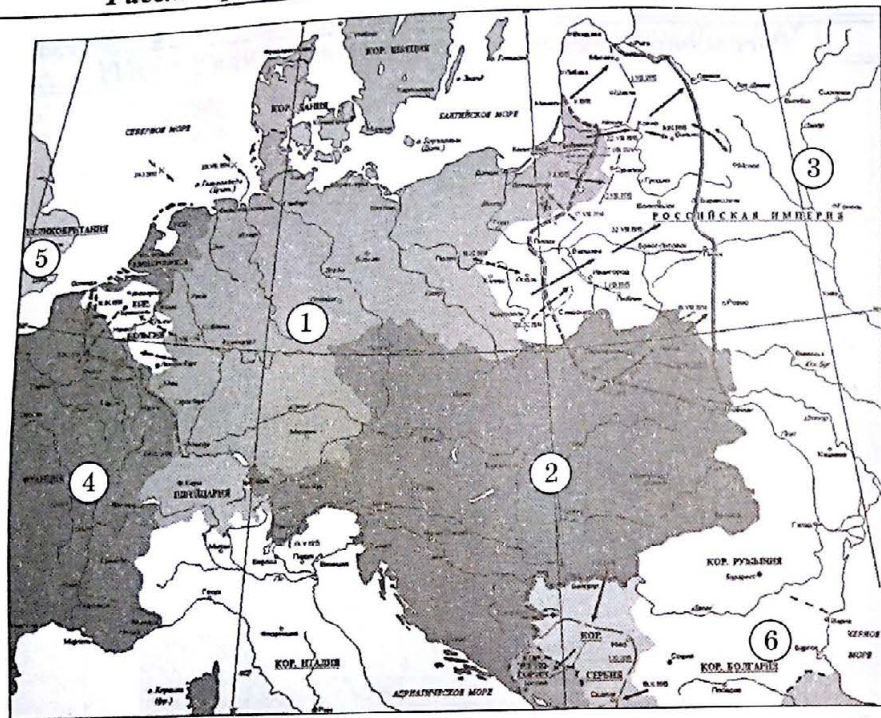
**В11.19.1.** Какие суждения, относящиеся к событиям, обозначенным на схеме, являются верными? Выберите три суждения из шести предложенных. Запишите в таблицу цифры, под которыми они указаны:

- 1) русская армия выиграла все сухопутные сражения обозначенной войны;
- 2) большую помощь стране—противнику России оказала Великобритания;
- 3) сухопутными русскими войсками в обозначенной на схеме войне командовал генерал А.А. Брусилов;
- 4) по итогам войны, обозначенной на схеме, Россия получила права аренды незамерзающего морского порта в Китае;
- 5) военно-морскими силами России в обозначенной на схеме войне командовали адмиралы С.О. Макаров и З.П. Рождественский;
- 6) мирный договор, завершивший обозначенную на схеме войну, подписал С.Ю. Витте.

Ответ:

--	--	--





**В8.19.2.** Напишите название государства, обозначенного на схеме цифрой 1.

Ответ: \_\_\_\_\_

**В9.19.2.** Напишите название государства, обозначенного на схеме цифрой 2.

Ответ: \_\_\_\_\_

**В10.19.2.** Напишите цифру, обозначающую государство, не входившее в Антанту.

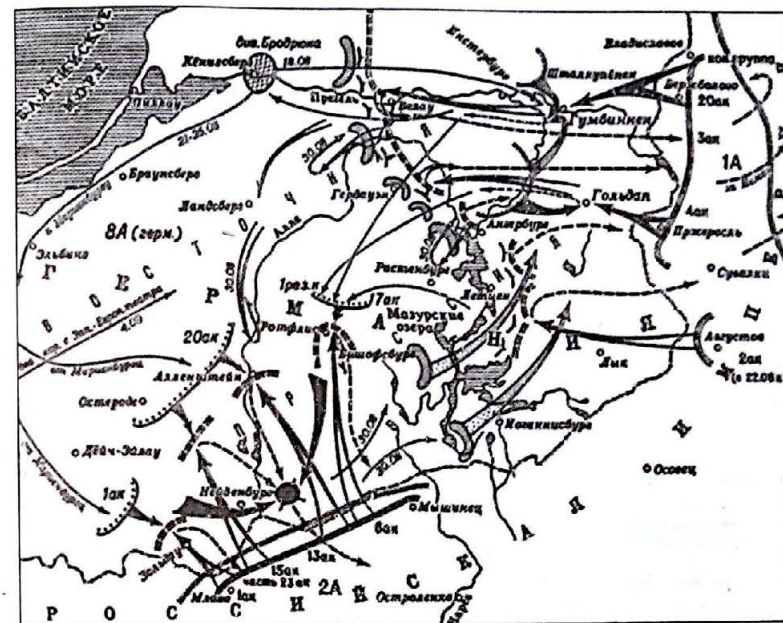
Ответ: \_\_\_\_\_

**В11.19.2.** Какие суждения, относящиеся к событиям, обозначенным на схеме, являются верными? Выберите три суждения из шести предложенных. Запишите в таблицу цифры, под которыми они указаны:

- 1) военные действия, в результате которых Россия потеряла большое число солдат и офицеров, длились в общей сложности три с половиной года;
- 2) обозначенные на схеме события относятся к Первой мировой войне;
- 3) обозначенные на схеме события относятся ко Второй мировой войне;
- 4) события, обозначенные на схеме, относятся к завершающему периоду войны;
- 5) два государства из числа обозначенных на схеме цифрами в результате войны распались;
- 6) в обозначенных на схеме военных действиях принимали участие войска экспедиционного корпуса из Швеции.

Ответ: \_\_\_\_\_

--	--	--



**В8.19.3.** Напишите фамилию русского генерала, командовавшего 1-й армией в ходе событий, обозначенных на схеме.

Ответ: \_\_\_\_\_

**В9.19.3.** Напишите фамилию русского генерала, командовавшего 2-й армией в ходе событий, обозначенных на схеме.

Ответ: \_\_\_\_\_

**В10.19.3.** Напишите имя российского императора, в годы правления которого происходили обозначенные на схеме события.

Ответ: \_\_\_\_\_

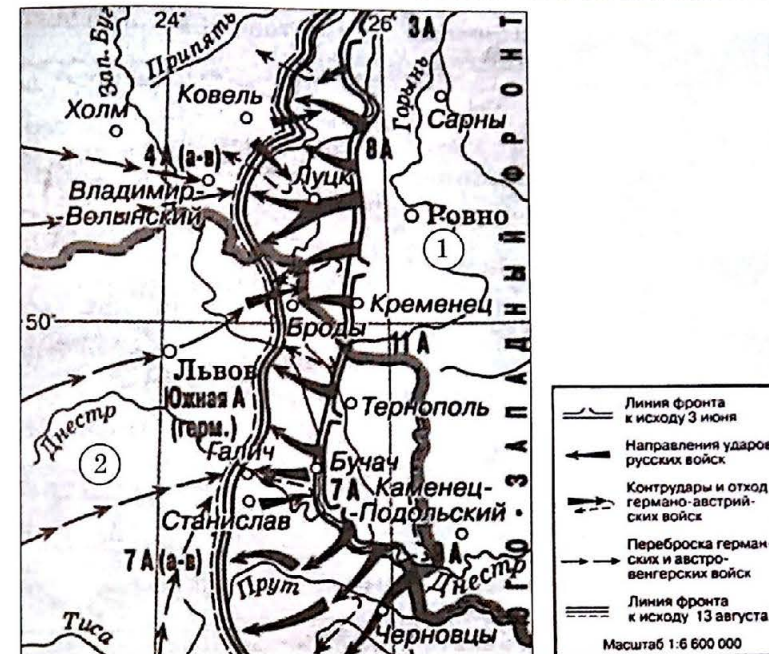
**В11.19.3.** Какие суждения, относящиеся к событиям, обозначенным на схеме, являются верными? Выберите три суждения из шести предложенных. Запишите в таблицу цифры, под которыми они указаны:

- 1) война, этап которой обозначен на схеме, длилась более четырех лет;
- 2) обозначенные на схеме события относятся к Первой мировой войне;
- 3) обозначенные на схеме события относятся к Гражданской войне в России;
- 4) обозначенные на схеме события относятся к Великой Отечественной войне;
- 5) главнокомандующим русской армией на момент обозначенных на схеме событий был представителем правящей в России династии;
- 6) в обозначенных на схеме событиях участвовали войска страны, входившей в Северный союз.

Ответ: \_\_\_\_\_

--	--	--





В8.19.5. Напишите название государства, обозначенного на схеме цифрой 1.

Ответ: \_\_\_\_\_

В9.19.5. Напишите название государства, обозначенного на схеме цифрой 2.

Ответ: \_\_\_\_\_

В10.19.5. Напишите фамилию российского полководца, командовавшего русскими войсками в ходе обозначенных на схеме событий.

Ответ: \_\_\_\_\_

В11.19.5. Какие суждения, относящиеся к событиям, обозначенным на схеме, являются верными? Выберите три суждения из шести предложенных. Запишите в таблицу цифры, под которыми они указаны:

- 1) обозначенные на схеме события относятся к Первой мировой войне;
- 2) обозначенные на схеме события относятся к гражданской войне в России;
- 3) обозначенные на схеме события относятся к Великой Отечественной войне;
- 4) в обозначенных на схеме событиях участвовали войска страны, входившей в Антанту;
- 5) итогом войны, одно из сражений которой обозначено на схеме, стал распад государств, обозначенных цифрами 1 и 2;
- 6) в обозначенных на схеме событиях участвовали войска страны, входившей в Священную лигу.

Ответ: \_\_\_\_\_

--	--	--

В8.19.4. Напишите название военной операции, ход которой обозначен на схеме.

В9.19.4. Напишите имя российского императора, в годы правления которого происходили обозначенные на схеме события.

Ответ: \_\_\_\_\_

В10.19.4. Напишите название военно-политического союза, в который входила страна, против армии которой сражались русские войска в ходе операции, обозначенной на схеме.

Ответ: \_\_\_\_\_

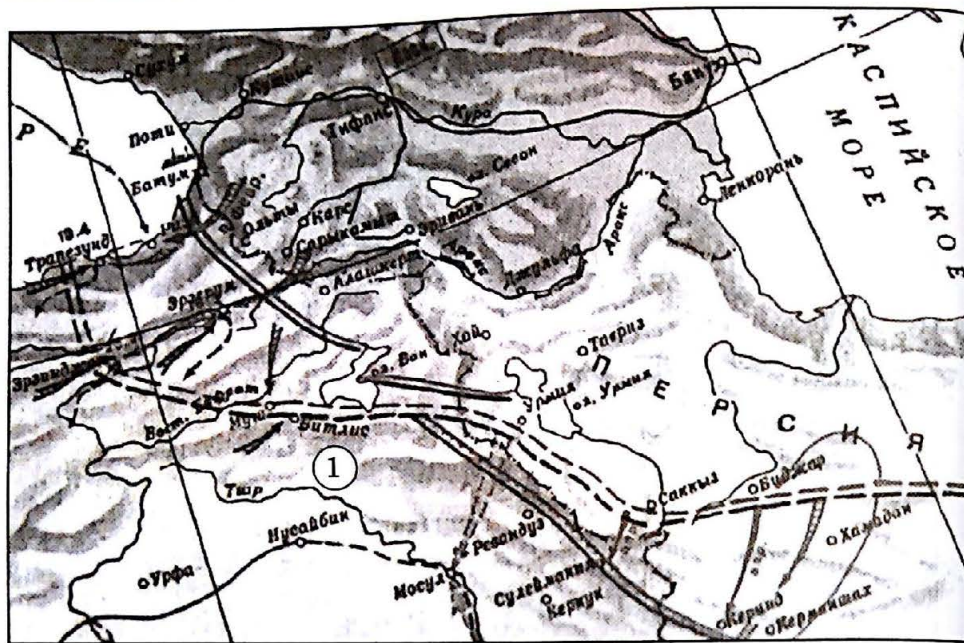
В11.19.4. Какие суждения, относящиеся к событиям, обозначенным на схеме, являются верными? Выберите три суждения из шести предложенных. Запишите в таблицу цифры, под которыми они указаны:

- 1) война, одно из сражений которой обозначено на схеме, длилась более шести лет;
- 2) обозначенные на схеме события относятся к Первой мировой войне;
- 3) обозначенная на схеме операция завершилась неудачно для русской армии;
- 4) обозначенные на схеме события относятся к Великой Отечественной войне;
- 5) главнокомандующим русской армией на момент обозначенных на схеме событий был Российский император;
- 6) в обозначенных на схеме событиях участвовали войска страны, входившей в Священный союз.

Ответ: \_\_\_\_\_

--	--	--





**В8.19.6.** Напишите название государства, обозначенного на схеме цифрой 1.

Ответ: \_\_\_\_\_.

**В9.19.6.** Напишите имя главнокомандующего русской армией, в годы руководства которого происходили обозначенные на схеме события.

Ответ: \_\_\_\_\_.

**В10.19.6.** Напишите фамилию российского полководца, командовавшего русскими войсками в ходе обозначенных на схеме событий.

Ответ: \_\_\_\_\_.

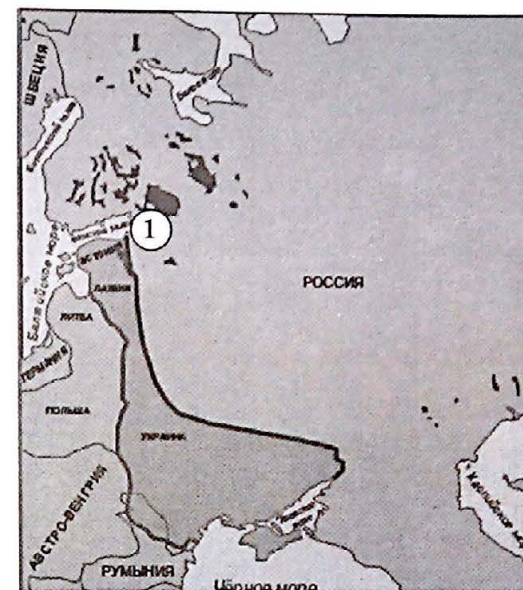
**В11.19.6.** Какие суждения, относящиеся к событиям, обозначенным на схеме являются верными? Выберите три суждения из шести предложенных. Запишите таблицу цифры, под которыми они указаны:

- 1) военные действия, ход которых обозначен на схеме, длились в общей сложности полтора года;
- 2) обозначенные на схеме события относятся к Кавказской войне;
- 3) обозначенные на схеме события относятся к Первой мировой войне;
- 4) обозначенные на схеме события относятся к Гражданской войне в России;
- 5) в обозначенных на схеме событиях участвовали войска страны, входившие в Антанту;
- 6) в обозначенных на схеме событиях участвовали войска страны, входившие в Четверной союз.

Ответ:

--	--	--

Рассмотрите схему и выполните задания В8–В11.



**В8.20.1.** Напишите название города, обозначенного на схеме цифрой 1.

Ответ: \_\_\_\_\_.

**В9.20.1.** Напишите год, в котором от России отошли обозначенные на карте территории.

Ответ: \_\_\_\_\_.

**В10.20.1.** Напишите название города, где был подписан договор, по которому Россия теряла обозначенные на карте территории.

Ответ: \_\_\_\_\_.

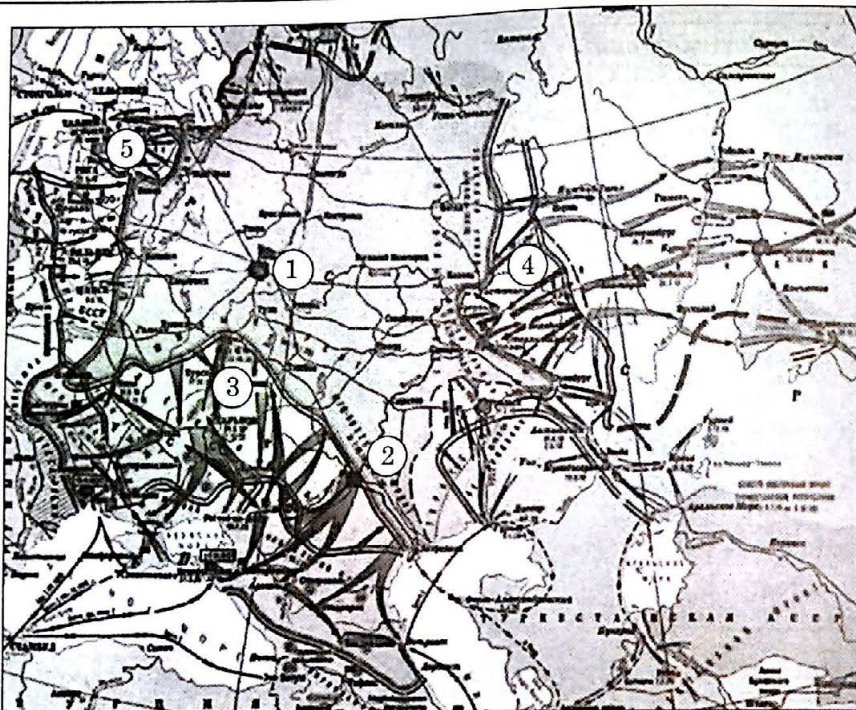
**В11.20.1.** Какие суждения, относящиеся к событиям, обозначенным на схеме, являются верными? Выберите три суждения из шести предложенных. Запишите таблицу цифры, под которыми они указаны:

- 1) военные действия, в результате которых Россия потеряла обозначенные на схеме территории, длились в общей сложности три с половиной года;
- 2) обозначенные на схеме события относятся к Первой мировой войне;
- 3) обозначенные на схеме события относятся ко Второй мировой войне;
- 4) события, обозначенные на схеме, относятся к «десяти сталинским ударам»;
- 5) на территориях, обозначенных на схеме, вскоре после их отторжения от России возникли новые государства;
- 6) обозначенные на схеме территории были захвачены войсками Великобритании, США и Франции.

Ответ:

--	--	--





В8.20.2. Напишите название города, обозначенного на схеме цифрой 1.

Ответ: \_\_\_\_\_

В9.20.2. Напишите название города, обозначенного на схеме цифрой 2.

Ответ: \_\_\_\_\_

В10.20.2. Напишите цифру, которой на схеме обозначено направление, по которому наступали войска под командованием генерала А.И. Деникина.

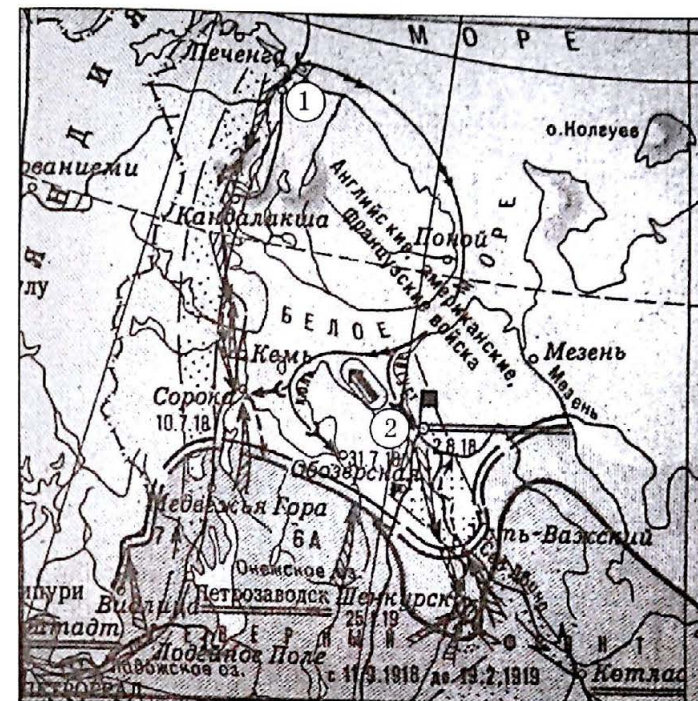
Ответ: \_\_\_\_\_

В11.20.2. Какие суждения, относящиеся к событиям, обозначенным на схеме являются верными? Выберите три суждения из шести предложенных. Запишите таблицу цифры, под которыми они указаны:

- 1) военные действия, ход которых обозначен на схеме, длились в общей сложности два с половиной года;
- 2) обозначенные на схеме события относятся к Великой Отечественной войне;
- 3) обозначенные на схеме события относятся к Гражданской войне в России;
- 4) события, обозначенные на схеме, относятся к «десяти сталинским ударам»;
- 5) итогом событий, обозначенных на схеме, стало освобождение Закарпатской Украины;
- 6) в обозначенных на схеме событиях участвовали войска Великобритании, США, Франции, Японии.

Ответ: \_\_\_\_\_

--	--	--



В8.20.3. Напишите название города, обозначенного на схеме цифрой 1.

Ответ: \_\_\_\_\_

В9.20.3. Напишите название города, обозначенного на схеме цифрой 2.

Ответ: \_\_\_\_\_

В10.20.3. Напишите название мероприятия, в рамках которого в обозначенных на схеме районах появились войска США, Великобритании и Франции.

Ответ: \_\_\_\_\_

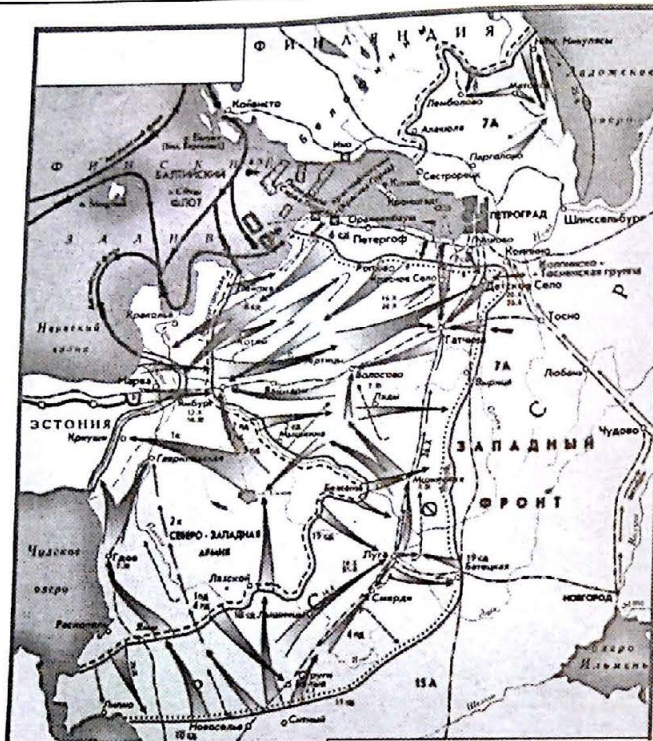
В11.20.3. Какие суждения, относящиеся к событиям, обозначенным на схеме, являются верными? Выберите три суждения из шести предложенных. Запишите таблицу цифры, под которыми они указаны:

- 1) военные действия, ход которых обозначен на схеме, длились в общей сложности два с половиной года;
- 2) обозначенные на схеме события относятся к Великой Отечественной войне;
- 3) обозначенные на схеме события относятся к Гражданской войне в России;
- 4) события, обозначенные на схеме, относятся к «десяти сталинским ударам»;
- 5) итогом событий, обозначенных на схеме, стало освобождение Заполярья частями Красной Армии;
- 6) в обозначенных на схеме событиях участвовали войска стран Антанты.

Ответ: \_\_\_\_\_

--	--	--





**В8.20.4.** Напишите фамилию командующего войсками Северо-Западной армии.

Ответ: \_\_\_\_\_.

**В9.20.4.** Напишите название союза государств, помогавшего Северо-Западной армии оружием и снаряжением.

Ответ: \_\_\_\_\_.

**В10.20.4.** Напишите год, в котором происходили события, обозначенные на схеме.

Ответ: \_\_\_\_\_.

**В11.20.4.** Какие суждения, относящиеся к событиям, обозначенным на схеме являются верными? Выберите три суждения из шести предложенных. Запишите таблицу цифры, под которыми они указаны:

- 1) события, обозначенные на схеме, длились в общей сложности четыре месяца;
- 2) обозначенные на схеме события относятся к гражданской войне в России;
- 3) обозначенные на схеме события относятся к Первой мировой войне;
- 4) события, обозначенные на схеме, относятся к «десяти сталинским ударам»;
- 5) итогом событий, обозначенных на схеме, стала победа Красной Армии;
- 6) в обозначенных на схеме событиях участвовали войска стран Четверного

союза.

Ответ:

--	--	--	--	--	--



**В8.20.5.** Напишите год, в котором происходили события, обозначенные на схеме.

Ответ: \_\_\_\_\_.

**В9.20.5.** Напишите фамилию командующего Добровольческой армией.

Ответ: \_\_\_\_\_.

**В10.20.5.** Напишите фамилию командующего 4-го Донского кавалерийского корпуса.

Ответ: \_\_\_\_\_.

**В11.20.5.** Какие суждения, относящиеся к событиям, обозначенным на схеме, являются верными? Выберите три суждения из шести предложенных. Запишите в таблицу цифры, под которыми они указаны:

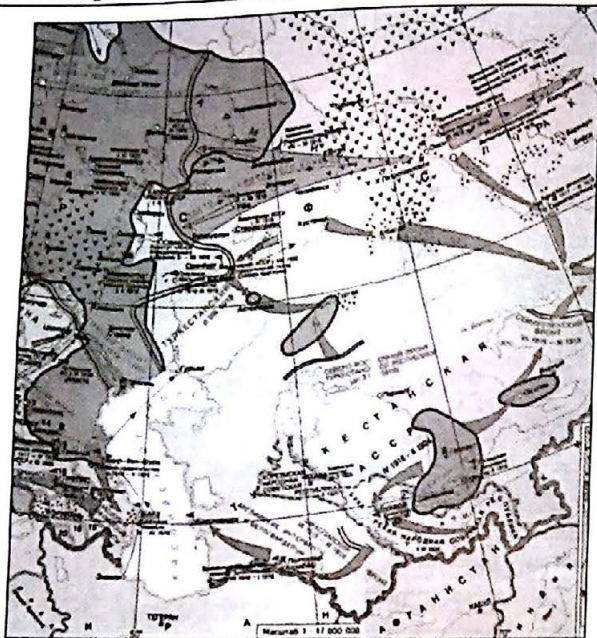
- 1) события, обозначенные на схеме, длились в общей сложности месяц;
- 2) обозначенные на схеме события относятся к Гражданской войне в России;
- 3) события, обозначенные на схеме, относятся к Первой мировой войне;
- 4) в ходе обозначенных на схеме событий Добровольческой армии помогали страны Антанты;
- 5) итогом событий, обозначенных на схеме, стала победа Белой армии;
- 6) в обозначенных на схеме событиях участвовали войска стран Четверного

союза.

Ответ:

--	--	--	--	--	--





**В8.20.6.** Напишите название периода истории России, когда происходили обозначенные на схеме события.

Ответ: \_\_\_\_\_.

**В9.20.6.** Напишите название союза государств, помогавшего одной из сторон конфликта, обозначенного на схеме, оружием и снаряжением.

Ответ: \_\_\_\_\_.

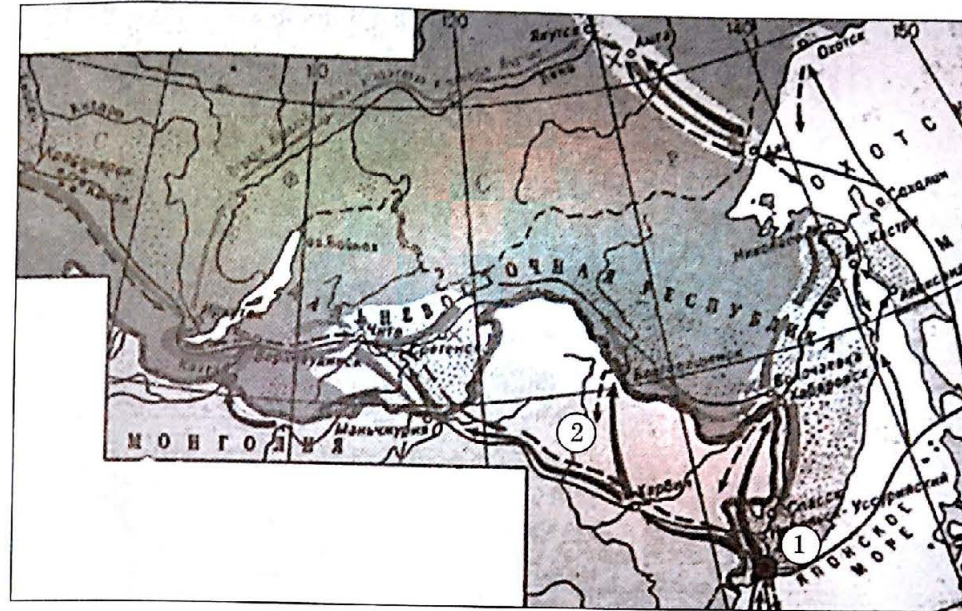
**В10.20.6.** Напишите фамилию руководителя Российского государства в период, в котором происходили события, обозначенные на схеме.

Ответ: \_\_\_\_\_.

**В11.20.6.** Какие суждения, относящиеся к событиям, обозначенным на схеме являются верными? Выберите три суждения из шести предложенных. Запишите таблицу цифры, под которыми они указаны:

- 1) события, обозначенные на схеме, длились полгода;
- 2) обозначенные на схеме события относятся к концу XIX в.;
- 3) одной из сторон в обозначенных на схеме военных действиях была Красная Армия;
- 4) в военных действиях, обозначенных на схеме, участвовали отряды батальонов;
- 5) итогом событий, обозначенных на схеме, стало установление советской власти на территориях, обозначенных на схеме;
- 6) отдельные эпизоды событий, обозначенных на схеме, запечатлены на картинах художника-баталиста В.В. Верещагина.

Ответ:



**В8.20.7.** Напишите название города, обозначенного на схеме цифрой 1.

Ответ: \_\_\_\_\_.

**В9.20.7.** Напишите название государства, обозначенного на схеме цифрой 2.

Ответ: \_\_\_\_\_.

**В10.20.7.** Напишите название мероприятия, в рамках которого в обозначенных на схеме районах появились войска Японии.

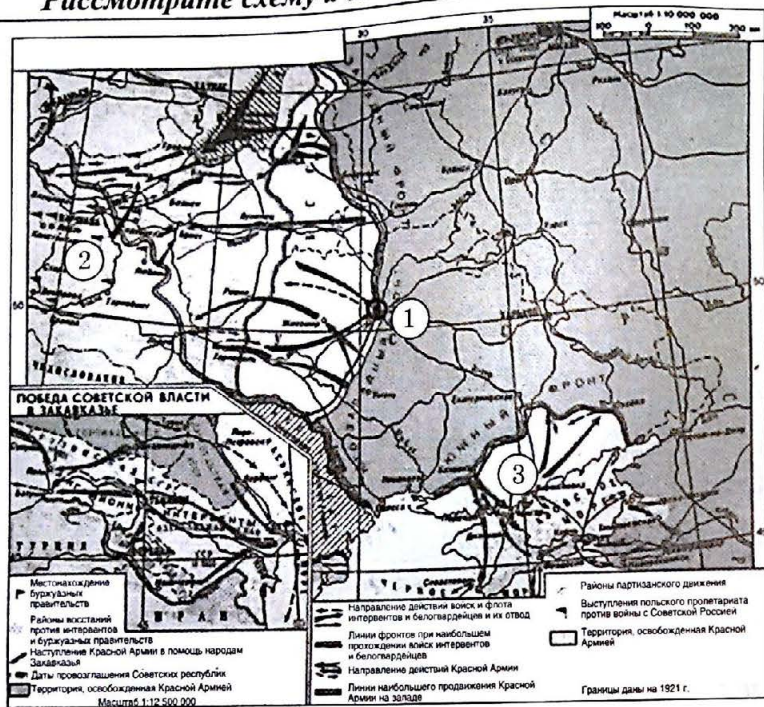
Ответ: \_\_\_\_\_.

**В11.20.7.** Какие суждения, относящиеся к событиям, обозначенным на схеме, являются верными? Выберите три суждения из шести предложенных. Запишите в таблицу цифры, под которыми они указаны:

- 1) военные действия, ход которых обозначен на схеме, длились в общей сложности два с половиной года;
- 2) обозначенные на схеме события относятся к «особому периоду» Великой Отечественной войны;
- 3) обозначенные на схеме события относятся к периоду Гражданской войны в России;
- 4) события, обозначенные на схеме, привели к отторжению от России южной части острова Сахалин;
- 5) итогом событий, обозначенных на схеме, стало освобождение Приморья частями Красной Армии;
- 6) в обозначенных на схеме событиях участвовали войска стран Антанты.

Ответ:





**В8.20.8.** Напишите название города, обозначенного на схеме цифрой 1.

Ответ: \_\_\_\_\_

**В9.20.8.** Напишите название государства, обозначенного на схеме цифрой 2.

Ответ: \_\_\_\_\_

**В10.20.8.** Напишите фамилию военачальника, против которого сражались войска Южного фронта в месте, обозначенном на схеме цифрой 3.

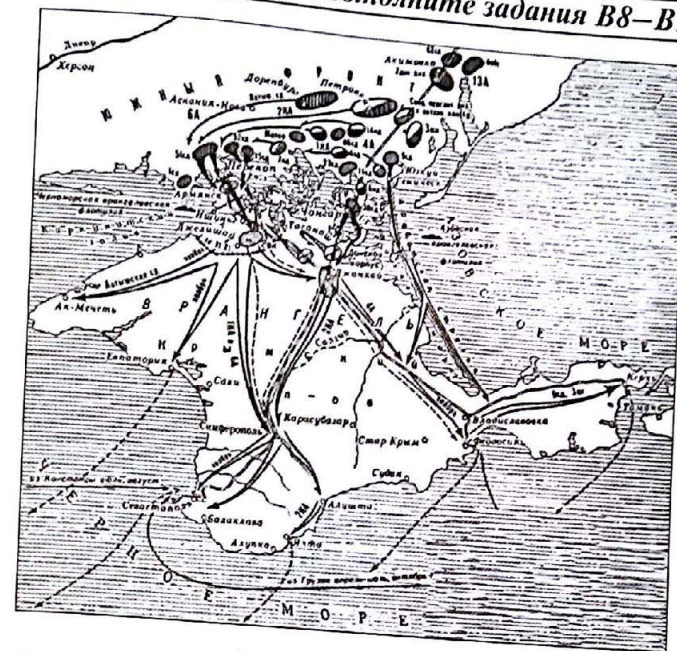
Ответ: \_\_\_\_\_

**В11.20.8.** Какие суждения, относящиеся к событиям, обозначенным на схеме, являются верными? Выберите три суждения из шести предложенных. Запишите в таблицу цифры, под которыми они указаны:

- 1) военные действия, ход которых обозначен на схеме, длились в общей сложности около года;
- 2) обозначенные на схеме события относятся к Гражданской войне в России;
- 3) обозначенные на схеме события относятся к Великой Отечественной войне;
- 4) события, обозначенные на схеме, относятся к «десяти сталинским ударам»;
- 5) итогом событий, обозначенных на схеме, стала потеря Западной Белоруссии и Западной Украины;
- 6) в обозначенных на схеме событиях участвовали войска Германии и Японии.

Ответ:

--	--	--



**В8.20.9.** Напишите фамилию командующего Южным фронтом, осуществившего операцию, обозначенную на схеме.

Ответ: \_\_\_\_\_

**В9.20.9.** Напишите год, в котором произошли события, обозначенные на схеме.

Ответ: \_\_\_\_\_

**В10.20.9.** Напишите фамилию руководителя Российского государства во время событий, обозначенных на схеме.

Ответ: \_\_\_\_\_

**В11.20.9.** Какие суждения, относящиеся к событиям, обозначенным на схеме, являются верными? Выберите три суждения из шести предложенных. Запишите в таблицу цифры, под которыми они указаны:

- 1) военные действия, ход которых обозначен на схеме, длились в общей сложности около года;
- 2) обозначенные на схеме события относятся к Гражданской войне в России;
- 3) обозначенные на схеме события относятся к Великой Отечественной войне;
- 4) события, обозначенные на схеме, привели к массовой эмиграции из России;
- 5) вскоре после событий, обозначенных на схеме, в России произошел переход к новой экономической политике (нэп);
- 6) в обозначенных на схеме событиях участвовали войска Германии.

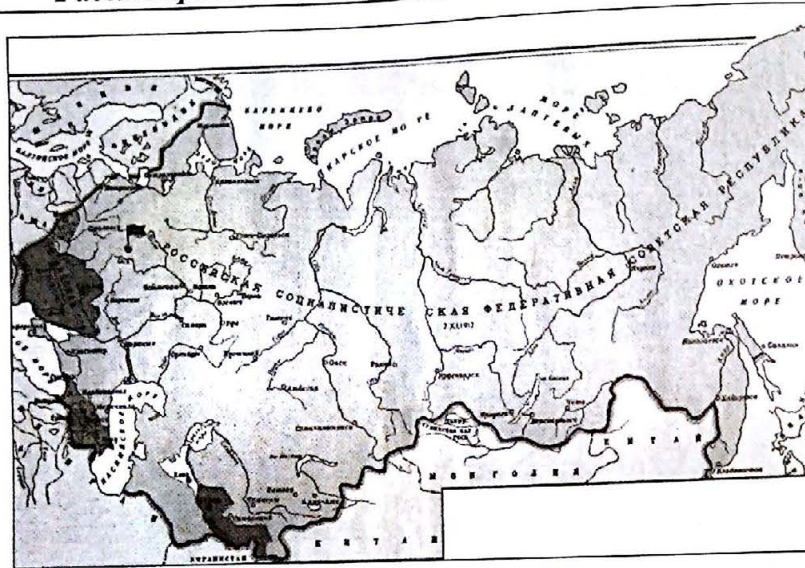
Ответ:

--	--	--



Тема 21. СССР в период новой экономической политики (1921–1928).

Рассмотрите схему и выполните задания В8–В11.



В8.21.1. Напишите название города, обозначенного на схеме флажком.

Ответ: \_\_\_\_\_.

В9.21.1. Напишите сокращенное название государства, обозначенного на схеме границей.

Ответ: \_\_\_\_\_.

В10.21.1. Напишите год, в котором было образовано обозначенное на схеме государство.

Ответ: \_\_\_\_\_.

В11.21.1. Какие суждения, относящиеся к событиям, обозначенным на схеме, являются верными? Выберите три суждения из шести предложенных. Запишите в таблицу цифры, под которыми они указаны:

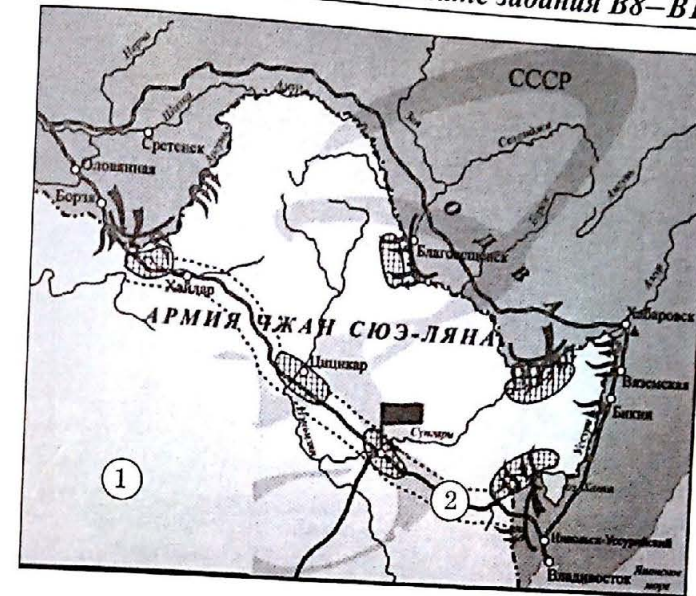
- 1) государство, обозначенное на схеме, было образовано на федеративных началах;
- 2) обозначенное на схеме государство образовалось сразу после окончания Гражданской войны в России;
- 3) обозначенное на схеме государство сразу после образования было признано ведущими державами мира;
- 4) государство, обозначенное на схеме, было унитарным;
- 5) государство, обозначенное на схеме, вскоре после образования подверглось агрессии со стороны стран Антанты;
- 6) обозначенные на схеме события относятся к периоду новой экономической политики (нэп).

Ответ:

--	--	--

Тема 22. СССР в период индустриализации (1929–1941).

Рассмотрите схему и выполните задания В8–В11.



В8.22.1. Напишите название страны, обозначенной на схеме цифрой 1.

Ответ: \_\_\_\_\_.

В9.22.1. Напишите сокращенное название железной дороги, обозначенной на схеме цифрой 2.

Ответ: \_\_\_\_\_.

В10.22.1. Напишите название города, обозначенного на схеме флажком.

Ответ: \_\_\_\_\_.

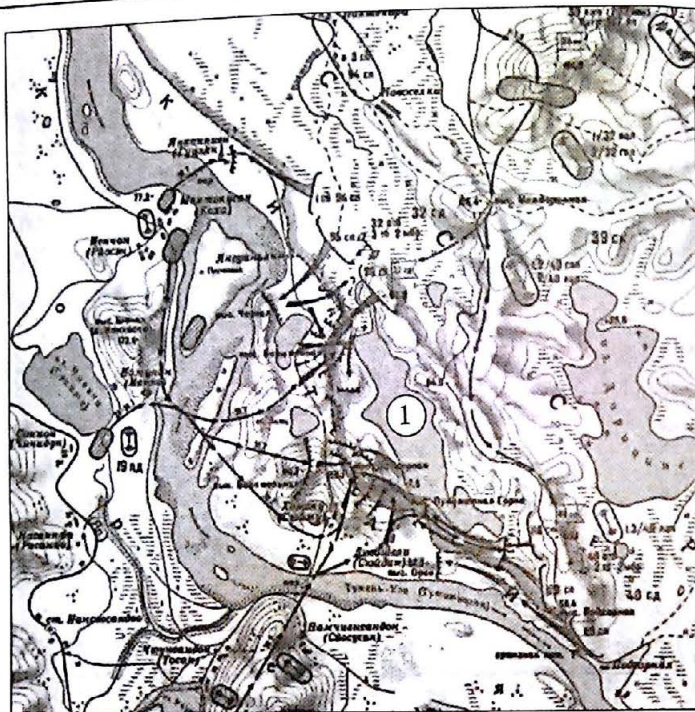
В11.22.1. Какие суждения, относящиеся к событиям, обозначенным на схеме, являются верными? Выберите три суждения из шести предложенных. Запишите в таблицу цифры, под которыми они указаны:

- 1) конфликт, обозначенный на схеме, длился в общей сложности около пяти месяцев;
- 2) конфликт, обозначенный на схеме, длился в общей сложности около года;
- 3) обозначенные на схеме события происходили в 1929 г.;
- 4) итогом событий, обозначенных на схеме, стало начало широкомасштабной военной помощи СССР Китаю в его войне с Японией;
- 5) в результате событий, обозначенных на схеме, железная дорога, обозначенная на схеме цифрой 2, осталась в совместном владении двух стран;
- 6) после событий, обозначенных на схеме, СССР разорвал дипломатические отношения с государством, обозначенным на схеме цифрой 1.

Ответ:

--	--	--





**В8.22.2.** Напишите фамилию военачальника, возглавлявшего советские войска в конфликте, обозначенном на схеме.

Ответ: \_\_\_\_\_

**В9.22.2.** Напишите название озера, обозначенного на схеме цифрой 1.

Ответ: \_\_\_\_\_

**В10.22.2.** Напишите название государства, являвшегося противником СССР в ходе конфликта, обозначенного на схеме.

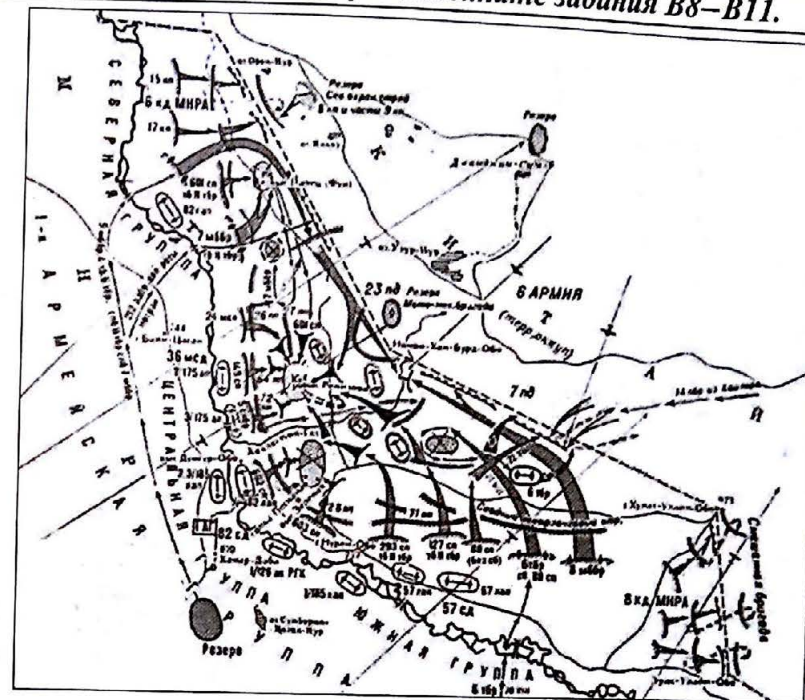
Ответ: \_\_\_\_\_

**В11.22.2.** Какие суждения, относящиеся к событиям, обозначенным на схеме, являются верными? Выберите три суждения из шести предложенных. Запишите в таблицу цифры, под которыми они указаны:

- 1) конфликт, обозначенный на схеме, длился около двух лет;
- 2) конфликт, обозначенный на схеме, длился около двух недель;
- 3) обозначенные на схеме события происходили в 1938 г.;
- 4) итогом событий, обозначенных на схеме, стало начало широкомасштабной военной помощи СССР Китаю;
- 5) в результате событий, обозначенных на схеме, СССР потерял значительные территории в Сибири;
- 6) в результате событий, обозначенных на схеме, СССР смог отстоять свои границы.

Ответ:

--	--	--



**В8.22.3.** Напишите фамилию военачальника, возглавлявшего советские войска в конфликте, обозначенном на схеме.

Ответ: \_\_\_\_\_

**В9.22.3.** Напишите название реки, на которой происходил конфликт, обозначенный на схеме.

Ответ: \_\_\_\_\_

**В10.22.3.** Напишите название государства, являвшегося противником СССР в ходе конфликта, обозначенного на схеме.

Ответ: \_\_\_\_\_

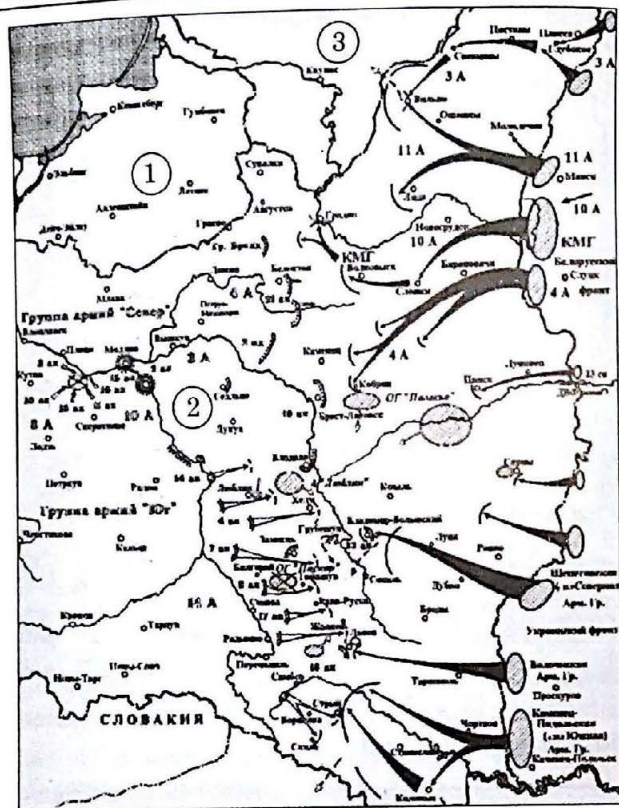
**В11.22.3.** Какие суждения, относящиеся к событиям, обозначенным на схеме, являются верными? Выберите три суждения из шести предложенных. Запишите в таблицу цифры, под которыми они указаны:

- 1) конфликт, обозначенный на схеме, длился около четырех месяцев;
- 2) конфликт, обозначенный на схеме, длился около трех лет;
- 3) руководителем СССР в период, когда происходили обозначенные на схеме события, являлся И.В. Сталин;
- 4) итогом событий, обозначенных на схеме, стало начало широкомасштабной военной помощи СССР Китаю;
- 5) в результате событий, обозначенных на схеме, СССР помог отстоять неприкосновенность границ дружественного ему государства;
- 6) в результате событий, обозначенных на схеме, СССР потерял значительные территории на Дальнем Востоке.

Ответ:

--	--	--





**В8.22.4.** Напишите название государства, обозначенного на схеме цифрой 1.

Ответ: \_\_\_\_\_

**В9.22.4.** Напишите название города, обозначенного на схеме цифрой 2.

Ответ: \_\_\_\_\_

**В10.22.4.** Напишите название государства, обозначенного на схеме цифрой 3.

Ответ: \_\_\_\_\_

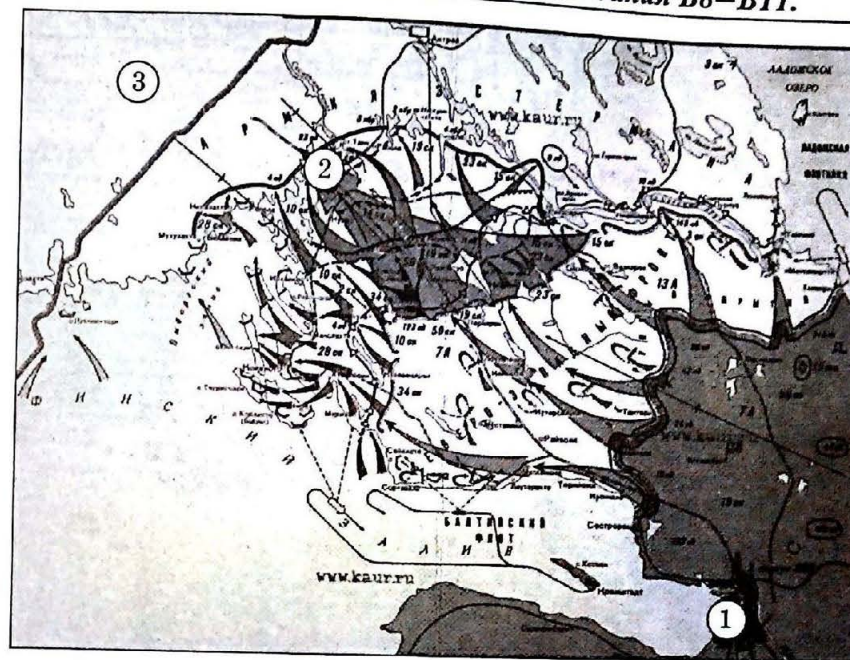
**В11.22.4.** Какие суждения, относящиеся к событиям, обозначенным на схеме, являются верными? Выберите три суждения из шести предложенных. Запишите в таблицу цифры, под которыми они указаны:

- 1) поход, события которого обозначены на схеме, длился менее месяца;
- 2) война, события которой обозначены на схеме, длилась три года;
- 3) события, обозначенные на схеме, относятся к начальному этапу войны;
- 4) итогом событий, обозначенных на схеме, было вступление в войну Германии;

5) в результате событий, обозначенных на схеме, СССР осуществил территориальные приобретения;

6) руководителем СССР в период, когда происходили обозначенные на схеме события, являлся И.В. Сталин.

Ответ:



**В8.22.5.** Напишите название города, обозначенного на схеме цифрой 1.

Ответ: \_\_\_\_\_

**В9.22.5.** Напишите название города, обозначенного на схеме цифрой 2.

Ответ: \_\_\_\_\_

**В10.22.5.** Напишите название государства, обозначенного на схеме цифрой 3.

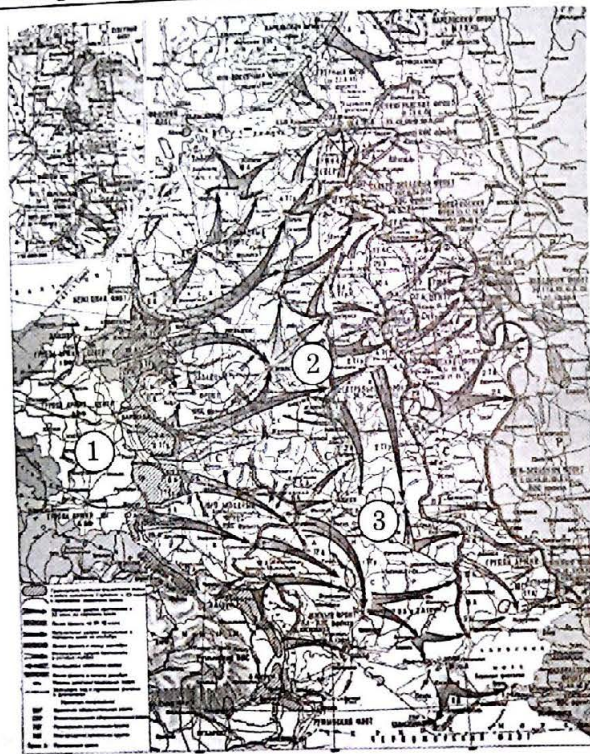
Ответ: \_\_\_\_\_

**В11.22.5.** Какие суждения, относящиеся к событиям, обозначенным на схеме, являются верными? Выберите три суждения из шести предложенных. Запишите в таблицу цифры, под которыми они указаны:

- 1) война, события которой обозначены на схеме, длилась в общей сложности четыре месяца;
- 2) война, события которой обозначены на схеме, длилась в общей сложности три года;
- 3) события, обозначенные на схеме, относятся к начальному этапу войны;
- 4) итогом событий, обозначенных на схеме, стало вступление в войну Германии;
- 5) в результате событий, обозначенных на схеме, СССР осуществил территориальные приобретения;
- 6) руководителем СССР в период, когда происходили обозначенные на схеме события, являлся В.И. Ленин.

Ответ:





**В8.23.1.** Напишите название страны, обозначенной на схеме цифрой 1.

Ответ: \_\_\_\_\_.

**В9.23.1.** Напишите название города, обозначенного на схеме цифрой 2.

Ответ: \_\_\_\_\_.

**В10.23.1.** Напишите название города, обозначенного на схеме цифрой 3.

Ответ: \_\_\_\_\_.

**В11.23.1.** Какие суждения, относящиеся к событиям, обозначенным на схеме, являются верными? Выберите три суждения из шести предложенных. Запишите в таблицу цифры, под которыми они указаны:

1) руководителем СССР в период, когда происходили обозначенные на схеме события, являлся Н.С. Хрущев;

2) события, обозначенные на схеме, относятся к начальному этапу войны;

3) война, события которой обозначены на схеме, длилась четыре года;

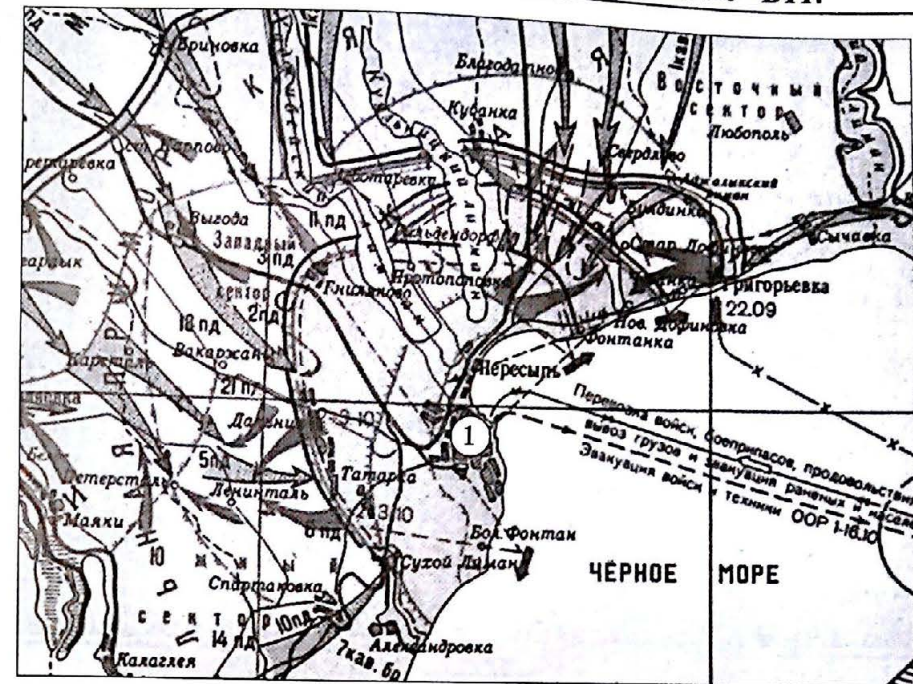
4) итогом событий, обозначенных на схеме, стало полное поражение войск страны — противника СССР;

5) в результате событий, обозначенных на схеме, были освобождены оккупированные территории СССР;

6) на этапе войны, события которого обозначены на схеме, СССР сражался с противниками в одиночку.

Ответ:

--	--	--



**В8.23.2.** Напишите название города, обозначенного на схеме цифрой 1.

Ответ: \_\_\_\_\_.

**В9.23.2.** Напишите год, к которому относятся события, обозначенные на схеме.

Ответ: \_\_\_\_\_.

**В10.23.2.** Напишите название государства, являвшегося главным противником СССР в ходе войны, события которой обозначены на схеме.

Ответ: \_\_\_\_\_.

**В11.23.2.** Какие суждения, относящиеся к событиям, обозначенным на схеме, являются верными? Выберите три суждения из шести предложенных. Запишите в таблицу цифры, под которыми они указаны:

1) продолжительность событий, обозначенных на схеме, составила в общей сложности два с половиной месяца;

2) обозначенные на схеме события происходили в зимний период;

3) события, обозначенные на схеме, относятся к начальному этапу войны;

4) событие, обозначенное на схеме, относится к «десяти сталинским ударам»;

5) итогом событий, обозначенных на схеме, стала оккупация крупного порта СССР;

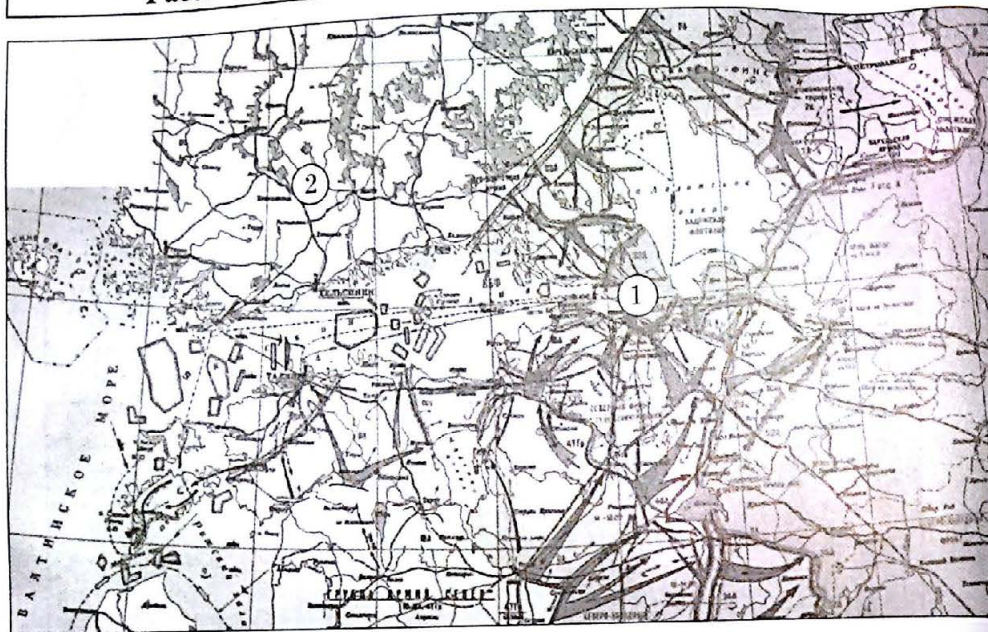
6) в результате событий, обозначенных на схеме, СССР потерял значительные территории в Закавказье.

Ответ:

--	--	--



Рассмотрите схему и выполните задания В8–В11.



В8.23.3. Напишите название города, обозначенного на схеме цифрой 1.

Ответ: \_\_\_\_\_.

В9.23.3. Напишите название государства, обозначенного на схеме цифрой 2.

Ответ: \_\_\_\_\_.

В10.23.3. Напишите год, к которому относятся события, обозначенные на схеме.

Ответ: \_\_\_\_\_.

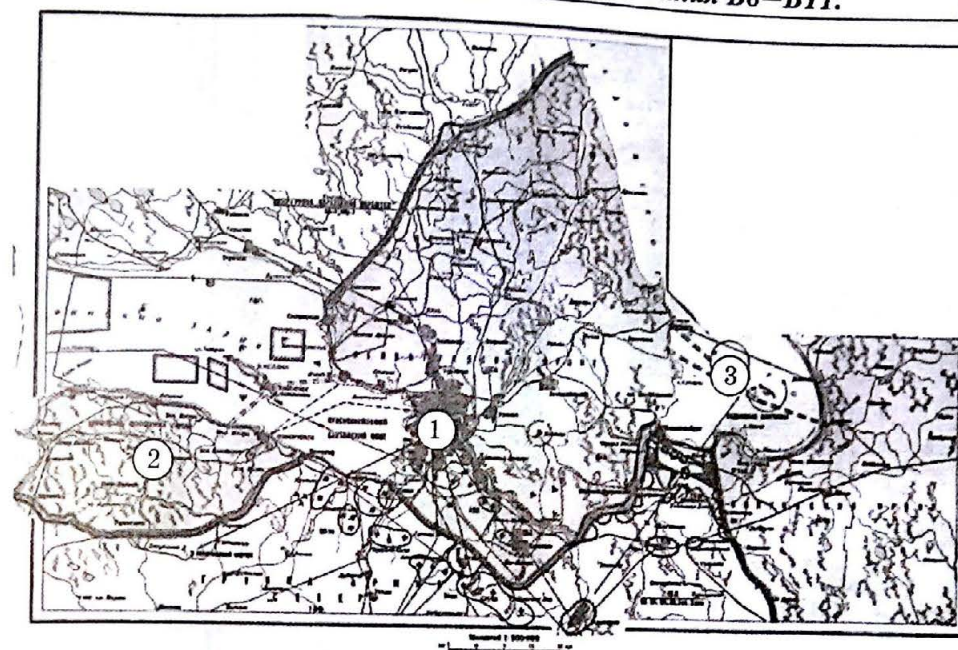
В11.23.3. Какие суждения, относящиеся к событиям, обозначенным на схеме, являются верными? Выберите три суждения из шести предложенных. Запишите в таблицу цифры, под которыми они указаны:

- 1) события, обозначенные на схеме, относятся к начальному этапу войны;
- 2) обозначенные на схеме события происходили в зимний период;
- 3) событие, обозначенное на схеме, относится к коренному перелому в ходе войны;
- 4) итогом событий, обозначенных на схеме, стала блокада крупного промышленного центра СССР;
- 5) в результате событий, обозначенных на схеме, СССР потерял значительные территории в Заполярье;
- 6) Верховным Главнокомандующим Вооруженными Силами СССР в период, когда происходили обозначенные на схеме события, являлся И.В. Сталин.

Ответ:

--	--	--

Рассмотрите схему и выполните задания В8–В11.



В8.23.4. Напишите название города, обозначенного на схеме цифрой 1.

Ответ: \_\_\_\_\_.

В9.23.4. Напишите название плацдарма, обозначенного на схеме цифрой 2.

Ответ: \_\_\_\_\_.

В10.23.4. Напишите название транспортного маршрута, обозначенного на схеме цифрой 3.

Ответ: \_\_\_\_\_.

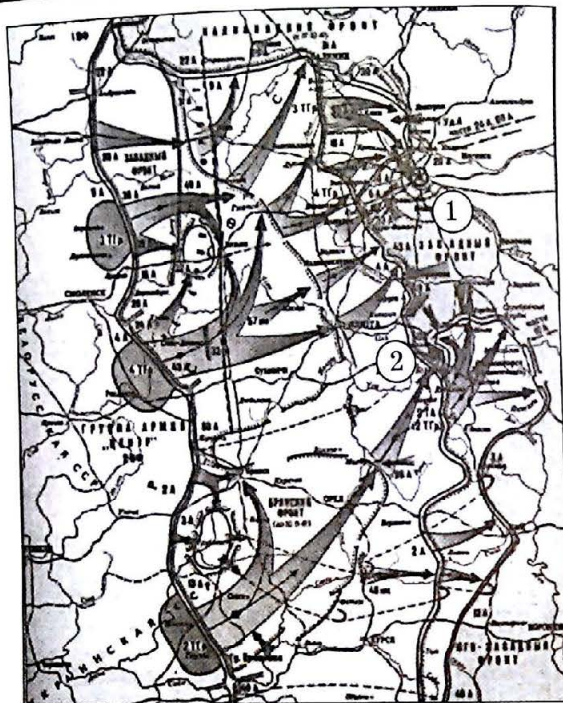
В11.23.4. Какие суждения, относящиеся к событиям, обозначенным на схеме, являются верными? Выберите три суждения из шести предложенных. Запишите в таблицу цифры, под которыми они указаны:

- 1) события, обозначенные на схеме, относятся к завершающему этапу войны;
- 2) на схеме обозначены события периода блокады крупного промышленного и портового города СССР;
- 3) событие, обозначенное на схеме, продолжалось более двух с половиной лет;
- 4) итогом событий, обозначенных на схеме, стала гибель от голода большого числа жителей города;
- 5) в результате событий, обозначенных на схеме, СССР потерял Балтийский флот;
- 6) фронтом, оборонявшим обозначенный на схеме город, командовал маршал С.К. Тимошенко.

Ответ:

--	--	--





**В8.23.5.** Напишите название города, обозначенного на схеме цифрой 1.

Ответ: \_\_\_\_\_.

**В9.23.5.** Напишите название города, обозначенного на схеме цифрой 2.

Ответ: \_\_\_\_\_.

**В10.23.5.** Напишите название государства, являвшегося главным противником СССР в ходе войны, события которой обозначены на схеме.

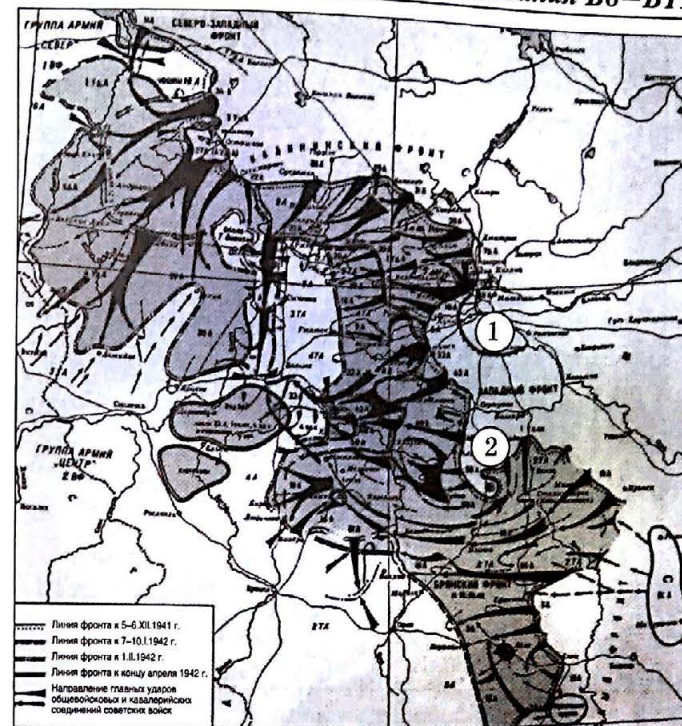
Ответ: \_\_\_\_\_.

**В11.23.5.** Какие суждения, относящиеся к событиям, обозначенным на схеме, являются верными? Выберите три суждения из шести предложенных. Запишите в таблицу цифры, под которыми они указаны:

- 1) война, события которой обозначены на схеме, длилась четыре года;
- 2) события, обозначенные на схеме, относятся к завершающему этапу войны;
- 3) руководителем СССР в период, когда происходили обозначенные на схеме события, являлся И.В. Сталин;
- 4) итогом событий, обозначенных на схеме, стало полное поражение войск страны—противника СССР;
- 5) в результате событий, обозначенных на схеме, СССР мог отстоять неприкосновенность границ;
- 6) в результате событий, обозначенных на схеме, СССР потерял значительные территории в Закавказье.

Ответ:

--	--	--



**В8.23.6.** Напишите название города, обозначенного на схеме цифрой 1.

Ответ: \_\_\_\_\_.

**В9.23.6.** Напишите название города, обозначенного на схеме цифрой 2.

Ответ: \_\_\_\_\_.

**В10.23.6.** Напишите фамилию командующего Западным фронтом в ходе операции, обозначенной на схеме.

Ответ: \_\_\_\_\_.

**В11.23.6.** Какие суждения, относящиеся к событиям, обозначенным на схеме, являются верными? Выберите три суждения из шести предложенных. Запишите в таблицу цифры, под которыми они указаны:

- 1) война, события которой обозначены на схеме, длилась два года;
- 2) события, обозначенные на схеме, относятся к начальному этапу войны;
- 3) обозначенные на схеме события происходили в зимний период;
- 4) в результате событий, обозначенных на схеме, СССР мог отстоять неприкосновенность границ;
- 5) итогом событий, обозначенных на схеме, стало поражение войск страны — противника СССР;
- 6) в результате событий, обозначенных на схеме, СССР потерял значительные территории на Дальнем Востоке.

Ответ:

--	--	--





**В8.23.7.** Напишите название города, обозначенного на схеме цифрой 1.

Ответ: \_\_\_\_\_.

**В9.23.7.** Напишите год, к которому относятся события, обозначенные на схеме.

Ответ: \_\_\_\_\_.

**В10.23.7.** Напишите фамилию командующего Черноморским флотом, корабли которого участвовали в событиях, обозначенных на схеме.

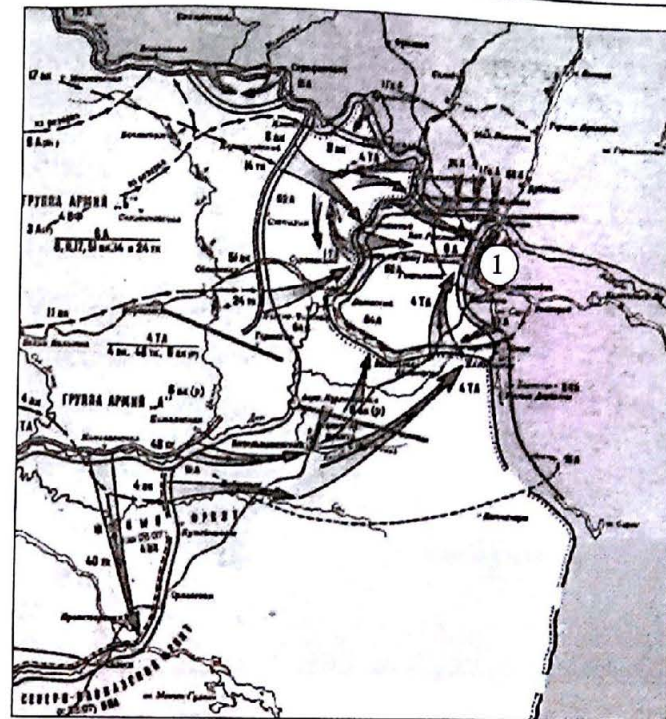
Ответ: \_\_\_\_\_.

**В11.23.7.** Какие суждения, относящиеся к событиям, обозначенным на схеме, являются верными? Выберите три суждения из шести предложенных. Запишите в таблицу цифры, под которыми они указаны:

- 1) продолжительность событий, обозначенных на схеме, составила в общей сложности два с половиной месяца;
- 2) продолжительность событий, обозначенных на схеме, составила в общей сложности восемь месяцев;
- 3) события, обозначенные на схеме, относятся к начальному этапу войны;
- 4) событие, обозначенное на схеме, относится к «десяти сталинским ударам»;
- 5) события, обозначенные на схеме, привели к потере крупного порта;
- 6) в результате событий, обозначенных на схеме, СССР потерял значительные территории в Прибалтике.

Ответ:

--	--	--



**В8.23.8.** Напишите название города, обозначенного на схеме цифрой 1.

Ответ: \_\_\_\_\_.

**В9.23.8.** Напишите фамилию Верховного Главнокомандующего Красной Армией во время событий, обозначенных на схеме.

Ответ: \_\_\_\_\_.

**В10.23.8.** Напишите название государства, являвшегося союзником главного противника СССР в ходе войны, события которой обозначены на схеме.

Ответ: \_\_\_\_\_.

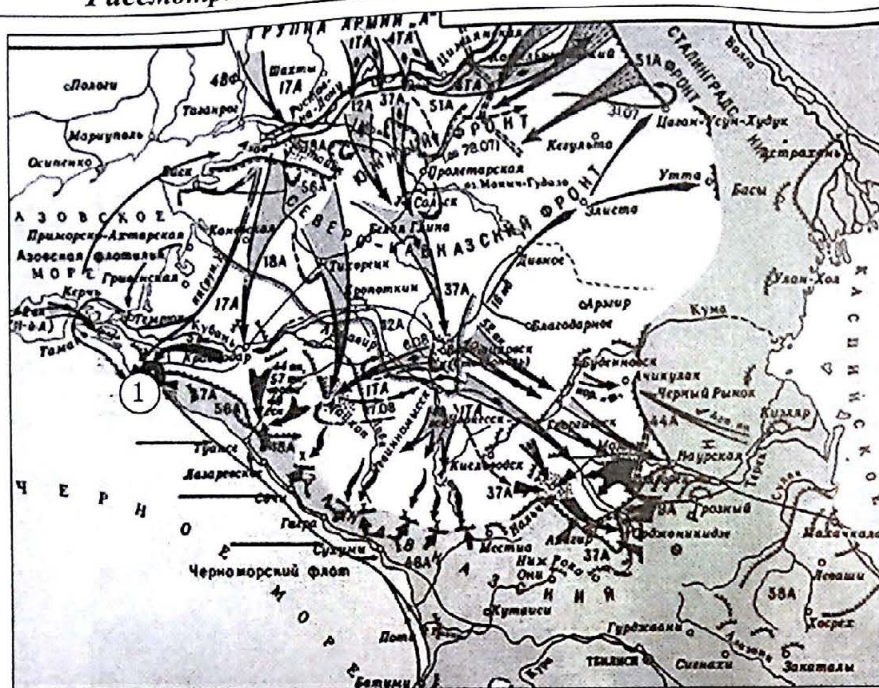
**В11.23.8.** Какие суждения, относящиеся к событиям, обозначенным на схеме, являются верными? Выберите три суждения из шести предложенных. Запишите в таблицу цифры, под которыми они указаны:

- 1) события, обозначенные на схеме, относятся к начальному этапу войны;
- 2) события, обозначенные на схеме, относятся к коренному перелому в войне;
- 3) в том же году, когда произошли события, обозначенные на схеме, врагом был захвачен Севастополь;
- 4) одной из причин обозначенных на схеме событий стали неудачные действия Красной Армии в районе Харькова;
- 5) в том же году, когда произошли события, обозначенные на схеме, была прорвана блокада Ленинграда;
- 6) в событиях, обозначенных на схеме, участвовали войска Румынии и Италии.

Ответ:

--	--	--





В8.23.9. Напишите название города, обозначенного на схеме цифрой 1.

Ответ: \_\_\_\_\_

В9.23.9. Напишите фамилию Верховного Главнокомандующего Красной Армией во время событий, обозначенных на схеме.

Ответ: \_\_\_\_\_

В10.23.9. Напишите год, когда происходили события, обозначенные на схеме.

Ответ: \_\_\_\_\_

В11.23.9. Какие суждения, относящиеся к событиям, обозначенным на схеме, являются верными? Выберите три суждения из шести предложенных. Запишите в таблицу цифры, под которыми они указаны:

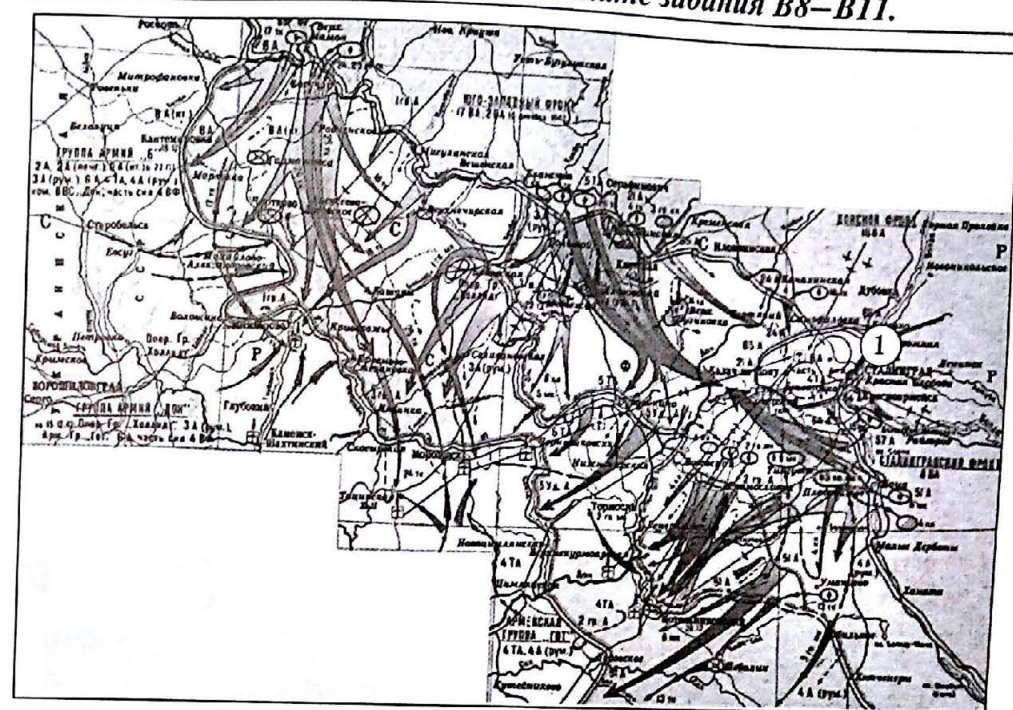
- 1) события, обозначенные на схеме, относятся к Кавказской войне;
- 2) события, обозначенные на схеме, относятся к Первой мировой войне;
- 3) события, обозначенные на схеме, относятся к Великой Отечественной войне;
- 4) одной из причин обозначенных на схеме событий стали неудачные действия Красной Армии в районе Сталинграда;

5) в событиях, обозначенных на схеме, принимали участие армии стран-участниц Антикоминтерновского пакта;

6) война, события которой обозначены на схеме, длилась в общей сложности четыре года.

Ответ: \_\_\_\_\_

--	--	--



В8.23.10. Напишите название города, обозначенного на схеме цифрой 1.

Ответ: \_\_\_\_\_

В9.23.10. Напишите название наступательной операции, ход которой обозначен на схеме.

Ответ: \_\_\_\_\_

В10.23.10. Напишите фамилию командующего Донским фронтом, войска которого участвовали в операции, обозначенной на схеме.

Ответ: \_\_\_\_\_

В11.23.10. Какие суждения, относящиеся к событиям, обозначенным на схеме, являются верными? Выберите три суждения из шести предложенных. Запишите в таблицу цифры, под которыми они указаны:

- 1) события, обозначенные на схеме, относятся к начальному периоду войны;
- 2) события, обозначенные на схеме, относятся к коренному перелому в войне;
- 3) события, обозначенные на схеме, относятся к завершающему этапу войны;
- 4) одной из причин обозначенных на схеме событий стал разгром войск противника в районе Курска;

5) в то же время, когда произошли события, обозначенные на схеме, продолжалось наступление британских войск в Северной Африке;

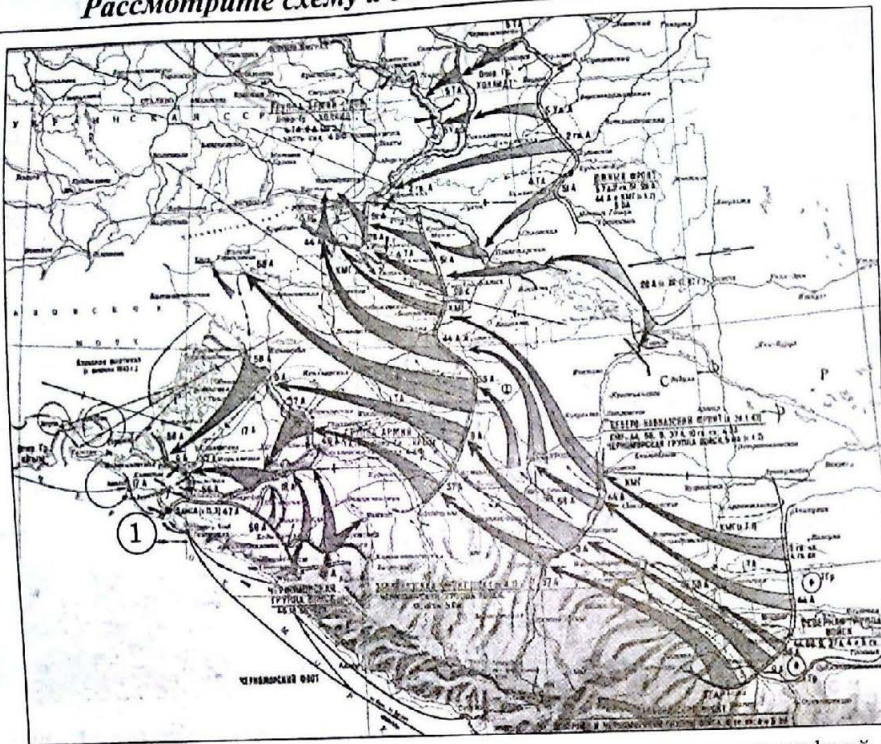
6) одной из стратегических целей операции, ход которой обозначен на схеме, был прорыв к Ростову-на-Дону и окружение северокавказской группировки войск противника.

Ответ: \_\_\_\_\_

--	--	--



Рассмотрите схему и выполните задания В8–В11.



В8.23.11. Напишите название города, обозначенного на схеме цифрой 1.

Ответ: \_\_\_\_\_

В9.23.11. Напишите фамилию Верховного Главнокомандующего Красной Армией во время событий, обозначенных на схеме.

Ответ: \_\_\_\_\_

В10.23.11. Напишите название войны, во время которой происходили события, обозначенные на схеме.

Ответ: \_\_\_\_\_

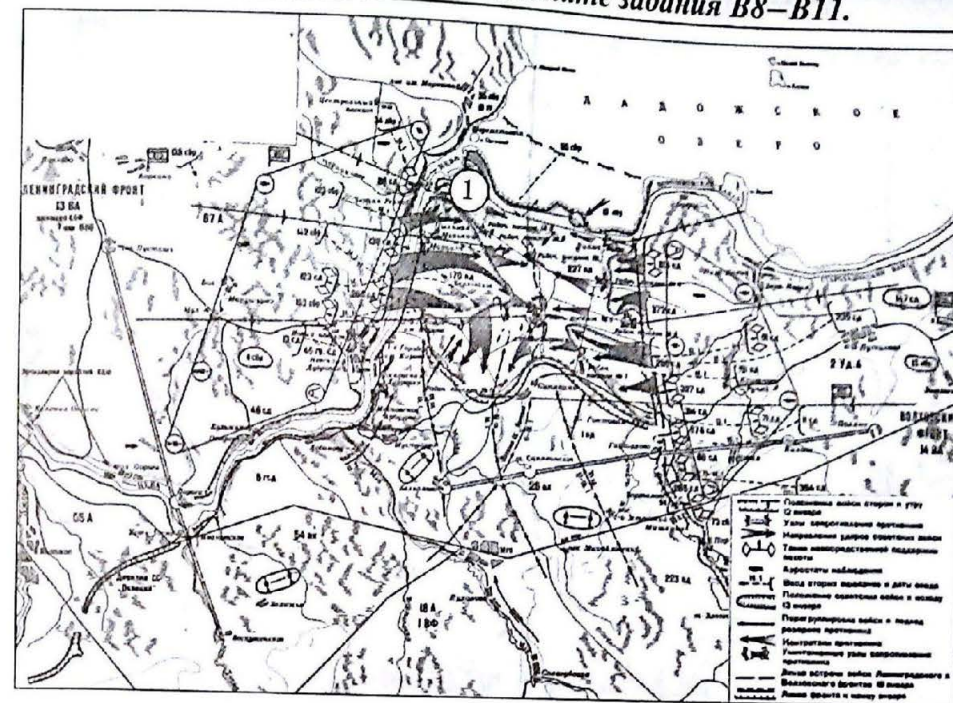
В11.23.11. Какие суждения, относящиеся к событиям, обозначенным на схеме, являются верными? Выберите три суждения из шести предложенных. Запишите в таблицу цифры, под которыми они указаны:

- 1) события, обозначенные на схеме, относятся к начальному периоду войны;
- 2) события, обозначенные на схеме, относятся к коренному перелому в войне;
- 3) события, обозначенные на схеме, относятся к завершающему этапу войны;
- 4) одной из причин обозначенных на схеме событий стал разгром войск противника в районе Курска;
- 5) в том же году, когда произошли события, обозначенные на схеме, состоялась Тегеранская конференция;
- 6) война, события которой обозначены на схеме, длилась в общей сложности четыре года.

Ответ:

--	--	--

Рассмотрите схему и выполните задания В8–В11.



В8.23.12. Напишите название города, обозначенного на схеме цифрой 1.

Ответ: \_\_\_\_\_

В9.23.12. Напишите кодовое название операции, ход которой обозначен на схеме.

Ответ: \_\_\_\_\_

В10.23.12. Напишите название города, деблокированного в результате проведения операции, обозначенной на схеме.

Ответ: \_\_\_\_\_

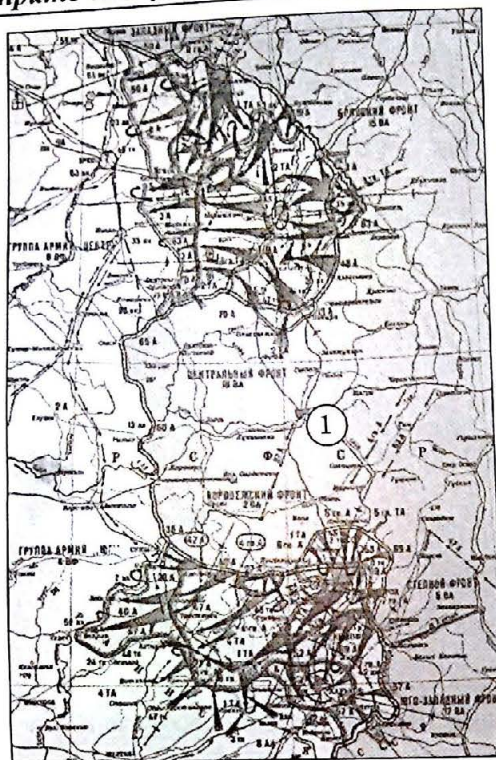
В11.23.12. Какие суждения, относящиеся к событиям, обозначенным на схеме, являются верными? Выберите три суждения из шести предложенных. Запишите в таблицу цифры, под которыми они указаны:

- 1) события, обозначенные на схеме, относятся к завершающему этапу войны;
- 2) на схеме обозначены события периода блокады крупного промышленного и портового города СССР;
- 3) проведение операции, обозначенной на схеме, привело к полному снятию блокады крупного промышленного и портового города СССР;
- 4) итогом событий, обозначенных на схеме, стало улучшение продовольственного снабжения жителей крупного промышленного и портового города СССР;
- 5) операция, ход которой обозначен на схеме, относится к «десяти сталинским ударам»;
- 6) операцию, обозначенную на схеме, провел маршал Г.К. Жуков.

Ответ:

--	--	--





**В8.23.13.** Напишите фамилию командующего Центральным фронтом, войска которого участвовали в операции, обозначенной на схеме.

Ответ: \_\_\_\_\_

**В9.23.13.** Напишите фамилию командующего Воронежским фронтом, войска которого участвовали в операции, обозначенной на схеме.

Ответ: \_\_\_\_\_

**В10.23.13.** Напишите название города, обозначенного на схеме цифрой 1.

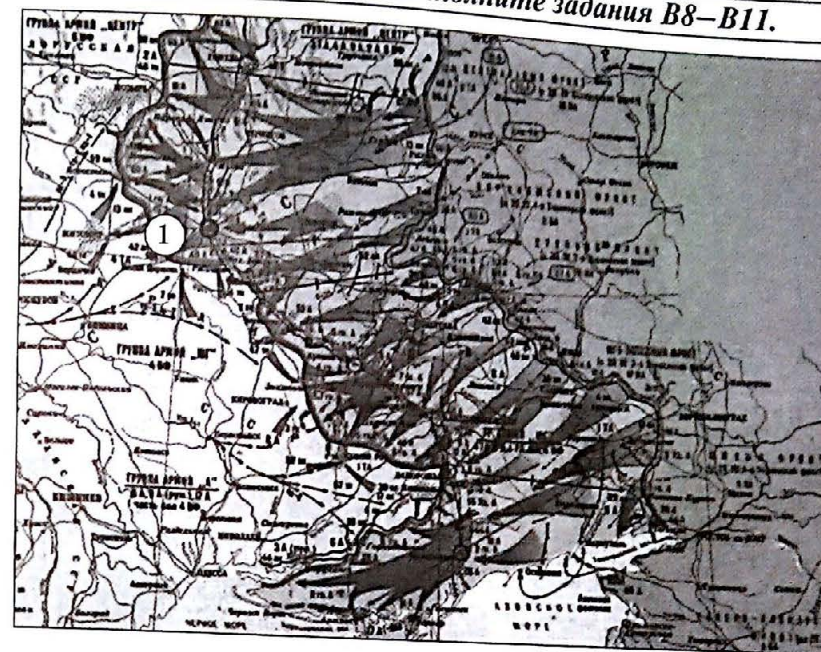
Ответ: \_\_\_\_\_

**В11.23.13.** Какие суждения, относящиеся к событиям, обозначенным на схеме, являются верными? Выберите три суждения из шести предложенных. Запишите в таблицу цифры, под которыми они указаны:

- 1) сражение, этап которого обозначен на схеме, длилось шесть месяцев;
- 2) события, обозначенные на схеме, относятся к коренному перелому в ходе войны;
- 3) обозначенные на схеме события происходили зимой;
- 4) операция, ход которой обозначен на схеме, относится к «десяти сталинским ударам»;
- 5) итогом событий, обозначенных на схеме, стало освобождение ряда оккупированных районов СССР;
- 6) в честь победы в сражении, обозначенном на схеме, в Москве был дан салют.

Ответ:

--	--	--



**В8.23.14.** Напишите фамилию командующего Воронежским (1-м Украинским) фронтом, войска которого участвовали в операции, обозначенной на схеме.

Ответ: \_\_\_\_\_

**В9.23.14.** Напишите распространенное в исторической науке название событий, обозначенных на схеме.

Ответ: \_\_\_\_\_

**В10.23.14.** Напишите название города, обозначенного на схеме цифрой 1.

Ответ: \_\_\_\_\_

**В11.23.14.** Какие суждения, относящиеся к событиям, обозначенным на схеме, являются верными? Выберите три суждения из шести предложенных. Запишите в таблицу цифры, под которыми они указаны:

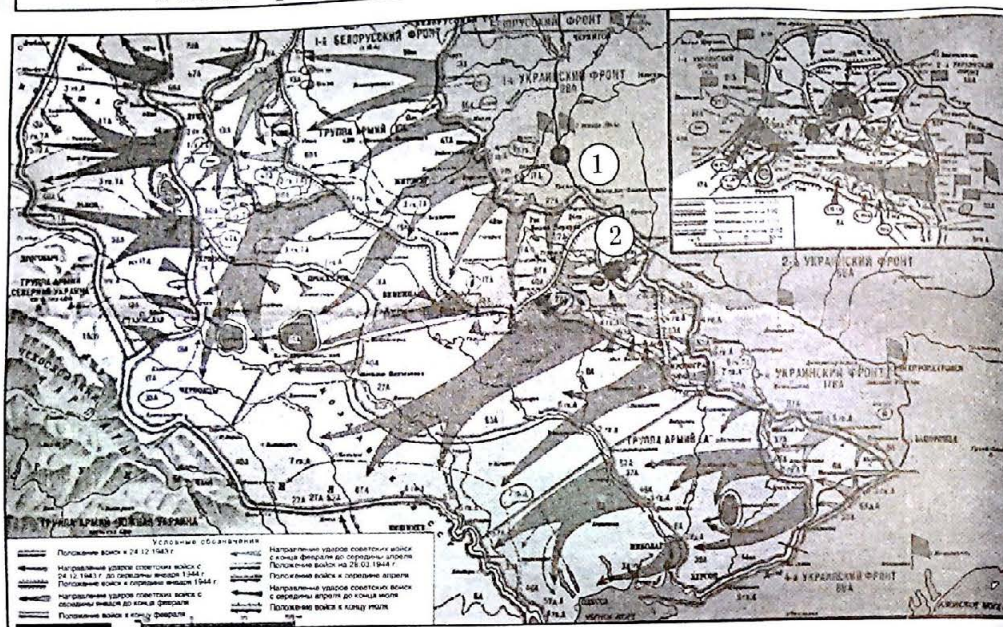
- 1) события, обозначенные на схеме, длились четыре месяца;
- 2) события, обозначенные на схеме, относятся к коренному перелому в ходе войны;
- 3) в ходе обозначенных на схеме событий Красная Армия преодолела укрепления «Восточного вала»;
- 4) операция, ход которой обозначен на схеме, относится к «десяти сталинским ударам»;
- 5) итогом событий, обозначенных на схеме, стало полное освобождение Правобережной Украины;
- 6) за подвиги в сражении, обозначенном на схеме, около 2500 человек получили звание Героя Советского Союза.

Ответ:

--	--	--



Рассмотрите схему и выполните задания В8–В11.



**В8.23.15.** Напишите фамилию командующего 2-м Украинским фронтом, войска которого участвовали в операции, обозначенной на схеме.

Ответ: \_\_\_\_\_.

**В9.23.15.** Напишите название города, обозначенного на схеме цифрой 1.

Ответ: \_\_\_\_\_.

**В10.23.15.** Напишите название города, обозначенного на схеме цифрой 2.

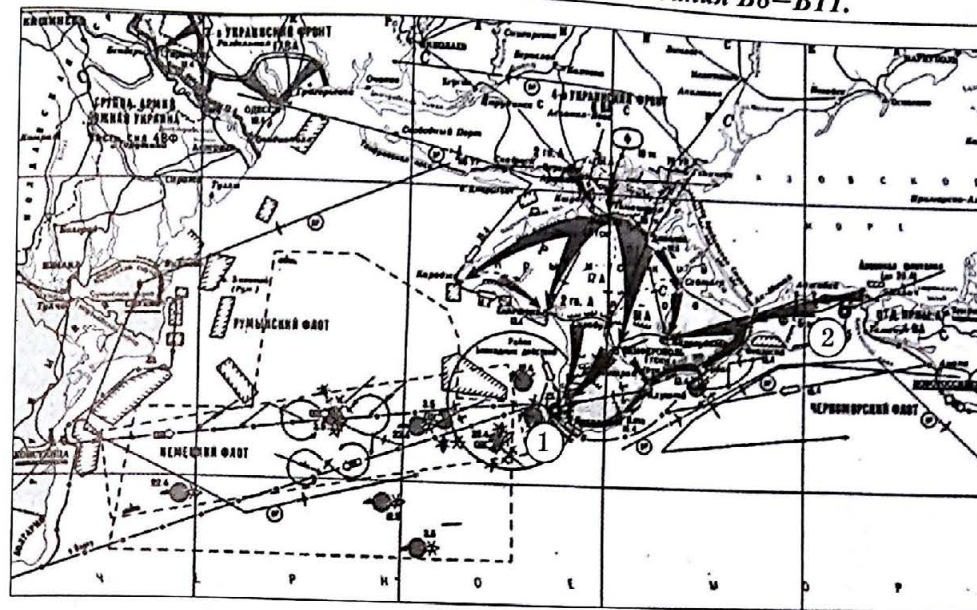
Ответ: \_\_\_\_\_.

**В11.23.15.** Какие суждения, относящиеся к событиям, обозначенным на схеме, являются верными? Выберите три суждения из шести предложенных. Запишите в таблицу цифры, под которыми они указаны:

- 1) события, обозначенные на схеме, продолжались в общей сложности около семи месяцев;
- 2) события, обозначенные на схеме, относятся к коренному перелому в ходе войны;
- 3) в ходе обозначенных на схеме событий Красная Армия преодолела укрепления «Миус-фронта»;
- 4) операция, ход которой обозначен на схеме, относится к «десяти сталинским ударам»;
- 5) итогом событий, обозначенных на схеме, стал выход Красной Армии на государственную границу СССР;
- 6) проведение операции, обозначенной на схеме, было приурочено к началу высадки англо-американских войск в Сицилии.

Ответ:

Рассмотрите схему и выполните задания В8–В11.



**В8.23.16.** Напишите фамилию командующего 4-м Украинским фронтом, войска которого провели операцию, обозначенную на схеме.

Ответ: \_\_\_\_\_.

**В9.23.16.** Напишите название города, обозначенного на схеме цифрой 1.

Ответ: \_\_\_\_\_.

**В10.23.16.** Напишите название города, обозначенного на схеме цифрой 2.

Ответ: \_\_\_\_\_.

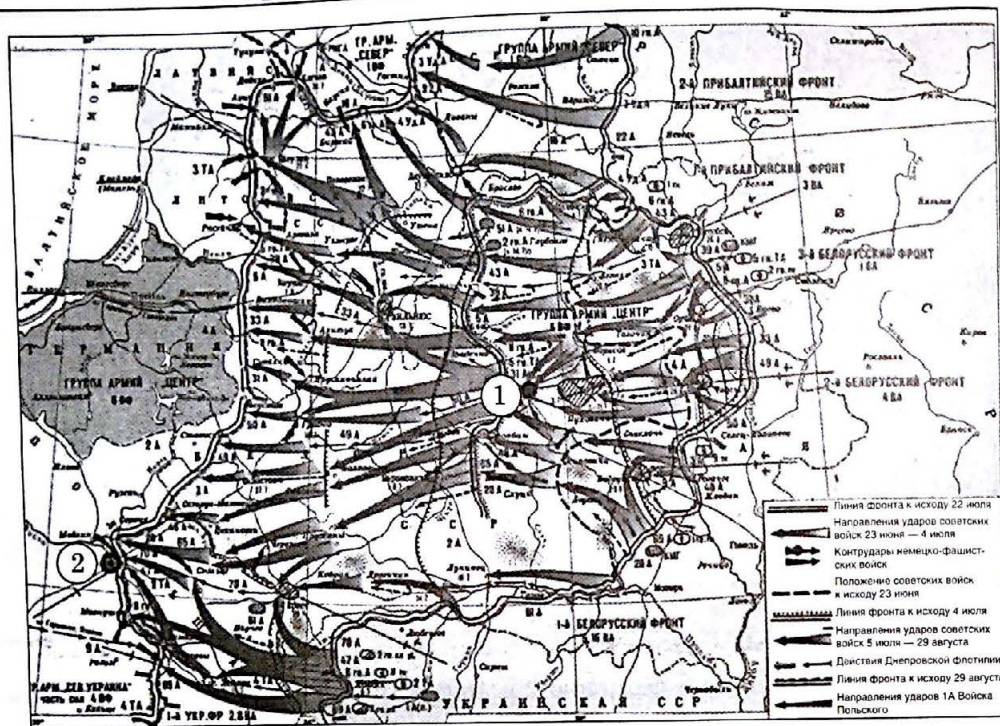
**В11.23.16.** Какие суждения, относящиеся к событиям, обозначенным на схеме, являются верными? Выберите три суждения из шести предложенных. Запишите в таблицу цифры, под которыми они указаны:

- 1) операция, ход которой обозначен на схеме, длилась в общей сложности тридцать пять дней;
- 2) события, обозначенные на схеме, относятся к коренному перелому в ходе Великой Отечественной войны;
- 3) обозначенные на схеме события происходили в весенний период;
- 4) операция, ход которой обозначен на схеме, относится к «десяти сталинским ударам»;
- 5) итогом событий, обозначенных на схеме, стало полное поражение войск СССР;
- 6) операция, обозначенная на схеме, была приурочена к началу операции «Оверлорд».

Ответ:

--	--	--





**В8.23.17.** Напишите кодовое название операции, ход которой обозначен на схеме.

Ответ: \_\_\_\_\_.

**В9.23.17.** Напишите название города, обозначенного на схеме цифрой 1.

Ответ: \_\_\_\_\_.

**В10.23.17.** Напишите название города, обозначенного на схеме цифрой 2.

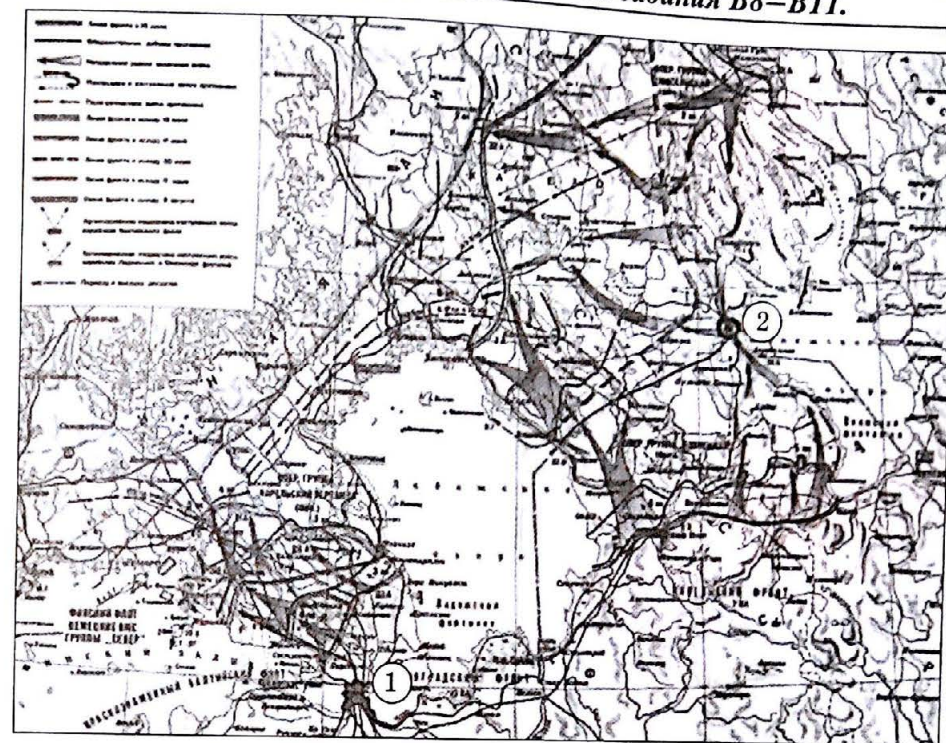
Ответ: \_\_\_\_\_.

**В11.23.17.** Какие суждения, относящиеся к событиям, обозначенным на схеме, являются верными? Выберите три суждения из шести предложенных. Запишите в таблицу цифры, под которыми они указаны:

- 1) операция, ход которой обозначен на схеме, длилась два с половиной месяца;
- 2) события, обозначенные на схеме, относятся к начальному этапу войны;
- 3) обозначенные на схеме события происходили в летний период;
- 4) операция, ход которой обозначен на схеме, относится к «десяти сталинским ударам»;
- 5) итогом событий, обозначенных на схеме, стало полное поражение войск СССР;
- 6) операция, обозначенная на схеме, была приурочена к началу операции «Оверлорд».

Ответ:

--	--	--



**В8.23.18.** Напишите фамилию командующего Карельским фронтом, войска которого участвовали в операции, обозначенной на схеме.

Ответ: \_\_\_\_\_.

**В9.23.18.** Напишите название города, обозначенного на схеме цифрой 1.

Ответ: \_\_\_\_\_.

**В10.23.18.** Напишите название города, обозначенного на схеме цифрой 2.

Ответ: \_\_\_\_\_.

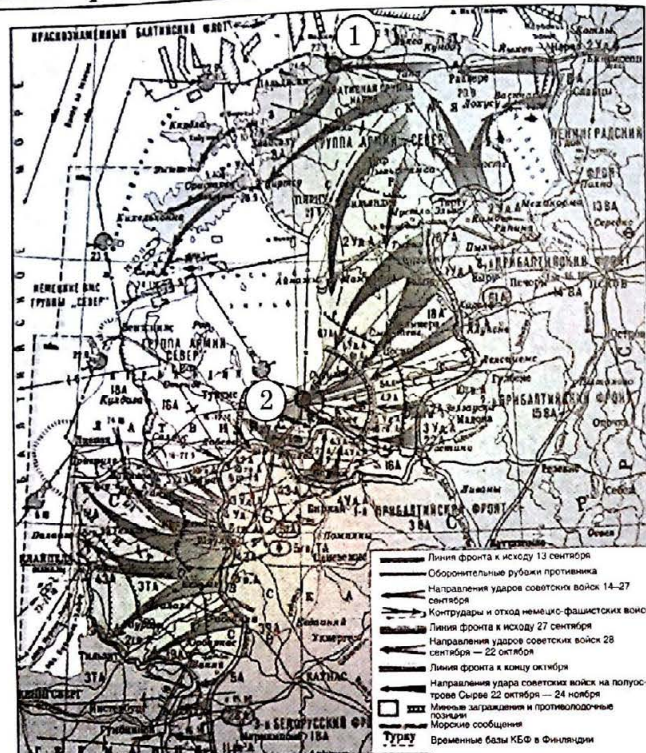
**В11.23.18.** Какие суждения, относящиеся к событиям, обозначенным на схеме, являются верными? Выберите три суждения из шести предложенных. Запишите в таблицу цифры, под которыми они указаны:

- 1) операция, ход которой обозначен на схеме, длилась три месяца;
- 2) события, обозначенные на схеме, относятся к начальному этапу войны;
- 3) обозначенные на схеме события происходили в летний период;
- 4) операция, ход которой обозначен на схеме, относится к «десяти сталинским ударам»;
- 5) итогом событий, обозначенных на схеме, стало полное поражение войск СССР;
- 6) в результате событий, обозначенных на схеме, СССР освободил оккупированные территории в Карелии.

Ответ:

--	--	--





**В8.23.19.** Напишите фамилию командующего 1-м Прибалтийским фронтом, войска которого участвовали в операции, обозначенной на схеме.

Ответ: \_\_\_\_\_

**В9.23.19.** Напишите название города, обозначенного на схеме цифрой 1.

Ответ: \_\_\_\_\_

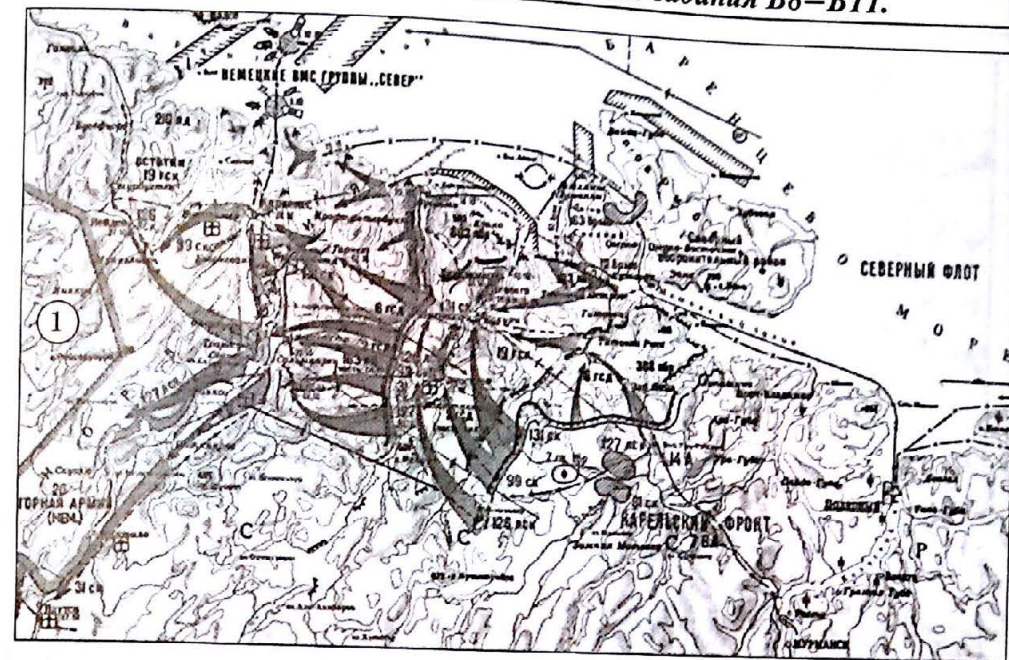
**В10.23.19.** Напишите название города, обозначенного на схеме цифрой 2.

Ответ: \_\_\_\_\_

**В11.23.19.** Какие суждения, относящиеся к событиям, обозначенным на схеме, являются верными? Выберите три суждения из шести предложенных. Запишите в таблицу цифры, под которыми они указаны:

- 1) операция, ход которой обозначен на схеме, длилась менее трех месяцев;
- 2) события, обозначенные на схеме, относятся к начальному этапу Великой Отечественной войны;
- 3) обозначенные на схеме события происходили в летний период;
- 4) операция, ход которой обозначен на схеме, относится к «десяти сталинским ударам»;
- 5) итогом операции, обозначенной на схеме, стало блокирование крупной группировки войск противника;
- 6) в результате событий, обозначенных на схеме, была полностью освобождена оккупированная территория Латвийской ССР.

Ответ:



**В8.23.20.** Напишите фамилию командующего фронтом, войска которого провели операцию, обозначенную на схеме.

Ответ: \_\_\_\_\_

**В9.23.20.** Напишите фамилию командующего флота, содействовавшего проведению операции, обозначенной на схеме.

Ответ: \_\_\_\_\_

**В10.23.20.** Напишите название государства, обозначенного цифрой 1.

Ответ: \_\_\_\_\_

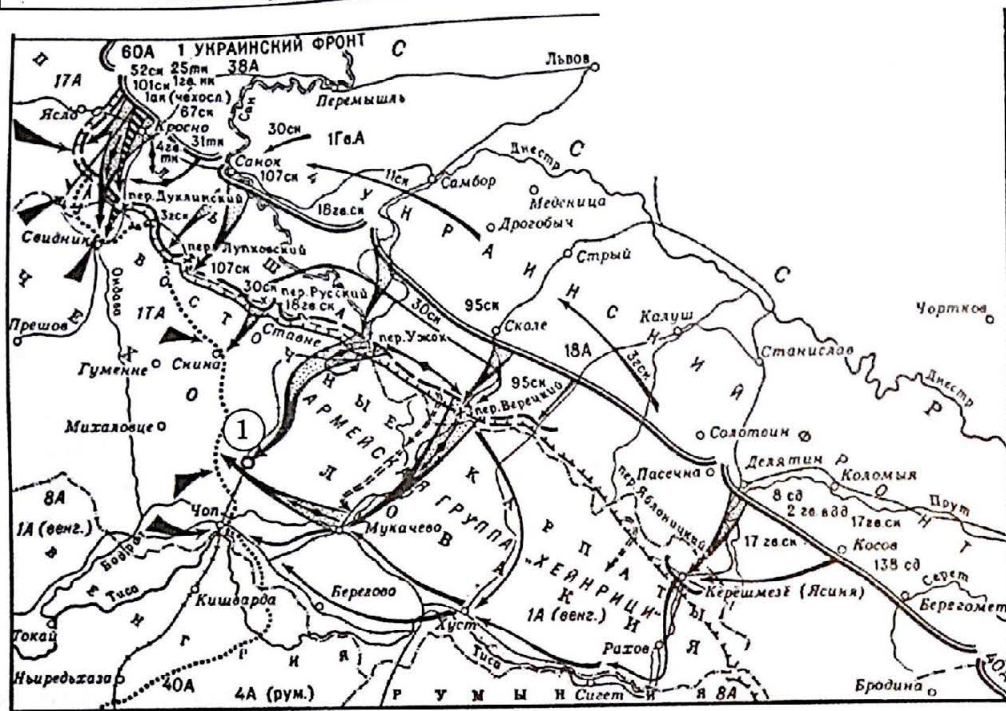
**В11.23.20.** Какие суждения, относящиеся к событиям, обозначенным на схеме, являются верными? Выберите три суждения из шести предложенных. Запишите в таблицу цифры, под которыми они указаны:

- 1) операция, ход которой обозначен на схеме, длилась три недели;
- 2) события, обозначенные на схеме, относятся к начальному этапу войны;
- 3) обозначенные на схеме события происходили одновременно с битвой на Курской дуге;
- 4) операция, ход которой обозначен на схеме, относится к «десяти сталинским ударам»;
- 5) итогом событий, обозначенных на схеме, стало поражение войск СССР;
- 6) в результате событий, обозначенных на схеме, СССР освободил оккупированные территории в Заполярье.

Ответ:

--	--	--





**В8.23.21.** Напишите название города, обозначенного на схеме цифрой 1.

Ответ: \_\_\_\_\_

**В9.23.21.** Напишите название страны, чьи войска участвовали в обозначенной на схеме операции на стороне СССР.

Ответ: \_\_\_\_\_

**В10.23.21.** Напишите фамилию командующего 4-м Украинским фронтом, войска которого участвовали в операции, обозначенной на схеме.

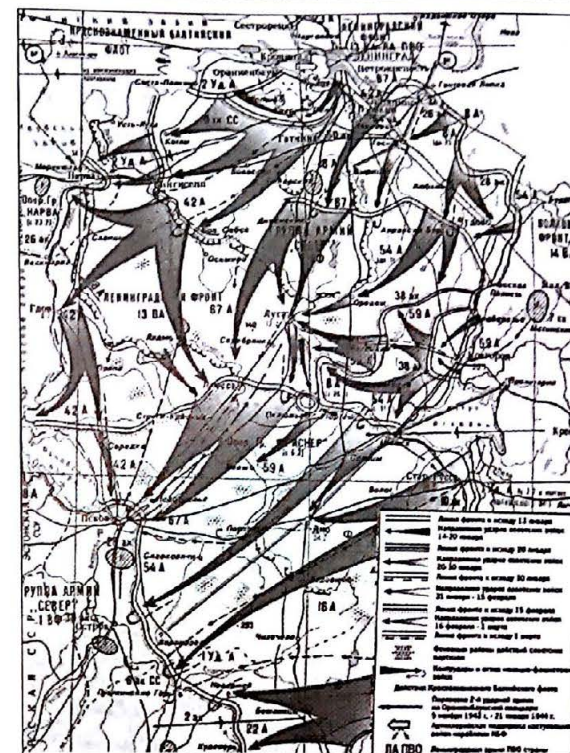
Ответ: \_\_\_\_\_

**В11.23.21.** Какие суждения, относящиеся к событиям, обозначенным на схеме, являются верными? Выберите три суждения из шести предложенных. Запишите в таблицу цифры, под которыми они указаны:

- 1) операция, ход которой обозначен на схеме, длилась полтора месяца;
- 2) обозначенные на схеме события происходили в летний период;
- 3) операция, ход которой обозначен на схеме, происходила в зимний период;
- 4) события, обозначенные на схеме, относятся к «десяти сталинским ударам»;
- 5) итогом событий, обозначенных на схеме, стало освобождение Закарпатской Украины;
- 6) обозначенная на схеме операция началась ранее первоначального срока, для того чтобы помочь войскам Великобритании и США, высадившимся в Нормандии.

Ответ: \_\_\_\_\_

--	--	--



**В8.23.22.** Напишите фамилию командующего Ленинградским фронтом, войска которого участвовали в операции, обозначенной на схеме.

Ответ: \_\_\_\_\_

**В9.23.22.** Напишите название операции, обозначенной на схеме.

Ответ: \_\_\_\_\_

**В10.23.22.** Напишите год, в котором была проведена операция, обозначенная на схеме.

Ответ: \_\_\_\_\_

**В11.23.22.** Какие суждения, относящиеся к событиям, обозначенным на схеме, являются верными? Выберите три суждения из шести предложенных. Запишите в таблицу цифры, под которыми они указаны:

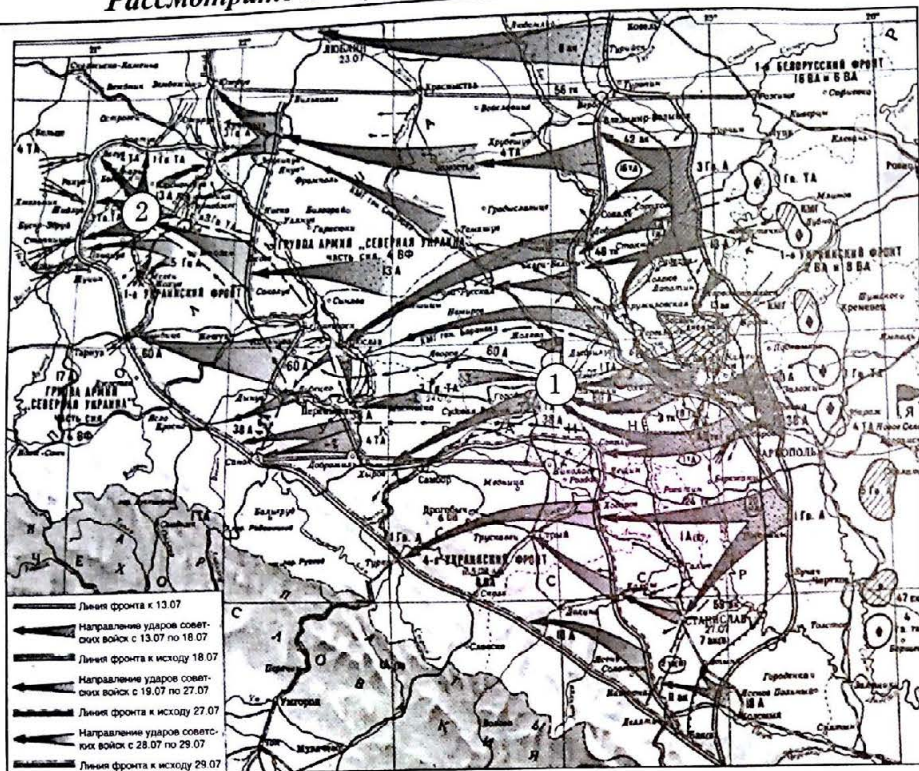
- 1) операция, ход которой обозначен на схеме, длилась полтора месяца;
- 2) обозначенные на схеме события происходили в летний период;
- 3) операция, обозначенная на схеме, происходила в начале войны;
- 4) события, обозначенные на схеме, относятся к «десяти сталинским ударам»;
- 5) итогом операции, обозначенной на схеме, стало снятие блокады Ленинграда;
- 6) обозначенная на схеме операция началась ранее первоначального срока, для того чтобы помочь войскам Великобритании и США, высадившимся в Нормандии.

Ответ: \_\_\_\_\_

--	--	--



Рассмотрите схему и выполните задания В8–В11.



**В8.23.23.** Напишите название города, обозначенного на схеме цифрой 1.

Ответ: \_\_\_\_\_.

**В9.23.23.** Напишите год, когда происходили события, обозначенные на схеме.

Ответ: \_\_\_\_\_.

**В10.23.23.** Напишите название плацдарма, обозначенного на схеме цифрой 2.

Ответ: \_\_\_\_\_.

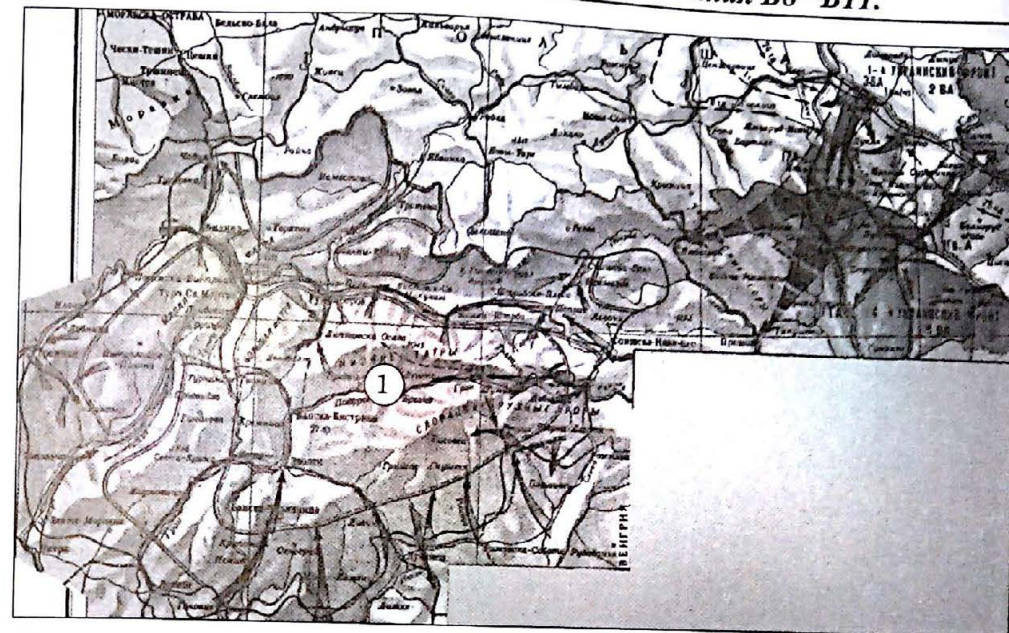
**В11.23.23.** Какие суждения, относящиеся к событиям, обозначенным на схеме, являются верными? Выберите три суждения из шести предложенных. Запишите в таблицу цифры, под которыми они указаны:

- 1) операция, ход которой обозначен на схеме, длилась в общей сложности полтора месяца;
- 2) обозначенные на схеме события происходили в осенний период;
- 3) события, ход которых обозначен на схеме, относятся к начальному этапу войны;
- 4) события, обозначенные на схеме, относятся к завершающему этапу войны;
- 5) итогом событий, обозначенных на схеме, стала капитуляция войск Румынии;
- 6) в результате проведения операции, обозначенной на схеме, была полностью освобождена территория Украинской ССР.

Ответ:

--	--	--

Рассмотрите схему и выполните задания В8–В11.



**В8.23.24.** Напишите название государства, обозначенного на схеме цифрой 1.

Ответ: \_\_\_\_\_.

**В9.23.24.** Напишите год, когда происходили события, обозначенные на схеме.

Ответ: \_\_\_\_\_.

**В10.23.24.** Напишите фамилию командующего 4-м Украинским фронтом, войска которого участвовали в операции, обозначенной на схеме.

Ответ: \_\_\_\_\_.

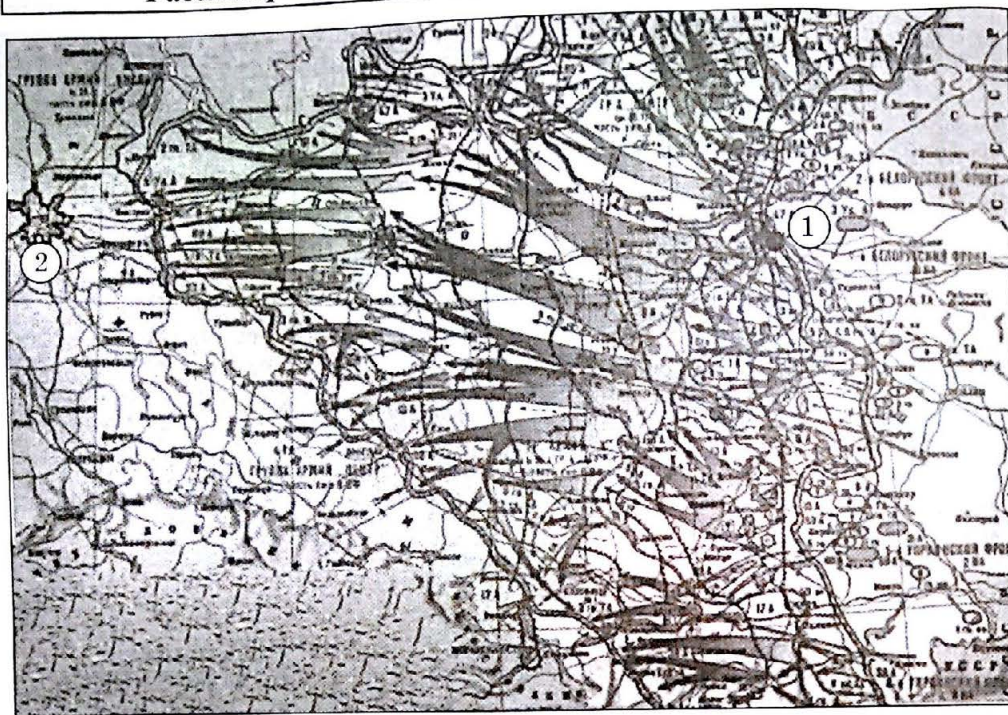
**В11.23.24.** Какие суждения, относящиеся к событиям, обозначенным на схеме, являются верными? Выберите три суждения из шести предложенных. Запишите в таблицу цифры, под которыми они указаны:

- 1) события, ход которых обозначен на схеме, длились в общей сложности три месяца;
- 2) обозначенные на схеме события происходили в осенний период;
- 3) события, ход которых обозначен на схеме, относятся к начальному этапу войны;
- 4) события, обозначенные на схеме, относятся к завершающему этапу войны;
- 5) итогом событий, обозначенных на схеме, стала капитуляция войск Германии;
- 6) государство, обозначенное на схеме цифрой 1, на начальном этапе войны Германии против СССР выступало союзником Германии.

Ответ:

--	--	--





**В8.23.25.** Напишите название города, обозначенного на схеме цифрой 1.

Ответ: \_\_\_\_\_

**В9.23.25.** Напишите название города, обозначенного на схеме цифрой 2.

Ответ: \_\_\_\_\_

**В10.23.25.** Напишите фамилию командующего 1-м Белорусским фронтом, войска которого участвовали в операции, обозначенной на схеме.

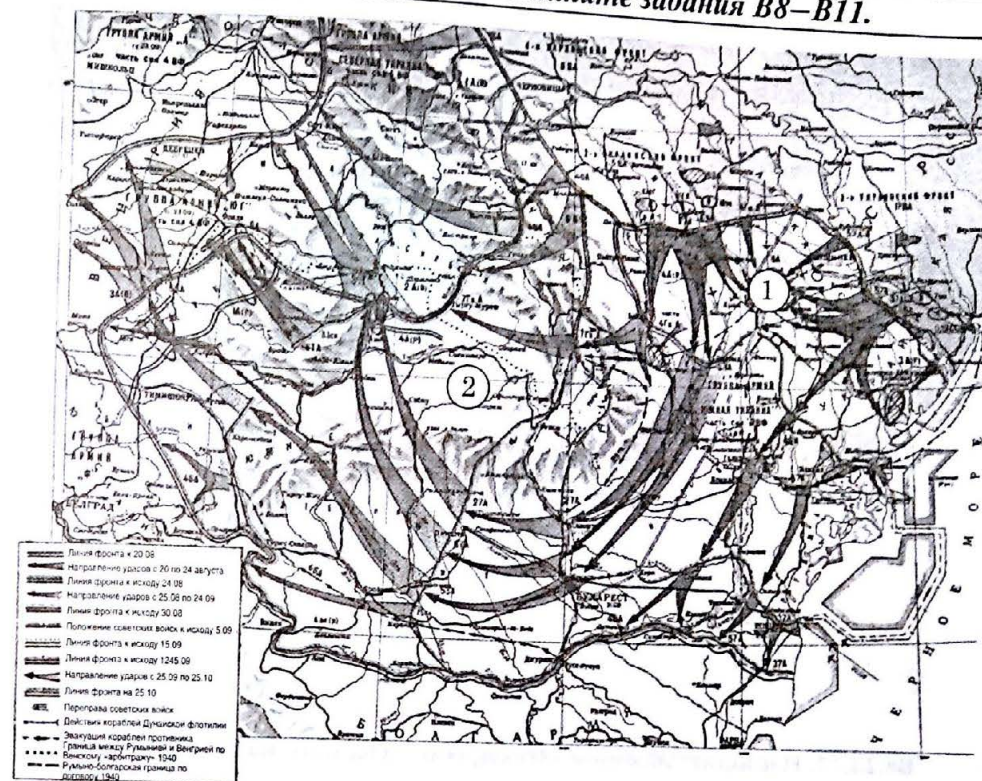
Ответ: \_\_\_\_\_

**В11.23.25.** Какие суждения, относящиеся к событиям, обозначенным на схеме, являются верными? Выберите три суждения из шести предложенных. Запишите в таблицу цифры, под которыми они указаны:

- 1) операция, ход которой обозначен на схеме, длилась три месяца;
- 2) обозначенные на схеме события происходили в осенний период;
- 3) операция, ход которой обозначен на схеме, происходила в зимний период;
- 4) события, обозначенные на схеме, относятся к завершающему этапу войны;
- 5) итогом событий, обозначенных на схеме, стала капитуляция Германии;
- 6) обозначенная на схеме операция началась ранее первоначально установленного срока, для того чтобы помочь войскам Великобритании и США.

Ответ:

--	--	--



**В8.23.26.** Напишите название операции, обозначенной на схеме цифрой 1.

Ответ: \_\_\_\_\_

**В9.23.26.** Напишите название государства, обозначенного на схеме цифрой 2.

Ответ: \_\_\_\_\_

**В10.23.26.** Напишите имя руководителя, возглавившего государство, обозначенное цифрой 2, в результате осуществления операции, обозначенной на схеме.

Ответ: \_\_\_\_\_

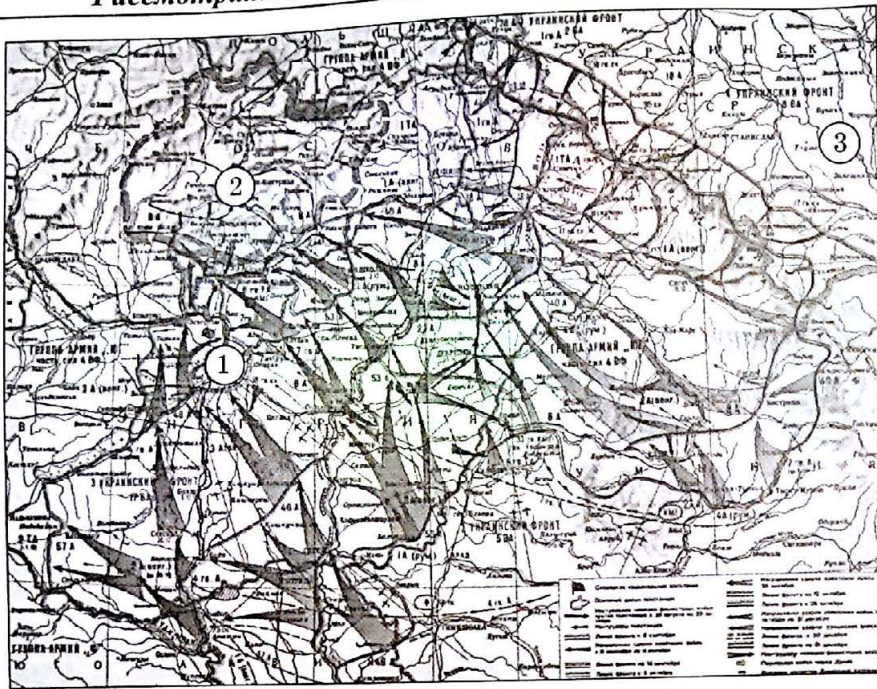
**В11.23.26.** Какие суждения, относящиеся к событиям, обозначенным на схеме, являются верными? Выберите три суждения из шести предложенных. Запишите в таблицу цифры, под которыми они указаны:

- 1) операция, ход которой обозначен на схеме, длилась в общей сложности два месяца;
- 2) обозначенные на схеме события происходили в осенний период;
- 3) операция, ход которой обозначен на схеме, происходила в зимний период;
- 4) события, обозначенные на схеме, относятся к завершающему этапу войны;
- 5) итогом событий, обозначенных на схеме, стала капитуляция Венгрии;
- 6) обозначенная на схеме операция началась ранее первоначально установленного срока, для того чтобы помочь войскам 1-го Белорусского фронта в осуществлении операции «Багратион».

Ответ:

--	--	--





В8.23.27. Напишите название города, обозначенного на схеме цифрой 1.

Ответ: \_\_\_\_\_.

В9.23.27. Напишите название события, происходившего на территории, обозначенной на схеме цифрой 2.

Ответ: \_\_\_\_\_.

В10.23.27. Напишите название государства, обозначенного цифрой 3.

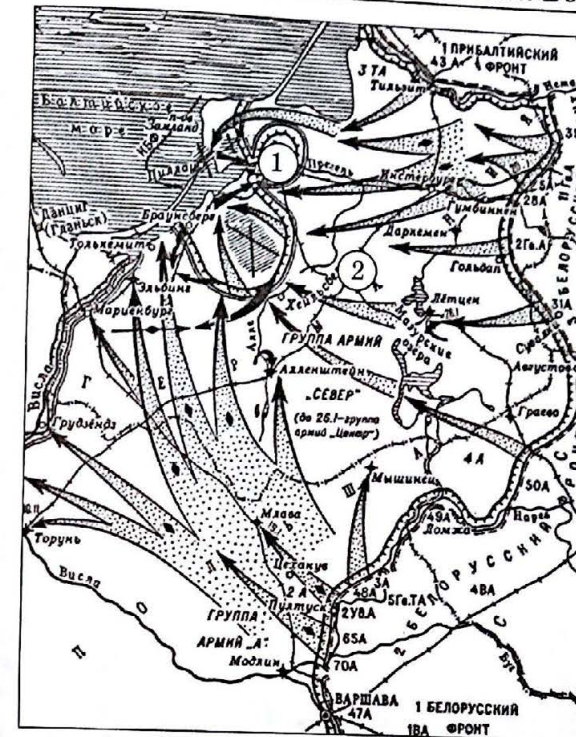
Ответ: \_\_\_\_\_.

В11.23.27. Какие суждения, относящиеся к событиям, обозначенным на схеме, являются верными? Выберите три суждения из шести предложенных. Запишите в таблицу цифры, под которыми они указаны:

- 1) операция, ход которой обозначен на схеме, продолжалась в общей сложности три месяца;
- 2) обозначенные на схеме события происходили в летний период;
- 3) операция, ход которой обозначен на схеме, происходила в осенне-зимний период;
- 4) события, обозначенные на схеме, относятся к начальному этапу Великой Отечественной войны;
- 5) итогом событий, обозначенных на схеме, стала капитуляция Австрии;
- 6) союзниками советских войск в ходе операции, обозначенной на схеме, были войска Румынии.

Ответ:

--	--	--



В8.23.28. Напишите название города, обозначенного на схеме цифрой 1.

Ответ: \_\_\_\_\_.

В9.23.28. Напишите название части территории враждебного СССР государства, обозначенной на схеме цифрой 2.

Ответ: \_\_\_\_\_.

В10.23.28. Напишите фамилию командующего 3-м Белорусским фронтом, войска которого участвовали в операции, обозначенной на схеме.

Ответ: \_\_\_\_\_.

В11.23.28. Какие суждения, относящиеся к событиям, обозначенным на схеме, являются верными? Выберите три суждения из шести предложенных. Запишите в таблицу цифры, под которыми они указаны:

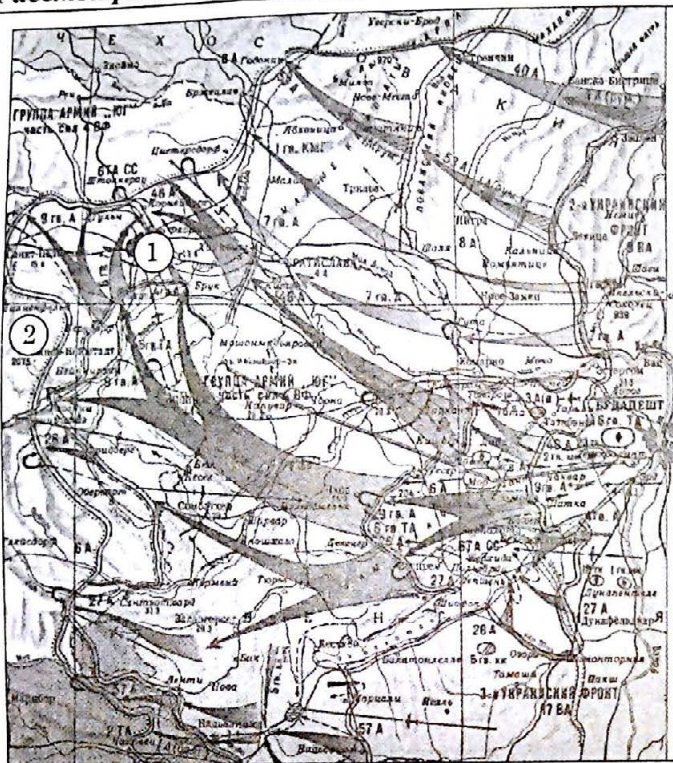
- 1) операция, ход которой обозначен на схеме, длилась шесть месяцев;
- 2) обозначенные на схеме события происходили в весенний период;
- 3) операция, ход которой обозначен на схеме, происходила в зимний период;
- 4) события, обозначенные на схеме, относятся к начальному этапу войны;
- 5) итогом событий, обозначенных на схеме, стала капитуляция вражеских войск;
- 6) обозначенная на схеме операция относится к завершающему этапу войны.

Ответ:

--	--	--



Рассмотрите схему и выполните задания В8–В11.



В8.23.29. Напишите название города, обозначенного на схеме цифрой 1.

Ответ: \_\_\_\_\_.

В9.23.29. Напишите название государства, обозначенного на схеме цифрой 2.

Ответ: \_\_\_\_\_.

В10.23.29. Напишите фамилию командующего 3-м Украинским фронтом, войска которого участвовали в операции, обозначенной на схеме.

Ответ: \_\_\_\_\_.

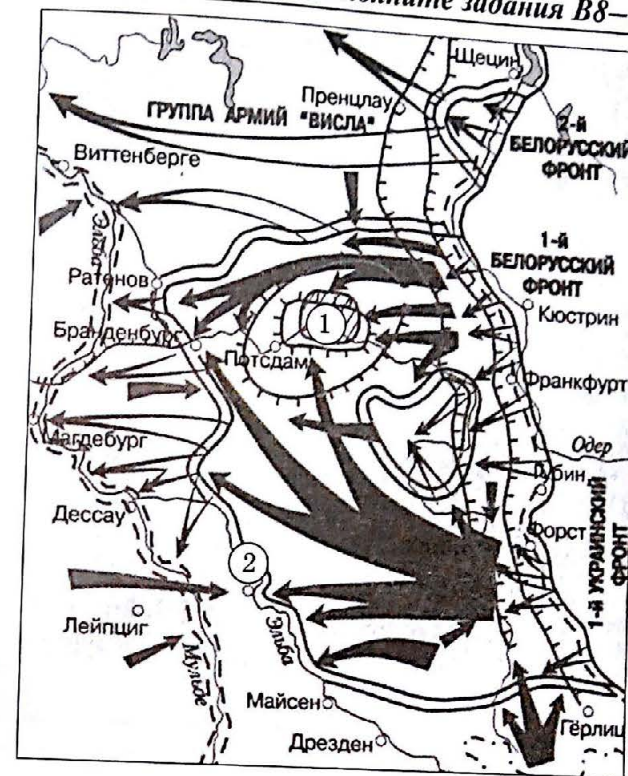
В11.23.29. Какие суждения, относящиеся к событиям, обозначенным на схеме, являются верными? Выберите три суждения из шести предложенных. Запишите в таблицу цифры, под которыми они указаны:

- 1) операция, ход которой обозначен на схеме, длилась четыре месяца;
- 2) обозначенные на схеме события происходили в весенний период;
- 3) операция, ход которой обозначен на схеме, происходила в зимний период;
- 4) события, обозначенные на схеме, относятся к завершающему этапу войны;
- 5) итогом событий, обозначенных на схеме, стала капитуляция Германии;
- 6) в обозначенной на схеме операции в качестве союзника СССР принимали участие румынские войска.

Ответ:

--	--	--

Рассмотрите схему и выполните задания В8–В11.



В8.23.30. Напишите название города, обозначенного на схеме цифрой 1.

Ответ: \_\_\_\_\_.

В9.23.30. Напишите название города, обозначенного на схеме цифрой 2.

Ответ: \_\_\_\_\_.

В10.23.30. Напишите фамилию командующего 1-м Белорусским фронтом, войска которого участвовали в операции, обозначенной на схеме.

Ответ: \_\_\_\_\_.

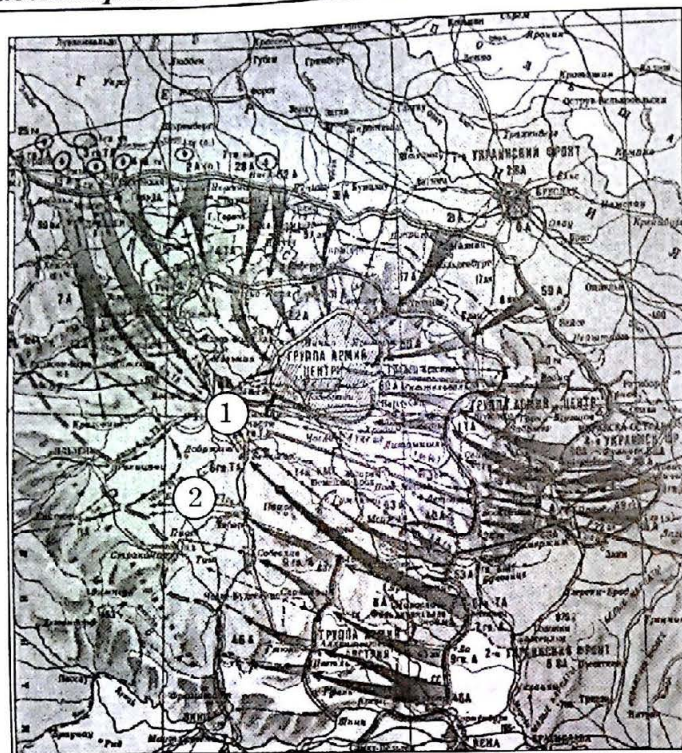
В11.23.30. Какие суждения, относящиеся к событиям, обозначенным на схеме, являются верными? Выберите три суждения из шести предложенных. Запишите в таблицу цифры, под которыми они указаны:

- 1) операция, ход которой обозначен на схеме, длилась три недели;
- 2) обозначенные на схеме события происходили в осенний период;
- 3) операция, ход которой обозначен на схеме, относится к периоду коренного перелома в ходе войны;
- 4) события, обозначенные на схеме, относятся к завершающему этапу войны;
- 5) итогом событий, обозначенных на схеме, стала капитуляция Германии;
- 6) советским войскам в ходе обозначенной на схеме операции оказывали содействие войска Великобритании.

Ответ:

--	--	--





**В8.23.31.** Напишите название города, обозначенного на схеме цифрой 1.

Ответ: \_\_\_\_\_.

**В9.23.31.** Напишите название государства, обозначенного на схеме цифрой 2.

Ответ: \_\_\_\_\_.

**В10.23.31.** Напишите фамилию командующего 1-м Украинским фронтом, войска которого участвовали в операции, обозначенной на схеме.

Ответ: \_\_\_\_\_.

**В11.23.31.** Какие суждения, относящиеся к событиям, обозначенным на схеме, являются верными? Выберите три суждения из шести предложенных. Запишите в таблицу цифры, под которыми они указаны:

- 1) операция, ход которой обозначен на схеме, длилась одну неделю;
- 2) события, обозначенные на схеме, относятся к завершающему этапу войны;
- 3) обозначенные на схеме события происходили в осенний период;
- 4) операция, ход которой обозначен на схеме, относится к «десяти сталинским ударам»;
- 5) итогом событий, обозначенных на схеме, стало поражение войск Германии;
- 6) советским войскам в ходе обозначенной на схеме операции оказывали содействие войска Франции.

Ответ:

--	--	--



**В8.23.32.** Напишите цифру, которой на схеме обозначены действия войск СССР.

Ответ: \_\_\_\_\_.

**В9.23.32.** Напишите цифру, которой на схеме обозначены действия войск США и Великобритании.

Ответ: \_\_\_\_\_.

**В10.23.32.** Напишите цифру, которой на схеме обозначены действия войск Югославии.

Ответ: \_\_\_\_\_.

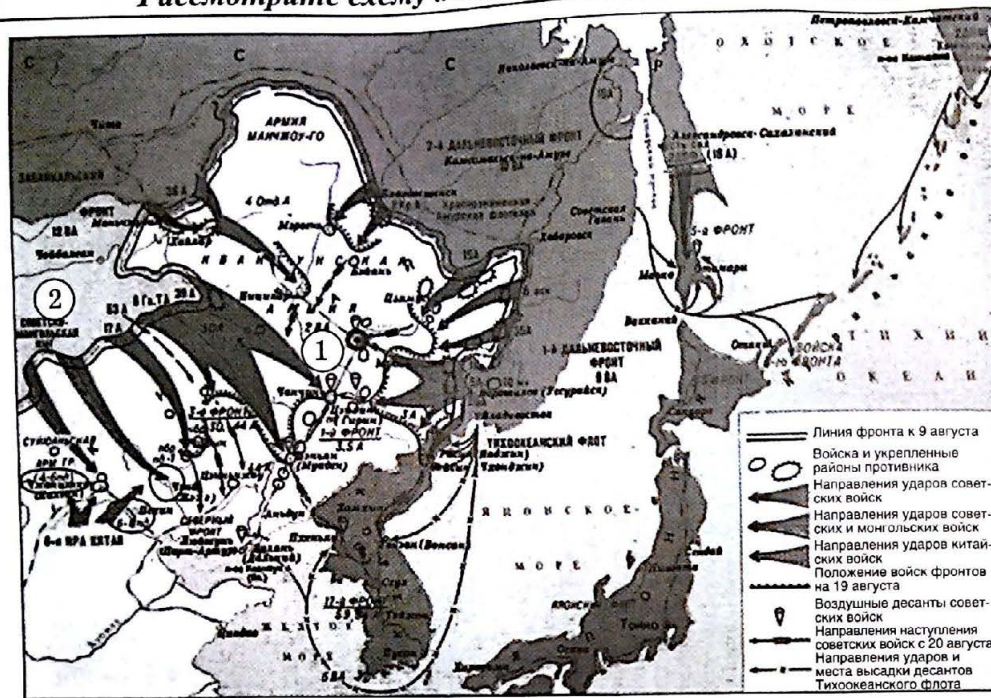
**В11.23.32.** Какие суждения, относящиеся к событиям, обозначенным на схеме, являются верными? Выберите три суждения из шести предложенных. Запишите в таблицу цифры, под которыми они указаны:

- 1) события, обозначенные на схеме, длилась в общей сложности более года;
- 2) события, обозначенные на схеме, относятся к периоду Великой Отечественной войны;
- 3) во время обозначенных на схеме событий состоялась Ялтинская конференция;
- 4) операции, ход которых обозначен на схеме, относятся к «десяти сталинским ударам»;
- 5) итогом событий, обозначенных на схеме, стала капитуляция Германии;
- 6) войска СССР и США в ходе событий, обозначенных на схеме, встретились на реке Рейн.

Ответ:

--	--	--





В8.23.33. Напишите название города, обозначенного на схеме цифрой 1.

Ответ: \_\_\_\_\_

В9.23.33. Напишите название государства, обозначенного на схеме цифрой 2.

Ответ: \_\_\_\_\_

В10.23.33. Напишите название государства — противника СССР в военных действиях, обозначенных на схеме.

Ответ: \_\_\_\_\_

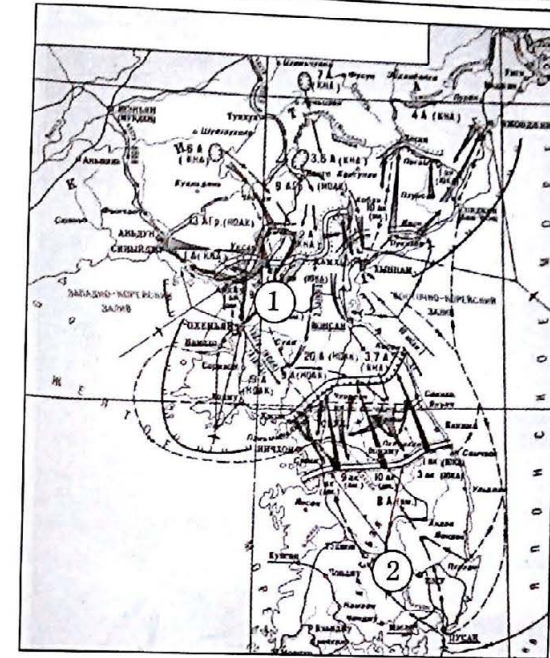
В11.23.33. Какие суждения, относящиеся к событиям, обозначенным на схеме, являются верными? Выберите три суждения из шести предложенных. Запишите в таблицу цифры, под которыми они указаны:

- 1) операция, ход которой обозначен на схеме, длилась в общей сложности менее месяца;
- 2) события, обозначенные на схеме, относятся к периоду Великой Отечественной войны;
- 3) обозначенные на схеме события происходили в результате выполнения Советским Союзом обязательств, данных на Ялтинской конференции;
- 4) операция, ход которой обозначен на схеме, относится к «десяти сталинским ударам»;
- 5) итогом событий, обозначенных на схеме, стало поражение войск Японии;
- 6) советским войскам в ходе обозначенной на схеме операции оказывали содействие войска Франции.

Ответ:

--	--	--

Рассмотрите схему и выполните задания В8–В11.



В8.24.1. Напишите цифру, обозначающую государство, которое в ходе войны, обозначенной на схеме, поддерживал Советский Союз.

Ответ: \_\_\_\_\_

В9.24.1. Напишите фамилию руководителя СССР во время войны, этап которой обозначен на схеме.

Ответ: \_\_\_\_\_

В10.24.1. Напишите десятилетие, в котором происходила война, этап которой обозначен на схеме.

Ответ: \_\_\_\_\_

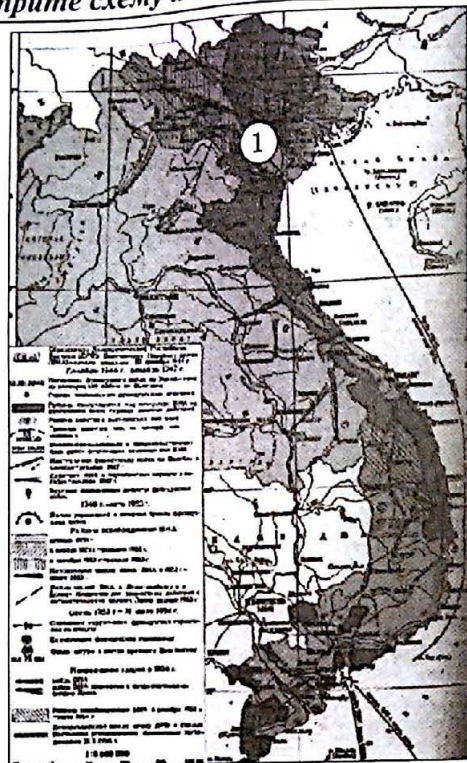
В11.24.1. Какие суждения, относящиеся к событиям, обозначенным на схеме, являются верными? Выберите три суждения из шести предложенных. Запишите в таблицу цифры, под которыми они указаны:

- 1) война, обозначенная на схеме, длилась в общей сложности три года;
- 2) в войне, обозначенной на схеме, участвовала Япония;
- 3) в войне, обозначенной на схеме, участвовали военные специалисты из СССР;
- 4) в войне, обозначенной на схеме, участвовали войска более 10 стран;
- 5) итогом событий, обозначенных на схеме, стало поражение войск Японии;
- 6) война, обозначенная на схеме, закончилась оккупацией китайскими войсками соседнего государства.

Ответ:

--	--	--





**В8.24.2.** Напишите название государства, обозначенного на схеме цифрой 1.

Ответ: \_\_\_\_\_.

**В9.24.2.** Напишите название исторического периода, которому относятся события, обозначенные на схеме.

Ответ: \_\_\_\_\_.

**В10.24.2.** Напишите фамилию руководителя СССР, при котором начались события, изображенные на схеме.

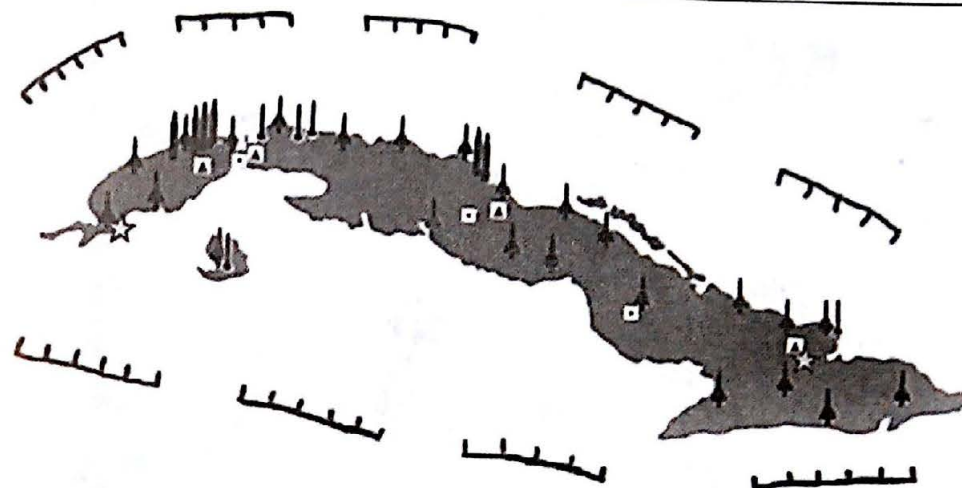
Ответ: \_\_\_\_\_.

**В11.24.2.** Какие суждения, относящиеся к событиям, обозначенным на схеме, являются верными? Выберите три суждения из шести предложенных. Запишите в таблицу цифры, под которыми они указаны:

- 1) обозначенные на схеме события относятся ко Второй мировой войне;
- 2) в обозначенных на схеме событиях участвовали французские войска;
- 3) СССР помогал одной из сторон конфликта оружием;
- 4) обозначенные на схеме события относятся к периоду деколонизации стран Азии и Африки;
- 5) противником советских войск в ходе обозначенной операции выступала регулярная армия изображенного на схеме государства;
- 6) в обозначенных на схеме событиях участвовали соединения регулярных советских войск.

Ответ: \_\_\_\_\_

Рассмотрите схему и выполните задания В8–В11.



**В8.25.1.** Напишите название страны, которая обозначена на схеме.

Ответ: \_\_\_\_\_.

**В9.25.1.** Напишите название государства, осуществлявшего блокаду страны, обозначенной на схеме.

Ответ: \_\_\_\_\_.

**В10.25.1.** Напишите год, в котором происходили события, обозначенные на схеме.

Ответ: \_\_\_\_\_.

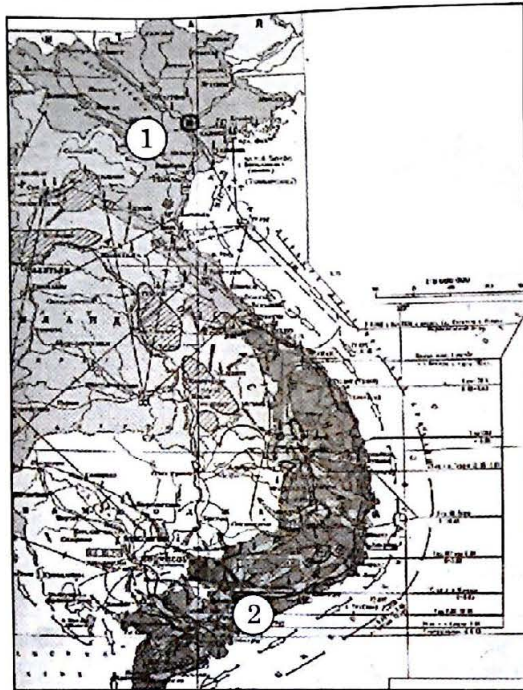
**В11.25.1.** Какие суждения, относящиеся к событиям, обозначенным на схеме, являются верными? Выберите три суждения из шести предложенных. Запишите в таблицу цифры, под которыми они указаны:

- 1) обозначенные на схеме события относятся к периоду «холодной войны»;
- 2) в событиях, обозначенных на схеме, принимали участие советские военные специалисты;
- 3) существует точка зрения, что обозначенные на схеме события резко снизили престиж и влияние СССР в мире;
- 4) обозначенные на схеме события происходили во время Второй мировой войны;
- 5) обозначенные на схеме события закончились локальным вооруженным конфликтом с использованием ядерного оружия;
- 6) обозначенные на схеме события привели к подписанию договора о запрете ядерных испытаний в космосе, атмосфере и под водой.

Ответ: \_\_\_\_\_



Рассмотрите схему и выполните задания В8–В11.



**В8.26.1.** Напишите название города, обозначенного на схеме цифрой 1.

Ответ: \_\_\_\_\_

**В9.26.1.** Напишите название города, обозначенного на схеме цифрой 2.

Ответ: \_\_\_\_\_

**В10.26.1.** Напишите фамилию руководителя СССР, при котором происходили события, изображенные на схеме.

Ответ: \_\_\_\_\_

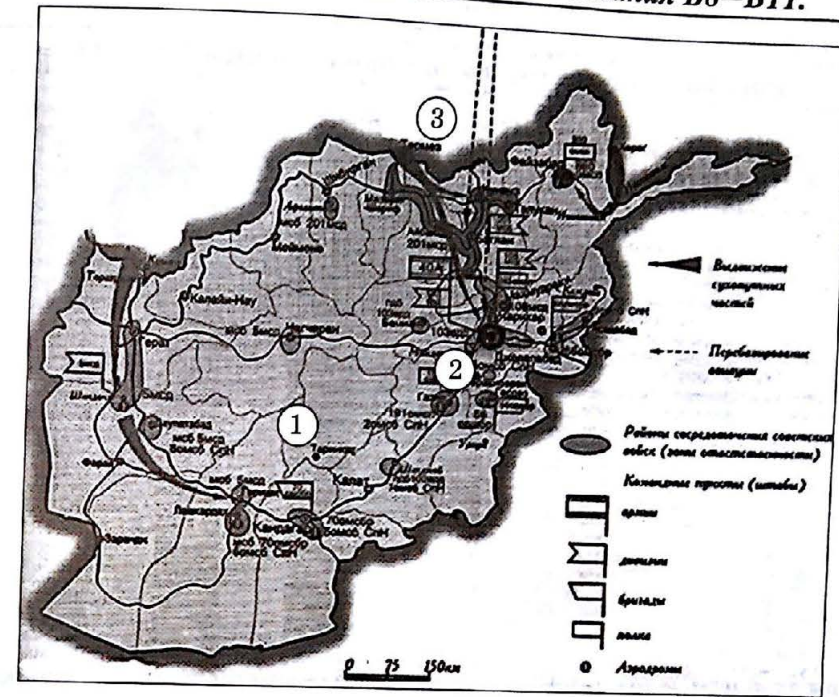
**В11.26.1.** Какие суждения, относящиеся к событиям, обозначенным на схеме, являются верными? Выберите три суждения из шести предложенных. Запишите в таблицу цифры, под которыми они указаны:

- 1) обозначенные на схеме события относятся к периоду «холодной войны»;
- 2) в событиях, обозначенных на схеме, участвовали крупные соединения советских войск;
- 3) существует точка зрения, что обозначенные на схеме события сильно подорвали престиж и влияние США в мире;
- 4) обозначенные на схеме события относятся к Великой Отечественной войне;
- 5) противником советских войск в ходе обозначенной операции выступала регулярная армия изображенного на схеме государства;
- 6) в обозначенных на схеме событиях участвовали советские военные специалисты.

Ответ:

--	--	--

Рассмотрите схему и выполните задания В8–В11.



**В8.26.2.** Напишите название страны, которая обозначена на схеме цифрой 1.

Ответ: \_\_\_\_\_

**В9.26.2.** Напишите название города, обозначенного на схеме цифрой 2.

Ответ: \_\_\_\_\_

**В10.26.2.** Напишите фамилию руководителя государства, обозначенного на схеме цифрой 3, при котором была проведена операция, изображенная на схеме.

Ответ: \_\_\_\_\_

**В11.26.2.** Какие суждения, относящиеся к событиям, обозначенным на схеме, являются верными? Выберите три суждения из шести предложенных. Запишите в таблицу цифры, под которыми они указаны:

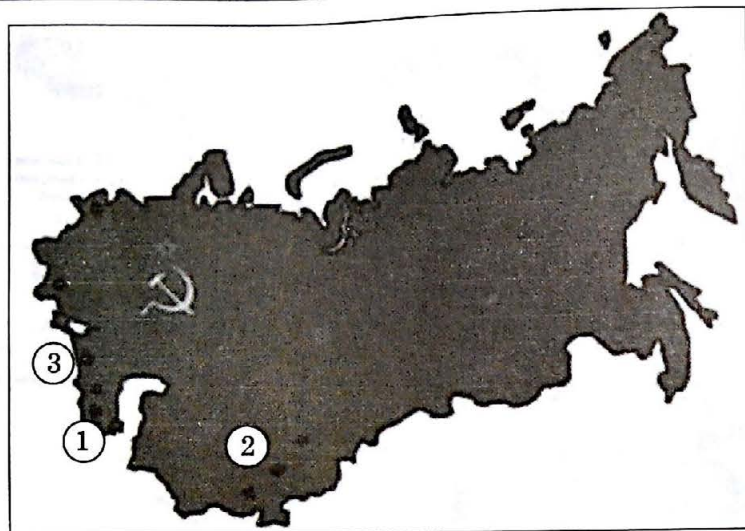
- 1) обозначенная на схеме операция относится к периоду «холодной войны»;
- 2) в операции, обозначенной на схеме, советские войска действовали под командованием маршала И.Х. Баграмяна;
- 3) существует точка зрения, что обозначенная на схеме операция советских войск была неудачной;
- 4) обозначенная на схеме операция проводилась советскими войсками в ходе Великой Отечественной войны;
- 5) противником советских войск в ходе обозначенной операции выступала регулярная армия изображенного на схеме государства;
- 6) в ходе обозначенной на схеме операции советские войска понесли минимальные потери.

Ответ:

--	--	--



Рассмотрите схему и выполните задания В8–В11.



**В8.27.1.** Напишите цифру, обозначающую армяно-азербайджанский конфликт.

Ответ: \_\_\_\_\_.

**В9.27.1.** Напишите цифру, обозначающую грузино-абхазский конфликт.

Ответ: \_\_\_\_\_.

**В10.27.1.** Напишите фамилию руководителя государства, при котором происходили межнациональные конфликты, обозначенные на схеме.

Ответ: \_\_\_\_\_.

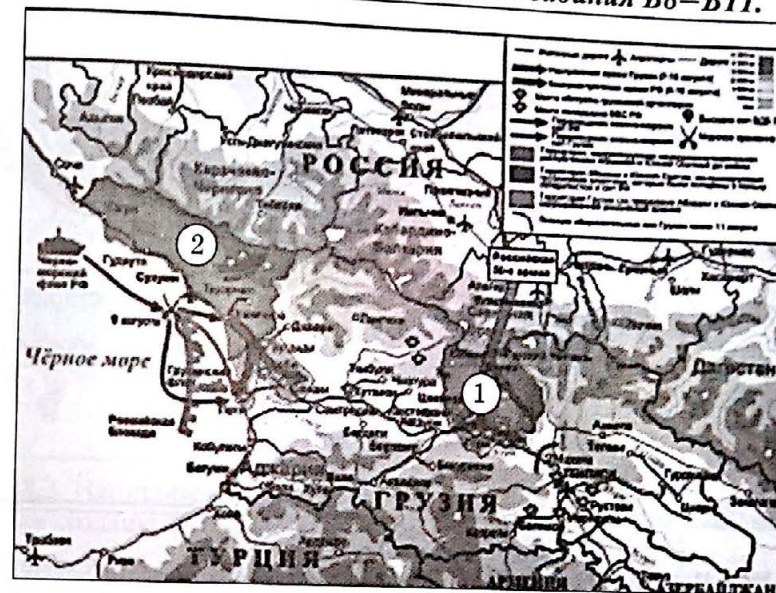
**В11.27.1.** Какие суждения, относящиеся к событиям, обозначенным на схеме, являются верными? Выберите три суждения из шести предложенных. Запишите в таблицу цифры, под которыми они указаны:

- 1) события, обозначенные на схеме, относятся к периоду «холодной войны»;
- 2) одним из наиболее кровопролитных межнациональных конфликтов, обозначенных на схеме, был конфликт между узбеками и киргизами в Ферганской долине;
- 3) существует точка зрения, что обозначенные на схеме конфликты были спровоцированы работой зарубежных спецслужб;
- 4) результатом обозначенных на схеме конфликтов стало вхождение союзных республик в состав СССР на правах автономий;
- 5) результатом обозначенных на схеме конфликтов стало преобразование СССР из федеративного в унитарное государство;
- 6) в обозначенных на схеме событиях участвовала советская армия.

Ответ:

--	--	--

Рассмотрите схему и выполните задания В8–В11.



**В8.28.1.** Напишите название территории, обозначенной на схеме цифрой 1.

Ответ: \_\_\_\_\_.

**В9.28.1.** Напишите название территории, обозначенной на схеме цифрой 2.

Ответ: \_\_\_\_\_.

**В10.28.1.** Напишите фамилию руководителя России в период, когда происходили события, обозначенные на схеме.

Ответ: \_\_\_\_\_.

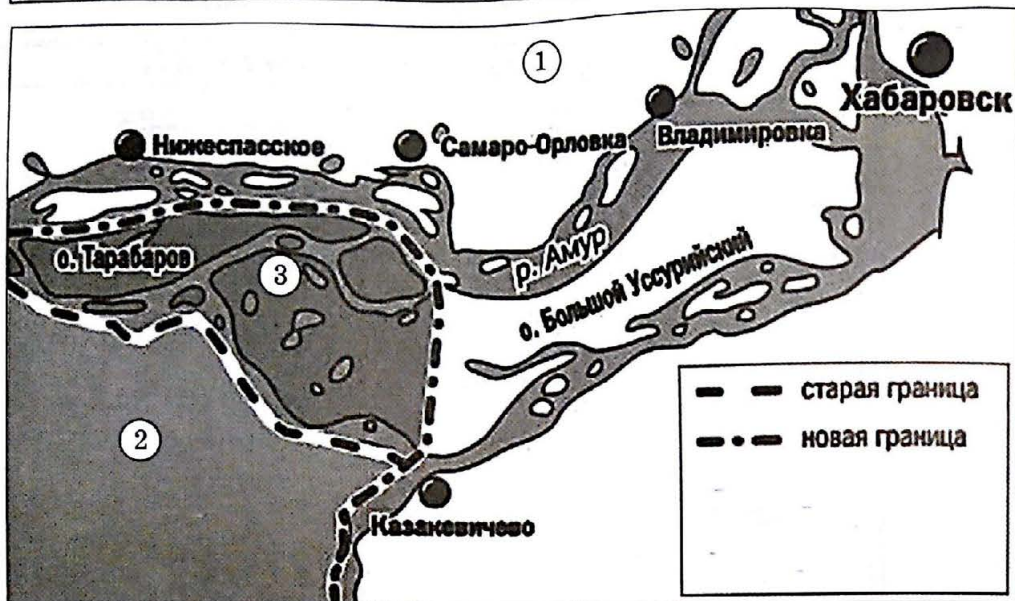
**В11.28.1.** Какие суждения, относящиеся к событиям, обозначенным на схеме, являются верными? Выберите три суждения из шести предложенных. Запишите в таблицу цифры, под которыми они указаны:

- 1) вооруженный конфликт, ход которого обозначен на схеме, длился в общей сложности менее недели;
- 2) вооруженный конфликт, ход которого обозначен на схеме, относится к периоду «перестройки»;
- 3) обозначенные на схеме события происходили в результате выполнения Россией обязательств, данных на Гагской конференции;
- 4) операция, ход которой обозначен на схеме, относится к периоду Кавказской войны;
- 5) итогом событий, обозначенных на схеме, стало поражение войск Грузии;
- 6) в результате конфликта территории, обозначенные на схеме цифрами 1 и 2, были признаны рядом стран в качестве независимых государств.

Ответ:

--	--	--





**В8.28.2.** Напишите название государства, обозначенного на схеме цифрой 1.

Ответ: \_\_\_\_\_.

**В9.28.2.** Напишите название государства, обозначенного на схеме цифрой 2.

Ответ: \_\_\_\_\_.

**В10.28.2.** Напишите десятилетие, когда к государству, обозначенному цифрой 2, отошли территории, обозначенные на схеме цифрой 3.

Ответ: \_\_\_\_\_.

**В11.28.2.** Какие суждения, относящиеся к событиям, обозначенным на схеме, являются верными? Выберите три суждения из шести предложенных. Запишите в таблицу цифры, под которыми они указаны:

- 1) территории, которые обозначены на схеме цифрой 3, были переданы соседнему государству в результате вооруженного конфликта;
- 2) события, которые обозначены на схеме, относятся к периоду «перестройки»;
- 3) обозначенные на схеме события происходили в результате мирного двустороннего соглашения;
- 4) обозначенные на схеме события окончательно урегулировали все территориальные разногласия между соседними государствами;
- 5) итогом событий, обозначенных на схеме, стало резкое обострение взаимоотношений между государствами;
- 6) передача территорий, обозначенных на схеме цифрой 3, состоялась в год проведения Олимпийских игр.

Ответ:

--	--	--



**В8.28.3.** Напишите фамилию руководителя Российского государства, при котором были созданы обозначенные на схеме федеральные округа.

Ответ: \_\_\_\_\_.

**В9.28.3.** Напишите название федерального округа, обозначенного на схеме цифрой 1.

Ответ: \_\_\_\_\_.

**В10.28.3.** Напишите цифру, обозначающую федеральный округ, образованный в 2014 г.

Ответ: \_\_\_\_\_.

**В11.28.3.** Какие суждения, относящиеся к событиям, обозначенным на схеме, являются верными? Выберите три суждения из шести предложенных. Запишите в таблицу цифры, под которыми они указаны:

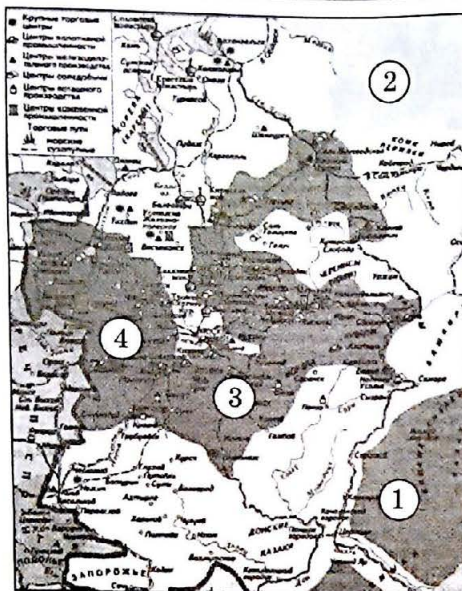
- 1) территории, которые обозначены на схеме цифрой 2, отошли к России в результате вооруженного конфликта;
- 2) образование федеральных округов, которые обозначены на схеме, относится к периоду «перестройки»;
- 3) образование федеральных округов, которые обозначены на схеме, происходило в рамках разграничения полномочий между федеральным центром и регионами;
- 4) образование федеральных округов, которые обозначены на схеме, произошло с целью повышения эффективности деятельности федеральных органов государственной власти;
- 5) итогом событий, обозначенных на схеме, стало резкое обострение взаимоотношений между федеральным центром и регионами;
- 6) представители президента в федеральных округах не обладают хозяйственными полномочиями.

Ответ:

--	--	--



Рассмотрите схему и выполните задания В8–В11.



**В8.29.1.** Напишите цифру, обозначающую район товарного производства хлеба в XVII в.

Ответ: \_\_\_\_\_

**В9.29.1.** Напишите цифру, обозначающую район кочевого скотоводства в XVII в.

Ответ: \_\_\_\_\_

**В10.29.1.** Напишите цифру, обозначающую район пушного промысла в XVII в.

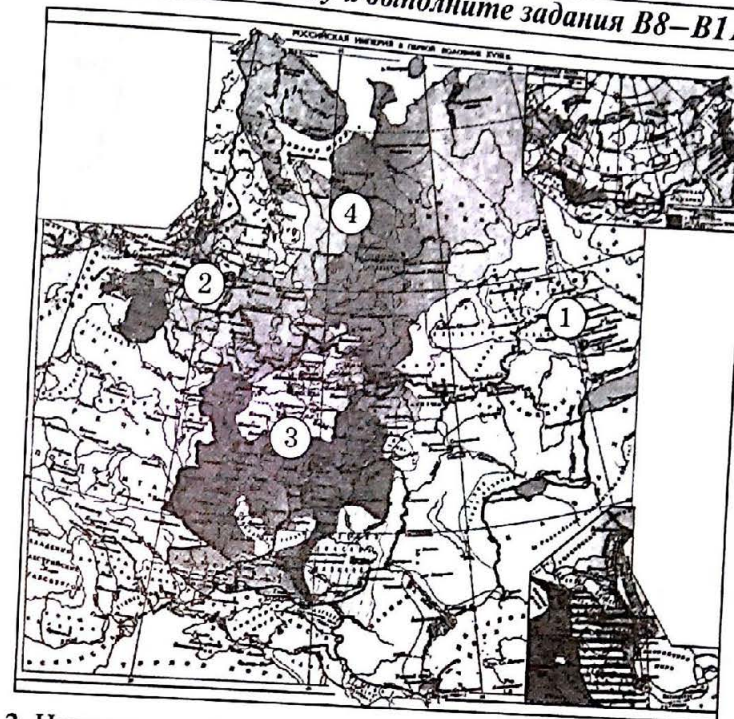
Ответ: \_\_\_\_\_

**В11.29.1.** Какие суждения, относящиеся к событиям, обозначенным на схеме, являются верными? Выберите три суждения из шести предложенных. Запишите в таблицу цифры, под которыми они указаны:

- 1) в период времени, обозначенный на схеме, в России активно строили промышленные предприятия иностранные купцы;
- 2) в период времени, обозначенный на схеме, в России были отменены внутренние таможенные пошлины;
- 3) в период времени, обозначенный на схеме, в России исчезли ярмарки;
- 4) в период времени, обозначенный на схеме, в России многие промышленные предприятия были казенные (государственные);
- 5) в период времени, обозначенный на схеме, в Россию активно приглашали иностранцев для развития промышленности и науки;
- 6) в период времени, обозначенный на схеме, в России для защиты внутреннего рынка действовали протекционистские таможенные пошлины.

Ответ:

Рассмотрите схему и выполните задания В8–В11.



**В8.29.2.** Напишите цифру, обозначающую уральский промышленный район.

Ответ: \_\_\_\_\_

**В9.29.2.** Напишите цифру, обозначающую тульский промышленный район.

Ответ: \_\_\_\_\_

**В10.29.2.** Напишите цифру, обозначающую крупнейший морской порт России в первой половине XVIII в.

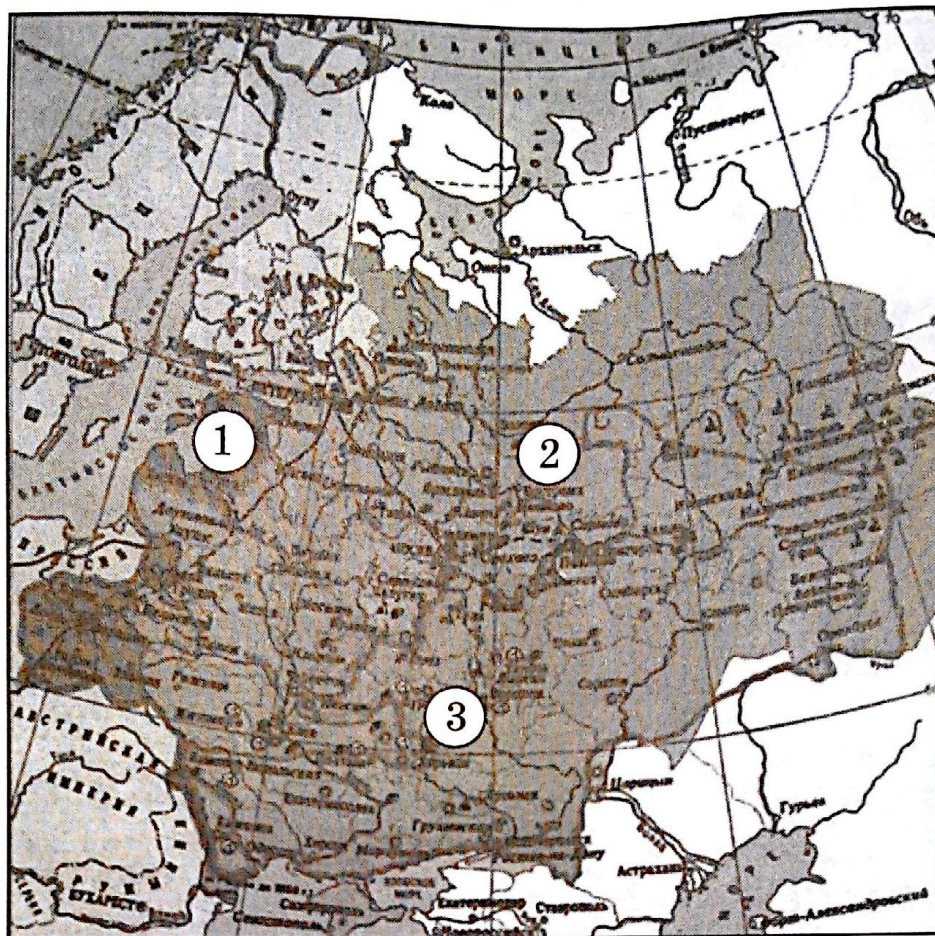
Ответ: \_\_\_\_\_

**В11.29.2.** Какие суждения, относящиеся к событиям, обозначенным на схеме, являются верными? Выберите три суждения из шести предложенных. Запишите в таблицу цифры, под которыми они указаны:

- 1) в период времени, обозначенный на схеме, иностранные купцы перестали строить в России промышленные предприятия;
- 2) в период времени, обозначенный на схеме, в России были отменены внутренние таможенные пошлины;
- 3) в период времени, обозначенный на схеме, в России исчезли ярмарки;
- 4) в период времени, обозначенный на схеме, в России многие промышленные предприятия были казенные (государственные);
- 5) в период времени, обозначенный на схеме, в Россию активно приглашали иностранцев для развития промышленности и науки;
- 6) в период времени, обозначенный на схеме, в России для защиты внутреннего рынка действовали протекционистские таможенные пошлины.

Ответ:





**В8.29.3.** Напишите цифру, обозначающую районы с преобладанием в первой половине XIX в. отработочной системы хозяйствования.

Ответ: \_\_\_\_\_.

**В9.29.3.** Напишите цифру, обозначающую районы с преобладанием в первой половине XIX в. барщинной системы хозяйствования.

Ответ: \_\_\_\_\_.

**В10.29.3.** Напишите цифру, обозначающую районы, где в первой половине XIX в. было отменено крепостное право.

Ответ: \_\_\_\_\_.

**В11.29.3.** Какие суждения, относящиеся к событиям, обозначенным на схеме, являются верными? Выберите три суждения из шести предложенных. Запишите в таблицу цифры, под которыми они указаны:

- 1) в период времени, обозначенный на схеме, в России отменили оброк;
- 2) в период времени, обозначенный на схеме, в России появились министерства;
- 3) в период времени, обозначенный на схеме, в России существовали ярмарки как центры торговли;
- 4) в период времени, обозначенный на схеме, в России многие промышленные предприятия были казенные (государственные);
- 5) в период времени, обозначенный на схеме, в России почти не строили железных дорог;
- 6) в период времени, обозначенный на схеме, Россия продала Аляску США.

Ответ:

--	--	--



# Ответы на тренировочные задания

## Тема 1. История России с древнейших времен до середины IX в.

В8.1.1.	ПОЛЯНЕ
В9.1.1.	ИСКОРОСТЕНЬ
В10.1.1.	3
В11.1.1.	124
В8.1.2.	ИЗ ВАРЯГ В ГРЕКИ
В9.1.2.	КИЕВ
В10.1.2.	3
В11.1.2.	256

## Тема 2. Русь во второй половине IX — начале XI в.

В8.2.1.	ОЛЕГ
В9.2.1.	НОВГОРОД
В10.2.1.	1
В11.2.1.	146
В8.2.2.	ОЛЕГ
В9.2.2.	НОВГОРОД
В10.2.2.	2
В11.2.2.	145
В8.2.3.	ПОЛЮДЬЕ
В9.2.3.	КИЕВ
В10.2.3.	3
В11.2.3.	236
В8.2.4.	ОЛЕГ
В9.2.4.	КОРСУНЬ (ХЕРСОНЕС)
В10.2.4.	2
В11.2.4.	236
В8.2.5.	ИГОРЬ
В9.2.5.	БОЛГАРИЯ
В10.2.5.	2
В11.2.5.	235
В8.2.6.	СВЯТОСЛАВ
В9.2.6.	ИТИЛЬ
В10.2.6.	5
В11.2.6.	134
В8.2.7.	СВЯТОСЛАВ
В9.2.7.	ДОРОСТОЛ



В10.2.7.	4
В11.2.7.	126
В8.2.8.	ВЛАДИМИР СВЯТОЙ
В9.2.8.	ТМУТАРАКАНЬ
В10.2.8.	2
В11.2.8.	345

Тема 3. Русь в XI — первой трети XII в.

В8.3.1.	ЯРОСЛАВ МУДРЫЙ
В9.3.1.	ПЕЧЕНЕГИ
В10.3.1.	3
В11.3.1.	125
В8.3.2.	ЯРОСЛАВ МУДРЫЙ
В9.3.2.	ПЕРЕЯСЛАВ
В10.3.2.	ЧЕРНИГОВ
В11.3.2.	235
В8.3.3.	ВЛАДИМИР МОНОМАХ
В9.3.3.	ТМУТАРАКАНЬ
В10.3.3.	ЧЕРНИГОВ
В11.3.3.	125

Тема 4. Русские земли в период первой трети XII — первой трети XIII в.

В8.4.1.	ПОЛИТИЧЕСКАЯ РАЗДРОБЛЕННОСТЬ
В9.4.1.	ПОЛОВЦЫ
В10.4.1.	4
В11.4.1.	356
В8.4.2.	ИГОРЬ НОВГОРОД-СЕВЕРСКИЙ
В9.4.2.	ПОЛОВЦЫ
В10.4.2.	2
В11.4.2.	235
В8.4.3.	1223
В9.4.3.	КАЛКА
В10.4.3.	ГАЛИЧ
В11.4.3.	124

Тема 5. Борьба Руси с иноземными захватчиками в XIII — XIV в.

В8.5.1.	БАТЫЙ
В9.5.1.	КОЗЕЛЬСК
В10.5.1.	3
В11.5.1.	235

В8.5.2.	АЛЕКСАНДР ЯРОСЛАВИЧ (НЕВСКИЙ)
В9.5.2.	ЛЕДОВОЕ ПОБОИЩЕ
В10.5.2.	4
В11.5.2.	246
В8.5.3.	ДАНИИЛ АЛЕКСАНДРОВИЧ
В9.5.3.	ЮРИЙ ДАНИЛОВИЧ
В10.5.3.	34
В11.5.3.	156
В8.5.4.	ВОЖА
В9.5.4.	ПЬЯНА
В10.5.4.	ИВАН КАЛИТА
В11.5.4.	236

Тема 6. Борьба Руси за единство и независимость в XIV—XV вв.

В8.6.1.	ДМИТРИЙ ИВАНОВИЧ (ДОНСКОЙ)
В9.6.1.	КОЛОМНА
В10.6.1.	4
В11.6.1.	356
В8.6.2.	ЮРИЙ ЗВЕНИГОРОДСКИЙ
В9.6.2.	1
В10.6.2.	ТВЕРЬ
В11.6.2.	145
В8.6.3.	ИВАН ТРЕТИЙ
В9.6.3.	1
В10.6.3.	НОВГОРОД
В11.6.3.	235
В8.6.4.	ИВАН ТРЕТИЙ
В9.6.4.	24
В10.6.4.	ШЕЛОНЬ
В11.6.4.	146
В8.6.5.	УГРА
В9.6.5.	САРАЙ-БАТУ (САРАЙ)
В10.6.5.	ВЕЛИКОЕ КНЯЖЕСТВО ЛИТОВСКОЕ (ЛИТВА)
В11.6.5.	346

Тема 7. Россия в XVI в.

В8.7.1.	ДАНИИЛ ЩЕНЯ
В9.7.1.	ВЕДРОША
В10.7.1.	ЧЕРНИГОВ
В11.7.1.	356



В8.7.2.	ВАСИЛИЙ ТРЕТИЙ
В9.7.2.	СМОЛЕНСК
В10.7.2.	2
В11.7.2.	345
В8.7.3.	ИВАН ГРОЗНЫЙ
В9.7.3.	ЛИВОНСКИЙ ОРДЕН
В10.7.3.	2
В11.7.3.	356
В8.7.4.	ЕРМАК
В9.7.4.	КАШЛЫК
В10.7.4.	2
В11.7.4.	125

**Тема 8. Смутное время (1598–1613).**

В8.8.1.	ЛЖЕДМИТРИЙ ПЕРВЫЙ
В9.8.1.	НИЖНИЙ НОВГОРОД
В10.8.1.	2
В11.8.1.	135
В8.8.2.	БОЛОТНИКОВ
В9.8.2.	ТУЛА
В10.8.2.	ВАСИЛИЙ ШУЙСКИЙ
В11.8.2.	146
В8.8.3.	МИНИН и ПОЖАРСКИЙ
В9.8.3.	СМОЛЕНСК
В10.8.3.	РЕЧЬ ПОСПОЛИТАЯ
В11.8.3.	146

**Тема 9. Правление Михаила Федоровича (1613–1645).**

В8.9.1.	СМУТА
В9.9.1.	СТОЛБОВО
В10.9.1.	ШВЕЦИЯ
В11.9.1.	146
В8.9.2.	СМОЛЕНСК
В9.9.2.	ДЕУЛИНО
В10.9.2.	НИЖНИЙ НОВГОРОД
В11.9.2.	246
В8.9.3.	ШЕИН
В9.9.3.	СМОЛЕНСК
В10.9.3.	КРЫМСКОЕ ХАНСТВО
В11.9.3.	256

**Тема 10. Правление Алексея Михайловича (1645–1676).**

В8.10.1.	АЛЕКСЕЙ МИХАЙЛОВИЧ
В9.10.1.	КИЕВ
В10.10.1.	ЗАПОРОЖЬЕ
В11.10.1.	245
В8.10.2.	АЛЕКСЕЙ МИХАЙЛОВИЧ
В9.10.2.	КАРДИСС
В10.10.2.	ШВЕЦИЯ
В11.10.2.	136
В8.10.3.	СОБОРНОЕ УЛОЖЕНИЕ
В9.10.3.	РАЗИН
В10.10.3.	ЦЕРКОВНЫЙ РАСКОЛ
В11.10.3.	146
В8.10.4.	АЛЕКСЕЙ МИХАЙЛОВИЧ
В9.10.4.	ПОЯРКОВ
В10.10.4.	КИТАЙ
В11.10.4.	136

**Тема 11. Правление Федора Алексеевича (1676–1682) и Софьи Алексеевны (1682–1689).**

В8.11.1.	ЧИГИРИН
В9.11.1.	РЕЧЬ ПОСПОЛИТАЯ (ПОЛЬША)
В10.11.1.	БАХЧИСАРАЙ
В11.11.1.	236
В8.11.2.	БАХЧИСАРАЙ
В9.11.2.	ГОЛИЦЫН
В10.11.2.	СОФЬЯ АЛЕКСЕЕВНА
В11.11.2.	156

**Тема 12. Правление Петра I (1689–1725).**

В8.12.1.	АЗОВ
В9.12.1.	ВОРОНЕЖ
В10.12.1.	1695
В11.12.1.	245
В8.12.2.	НАРВА
В9.12.2.	ШВЕЦИЯ
В10.12.2.	3
В11.12.2.	245
В8.12.3.	ПЕТР ПЕРВЫЙ
В9.12.3.	БУЛАВИН



В10.12.3.	ШЕРЕМЕТЕВ
В11.12.3.	134
В8.12.4.	АЗОВ
В9.12.4.	РЕЧЬ ПОСПОЛИТАЯ (ПОЛЬША)
В10.12.4.	ПЕТР ПЕРВЫЙ
В11.12.4.	134
В8.12.5.	АСТРАХАНЬ
В9.12.5.	БАКУ
В10.12.5.	ИРАН (ПЕРСИЯ)
В11.12.5.	256

*Тема 13. Россия в эпоху дворцовых переворотов (1725–1762).*

В8.13.1.	БАХЧИСАРАЙ
В9.13.1.	РЕЧЬ ПОСПОЛИТАЯ (ПОЛЬША)
В10.13.1.	АННА ИОАННОВНА
В11.13.1.	136
В8.13.2.	АБО
В9.13.2.	ГАНГУТ
В10.13.2.	ЕЛИЗАВЕТА
В11.13.2.	245
В8.13.3.	БЕРЛИН
В9.13.3.	ВОСТОЧНАЯ ПРУССИЯ
В10.13.3.	ЕЛИЗАВЕТА
В11.13.3.	126

*Тема 14. Россия в царствование Екатерины II (1762–1796)  
и Павла I (1796–1801).*

В8.14.1.	КРЫМСКОЕ ХАНСТВО
В9.14.1.	РЕЧЬ ПОСПОЛИТАЯ (ПОЛЬША)
В10.14.1.	ЕКАТЕРИНА ВТОРАЯ
В11.14.1.	146
В8.14.2.	СЕВАСТОПОЛЬ
В9.14.2.	ОЧАКОВ
В10.14.2.	ЕКАТЕРИНА ВТОРАЯ
В11.14.2.	146
В8.14.3.	3
В9.14.3.	2
В10.14.3.	1
В11.14.3.	136

В8.14.4.	ЕКАТЕРИНА ВТОРАЯ
В9.14.4.	ПУГАЧЕВ
В10.14.4.	ЦАРИЦЫН
В11.14.4.	123
В8.14.5.	ШВЕЙЦАРИЯ
В9.14.5.	СУВОРОВ
В10.14.5.	ПАВЕЛ ПЕРВЫЙ
В11.14.5.	256

*Тема 15. Россия в царствование Александра I (1801–1825).*

В8.15.1.	ГЮЛИСТАН
В9.15.1.	ТИФЛИС (ТБИЛИСИ)
В10.15.1.	ИРАН (ПЕРСИЯ)
В11.15.1.	146
В8.15.2.	АУСТЕРЛИЦ
В9.15.2.	ТИЛЬЗИТ
В10.15.2.	НАПОЛЕОН БОНАПАРТ
В11.15.2.	234
В8.15.3.	БУХАРЕСТ
В9.15.3.	БЕССАРАБИЯ
В10.15.3.	КУТУЗОВ
В11.15.3.	135
В8.15.4.	ФРИДРИХСГАМ
В9.15.4.	ФИНЛЯНДИЯ
В10.15.4.	АЛЕКСАНДР ПЕРВЫЙ
В11.15.4.	126
В8.15.5.	СМОЛЕНСК
В9.15.5.	БОРОДИНО
В10.15.5.	ТАРУТИНО
В11.15.5.	134
В8.15.6.	МОСКВА
В9.15.6.	КУТУЗОВ
В10.15.6.	НАПОЛЕОН БОНАПАРТ
В11.15.6.	136
В8.15.7.	ПРУССИЯ
В9.15.7.	КУТУЗОВ
В10.15.7.	3
В11.15.7.	136



**Тема 16. Россия в царствование Николая I (1825–1855).**

В8.16.1.	АРМЕНИЯ
В9.16.1.	ТУРЦИЯ
В10.16.1.	ТУРКМАНЧАЙ
В11.16.1.	135
В8.16.2.	ВАЛАХИЯ
В9.16.2.	АВСТРИЯ
В10.16.2.	АДРИАНОПОЛЬ
В11.16.2.	236
В8.16.3.	ВЕНГРИЯ
В9.16.3.	1849
В10.16.3.	ПАСКЕВИЧ
В11.16.3.	245
В8.16.4.	СИНОП
В9.16.4.	2
В10.16.4.	НАХИМОВ
В11.16.4.	145

**Тема 17. Россия в царствование Александра II (1855–1881).**

В8.17.1.	АЛЯСКА
В9.17.1.	1867
В10.17.1.	АЛЕКСАНДР ВТОРОЙ
В11.17.1.	456
В8.17.2.	ХИВИНСКОЕ ХАНСТВО
В9.17.2.	БУХАРСКИЙ ЭМИРАТ
В10.17.2.	АЛЕКСАНДР ВТОРОЙ
В11.17.2.	245
В8.17.3.	ПЛЕНА
В9.17.3.	САН-СТЕФАНО
В10.17.3.	АЛЕКСАНДР ВТОРОЙ
В11.17.3.	135

**Тема 18. Россия в царствование Александра III (1881–1894).**

В8.18.1.	1
В9.18.1.	4
В10.18.1.	5
В11.18.1.	234

**Тема 19. Россия в царствование Николая II (1894–1917).**

В8.19.1.	ПОРТ-АРТУР
В9.19.1.	ЦУСИМСКОЕ

В10.19.1.	НИКОЛАЙ ВТОРОЙ
В11.19.1.	256
В8.19.2.	ГЕРМАНИЯ
В9.19.2.	АВСТРО-ВЕНГРИЯ
В10.19.2.	6
В11.19.2.	125
В8.19.3.	САМСОНОВ
В9.19.3.	РЕННЕНКАМПФ
В10.19.3.	НИКОЛАЙ ВТОРОЙ
В11.19.3.	135
В8.19.4.	ГАЛИЦИЙСКАЯ БИТВА
В9.19.4.	НИКОЛАЙ ВТОРОЙ
В10.19.4.	ТРОЙСТВЕННЫЙ СОЮЗ
В11.19.4.	235
В8.19.5.	РОССИЯ
В9.19.5.	АВСТРО-ВЕНГРИЯ
В10.19.5.	БРУСИЛОВ
В11.19.5.	345
В8.19.6.	ТУРЦИЯ
В9.19.6.	НИКОЛАЙ ВТОРОЙ
В10.19.6.	ЮДЕНИЧ
В11.19.6.	356

**Тема 20. Великая российская революция (1917–1922).**

В8.20.1.	ПЕТРОГРАД
В9.20.1.	1918
В10.20.1.	БРЕСТ
В11.20.1.	125
В8.20.2.	МОСКВА
В9.20.2.	ЦАРИЦЫН
В10.20.2.	3
В11.20.2.	136
В8.20.3.	МУРМАНСК
В9.20.3.	АРХАНГЕЛЬСК
В10.20.3.	ИНТЕРВЕНЦИЯ
В11.20.3.	356
В8.20.4.	ЮДЕНИЧ
В9.20.4.	АНТАНТА
В10.20.4.	1919
В11.20.4.	125



В8.20.5.	1919
В9.20.5.	ДЕНИКИН
В10.20.5.	МАМАНТОВ (МАМОНТОВ)
В11.20.5.	124
В8.20.6.	ГРАЖДАНСКАЯ ВОЙНА
В9.20.6.	АНТАНТА
В10.20.6.	ЛЕНИН
В11.20.6.	345
В8.20.7.	ВЛАДИВОСТОК
В9.20.7.	КИТАЙ
В10.20.7.	ИНТЕРВЕНЦИЯ
В11.20.7.	356
В8.20.8.	КИЕВ
В9.20.8.	ПОЛЬША
В10.20.8.	ВРАНГЕЛЬ
В11.20.8.	135
В8.20.9.	ФРУНЗЕ
В9.20.9.	1920
В10.20.9.	ЛЕНИН
В11.20.9.	245

*Тема 21. СССР в период новой экономической политики (1921–1928).*

В8.21.1.	МОСКВА
В9.21.1.	СССР
В10.21.1.	1922
В11.21.1.	126

*Тема 22. СССР в период индустриализации (1929–1941).*

В8.22.1.	КИТАЙ
В9.22.1.	КВЖД
В10.22.1.	ХАРБИН
В11.22.1.	135
В8.22.2.	БЛЮХЕР
В9.22.2.	ХАСАН
В10.22.2.	ЯПОНИЯ
В11.22.2.	236
В8.22.3.	ЖУКОВ
В9.22.3.	ХАЛХИН-ГОЛ
В10.22.3.	ЯПОНИЯ
В11.22.3.	136

В8.22.4.	ГЕРМАНИЯ
В9.22.4.	ВАРШАВА
В10.22.4.	ЛИТВА
В11.22.4.	135
В8.22.5.	ЛЕНИНГРАД
В9.22.5.	ВЫБОРГ
В10.22.5.	ФИНЛЯНДИЯ
В11.22.5.	135

*Тема 23. Великая Отечественная война (1941–1945).*

В8.23.1.	ПОЛЬША
В9.23.1.	МИНСК
В10.23.1.	КИЕВ
В11.23.1.	236
В8.23.2.	ОДЕССА
В9.23.2.	1941
В10.23.2.	ГЕРМАНИЯ
В11.23.2.	135
В8.23.3.	ЛЕНИНГРАД
В9.23.3.	ФИНЛЯНДИЯ
В10.23.3.	1941
В11.23.3.	146
В8.23.4.	ЛЕНИНГРАД
В9.23.4.	ОРАНИЕНБАУМСКИЙ
В10.23.4.	ДОРОГА ЖИЗНИ
В11.23.4.	234
В8.23.5.	МОСКВА
В9.23.5.	ТУЛА
В10.23.5.	ГЕРМАНИЯ
В11.23.5.	134
В8.23.6.	МОСКВА
В9.23.6.	ТУЛА
В10.23.6.	ЖУКОВ
В11.23.6.	235
В8.23.7.	СЕВАСТОПОЛЬ
В9.23.7.	1942
В10.23.7.	ОКТЯБРЬСКИЙ
В11.23.7.	235
В8.23.8.	СТАЛИНГРАД
В9.23.8.	СТАЛИН



В10.23.8.	РУМЫНИЯ
В11.23.8.	346
В8.23.9.	НОВОРОССИЙСК
В9.23.9.	СТАЛИН
В10.23.9.	1942
В11.23.9.	356
В8.23.10.	СТАЛИНГРАД
В9.23.10.	УРАН
В10.23.10.	РОКОССОВСКИЙ
В11.23.10.	256
В8.23.11.	НОВОРОССИЙСК
В9.23.11.	СТАЛИН
В10.23.11.	ВЕЛИКАЯ ОТЕЧЕСТВЕННАЯ
В11.23.11.	256
В8.23.12.	ШЛИССЕЛЬБУРГ
В9.23.12.	ИСКРА
В10.23.12.	ЛЕНИНГРАД
В11.23.12.	234
В8.23.13.	РОКОССОВСКИЙ
В9.23.13.	ВАТУТИН
В10.23.13.	КУРСК
В11.23.13.	256
В8.23.14.	ВАТУТИН
В9.23.14.	БИТВА ЗА ДНЕПР
В10.23.14.	КИЕВ
В11.23.14.	136
В8.23.15.	КОНЕВ
В9.23.15.	КИЕВ
В10.23.15.	КОРСУНЬ-ШЕВЧЕНКОВСКИЙ
В11.23.15.	156
В8.23.16.	ТОЛБУХИН
В9.23.16.	СЕВАСТОПОЛЬ
В10.23.16.	КЕРЧЬ
В11.23.16.	134
В8.23.17.	БАГРАТИОН
В9.23.17.	МИНСК
В10.23.17.	ВАРШАВА
В11.23.17.	346
В8.23.18.	МЕРЕЦКОВ

В9.23.18.	ЛЕНИНГРАД
В10.23.18.	ПЕТРОЗАВОДСК
В11.23.18.	346
В8.23.19.	БАГРАМЯН
В9.23.19.	ТАЛЛИНН
В10.23.19.	РИГА
В11.23.19.	145
В8.23.20.	МЕРЕЦКОВ
В9.23.20.	ГОЛОВКО
В10.23.20.	ФИНЛЯНДИЯ
В11.23.20.	146
В8.23.21.	УЖГОРОД
В9.23.21.	ЧЕХОСЛОВАКИЯ
В10.23.21.	ПЕТРОВ
В11.23.21.	145
В8.23.22.	ГОВОРОВ
В9.23.22.	ЯНВАРСКИЙ ГРОМ
В10.23.22.	1944
В11.23.22.	145
В8.23.23.	ЛЬВОВ
В9.23.23.	1944
В10.23.23.	САНДОМИРСКИЙ
В11.23.23.	146
В8.23.24.	ЧЕХОСЛОВАКИЯ
В9.23.24.	1944
В10.23.24.	ПЕТРОВ
В11.23.24.	126
В8.23.25.	ВАРШАВА
В9.23.25.	БЕРЛИН
В10.23.25.	РОКОССОВСКИЙ
В11.23.25.	346
В8.23.26.	ЯССКО-КИШИНЕВСКАЯ
В9.23.26.	РУМЫНИЯ
В10.23.26.	МИХАЙ
В11.23.26.	124
В8.23.27.	БУДАПЕШТ
В9.23.27.	СЛОВАЦКОЕ ВОССТАНИЕ
В10.23.27.	СССР
В11.23.27.	136



В8.23.28.	КЕНИГСБЕРГ
В9.23.28.	ВОСТОЧНАЯ ПРУССИЯ
В10.23.28.	ВАСИЛЕВСКИЙ
В11.23.28.	346
В8.23.29.	ВЕНА
В9.23.29.	АВСТРИЯ
В10.23.29.	ТОЛБУХИН
В11.23.29.	246
В8.23.30.	БЕРЛИН
В9.23.30.	ТОРГАУ
В10.23.30.	ЖУКОВ
В11.23.30.	145
В8.23.31.	ПРАГА
В9.23.31.	ЧЕХОСЛОВАКИЯ
В10.23.31.	КОНЕВ
В11.23.31.	125
В8.23.32.	1
В9.23.32.	3
В10.23.32.	2
В11.23.32.	235
В8.23.33.	ХАРБИН
В9.23.33.	МОНГОЛИЯ
В10.23.33.	ЯПОНИЯ
В11.23.33.	135

*Тема 24. СССР в период послевоенного восстановления народного хозяйства (1945–1953).*

В8.24.1.	1
В9.24.1.	СТАЛИН
В10.24.1.	1950-е
В11.24.1.	134
В8.24.2.	ВЬЕТНАМ
В9.24.2.	АПОГЕЙ СТАЛИНИЗМА
В10.24.2.	СТАЛИН
В11.24.2.	234

*Тема 25. СССР в период «оттепели» (1954–1964).*

В8.25.1.	КУБА
В9.25.1.	США
В10.25.1.	1962
В11.25.1.	126

*Тема 26. СССР в период «застоя» (1964–1984).*

В8.26.1.	ХАНОЙ
В9.26.1.	ХОШИМИН
В10.26.1.	БРЕЖНЕВ
В11.26.1.	136
В8.26.2.	АФГАНИСТАН
В9.26.2.	КАБУЛ
В10.26.2.	БРЕЖНЕВ
В11.26.2.	135

*Тема 27. Перестройка в СССР (1985–1991).*

В8.27.1.	1
В9.27.1.	3
В10.27.1.	ГОРБАЧЕВ
В11.27.1.	236

*Тема 28. Российская Федерация в 1991–2014 гг.*

В8.28.1.	ЮЖНАЯ ОСЕТИЯ
В9.28.1.	АБХАЗИЯ
В10.28.1.	МЕДВЕДЕВ
В11.28.1.	156
В8.28.2.	РОССИЯ
В9.28.2.	КИТАЙ
В10.28.2.	2000-е
В11.28.2.	346
В8.28.3.	ПУТИН
В9.28.3.	ЦЕНТРАЛЬНЫЙ
В10.28.3.	2
В11.28.3.	146

*Тема 29. Экономическое развитие России в разные периоды.*

В8.29.1.	3
В9.29.1.	1
В10.29.1.	2
В11.29.1.	146
В8.29.2.	1
В9.29.2.	3
В10.29.2.	2
В11.29.2.	456
В8.29.3.	3
В9.29.3.	2
В10.29.3.	1
В11.29.3.	235



# Литература

## Учебная и монографическая

1. Данилов А.А. История России: С древнейших времен до конца XVI века: учеб. для 6 кл. общеобразоват. учреждений / А.А. Данилов, Л.Г. Косулина. — 3-е изд. — М.: Просвещение, 2003. — 256 с.: ил., карт.
2. Данилов А.А. История России: Конец XVI—XVIII век: учеб. для 7 кл. общеобразоват. учреждений / А.А. Данилов, Л.Г. Косулина. — 3-е изд. — М.: Просвещение, 2003. — 240 с.: ил., карт.
3. Данилов А.А. История России: XIX век: учеб. для 8 кл. общеобразоват. учреждений / А.А. Данилов, Л.Г. Косулина. — 5-е изд. — М.: Просвещение, 2004. — 254 с., 16 л. ил., карт.
4. Данилов А.А. История России: XX — начало XXI века: учеб. для 9 кл. общеобразоват. учреждений / А.А. Данилов, Л.Г. Косулина, М.Ю. Брандт. — 2-е изд. — М.: Просвещение, 2005. — 381 с., 16л. ил., карт.
5. Загладин Н.В., Козленко С.И., Минаков С.Т., Петров Ю.А. История России. XX — начало XXI века: учеб. для 11 класса общеобразоват. учреждений. — 8-е изд., перераб. и доп. — М.: ООО «ТИД «Русское слово — РС», 2008. — 480 с.: ил.
6. История Великой Отечественной войны Советского Союза. 1941–1945. Т. 2–6. — М.: ИМЛ, 1963.
7. История войн. Россия / авт.-сост. К.А. Залесский, О.В. Сухарева, А.А. Фетисов. — М.: Астрель: АСТ, 2007. — 183 с.: ил.

## Электронные ресурсы

Большая советская энциклопедия.

Большая энциклопедия Кирилла и Мефодия.

## Интернет-ресурсы

<http://storyo.ru/1812/70.htm>

<http://www.erlib.com>

<http://ru.wikipedia.org/wiki/>

<http://pretich2005.narod.ru/histoty/hystory.htm>

<http://900igr.net/kartinki/ist...>

<http://www.booksite.ru/enciklopedia/>

<http://history.tom.ru/>

<http://statehistory.ru>

<http://history.sgu.ru/>