

Е.М. Домогацких, Е.Е. Домогацких

РАБОЧАЯ ТЕТРАДЬ ПО ГЕОГРАФИИ

к учебнику

Е.М. Домогацких и Н.И. Алексеевского

«Экономическая и социальная
география мира». Часть 2



Амитель №14

Р/ЛЕТР ГЕОГР 10 КЛ 24 ДОМОГАЦКИХ А6
"РС"



2 000 942 453 016

91-00

270613
36960
103

Россия



«РУССКОЕ СЛОВО»



«РУССКОЕ
СЛОВО»

Е.М. Домогацких
Е.Е. Домогацких

РАБОЧАЯ ТЕТРАДЬ ПО ГЕОГРАФИИ

к учебнику Е.М. Домогацких и Н.И. Алексеевского
«География. Экономическая и социальная
география мира»

10—11 классы

В двух частях

Часть 2

4-е издание

Подписано в печать 11.04.12. Формат 70х90/16.
Бумага офсетная. Печать офсетная.
Гарнитура «Школьная». Усл. печ. л. 5,85.
Тираж 3000 экз. Заказ 32727.

ООО «Русское слово — учебник».
125009, Москва, ул. Тверская, д. 9/17, стр. 5.
Тел.: (495) 969-24-54, 658-66-60.

SBN 978-5-91218-438-3



Отпечатано в соответствии с качеством
предоставленных издательством
электронных носителей
в ОАО «Саратовский полиграфкомбинат».
410004, г. Саратов, ул. Чернышевского, 59.
www.sarpk.ru

Москва
«Русское слово»
2012

УДК 373.167.1:91*10/11(075.3)

ББК 65.04я721

Д66

Домогацких Е.М., Домогацких Е.Е.

Д66 Рабочая тетрадь по географии к учебнику Е.М. Домогацких и Н.И. Алексеевского «География. Экономическая и социальная география мира». 10—11 классы: в 2 ч. Ч. 2 / Е.М. Домогацких, Е.Е. Домогацких. — 4-е изд. — М.: ООО «Русское слово — учебник», 2012. — 80 с.

ISBN 978-5-91218-438-3 (ч. 2)

ISBN 978-5-91218-436-9

Рабочая тетрадь к учебнику Е.М. Домогацких и Н.И. Алексеевского «География. Экономическая и социальная география мира» для 10—11 классов является частью УМК по географии.

К каждому параграфу учебника дается восемь заданий, в которых нужно ответить на тесты, заполнить схемы и таблицы, поработать с прилагающимися картами и т.д.

Рабочая тетрадь поможет учащимся организовать самостоятельную работу, систематизировать полученные знания, лучше подготовиться к сдаче ЕГЭ по географии, а учителям — организовать контроль усвоения материала на каждом уроке.

УДК 373.167.1:91*10/11(075.3)

ББК 65.04я721



ISBN 978-5-91218-438-3 (ч. 2)

ISBN 978-5-91218-436-9

© Е.М. Домогацких, Е.Е. Домогацких, 2009, 2012

© ООО «Русское слово — учебник», 2009, 2012

Учебное издание

Домогацких Евгений Михайлович

Домогацких Евгений Евгеньевич

РАБОЧАЯ ТЕТРАДЬ ПО ГЕОГРАФИИ

**к учебнику Е.М. Домогацких и Н.И. Алексеевского
«География. Экономическая и социальная география мира»**

10—11 классы

В двух частях

Часть 2

Ответственный редактор *С.В. Банников*
Художественный редактор *С.Н. Якубовский*

Корректор *М.Г. Курносенкова*

Верстка *Ю.А. Костиной*

17. США. Хозяйство, внутренние различия
1 — б; 2 — а, б; 3 — г; 4 — а, г; 5 — г; 6 — б, г.
18. Канада
1 — б; 2 — в; 3 — б; 4 — б.
19. Латинская Америка. Географическое положение, ресурсы и население
1 — б; 2 — б; 3 — а; 5 — в.
20. Латинская Америка. Хозяйство и внутреннее развитие
1 — б, в; 2 — в; 3 — в; 4 — в; 5 — б.
21. Бразилия. Географическое положение, ресурсы и население
1 — б; 2 — г; 3 — б; 4 — в; 5 — г.
22. Бразилия. Хозяйство
1 — б, в, г; 2 — в; 3 — г; 4 — б; 5 — б; 6 — б.
23. Африка. Географическое положение, природные ресурсы
1 — б; 2 — Египет; 3 — а; 4 — б; 5 — а, б; 6 — а, в, г, з.
24. Африка. Население и хозяйство
1 — в; 2 — в; 3 — б; 4 — г; 5 — б.
25. ЮАР
1 — б; 2 — а, е; 3 — а, в, г; 4 — г; 5 — а; 6 — а.
26. Кения
1 — в; 2 — б; 3 — а; 4 — б; 5 — а, в, г.
27. Австралия
1 — а, г, е; 2 — в; 3 — в, г; 4 — а; 5 — б.
28. Океания
1 — б; 2 — г; 3 — г; 4 — б; 5 — г.
29. Экономико-географическая история России
1 — г; 2 — б, в, г; 3 — а; 4 — а, г; 5 — б; 6 — б.

1. Этапы формирования политической карты мира

1. Количество суверенных стран на современной политической карте мира составляет около:
- а) 50;
 - б) 100;
 - в) 200;
 - г) 300.
2. В какой из названных стран в недавнем прошлом столица меняла свое местоположение?
- а) Египет;
 - б) Франция;
 - в) Бразилия;
 - г) Украина.
3. Выберите из предложенного списка три страны, которые в прошлом были колониями Великобритании.
- а) Бразилия;
 - б) Канада;
 - в) Китай;
 - г) Австралия;
 - д) Алжир;
 - е) Индия.
4. Какие из названных изменений на политической карте мира можно отнести к качественным?
- а) Изменение названия страны;
 - б) получение страной независимости;
 - в) потеря части территории;
 - г) ликвидация монархии в стране.
5. Отметьте правильные высказывания словом «Да», неправильные — словом «Нет».

Столицы Бразилии, США, Канады, Австралии были специально построены для выполнения столичных функций	
Территория страны равна площади суши в пределах государственных границ	

На земном шаре в настоящее время существует около 200 стран	
Политическая карта — историко-географическое явление, подверженное постоянным качественным и количественным изменениям	
Качественные изменения на карте отражают территориальные приобретения или потери в результате войн	

6. Дайте определение понятий.

Страна — _____

Государственная граница — _____

Территория страны — _____

7. Расставьте части света в порядке убывания числа стран в них.

Австралия и Океания	<input type="radio"/>
Америка	<input type="radio"/>
Европа	<input type="radio"/>
Азия	<input type="radio"/>
Африка	<input type="radio"/>

Ответы на тесты

1. Этапы формирования политической карты мира

1 — г; 2 — в; 3 — а, б, г; 4 — б, г.

2. Регионы мира и международные организации

1 — в; 2 — б; 3 — б, в, д; 4 — а, в, г, д, ж.

3. Зарубежная Европа. Состав и географическое положение

1 — б; 2 — в; 3 — б, в, г; 4 — а, в, г; 5 — б.

4. Зарубежная Европа. Природа и люди

1 — в; 2 — б; 3 — а; 4 — в; 5 — а.

5. Зарубежная Европа. Хозяйство и внутренние различия

1 — а; 2 — в; 3 — в; 4 — а; 5 — г.

6. ФРГ

1 — б; 2 — а; 3 — в; 4 — в; 5 — а.

7. Польша

1 — а, б; 2 — б, г; 3 — а; 4 — б; 5 — б.

8. Зарубежная Азия. Географическое положение и ресурсы

1 — а; 2 — б; 3 — в; 4 — а; 5 — б.

9. Зарубежная Азия. Население и хозяйство

1 — в; 2 — г; 3 — б; 4 — а; 5 — б.

10. Япония. Географическое положение, ресурсы и население

1 — а, в, г; 2 — б, г; 3 — б; 4 — б; 5 — г.

11. Хозяйство Японии

1 — в; 2 — а; 3 — г; 4 — д; 5 — г; 6 — г.

12. Китай. Географическое положение, ресурсы и население

1 — а, б, г; 2 — а, г; 3 — в, г; 4 — а, в; 5 — г.

13. Хозяйство Китая

1 — а; 2 — в, г; 3 — а; 4 — а, б, г; 5 — б; 6 — в.

14. Индия. Географическое положение, ресурсы и население

1 — б; 2 — а, в; 3 — б; 4 — г; 5 — в; 6 — г.

15. Индия. Хозяйство и внутренние различия

1 — а; 2 — б; 3 — а, б, в, г; 4 — г; 5 — б, в.

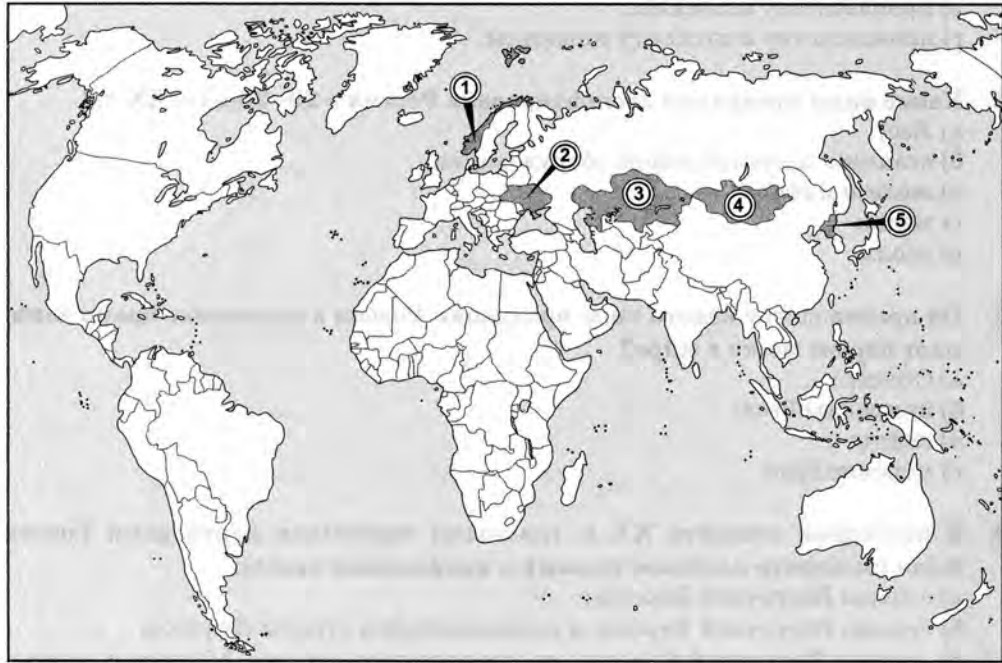
16. США. Географическое положение, ресурсы и население

1 — б; 2 — б; 3 — а; 4 — г; 5 — б; 6 — д.

7. Отметьте правильные высказывания словом «Да», неправильные — словом «Нет».

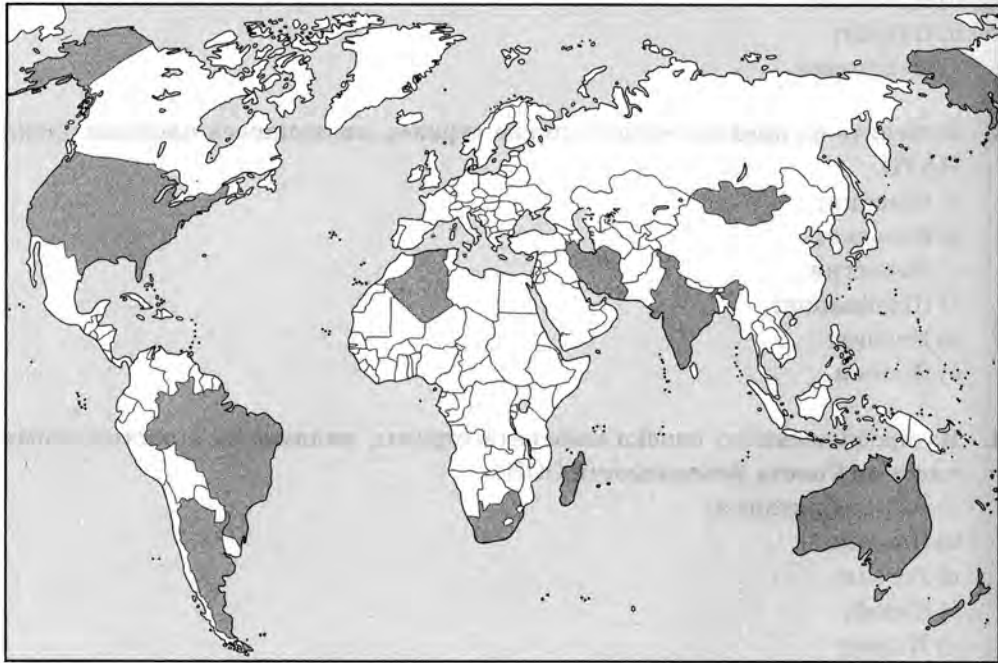
Россия стала частью мирового хозяйства только в середине XX в.	
Роль России в мировом хозяйстве в основном связана с ее богатыми природными ресурсами	
После революции 1917 г. значение России в мировой торговле возросло	
С распадом СССР значение нефти и газа в российском импорте сократилось	
В начале XX в. Россия являлась крупнейшим мировым экспортером пшеницы и ржи	

8. Запишите соседние с Россией страны, обозначенные на карте цифрами.



- 1 — _____
2 — _____
3 — _____
- 4 — _____
5 — _____

8. Среди выделенных на карте стран запишите пять, которые в прошлом были колониями Великобритании.



- 1 — _____
2 — _____
3 — _____
- 4 — _____
5 — _____

2. Регионы мира и международные организации

- Какая из перечисленных стран не относится к Скандинавским странам?
 - Дания;
 - Исландия;
 - Финляндия;
 - Швеция.

2. Какая из названных стран не является членом ОПЕК?
- а) Саудовская Аравия;
 - б) Бразилия;
 - в) Кувейт;
 - г) Индонезия.
3. Выберите из предложенного списка страны, являющиеся членами блока НАТО.
- а) Швеция;
 - б) Бельгия;
 - в) Норвегия;
 - г) Швейцария;
 - д) Италия;
 - е) Япония.
4. Из предложенного списка выберите страны, являющиеся постоянными членами Совета Безопасности ООН.
- а) Великобритания;
 - б) Япония;
 - в) Россия;
 - г) Китай;
 - д) Индия;
 - е) Германия;
 - ж) Франция.

5. Расшифруйте аббревиатуры.

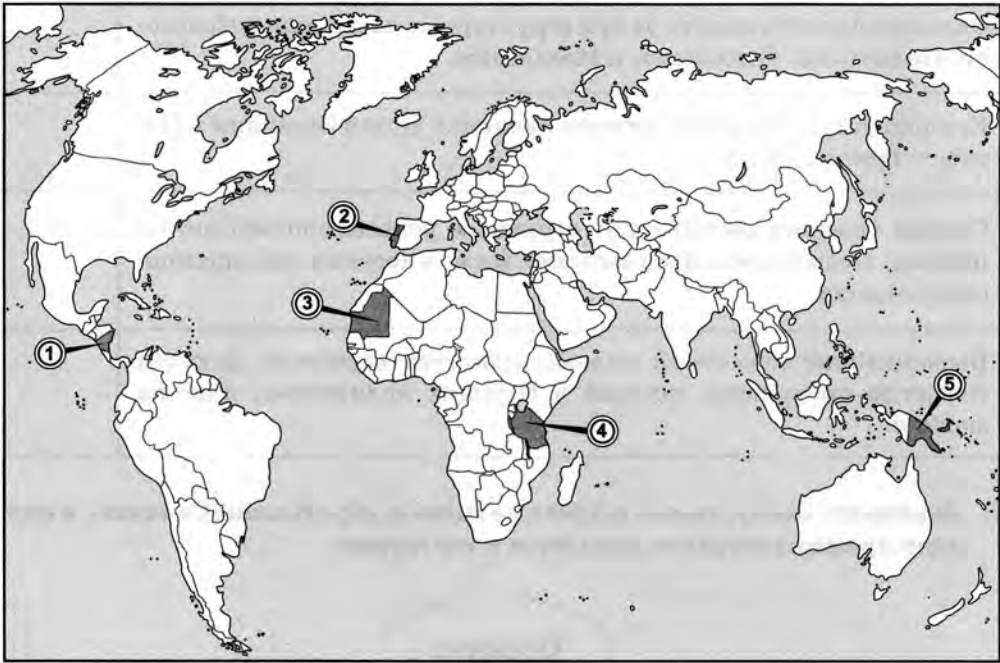
ООН — _____

НАТО — _____

ВОЗ — _____

- а) Правильно первое утверждение;
 - б) правильно второе утверждение;
 - в) верны оба утверждения;
 - г) оба утверждения ошибочны.
2. В каких отраслях Россия являлась мировым лидером с XVIII до начала XIX в.?
- а) Производство оружия;
 - б) выплавка железа;
 - в) экспорт железа;
 - г) выплавка вольфрама.
3. В начале XX в. Россия была мировым лидером по (выберите наиболее полный ответ):
- а) производству и экспорту пшеницы и ржи;
 - б) производству ржи;
 - в) производству пшеницы;
 - г) производству и экспорту пшеницы.
4. Какие виды продукции экспортировала Россия в 20–30-е гг. XX в.?
- а) Лес;
 - б) станки и промышленное оборудование;
 - в) железо и сталь;
 - г) зерно;
 - д) уголь.
5. По производству какого вида продукции Россия в настоящее время занимает первое место в мире?
- а) Станки;
 - б) природный газ;
 - в) нефть;
 - г) морские суда.
6. В последней четверти XX в. главными торговыми партнерами России были (выберите наиболее полный и правильный ответ):
- а) страны Восточной Европы;
 - б) страны Восточной Европы и развивающиеся страны Африки;
 - в) страны Восточной Европы, развивающиеся страны Африки и страны ближнего зарубежья;
 - г) страны Восточной Европы, развивающиеся страны Африки, страны ближнего зарубежья и Китай.

8. Запишите страны, обозначенные на карте цифрами.



1 — _____
2 — _____
3 — _____

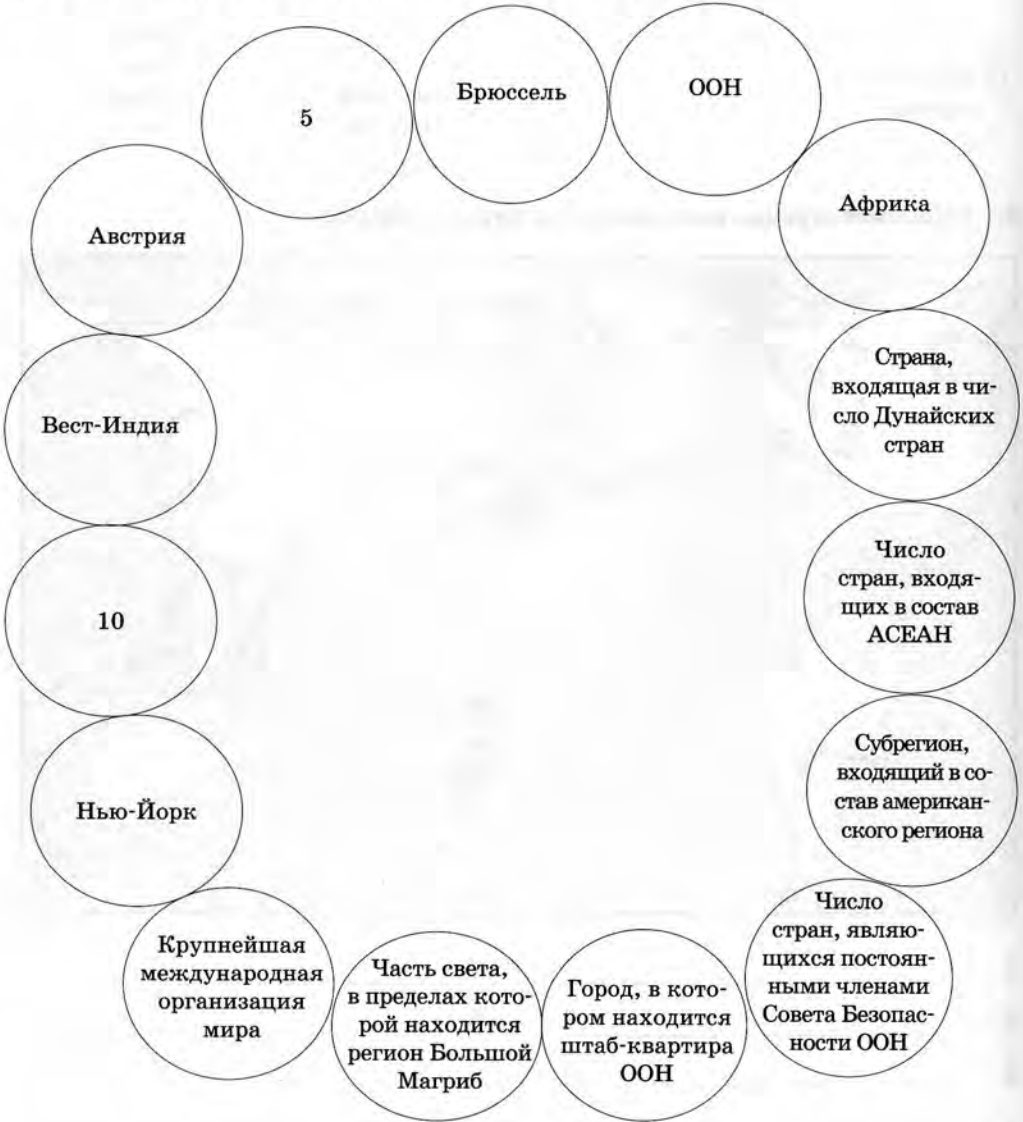
4 — _____
5 — _____

29. Экономико-географическая история России

1. Какое из утверждений верно?
- 1) Роль России в международном географическом разделении труда всегда оставалась неизменной.
 - 2) В XVIII в. Россия занимала первое место в мире по производству парусных морских судов.

МОК — _____

6. Установите соответствие и исключите лишний элемент.



7. Восстановите последовательность и исключите лишний элемент.



8. Запишите страны, выделенные на карте цифрами.



1 — _____
2 — _____
3 — _____

4 — _____
5 — _____

Окончание таблицы

Океанию принято делить на три структурные части, или субрегиона: Полинезию, Индонезию и Меланезию.	
Крупнейшими странами региона являются Новая Зеландия и Папуа — Новая Гвинея	
Страны Океании располагают огромным рекреационным потенциалом, связанным с прекрасными возможностями для приморского отдыха	
Выращивание кокосовой пальмы является отраслью, дающей товарную продукцию, которая в больших количествах идет на экспорт	

7. Завершите схему, назвав островные группы, образующие Океанию, и приведя примеры островов, входящих в эти группы.



28. Океания

- 1. Какая островная группа не является составной частью Океании?
а) Полинезия;
б) Индонезия;
в) Меланезия;
г) Микронезия.
- 2. Копра — это (выберите правильный ответ):
а) особым образом высушенная кора кокосовой пальмы;
б) младший офицер в военно-морском флоте Науру;
в) крупнейшая автомобилестроительная корпорация Новой Каледонии;
г) важный экспортный продукт, производимый многими странами Океании.
- 3. Какие острова Океании в представленном списке являются крупнейшими по площади?
а) Гавайские;
б) Новая Каледония;
в) Таити;
г) Новая Зеландия.
- 4. В состав Океании входит более ... стран (выберите правильный ответ):
а) 10;
б) 20;
в) 25;
г) 30.
- 5. Какая из стран Океании входит в группу мировых лидеров по добыче фосфоритов?
а) Новая Зеландия;
б) Фиджи;
в) Новая Каледония;
г) Науру.
- 6. Отметьте правильные высказывания словом «Да», неправильные — словом «Нет».

Часть островов Океании являются территорией Соединенных Штатов Америки	
--	--

3. Зарубежная Европа.
Состав и географическое положение

- 1. Промышленность стран Западной Европы в основном базируется на ресурсах:
а) собственных;
б) привозных.
- 2. В северной части региона имеются полезные ископаемые:
а) рудные;
б) топливно-энергетические;
в) рудные и топливно-энергетические;
г) рудные, топливно-энергетические и рекреационные.
- 3. Какие из названных стран относятся к региону Южной Европы?
а) Франция;
б) Италия;
в) Греция;
г) Португалия.
- 4. Какие из названных стран относятся к региону Средней Европы?
а) Франция;
б) Дания;
в) Ирландия;
г) Австрия.
- 5. Какие утверждения неверно характеризуют географическое положение Европы?
а) Большинство стран — приморские;
б) в Европе преобладают границы по условным линиям;
в) площадь большинства стран невелика;
г) страны Европы отличаются тесным соседским положением.
- 6. Отметьте правильные высказывания словом «Да», неправильные — словом «Нет».

В Западной Европе выделяются четыре крупных субрегиона	
К выгодам географического положения относится и тесное соседское положение европейских стран	

Окончание таблицы

Европа со всех сторон омывается морями, в большинстве своем теплыми, что делает климат мягким даже в северной ее части	
Европа расположена рядом с серьезнейшими очагами мировой напряженности	
Политическая стабильность как в Европе, так и в сопредельных с ней регионах делает благоприятным географическое положение региона	

7. Установите соответствие между картой страны, ее названием и списком стран-соседей.



Россия, Белоруссия,
Украина, Словакия,
Чехия, Германия



Чехия, Словакия,
Венгрия, Словения,
Италия, Лихтенштейн,
Швейцария, Германия



Финляндия, Швеция



Португалия, Андорра,
Франция

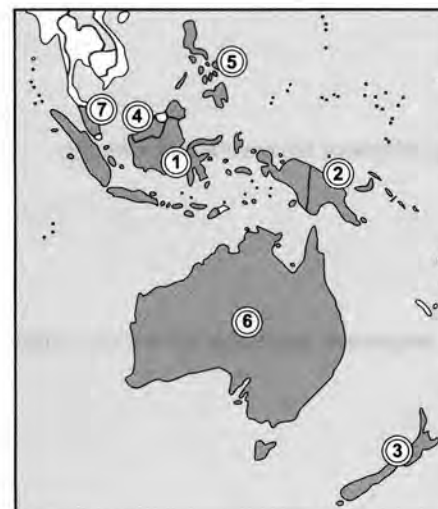
По горизонтали:

- Второй по площади и третий по численности населения австралийский штат.
- Столица Австралийского Союза.
- Административный центр штата Виктория.
- Крупное месторождение золота в Западной Австралии.
- Британский поэт, именем которого назван мыс, являющийся восточной оконечностью Австралии.
- Мыс, являющийся крайней северной точкой Австралийского материка.

По вертикали:

- Самый большой город Австралии.
- Крупный морской залив на севере Австралии.
- Крупнейшая река Австралии.
- Горная вершина, являющаяся высшей точкой Австралийского материка.
- Крупная озерная котловина, являющаяся низшей точкой Австралии.

8. Запишите страны, обозначенные на карте цифрами.



1 — _____
2 — _____
3 — _____
4 — _____

5 — _____
6 — _____
7 — _____

4. Уровень урбанизации в зарубежной Европе:

- а) средний;
- б) высокий;
- в) один из самых высоких в мире.

5. Какое утверждение верно?

- 1) Крупнейшими городами зарубежной Европы являются Лондон и Париж.
- 2) Большинство стран Европы многонациональны.
- а) Правильно первое утверждение;
- б) правильно второе утверждение;
- в) верны оба утверждения;
- г) неверны оба утверждения.

6. В каких вариантах представлены только столицы европейских стран?

Париж, Дублин, Минск		
Рим, Любляна, Вильнюс		Лиссабон, Дамаск, Мадрид
Вадуц, Копенгаген, Каир	Рейкьявик, Хельсинки, Киев	Кишинев, Загреб, Мюнхен

7. Установите соответствие.



27. Австралия

1. Найдите **ошибки** в перечне природных ресурсов, которыми особенно богата Австралия:

- а) нефть;
- б) бокситы;
- в) золото;
- г) лесные ресурсы;
- д) рекреационные ресурсы;
- е) водные ресурсы.

2. По уровню урбанизации Австралия относится к числу стран:

- а) слабоурбанизированных;
- б) среднеурбанизированных;
- в) высокоурбанизированных.

3. Какие утверждения верно характеризуют население Австралии?

- а) Австралия — одна из крупнейших стран мира по площади территории и численности населения;
- б) столица Австралии является крупнейшим городом страны;
- в) почти $\frac{3}{4}$ населения Австралии составляют потомки выходцев из Великобритании;
- г) наибольшая плотность населения наблюдается на юго-востоке страны.

4. Какая отрасль хозяйства является визитной карточкой страны?

- а) Овцеводство;
- б) автомобилестроение;
- в) производство ювелирных украшений;
- г) производство электроэнергии.

5. Какое из утверждений верно?


- 1) Австралия — федеративное государство.
- 2) В экономике страны ведущую роль играют отрасли горнодобывающей промышленности.
- а) Правильно первое утверждение;
- б) правильно второе утверждение;
- в) верны оба утверждения;
- г) оба утверждения ошибочны.

6. Установите соответствие между штатами Австралии и их крупнейшими городами.

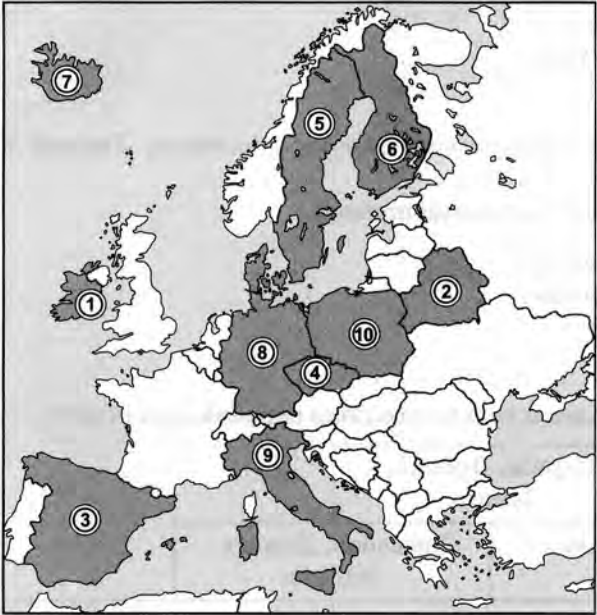
Северная территория	<input type="text"/>
Виктория	<input type="text"/>
Новый Южный Уэльс	<input type="text"/>
Квинсленд	<input type="text"/>
Южная Австралия	<input type="text"/>
Западная Австралия	<input type="text"/>

1. Перт;
2. Брисбен;
3. Мельбурн;
4. Сидней;
5. Аделаида;
6. Дарвин.

7. Решите кроссворд.



8. Запишите страны, выделенные на карте цифрами.



- 1 — _____
- 2 — _____
- 3 — _____
- 4 — _____
- 5 — _____
- 6 — _____
- 7 — _____
- 8 — _____
- 9 — _____
- 10 — _____

4. Зарубежная Европа. Природа и люди

1. Темпы роста численности населения в странах Европы:
 - а) выше, чем в Северной и Латинской Америке;
 - б) ниже, чем в Латинской Америке, но выше, чем в Северной Америке;
 - в) ниже, чем в Латинской и Северной Америке.
2. В большинстве стран зарубежной Европы преобладают ландшафты:
 - а) природные;
 - б) антропогенные.
3. Зарубежная Европа относится к районам:
 - а) с миграционным приростом населения;
 - б) с миграционной убылью населения.

3. Крупнейший по грузообороту порт Западной Европы располагается на территории:
- а) Германии;
 - б) Нидерландов;
 - в) Великобритании;
 - г) Франции.
4. Легкая промышленность Европы сосредоточена в старых городах:
- а) Великобритании;
 - б) Бельгии;
 - в) Германии;
 - г) Югославии.
5. Какое утверждение о хозяйстве Швеции является верным?
- а) В структуре сельского хозяйства растениеводство преобладает над животноводством.
 - б) Автомобилестроение является одной из ведущих отраслей машиностроения.
 - в) В энергетике преобладают атомные электростанции.
 - г) Основной вид транспорта, используемый в международных перевозках, — железнодорожный.

6. Установите соответствие.

	Škoda	
Нидерланды	Volvo	Бытовая техника
Великобритания	Volkswagen	Электроника
Германия	Siemens	Автомобилестроение
Швеция	Philips	Пищевые продукты
Чехия	Nestle	Фармацевтика
Швейцария	British Petroleum	Нефтепереработка
	Bayer	

26. Кения

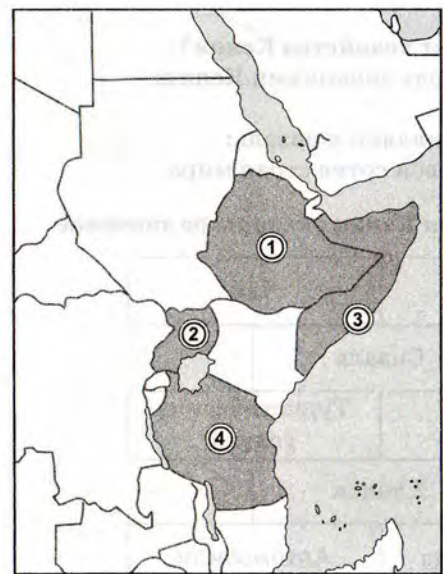
1. В состав какого региона Африки входит Кения?
- а) Северная Африка;
 - б) Западная Африка;
 - в) Восточная Африка;
 - г) Экваториальная Африка;
 - д) Южная Африка.
2. На момент получения независимости Кения была колонией:
- а) Испании;
 - б) Великобритании;
 - в) Германии;
 - г) Португалии.
3. По уровню урбанизации Кения относится к числу стран:
- а) слабоурбанизированных;
 - б) среднеурбанизированных;
 - в) высокоурбанизированных.
4. Столицей Кении является город:
- а) Момбаса;
 - б) Найроби;
 - в) Цаво;
 - г) Кейптаун.
5. Какие утверждения верно характеризуют хозяйство Кении?
- а) Туристический бизнес — важная отрасль экономики Кении;
 - б) Найроби — крупнейший порт Кении;
 - в) важной экспортной культурой Кении является сизаль;
 - г) по объему ВВП Кения находится в первой сотне стран мира.
6. Выделите виды продукции, имеющие для Кении экспортное значение.

Нефтепродукты	Цемент	Чай
	Рыба	Сизаль
Лекарственные препараты	Кофе	Туристические услуги
	Станки	Хлопок
Сахарный тростник	Морские суда	Автомобили

7. Отметьте правильные высказывания словом «Да», неправильные — словом «Нет».


В отличие от многих стран Африки, Кения не очень богата минеральными ресурсами	
Население Кении находится в состоянии «демографического взрыва»	
В религиозном составе населения Кении преобладают мусульмане и приверженцы традиционных верований и культов	
По калорийности питания Кения уступает большинству стран Африки	
В энергетике Кении преобладают тепловые электростанции	

8. Запишите соседние с Кенией страны, обозначенные на карте цифрами.



1 — _____
2 — _____
3 — _____
4 — _____
5 — _____

8. Запишите страны, выделенные на карте цифрами.



1 — _____
2 — _____
3 — _____
4 — _____
5 — _____
6 — _____
7 — _____
8 — _____
9 — _____
10 — _____

5. Зарубежная Европа. Хозяйство и внутренние различия

- Главной отраслью европейской промышленности является:
 - машиностроение;
 - металлургия;
 - химическая промышленность;
 - легкая промышленность.
- По какой из рек зарубежной Европы перевозится наибольшая часть грузов?
 - Дунай;
 - Сена;
 - Рейн;
 - Темза.

6. ФРГ

1. Какое из утверждений верно?

- 1) В структуре сельского хозяйства Германии растениеводство преобладает над животноводством.
 - 2) Автомобилестроение является одной из ведущих отраслей промышленности Германии.
- а) Правильно первое утверждение;
 - б) правильно второе утверждение;
 - в) верны оба утверждения;
 - г) оба утверждения ошибочны.

2. Какое место в зарубежной Европе Германия занимает по численности населения?

- а) Первое;
- б) второе;
- в) третье;
- г) пятое.

3. Какое утверждение о населении Германии является верным?

- а) В Германии много городов-миллионеров.
- б) Численность населения Германии превышает 100 млн чел.
- в) Этнический и религиозный состав населения довольно однороден.
- г) Уровень жизни в восточной и западной части Германии одинаково высок.

4. Какое место занимает Германия по числу объектов Всемирного наследия?

- а) Первое;
- б) второе;
- в) третье;
- г) четвертое.

5. Какой тип сельского хозяйства развит в Германии?

- а) Североевропейский;
- б) среднегерманский;
- в) среднеевропейский;
- г) южноевропейский.

2. Найдите ошибки в перечне природных ресурсов, которыми особенно богата ЮАР:

- а) нефть;
- б) каменный уголь;
- в) золото;
- г) алмазы;
- д) рекреационные ресурсы;
- е) лесные ресурсы.

3. Какие утверждения верно характеризуют хозяйство ЮАР?

- а) На долю ЮАР приходится почти половина промышленной продукции, выпускаемой в Африке;
- б) столицей и крупнейшим промышленным центром ЮАР является Йоханнесбург;
- в) в сельском хозяйстве ЮАР преобладает животноводство;
- г) в структуре промышленности преобладают горнодобывающие отрасли.

4. По численности населения ЮАР занимает в Африке ... место (выберите правильный ответ):

- а) первое;
- б) второе;
- в) третье;
- г) четвертое.

5. Какое из утверждений верно?

- 1) ЮАР — единственная в Африке промышленно развитая страна.
 - 2) ЮАР — крупнейшая страна Африки по численности населения.
- а) Правильно первое утверждение;
 - б) правильно второе утверждение;
 - в) верны оба утверждения;
 - г) оба утверждения ошибочны.

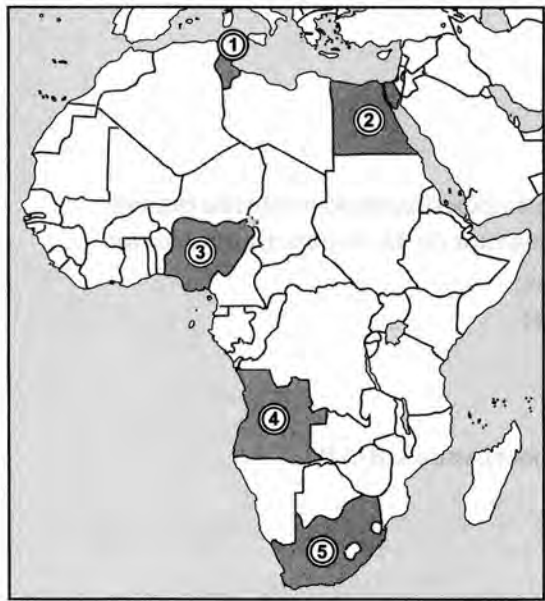
6. Какой из языков наиболее распространен в ЮАР?

- а) Зулу;
- б) суахили;
- в) английский;
- г) африкаанс.

7. Установите соответствие.



8. Запишите столицы стран, обозначенных на карте цифрами.

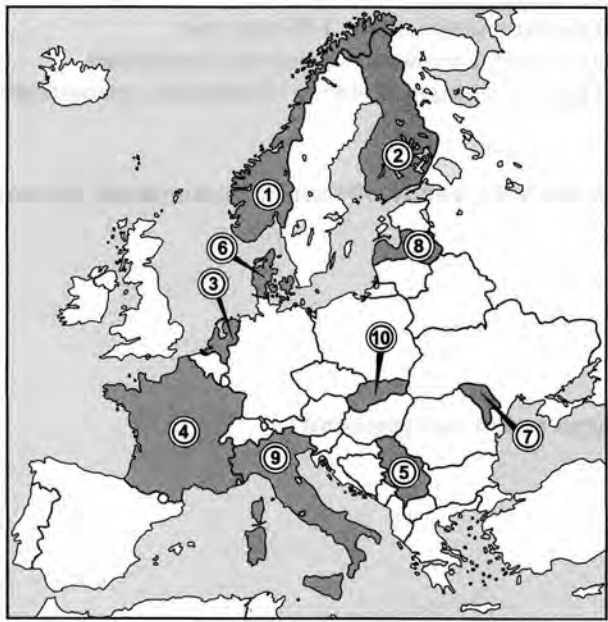


- 1 — _____
- 2 — _____
- 3 — _____
- 4 — _____
- 5 — _____

7. Установите соответствие.

Виноград, цитрусовые, оливки	Южноевропейский тип сельского хозяйства	Германия, Швейцария, Нидерланды
Молочное животноводство	Среднеевропейский тип сельского хозяйства	Греция, Италия, Испания
Свиноводство, овощеводство	Североевропейский тип сельского хозяйства	Норвегия, Швеция, Финляндия

8. Запишите страны, выделенные на карте цифрами.

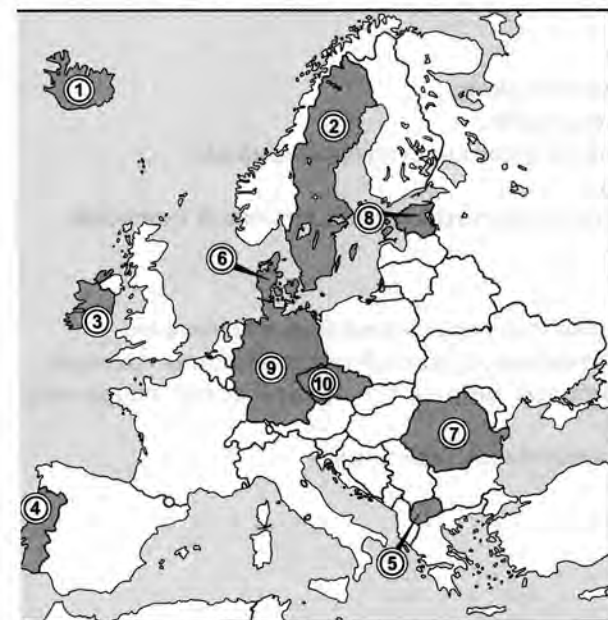


- 1 — _____
- 2 — _____
- 3 — _____
- 4 — _____
- 5 — _____
- 6 — _____
- 7 — _____
- 8 — _____
- 9 — _____
- 10 — _____

7. Найдите соответствие.



8. Запишите страны, выделенные на карте цифрами.



- 1 — _____
- 2 — _____
- 3 — _____
- 4 — _____
- 5 — _____
- 6 — _____
- 7 — _____
- 8 — _____
- 9 — _____
- 10 — _____

4. Укажите строку, в которой содержится неверное сочетание страна — столица.

- а) Алжир — Алжир;
- б) Тунис — Тунис;
- в) Джибути — Джибути;
- г) Ангола — Ангола.

5. К главным нефтедобывающим странам Африки относятся:

- а) Алжир;
- б) Алжир и Нигерия;
- в) Алжир, Нигерия и Либерия;
- г) Алжир, Нигерия, Либерия и ЮАР.

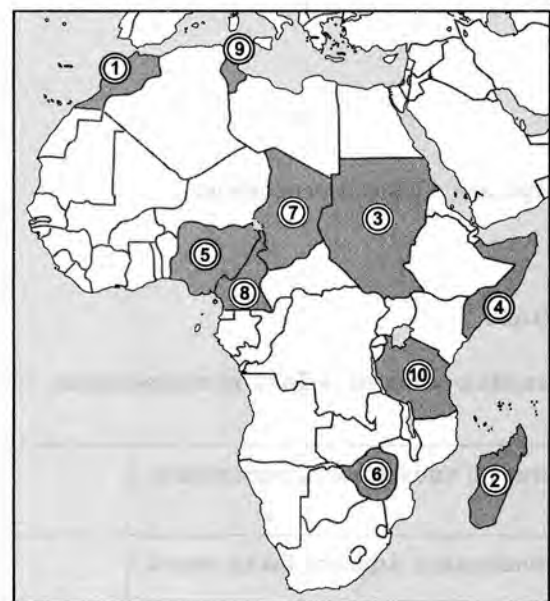
6. Отметьте правильные высказывания словом «Да», неправильные — словом «Нет».

Африка занимает второе место в мире по численности населения, уступая только Евразии	
На протяжении XX в. темпы урбанизации в Африке были очень высокими	
Африка — один из наименее урбанизированных регионов мира	
Страны района Гвинейского залива — Гана и Кот-д'Ивуар — мировые лидеры по производству какао-бобов	
Наименее экономически развитые страны Африки расположены на севере материка	

7. Какой из вариантов сельскохозяйственной специализации африканских стран является ошибочным?

Кения — чай	Уганда — хлопок
Судан — арахис	Гана — какао
Марокко — цитрусовые	Алжир — сахарная свекла

8. Запишите страны, выделенные на карте цифрами.



- 1 — _____

2 — _____

3 — _____

4 — _____

5 — _____
- 6 — _____

7 — _____

8 — _____


9 — _____

10 — _____

25. ЮАР

1. Во времена получения независимости ЮАР была колонией:
- а) Нидерландов;
 - б) Великобритании;
 - в) Франции;
 - г) Португалии.

6. Решите кроссворд.




- По горизонтали:**
- 2. Крупнейшая немецкая авиакомпания.
 - 6. Крупная область на юге Германии.
 - 7. Всемирно известная немецкая фармацевтическая фирма.
 - 8. Столица Нижней Саксонии.
 - 10. Город на востоке Германии, известный своей картинной галереей.
- По вертикали:**
- 1. Одна из крупнейших рек Европы, берущая начало в Германии.
 - 3. Столица Земли Баден-Вюртемберг, крупный центр машиностроения.
 - 4. Всемирно известная немецкая фирма по производству спортивной одежды и обуви.
 - 5. Самая восточная федеральная земля Германии.
 - 6. Столица Германии.
 - 9. Крупнейшая река Германии.

6. Отметьте правильные высказывания словом «Да», неправильные — словом «Нет».

Польша — страна Восточной Европы	
Сельское хозяйство Польши относится к североевропейскому типу	
Прага — столица Польши	
Тепловые электростанции дают Польше более 80% всей электроэнергии	
Польша — многонациональная страна	

7. Решите кроссворд.

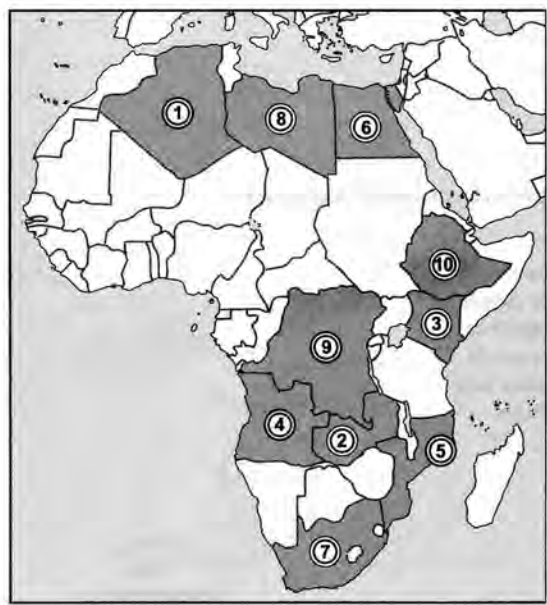


- в) Алжир;
- г) Египет;
- д) Кения;
- е) Мадагаскар;
- ж) Судан;
- з) Марокко.

7. Установите соответствие и исключите лишний элемент.



8. Запишите страны, выделенные на карте цифрами.



- 1 — _____
- 2 — _____
- 3 — _____
- 4 — _____
- 5 — _____
- 6 — _____
- 7 — _____
- 8 — _____
- 9 — _____
- 10 — _____

24. Африка. Население и хозяйство

- 1. Темпы воспроизводства населения в Африке:
 - а) выше, чем в Латинской Америке, но ниже, чем в Азии;
 - б) ниже, чем в Азии и Латинской Америке;
 - в) выше, чем в Азии и Латинской Америке.
- 2. Высокие показатели естественного прироста связаны с:
 - а) высокой рождаемостью;
 - б) низкой смертностью;
 - в) обоими названными показателями.
- 3. Процесс урбанизации в Африке по сравнению с Азией имеет:
 - а) выше уровень, но ниже темпы;
 - б) ниже уровень, но выше темпы;
 - в) и уровень, и темпы ниже.

7. Польша

- 1. Энергетика Польши и Германии имеет сходные черты:
 - а) преобладают тепловые электростанции;
 - б) используются преимущественно собственные запасы каменного угля;
 - в) есть атомные электростанции;
 - г) обе страны входят в тройку крупнейших производителей электроэнергии в Европе.
- 2. Какие из названных городов Польши по численности населения превышают миллион человек?
 - а) Вроцлав;
 - б) Краков;
 - в) Катовице;
 - г) Варшава.
- 3. Крупный металлургический район более ста лет назад сложился в Польше благодаря использованию:
 - а) запасов каменного угля;
 - б) запасов железной руды;
 - в) запасов и угля, и железной руды;
 - г) привозных ресурсов.
- 4. Город Лодзь называют «польским Манчестером», потому что (выберите правильный ответ):
 - а) облик исторического центра и старых кварталов в этих городах примерно одинаков;
 - б) в нем тоже главной отраслью является текстильная промышленность;
 - в) население обоих городов отличается сложным составом;
 - г) оба города расположены на левом берегу небольших равнинных рек в лесной зоне умеренного пояса.
- 5. Какое утверждение о хозяйстве Польши является верным?
 - а) В структуре сельского хозяйства растениеводство преобладает над животноводством.
 - б) В электроэнергетике преобладают тепловые электростанции, работающие на угле.
 - в) Автомобилестроение является главной отраслью международной специализации Польши.
 - г) Основной вид транспорта, используемый в международных перевозках, — автомобильный.

8. Зарубежная Азия. Географическое положение и ресурсы

- Количество океанов, омывающих территорию зарубежной Азии, по сравнению с зарубежной Европой:
 - больше;
 - такое же;
 - меньше.
- В Азии расположено государство:
 - Тунис;
 - Бангладеш;
 - Нигер;
 - Судан.
- Причинами, затрудняющими связи между государствами зарубежной Азии, являются (укажите наиболее полный ответ):
 - природные рубежи;
 - природные рубежи и большие размеры территорий;
 - природные рубежи, большие размеры территорий, малое количество транспортных путей;
 - природные рубежи, большие размеры территорий, малое количество транспортных путей, традиционно плохие отношения между странами.
- Роль каких видов ресурсов, добываемых в зарубежной Азии, особенно велика на мировом рынке?
 - Топливо-энергетических;
 - рудных;
 - нерудных;
 - лесных.
- В регионе Южной Азии находится:
 - Афганистан;
 - Пакистан;
 - Индонезия;
 - Таиланд.

7. Установите соответствие.



8. Запишите столицы стран, обозначенных на карте цифрами.



- _____
- _____
- _____
- _____
- _____

23. Африка.
Географическое положение, природные ресурсы

1. В Африке расположено государство:
а) Ливан;
б) Мозамбик;
в) Лаос;
г) Эквадор.
2. Определите страну по ее краткому описанию.
Это одна из древнейших стран планеты, большая часть населения которой сосредоточена в долине и дельте великой реки мира. Она обладает также выгодным экономико-географическим положением: выходом к морю, близостью к развитым странам и функционированием на ее территории одного из крупнейших каналов в мире. На территории страны находится крупный курортный район мирового значения.
Ответ: _____
3. Какая из африканских стран была независимой в 1950 г.?
а) Египет;
б) Кения;
в) Замбия;
г) Ангола.
4. Укажите строку, в которой названы африканские страны с монархической формой правления.
а) Либерия, Бенин, Египет;
б) Марокко, Лесото, Свазиленд;
в) Лесото, Сирия, Алжир;
г) Чад, ЦАР, ЮАР.
5. Многие африканские страны не имеют выхода к морю. Это связано с... (выберите все правильные варианты ответа):
а) большими размерами материка;
б) слабой изрезанностью береговой линии материка;
в) малыми размерами большинства стран;
г) значительными размерами большинства стран.
6. В предложенном списке найдите страны Северной Африки.
а) Ливия;
б) Чад;

- По горизонтали:
1. Современная столица Польши.
2. Город, в котором располагается крупнейший металлургический комбинат Восточной Европы.
5. Крупнейший центр текстильной промышленности Польши.
7. Горная система на юго-западе Польши.
11. Область Польши, в которой сосредоточены основные месторождения каменного угля.

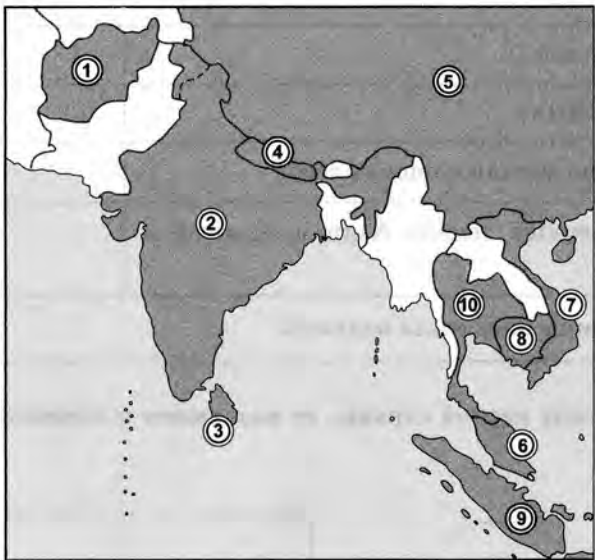
- По вертикали:
3. Горная система на юго-востоке Польши.
4. Старая столица Польши.
6. Крупная река, по которой частично проходит граница между Польшей и Германией.
8. Крупный морской порт на северо-востоке Польши.
9. Самая высокая горная вершина Польши.
10. Крупный морской порт на северо-западе Польши.
12. Река, на которой расположены как старая, так и новая столицы Польши.

8. Запишите столицы стран, выделенных на карте цифрами.



- 1 — _____
2 — _____
3 — _____
4 — _____
5 — _____
6 — _____
7 — _____
8 — _____
9 — _____
10 — _____

8. Запишите страны, выделенные на карте цифрами.

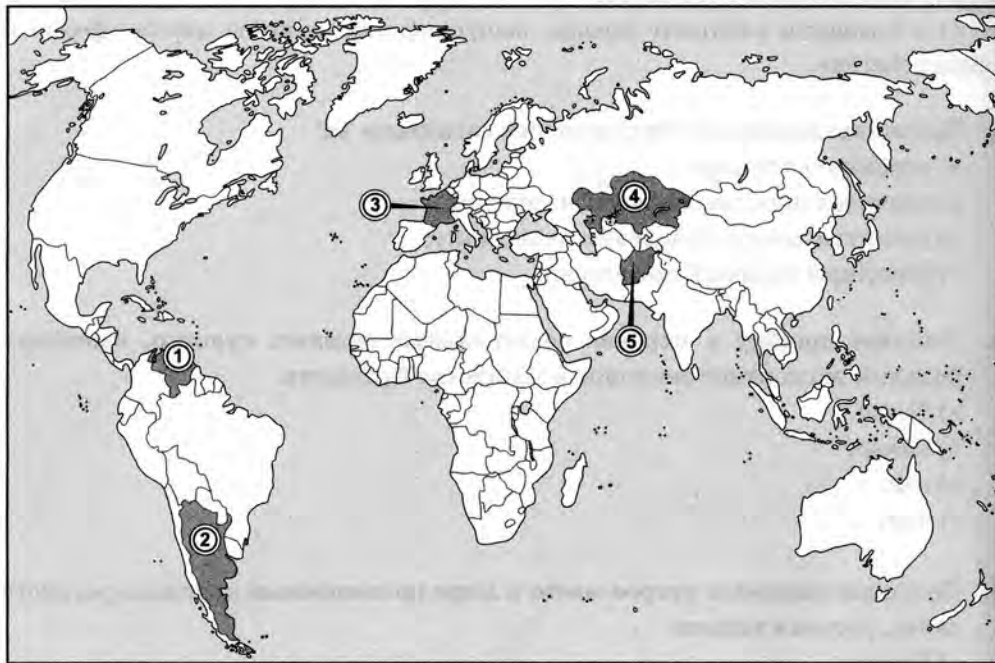


- 1 — _____
- 2 — _____
- 3 — _____
- 4 — _____
- 5 — _____
- 6 — _____
- 7 — _____
- 8 — _____
- 9 — _____
- 10 — _____

9. Зарубежная Азия. Население и хозяйство

- 1. Национальный состав населения зарубежной Азии:
 - а) относительно однороден;
 - б) разнообразен;
 - в) исключительно разнообразен.
- 2. К новым индустриальным странам в зарубежной Азии относятся (укажите наиболее полный ответ):
 - а) Тайвань;
 - б) Тайвань и Сингапур;
 - в) Тайвань, Сингапур и Таиланд;
 - г) Тайвань, Сингапур, Таиланд и Республика Корея.
- 3. Большая часть экономически активного населения зарубежной Азии занята:
 - а) в промышленности;
 - б) в сельском хозяйстве;

8. Запишите страны, выделенные на карте цифрами.



- 1 — _____
- 2 — _____
- 3 — _____
- 4 — _____
- 5 — _____

22. Бразилия. Хозяйство

- 1. Какие слова верно характеризуют хозяйство Бразилии?
 - а) Основу энергетики Бразилии образуют тепловые электростанции;
 - б) Бразилия занимает четвертое место в мире по производству морских судов;

в) во внутренних пассажирских перевозках в Бразилии большую роль играет авиационный транспорт;

г) в Бразилии работают заводы, выпускающие машины марки «форд» и «фольксваген».

2. Бразилию называют «тропическим гигантом» за:

- а) огромную площадь;
- б) значительную численность населения;
- в) развитую многоотраслевую экономику;
- г) огромный военный потенциал.

3. Найдите ошибку в перечне сельскохозяйственных культур, имеющих большое экспортное значение в хозяйстве Бразилии.

- а) Кофе;
- б) какао;
- в) соя;
- г) чай.

4. Бразилия занимает второе место в мире по поголовью крупного рогатого скота, уступая только:

- а) Китаю;
- б) Индии;
- в) Аргентине;
- г) Австралии.

5. Бразилия занимает первое место в мире по производству:

- а) кофе;
- б) кофе и сахарного тростника;
- в) кофе, сахарного тростника и хлопчатника;
- г) кофе, сахарного тростника, хлопчатника и сои.


6. «Промышленный треугольник» Бразилии образуют следующие города:

- а) Рио-де-Жанейро, Сан-Паулу и Бразилиа;
- б) Сан-Паулу, Белу-Оризонти и Рио-де-Жанейро;
- в) Белу-Оризонти, Бразилиа и Рио-де-Жанейро;
- г) Манаус, Белу-Оризонти и Бразилиа.

6. Отметьте правильные высказывания словом «Да», неправильные — словом «Нет».

Шри-Ланка — страна Южной Азии	
Турция расположена севернее Ирака	
В странах Южной Азии особенно велика площадь лесов	
Большинство сельскохозяйственных земель Азии нуждается в искусственном орошении	
В Азии проживает около половины населения планеты	

7. Установите соответствие между картой страны, ее названием и списком стран-соседей.



Афгани-стан

Шри-Ланка

Непал

КНДР

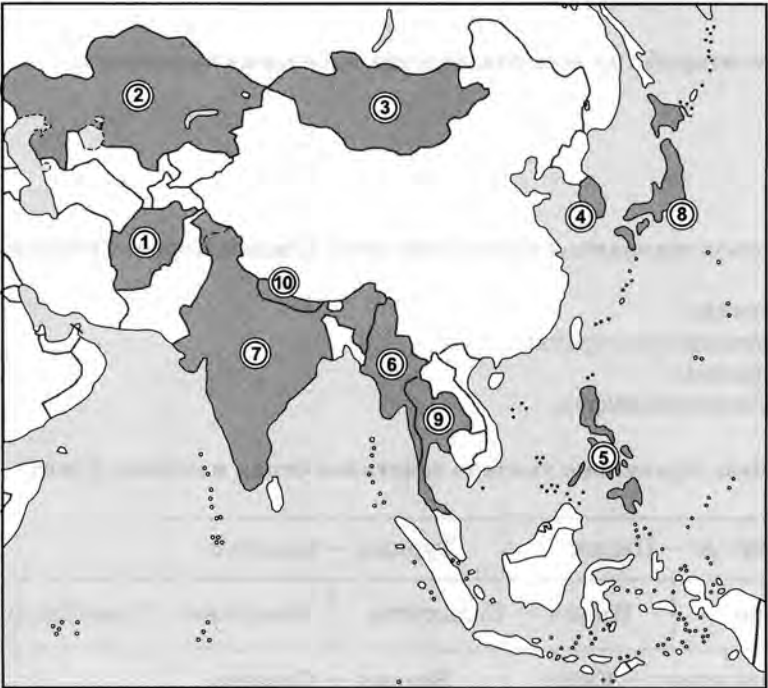
Китай, Индия

Пакистан, Иран, Туркменистан, Таджикистан

Россия, Республика Корея

Нет соседних стран

8. Запишите страны, выделенные на карте цифрами.



- 1 — _____
- 2 — _____
- 3 — _____
- 4 — _____
- 5 — _____
- 6 — _____
- 7 — _____
- 8 — _____
- 9 — _____
- 10 — _____

21. Бразилия. Географическое положение, ресурсы и население

1. Какое из утверждений верно?
 - 1) Наибольшая часть населения размещается во внутренних районах страны.
 - 2) По числу жителей Бразилия входит в пятерку крупнейших стран.
 - а) Правильно первое утверждение;
 - б) правильно второе утверждение;
 - в) верны оба утверждения;
 - г) оба утверждения ошибочны.
2. Официальное название Бразилии:
 - а) Соединенные Штаты Бразилии;
 - б) Демократическая Республика Бразилия;
 - в) Республика Бразилия;
 - г) Федеративная Республика Бразилия.
3. Крупнейшим по численности населения городом Бразилии является:
 - а) Рио-де-Жанейро;
 - б) Сан-Паулу;
 - в) Бразилиа;
 - г) Манаус.
4. По численности населения Бразилия занимает ... место в мире (выберите правильный вариант):
 - а) третье;
 - б) четвертое;
 - в) пятое;
 - г) шестое.
5. Слово «бразил», давнее название стране, означает:
 - а) фамилию испанского мореплавателя, открывшего восточные берега страны;
 - б) название колючего кустарника в высокотравной саванне;
 - в) особый финт, редко применяемый в латиноамериканском футболе;
 - г) название одного из видов деревьев, произрастающих в Амазонии.

6. Отметьте правильные высказывания словом «Да», неправильные — словом «Нет».

Бразилия — крупнейшая страна Латинской Америки и одна из крупнейших стран планеты, занимающая по площади четвертое место в мире	
Леса занимают около 60% площади страны	
Крупнейшая ГЭС Бразилии построена в низовьях Амазонки	
Столица Бразилии входит в число крупнейших городов планеты	
Население Бразилии отличается большой расовой пестротой, но при этом языковой и религиозной однородностью	

7. Установите соответствие.



- в) на транспорте;
- г) в производственной сфере.

4

4. Более отчетливо второй тип воспроизводства населения выражен в:
- а) Индии;
 - б) Китае;
 - в) Израиле;
 - г) Японии.
5. К какому типу развивающихся стран относятся Южная Корея, Сингапур и Малайзия?
- а) Ключевые страны;
 - б) новые индустриальные страны;
 - в) беднейшие страны;
 - г) страны — экспортеры нефти.
6. В каких вариантах правильно указано сочетание стран и столиц Азии?

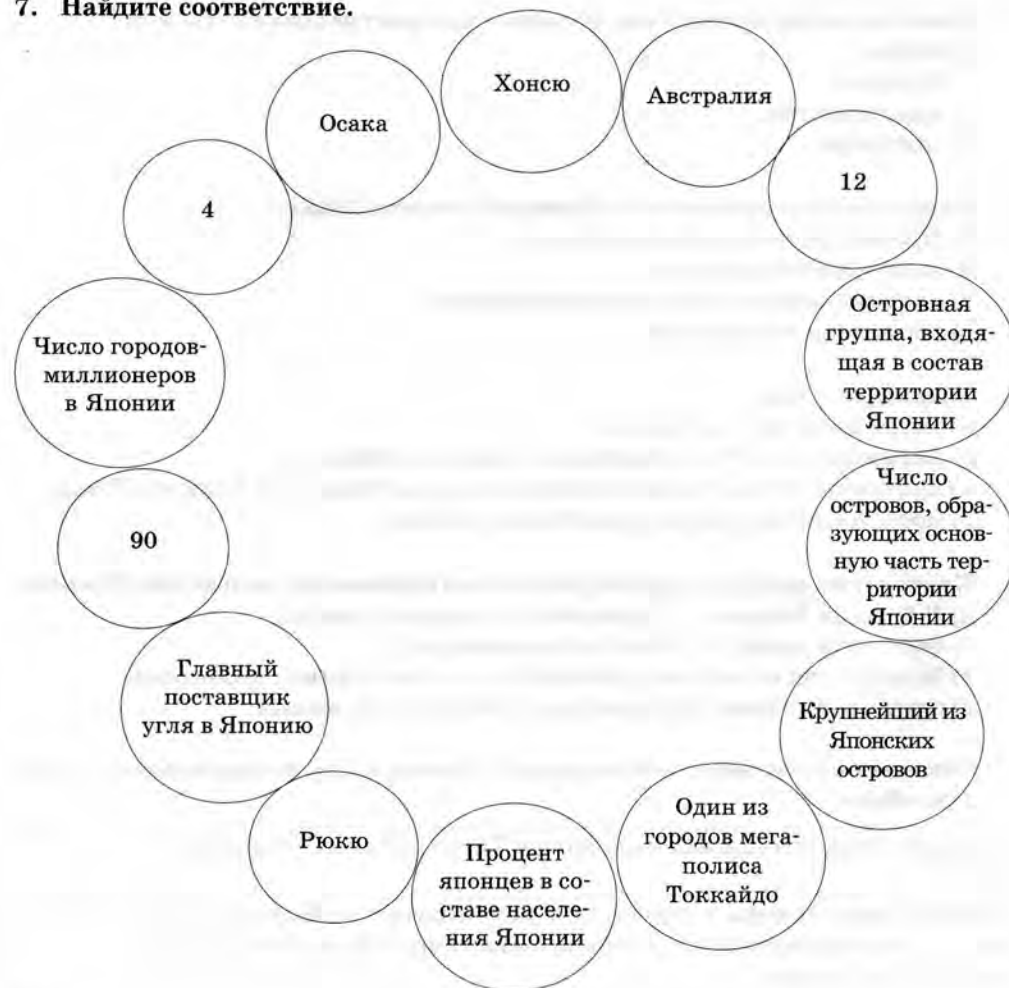
Китай — Пекин		Турция — Стамбул	
Япония — Токио	Индия — Калькутта	Монголия — Улан-Батор	
Афганистан — Кабул		Босния — Сараево	
Иран — Тегеран	Ирак — Багдад	Египет — Каир	

7. Установите соответствие.

Швейные изделия	Республика Корея	Юго-Западная Азия
Чай	Кувейт	Южная Азия
Автомобили	Китай	Восточная Азия
Нефть	Шри-Ланка	

Лесные ресурсы Японии очень велики, ведь леса покрывают 60% площади страны	
Плотность населения в Японии почти в десять раз выше среднего уровня	
Население Японии быстро растет	

7. Найдите соответствие.



- в) Гаити и Парагвай;
г) Эквадор и Гондурас.

3. Наиболее высокоразвитыми странами в Латинской Америке считаются:

- а) Аргентина;
б) Аргентина и Мексика;
в) Аргентина, Мексика, Бразилия;
г) Аргентина, Мексика, Бразилия и Суринам.

4. По общим объемам промышленной и сельскохозяйственной продукции первое место среди латиноамериканских стран занимает:

- а) Аргентина;
б) Индия;
в) Бразилия;
г) Мексика.

5. Крупнейшими в мире производителями бананов являются:

- а) Эквадор;
б) Эквадор и Колумбия;
в) Эквадор, Колумбия, Аргентина;
г) Эквадор, Колумбия, Аргентина и Мексика.

6. Заполните пропуски:

а) _____ — страна Латинской Америки, входящая в ОПЕК и являющаяся крупнейшим экспортером нефти в своем регионе.

б) По экспорту кофе _____ находится на втором месте в мире.

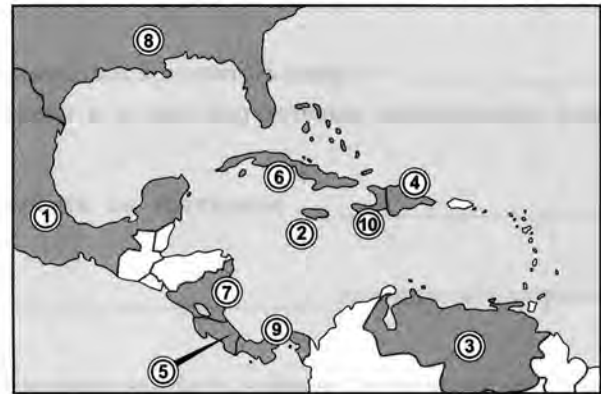
в) Первое место в мире по экспорту сои занимает _____.

г) Один из основных мировых производителей серебра, а также главный мировой поставщик ртути, цинка и марганца — это _____.

7. Заполните таблицу.

Регион Латинской Америки	Примеры стран	Отрасли хозяйственной специализации
Страны бассейна Амазонки и Ла-Платской низменности		
Андские страны		
Центральная Америка		
Вест-Индия		

8. Запишите страны, выделенные на карте цифрами.



- 1 — _____
- 2 — _____
- 3 — _____
- 4 — _____
- 5 — _____
- 6 — _____
- 7 — _____
- 8 — _____
- 9 — _____
- 10 — _____

10. Япония.
Географическое положение, ресурсы и население

- 1. Какие четыре острова входят в состав Японии?
а) Кюсю;
б) Кюрасао;
в) Хонсю;
г) Хоккайдо;
д) Сикоку.
- 2. Какие религии получили наибольшее распространение в Японии?
а) Ислам;
б) буддизм;
в) христианство;
г) синтоизм.
- 3. Какое событие произошло в Японии 9 августа 1945 г.?
а) Провозглашение независимости;
б) атомная бомбардировка;
в) капитуляция во Второй мировой войне;
г) коронация императора.
- 4. Токкайдо — это:
а) титул японского монарха;
б) мегалополис на Тихоокеанском побережье Японии;
в) вид боевых искусств, возникший на одном из южных островов Рюкю;
г) мост, соединяющий острова Хонсю и Кюсю.
- 5. Какие слова неверно характеризуют географическое положение Японии?
а) У Японии большая протяженность морских границ;
б) береговая линия Японии сильно изрезана;
в) большая часть островов, входящих в состав страны, необитаема;
г) площадь Японии примерно равна площади Германии.
- 6. Отметьте правильные высказывания словом «Да», неправильные — словом «Нет».

Япония — конституционная монархия. Титул японского монарха — сёгун	
Япония расположена в пределах Тихоокеанского сейсмического пояса, что проявляется в высокой геологической активности на территории страны	

11. Хозяйство Японии

1. Какое из утверждений верно?

- 1) Для энергетики Японии характерна большая роль тепловых электростанций.
- 2) В структуре сельского хозяйства Японии растениеводство преобладает над животноводством.
- а) Правильно первое утверждение;
- б) правильно второе утверждение;
- в) верны оба утверждения;
- г) оба утверждения ошибочны.

2. Крупнейший металлургический комбинат Японии работает в городе:

- а) Фукуяма;
- б) Фудзияма;
- в) Китаюсю;
- г) Иокогама.

3. Исключите лишнее название.

- а) Тойота;
- б) Ниссан;
- в) Сузуки;
- г) Хюндэ.

4. Какие утверждения верно характеризуют сельское хозяйство Японии?



- а) Сельское хозяйство Японии отличается высоким уровнем развития;
- б) в сельском хозяйстве Японии животноводство значительно преобладает над земледелием;
- в) Япония полностью обеспечивает себя продовольствием;
- г) в сельском хозяйстве занята меньшая часть населения Японии.

5. В Японии сложилась линейная транспортная сеть в связи с... (выберите правильный вариант ответа):

- а) большими скоростями, развиваемыми современными видами наземного транспорта;
- б) большим количеством мостов и туннелей в горной части Японии;
- в) сравнительно небольшими расстояниями между крупнейшими городами Тихоокеанского побережья;
- г) вытянутой формой страны.

- 1. Является крупным портом на берегу Атлантического океана.
- 2. Входит в десятку крупнейших городов планеты.
- 3. Название города связано с именем св. Павла.
- 4. Расположен в крупнейшей по площади стране Латинской Америки.
- 5. Расположен на удалении от побережья океана.
- 6. Является крупным портом на берегу Атлантического океана.
- 7. В латинской транскрипции название города совпадает с названием страны.
- 8. В прошлом город был столицей страны.
- 9. Является столицей самой северной страны Латинской Америки.
- 10. Расположен в крупнейшей по площади стране Латинской Америки.

7. Установите соответствие.

	Уругвай	Аргентина, Боливия, Бразилия
	Перу	Венесуэла, Бразилия, Суринам
	Парагвай	Эквадор, Колумбия, Бразилия, Боливия, Чили
	Гайана	Бразилия, Аргентина

8. Запишите страны, выделенные на карте цифрами.

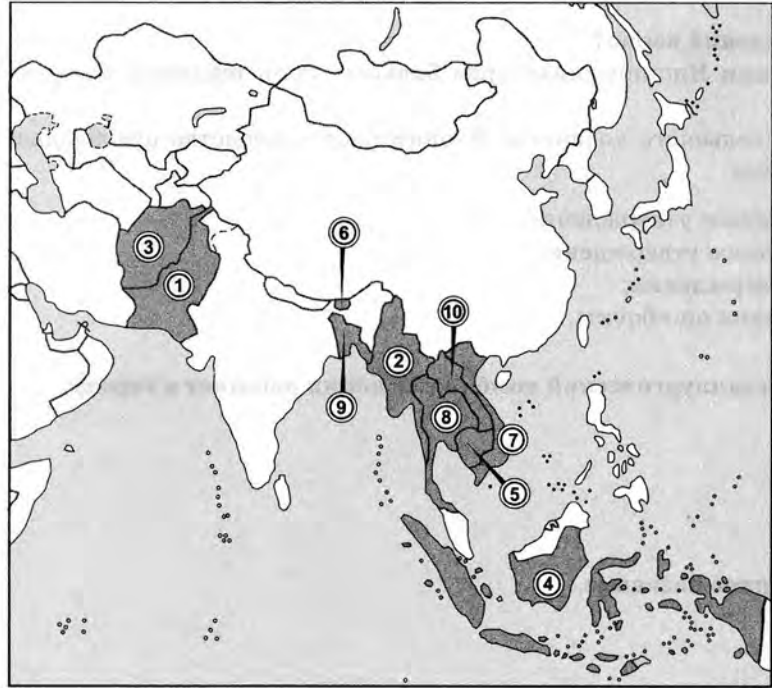


- 1 — _____
- 2 — _____
- 3 — _____
- 4 — _____
- 5 — _____
- 6 — _____
- 7 — _____
- 8 — _____
- 9 — _____
- 10 — _____

20. Латинская Америка.
Хозяйство и внутреннее развитие

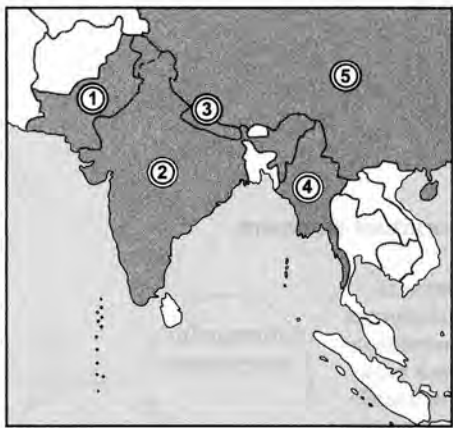
- 1. Какие из перечисленных стран Латинской Америки не имеют выхода к морю?
 - а) Сальвадор;
 - б) Боливия;
 - в) Парагвай;
 - г) Уругвай.
- 2. Наименее развитыми странами Латинской Америки являются:
 - а) Гаити и Уругвай;
 - б) Куба и Парагвай;

8. Запишите страны, выделенные на карте цифрами.



- 1 — _____
- 2 — _____
- 3 — _____
- 4 — _____
- 5 — _____
- 6 — _____
- 7 — _____
- 8 — _____
- 9 — _____
- 10 — _____

8. Запишите страны, выделенные на карте цифрами.



- 1 — _____
- 2 — _____
- 3 — _____
- 4 — _____
- 5 — _____

12. Китай.
Географическое положение, ресурсы и население

- 1. Какие из перечисленных религий получили наибольшее распространение на территории Китая?
а) Даосизм;
б) буддизм;
в) синтоизм;
г) конфуцианство;
д) ислам.
- 2. Какие две части территории Китая являются наиболее густо населенными?
а) Приморские равнины;
б) центральные районы страны;
в) западная часть страны;
г) долины Хуанхэ и Янцзы.
- 3. По каким показателям Китай занимает первое место в мире?
а) Темпы прироста населения;
б) уровень урбанизации;
в) численность городского населения;
г) количество городов-миллионеров.

8. Запишите столицы стран, выделенных на карте цифрами.



- 1 — _____
- 2 — _____
- 3 — _____
- 4 — _____
- 5 — _____

19. Латинская Америка.
Географическое положение, ресурсы и население

- 1. В состав Латинской Америки входят:
а) Южная Америка;
б) Южная Америка и юг Северной Америки.
- 2. Из государств Южной Америки не имеют выхода к морю:
а) Уругвай и Парагвай;
б) Парагвай и Боливия;
в) Боливия и Уругвай.

3. Главная религия большинства латиноамериканских стран:
 а) католицизм;
 б) ислам;
 в) протестантизм.

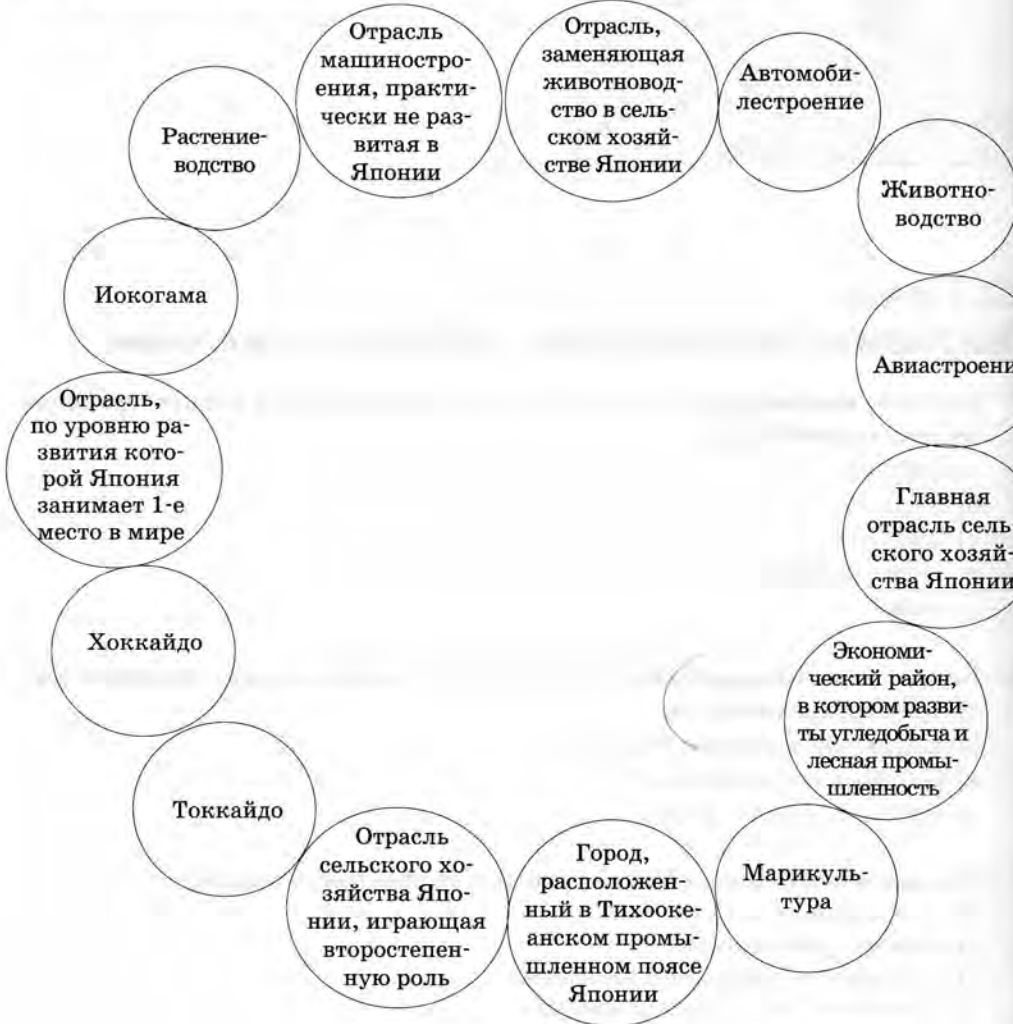
4. Заполните пропуски:
 а) Единственная страна Латинской Америки, где государственным языком является португальский, — это _____
 б) Индейское население составляет больше половины в _____ и _____.
 в) Более _____ площади Суринама покрыто лесом.
 г) Канал, соединяющий Атлантический и Тихий океаны, проходит по территории _____.

5. Какое из утверждений верно?
 1) Бразилия — самая большая католическая страна мира.
 2) Большинство населения Латинской Америки сосредоточено по берегам океанов и крупных рек.
 а) Правильно первое утверждение;
 б) правильно второе утверждение;
 в) верны оба утверждения;
 г) оба утверждения ошибочны.

6. Запишите три крупнейших города Латинской Америки и определите, какие из приведенных черт касаются каждого из них. Учитывайте, что некоторые из этих черт характерны для нескольких городов.

6. «Японское экономическое чудо» началось (выберите правильный вариант ответа):
 а) во второй половине XIX в.;
 б) в начале XX в.;
 в) в 30-е гг. XX в.;
 г) во второй половине XX в.;
 д) в начале XXI в.

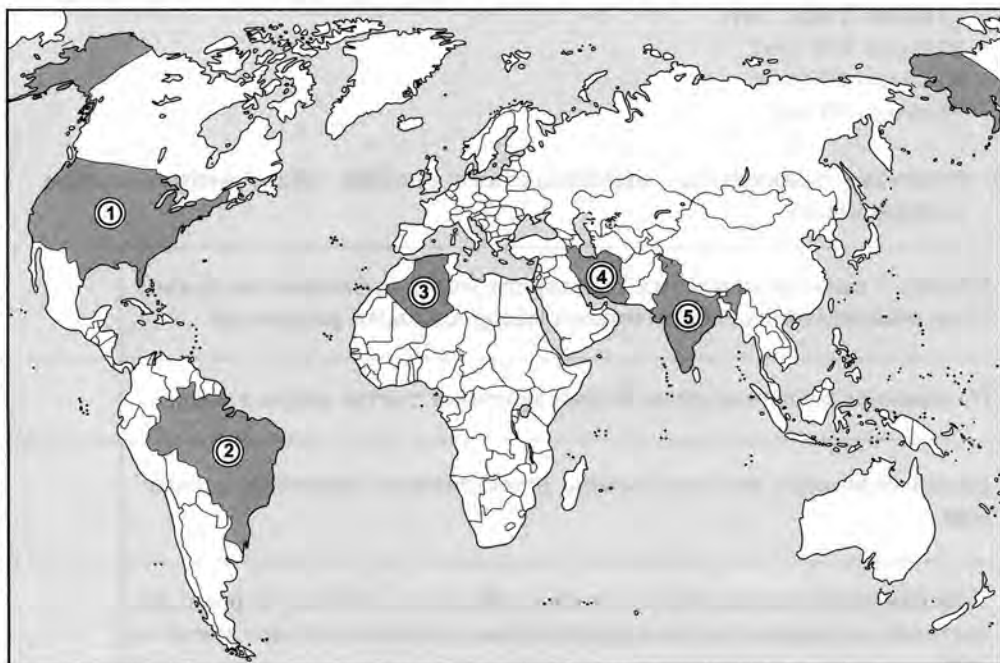
7. Установите соответствие и исключите лишний элемент.



В восточных районах Китая плотность населения достигает _____ чел./км².

- 1) 600;
- 2) 40;
- 3) 94;
- 4) 1,2;
- 5) 130.

8. Запишите столицы стран, выделенных на карте цифрами.



- 1 — _____
- 2 — _____
- 3 — _____
- 4 — _____
- 5 — _____

в) Канада омывается водами трех океанов.

г) По суше Канада граничит с двумя государствами.

3. Большинство населения Канады живет в ... части страны (выберите правильный ответ):

- а) северо-восточной;
- б) юго-восточной;
- в) северо-западной;
- г) юго-западной.

4. Слово «канада», давшее название стране, означает:

- а) коньки, используемые при игре в хоккей на траве;
- б) название одного из судов экспедиции Христофора Колумба, открывшей восточное побережье страны;
- в) на одном из индейских языков — «деревня»;
- г) особый вид клюквы, произрастающей в северной части страны.

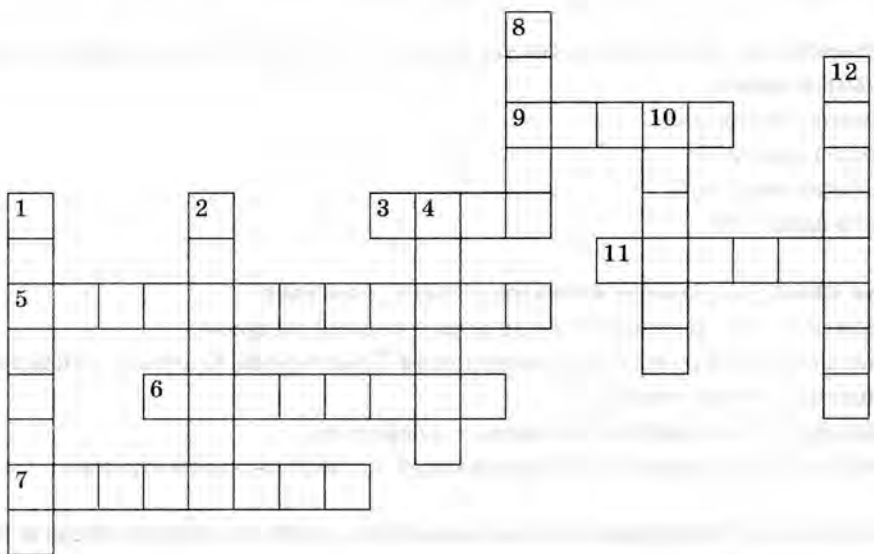
5. По площади территории Канада занимает ... место в мире (выберите правильный ответ):

- а) первое;
- б) второе;
- в) третье;
- г) шестое.

6. Отметьте правильные высказывания словом «Да», неправильные — словом «Нет».

Канада — одна из крупнейших стран мира по площади и численности населения	
Более 90% населения живет в юго-восточной части страны, в районе Великих озер и в долине реки Св. Лаврентия	
Высокая доля ГЭС в энергетике Канады связана с богатейшими водными ресурсами страны	
В грузообороте Канады главную роль играет речной транспорт, а в пассажирообороте — автомобильный	
Главными экономическими партнерами Канады являются страны Северной Европы	

7. Решите кроссворд.



- По горизонтали:**
- 3. Река на северо-западе Канады, также протекающая по территории Аляски.
 - 5. Крупный остров в Атлантическом океане у побережья Канады.
 - 6. Крупнейший морской порт на Тихоокеанском побережье Канады.
 - 7. Крупный полуостров на северо-востоке Канады.
 - 9. Индейское племя, давшее название одному из Великих Американских озер.
 - 11. Французский путешественник XVI в., введший в обращение название «Канада».

- По вертикали:**
- 1. Самый крупный город Канады.
 - 2. Река на границе США и Канады, известная своим водопадом.
 - 4. Франкоязычная провинция Канады (Квебек).
 - 8. Горная вершина, являющаяся самой высокой в Канаде.
 - 10. Столица Канады.
 - 12. Река и горная система на северо-западе Канады.

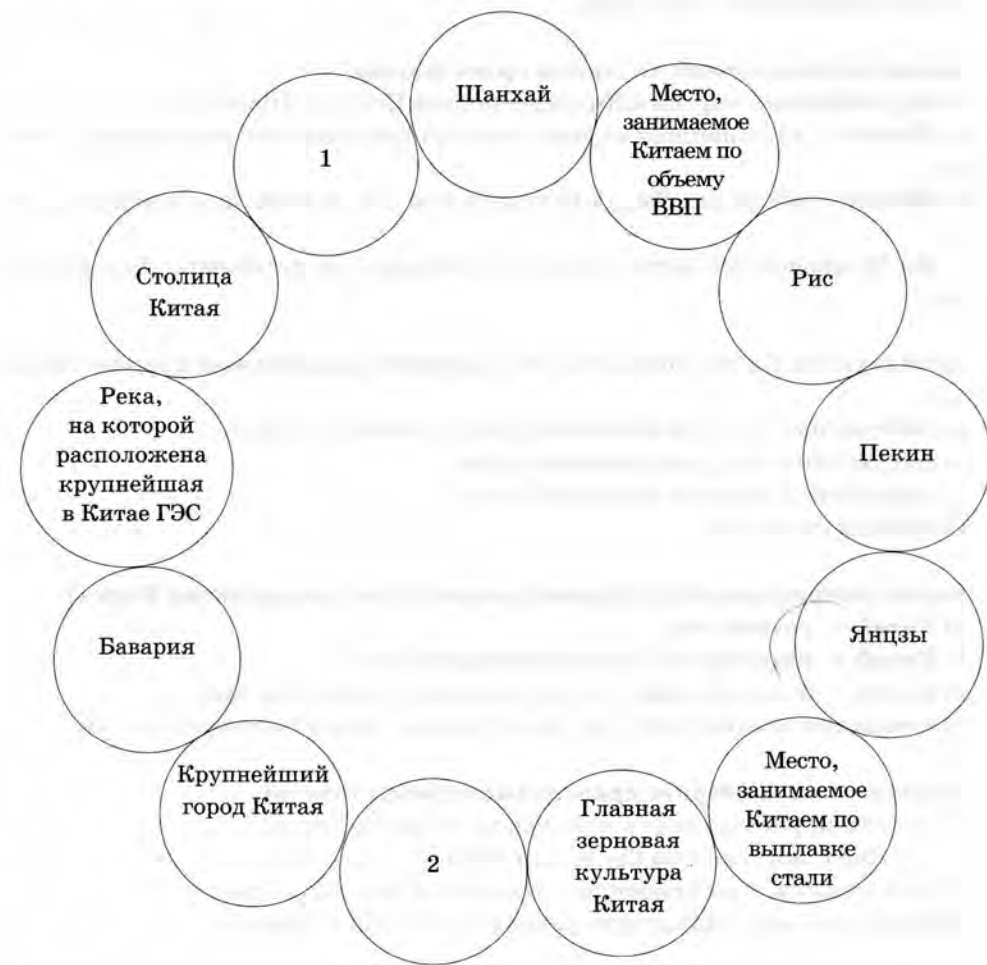
- 4. По запасам каких полезных ископаемых Китай не входит в число мировых лидеров?
 - а) Железной руды;
 - б) нефти;
 - в) каменного угля;
 - г) алюминиевых руд.
- 5. Китайская Народная Республика существует (выберите правильный вариант ответа):
 - а) более 2 тыс. лет;
 - б) более 500 лет;
 - в) около 100 лет;
 - г) около 60 лет.
- 6. Отметьте правильные высказывания словом «Да», неправильные — словом «Нет».

Китай — одно из немногих государств мира, практически полностью обеспеченных собственными минеральными ресурсами	
По запасам железной руды Китай занимает третье место в мире.	
Китай отличают высокие темпы естественного прироста населения	
Уровень урбанизации Китая очень высок, ведь по числу городских жителей и городов-миллионеров страна занимает первое место в мире	
Западные районы Китая особенно плотно заселены	

- 7. Вставьте соответствующие цифры, характеризующие население Китая.
 - Численность населения Китая составляет _____ млрд чел.
 - Средняя плотность населения Китая _____ чел./км².
 - Китайцы составляют _____ % населения Китая.
 - В Китае около _____ городов-миллионеров.

6. Сколько лет потребовалось Китаю, чтобы начавшиеся экономические реформы вывели страну на второе место в мире по объему ВВП?
- а) 10;
 - б) 15;
 - в) 20;
 - г) 25;
 - д) 30.

7. Установите соответствие.

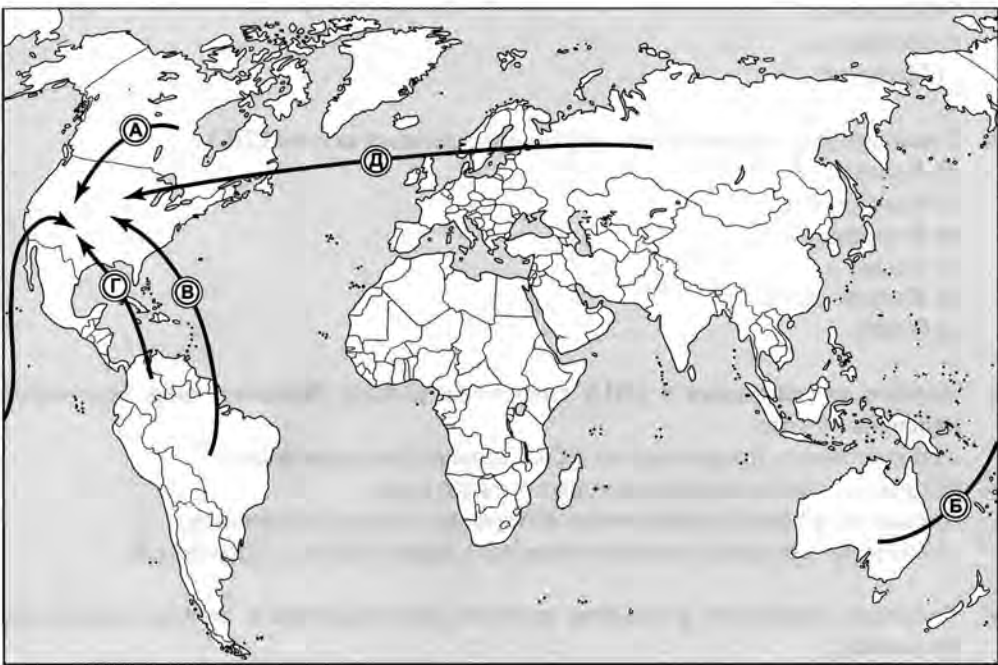


3. Из перечисленных штатов назовите те, которые входят в «пшеничный пояс»
- а) Кентукки;
 - б) Индиана;
 - в) Небраска;
 - г) Миссури.
4. Укажите два крупнейших нефтедобывающих штата США.
- а) Аляска;
 - б) Массачусетс;
 - в) Флорида;
 - г) Техас;
 - д) Калифорния;
 - е) Огайо.
5. Черная металлургия в США тяготеет к району Великих озер. Причиной этого является:
- а) потребность производства в большом количестве воды;
 - б) переход на более дешевую импортную руду;
 - в) развитие такой металлоемкой отрасли, как судостроение;
 - г) наличие крупных запасов железной руды в районе Приозерья.
6. Главным фактором развития цветной металлургии в штате Вашингтон является:
- а) столичное положение штата Вашингтон;
 - б) дешевая электроэнергия, вырабатываемая на крупном каскаде ГЭС;
 - в) удобство доставки руды из Латинской Америки;
 - г) приближенность к собственным источникам руды в Кордильерах.
7. Соотнесите отрасли промышленности и штаты, в которых они получили большое развитие.

Добыча нефти	<input type="radio"/>
Автомобилестроение	<input type="radio"/>
Нефтехимия	<input type="radio"/>
Цветная металлургия	<input type="radio"/>
Электронная промышленность	<input type="radio"/>

- 1. Техас;
- 2. Вашингтон;
- 3. Калифорния;
- 4. Аляска;
- 5. Мичиган.

8. Какими буквами обозначены фактические направления импорта нефти в США?



18. Канада

- 1. Какое из утверждений верно?
 - 1) Природные условия на большей части страны вполне благоприятны.
 - 2) Западные районы страны наиболее развиты в хозяйственном отношении.
 - а) Правильно первое утверждение;
 - б) правильно второе утверждение;
 - в) верны оба утверждения;
 - г) оба утверждения ошибочны.
- 2. Какое из утверждений верно?
 - а) Канада относится к числу мононациональных государств.
 - б) Столица Канады — крупнейший город страны.

13. Хозяйство Китая

- 1. Какое из утверждений верно?
 - 1) В электроэнергетике Китая преобладают тепловые электростанции.
 - 2) В международном географическом разделении труда Китай выступает в качестве аграрной страны, поставляющей на мировой рынок многие виды сельскохозяйственной продукции (чай, рис и т.д.).
 - а) Правильно первое утверждение;
 - б) правильно второе утверждение;
 - в) верны оба утверждения;
 - г) оба утверждения ошибочны.
- 2. Какие из утверждений являются правильными?
 - а) Крупнейшими портами Китая являются Пекин и Шанхай.
 - б) Китай — крупнейшая страна мира по численности населения и площади.
 - в) Южные провинции Китая расположены в условиях тропического климата.
 - г) Из 22 провинций Китая только 10 выходят на побережье Индийского океана.
- 3. Металлургия Китая опирается на (выберите правильный вариант ответа):
 - а) собственные ресурсы железной руды и каменного угля;
 - б) собственные ресурсы каменного угля;
 - в) собственные ресурсы железной руды;
 - г) привозные ресурсы.
- 4. Какие утверждения верно характеризуют сельское хозяйство Китая?
 - а) Китай — родина чая;
 - б) Китай — мировой лидер по производству чая;
 - в) Китай — мировой лидер по производству и экспорту чая;
 - г) в сельском хозяйстве Китая главную роль играет растениеводство.
- 5. Хуацяо — это (выберите правильный вариант ответа):
 - а) грузчики, работающие в пекинском морском порту;
 - б) китайцы, живущие за пределами КНР;
 - в) иммигранты, прибывающие в Китай с целью заработка;
 - г) крестьяне, выращивающие редкие сорта риса в Тибете.

2. Какие слова верно характеризуют природные ресурсы Индии?
 а) Индия располагает прекрасными агроклиматическими ресурсами;
 б) значительные площади Индии заняты тропическими лесами — джунглями;
 в) на западе страны расположена пустыня Тар;
 г) главное богатство Индии — нефть.

3. Преобладающей религией в Индии является:
 а) буддизм;
 б) индуизм;
 в) синтоизм;
 г) ислам.

4. Республика Индия существует (выберите правильный вариант ответа):
 а) более 2 тыс. лет;
 б) более 500 лет;
 в) более 100 лет;
 г) более 60 лет.

5. Современной столицей Индии является:
 а) Калькутта;
 б) Мумбай;
 в) Ченнаи;
 г) Дели.

6. Определите правильный вариант списка соседних с Индией стран.
 а) Пакистан, Афганистан, Китай, Непал, Бутан, Бангладеш, Мьянма;
 б) Пакистан, Китай, Непал, Бутан, Мьянма;
 в) Пакистан, Китай, Непал, Бутан, Бангладеш, Таиланд;
 г) Пакистан, Китай, Непал, Бутан, Бангладеш, Мьянма.

7. Отметьте правильные высказывания словом «Да», неправильные — словом «Нет».

Прежде Индию называли «жемчужиной в короне Британской империи»	
Инд — крупнейшая река Индии	

7. Расположите названные города США в порядке убывания числа жителей: Вашингтон, Нью-Йорк, Чикаго, Твин Пикс, Лос-Анджелес.

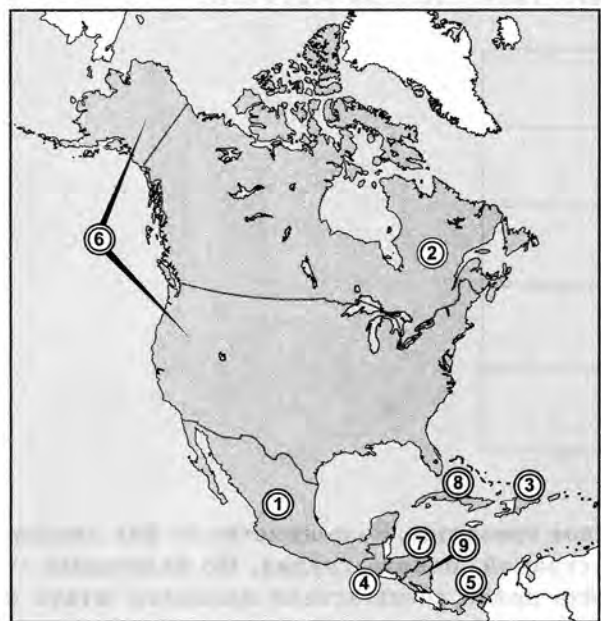
1	
2	
3	
4	
5	

8. Каждый из штатов имеет свое прозвище. Большинство из них людям, не слишком знакомым со страной, понять трудно. Но некоторые — вполне понятны. Попробуйте найти соответствие названия штата и его прозвища.

Калифорния	
Аляска	
Гавайи	
Флорида	
Мичиган	

1. Далекая земля;
2. Солнечный штат;
3. Золотой штат;
4. Штат Великих озер;
5. Штат приветствий.

9. Запишите страны, выделенные на карте цифрами.

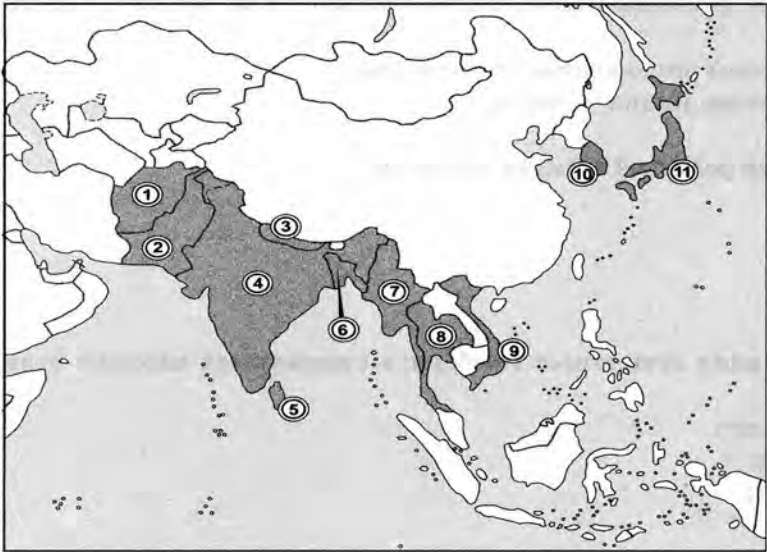


- 1 — _____
- 2 — _____
- 3 — _____
- 4 — _____
- 5 — _____
- 6 — _____
- 7 — _____
- 8 — _____
- 9 — _____

17. США. Хозяйство, внутренние различия

1. Какой из районов США, специализацию которого определяли экологически вредные отрасли тяжелой промышленности, называли «ржавым поясом»:
 - а) горный Запад;
 - б) индустриальное Приозерье;
 - в) Техас;
 - г) Новая Англия;
 - д) Северо-Запад.
2. Назовите крупнейшие центры самолетостроения США.
 - а) Сиэтл;
 - б) Сан-Диего;
 - в) Майами;
 - г) Вашингтон.

8. Из числа обозначенных стран запишите пять, которые относятся к региону Южной Азии.



- | | |
|-----------|-----------|
| 1 — _____ | 4 — _____ |
| 2 — _____ | 5 — _____ |
| 3 — _____ | |

14. Индия. Географическое положение, ресурсы и население

1. Какое из утверждений верно?
 - 1) Столица Индии является крупнейшим городом страны.
 - 2) Лесные ресурсы Индии сильно истощены.
 - а) Правильно первое утверждение;
 - б) правильно второе утверждение;
 - в) верны оба утверждения;
 - г) оба утверждения ошибочны.

- в) нематериальная сфера, сельское хозяйство, промышленность;
г) промышленность, нематериальная сфера, сельское хозяйство.

3. Какие утверждения верно характеризуют хозяйство Индии?

- а) Индия полностью обеспечивает себя продовольствием;
б) крупнейшие кинофабрики Индии находятся в районе города Мумбай;
в) по густоте железнодорожной сети Индия не уступает некоторым европейским странам;
г) в Индии работает несколько атомных электростанций.

4. Укажите ошибку в перечне экспортных индийских товаров:

- а) хлопчатобумажные ткани;
б) одежда;
в) чай;
г) морские суда.

5. Какие сельскохозяйственные культуры Индии имеют важное экспортное значение?

- а) Кофе;
б) джут;
в) хлопок;
г) сахарный тростник.

6. Отметьте правильные высказывания словом «Да», неправильные — словом «Нет».

Индия является аграрно-индустриальной страной, главную роль в ее экономике играет сельское хозяйство	
Одной из важнейших отраслей промышленности Индии является черная металлургия	
Индийское машиностроение пока не обеспечивает всех потребностей страны	
Преобладание животноводства в сельском хозяйстве Индии проявляется в огромном поголовье крупного рогатого скота	

Окончание таблицы

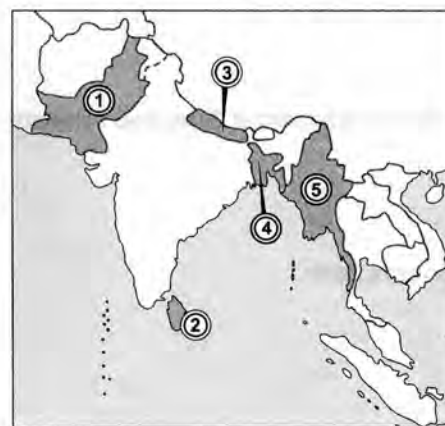
Главным промышленным центром является Калькутта — крупнейший город страны	
---	--

7. Какие из указанных товаров имеют экспортное значение, а какие импортируются?

Импорт	<input type="checkbox"/>	<input type="checkbox"/>	<input type="checkbox"/>	<input type="checkbox"/>
Экспорт	<input type="checkbox"/>	<input type="checkbox"/>	<input type="checkbox"/>	<input type="checkbox"/>

- 1) Джут;
- 2) автомобили;
- 3) морские суда;
- 4) чай;
- 5) хлопчатобумажные ткани;
- 6) драгоценные камни;
- 7) нефтепродукты;
- 8) минеральные удобрения.

8. Запишите страны, выделенные на карте цифрами.



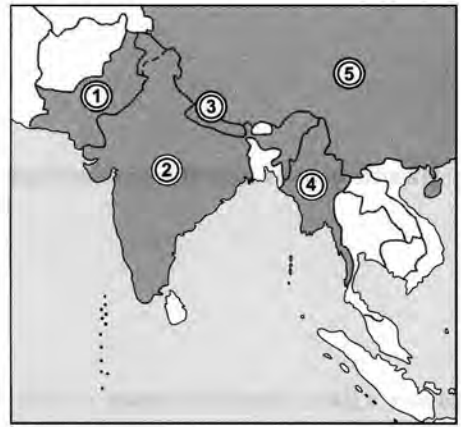
- 1 — _____
- 2 — _____
- 3 — _____
- 4 — _____
- 5 — _____

16. США.
Географическое положение,
ресурсы и население

- 1. Территория США состоит из 50 штатов. Последняя территория, получившая статус штата, — это:
а) Аляска;
б) Гавайские острова;
в) Калифорния;
г) Багамские острова.
- 2. США имеют морские границы с:
а) Канадой, Мексикой, Россией;
б) Багамскими островами, Кубой, Россией;
в) Канадой, Кубой, Мексикой;
г) Кубой, Мексикой, Россией.
- 3. Доля жителей-аборигенов (индейцев и эскимосов) в численности населения США составляет около:
а) 1% ;
б) 10% ;
в) 30% ;
г) 56% .
- 4. Столица США расположена на территории:
а) штата Вашингтон;
б) штата Нью-Йорк;
в) штата Нью-Джерси;
г) Федерального округа Колумбия.
- 5. Динамика численности населения США обеспечивалась в большой степени
а) эмиграцией;
б) иммиграцией;
в) внутренними миграциями.
- 6. Естественный прирост населения США составляет:
а) 1% ;
б) 0,2% ;
в) 7% ;
г) 0,7% ;
д) < 1% .

С Индией граничат шесть стран	
Крупнейшая религия Индии — буддизм	
Калькутта входит в число крупнейших городов мира	

8. Запишите столицы стран, выделенных на карте цифрами.



- 1 — _____
- 2 — _____
- 3 — _____
- 4 — _____
- 5 — _____

15. Индия.
Хозяйство и внутренние различия

- 1. Калькутта является центром района, получившего название:
а) «Индийский Рур»;
б) «Индийский Урал»;
в) «Индийский Манчестер»;
г) Болливуд.
- 2. В какой строке сферы хозяйства Индии указаны правильно (в порядке убывания их доли в ВВП)?
а) Промышленность, сельское хозяйство, нематериальная сфера;
б) сельское хозяйство, промышленность, нематериальная сфера;