


КОНТУРНЫЕ КАРТЫ

Содержат задания на формирование
метапредметных умений
и личностных качеств

ИСТОРИЯ РОССИИ С ДРЕВНЕЙШИХ ВРЕМЕН ДО XVI ВЕКА



Класс _____

Фамилия _____

Имя _____

6
КЛАСС

Дорогие друзья!

Контурные карты по истории России с древнейших времён до конца XVI в. помогут вам при изучении истории нашего государства. При выполнении заданий пользуйтесь учебником и атласом по истории для 6 класса. При этом не нужно копировать содержание карт атласа или учебника, выполняйте только конкретные задания, указанные на полях контурных карт или предложенные учителем дополнительно.

Контурные карты содержат задания на формирование метапредметных (М) умений и личностных (Л) качеств учащихся, предусмотренных ФГОС.

Перед началом работы определите условные знаки, которые вы будете использовать для выполнения заданий, укажите их значение в легенде карты. Помните, что задание должно быть выполнено не только правильно, но и аккуратно.

На контурных картах даны названия рек, озёр и морей, а также некоторые географические объекты, что поможет вам сориентироваться при выполнении заданий.

Желаем вам успехов в изучении истории нашей Родины.

ООО «Издательство ДИК»



КОНТУРНЫЕ КАРТЫ

ИСТОРИЯ РОССИИ. С ДРЕВНЕЙШИХ ВРЕМЕН ДО XVI ВЕКА

6 класс

Входит в учебно-методический комплекс по истории,
рекомендованный Министерством образования и науки
Российской Федерации



МОСКВА

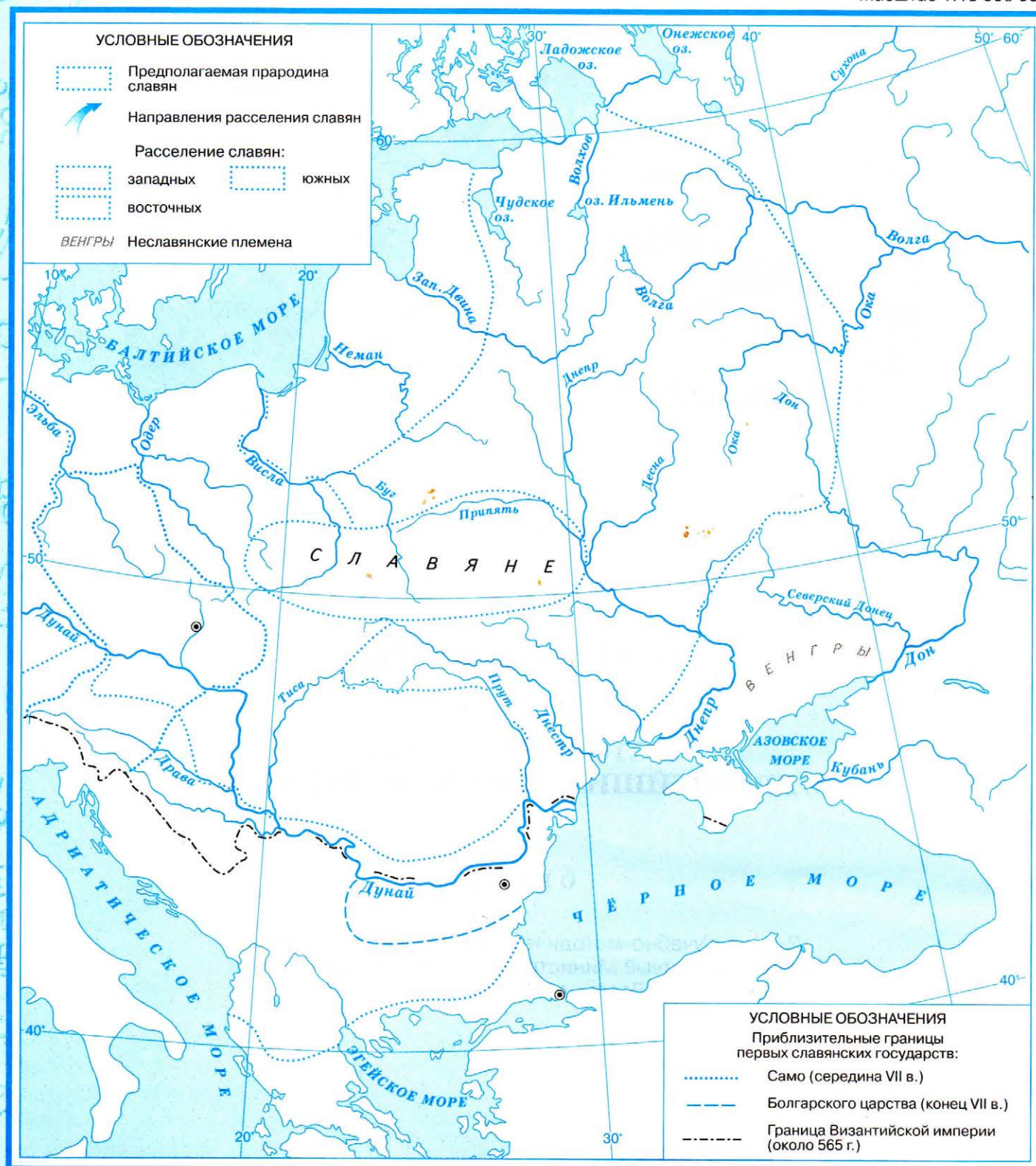


«Издательство ДИК»



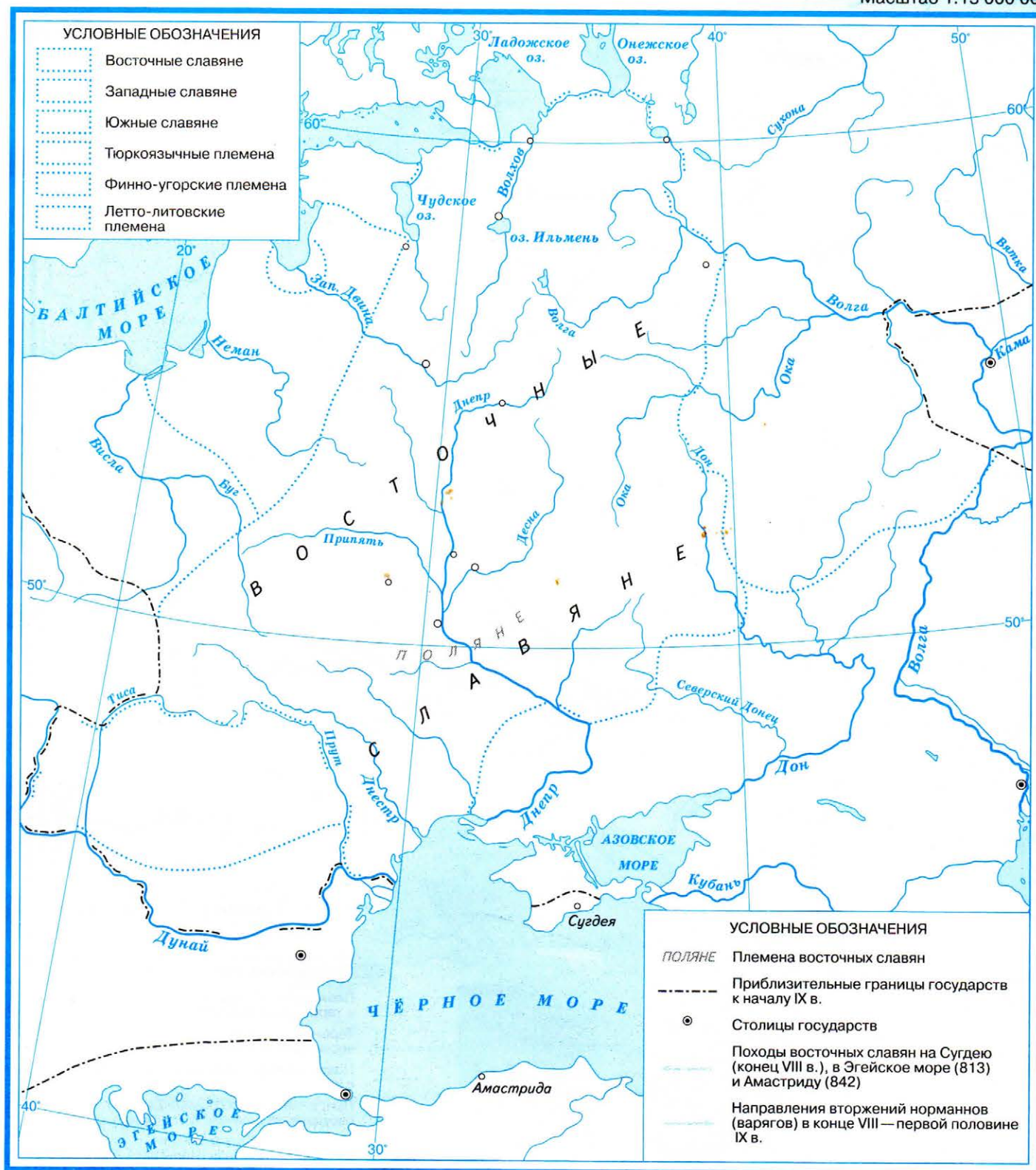
ДРОФА

2013



Задания

1. Выделите на карте территорию предполагаемой прародины славян и укажите стрелками направления их расселения.
2. Используя материалы учебника, выясните, как расселялись восточные, западные и южные славяне на территории Европы. Закрасьте разными цветами и подпишите территории их расселения.
3. Определите, какие неславянские племена и народы жили на территории расселения славян. Подпишите названия неславянских племён и народов на территориях их расселения.
4. Используя физическую карту, определите, в какой природно-климатической зоне образовались первые славянские государства. Обозначьте их границы и подпишите названия столиц.
5. Обозначьте границу Византийской империи и подпишите название её столицы. Как вы думаете, какие отношения сложились между славянскими государствами и Византийской империей?



Задания

1. Обозначьте разными цветами территории расселения восточных, западных, южных славян и соседних с ними тюркоязычных, финно-угорских и летто-литовских племён.
2. Изучите данные «Повести временных лет» о племенах восточных славян и территории их расселения. Сравните описания природных условий проживания славян в летописи с данными физической карты. Подпишите на карте названия племён восточных славян в местах их расселения и укажите названия племенных центров.
3. Определите направления походов восточных славян и обозначьте их на карте стрелками разного цвета.
4. Представьте, что вы участвуете в походе норманнской (варяжской) дружины на земли восточных славян. Что привлекало норманнов (варягов) на территориях восточных славян? На карте отметьте направления их вторжений.

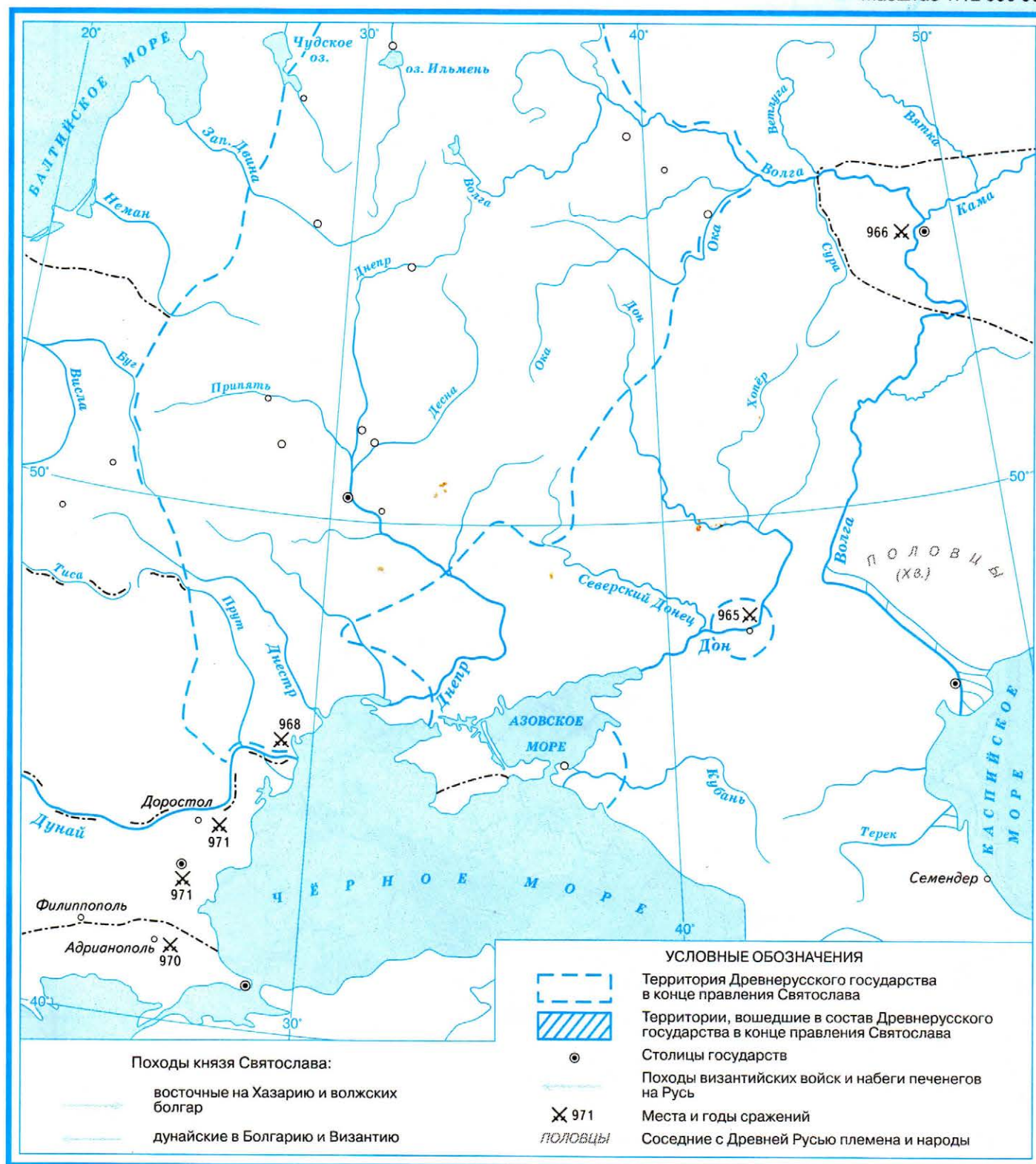


Задания

1. Отметьте территории древних культурных и политических центров восточных славян.
2. Определите, какие славянские племена вошли в состав Древнерусского государства в начале X в., и покажите на карте границу Древнерусского государства в этот период.
3. Нанесите общую границу племенных объединений восточных славян в VII—IX вв. и сравните её с границей Древнерусского государства в начале X в. Совпали ли они?
4. Обозначьте стрелками направления походов князя Олега на Киев, на Константинополь.
5. Как вы оцениваете вклад князя Олега в формирование и развитие Древнерусского государства?

ПОХОДЫ КНЯЗЯ СВЯТОСЛАВА. 964—972 гг.

Масштаб 1:12 000 000

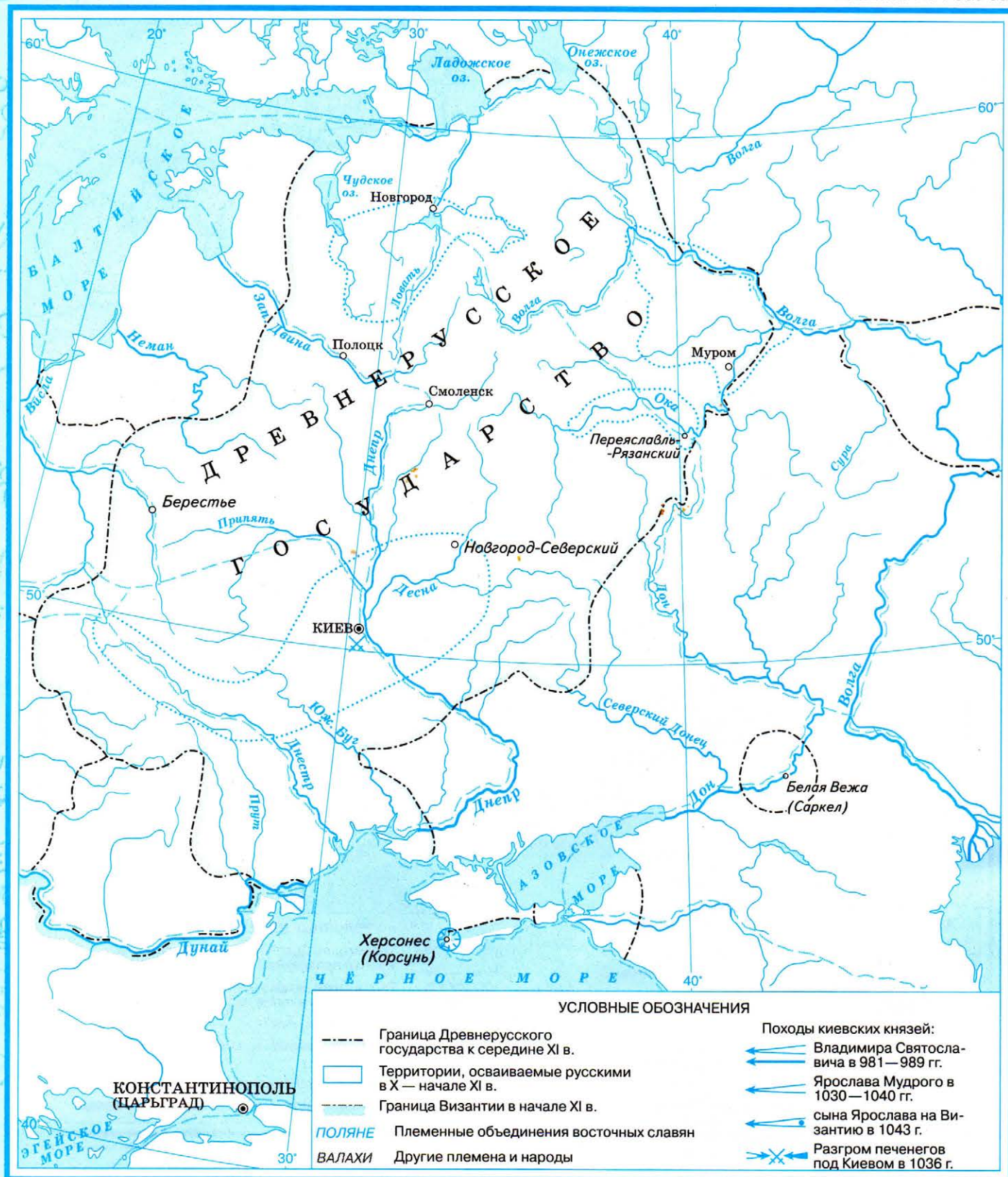


Задания

1. Обозначьте стрелками разного цвета направления восточных и дунайских походов князя Святослава. Покажите разными цветами территорию Древнерусского государства к концу правления Святослава и территории соседних с Древней Русью государств. Подпишите их названия и населяющие их племена и народы.
2. Определите, какие территории вошли в состав Древнерусского государства в результате походов князя Святослава. Отметьте их штриховкой на карте.
3. Обозначьте стрелками направления набегов печенегов на Русь и походов византийских войск.
4. Сравните территорию Древнерусского государства в начале X в. и его территорию к концу правления Святослава. Как изменились границы Древнерусского государства с начала X в.?

ПОХОДЫ КИЕВСКИХ КНЯЗЕЙ в конце X — первой половине XI в.

Масштаб 1:11 000 000



Задания

- Используя дополнительную информацию, определите направления походов киевских князей в конце X — первой половине XI в. и отметьте их на карте стрелками.
- Прочитайте отрывок из «Повести временных лет». «В год 6545. Заложил Ярослав город великий, у того же града Золотые ворота; заложил и церковь Святой Софии, митрополию, и затем церковь на Золотых воротах... И стала при нём вера христианская плодиться и расширяться, и черноризцы стали умножаться, и монастыри появляться...»
О каком городе, идёт речь? В каком городе ещё был построен собор Святой Софии князем Ярославом Мудрым? Подчеркните названия этих городов.

ХОЗЯЙСТВО И ТОРГОВЛЯ ДРЕВНЕЙ РУСИ

Масштаб 1:11 000 000

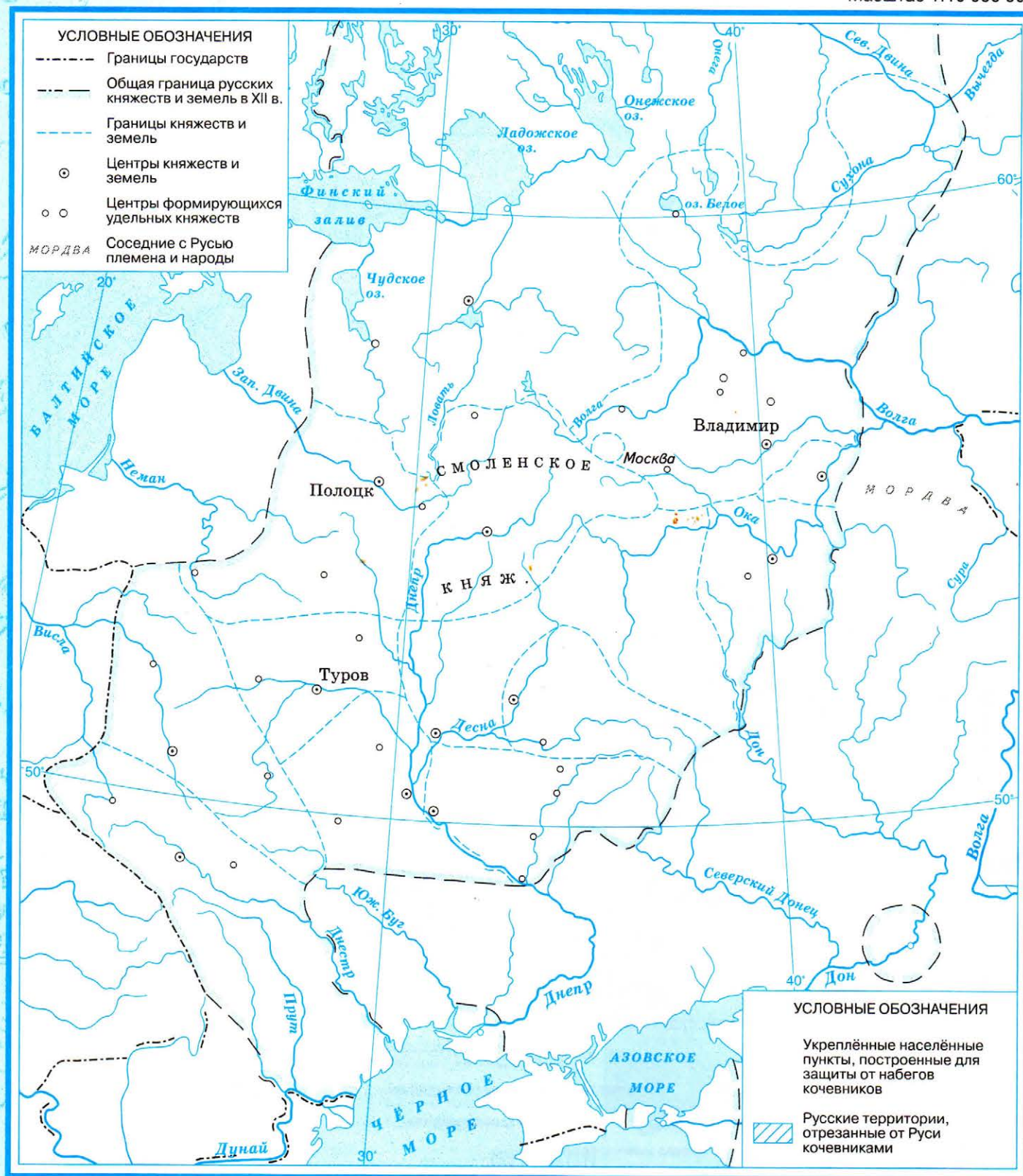


Задания

1. Выделите границы Древнерусского государства и соседних с ним государств к середине XI в., подпишите их столицы.
2. Придумайте специальные символы для обозначения промыслов и ремёсел на карте. Обозначьте их на карте и в легенде. Объясните в классе свой выбор. Отметьте на карте крупные торгово-ремесленные центры.
3. Обозначьте важнейшие торговые пути в конце IX—XII вв. и подпишите названия ввозимых и вывозимых товаров.

РАЗДРОБЛЕННОСТЬ РУСИ. РУССКИЕ КНЯЖЕСТВА И ЗЕМЛИ во второй половине XII в.

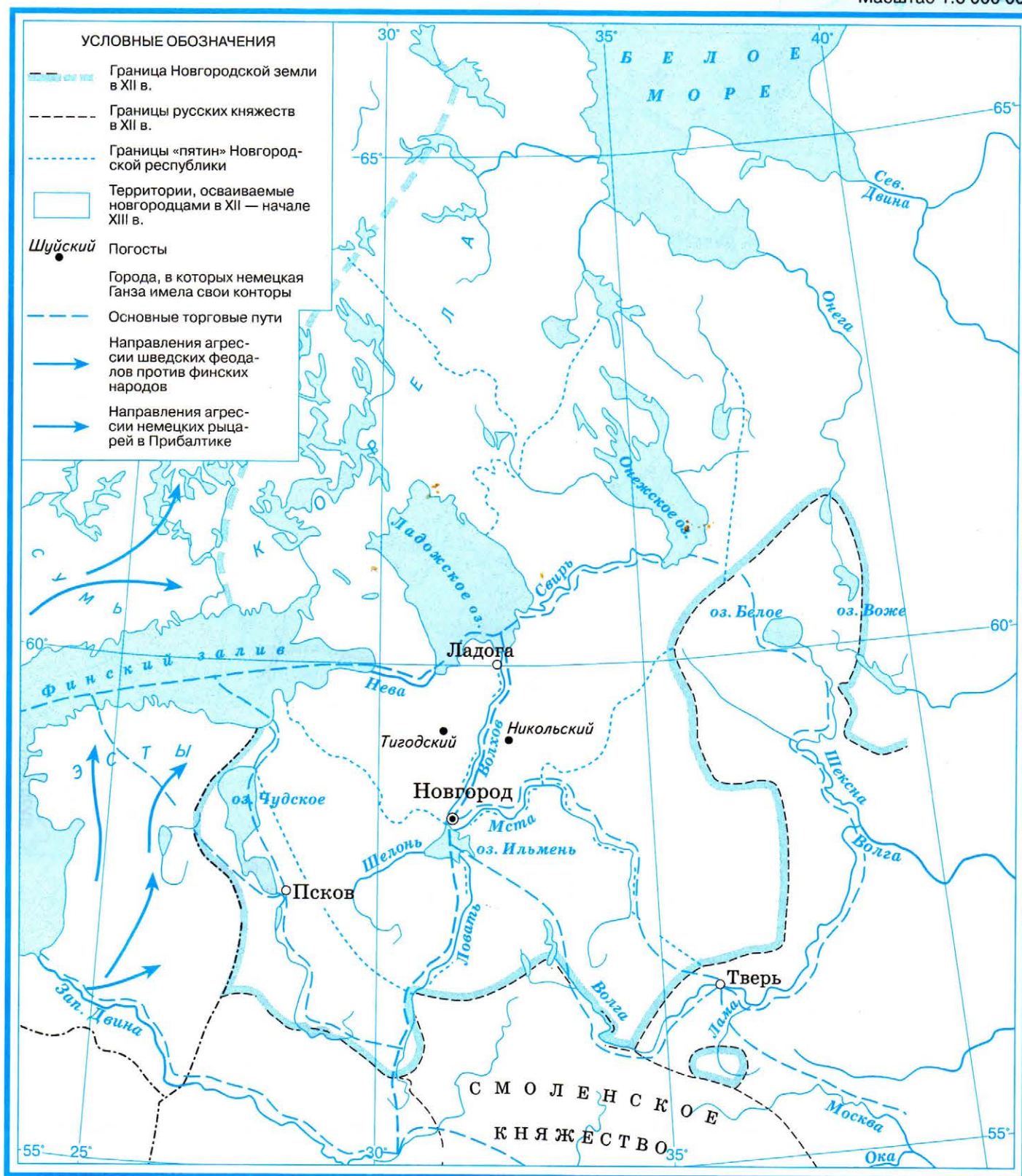
Масштаб 1:10 000 000



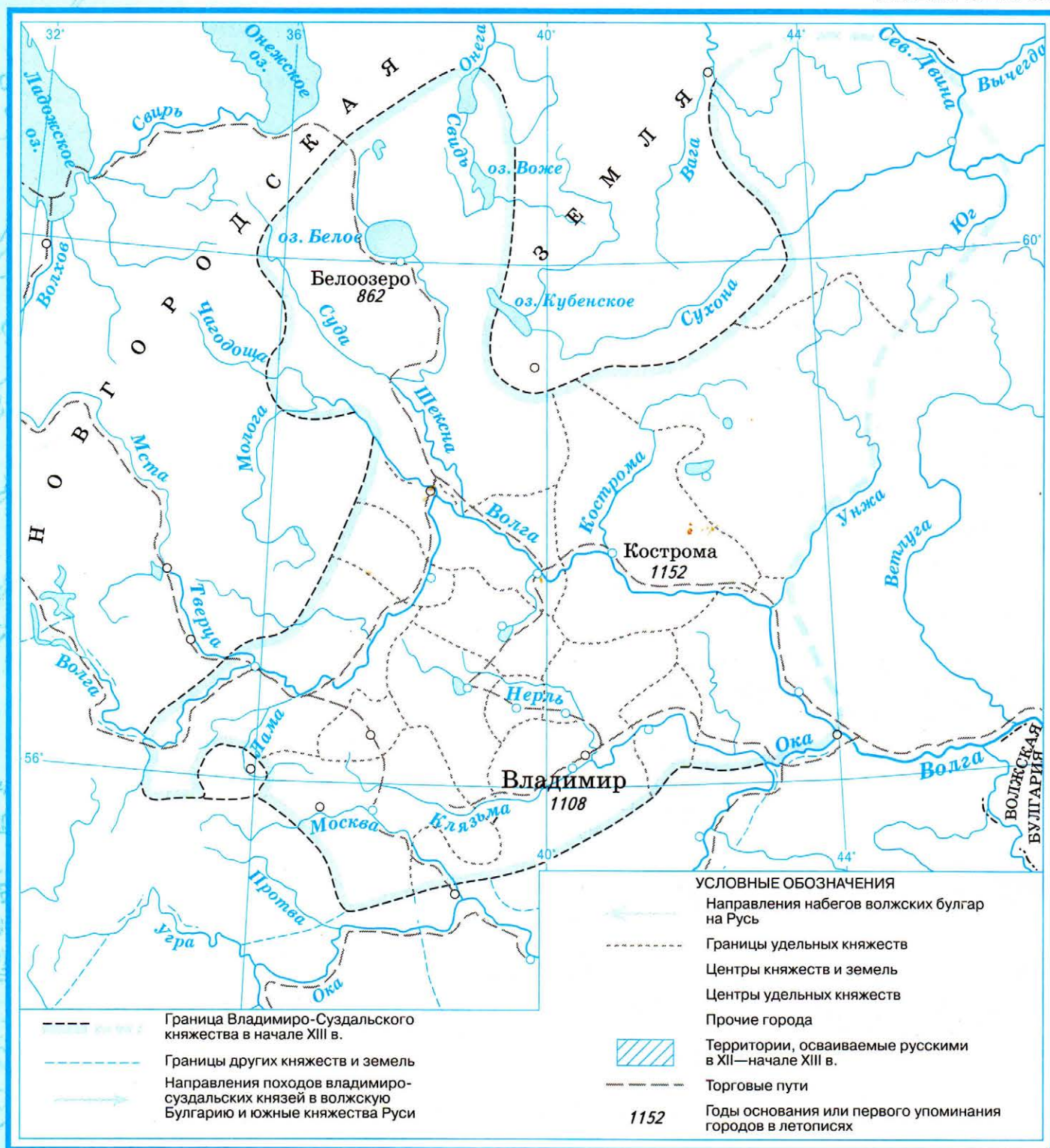
Задания

- Выделите одним цветом общую границу русских княжеств и земель в XII в.
- Подпишите названия соседних с Русью государств и народов (половцы, мордва, мари, литва и др.).
- Обозначьте разными цветами и подпишите княжества и земли, на которые распалась Русь во второй половине XII в., подпишите их названия.
- Используя дополнительную информацию, определите центры формирующихся удельных княжеств, нанесите их на карту.
- Определите, где располагались укрепленные населённые пункты, построенные для защиты от набегов кочевников. Придумайте собственный условный знак и обозначьте их на карте и в легенде. Подпишите названия.
- Предложите одноклассникам обсудить вопрос о том, можно ли было избежать раздробленности Руси. Используйте в своих ответах получившуюся у вас карту.

Масштаб 1:6 000 000



1. Организуйте в классе ролевую игру «Путешествие в древний Новгород». Для этого придумайте задания на основе имеющейся у вас карты атласа и контурной карты.
2. В процессе игры нанесите на карту границу Новгородской земли в XII в., границы «пятин» Новгородской республики, и основные торговые пути. Придумайте знак и покажите на карте и в легенде города, в которых немецкая Ганза имела свои конторы.
3. Обозначьте штриховкой территории, осваиваемые новгородцами в XII — начале XIII в.
4. Как при составлении заданий вам помогла легенда карты, представленной в атласе, и заполненная вами карта?

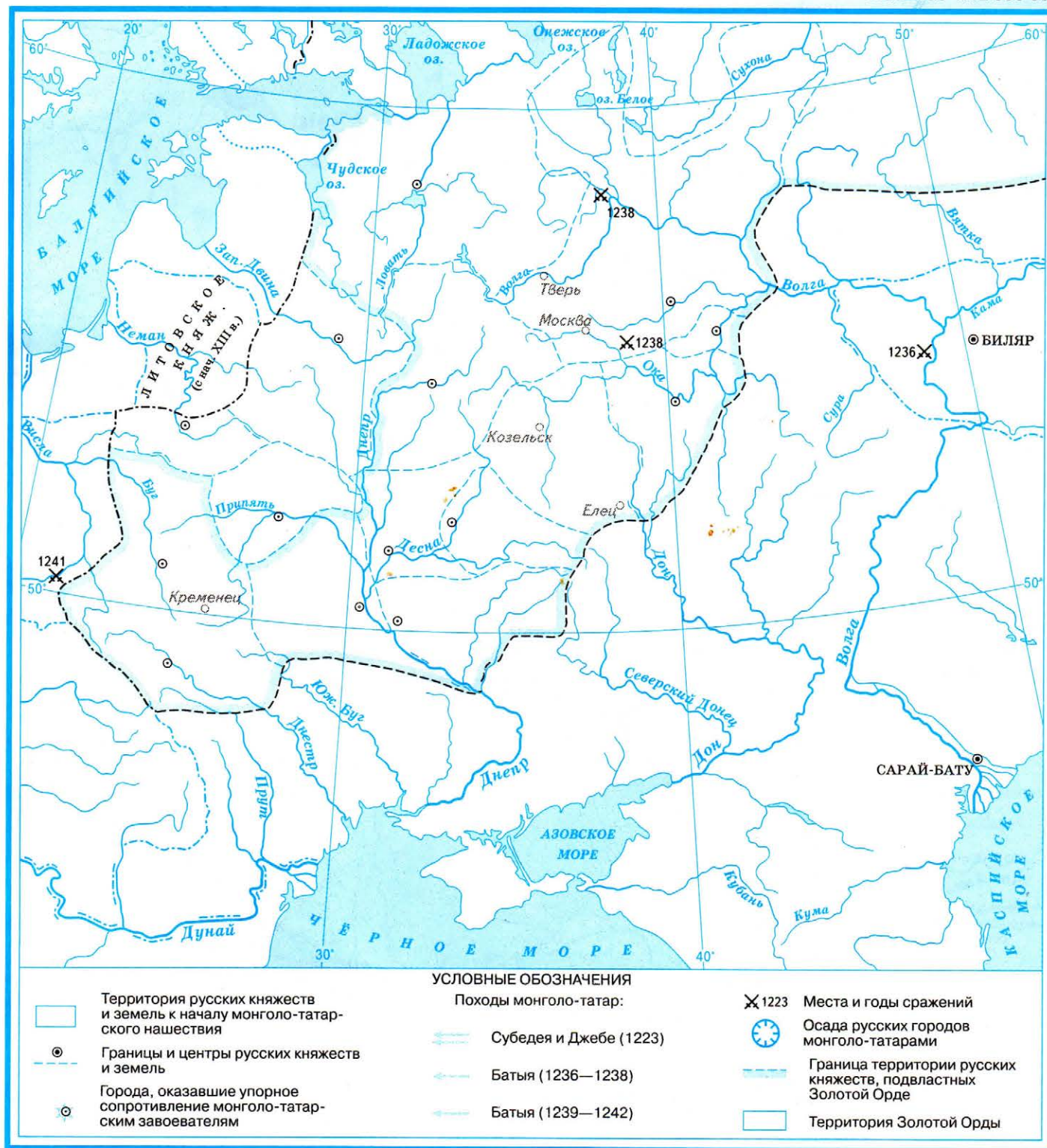


Задания

1. Обозначьте границу Владимиро-Суздальского княжества в начале XIII в.
2. Придумайте собственные условные знаки и обозначьте на карте и в легенде: а) центры княжеств и земель; б) центры удельных княжеств. Объясните, почему вы выбрали именно такие символы.
3. Выясните по материалам учебника, как складывались отношения между владимиро-суздальскими князьями и волжской Булгарией в XII — начале XIII в. На карте отметьте различными цветами направления походов владимиро-суздальских князей в волжскую Булгарию и направления набегов волжских булгар на Русь. Выделите штриховкой территорию, осваиваемую русскими в XII — начале XIII в.
4. Отметьте на карте годы основания или первого упоминания в летописи крупнейших городов владимиро-суздальского княжества.

МОНГОЛО-ТАТАРСКОЕ НАШЕСТВИЕ НА РУСЬ. 1223—1242 гг.

Масштаб 1:12 000 000

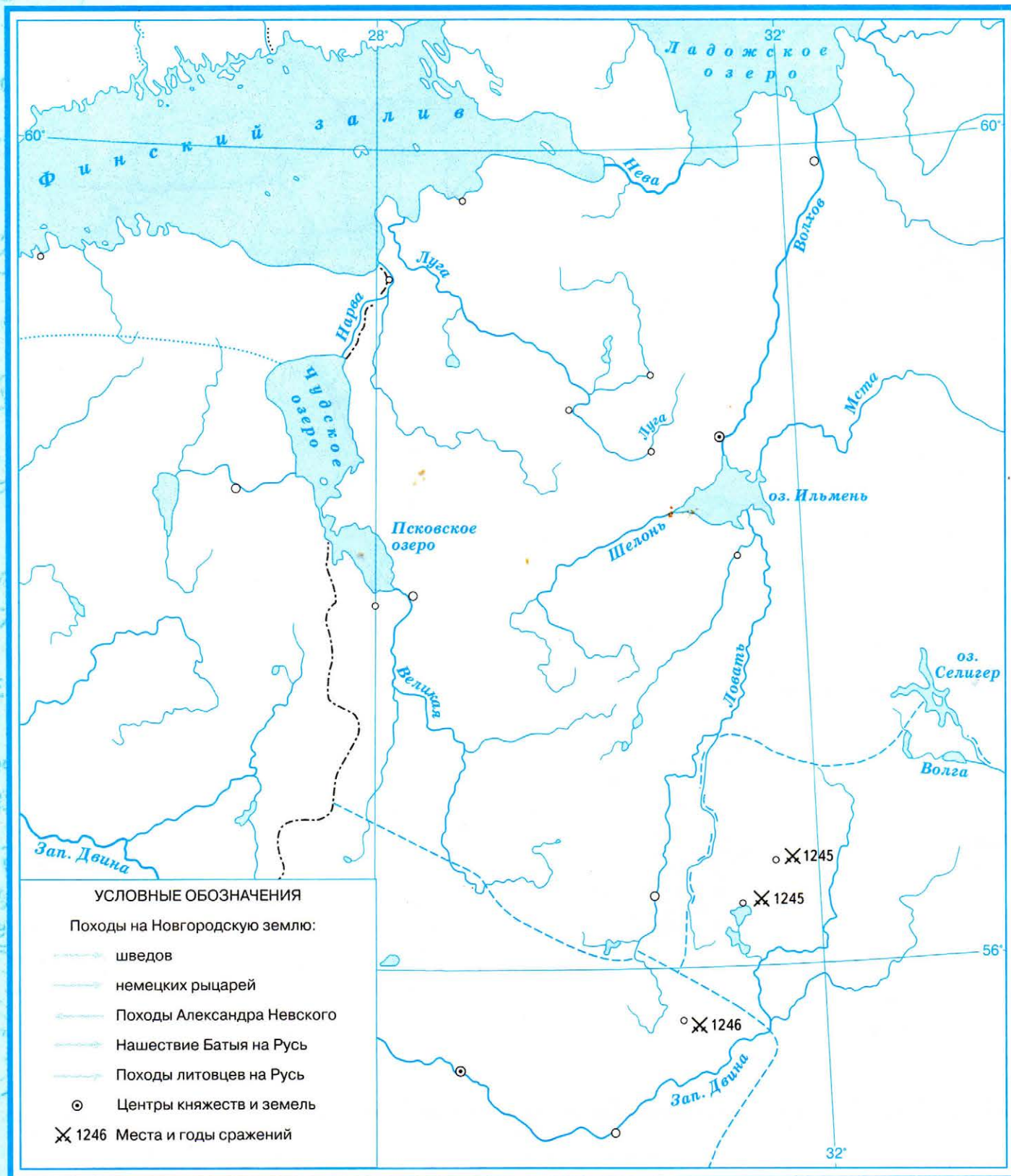


Задания

1. Обозначьте общую территорию русских княжеств и земель к началу монголо-татарского нашествия. Выделите границы и подпишите названия княжеств и земель, а также граничащих с ними государств.
2. Покажите стрелками направления походов Субедея и Джебе на Русь в 1223 г. Отметьте место сражения русско-половецких и татаро-монгольских войск.
3. Используя материалы учебника и атласа, выясните, как продвигалось войско Батые по территории Руси в 1236—1238 гг. и в 1239—1240 гг. Отметьте походы Батые на карте, выделив города, оказавшие наиболее ожесточённое сопротивление, и города, которые монголо-татарам пришлось осаждать.
4. Обведите границу русских княжеств и земель, подвластных Золотой Орде, и отметьте территорию Золотой Орды.
5. Представьте, что вам довелось стать советником великого князя в начале XIII в. Что бы вы посоветовали ему сделать, чтобы избежать или смягчить удар со стороны монголо-татар? Отметьте на карте возможные действия русских войск.

ПОХОДЫ КНЯЗЯ АЛЕКСАНДРА НЕВСКОГО

Масштаб 1:3 000 000



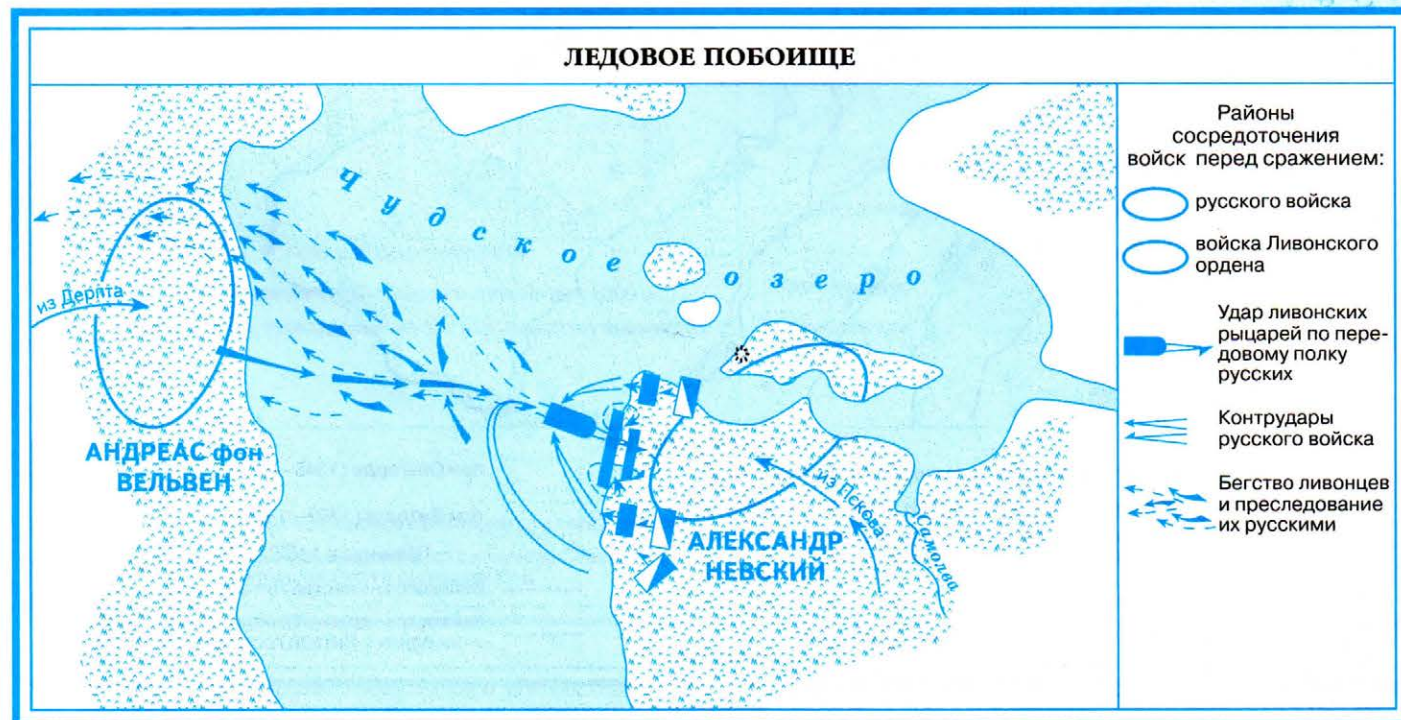
Задания

1. Обозначьте разным цветом территории Руси и соседних с ней государств, подпишите их названия.
2. Подпишите названия русских княжеств и земель, их центров, а также других населённых пунктов, показанных на контурной карте пунсонами (кружками).
3. Используя материал учебника и атласа, определите направления походов немецких рыцарей, шведов и литовцев на Русь. Обозначьте их стрелками разного цвета.
4. Изучите материал учебника о жизни и деятельности Александра Невского и покажите на карте стрелками красного цвета его походы, обозначьте места и подпишите годы Невской битвы и Ледового побоища.



Задания

1. Нанесите на карту разными цветами расположение шведских и русских войск в начале битвы.
2. Используя материалы учебника и атласа, определите, кто командовал шведскими и русскими войсками, и подпишите их имена рядом с расположением войск.
3. Стрелками укажите перемещения войск в ходе битвы.

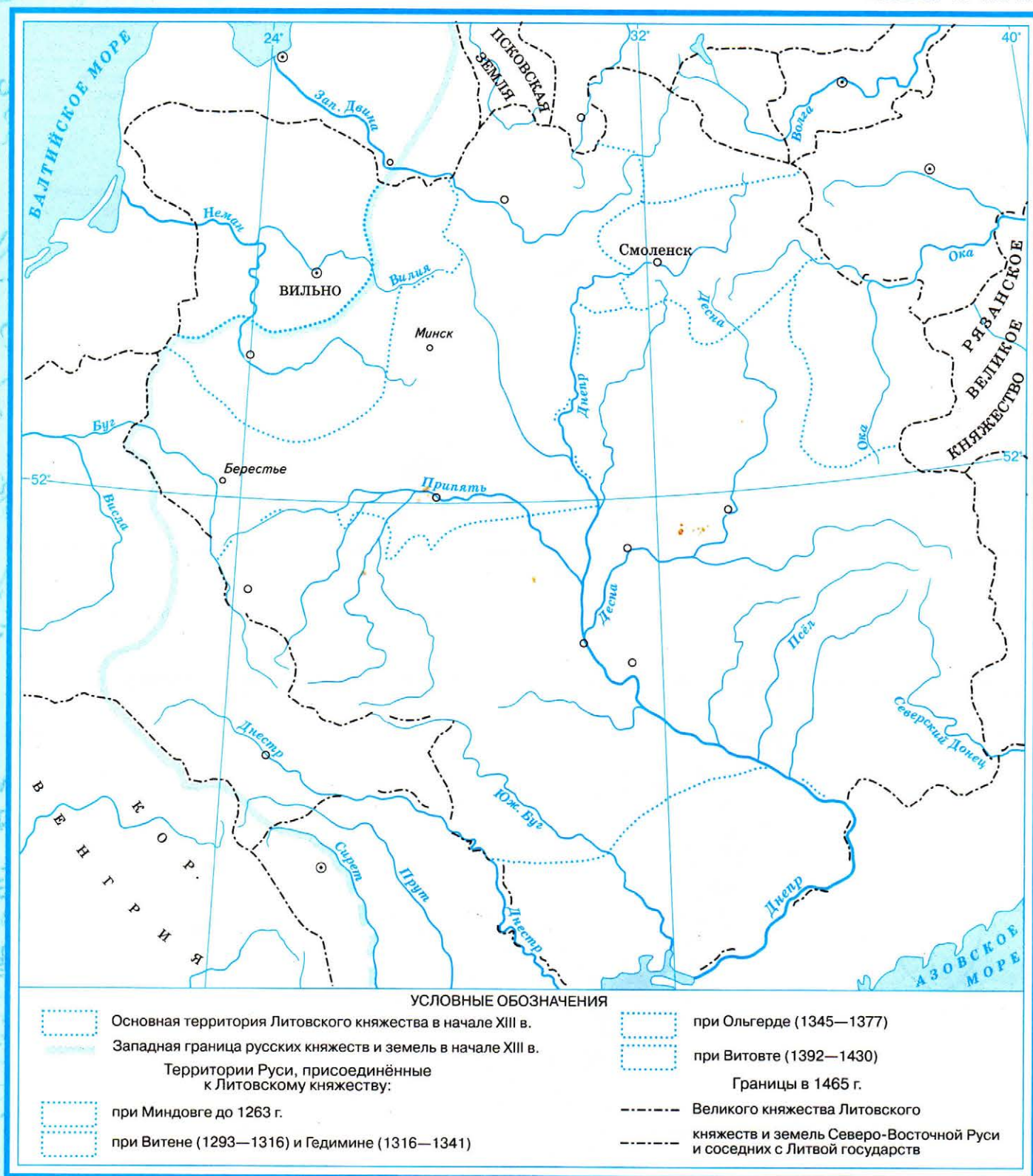


Задания

1. Подпишите на карте-схеме названия озёр и островов.
2. Штриховкой разного цвета нанесите на карту районы сосредоточения русских войск и войск Ливонского ордена перед сражением.
3. Изучите материал учебника о ходе сражения. Отметьте на карте-схеме стрелками разного цвета основные манёвры и действия войск во время сражения. Укажите направления бегства ливонцев и преследования их русскими.
4. Опираясь на получившуюся у вас карту-схему, объясните, можно ли считать Ледовое побоище крупнейшим сражением Средневековья.

ЗАПАДНАЯ И ЮЖНАЯ РУСЬ В СОСТАВЕ ВЕЛИКОГО КНЯЖЕСТВА ЛИТОВСКОГО в XIII—XV вв.

Масштаб 1:7 000 000

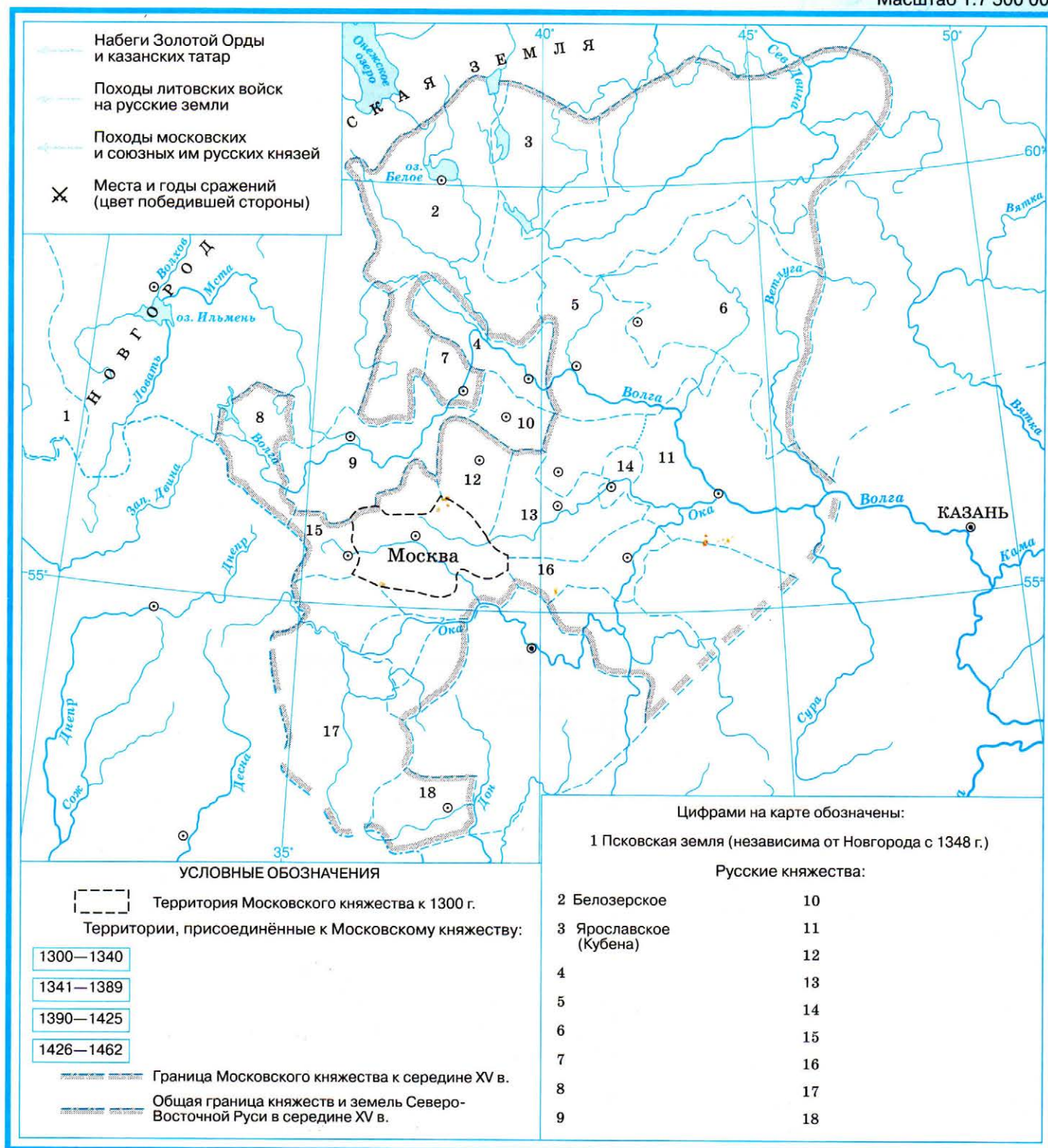


Задания

1. Обозначьте западную границу русских княжеств и земель в начале XIII в. и основную территорию Литовского княжества в начале XIII в.
2. Подпишите названия княжеств и земель Северо-Восточной Руси и их центров.
3. Определите, какие территории были присоединены к Литовскому княжеству в середине XIII — начале XV в., и обозначьте их на карте разными цветами; подпишите названия центров русских княжеств и земель, присоединённых к Литве.
4. Обведите границу Великого княжества Литовского в середине XV в. Подпишите соседние с Литвой государства и их столицы.
5. Внимательно рассмотрите получившуюся карту. Можно ли утверждать, что Литовское княжество могло стать одним из центров объединения русских земель? Объясните почему.

СЕВЕРО-ВОСТОЧНАЯ РУСЬ. РОСТ ТЕРРИТОРИИ МОСКОВСКОГО КНЯЖЕСТВА в XIV — первой половине XV в.

Масштаб 1:7 500 000



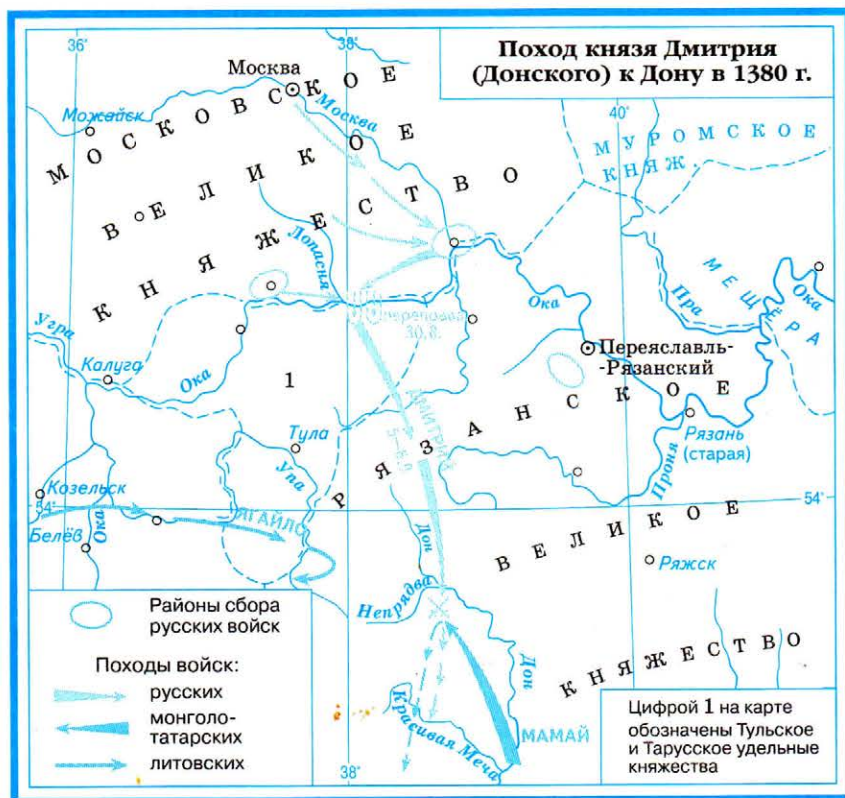
Задания

- Обозначьте территорию Московского княжества к 1300 г. Подпишите названия центров русских княжеств и земель (в том числе присоединённых к Литве).
- Используя дополнительную информацию, отметьте разными цветами на карте территории, присоединённые к Московскому княжеству в XIV—XV вв.: а) в 1300—1340 гг.; б) в 1341—1389 гг.; в) в 1390—1425 гг.; г) в 1426—1462 гг. Укажите в легенде карты московских князей, при которых они вошли в состав Московского княжества.
- По материалам учебника изучите, какие сражения русских с татаро-монголами происходили в XIII—XV вв., и отметьте их на карте. Используйте разные цвета для обозначения победившей стороны.
- Какое сражение вы считаете наиболее важным в истории России? Выделите его на карте.
- Обведите границу Московского княжества к середине XV в. и общую границу княжеств и земель Северо-Восточной Руси. Подпишите названия государств и русских княжеств к их номерам, обозначенным в легенде.

ПОХОД КНЯЗЯ ДМИТРИЯ К ДОНУ И КУЛИКОВСКАЯ БИТВА

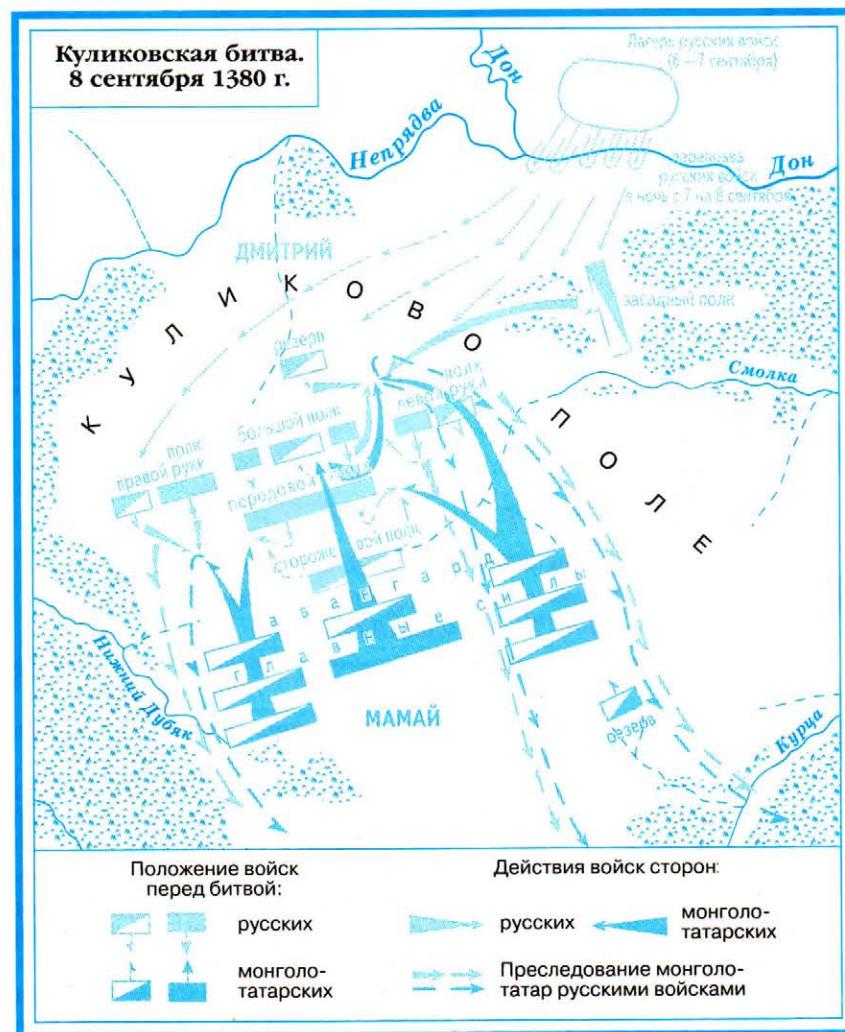
Задания

1. Укажите место и дату Куликовской битвы.
2. Используя карту, определите, почему для сражения было выбрано Куликово поле, расположенное на территории Рязанского княжества. Предложите, где бы на территории Московского княжества могла состояться битва. Отметьте на карте выбранное вами место.
3. Используя материалы учебника и атласа, выясните, как осуществлялась подготовка русских войск к походу против монголо-татар. Отметьте на схеме районы сбора войск князя Дмитрия и рязанского князя Олега. Стрелками покажите направление движения русских войск к Куликову полю.
4. Укажите даты сбора и похода русских войск к месту сражения. Определите, сколько времени занял поход. Свой ответ запишите в тетрадь.
5. Отметьте стрелками разного цвета передвижение войск Мамая и его союзника литовского князя Ягайло.



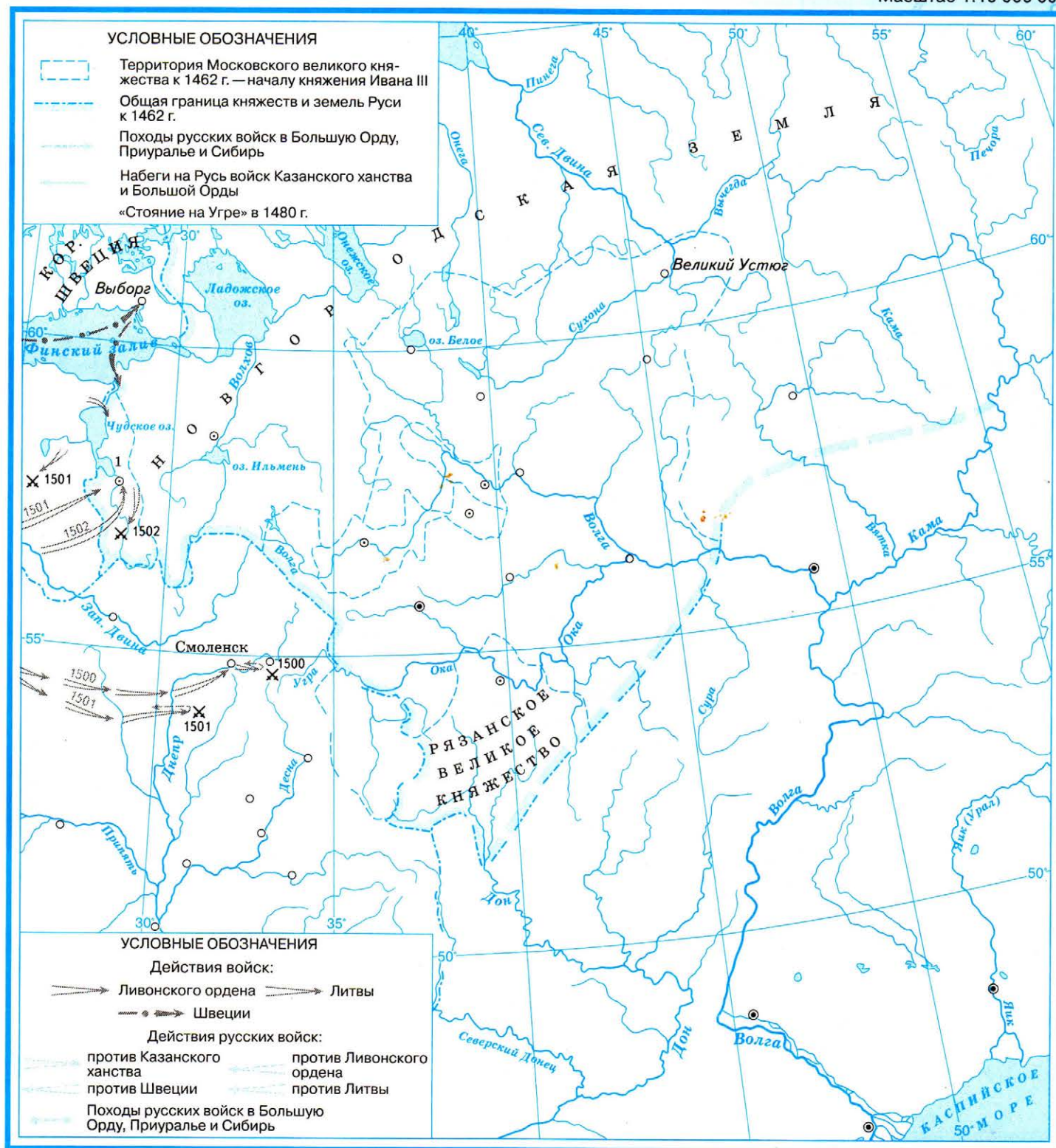
Задания

1. Отметьте на карте красным цветом расположение войск князя Дмитрия. Подпишите названия полков.
2. Укажите на карте синим цветом расположение монголо-татарских войск.
3. Изучите дополнительную информацию о ходе Куликовской битвы и отметьте на карте стрелками действия противников во время сражения.
4. Предположите, как изменился бы ход сражения, если бы войска князя Ягайло объединились с войском Мамая. Нанесите на карту возможные действия монголо-татар против русского войска в этом случае.



РУСЬ В ПЕРИОД ОБРАЗОВАНИЯ ЕДИНОГО РУССКОГО ГОСУДАРСТВА. СВЕРЖЕНИЕ ОРДЫНСКОГО ИГА

Масштаб 1:10 000 000

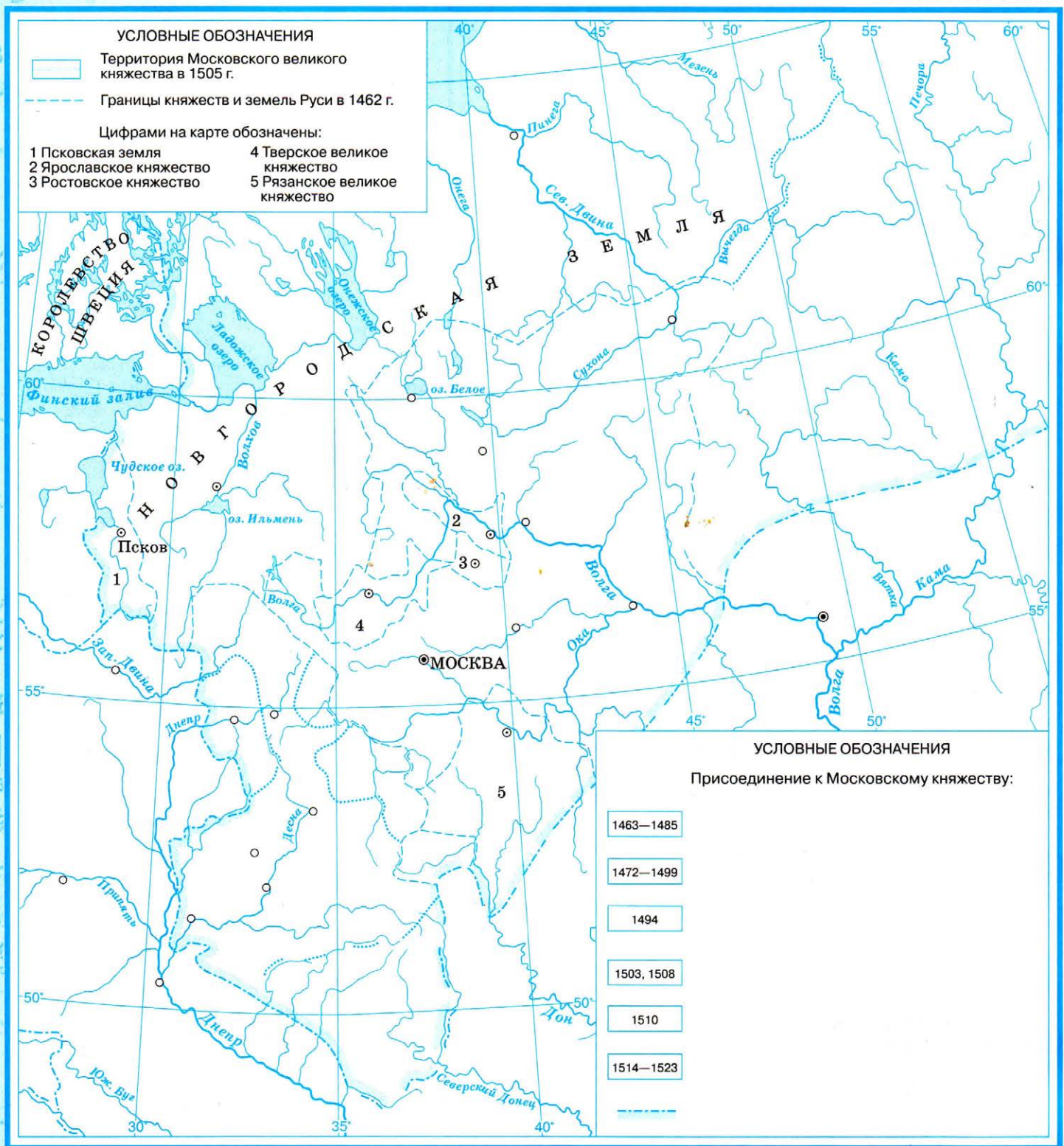


Задания

- Выделите общую границу княжеств и земель Руси к 1462 г. — началу княжения Ивана III. Подпишите названия государств, их столиц и центров русских княжеств. Обозначьте территорию Московского великого княжества к 1462 г.
- Используя материал учебника и карту атласа, определите, какие основные политические задачи стояли перед Иваном III, и выполните задания:
 - закрасьте разными цветами стрелки действий войск Ливонского ордена, Швеции и Литвы;
 - покажите стрелками направления набегов войск Большой Орды и Казанского ханства на Русь;
 - обозначьте стрелками походы русских войск в Большую Орду, Приуралье и Сибирь;
 - обозначьте стрелками разного цвета и подпишите годы действий русских войск.
- Вспомните, какое событие завершило ордынское иго. Обозначьте его условным знаком и подпишите год, когда оно произошло.

ОБЪЕДИНЕНИЕ РУССКИХ ЗЕМЕЛЬ В ЕДИНОЕ РУССКОЕ ГОСУДАРСТВО. 1462—1533 гг.

Масштаб 1:10 000 000

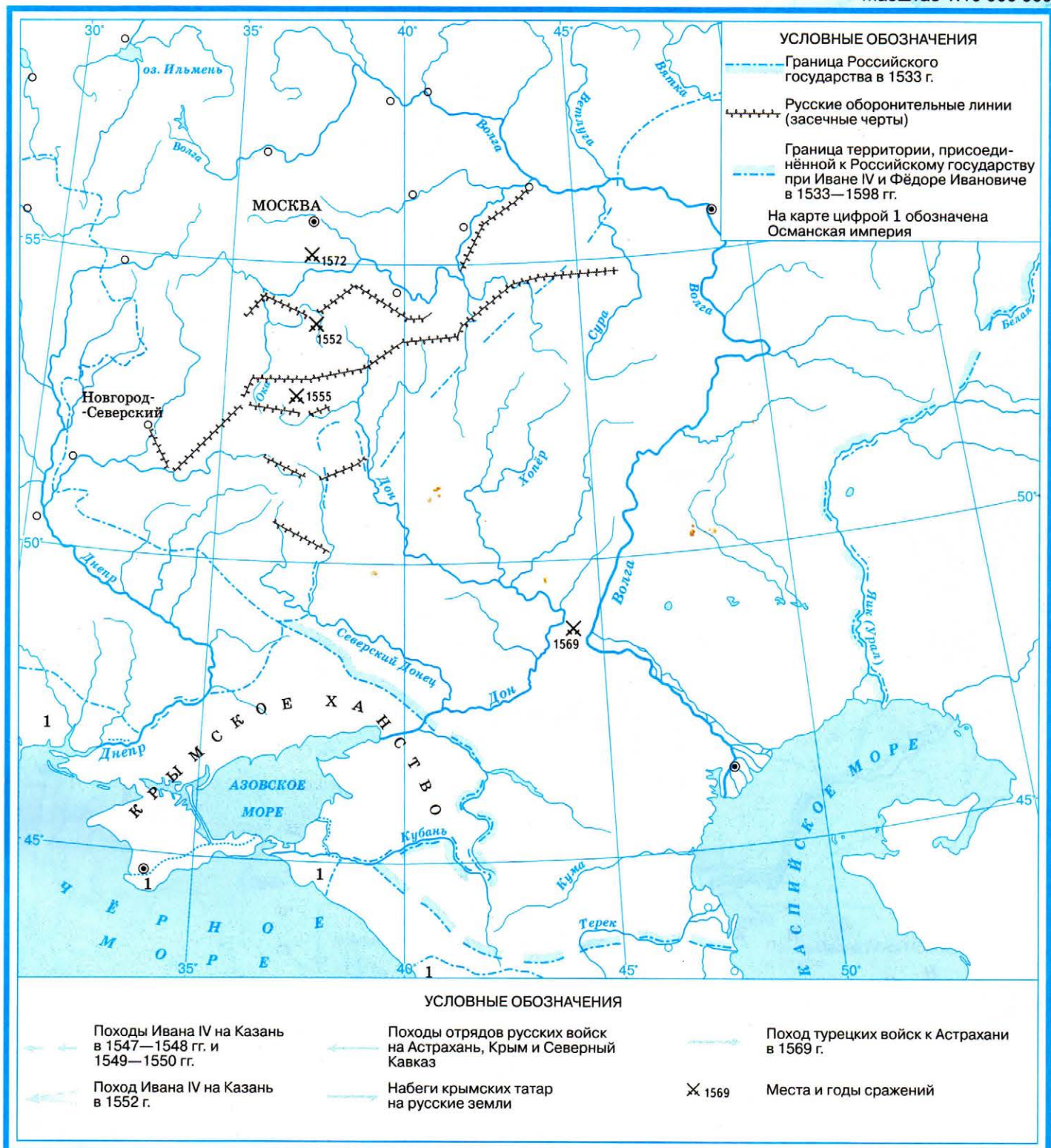


Задания

- Обозначьте территорию Московского великого княжества в 1505 г.
- Используя дополнительную информацию и карту атласа, отметьте на карте территории, вошедшие в состав единого Русского государства в конце XV — начале XVI в.:
 - в 1463—1485 гг.; б) в 1472—1499 гг.; в) в 1494 г.; г) в 1503 г.; д) в 1510 г.; е) в 1514—1523 гг.
 Подпишите в легенде карты названия княжеств и земель, присоединённых к Московскому княжеству в указанные годы.
- Выделите границу единого Русского государства в 1533 г. Подпишите названия крупных российских городов.

ВОСТОЧНАЯ ПОЛИТИКА РОССИЙСКОГО ГОСУДАРСТВА ПРИ ИВАНЕ IV

Масштаб 1:10 000 000

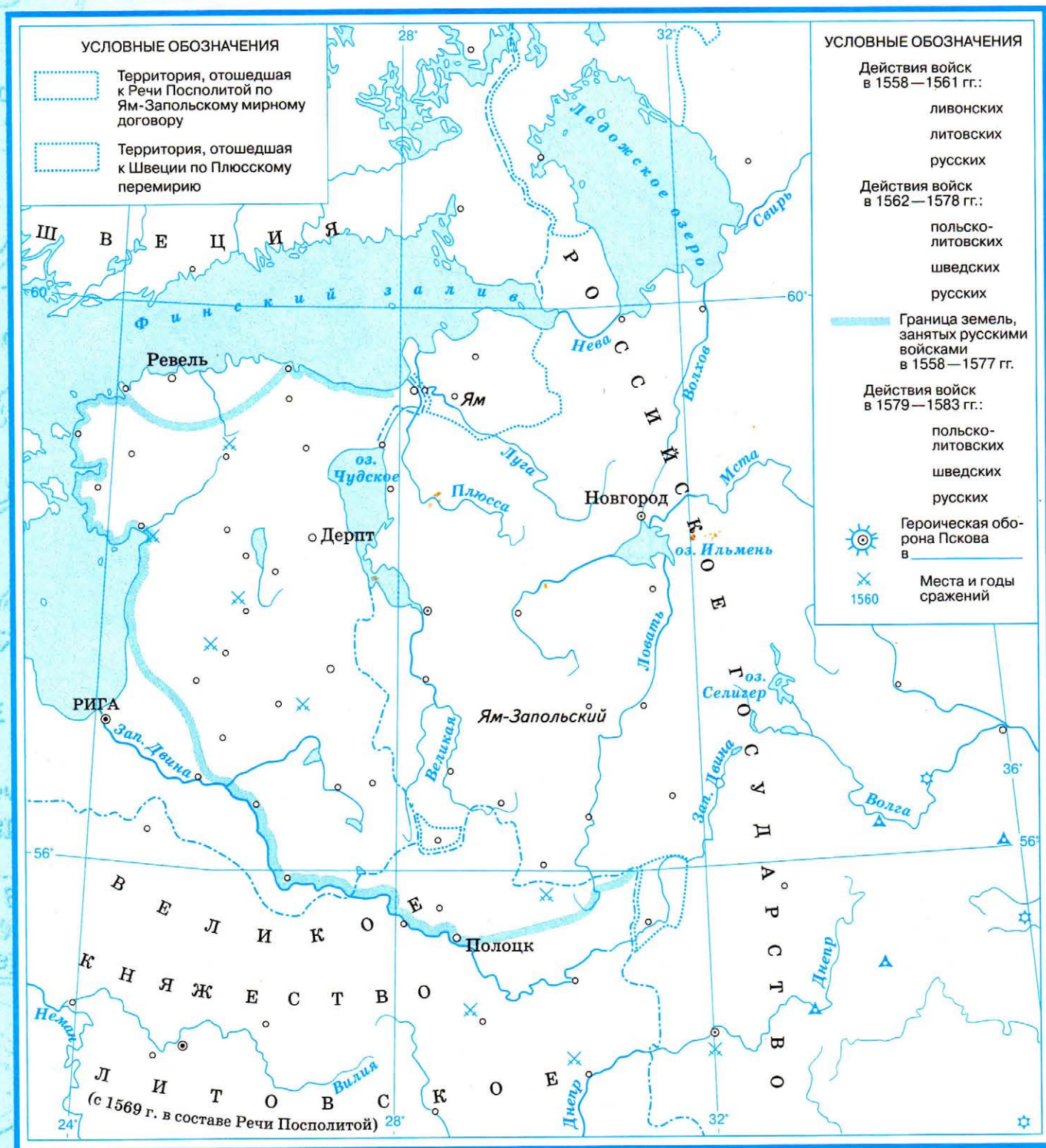


Задания

1. Выделите границу Российского государства в 1533 г. Подпишите названия государств, их столиц и крупнейших городов — центров бывших русских княжеств и земель.
2. Определите основные задачи внешней политики России в XVI в. на востоке и покажите различными по рисунку стрелками направления походов войск Ивана IV на Казань в 1547—1550 гг. и 1552 г., а также на Астрахань, Крым и Северный Кавказ.
3. Покажите стрелками направления набегов крымских татар на русские земли и поход турецких войск к Астрахани в 1569 г.
4. Сравните территорию России в конце XVI в. с территорией государства в 1533 г., показав на карте границу территории, присоединённой к Российскому государству при Иване IV и Фёдоре Ивановиче в 1533—1598 гг. Дайте оценку результатов внешней политики во второй половине XVI в.

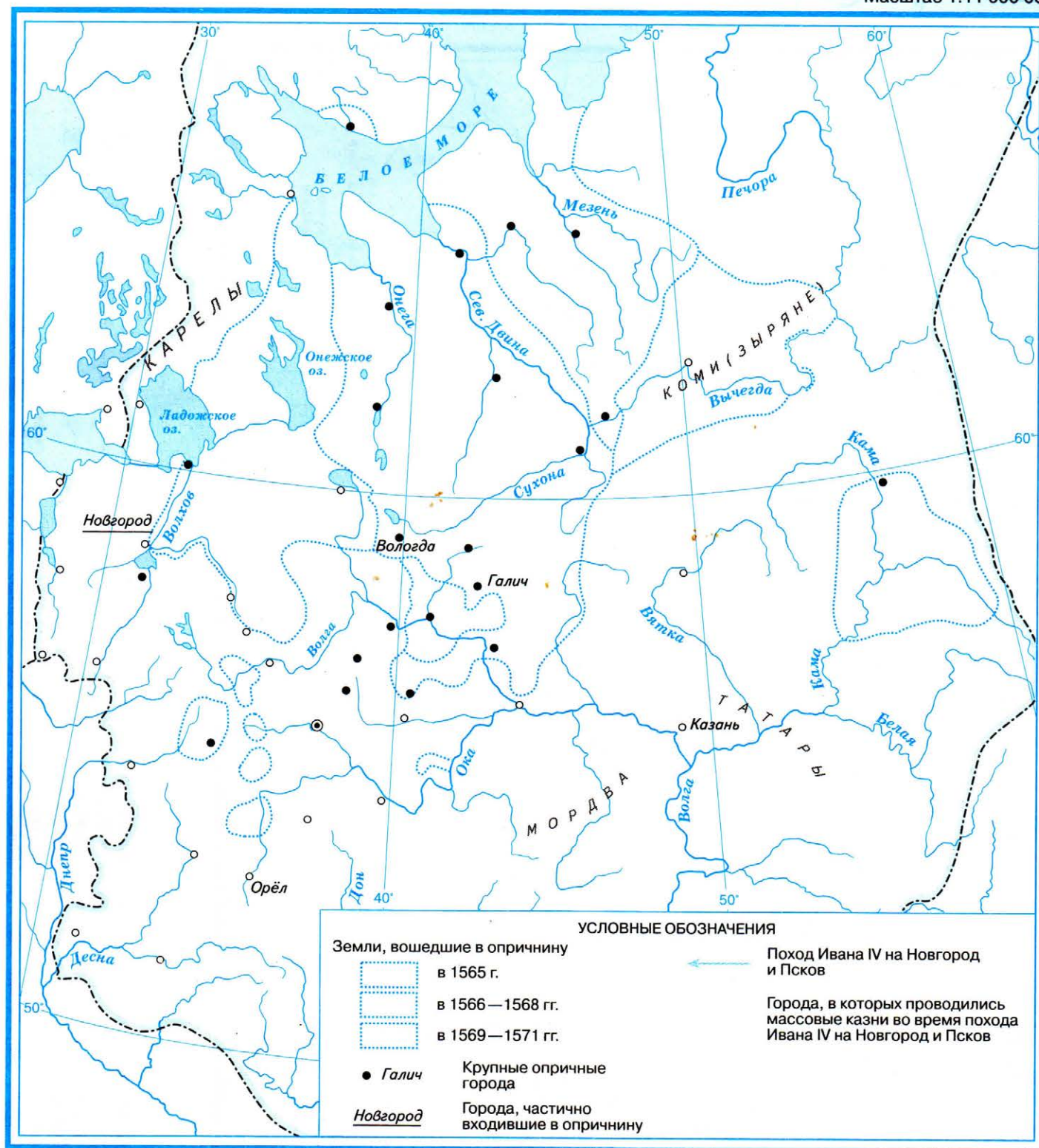
ЛИВОНСКАЯ ВОЙНА

Масштаб 1:4 500 000



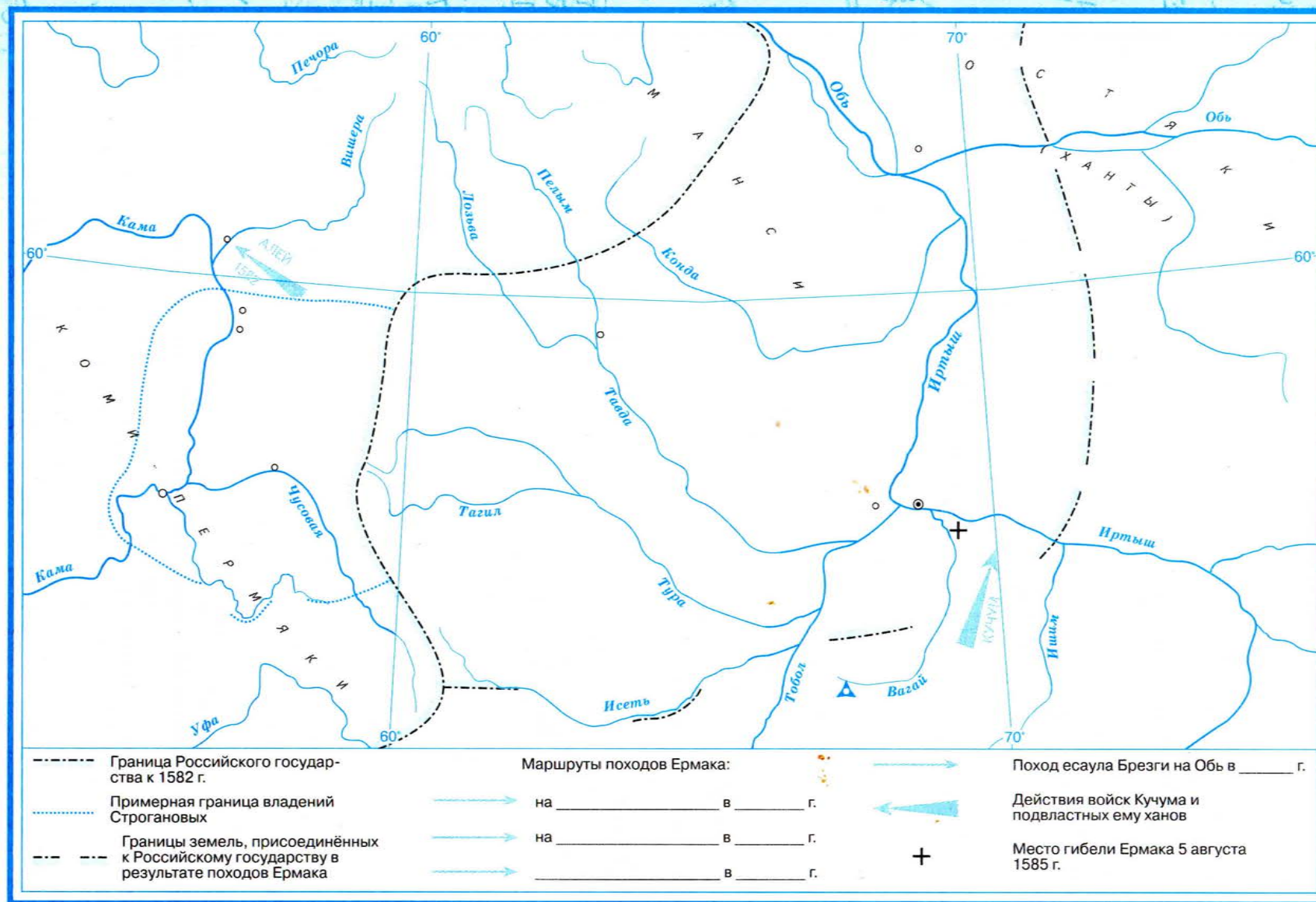
Задания

- Отметьте на карте стрелками разного цвета направления действий воюющих сторон в Ливонской войне: а) в 1558—1561 гг.; б) в 1562—1578 гг.; в) в 1579—1583 гг. (Условные знаки придумайте сами и внесите их в условные обозначения.)
- Изучите материалы учебника о первом этапе Ливонской войны и укажите места и годы основных сражений.
- Отметьте границу земель, занятых русскими войсками к 1577 г.
- Покажите на карте город Псков и укажите годы его героической обороны в ходе Ливонской войны.
- Используя дополнительную информацию, определите, какие территории отошли к Швеции по Плюсскому перемирию и к Речи Посполитой по Ям-Запольскому мирному договору. Отметьте их на карте карандашами разного цвета. Почему Ивану IV не удалось в ходе Ливонской войны повторить успехи своей восточной политики?



Задания

1. Подпишите названия государств и выделите границу Российского государства.
2. По какому принципу царь формировал земли опричнины? Используя эту информацию, определите, какие территории вошли в опричнину в 1565 г., 1566—1568 гг. и 1569—1571 гг. Отметьте их на карте и подпишите названия наиболее крупных опричных городов.
3. Определите, когда и почему Иван IV организовал поход на Новгород и Псков. Как по-вашему, мог ли быть этот поход удачным? Покажите его стрелками на карте. В легенде карты укажите год похода.
4. Придумайте условный знак и обозначьте города в которых проводились массовые казни во время похода Ивана IV на Новгород и Псков.

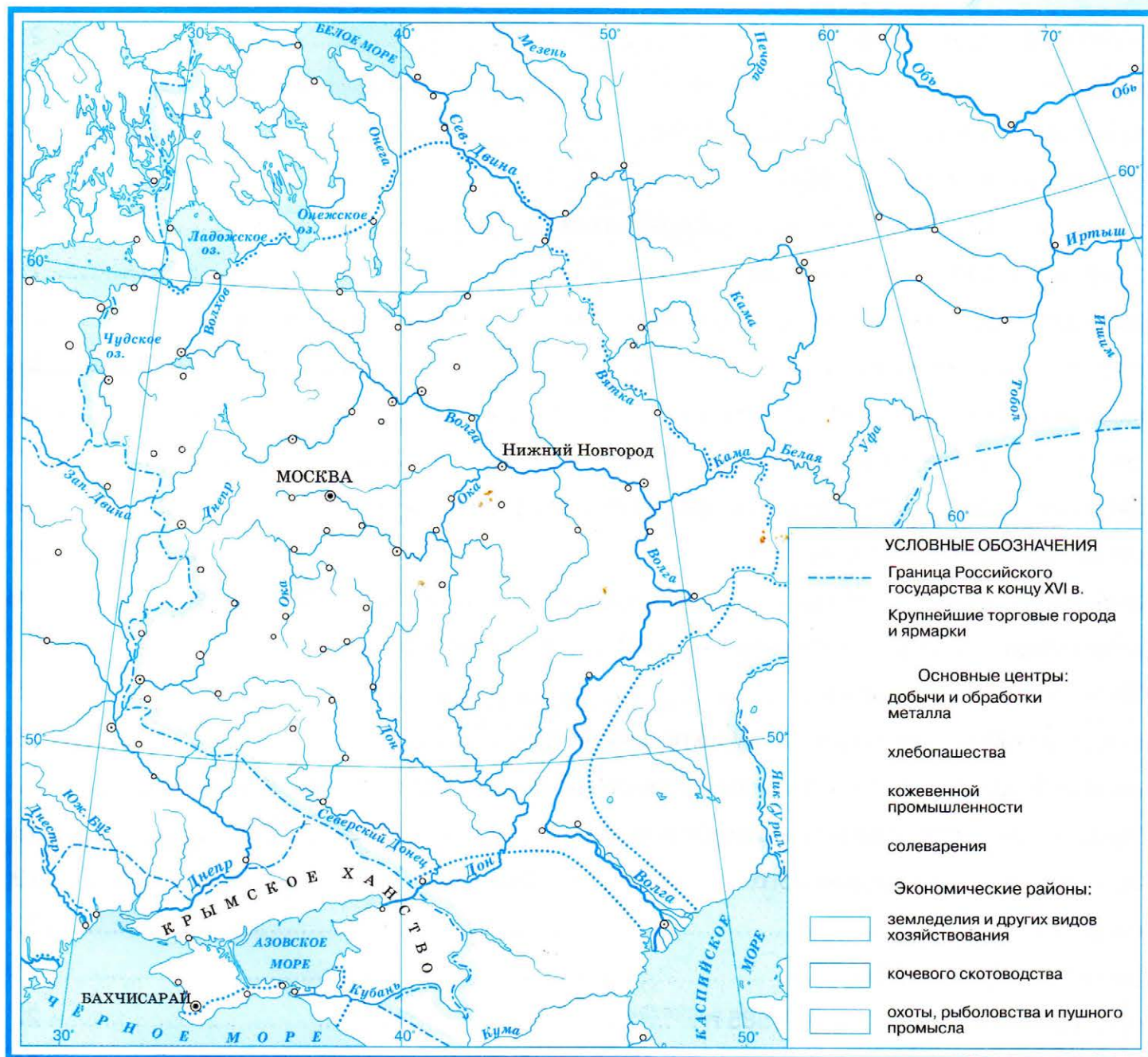


Масштаб 1:5 500 000

ПОХОД ЕРМАКА В СИБИРЬ В 1582—1585 гг.

Задания

1. Подпишите названия государств и выделите границу Российского государства к 1582 г. — началу похода Ермака.
2. Используя дополнительную информацию, изучите маршруты походов Ермака и его сподвижников и покажите стрелками разного цвета маршруты их походов. В легенде карты укажите направление и год похода.
3. Закрасьте стрелки, обозначающие действия войск хана Кучума и подвластных ему ханов.
4. Выделите границу земель, присоединённых к Российскому государству в результате походов Ермака.
5. Опираясь на получившуюся у вас карту, выскажите свою позицию, какая характеристика Ермака наиболее верная: завоеватель или первопроходец?



Задания

1. Подпишите названия государств. Обведите границу Российского государства к концу XVI в.
- МЛ** 2. Придумайте собственный символ и обозначьте им крупнейшие торговые города и ярмарки, подпишите названия наиболее известных. Объясните свой выбор условного обозначения.
3. Отметьте районы с преобладанием земледелия, кочевого скотоводства, охоты и пушного промысла.
- М** 4. Придумайте, и покажите в легенде условные знаки для обозначения мест добычи и обработки металла, хлебопашества, солеварения, кожевенной промышленности. Сравните их с символами, использованными в атласе. Отметьте указанные районы на карте.
- МЛ** 5. Подпишите и подчеркните названия крупнейших торговых городов, морские и речные порты через которые осуществлялись внешнеторговые контакты России с Западной Европой и государствами Востока. Объясните, какое влияние оказали эти контакты на социально-экономическое развитие России.

Содержание

Расселение славян в I—IX вв.	2
Восточные славяне и их соседи. VII—IX вв.	3
Образование Древнерусского государства	4
Походы князя Святослава. 964—972 гг.	5
Походы киевских князей в конце X — первой половине XI вв.	6
Хозяйство и торговля древней руси	7
Раздробленность руси. Русские княжества и земли во второй половине XII в.	8
Новгородская земля в XII—начале XIII в.	9
Владимиро-Суздальское княжество в XII — начале XIII в.	10
Монголо-татарское нашествие на русь. 1223—1242 гг.	11
Походы князя Александра Невского против иноземных завоевателей	12
Невская битва. Ледовое побоище	13
Западная и Южная Русь в составе Великого княжества Литовского в XIII—XV вв.	14
Северо-Восточная Русь. Рост территории Московского княжества в XIV — первой половине XV в.	15
Поход князя Дмитрия к Дону» и «Куликовская битва».	16
Русь в период образования единого Русского государства. Свержение ордынского ига. ...	17
Объединение русских земель в единое русское государство. 1462—1533 гг.	18
Восточная политика Российского государства при Иване IV.	19
Ливонская война	20
Опричнина 1562—1572 гг.	21
Поход Ермака в сибирь 1582—1585 гг.	22
Российское государство в конце XVI в.	23



Учебное издание

ИСТОРИЯ РОССИИ С ДРЕВНЕЙШИХ ВРЕМЕН ДО XVI в.

6 класс

Контурные карты

Контурные карты подготовлены к изданию ООО «Издательство ДИК»

Издание осуществлено при участии ООО «ДРОФА»

Входит в учебно-методический комплекс по истории,
рекомендованный Министерством образования и науки Российской Федерации

Составление заданий В. В. Тороп

Редактор Н. А. Курбский

Картограф А. Н. Шурупов

Компьютерная вёрстка Е. Г. Волкова

Технический редактор В. Ф. Козлова

Корректор И. В. Андрианова



Сертификат соответствия № РОСС RU. АЕ51. Н 16236

6+

Картографическая лицензия № 77-00348Ф от 25.04.13. ООО «Издательство ДИК».

Подписано в печать 27.08.13. Формат 60х90^{1/8}. Бумага офсетная.

Гарнитура «Гарамонд». Печать офсетная. Усл. печ. л. 3,0. Тираж 10 000 экз.

Заказ №43501

ООО «ДРОФА»

127018, Москва, ул. Сущёвский вал, д. 49, стр. 1

ООО «Издательство ДИК»

127018, Москва, ул. Сущёвский вал, д. 49, стр. 2

Тел./факс: (495) 689-47-40

Отпечатано в ОАО «Советская Сибирь»

630048, г. Новосибирск, ул. Немировича-Данченко, 104

ISBN 978-5-358-13717-2 (Дрофа)

ISBN 978-5-8213-0703-3 (ДИК)

© ООО «ДРОФА», 2013

© ООО «Издательство ДИК», 2013

© Картографическая основа. Росреестр, 2013

СЕРИЯ АТЛАСОВ И КОНТУРНЫХ КАРТ ПО ИСТОРИИ РОССИИ

- ИСТОРИЯ РОССИИ С ДРЕВНЕЙШИХ ВРЕМЕН ДО XVI ВЕКА
6 КЛАСС
- ИСТОРИЯ РОССИИ. XVII — XVIII ВЕКА
7 КЛАСС
- ИСТОРИЯ РОССИИ. XIX ВЕК
8 КЛАСС
- ИСТОРИЯ РОССИИ XX — НАЧАЛО XXI ВЕКА
9 КЛАСС
- РОССИЯ И МИР
10 — 11 КЛАССЫ



дрофа

www.drofa.ru

МОСКВА

ISBN 978-5-358-13717-2



9 785358 137172

По вопросам приобретения продукции издательства «Дрофа»
обращаться по адресу: 127018, Москва, Суцёвский вал, д. 49, стр. 1.
Тел.: +7 (495) 795-05-50, 795-05-51, Факс: +7 (495) 795-05-52.
Сайт ООО «ДРОФА»: www.drofa.ru
Электронная почта: sales@drofa.ru
Тел.: 8-800-200-05-50 (звонок по России бесплатный)